



ਉਡਾਣ



ਨੌਵੀਂ ਅਤੇ ਦਸਵੀਂ ਜਮਾਤ ਦੇ ਵਿਦਿਆਰਥੀਆਂ ਲਈ

ਸ਼ੀਟ ਨੰ:1

ਮਿਤੀ 01 -05-2019

ਪ੍ਰਸ਼ਨ 1 :- ਹੇਠ ਲਿਖੇ ਪ੍ਰਸ਼ਨ ਵਿੱਚ ਅੰਕਾਂ ਦੀ ਇੱਕ ਲੜੀ ਦਿੱਤੀ ਗਈ ਹੈ। ਅੰਕਾਂ ਵਿੱਚ ਸੰਬੰਧ ਹੈ। ਇਸ ਸੰਬੰਧ ਨੂੰ ਧਿਆਨ ਵਿੱਚ ਰੱਖ ਕੇ ਲੜੀ ਨੂੰ ਪੂਰਾ ਕਰਨ ਲਈ ਸਹੀ ਉੱਤਰ ਦੀ ਚੋਣ ਕਰੋ:

45, 54, 47,.....49, 56, 51

(1) 48 (2) 52 (3) 55 (4) 62

ਪ੍ਰਸ਼ਨ 2 :- ਪੰਜਾਬ ਯੂਨੀਵਰਸਿਟੀ ਕਿੱਥੇ ਸਥਿਤ ਹੈ?

(1) ਲੁਧਿਆਣਾ (2) ਪਟਿਆਲਾ (3) ਚੰਡੀਗੜ੍ਹ (4) ਬਠਿੰਡਾ

ਪ੍ਰਸ਼ਨ 3 :- ਸ਼ਾਮ ਦੇ 4 ਤੇ 5 ਵਜੇ ਦੌਰਾਨ ਘੰਟੇ ਦੀਆਂ ਦੋਨੋਂ ਸੂਈਆਂ ਇੱਕ ਦੂਜੇ ਦੇ ਉਪਰ ਕਿਸ ਸਮੇਂ ਹੋਣਗੀਆਂ?

(1) $4:21\frac{7}{11}$ P.M (2) $4:21\frac{8}{11}$ P.M (3) $4:21\frac{9}{11}$ P.M (4) $4:21\frac{10}{11}$ P.M

ਪ੍ਰਸ਼ਨ 4 :- When a burning splinter is brought near the gas jar containing hydrogen gas, a popping sound is observed. It is due to:

(1) exothermic reaction (2) endothermic reaction
(3) exothermic & endothermic (4) None of these

ਪ੍ਰਸ਼ਨ 5 :- 'A' ਨੂੰ ਇੱਕ ਕੰਮ ਪੂਰਾ ਕਰਨ ਲਈ 'B' ਤੋਂ 6 ਦਿਨ ਦਾ ਘੱਟ ਸਮਾਂ ਲੱਗਦਾ ਹੈ। ਜੇਕਰ A ਅਤੇ B ਮਿਲ ਕੇ ਇਸ ਕੰਮ ਨੂੰ 4 ਦਿਨ ਵਿੱਚ ਪੂਰਾ ਕਰ ਲੈਂਦੇ ਹਨ ਤਾਂ ਪਤਾ ਕਰੋ ਕਿ B ਇਕੱਲਾ ਇਸ ਕੰਮ ਨੂੰ ਕਿੰਨੇ ਦਿਨਾਂ ਵਿੱਚ ਪੂਰਾ ਕਰੇਗਾ।

(1) 2 ਦਿਨ (2) 12 ਦਿਨ (3) 6 ਦਿਨ (4) 10 ਦਿਨ

ਨੋਟ: ਉੱਤਰ ਅਗਲੇ ਦਿਨ ਦੀ ਸ਼ੀਟ ਵਿੱਚ ਭੇਜੇ ਜਾਣਗੇ, ਤਦ ਤੱਕ ਦਿਮਾਗੀ ਕਸਰਤ ਕਰੋ!

“ਜ਼ਿੰਦਗੀ ਵਿੱਚ ਹਰ ਰੋਜ਼ ਕੁੱਝ ਨਵਾਂ ਸਿੱਖਣ ਦੀ ਕੋਸ਼ਿਸ਼ ਕਰਨੀ ਚਾਹੀਦੀ ਹੈ”।



ਉਡਾਣ



ਨੌਵੀਂ ਤੋਂ ਦਸਵੀਂ ਜਮਾਤ ਦੇ ਵਿਦਿਆਰਥੀਆਂ ਲਈ

ਸ਼ੀਟ ਨੰ :02

ਮਿਤੀ 02 -05-2019

ਪ੍ਰਸ਼ਨ 06:- ਨਿਮਨ ਲਿਖਤ ਕਥਨ ਸਹੀ ਹੈ ਜਾਂ ਗਲਤ ?

✓5 ਇੱਕ ਪਰਿਮੇਯ ਸੰਖਿਆ ਹੈ ।

ਪ੍ਰਸ਼ਨ 07:- ਸ਼ੁੱਧ ਸੋਨੇ ਨੂੰ _____ ਕਿਹਾ ਜਾਂਦਾ ਹੈ।

(1) 2 ਕੈਰਟ ਸੋਨਾ (2) 24 ਕੈਰਟ ਸੋਨਾ (3) 5 ਕੈਰਟ ਸੋਨਾ (4) 10 ਕੈਰਟ ਸੋਨਾ

ਪ੍ਰਸ਼ਨ08:- 'ਅਨੰਦ ਭਇਆ ਮੇਰੀ ਮਾਏ' ਸ਼ਬਦ ਕਿਸ ਗੁਰੂ ਦੀ ਰਚਨਾ ਹੈ?

(1) ਗੁਰੂ ਨਾਨਕ ਦੇਵ ਜੀ (2) ਗੁਰੂ ਗੋਬਿੰਦ ਸਿੰਘ ਜੀ

(3) ਗੁਰੂ ਅਮਰਦਾਸ ਜੀ (4) ਗੁਰੂ ਅੰਗਦ ਦੇਵ ਜੀ

ਪ੍ਰਸ਼ਨ09:- ਹੇਠ ਲਿਖੇ ਪ੍ਰਸ਼ਨ ਵਿੱਚ ਅੰਕਾਂ ਦੀ ਇੱਕ ਲੜੀ ਦਿੱਤੀ ਗਈ ਹੈ। ਅੰਕਾਂ ਵਿਚਲੇ ਸੰਬੰਧ ਨੂੰ ਧਿਆਨ ਵਿੱਚ ਰੱਖ ਕੇ ਲੜੀ ਨੂੰ ਪੂਰਾ ਕਰਨ ਲਈ ਸਹੀ ਉੱਤਰ ਦੀ ਚੋਣ ਕਰੋ:

3, 6, 15, 48, ?

(1) 192 (2) 193 (3) 194 (4) 195

ਪ੍ਰਸ਼ਨ10:- ਅੰਗਰੇਜ਼ੀ ਅੱਖਰਾਂ ਦੀ ਲੜੀ ਨੂੰ ਪੂਰਾ ਕਰਨ ਲਈ ਸਹੀ ਵਿਕਲਪ ਚੁਣੋ :

B,E,D,F, _____,H,J, _____,L

(1) M,I (2) I,M (3) I,N (4) J,M

ਨੋਟ: ਉੱਤਰ ਅਗਲੇ ਦਿਨ ਦੀ ਸ਼ੀਟ ਵਿੱਚ ਭੇਜੇ ਜਾਣਗੇ, ਤਦ ਤੱਕ ਦਿਮਾਗੀ ਕਸਰਤ ਕਰੋ!

Answers of Sheet No.01

Ans 1. 55

Ans 2. ਚੰਡੀਗੜ੍ਹ

Ans 3. $4:21\frac{9}{11}$ P.M

Ans 4. exothermic reaction

Ans 5. 12 ਦਿਨ

“ਜ਼ਿੰਦਗੀ ਵਿੱਚ ਹਰ ਰੋਜ਼ ਕੁੱਝ ਨਵਾਂ ਸਿੱਖਣ ਦੀ ਕੋਸ਼ਿਸ਼ ਕਰਨੀ ਚਾਹੀਦੀ ਹੈ”।



ਉਡਾਣ



ਨੌਵੀਂ ਤੋਂ ਦਸਵੀਂ ਜਮਾਤ ਦੇ ਵਿਦਿਆਰਥੀਆਂ ਲਈ

ਸ਼ੀਟ ਨੰ :03

ਮਿਤੀ 03 -05-2019

ਪ੍ਰਸ਼ਨ 11:- ਕਿਹੜੀ ਸੰਖਿਆ, ਪੂਰਨ ਸੰਖਿਆ ਨਹੀਂ ਹੁੰਦੀ ?

- (1) ਪ੍ਰਾਕ੍ਰਿਤਕ ਸੰਖਿਆ (2) ਸੰਪੂਰਨ ਸੰਖਿਆ
(3) ਪਰਿਮੇਯ ਸੰਖਿਆ (4) ਵਾਸਤਵਿਕ ਸੰਖਿਆ

ਪ੍ਰਸ਼ਨ 12:- ਭਾਰਤ ਇੰਗਲੈਂਡ ਤੋਂ ਕਿੰਨੇ ਗੁਣਾ ਵੱਡਾ ਹੈ?

- (1) 6 ਗੁਣਾ (2) 8 ਗੁਣਾ (3) 12 ਗੁਣਾ (4) 14 ਗੁਣਾ

ਪ੍ਰਸ਼ਨ 13 :- ਧਰਤੀ ਦੀ ਪੇਪੜੀ ਵਿੱਚ ਕਿਹੜੀ ਧਾਤ ਜ਼ਿਆਦਾ ਮਾਤਰਾ ਵਿੱਚ ਮੌਜੂਦ ਹੈ ?

- (1) ਪਾਣੀ (2) ਕੋਲਾ (3) ਐਲੂਮੀਨੀਅਮ (4) ਸੋਨਾ

ਪ੍ਰਸ਼ਨ 14 :- ਨਿਮਨਲਿਖਤ ਕਥਨ ਸਹੀ ਹੈ ਜਾਂ ਗਲਤ ?

'HTML' ਦਾ ਪੂਰਾ ਨਾਮ ਹਾਈਪਰ ਟੈਕਸਟ ਮਾਰਕਅੱਪ ਲੈਂਗੁਏਜ ਹੈ।

ਪ੍ਰਸ਼ਨ 15 :- 'ਸ੍ਰੀ ਗੁਰੂ ਗ੍ਰੰਥ ਸਾਹਿਬ ਜੀ' ਵਿੱਚ ਦਰਜ ਬਾਣੀ ਵਿੱਚ ਕੁਲ ਕਿੰਨੇ ਰਾਗਾਂ ਦਾ ਪ੍ਰਯੋਗ ਹੋਇਆ ਹੈ?

ਨੋਟ: ਉੱਤਰ ਅਗਲੇ ਦਿਨ ਦੀ ਸ਼ੀਟ ਵਿੱਚ ਭੇਜੇ ਜਾਣਗੇ, ਤਦ ਤੱਕ ਦਿਮਾਗੀ ਕਸਰਤ ਕਰੋ!

Answers of Sheet No.02

Ans 6. ਗਲਤ

Ans 7. 24 ਕੋਰਟ ਸੋਨਾ

Ans 8. ਗੁਰੂ ਅਮਰਦਾਸ ਜੀ

Ans 9. 195

Ans 10. I,M

“ਜ਼ਿੰਦਗੀ ਵਿੱਚ ਹਰ ਰੋਜ਼ ਕੁੱਝ ਨਵਾਂ ਸਿੱਖਣ ਦੀ ਕੋਸ਼ਿਸ਼ ਕਰਨੀ ਚਾਹੀਦੀ ਹੈ”।



ਉਡਾਣ



ਨੌਵੀਂ ਤੋਂ ਦਸਵੀਂ ਜਮਾਤ ਦੇ ਵਿਦਿਆਰਥੀਆਂ ਲਈ

ਸ਼ੀਟ ਨੰ :04

ਮਿਤੀ 04 -05-2019

ਪ੍ਰਸ਼ਨ16. 'ਬਾਰਾਂਮਾਹ ਤੁਖਾਰੀ' ਕਿਸ ਗੁਰੂ ਸਾਹਿਬ ਦੀ ਰਚਨਾ ਹੈ?

1. ਗੁਰੂ ਅਰਜਨ ਦੇਵ ਜੀ
2. ਗੁਰੂ ਨਾਨਕ ਦੇਵ ਜੀ
3. ਗੁਰੂ ਗੋਬਿੰਦ ਸਿੰਘ ਜੀ
4. ਗੁਰੂ ਅੰਗਦ ਦੇਵ ਜੀ

ਪ੍ਰਸ਼ਨ17. ਹੇਠ ਲਿਖੇ ਪ੍ਰਸ਼ਨ ਵਿੱਚ ਅੰਕਾਂ ਦੀ ਇੱਕ ਲੜੀ ਦਿੱਤੀ ਗਈ ਹੈ। ਅੰਕਾਂ ਵਿਚਲੇ ਸੰਬੰਧ ਨੂੰ ਧਿਆਨ ਵਿੱਚ ਰੱਖ ਕੇ ਲੜੀ ਨੂੰ ਪੂਰਾ ਕਰਨ ਲਈ ਸਹੀ ਉੱਤਰ ਦੀ ਚੋਣ ਕਰੋ:

480,96-----8,4

1. 24
2. 88
3. 64
4. 30

ਪ੍ਰਸ਼ਨ18. ਪੰਜਾਬ ਰਾਜ ਦੇ ਰਾਜਪਾਲ ਕੌਣ ਹਨ?

ਪ੍ਰਸ਼ਨ19. Choose the correct option.

He had -----the money.(stole/stolen)

ਪ੍ਰਸ਼ਨ20. ਰਸਾਇਣਿਕ ਪ੍ਰਤੀਕਿਰਿਆ ਵਿੱਚ ਜਦੋਂ ਨਵਾਂ ਪਦਾਰਥ ਬਣਦਾ ਹੈ ਤਾਂ ਉਸ ਪਰਿਵਰਤਨ ਨੂੰ ਕੀ ਕਹਿੰਦੇ ਹਨ?

1. ਭੌਤਿਕ ਪਰਿਵਰਤਨ
2. ਰਸਾਇਣਿਕ ਪਰਿਵਰਤਨ
3. ਕੋਈ ਪਰਿਵਰਤਨ ਨਹੀਂ
4. ਲਘੂਕਰਨ

ਨੋਟ: ਉੱਤਰ ਅਗਲੇ ਦਿਨ ਦੀ ਸ਼ੀਟ ਵਿੱਚ ਭੇਜੇ ਜਾਣਗੇ, ਤਦ ਤੱਕ ਦਿਮਾਗੀ ਕਸਰਤ ਕਰੋ!

Answers of Sheet No.03

Ans 11. ਪ੍ਰਾਕ੍ਰਿਤਕ ਸੰਖਿਆ

Ans 12. 12 ਗੁਣਾਂ

Ans 13. ਐਲੂਮੀਨੀਅਮ

Ans 14. ਸਹੀ

Ans 15. 31 ਰਾਗ

“ਜ਼ਿੰਦਗੀ ਵਿੱਚ ਹਰ ਰੋਜ਼ ਕੁੱਝ ਨਵਾਂ ਸਿੱਖਣ ਦੀ ਕੋਸ਼ਿਸ਼ ਕਰਨੀ ਚਾਹੀਦੀ ਹੈ”।



ਉਡਾਣ



ਨੌਵੀਂ ਤੋਂ ਦਸਵੀਂ ਜਮਾਤ ਦੇ ਵਿਦਿਆਰਥੀਆਂ ਲਈ

ਸ਼ੀਟ ਨੰ :05

ਮਿਤੀ 06 -05-2019

ਪ੍ਰਸ਼ਨ 21. ਗੋਆ ਦੇ ਮੌਜੂਦਾ ਮੁੱਖ ਮੰਤਰੀ ਦਾ ਨਾਮ ਦੱਸੋ।

ਪ੍ਰਸ਼ਨ 22. 'ਵਿਸ਼ਵ ਅਥਲੈਟਿਕਸ ਦਿਵਸ' ਕਦੋਂ ਮਨਾਇਆ ਜਾਂਦਾ ਹੈ?

ਪ੍ਰਸ਼ਨ 23. 17ਵੀਂ ਲੋਕ ਸਭਾ ਚੋਣਾਂ ਪੂਰੇ ਭਾਰਤ ਵਿੱਚ ਕਿੰਨੇ ਪੜਾਵਾਂ ਵਿੱਚ ਪੂਰੀਆਂ ਹੋਣਗੀਆਂ?

(1) 3 (2) 4 (3) 6 (4) 7

ਪ੍ਰਸ਼ਨ 24. Find odd one out .

1. Coal 2. Petroleum 3. Natural Gas 4. Bio-Gas

ਪ੍ਰਸ਼ਨ 25. ਸ੍ਰੀ ਗੁਰੂ ਨਾਨਕ ਦੇਵ ਜੀ ਦਾ ਵਿਆਹ ਕਿੱਥੇ ਹੋਇਆ?

1. ਪਠਾਨਕੋਟ 2. ਬਟਾਲਾ 3. ਅੰਮ੍ਰਿਤਸਰ 4. ਫਰੀਦਕੋਟ

ਨੋਟ: ਉੱਤਰ ਅਗਲੇ ਦਿਨ ਦੀ ਸ਼ੀਟ ਵਿੱਚ ਭੇਜੇ ਜਾਣਗੇ, ਤਦ ਤੱਕ ਦਿਮਾਗੀ ਕਸਰਤ ਕਰੋ!

Answers of Sheet No.04

Ans 16. ਗੁਰੂ ਨਾਨਕ ਦੇਵ ਜੀ

Ans 17. 24

Ans 18. ਵੀ.ਪੀ. ਸਿੰਘ ਬਦਨੌਰ

Ans 19. stolen

Ans 20. ਰਸਾਇਣਿਕ ਪਰਿਵਰਤਨ

“ਜ਼ਿੰਦਗੀ ਵਿੱਚ ਹਰ ਰੋਜ਼ ਕੁੱਝ ਨਵਾਂ ਸਿੱਖਣ ਦੀ ਕੋਸ਼ਿਸ਼ ਕਰਨੀ ਚਾਹੀਦੀ ਹੈ”।



ਉਡਾਣ

ਨੌਵੀਂ ਤੋਂ ਦਸਵੀਂ ਜਮਾਤ ਦੇ ਵਿਦਿਆਰਥੀਆਂ ਲਈ

ਸ਼ੀਟ ਨੰ :06

ਮਿਤੀ 07 - 05 - 2019

ਪ੍ਰਸ਼ਨ 26:- ਖਾਣਾ ਬਣਾਉਂਦੇ ਸਮੇਂ ਜੇਕਰ ਬਰਤਨ ਬਾਹਰੋਂ ਕਾਲਾ ਹੋ ਜਾਂਦਾ ਹੈ, ਇਸ ਤੋਂ ਕੀ ਭਾਵ ਹੈ?

- (1) ਭੋਜਨ ਪੂਰੀ ਤਰ੍ਹਾਂ ਨਾਲ ਨਹੀਂ ਪੱਕਿਆ।
- (2) ਬਾਲਣ ਗਿੱਲਾ ਹੈ।
- (3) ਬਾਲਣ ਪੂਰੀ ਤਰ੍ਹਾਂ ਨਾਲ ਜਲ ਰਿਹਾ ਹੈ।
- (4) ਬਾਲਣ ਪੂਰੀ ਤਰ੍ਹਾਂ ਨਾਲ ਨਹੀਂ ਜਲ ਰਿਹਾ

ਪ੍ਰਸ਼ਨ 27:- A,B ਤੋਂ 40 ਮੀਟਰ ਦੱਖਣ -ਪੱਛਮ ਵੱਲ ਹੈ, ਅਤੇ C,B ਤੋਂ 40 ਮੀਟਰ ਦੱਖਣ-ਪੂਰਬ ਵੱਲ ਹੈ, ਫਿਰ C,A ਤੋਂ ਕਿਸ ਦਿਸ਼ਾ ਵੱਲ ਹੈ?

- (1) ਪੂਰਬ
- (2) ਪੱਛਮ
- (3) ਉੱਤਰ-ਪੂਰਬ
- (4) ਦੱਖਣ

ਪ੍ਰਸ਼ਨ 28:- 'ਰਾਮ ਲਾਲ ਜਮਾਤ ਵਿੱਚੋਂ ਨਿਕਲ ਆਇਆ' ਵਾਕ ਵਿੱਚ ਹੇਠ ਲਿਖੀ ਸ਼ਬਦਾਂ ਵਿੱਚ ਕਿਹੜਾ ਕਾਰਕ ਹੈ?

- (1) ਸੰਪ੍ਰਦਾਨ
- (2) ਕਰਮ
- (3) ਅਧਿਕਰਨ
- (4) ਅਪਾਦਾਨ

ਪ੍ਰਸ਼ਨ 29:- ਨਿਮਨਲਿਖਤ ਕਥਨ ਸਹੀ ਹੈ ਜਾਂ ਗਲਤ ?

ਜਲਿਆਂਵਾਲਾ ਬਾਗ ਦੇ ਖੂਨੀ ਸਾਕੇ ਦੀ ਜਾਂਚ ਲਈ 'ਹੰਟਰ ਆਯੋਗ' ਦਾ ਗਠਨ ਕੀਤਾ ਗਿਆ ਸੀ।

ਪ੍ਰਸ਼ਨ 30:- We should obey our parents.(Change into Interrogative Sentence)

ਨੋਟ: ਉੱਤਰ ਅਗਲੇ ਦਿਨ ਦੀ ਸ਼ੀਟ ਵਿੱਚ ਭੇਜੇ ਜਾਣਗੇ, ਤਦ ਤੱਕ ਦਿਮਾਗੀ ਕਸਰਤ ਕਰੋ!

Answers of Sheet No.05

Ans21. ਪ੍ਰਮੋਦ ਸਾਵੰਤ

Ans 22. 7 ਮਈ

Ans 23. 7

Ans 24. Bio-Gas

Ans 25. ਬਟਾਲਾ

“ਜ਼ਿੰਦਗੀ ਵਿੱਚ ਹਰ ਰੋਜ਼ ਕੁੱਝ ਨਵਾਂ ਸਿੱਖਣ ਦੀ ਕੋਸ਼ਿਸ਼ ਕਰਨੀ ਚਾਹੀਦੀ ਹੈ”।



ਉਡਾਣ



ਨੌਵੀਂ ਤੋਂ ਦਸਵੀਂ ਜਮਾਤ ਦੇ ਵਿਦਿਆਰਥੀਆਂ ਲਈ

ਸ਼ੀਟ ਨੰ :07

ਮਿਤੀ 08 - 05- 2019

ਪ੍ਰਸ਼ਨ 31 :- Find the odd one out.

- (1) ਕਣਕ (2) ਜੌਂ (3) ਚਾਵਲ (4) ਸਰੋਂ

ਪ੍ਰਸ਼ਨ 32 : ਹੇਠ ਲਿਖਿਆਂ ਵਿੱਚੋਂ ਕਿਸ ਸਦੀ ਵਿੱਚ ਫਰਵਰੀ ਦੇ 29 ਦਿਨ ਹੋਣਗੇ ?

- (1) 2200 (2) 2300 (3) 2400 (4) 2500

ਪ੍ਰਸ਼ਨ 33:- 'ਸ਼ਰਨਜੀਤ ਨੇ ਮਧਾਣੀ ਨਾਲ ਦੁੱਧ ਰਿੜਕਿਆ' ਵਾਕ ਵਿੱਚ ਹੇਠ ਲਿਖੀਆਂ ਸ਼ਬਦਾਂ ਵਿੱਚ ਕਿਹੜਾ ਕਾਰਕ ਹੈ?

- (1) ਸੰਬੰਧ (2) ਕਰਨ (3) ਅਧਿਕਰਨ (4) ਅਪਾਦਾਨ

ਪ੍ਰਸ਼ਨ :34 ਉਹ ਕਿਹੜਾ ਸਾਇੰਸ ਅਧਿਆਪਕ ਹੈ, ਜਿਸਨੇ 'ਗਲੋਬਲ ਟੀਚਰ ਅਵਾਰਡ-2019' ਜਿੱਤਿਆ ?

- (1) Peter Tabichi (Kenya) (2) Swaroop Rawal (India)
(3) Daisy Mertens (Netherlands) (4) Arti Qanungo (India)

ਪ੍ਰਸ਼ਨ 35 :- He plays hockey. (Change into Negative Sentence)

ਨੋਟ: ਉੱਤਰ ਅਗਲੇ ਦਿਨ ਦੀ ਸ਼ੀਟ ਵਿੱਚ ਭੇਜੇ ਜਾਣਗੇ, ਤਦ ਤੱਕ ਦਿਮਾਗੀ ਕਸਰਤ ਕਰੋ!

Answers of Sheet No.06

Ans 26 ਬਾਲਣ ਪੂਰੀ ਤਰ੍ਹਾਂ ਨਾਲ ਨਹੀਂ ਜਲ ਰਿਹਾ

Ans 27. ਪੂਰਬ

Ans 28. ਅਪਾਦਾਨ

Ans 29. ਸਹੀ

Ans 30. Should we obey our parents. ?

“ਜ਼ਿੰਦਗੀ ਵਿੱਚ ਹਰ ਰੋਜ਼ ਕੁੱਝ ਨਵਾਂ ਸਿੱਖਣ ਦੀ ਕੋਸ਼ਿਸ਼ ਕਰਨੀ ਚਾਹੀਦੀ ਹੈ”।



ਉਡਾਣ



ਨੌਵੀਂ ਤੋਂ ਦਸਵੀਂ ਜਮਾਤ ਦੇ ਵਿਦਿਆਰਥੀਆਂ ਲਈ

ਸ਼ੀਟ ਨੰ :08

ਮਿਤੀ 09-05-2019

ਪ੍ਰਸ਼ਨ36:- ਕਿਸ ਕਿਸਮ ਦੀ ਮਿੱਟੀ ਨੂੰ 'ਰੇਗੁਰ ਮਿੱਟੀ (Regur Soil) ਵੀ ਕਿਹਾ ਜਾਂਦਾ ਹੈ ?

- (ੳ) ਕਾਲੀ ਮਿੱਟੀ (ਅ) ਲਾਲ ਮਿੱਟੀ
(ੲ) ਰੇਤਲੀ ਮਿੱਟੀ (ਸ) ਪੀਲੀ ਮਿੱਟੀ

ਪ੍ਰਸ਼ਨ37:- 5 ਨਵੰਬਰ 1999 ਨੂੰ ਕੀ ਦਿਨ ਸੀ ? ਪਤਾ ਕਰੋ।

- (ੳ) ਸੋਮਵਾਰ (ਅ) ਬੁੱਧਵਾਰ (ੲ) ਸ਼ੁੱਕਰਵਾਰ (ਸ) ਵੀਰਵਾਰ

ਪ੍ਰਸ਼ਨ38:- ਕਿਹੜੀ ਉਪਬੋਲੀ ਗੁਰਦਾਸਪੁਰ ਤੇ ਅੰਮ੍ਰਿਤਸਰ ਵਿੱਚ ਬੋਲੀ ਜਾਂਦੀ ਹੈ?

- (ੳ) ਦੁਆਬੀ (ਅ) ਮਾਝੀ (ੲ) ਮਲਵਈ (ਸ) ਪੁਆਧੀ

ਪ੍ਰਸ਼ਨ39:- When was Swami Vivekananda born?

- (ੳ) January 12,1860 (ਅ) January 12,1861
(ੲ) January12,1862 (ਸ) January 12,1863

ਪ੍ਰਸ਼ਨ40:- Let her go. (Change into Negative Sentence)

ਨੋਟ: ਉੱਤਰ ਅਗਲੇ ਦਿਨ ਦੀ ਸ਼ੀਟ ਵਿੱਚ ਭੇਜੇ ਜਾਣਗੇ, ਤਦ ਤੱਕ ਦਿਮਾਗੀ ਕਸਰਤ ਕਰੋ!

Answers of Sheet No.07

Ans 31. ਚਾਵਲ

Ans 32. 2400

Ans 33. ਕਰਨ

Ans 34. Peter Tabichi (Kenya)

Ans 35. He does not play hockey.

“ਜ਼ਿੰਦਗੀ ਵਿੱਚ ਹਰ ਰੋਜ਼ ਕੁੱਝ ਨਵਾਂ ਸਿੱਖਣ ਦੀ ਕੋਸ਼ਿਸ਼ ਕਰਨੀ ਚਾਹੀਦੀ ਹੈ।”



ਉਡਾਣ



ਨੌਵੀਂ ਤੋਂ ਦਸਵੀਂ ਜਮਾਤ ਦੇ ਵਿਦਿਆਰਥੀਆਂ ਲਈ

ਸ਼ੀਟ ਨੰ : 09

ਮਿਤੀ 10-05-2019

ਪ੍ਰਸ਼ਨ41:- ਸ੍ਰੀ ਹਰਿਮੰਦਰ ਸਾਹਿਬ ਦੀ ਸਥਾਪਨਾ ਹੋਣ ਤੋਂ ਬਾਅਦ ਸਭ ਤੋਂ ਪਹਿਲੇ ਗ੍ਰੰਥੀ ਕੌਣ ਸਨ ?

- (ੳ) ਭਾਈ ਦਯਾ ਸਿੰਘ ਜੀ (ਅ) ਬਾਬਾ ਬੁੱਢਾ ਜੀ
(ੲ) ਭਾਈ ਮਨੀ ਸਿੰਘ ਜੀ (ਸ) ਭਾਈ ਗੁਰਦਾਸ ਜੀ

ਪ੍ਰਸ਼ਨ42:- ਭਾਰਤ ਵਿੱਚ ਤਿੰਨੋਂ ਸੈਨਾਵਾਂ ਦਾ ਸੁਪਰੀਮ ਕਮਾਂਡਰ _____ ਹੁੰਦਾ ਹੈ।

- (ੳ) ਪ੍ਰਧਾਨ ਮੰਤਰੀ (ਅ) ਰੱਖਿਆ ਮੰਤਰੀ
(ੲ) ਰਾਸ਼ਟਰਪਤੀ (ਸ) ਸੈਨਾ ਪ੍ਰਮੁਖ

ਪ੍ਰਸ਼ਨ 43:- ਧਰਤੀ ਦੇ ਸਭ ਤੋਂ ਨੇੜਲਾ ਤਾਰਾ ਕਿਹੜਾ ਹੈ?

- (ੳ) ਸਪਤ ਰਿਸ਼ੀ (ਅ) ਸੂਰਜ (ੲ) ਧਰੁਵ ਤਾਰਾ (ਸ) ਸ਼ੁੱਕਰ ਤਾਰਾ

ਪ੍ਰਸ਼ਨ44:- ਸੰਗੀਤਾ ਨੂੰ ਲੱਭੂ ਚੰਗੇ ਲਗਦੇ ਹਨ - ਵਾਕ ਵਿੱਚ ਹੇਠ ਲਿਖੀ ਸ਼ਬਦਾਂ ਵਿੱਚ ਕਿਹੜਾ ਕਾਰਕ ਹੈ?

- (1) ਸੰਪਰਦਾਨ (2) ਅਪਾਦਾਨ (3) ਕਰਤਾ (4) ਕਰਮ

ਪ੍ਰਸ਼ਨ45:- Change the following Exclamatory sentence into Assertive sentence:

How cold it is today!

ਨੋਟ: ਉੱਤਰ ਅਗਲੇ ਦਿਨ ਦੀ ਸ਼ੀਟ ਵਿੱਚ ਭੇਜੇ ਜਾਣਗੇ, ਤਦ ਤੱਕ ਦਿਮਾਗੀ ਕਸਰਤ ਕਰੋ!

Answers of Sheet No.08

- Ans 36. ਕਾਲੀ ਮਿੱਟੀ
Ans 37. ਸ਼ੁੱਕਰਵਾਰ
Ans 38. ਮਾਝੀ
Ans 39. January 12,1863
Ans 40. Do not let her go.

“ਜ਼ਿੰਦਗੀ ਵਿੱਚ ਹਰ ਰੋਜ਼ ਕੁੱਝ ਨਵਾਂ ਸਿੱਖਣ ਦੀ ਕੋਸ਼ਿਸ਼ ਕਰਨੀ ਚਾਹੀਦੀ ਹੈ”।



ਉਡਾਣ



ਨੌਵੀਂ ਤੋਂ ਦਸਵੀਂ ਜਮਾਤ ਦੇ ਵਿਦਿਆਰਥੀਆਂ ਲਈ

ਸ਼ੀਟ ਨੰ :10

ਮਿਤੀ 13-05-2019

ਪ੍ਰਸ਼ਨ 46 : ਆਸ਼ਾ ਉੱਤਰ ਦਿਸ਼ਾ ਵੱਲ ਜਾ ਰਹੀ ਹੈ। ਉਹ ਸੱਜੇ ਪਾਸੇ ਮੁੜ ਗਈ। ਉਹ ਕੁਝ ਦੂਰੀ ਤੈਅ ਕਰਦੀ ਹੈ ਤੇ ਫਿਰ ਸੱਜੇ ਪਾਸੇ ਮੁੜਦੀ ਹੈ, ਕੁਝ ਦੂਰੀ ਹੋਰ ਤੈਅ ਕਰਨ ਤੋਂ ਬਾਅਦ ਉਹ ਖੱਬੇ ਪਾਸੇ ਮੁੜ ਜਾਂਦੀ ਹੈ। ਫਿਰ ਉਹ ਸਿੱਧਾ ਚਲਦੀ ਹੈ ਤੇ ਫਿਰ ਖੱਬੇ ਪਾਸੇ ਮੁੜ ਜਾਂਦੀ ਹੈ। ਆਸ਼ਾ ਹੁਣ ਕਿਸ ਦਿਸ਼ਾ ਵਿੱਚ ਜਾ ਰਹੀ ਹੈ?

(ੳ) ਉੱਤਰ (ਅ) ਦੱਖਣ-ਪੱਛਮ (ੲ) ਦੱਖਣ (ਸ) ਪੱਛਮ

ਪ੍ਰਸ਼ਨ 47: ਰਾਸ਼ਟਰੀ ਤਕਨੀਕੀ ਦਿਵਸ ਕਦੋਂ ਮਨਾਇਆ ਜਾਂਦਾ ਹੈ?

ਪ੍ਰਸ਼ਨ 48:-Columbus has discovered America. (Correct the sentence)

ਪ੍ਰਸ਼ਨ 49:-ਉਹ ਲਿਪੀ ਚਿੰਨ੍ਹ ਜੋ ਲਗਾਂ ਦੇ ਨਾਲ ਜੁੜਕੇ ਪ੍ਰਯੋਗ ਹੁੰਦੇ ਹਨ, ਉਨ੍ਹਾਂ ਨੂੰ

_____ ਕਿਹਾ ਜਾਂਦਾ ਹੈ।

(ੳ) ਦੁੱਤ ਅੱਖਰ (ਅ) ਲਗਾਖਰ (ੲ) ਵਰਨ (ਸ) ਸਵਰ

ਪ੍ਰਸ਼ਨ 50:-Who is the first player to be honoured with Bharat Ratna?

(ੳ) Leander Paes (ਅ) Sachin Tendulkar

(ੲ) Vijay Amritraj (ਸ) Dhyan Chand

ਨੋਟ: ਉੱਤਰ ਅਗਲੇ ਦਿਨ ਦੀ ਸ਼ੀਟ ਵਿੱਚ ਭੇਜੇ ਜਾਣਗੇ, ਤਦ ਤੱਕ ਦਿਮਾਗੀ ਕਸਰਤ ਕਰੋ!

Answers of Sheet No.09

Ans 41. ਬਾਬਾ ਬੁੱਢਾ ਜੀ

Ans 42. ਰਾਸ਼ਟਰਪਤੀ

Ans 43. ਸੂਰਜ

Ans 44. ਕਰਤਾ

Ans 45. It is very cold today.

“ਜ਼ਿੰਦਗੀ ਵਿੱਚ ਹਰ ਰੋਜ਼ ਕੁੱਝ ਨਵਾਂ ਸਿੱਖਣ ਦੀ ਕੋਸ਼ਿਸ਼ ਕਰਨੀ ਚਾਹੀਦੀ ਹੈ”।



ਉਡਾਣ

ਨੌਵੀਂ ਤੋਂ ਦਸਵੀਂ ਜਮਾਤ ਦੇ ਵਿਦਿਆਰਥੀਆਂ ਲਈ

ਸ਼ੀਟ ਨੰ :11

ਮਿਤੀ 14 -05-2019

ਪ੍ਰਸ਼ਨ51:- Find the missing number in place of question mark.

13	12	5
17	15	8
25	24	?
29	21	20

(ੳ) 6 (ਅ) 7 (ੲ) 8 (ਸ) 9

ਪ੍ਰਸ਼ਨ 52:- ਇੱਕ ਬਿਜਲਈ ਕੇਤਲੀ ਨੂੰ ਜਦੋਂ 220V 'ਤੇ ਚਲਾਇਆ ਜਾਂਦਾ ਹੈ ਤਾਂ ਇਹ 1 KW ਬਿਜਲੀ ਦੀ ਖਪਤ ਕਰਦੀ ਹੈ। ਇਸ ਨੂੰ ਵਰਤਣ ਲਈ ਕਿਸ ਰੇਟਿੰਗ ਦੀ ਫਿਊਜ਼ ਤਾਰ ਉਪਯੋਗ ਕਰਨੀ ਚਾਹੀਦੀ ਹੈ?

(ੳ) 1A (ਅ) 2 A (ੲ) 4A (ਸ) 5A

ਪ੍ਰਸ਼ਨ 53:- ਭਾਰਤੀ ਸੰਵਿਧਾਨ ਦੀਆਂ ਹੇਠਾਂ ਲਿਖੀਆਂ ਵਿਸ਼ੇਸ਼ਤਾਵਾਂ ਵਿੱਚੋਂ ਕਿਹੜੀ ਵਿਸ਼ੇਸ਼ਤਾ ਸੰਘਾਤਮਕ ਨਹੀਂ ਹੈ?

(ੳ) ਸੰਵਿਧਾਨ ਦੀ ਸਰਵਉੱਚਤਾ (ਅ) ਕੇਂਦਰ ਤੇ ਰਾਜਾਂ ਵਿੱਚ ਸ਼ਕਤੀਆਂ ਦੀ ਵੰਡ
(ੲ) ਸੁਤੰਤਰ ਨਿਆਂਪਾਲਿਕਾ (ਸ) ਰਾਸ਼ਟਰਪਤੀ ਰਾਹੀਂ ਰਾਜਾਂ ਦੇ ਰਾਜਪਾਲਾਂ ਦੀ ਨਿਯੁਕਤੀ

ਪ੍ਰਸ਼ਨ : 54: 'ਮਨਜੀਤ ਸਿੰਘ ਨੂੰ ਹਸਪਤਾਲ ਜਾਣਾ ਪੈਂਦਾ ਹੈ।' ਇਸ ਵਾਕ ਵਿੱਚ ਹੇਠ ਲਕੀਰੇ ਸ਼ਬਦਾਂ ਵਿੱਚ ਕਿਹੜਾ ਕਾਰਕ ਹੈ?

(ੳ) ਸੰਪਰਦਾਨ (ਅ) ਕਰਤਾ (ੲ) ਕਰਮ (ਸ) ਅਪਾਦਾਨ

ਪ੍ਰਸ਼ਨ 55:- The doctor said to the patient , " Eat fresh oranges and don't sit in the sun." (Change the narration)

ਨੋਟ: ਉੱਤਰ ਅਗਲੇ ਦਿਨ ਦੀ ਸ਼ੀਟ ਵਿੱਚ ਭੇਜੇ ਜਾਣਗੇ, ਤਦ ਤੱਕ ਦਿਮਾਗੀ ਕਸਰਤ ਕਰੋ!

Answers of Sheet No.10

- Ans 46. ਉੱਤਰ
Ans 47. 11 ਮਈ
Ans 48. Columbus discovered America.
Ans 49. ਲਗਾਖਰ
Ans 50. Sachin Tendulkar

“ਜ਼ਿੰਦਗੀ ਵਿੱਚ ਹਰ ਰੋਜ਼ ਕੁੱਝ ਨਵਾਂ ਸਿੱਖਣ ਦੀ ਕੋਸ਼ਿਸ਼ ਕਰਨੀ ਚਾਹੀਦੀ ਹੈ”।



ਉਡਾਣ

ਨੌਵੀਂ ਤੋਂ ਦਸਵੀਂ ਜਮਾਤ ਦੇ ਵਿਦਿਆਰਥੀਆਂ ਲਈ

ਸ਼ੀਟ ਨੰ :12

ਮਿਤੀ 15 -05-2019

ਪ੍ਰਸ਼ਨ 56:- Find the odd one out.

(ੳ) 15.63 (ਅ) 22.91 (ੲ) 23.95 (ਸ) 31.97

ਪ੍ਰਸ਼ਨ 57: ਨਿਊਟਨ ਦੇ ਗਤੀ ਦੇ ਤੀਸਰੇ ਨਿਯਮ ਅਨੁਸਾਰ 'ਕਿਰਿਆ ਅਤੇ ਪ੍ਰਤੀਕਿਰਿਆ ਲਗਦੇ ਹਨ '-

- (ੳ) ਇੱਕੋ ਵਸਤੂ 'ਤੇ ਪਰ ਉਲਟ ਦਿਸ਼ਾ ਵਿੱਚ
(ਅ) ਅਲੱਗ-ਅਲੱਗ ਵਸਤਾਂ 'ਤੇ ਪਰ ਇੱਕੋ ਦਿਸ਼ਾ ਵਿੱਚ
(ੲ) ਅਲੱਗ-ਅਲੱਗ ਵਸਤਾਂ 'ਤੇ ਅਤੇ ਉਲਟ ਦਿਸ਼ਾ ਵਿੱਚ
(ਸ) ਇੱਕੋ ਵਸਤੂ 'ਤੇ ਅਤੇ ਇੱਕ ਹੀ ਦਿਸ਼ਾ ਵਿੱਚ

ਪ੍ਰਸ਼ਨ 58:- ਜੇਕਰ ਕੋਈ ਵਿਅਕਤੀ ਸੰਸਦ ਦੇ ਕਿਸੇ ਵੀ ਸਦਨ ਦਾ ਮੈਂਬਰ ਨਾ ਹੋਵੇ, ਇਸਦੇ ਬਾਵਜੂਦ ਉਸ ਨੂੰ ਮੰਤਰੀ ਮੰਡਲ ਵਿੱਚ ਸ਼ਾਮਲ ਕਰ ਲਿਆ ਜਾਵੇ ਤਾਂ ਉਸ ਨੂੰ ਕਿਨ੍ਹੇ ਸਮੇਂ ਵਿੱਚ ਸੰਸਦ ਦੀ ਮੈਂਬਰਸ਼ਿਪ ਲੈਣੀ ਜ਼ਰੂਰੀ ਹੈ?

(ੳ) 1 ਮਹੀਨੇ (ਅ) 3 ਮਹੀਨੇ (ੲ) 6 ਮਹੀਨੇ (ਸ) 1 ਸਾਲ

ਪ੍ਰਸ਼ਨ 59:- 'ਤੁਸੀਂ ਕਿਉਂ ਲੜ ਰਹੇ ਹੋ'? ਇਸ ਵਾਕ ਵਿੱਚ ਅਕਰਮਕ ਕਿਰਿਆ ਹੈ ਜਾਂ ਸਕਰਮਕ ਕਿਰਿਆ ?

ਪ੍ਰਸ਼ਨ 60:- The teacher said, "Love is God." (Change the narration)

ਨੋਟ: ਉੱਤਰ ਅਗਲੇ ਦਿਨ ਦੀ ਸ਼ੀਟ ਵਿੱਚ ਭੇਜੇ ਜਾਣਗੇ, ਤਦ ਤੱਕ ਦਿਮਾਗੀ ਕਸਰਤ ਕਰੋ !

Answers of Sheet No.11

Ans 51. 7

Ans 52. 5A

Ans 53. ਰਾਸ਼ਟਰਪਤੀ ਰਾਹੀਂ ਰਾਜਾਂ ਦੇ ਰਾਜਪਾਲਾਂ ਦੀ ਨਿਯੁਕਤੀ

Ans 54. ਕਰਤਾ

Ans 55. The doctor advised the patient to eat fresh oranges and not to sit in the sun.

“ਜ਼ਿੰਦਗੀ ਵਿੱਚ ਹਰ ਰੋਜ਼ ਕੁੱਝ ਨਵਾਂ ਸਿੱਖਣ ਦੀ ਕੋਸ਼ਿਸ਼ ਕਰਨੀ ਚਾਹੀਦੀ ਹੈ”।



ਉਡਾਣ

ਨੌਵੀਂ ਤੋਂ ਦਸਵੀਂ ਜਮਾਤ ਦੇ ਵਿਦਿਆਰਥੀਆਂ ਲਈ

ਸ਼ੀਟ ਨੰ :13

ਮਿਤੀ 16 -05-2019

ਪ੍ਰਸ਼ਨ 61:- 'ਟੀਪੂ ਸੁਲਤਾਨ ਨੇ ਬਹੁਤ ਲੜਾਈਆਂ ਲੜੀਆਂ।' ਇਸ ਵਾਕ ਵਿੱਚ ਕਿਰਿਆ ਅਕਰਮਕ ਹੈ ਜਾਂ ਸਕਰਮਕ ?

ਪ੍ਰਸ਼ਨ62:- ਸਬ ਤੋਂ ਪਹਿਲਾਂ ਏਸ਼ੀਅਨ ਖੇਡਾਂ ਕਦੋਂ ਤੇ ਕਿੱਥੇ ਹੋਈਆਂ ?

(ੳ) 1954 (ਮਨੀਲਾ)

(ਅ) 1952 ਟੋਕੀਓ

(ੲ) 1962 (ਜਕਾਰਤਾ)

(ਸ) 1951 (ਨਵੀਂ ਦਿੱਲੀ)

ਪ੍ਰਸ਼ਨ63:- ਸੁਨੀਲ , ਅੰਜੁ , ਚਾਰਵੀ ਅਤੇ ਮੇਧਾਵੀ ਨੇ ਕਲਾਸ ਵਿੱਚ ਭਾਸ਼ਣ ਦੇਣਾ ਹੈ। ਅਧਿਆਪਕ ਉਨ੍ਹਾਂ ਦੀ ਪੇਸ਼ਕਾਰੀ ਨੂੰ ਕਿੰਨੇ ਵੱਖ-ਵੱਖ ਢੰਗਾਂ ਨਾਲ ਤਰਤੀਬ ਦੇ ਸਕਦਾ ਹੈ ?

(ੳ) 4

(ਅ) 12

(ੲ) 256

(ਸ) 24

ਪ੍ਰਸ਼ਨ64:- He is telling a story. (Change into Passive Voice)

ਪ੍ਰਸ਼ਨ65:- ਇੱਕ ਔਰਤ ਇੱਕ ਜਾਦੂਈ ਦਰਪਣ ਸਾਹਮਣੇ ਖੜ੍ਹੀ ਹੈ। ਉਸਦੇ ਸਿਰ ਦਾ ਪ੍ਰਤੀਬਿੰਬ ਵੱਡਾ, ਸਰੀਰ ਦੇ ਮੱਧ ਭਾਗ ਦਾ ਪ੍ਰਤੀਬਿੰਬ ਬਰਾਬਰ ਆਕਾਰ ਦਾ ਜਦ ਕਿ ਲੱਤਾਂ ਦਾ ਪ੍ਰਤੀਬਿੰਬ ਛੋਟਾ ਨਜ਼ਰ ਆਉਂਦਾ ਹੈ। ਜਾਦੂਈ ਦਰਪਣ ਉੱਪਰ ਤੋਂ ਹੇਠਾਂ ਵੱਲ ਹੇਠ ਲਿਖੇ ਅਨੁਸਾਰ ਵੱਖ-ਵੱਖ ਦਰਪਣਾਂ ਦੇ ਸੁਮੇਲ ਤੋਂ ਬਣਿਆ ਹੈ। ਇਨ੍ਹਾਂ ਵਿੱਚੋਂ ਕਿਹੜਾ ਸੁਮੇਲ ਨਹੀਂ ਹੈ ?

(ੳ) ਸਮਤਲ, ਉੱਤਲ, ਅਵਤਲ

(ਅ) ਉੱਤਲ, ਸਮਤਲ, ਅਵਤਲ

(ੲ) ਸਮਤਲ, ਅਵਤਲ, ਉੱਤਲ

(ਸ) ਅਵਤਲ, ਸਮਤਲ, ਉੱਤਲ

ਨੋਟ: ਉੱਤਰ ਅਗਲੇ ਦਿਨ ਦੀ ਸ਼ੀਟ ਵਿੱਚ ਭੇਜੇ ਜਾਣਗੇ, ਤਦ ਤੱਕ ਦਿਮਾਗੀ ਕਸਰਤ ਕਰੋ!

Answers of Sheet No.12

Ans 56. 31.97

Ans 57. ਅਲੱਗ-ਅਲੱਗ ਵਸਤਾਂ 'ਤੇ ਅਤੇ ਉਲਟ ਦਿਸ਼ਾ ਵਿੱਚ

Ans 58. 6 ਮਹੀਨੇ

Ans 59. ਅਕਰਮਕ

Ans 60. The teacher said that love is God.

“ਇੱਕ ਨੈਤਿਕ ਮਤਦਾਤਾ ਬਣੋ।”



ਉਡਾਣ

ਨੌਵੀਂ ਤੋਂ ਦਸਵੀਂ ਜਮਾਤ ਦੇ ਵਿਦਿਆਰਥੀਆਂ ਲਈ

ਸ਼ੀਟ ਨੰ :14

ਮਿਤੀ 17 -05-2019

ਪ੍ਰਸ਼ਨ 66:- 'ਦਲਜੀਤ ਤੋਂ ਦਰਦ ਸਹਿਆ ਨਹੀਂ ਜਾਂਦਾ।' ਇਸ ਵਾਕ ਵਿੱਚ ਹੇਠ ਲਕੀਰੇ ਸ਼ਬਦਾਂ ਵਿੱਚ ਕਿਹੜਾ ਕਾਰਕ ਹੈ?

(ੳ) ਕਰਮ (ਅ) ਸੰਪਰਦਾਨ (ੲ) ਕਰਤਾ (ਸ) ਅਪਾਦਾਨ

ਪ੍ਰਸ਼ਨ67:- ਸਭ ਤੋਂ ਵੱਧ ਜੰਗਲ _____ ਸੂਬੇ ਵਿੱਚ ਹਨ।

(ੳ) ਪੰਜਾਬ (ਅ) ਅਰੁਣਾਚਲ ਪ੍ਰਦੇਸ਼ (ੲ) ਮਿਜ਼ੋਰਮ (ਸ) ਹਿਮਾਚਲ ਪ੍ਰਦੇਸ਼

ਪ੍ਰਸ਼ਨ68:- ਔਸ (Aus), ਅਮਨ (Aman) ਤੇ ਬੋਰੋ (Boro) ਹੇਠ ਲਿਖੀਆਂ ਫਸਲਾਂ ਵਿੱਚੋਂ ਕਿਸ ਫਸਲ ਦੀਆਂ ਕਿਸਮਾਂ ਹਨ ਜੋ ਕਿ ਸਾਲ ਵਿੱਚ ਤਿੰਨ ਵਾਰੀ ਬੀਜੀਆਂ ਜਾਂਦੀਆਂ ਹਨ?

(ੳ) ਮੱਕੀ (ਅ) ਝੋਨਾ (ੲ) ਬਾਜਰਾ (ਸ) ਕਣਕ

ਪ੍ਰਸ਼ਨ69:- Kindly help me. (Change into passive voice)

ਪ੍ਰਸ਼ਨ70:- ਦਸ ਲੜਕਿਆਂ ਦੀ ਇੱਕ ਲਾਈਨ ਵਿੱਚ ਵਰੁਣ ਨੂੰ ਜੇਕਰ ਖੱਬੇ ਪਾਸੇ ਤੋਂ ਦੋ ਸਥਾਨ ਖਿਸਕਾਇਆ ਜਾਵੇ, ਤਾਂ ਉਹ ਖੱਬੇ ਪਾਸੇ ਤੋਂ ਸੱਤਵੇਂ ਸਥਾਨ 'ਤੇ ਆ ਜਾਵੇਗਾ। ਲਈਨ ਵਿੱਚ ਉਹ ਪਹਿਲਾਂ ਸੱਜੇ ਪਾਸੇ ਤੋਂ ਕਿਹੜੇ ਸਥਾਨ 'ਤੇ ਸੀ ?

(ੳ) ਛੇਵੇਂ (ਅ) ਚੌਥੇ (ੲ) ਦੂਜੇ (ਸ) ਪਹਿਲੇ

ਨੋਟ: ਉੱਤਰ ਅਗਲੇ ਦਿਨ ਦੀ ਸ਼ੀਟ ਵਿੱਚ ਭੇਜੇ ਜਾਣਗੇ, ਤਦ ਤੱਕ ਦਿਮਾਗੀ ਕਸਰਤ ਕਰੋ!

Answers of Sheet No.13

- Ans 61. ਸਕਰਮਕ
Ans 62. 1951 (ਨਵੀਂ ਦਿੱਲੀ)
Ans 63. 24
Ans 64. A story is being told by him.
Ans 65. ਸਮਤਲ, ਉੱਤਲ, ਅਵਤਲ

“ਇੱਕ ਨੈਤਿਕ ਮਤਦਾਤਾ ਬਣੋ।”



ਉਡਾਣ

ਨੌਵੀਂ ਤੋਂ ਦਸਵੀਂ ਜਮਾਤ ਦੇ ਵਿਦਿਆਰਥੀਆਂ ਲਈ

ਸ਼ੀਟ ਨੰ :15

ਮਿਤੀ 18 -05-2019

ਪ੍ਰਸ਼ਨ 71:- What is the minimum age to become a member of Lok Sabha ?

(ੳ) 18 (ਅ) 19 (ੲ) 21 (ਸ) 25

ਪ੍ਰਸ਼ਨ72:- ਕਿਹੜੀ ਨਦੀ ਨੂੰ ਪੱਛਮੀ ਬੰਗਾਲ ਦਾ ਸਰਾਪ ਕਿਹਾ ਜਾਂਦਾ ਹੈ?

(ੳ) ਨਰਮਦਾ (ਅ) ਦਾਮੋਦਰ (ੲ) ਤਾਪਤੀ (ਸ) ਸਿੰਧ

ਪ੍ਰਸ਼ਨ73:- ਭਾਰਤ ਦਾ ਪਹਿਲਾ ਸੀਮੇਂਟ ਪਲਾਂਟ ਕਿੱਥੇ ਸਥਾਪਿਤ ਹੋਇਆ ?

(ੳ) ਮੁੰਬਈ (ਅ) ਮਦੁਰਾਇ (ੲ) ਚੇਨਾਈ (ਸ) ਅਹਿਮਦਾਬਾਦ

ਪ੍ਰਸ਼ਨ74:- Fill in the blank with suitable Adverb.

He is _____ better now.(much / very)

ਪ੍ਰਸ਼ਨ75:- ਅਮਿਤ ਆਪਣੇ ਪੁੱਤਰ ਨਾਲੋਂ 6 ਗੁਣਾ ਵੱਡਾ ਹੈ। ਅੱਜ ਤੋਂ ਚਾਰ ਸਾਲ ਬਾਅਦ ਜੇਕਰ ਦੋਨਾਂ ਦੀਆਂ ਉਮਰਾਂ ਦਾ ਜੋੜ 43 ਸਾਲ ਹੋਵੇ ਤਾਂ ਅਮਿਤ ਦੀ ਮੌਜੂਦਾ ਉਮਰ ਪਤਾ ਕਰੋ।

(ੳ) 30 ਸਾਲ (ਅ) 32 ਸਾਲ (ੲ) 34 ਸਾਲ (ਸ) 38 ਸਾਲ

ਨੋਟ: ਉੱਤਰ ਅਗਲੇ ਦਿਨ ਦੀ ਸ਼ੀਟ ਵਿੱਚ ਭੇਜੇ ਜਾਣਗੇ, ਤਦ ਤੱਕ ਦਿਮਾਗੀ ਕਸਰਤ ਕਰੋ!

Answers of Sheet No.14

- Ans 66. ਕਰਤਾ
Ans 67. ਮਿਜ਼ੋਰਮ
Ans 68. ਝੋਨਾ
Ans 69. You are requested to help me.
Ans 70. ਦੂਜੇ

“ਇੱਕ ਨੈਤਿਕ ਮਤਦਾਤਾ ਬਣੋ।”



ਉਡਾਣ

ਨੌਵੀਂ ਤੋਂ ਦਸਵੀਂ ਜਮਾਤ ਦੇ ਵਿਦਿਆਰਥੀਆਂ ਲਈ

ਸ਼ੀਟ ਨੰ :16

ਮਿਤੀ 20-05-2019

ਪ੍ਰਸ਼ਨ 76:- Who was the first speaker of Lok Sabha ?

ਪ੍ਰਸ਼ਨ 77:- ਰੇਸ਼ਮ ਦੇ ਕੀੜਿਆਂ ਨੂੰ ਕਿਹੜੇ ਦਰੱਖਤ 'ਤੇ ਪਾਲਿਆ ਜਾਂਦਾ ਹੈ?

(ੳ) ਟਾਹਲੀ (ਅ) ਕਿੱਕਰ (ੲ) ਸ਼ਹਿਤੂਤ (ਸ) ਅੰਬ

ਪ੍ਰਸ਼ਨ 78:- _____ ਨੂੰ ਭਾਰਤ ਦੀ 'ਸਿਲੀਕਾਨ ਘਾਟੀ' ਕਿਹਾ ਜਾਂਦਾ ਹੈ।

(ੳ) ਬੈਂਗਲੂਰੂ (ਅ) ਮੁੰਬਈ (ੲ) ਅੰਮ੍ਰਿਤਸਰ (ਸ) ਅਹਿਮਦਾਬਾਦ

ਪ੍ਰਸ਼ਨ 79:- Let them play this match. (Change into passive voice)

ਪ੍ਰਸ਼ਨ 80:- ਪੰਜ ਲੜਕਿਆਂ ਨੇ ਇੱਕ ਦੌੜ ਵਿੱਚ ਭਾਗ ਲਿਆ। ਰਾਜ, ਮੋਹਿਤ ਤੋਂ ਅੱਗੇ ਪਰ ਗੌਰਵ ਤੋਂ ਪਿੱਛੇ ਰਿਹਾ। ਅਸ਼ੀਸ਼, ਸੰਚਿਤ ਤੋਂ ਅੱਗੇ ਪਰ ਮੋਹਿਤ ਤੋਂ ਪਿੱਛੇ ਰਿਹਾ। ਦੱਸੋ, ਦੌੜ ਵਿੱਚ ਜੇਤੂ ਕੌਣ ਰਿਹਾ?

(ੳ) ਰਾਜ (ਅ) ਗੌਰਵ (ੲ) ਮੋਹਿਤ (ਸ) ਅਸ਼ੀਸ਼

ਨੋਟ: ਉੱਤਰ ਅਗਲੇ ਦਿਨ ਦੀ ਸ਼ੀਟ ਵਿੱਚ ਭੇਜੇ ਜਾਣਗੇ, ਤਦ ਤੱਕ ਦਿਮਾਗੀ ਕਸਰਤ ਕਰੋ!

Answers of Sheet No.15

- Ans 71. 25
Ans 72. ਦਾਮੋਦਰ
Ans 73. ਚੇਨੱਈ
Ans 74. much
Ans 75. 30 ਸਾਲ

“ਇੱਕ ਨੈਤਿਕ ਮਤਦਾਤਾ ਬਣੋ।”



ਉਡਾਣ

ਨੌਵੀਂ ਤੋਂ ਦਸਵੀਂ ਜਮਾਤ ਦੇ ਵਿਦਿਆਰਥੀਆਂ ਲਈ

ਸ਼ੀਟ ਨੰ :17

ਮਿਤੀ 21-05-2019

ਪ੍ਰਸ਼ਨ 81:- Arrange the words as they occur in the dictionary .

1. Pestle 2. Pestilence 3.Pester 4.Pest 5.Pessimist

(ੳ) 4,3,1,5,2 (ਅ) 3,4,2,5,1 (ੲ) 5,4,3,2,1 (ਸ) 4,5,1,2,3

ਪ੍ਰਸ਼ਨ 82 :-ਹੇਠ ਲਿਖੀਆਂ ਪੰਜਾਬੀ ਲੋਕ ਖੇਡਾਂ ਵਿੱਚੋਂ ਕਿਹੜੀ ਖੇਡ ਪੰਜਾਬੀ ਗੱਭਰੂ ਖੇਡਦੇ ਹਨ?

(ੳ) ਪੰਘੂੜਾ (ਅ) ਕਿੱਕਲੀ (ੲ) ਬਾਂਦਰ ਕਿੱਲਾ (ਸ) ਪੀਚੋ ਬੱਕਰੀ

ਪ੍ਰਸ਼ਨ 83 :- ਭਾਰਤ ਦਾ ਸਬ ਤੋਂ ਵੱਡਾ ਮਾਰੂਥਲ ਕਿਹੜਾ ਹੈ?

(ੳ) ਝਾਰਖੰਡ (ਅ) ਲੇਹ-ਲੱਦਾਖ (ੲ) ਥਾਰ (ਰਾਜਸਥਾਨ) (ਸ) ਗੁਜਰਾਤ

ਪ੍ਰਸ਼ਨ 84 :- He wrote a letter. (Change into Interroative sentence)

ਪ੍ਰਸ਼ਨ 85- ਰਾਜ ਸਰਕਾਰਾਂ ਦਾ ਸੰਵਿਧਾਨਕ ਮੁਖੀ ਕੌਣ ਹੁੰਦਾ ਹੈ?


(ੳ) ਮੁੱਖ ਮੰਤਰੀ (ਅ) ਸਪੀਕਰ (ੲ) ਰਾਜਪਾਲ (ਸ) ਹਾਈ ਕੋਰਟ ਦਾ ਮੁੱਖ ਜੱਜ

ਨੋਟ: ਉੱਤਰ ਅਗਲੇ ਦਿਨ ਦੀ ਸ਼ੀਟ ਵਿੱਚ ਭੇਜੇ ਜਾਣਗੇ,ਤਦ ਤੱਕ ਦਿਮਾਗੀ ਕਸਰਤ ਕਰੋ!

Answers of Sheet No.16

- Ans 76. G.V.Mavalankar
Ans 77. ਸ਼ਹਿਦੂਤ
Ans 78. ਬੈਂਗਲੂਰੂ
Ans 79. Let this match be played by them.
Ans 80. ਅਸ਼ੀਸ਼

“ਜ਼ਿੰਦਗੀ ਵਿੱਚ ਹਰ ਰੋਜ਼ ਕੁੱਝ ਨਵਾਂ ਸਿੱਖਣ ਦੀ ਕੋਸ਼ਿਸ਼ ਕਰਨੀ ਚਾਹੀਦੀ ਹੈ”।



ਉਡਾਣ

ਨੌਵੀਂ ਤੋਂ ਦਸਵੀਂ ਜਮਾਤ ਦੇ ਵਿਦਿਆਰਥੀਆਂ ਲਈ

ਸ਼ੀਟ ਨੰ :18

ਮਿਤੀ 22-05-2019

ਪ੍ਰਸ਼ਨ 86:- ਹੇਠ ਲਿਖੇ ਅੰਕਾਂ ਵਿੱਚੋਂ ਵਿਸ਼ਮ ਅੰਕਾਂ ਦਾ ਜੋੜ ਕੀ ਹੋਵੇਗਾ ?

2 3 4 5 6 7 8 5 1 2 3 4 5 6 7 8 5 1 2 3 1 2 3 4 5 6 7 8 5 1 5

(ੳ) 69

(ਅ) 72

(ੲ) 77

(ਸ) 81

ਪ੍ਰਸ਼ਨ 87 :-ਹੇਠ ਲਿਖੀਆਂ ਵਿੱਚੋਂ ਕਿਸ ਨੂੰ ਪ੍ਰਕਿਰਤੀ ਦਾ ਸਫਾਈ ਕਰਮਚਾਰੀ ਕਿਹਾ ਜਾਂਦਾ ਹੈ?

(ੳ) ਕਬੂਤਰ

(ਅ) ਕੁੱਤਾ

(ੲ) ਗਿੱਧ

(ਸ) ਉੱਲੂ

ਪ੍ਰਸ਼ਨ 88 :- What is the full form of PGDCA ?

ਪ੍ਰਸ਼ਨ 89 :- I have written a letter. (Change into Negative sentence)

ਪ੍ਰਸ਼ਨ 90- 'ਏਸ਼ੀਆਈ ਅਥਲੈਟਿਕਸ ਚੈਂਪਿਅਨਸ਼ਿਪ -2019' ਵਿੱਚ ਭਾਰਤ ਦਾ ਪਦਕ ਤਾਲਿਕਾ ਵਿੱਚ
-----ਸਥਾਨ ਰਿਹਾ।

(ੳ) ਦੂਜਾ

(ਅ) ਦਸਵਾਂ

(ੲ) ਚੌਥਾ

(ਸ) ਅਠਵਾਂ

ਨੋਟ: ਉੱਤਰ ਅਗਲੇ ਦਿਨ ਦੀ ਸ਼ੀਟ ਵਿੱਚ ਭੇਜੇ ਜਾਣਗੇ,ਤਦ ਤੱਕ ਦਿਮਾਗੀ ਕਸਰਤ ਕਰੋ!

Answers of Sheet No.17

Ans 81. 5,4,3,2,1

Ans 82 ਬਾਂਦਰ ਕਿੱਲਾ

Ans 83. ਥਾਰ (ਰਾਜਸਥਾਨ)

Ans 84. Did he write a letter ?

Ans 85. ਰਾਜਪਾਲ

“ਜ਼ਿੰਦਗੀ ਵਿੱਚ ਹਰ ਰੋਜ਼ ਕੁੱਝ ਨਵਾਂ ਸਿੱਖਣ ਦੀ ਕੋਸ਼ਿਸ਼ ਕਰਨੀ ਚਾਹੀਦੀ ਹੈ”।



ਉਡਾਣ

ਨੌਵੀਂ ਤੋਂ ਦਸਵੀਂ ਜਮਾਤ ਦੇ ਵਿਦਿਆਰਥੀਆਂ ਲਈ

ਸ਼ੀਟ ਨੰ :19

ਮਿਤੀ 23-05-2019

ਪ੍ਰਸ਼ਨ 91:- Who was the first Indian scientist to receive Nobel Prize ?

ਪ੍ਰਸ਼ਨ 92 :-ਲਾਲ ਮਿੱਟੀ ਦਾ ਰੰਗ ਲਾਲ ਹੁੰਦਾ ਹੈ ਕਿਉਂਕਿ ਇਸ ਵਿੱਚ -----ਪਾਇਆ ਜਾਂਦਾ ਹੈ।

(ੳ) ਨਾਈਟ੍ਰੋਜਨ (ਅ) ਪੋਟਾਸ਼ (ੲ) ਤਾਂਬਾ (ਸ) ਲੋਹਾ

ਪ੍ਰਸ਼ਨ 93 :- What is the full form of BA ?

ਪ੍ਰਸ਼ਨ 94 :- He stole my pen . (Change into passive voice)

ਪ੍ਰਸ਼ਨ 95- ਦੁੱਧ ਉੱਤਪਾਦਨ ਵਿੱਚ ਦੁਨੀਆ ਦਾ ਨੰਬਰ ਇੱਕ ਦੇਸ਼ ਕਿਹੜਾ ਹੈ?

(ੳ) ਭਾਰਤ (ਅ) ਸ਼੍ਰੀਲੰਕਾ (ੲ) ਆਸਟ੍ਰੇਲਿਆ (ਸ) ਡੈਨਮਾਰਕ

ਨੋਟ: ਉੱਤਰ ਅਗਲੇ ਦਿਨ ਦੀ ਸ਼ੀਟ ਵਿੱਚ ਭੇਜੇ ਜਾਣਗੇ,ਤਦ ਤੱਕ ਦਿਮਾਗੀ ਕਸਰਤ ਕਰੋ!

Answers of Sheet No.18

Ans 86. 72

Ans 87 ਗਿੱਧ

Ans 88. Post graduation diploma in computer application

Ans 89. I have not written a letter.

Ans 90. ਚੌਥਾ

“ਜ਼ਿੰਦਗੀ ਵਿੱਚ ਹਰ ਰੋਜ਼ ਕੁੱਝ ਨਵਾਂ ਸਿੱਖਣ ਦੀ ਕੋਸ਼ਿਸ਼ ਕਰਨੀ ਚਾਹੀਦੀ ਹੈ”।



ਉਡਾਣ

ਨੌਵੀਂ ਤੋਂ ਦਸਵੀਂ ਜਮਾਤ ਦੇ ਵਿਦਿਆਰਥੀਆਂ ਲਈ

ਸ਼ੀਟ ਨੰ :20

ਮਿਤੀ 24-05-2019

ਪ੍ਰਸ਼ਨ 96:- Who was the first Bharat Ratan Award recipient ?

ਪ੍ਰਸ਼ਨ 97 :- ਕਾਲੀ ਮਿੱਟੀ ਕਿਸ ਪ੍ਰਾਂਤ ਵਿੱਚ ਸਭ ਤੋਂ ਵੱਧ ਪਾਈ ਜਾਂਦੀ ਹੈ?

(ੳ) ਬਿਹਾਰ (ਅ) ਕਰਨਾਟਕ (ੲ) ਮਹਾਰਾਸ਼ਟਰ (ਸ) ਉੱਤਰ ਪ੍ਰਦੇਸ਼

ਪ੍ਰਸ਼ਨ 98 :- What is the full form of B.Com ?

ਪ੍ਰਸ਼ਨ 99 :- I am not afraid -----(of / to) him. (Use appropriate Preposition)

ਪ੍ਰਸ਼ਨ 100- ਭਾਰਤ ਦੀ ਪਹਿਲੀ ਬੋਲਣ ਵਾਲੀ ਫਿਲਮ----- ਹੈ।

(ੳ) ਮੁਗਲੇ ਆਜ਼ਮ (ਅ) ਮਦਰ ਇੰਡੀਆ (ੲ) ਆਲਮ ਆਰਾ (ਸ) ਰਾਜਾ ਹਰੀਸ਼ਚੰਦਰ

ਨੋਟ: ਉੱਤਰ ਅਗਲੇ ਦਿਨ ਦੀ ਸ਼ੀਟ ਵਿੱਚ ਭੇਜੇ ਜਾਣਗੇ, ਤਦ ਤੱਕ ਦਿਮਾਗੀ ਕਸਰਤ ਕਰੋ!

Answers of Sheet No.19

Ans 91. Sir C.V.Raman (Sir Chandrashekhara Venkata Raman)

Ans 92 ਲੋਹਾ

Ans 93. Bachelor of Arts

Ans 94. My pen was stolen by him.

Ans 95. ਡੈਨਮਾਰਕ

“ਜ਼ਿੰਦਗੀ ਵਿੱਚ ਹਰ ਰੋਜ਼ ਕੁੱਝ ਨਵਾਂ ਸਿੱਖਣ ਦੀ ਕੋਸ਼ਿਸ਼ ਕਰਨੀ ਚਾਹੀਦੀ ਹੈ”।



ਉਡਾਣ

ਨੌਵੀਂ ਤੋਂ ਦਸਵੀਂ ਜਮਾਤ ਦੇ ਵਿਦਿਆਰਥੀਆਂ ਲਈ

ਸ਼ੀਟ ਨੰ :21

ਮਿਤੀ 25-05-2019

- ਪ੍ਰਸ਼ਨ 101:- Who is the author of the book 'Harry Potter' ?
- ਪ੍ਰਸ਼ਨ 102 :- 'ਵਿਸ਼ਵ ਕ੍ਰਿਕੇਟ ਕੱਪ 2019' ਦੇ ਭਾਰਤੀ ਟੀਮ ਦੇ ਕਪਤਾਨ ਕੌਣ ਹਨ?
- (ੳ) ਵਿਰਾਟ ਕੋਹਲੀ (ਅ) ਐੱਮ.ਐੱਸ.ਧੋਨੀ
(ੲ) ਰਵਿੰਦਰ ਜਡੇਜਾ (ਸ) ਦਿਨੇਸ਼ ਕਾਰਤਿਕ
- ਪ੍ਰਸ਼ਨ 103 :- What is the full form of B.Arch. ?
- ਪ੍ਰਸ਼ਨ 104 :- We had completed the work.(Change into Passive Voice)
- ਪ੍ਰਸ਼ਨ 105:- ਭਾਰਤ ਦੇ ਕਿਸ ਪ੍ਰਧਾਨ ਮੰਤਰੀ ਦੇ ਮੰਤਰੀ ਮੰਡਲ ਵਿੱਚ ਦੋ ਵਿਅਕਤੀ ਉਪ ਪ੍ਰਧਾਨ ਮੰਤਰੀ ਸਨ?
- (ੳ) ਅਟਲ ਬਿਹਾਰੀ ਵਾਜਪੇਈ (ਅ) ਰਾਜੀਵ ਗਾਂਧੀ
(ੲ) ਮੋਰਾਰਜੀ ਦੇਸਾਈ (ਸ) ਡਾ.ਮਨਮੋਹਨ ਸਿੰਘ

ਨੋਟ: ਉੱਤਰ ਅਗਲੇ ਦਿਨ ਦੀ ਸ਼ੀਟ ਵਿੱਚ ਭੇਜੇ ਜਾਣਗੇ, ਤਦ ਤੱਕ ਦਿਮਾਗੀ ਕਸਰਤ ਕਰੋ!

Answers of Sheet No.20

- Ans 96. Dr. Radhakrishnan
Ans 97 ਮਹਾਰਾਸ਼ਟਰ
Ans 98. Bachelor of Commerce
Ans 99. I am not afraid of him.
Ans 100. ਆਲਮ ਆਰਾ

“ਜ਼ਿੰਦਗੀ ਵਿੱਚ ਹਰ ਰੋਜ਼ ਕੁੱਝ ਨਵਾਂ ਸਿੱਖਣ ਦੀ ਕੋਸ਼ਿਸ਼ ਕਰਨੀ ਚਾਹੀਦੀ ਹੈ”।



ਉਡਾਣ

ਨੌਵੀਂ ਤੋਂ ਦਸਵੀਂ ਜਮਾਤ ਦੇ ਵਿਦਿਆਰਥੀਆਂ ਲਈ

ਸ਼ੀਟ ਨੰ :22

ਮਿਤੀ 27-05-2019

ਪ੍ਰਸ਼ਨ 106:- Who is the author of the book 'James Bond' ?

ਪ੍ਰਸ਼ਨ 107 :- ਕਿਸ ਦੇਸ਼ ਨੇ 2015 ਦਾ 'ਵਿਸ਼ਵ ਕ੍ਰਿਕੇਟ ਕੱਪ' ਜਿੱਤਿਆ ਸੀ?

(ੳ) ਭਾਰਤ (ਅ) ਨਿਊਜ਼ੀਲੈਂਡ (ੲ) ਆਸਟ੍ਰੇਲਿਆ (ਸ) ਸ਼੍ਰੀਲੰਕਾ

ਪ੍ਰਸ਼ਨ 108 :- 1 ਮਈ, 2019 ਨੂੰ ਜਪਾਨ ਦੇ ਨਵੇਂ ਸਮਰਾਟ ਕੌਣ ਬਣੇ ਹਨ?

ਪ੍ਰਸ਼ਨ 109 :- He was accused -----(to / of) theft. (Use appropriate preposition)

ਪ੍ਰਸ਼ਨ 110:- Punjab does not share its border with _____.

(ੳ) Himachal Pradesh (ਅ) Haryana (ੲ) Rajasthan (ਸ) Delhi

ਨੋਟ: ਉੱਤਰ ਅਗਲੇ ਦਿਨ ਦੀ ਸ਼ੀਟ ਵਿੱਚ ਭੇਜੇ ਜਾਣਗੇ, ਤਦ ਤੱਕ ਦਿਮਾਗੀ ਕਸਰਤ ਕਰੋ!

Answers of Sheet No.21

Ans 101. J.K.Rowling

Ans 102 ਵਿਰਾਟ ਕੋਹਲੀ

Ans 103. Bachelor of Architecture

Ans 104. The work had been completed by us..

Ans 105. ਮੋਰਾਰਜੀ ਦੇਸਾਈ

“ਜ਼ਿੰਦਗੀ ਵਿੱਚ ਹਰ ਰੋਜ਼ ਕੁੱਝ ਨਵਾਂ ਸਿੱਖਣ ਦੀ ਕੋਸ਼ਿਸ਼ ਕਰਨੀ ਚਾਹੀਦੀ ਹੈ”।



ਉਡਾਣ

ਨੌਵੀਂ ਤੋਂ ਦਸਵੀਂ ਜਮਾਤ ਦੇ ਵਿਦਿਆਰਥੀਆਂ ਲਈ

ਸ਼ੀਟ ਨੰ :23

ਮਿਤੀ 28-05-2019

ਪ੍ਰਸ਼ਨ 111:- ਸ੍ਰੀ 'ਸੁਖਮਨੀ ਸਾਹਿਬ' ਬਾਣੀ ਦੀ ਰਚਨਾ-----ਦੁਆਰਾ ਕੀਤੀ ਗਈ।

(ੳ) ਸ੍ਰੀ ਗੁਰੂ ਤੇਗ ਬਹਾਦੁਰ ਜੀ (ਅ) ਸ੍ਰੀ ਗੁਰੂ ਗੋਬਿੰਦ ਸਿੰਘ ਜੀ

(ੲ) ਸ੍ਰੀ ਗੁਰੂ ਅਰਜਨ ਜੀ (ਸ) ਸ੍ਰੀ ਗੁਰੂ ਅਮਰਦਾਸ ਜੀ

ਪ੍ਰਸ਼ਨ112 :- _____ gas is not known as the greenhouse gas ?

(ੳ) Methane (ਅ) Nitrous oxide

(ੲ) Hydrogen (ਸ) Carbon dioxide

ਪ੍ਰਸ਼ਨ113 :- _____ 'ਮਾਘੀ ਦੇ ਮੇਲੇ ਲਈ ਪ੍ਰਸਿੱਧ ਹੈ।

(ੳ) ਰੂਪਨਗਰ (ਅ) ਮੋਗਾ (ੲ) ਲੁਧਿਆਣਾ (ਸ) ਸ੍ਰੀ ਮੁਕਤਸਰ ਸਾਹਿਬ

ਪ੍ਰਸ਼ਨ114 :- I do not make a noise in the class. (Translate into Punjabi)

ਪ੍ਰਸ਼ਨ115:- ਹਰ ਚਮਕਦੀ ਚੀਜ਼ ਸੋਨਾ ਨਹੀਂ ਹੁੰਦੀ। (Translate into English)

ਨੋਟ: ਉੱਤਰ ਅਗਲੇ ਦਿਨ ਦੀ ਸ਼ੀਟ ਵਿੱਚ ਭੇਜੇ ਜਾਣਗੇ, ਤਦ ਤੱਕ ਦਿਮਾਗੀ ਕਸਰਤ ਕਰੋ!

Answers of Sheet No.22

Ans 106. Ian Fleming

Ans 107 ਆਸਟ੍ਰੇਲਿਆ

Ans 108. ਨਾਰੁਹਿਤੋ (Naruhito)

Ans 109. He was accused of theft.

Ans 110. Delhi

“ਜ਼ਿੰਦਗੀ ਵਿੱਚ ਹਰ ਰੋਜ਼ ਕੁੱਝ ਨਵਾਂ ਸਿੱਖਣ ਦੀ ਕੋਸ਼ਿਸ਼ ਕਰਨੀ ਚਾਹੀਦੀ ਹੈ”।



ਉਡਾਣ

ਨੌਵੀਂ ਤੋਂ ਦਸਵੀਂ ਜਮਾਤ ਦੇ ਵਿਦਿਆਰਥੀਆਂ ਲਈ

ਸ਼ੀਟ ਨੰ :24

ਮਿਤੀ 29-05-2019

ਪ੍ਰਸ਼ਨ 116:- ਸ੍ਰੀ 'ਅਕਾਲ ਤਖਤ ਸਾਹਿਬ' _____ ਦੁਆਰਾ ਬਣਵਾਇਆ ਗਿਆ ਸੀ।

(ੳ) ਸ੍ਰੀ ਗੁਰੂ ਤੇਗ ਬਹਾਦਰ ਜੀ

(ਅ) ਸ੍ਰੀ ਗੁਰੂ ਹਰਿਗੋਬਿੰਦ ਜੀ

(ੲ) ਸ੍ਰੀ ਗੁਰੂ ਨਾਨਕ ਦੇਵ ਜੀ

(ਸ) ਸ੍ਰੀ ਗੁਰੂ ਅਮਰਦਾਸ ਜੀ

ਪ੍ਰਸ਼ਨ117 :- What is force ?

(ੳ) pull

(ਅ) push

(ੲ) pull and push both

(ਸ) None of these

ਪ੍ਰਸ਼ਨ118 :- Look at this series: 22, 21, 23, 22, 24, 23, _____.What number should come next?

(ੳ) 22

(ਅ) 24

(ੲ) 25

(ਸ) 26

ਪ੍ਰਸ਼ਨ119 :- Is he not deceiving me ? . (Translate into Punjabi)

ਪ੍ਰਸ਼ਨ120:- ਅੱਜ ਹਵਾ ਬੰਦ ਹੈ। (Translate into English)

ਨੋਟ: ਉੱਤਰ ਅਗਲੇ ਦਿਨ ਦੀ ਸ਼ੀਟ ਵਿੱਚ ਭੇਜੇ ਜਾਣਗੇ, ਤਦ ਤੱਕ ਦਿਮਾਗੀ ਕਸਰਤ ਕਰੋ!

Answers of Sheet No.23

Ans 111. ਸ੍ਰੀ ਗੁਰੂ ਅਰਜਨ ਜੀ

Ans 112 Hydrogen

Ans 113. ਸ੍ਰੀ ਮੁਕਤਸਰ ਸਾਹਿਬ

Ans 113. ਮੈਂ ਜਮਾਤ ਵਿੱਚ ਰੋਲਾ ਨਹੀਂ ਪਾਉਂਦਾ ਹਾਂ।

Ans 115. All that glitters is not gold.

“ਜ਼ਿੰਦਗੀ ਵਿੱਚ ਹਰ ਰੋਜ਼ ਕੁੱਝ ਨਵਾਂ ਸਿੱਖਣ ਦੀ ਕੋਸ਼ਿਸ਼ ਕਰਨੀ ਚਾਹੀਦੀ ਹੈ”।



ਉਡਾਣ

ਨੌਵੀਂ ਤੋਂ ਦਸਵੀਂ ਜਮਾਤ ਦੇ ਵਿਦਿਆਰਥੀਆਂ ਲਈ

ਸ਼ੀਟ ਨੰ : 25

ਮਿਤੀ 02-07-2019

ਪ੍ਰਸ਼ਨ 121:- 'ਸਾਲ 2011 ਦੀ ਜਨਗਣਨਾ' ਅਨੁਸਾਰ ਭਾਰਤ ਦੀ ਜਨਸੰਖਿਆ ਘਣਤਾ ਕਿੰਨੀ ਹੈ?

- (ੳ) 382 ਵਿਅਕਤੀ ਪ੍ਰਤੀ ਵਰਗ ਕਿਲੋਮੀਟਰ (ਅ) 482 ਵਿਅਕਤੀ ਪ੍ਰਤੀ ਵਰਗ ਕਿਲੋਮੀਟਰ
(ੲ) 582 ਵਿਅਕਤੀ ਪ੍ਰਤੀ ਵਰਗ ਕਿਲੋਮੀਟਰ (ਸ) 682 ਵਿਅਕਤੀ ਪ੍ਰਤੀ ਵਰਗ ਕਿਲੋਮੀਟਰ

What is the population density of India as per the census 2011?

- (A) 382 persons per sq kilometer
(B) 482 persons per sq kilometer
(C) 582 persons per sq kilometer
(D) 682 persons per sq kilometer

ਪ੍ਰਸ਼ਨ 122:- 'ਕਾਜ਼ੀਰੰਗਾ ਜੀਵ ਰਾਖਵਾਂ ਖੇਤਰ' ਕਿਹੜੇ ਰਾਜ ਵਿੱਚ ਸਥਿਤ ਹੈ?

- (ੳ) ਜੰਮੂ ਅਤੇ ਕਸ਼ਮੀਰ (ਅ) ਅਸਾਮ
(ੲ) ਹਰਿਆਣਾ (ਸ) ਕੇਰਲ

In which state the 'Kaziranga Sanctuary' is situated?

- (A) Jammu & Kashmir (B) Assam (C) Haryana (D) Kerala

ਪ੍ਰਸ਼ਨ 123:- ਕਿਹੜੀ ਨਦੀ ਨੂੰ ਪੱਛਮੀ ਬੰਗਾਲ ਦਾ 'ਸ਼ਰਾਪ' ਕਿਹਾ ਜਾਂਦਾ ਹੈ?

- (ੳ) ਨਰਮਦਾ ਨਦੀ (ਅ) ਤਾਪੀ ਨਦੀ
(ੲ) ਦਾਮੋਦਰ ਨਦੀ (ਸ) ਸਿੰਧ ਨਦੀ

Which river is called the "Sorrow" of West Bengal ?

- (A) Narmada river (B) Tapi river (C) Damodar river (D) Indus river

ਪ੍ਰਸ਼ਨ 124:- Our school will-----celebrate/celebrated its annual day next Friday. Choose the suitable verb in the given sentence.

ਪ੍ਰਸ਼ਨ 125:- What was the day on 15th August 1947 ?

- (A) Friday (B) Sunday (C) Saturday (D) Thursday

ਨੋਟ: ਉੱਤਰ ਅਗਲੇ ਦਿਨ ਦੀ ਸ਼ੀਟ ਵਿੱਚ ਭੇਜੇ ਜਾਣਗੇ, ਤਦ ਤੱਕ ਦਿਮਾਗੀ ਕਸਰਤ ਕਰੋ!

“ਜ਼ਿੰਦਗੀ ਵਿੱਚ ਹਰ ਰੋਜ਼ ਕੁੱਝ ਨਵਾਂ ਸਿੱਖਣ ਦੀ ਕੋਸ਼ਿਸ਼ ਕਰਨੀ ਚਾਹੀਦੀ ਹੈ”।



ਉਡਾਣ

ਨੌਵੀਂ ਤੋਂ ਦਸਵੀਂ ਜਮਾਤ ਦੇ ਵਿਦਿਆਰਥੀਆਂ ਲਈ

ਸ਼ੀਟ ਨੰ : 26

ਮਿਤੀ 03-07-2019

ਪ੍ਰਸ਼ਨ126:- 'ਸੁਰਿੰਦਰ ਤੋਂ ਤੁਰਿਆ ਨਹੀਂ ਜਾਂਦਾ । ਇਸ ਵਾਕ ਵਿੱਚ ਹੇਠ ਲਕੀਰੇ ਸ਼ਬਦਾਂ ਵਿੱਚ ਕਿਹੜਾ ਕਾਰਕ ਹੈ?

(ੳ) ਕਰਨ (ਅ) ਕਰਤਾ (ੲ) ਸੰਪਰਦਾਨ (ਸ) ਅਪਾਦਾਨ

ਪ੍ਰਸ਼ਨ127:- ਭਾਰਤ ਦੇ ਕਿਸ ਗੇਂਦਬਾਜ਼ ਨੇ 2019 ਦੇ ਵਿਸ਼ਵ ਕੱਪ ਵਿੱਚ ਅਫਗਾਨਿਸਤਾਨ ਦੇ ਖਿਲਾਫ ਮੈਚ ਵਿੱਚ ਹੈਟ੍ਰਿਕ ਬਣਾਈ ?

(ੳ) ਜਸਪ੍ਰੀਤ ਬਮਰਾਹ (ਅ) ਮੁਹੰਮਦ ਸ਼ਮੀ

(ੲ) ਹਾਰਦਿਕ ਪਾਂਡਿਆ (ਸ) ਕੁਲਦੀਪ ਯਾਦਵ

Who is the Indian bowler making a hat trick against Afghanistan in the World Cup 2019?

(A) Jaspreet Bumrah (B) Mohammed Shami

(C) Hardik Pandya (D) Virat Kohli

ਪ੍ਰਸ਼ਨ128:- -----(Mail merge / Data source) is a feature supported by word processor that is used to send the same letter to a large number of people. Choose the correct word.

ਪ੍ਰਸ਼ਨ129:- She -----(dyed /died) her hair dark brown. Choose the correct word.

ਪ੍ਰਸ਼ਨ130:- What was the day on 26th January, 1950 ?

(A) Friday (B) Thursday (C) Saturday (D) Monday

ਨੋਟ: ਉੱਤਰ ਅਗਲੇ ਦਿਨ ਦੀ ਸ਼ੀਟ ਵਿੱਚ ਭੇਜੇ ਜਾਣਗੇ, ਤਦ ਤੱਕ ਦਿਮਾਗੀ ਕਸਰਤ ਕਰੋ !

Answers of Sheet No.25

Ans 121. 382 ਵਿਅਕਤੀ ਪ੍ਰਤੀ ਵਰਗ ਕਿਲੋਮੀਟਰ (382 persons per sq. kilometer)

Ans 122. ਅਸਾਮ (Assam)

Ans 123. ਦਾਮੋਦਰ ਨਦੀ (Damodar river)

Ans 124. celebrate

Ans 125. Friday

“ਜ਼ਿੰਦਗੀ ਵਿੱਚ ਹਰ ਰੋਜ਼ ਕੁੱਝ ਨਵਾਂ ਸਿੱਖਣ ਦੀ ਕੋਸ਼ਿਸ਼ ਕਰਨੀ ਚਾਹੀਦੀ ਹੈ”।



ਉਡਾਣ

ਨੌਵੀਂ ਤੋਂ ਦਸਵੀਂ ਜਮਾਤ ਦੇ ਵਿਦਿਆਰਥੀਆਂ ਲਈ

ਸ਼ੀਟ ਨੰ : 27

ਮਿਤੀ 04-07-2019

ਪ੍ਰਸ਼ਨ 131:- ਹੇਠ ਲਿਖੇ ਸ਼ਬਦਾਂ ਵਿੱਚੋਂ ਭਾਵਵਾਚਕ ਨਾਂਵ ਚੁਣੋ।

(ੳ) ਅਮੀਰੀ (ਅ) ਕ੍ਰਿਸ਼ਣ (ੲ) ਮੁੰਡਾ (ਸ) ਸ਼ਹਿਦ

ਪ੍ਰਸ਼ਨ132:- ਸਚਿਨ ਤੇਂਦੁਲਕਰ ਨੇ ਭਾਰਤ ਲਈ ਕਦੇ ਇੱਕ ਵੀ ਅੰਤਰਰਾਸ਼ਟਰੀ ਟੀ-20 ਮੈਚ ਨਹੀਂ ਖੇਡਿਆ। ਇਹ ਕਥਨ ਸਹੀ ਹੈ ਜਾਂ ਗਲਤ?

Sachin Tendulkar has not played a single International T- 20 match for India. Is this statement right or wrong ?

ਪ੍ਰਸ਼ਨ133:- 'C' ਭਾਸ਼ਾ ਨੂੰ ਕਿਸਨੇ ਵਿਕਸਿਤ ਕੀਤਾ ?

(ੳ) ਥਾਮਸਨ (ਅ) ਡੇਨਿਸ ਰਿਚੀ (ੲ) ਲੀ ਅਰਬੀ (ਸ) ਜਾਨਸਨ ਹੇਰੀ

Who developed the 'C' Language ?

(A) Thomsan (B) Dennis Ritchie (C) Lee Arbe (D) Jonnsen Hary

ਪ੍ਰਸ਼ਨ134:- You can win the game.(Change Positive sentence into Negative sentence.

ਪ੍ਰਸ਼ਨ135:- ਭਾਰਤ ਦੇ ਕਿਸ ਪ੍ਰਾਂਤ ਵਿੱਚ ਜੂਨ 2019 ਵਿੱਚ ਦਿਮਾਗੀ ਬੁਖਾਰ ((ਚਮਕੀ) ਨਾਲ ਕਈ ਬੱਚਿਆਂ ਦੀ ਮੌਤ ਹੋ ਗਈ ?

(ੳ) ਹਰਿਆਣਾ (ਅ) ਮਿਜ਼ੋਰਮ (ੲ) ਬਿਹਾਰ (ਸ) ਕੇਰਲ

In which Indian state many children had died due to Encephalitis in June 2019 ?


(A) Haryana (B) Mizoram (C) Bihar (D) Kerala

ਨੋਟ: ਉੱਤਰ ਅਗਲੇ ਦਿਨ ਦੀ ਸ਼ੀਟ ਵਿੱਚ ਭੇਜੇ ਜਾਣਗੇ, ਤਦ ਤੱਕ ਦਿਮਾਗੀ ਕਸਰਤ ਕਰੋ!

Answers of Sheet No.26

- Ans 126. ਕਰਤਾ
Ans 127. ਮੁਹੰਮਦ ਸ਼ਾਮੀ
Ans 128. Mail merge
Ans 129. dyed
Ans 130. Thursday

“ਜ਼ਿੰਦਗੀ ਵਿੱਚ ਹਰ ਰੋਜ਼ ਕੁੱਝ ਨਵਾਂ ਸਿੱਖਣ ਦੀ ਕੋਸ਼ਿਸ਼ ਕਰਨੀ ਚਾਹੀਦੀ ਹੈ”।



ਉਡਾਣ

ਨੌਵੀਂ ਤੋਂ ਦਸਵੀਂ ਜਮਾਤ ਦੇ ਵਿਦਿਆਰਥੀਆਂ ਲਈ

ਸ਼ੀਟ ਨੰ : 28

ਮਿਤੀ 05-07-2019

ਪ੍ਰਸ਼ਨ 136:- ਹੇਠ ਲਿਖਿਆਂ ਵਿੱਚੋਂ ਕਿਹੜਾ ਰਸਾਇਣਿਕ ਪਰਿਵਰਤਨ ਹੈ?

- (ੳ) ਲੋਹੇ ਨੂੰ ਜੰਗ ਲੱਗਣਾ (ਅ) ਦਰੱਖਤਾਂ ਨੂੰ ਕੱਟਣਾ
(ੲ) ਬੋਤਲ ਦਾ ਟੁੱਟਣਾ (ਸ) ਮੋਮਬੱਤੀ ਦਾ ਪਿਘਲਣਾ

Which of the following is a chemical change?

- (a) rusting of iron (b) cutting of a tree (c) breaking of a bottle (d) melting of a candle

ਪ੍ਰਸ਼ਨ 137:- ਭਾਰਤ ਵਿੱਚ ਲੋਕ ਸਭਾ ਅਤੇ ਰਾਜ ਵਿਧਾਨ ਸਭਾਵਾਂ ਦੀਆਂ ਚੋਣਾਂ ਕਿਹੜੀ ਸੰਸਥਾ ਕਰਵਾਉਂਦੀ ਹੈ?

- (ੳ) ਰਾਸ਼ਟਰਪਤੀ (ਅ) ਪ੍ਰਧਾਨ ਮੰਤਰੀ (ੲ) ਭਾਰਤ ਦਾ ਚੋਣ ਕਮਿਸ਼ਨ (ਸ) ਗਵਰਨਰ

In India, Election for Parliament and State Legislatures is conducted by:

- (A) President (B) Prime Minister (C) Election Commission of India (D) Governor

ਪ੍ਰਸ਼ਨ 138:- ਕ੍ਰਿਕੇਟ ਖਿਡਾਰੀ ਯੁਵਰਾਜ ਸਿੰਘ ਨੇ ਕਿੰਨੇ ਮੈਚ ਖੇਡੇ ਹਨ?

- (ੳ) 300 ਮੈਚ (ਅ) 400 ਮੈਚ (ੲ) 500 ਮੈਚ (ਸ) 200 ਮੈਚ

How many matches have been played by the cricketer Mr. Yuvraj Singh?

- (a) 300 matches (b) 400 matches (c) 500 matches (d) 200 matches

ਪ੍ਰਸ਼ਨ 139:- 'The Discovery of India' ਨਾਂ ਦੀ ਕਿਤਾਬ ਦਾ ਲੇਖਕ ਕੌਣ ਹੈ?

- (ੳ) ਸ਼੍ਰੀਮਤੀ ਇੰਦਰਾ ਗਾਂਧੀ (ਅ) ਪੰਡਿਤ ਜਵਾਹਰ ਲਾਲ ਨਹਿਰੂ
(ੲ) ਸ਼੍ਰੀ ਮੋਤੀ ਲਾਲ ਨਹਿਰੂ (ਸ) ਸ਼੍ਰੀ ਲਾਲ ਬਹਾਦਰ ਸ਼ਾਸਤਰੀ

Who wrote the book 'The Discovery of India'.

- (a) Mrs Indira Gandhi (b) Pt. Jawahar Lal Nehru
(c) Sh. Moti Lal Nehru (d) Sh. Lal Bahadur Shastri

ਪ੍ਰਸ਼ਨ 140:- Correct the following sentence:

Sun rises in east.

ਨੋਟ: ਉੱਤਰ ਅਗਲੇ ਦਿਨ ਦੀ ਸ਼ੀਟ ਵਿੱਚ ਭੇਜੇ ਜਾਣਗੇ, ਤਦ ਤੱਕ ਦਿਮਾਗੀ ਕਸਰਤ ਕਰੋ!

Answers of Sheet No.27

- Ans 131. ਅਮੀਰੀ
Ans 132. ਗਲਤ (wrong)
Ans 133. ਡੇਨਿਸ ਰਿਚੀ (Dennis Ritchie)
Ans 134. You can not win the game.
Ans 135. ਬਿਹਾਰ (Bihar)

“ਜ਼ਿੰਦਗੀ ਵਿੱਚ ਹਰ ਰੋਜ਼ ਕੁੱਝ ਨਵਾਂ ਸਿੱਖਣ ਦੀ ਕੋਸ਼ਿਸ਼ ਕਰਨੀ ਚਾਹੀਦੀ ਹੈ”।



ਉਡਾਣ

ਨੌਵੀਂ ਤੋਂ ਦਸਵੀਂ ਜਮਾਤ ਦੇ ਵਿਦਿਆਰਥੀਆਂ ਲਈ

ਸ਼ੀਟ ਨੰ :29

ਮਿਤੀ 06-07-2019

ਪ੍ਰਸ਼ਨ141:- ਹਿਮਾਲਿਆ ਪਰਬਤ ਦੀ ਔਸਤ ਉਚਾਈ ਕਿੰਨੀ ਹੈ?

What is the average height of Himalayas?

(ੳ) 17050 ਫੁੱਟ/ Ft. (ਅ) 19030 ਫੁੱਟ/ Ft.

(ੲ) 16030 ਫੁੱਟ/ Ft. (ਸ) 29030 ਫੁੱਟ/ Ft.

ਪ੍ਰਸ਼ਨ142:- ਵਰਲਡ ਕੱਪ ਕ੍ਰਿਕੇਟ 2019 ਕਿੱਥੇ ਹੋ ਰਿਹਾ ਹੈ?

Where is the World Cup Cricket 2019 being held?

(ੳ) ਅਮਰੀਕਾ (Amrica) (ਅ) ਭਾਰਤ (India)

(ੲ) ਇੰਗਲੈਂਡ (England) (ਸ) ਚਾਈਨਾ (China)

ਪ੍ਰਸ਼ਨ143:- ਕਿਹੜਾ ਖਾਣਾ ਕੈਲਸ਼ੀਅਮ ਭਰਪੂਰ ਹੈ?

Which food is rich in calcium?

(ੳ) ਮੀਟ (meat) (ਅ) ਦੁੱਧ (milk) (ੲ) ਚਾਵਲ (rice) (ਸ) ਬਾਜਰਾ (millet)

ਪ੍ਰਸ਼ਨ144:- ਹੇਠ ਦਿੱਤੀ ਸੀਰੀਜ਼ ਪੂਰੀ ਕਰੋ:

Complete the following series:

2, 5, 11, 23, -----

(ੳ) 48 (ਅ) 47 (ੲ) 49 (ਸ) 44

ਪ੍ਰਸ਼ਨ145:- Complete the sentence:-

As you sow, so shall you.....

ਨੋਟ: ਉੱਤਰ ਅਗਲੇ ਦਿਨ ਦੀ ਸ਼ੀਟ ਵਿੱਚ ਭੇਜੇ ਜਾਣਗੇ, ਤਦ ਤੱਕ ਦਿਮਾਗੀ ਕਸਰਤ ਕਰੋ!

Answers of Sheet No.28

Ans 136. (ੳ) ਲੋਹੇ ਨੂੰ ਜੰਗ ਲੱਗਣਾ (a) rusting of iron


Ans 137. (ੲ) ਭਾਰਤ ਦਾ ਚੋਣ ਕਮਿਸ਼ਨ (C) Election Commission of India

Ans 138. (ਅ) 400 ਮੈਚ (b) 400 matches

Ans 139. (ਅ) ਪੰਡਿਤ ਜਵਾਹਰ ਲਾਲ ਨਹਿਰੂ (b) Pt. Jawahar Lal Nehru

Ans 140. The sun rises in the east.

“ਜਿੰਦਗੀ ਵਿੱਚ ਹਰ ਰੋਜ਼ ਕੁੱਝ ਨਵਾਂ ਸਿੱਖਣ ਦੀ ਕੋਸ਼ਿਸ਼ ਕਰਨੀ ਚਾਹੀਦੀ ਹੈ”।



ਉਡਾਣ

ਨੌਵੀਂ ਤੋਂ ਦਸਵੀਂ ਜਮਾਤ ਦੇ ਵਿਦਿਆਰਥੀਆਂ ਲਈ

ਸ਼ੀਟ ਨੰ : 30

ਮਿਤੀ 08-07-2019

ਪ੍ਰਸ਼ਨ146:- ਵਿਟਾਮਿਨ 'ਸੀ' ਦੀ ਕਮੀ ਕਾਰਨ ਕਿਹੜਾ ਰੋਗ ਹੁੰਦਾ ਹੈ?

Which disease is caused due to the deficiency of vitamin 'C'?

(ੳ) ਬੇਰੀ-ਬੇਰੀ (Beri-Beri) (ਅ) ਅੰਧਰਾਤਾ (Night blindness)

(ੲ) ਸਕਰਵੀ (Scurvy) (ਸ) ਰਿਕਟਸ (Rickets)

ਪ੍ਰਸ਼ਨ147:- ਭਾਰਤ ਦਾ 'ਰਾਸ਼ਟਰੀ ਗਾਣ' ਕਿਸ ਨੇ ਲਿਖਿਆ?

Who has written 'National Anthem' of India?

(ੳ) ਰਬਿੰਦਰ ਨਾਥ ਟੈਗੋਰ (Rabindra Nath Tagore)

(ਅ) ਬੈਕਿੰਮ ਚੰਦਰ ਚੈਟਰਜੀ (Bankim Chander Chatterjee)

(ੲ) ਵਿਲੀਅਮ ਬਲੇਕ (William Blake)

(ਸ) ਮਹਾਤਮਾ ਗਾਂਧੀ (Mahatma Gandhi)

ਪ੍ਰਸ਼ਨ148:- ਵਿਸਾਖੀ ਦਾ ਤਿਉਹਾਰ ਕਿਹੜੇ ਮਹੀਨੇ ਵਿੱਚ ਮਨਾਇਆ ਜਾਂਦਾ ਹੈ?

When do we celebrate the festival of Baisakhi?

(ੳ) ਅਪ੍ਰੈਲ (April) (ਅ) ਮਈ (May) (ੲ) ਜੂਨ (June) (ਸ) ਜੁਲਾਈ (July)

ਪ੍ਰਸ਼ਨ149:- Complete the following proverb:

Where there is a will, _____.

ਪ੍ਰਸ਼ਨ150:- $x^m \cdot x^n =$ _____

ਨੋਟ: ਉੱਤਰ ਅਗਲੇ ਦਿਨ ਦੀ ਸ਼ੀਟ ਵਿੱਚ ਭੇਜੇ ਜਾਣਗੇ, ਤਦ ਤੱਕ ਦਿਮਾਗੀ ਕਸਰਤ ਕਰੋ!

Answers of Sheet No.29

Ans 141. (ਸ) 29030 ਫੁੱਟ (29030 Ft.)


Ans 142. (ੲ) ਇੰਗਲੈਂਡ (England)

Ans 143. (ਅ) ਦੁੱਧ (milk)

Ans 144. (ਅ) 47

Ans 145. As you sow, so shall you reap.

“ਜਿੰਦਗੀ ਵਿੱਚ ਹਰ ਰੋਜ਼ ਕੁੱਝ ਨਵਾਂ ਸਿੱਖਣ ਦੀ ਕੋਸ਼ਿਸ਼ ਕਰਨੀ ਚਾਹੀਦੀ ਹੈ”।



ਉਡਾਣ

ਨੌਵੀਂ ਤੋਂ ਦਸਵੀਂ ਜਮਾਤ ਦੇ ਵਿਦਿਆਰਥੀਆਂ ਲਈ

ਸ਼ੀਟ ਨੰ :31

ਮਿਤੀ 09-07-2019

ਪ੍ਰਸ਼ਨ151:- ਤਿੰਨ ਅੰਕਾਂ ਦੀ ਵੱਡੀ ਤੋਂ ਵੱਡੀ ਸੰਖਿਆ ਦੱਸੋ।

Which of the following is the largest three digit number?

(ੳ) 999 (ਅ) 1000 (ੲ) 989 (ਸ) 101

ਪ੍ਰਸ਼ਨ152:- ਭਾਰਤ ਵਿੱਚ ਈਸਟ ਇੰਡੀਆ ਕੰਪਨੀ ਦੀ ਸਥਾਪਨਾ ਕਦੋਂ ਹੋਈ?

When was the East India company established in India?

(ੳ) 1948 ਈ. (ਅ) 1600 ਈ.(India)

(ੲ) 1919 ਈ. (ਸ) 1758 ਈ.

ਪ੍ਰਸ਼ਨ153:- Complete the formula:

$(a+b)^2 = \underline{\hspace{2cm}}$.

ਪ੍ਰਸ਼ਨ154:- ਕਿਸ ਵਿਗਿਆਨ ਰਾਹੀਂ ਤਾਰਿਆਂ ਦੀ ਪੜ੍ਹਾਈ ਕੀਤੀ ਜਾਂਦੀ ਹੈ?

Which science is used for the study of stars?

(ੳ) ਬਨਸਪਤੀ ਵਿਗਿਆਨ (Botany) (ਅ) ਖਗੋਲ ਵਿਗਿਆਨ (Astronomy)

(ੲ) ਜ਼ੂਲੋਜੀ (Zoology) (ਸ) ਅਰਥ ਸ਼ਾਸਤਰ(Economics)

ਪ੍ਰਸ਼ਨ155:- ਪੰਜਾਬ ਦਾ ਪ੍ਰਸਿੱਧ ਨਾਚ ਕਿਹੜਾ ਹੈ?

(ੳ) ਗਿੱਧਾ ਅਤੇ ਭੰਗੜਾ (ਅ) ਗਰਭਾ (ੲ) ਸਾਲਸਾ (ਸ) ਟੈਂਗੋ

ਨੋਟ: ਉੱਤਰ ਅਗਲੇ ਦਿਨ ਦੀ ਸ਼ੀਟ ਵਿੱਚ ਭੇਜੇ ਜਾਣਗੇ, ਤਦ ਤੱਕ ਦਿਮਾਗੀ ਕਸਰਤ ਕਰੋ!

Answers of Sheet No.30

Ans 146. (ੲ) ਸਕਰਵੀ (Scurvy)

Ans 147. (ੳ) ਰਬਿੰਦਰ ਨਾਥ ਟੈਗੋਰ (Rabindra Nath Tagore)

Ans 148. (ੳ) ਅਪ੍ਰੈਲ (April)

Ans 149. Where there is a will, there is a way.

Ans 150. x^{m+n}

“ਜ਼ਿੰਦਗੀ ਵਿੱਚ ਹਰ ਰੋਜ਼ ਕੁੱਝ ਨਵਾਂ ਸਿੱਖਣ ਦੀ ਕੋਸ਼ਿਸ਼ ਕਰਨੀ ਚਾਹੀਦੀ ਹੈ”।



ਉਡਾਣ

ਨੌਵੀਂ ਤੋਂ ਦਸਵੀਂ ਜਮਾਤ ਦੇ ਵਿਦਿਆਰਥੀਆਂ ਲਈ

ਸ਼ੀਟ ਨੰ : 32

ਮਿਤੀ 10-07-2019

ਪ੍ਰਸ਼ਨ156:- Pick out the Principal Clause in the given sentence:

She hopes that she will pass this year.

ਪ੍ਰਸ਼ਨ157:- The value of x° is _____.

(1) 1 (2) 0 (3) x (4) 10

ਪ੍ਰਸ਼ਨ158:- ਹਵਾ ਵਿੱਚ ਪ੍ਰਕਾਸ਼ ਦੀ ਗਤੀ _____ ਹੈ।

Speed of light in air is _____.

(1) 2.8×10^5 m/s (2) 3×10^8 m/s (3) 3.5×10^8 m/s (4) 5×10^5 m/s

ਪ੍ਰਸ਼ਨ159:- ਭਾਰਤੀ ਸੰਵਿਧਾਨ ਦਾ ਪਿਤਾ ਕਿਸ ਨੂੰ ਮੰਨਿਆ ਜਾਂਦਾ ਹੈ?

Who is known as the father of Indian Constitution?

(ੳ) ਡਾ. ਰਾਜਿੰਦਰ ਪ੍ਰਸਾਦ (Dr.Rajendra Parsad)

(ਅ) ਡਾ. ਮਨਮੋਹਨ ਸਿੰਘ (Dr.Manmohan Singh)

(ੲ) ਡਾ. ਬੀ.ਆਰ.ਅੰਬੇਦਕਰ (Dr.B.R.Ambedkar)

(ਸ) ਮਹਾਤਮਾ ਗਾਂਧੀ (Mahatma Gandhi)

ਪ੍ਰਸ਼ਨ160:- ਭਾਰਤ 'ਚ ਸਭ ਤੋਂ ਪਹਿਲਾ ਨੋਬਲ ਪੁਰਸਕਾਰ ਕਿਸ ਨੂੰ ਮਿਲਿਆ ਸੀ?

Who was the first Nobel Prize winner in India?

(ੳ) ਸੀ.ਵੀ.ਰਮਨ (C.V.Raman)

(ਅ) ਰਬਿੰਦਰ ਨਾਥ ਟੈਗੋਰ (Rabindranath Tagore)

(ੲ) ਅਮਰਿਤਿਆ ਸੇਨ (Amartya Sen)

(ਸ) ਏ.ਪੀ.ਜੇ.ਅਬਦੁੱਲ ਕਲਾਮ (A.P.J.Abdul Kalam)

ਨੋਟ: ਉੱਤਰ ਅਗਲੇ ਦਿਨ ਦੀ ਸ਼ੀਟ ਵਿੱਚ ਭੇਜੇ ਜਾਣਗੇ, ਤਦ ਤੱਕ ਦਿਮਾਗੀ ਕਸਰਤ ਕਰੋ!

Answers of Sheet No.31

Ans 151. (ੳ) 999

Ans 152. (ਅ) 1600 ਈ.(India)

Ans 153. $a^2+2ab+b^2$

Ans 154. (ਅ) ਖਗੋਲ ਵਿਗਿਆਨ (Astronomy)

Ans 155. (ੳ) ਗਿੱਧਾ ਅਤੇ ਭੰਗੜਾ

“ਜ਼ਿੰਦਗੀ ਵਿੱਚ ਹਰ ਰੋਜ਼ ਕੁੱਝ ਨਵਾਂ ਸਿੱਖਣ ਦੀ ਕੋਸ਼ਿਸ਼ ਕਰਨੀ ਚਾਹੀਦੀ ਹੈ”।



ਉਡਾਣ

ਨੌਵੀਂ ਤੋਂ ਦਸਵੀਂ ਜਮਾਤ ਦੇ ਵਿਦਿਆਰਥੀਆਂ ਲਈ

ਸ਼ੀਟ ਨੰ :33

ਮਿਤੀ 11-07-2019

ਪ੍ਰਸ਼ਨ161:- Mrs.Reena _____(teach) in this school since 2002.

(Use suitable form of verb)

ਪ੍ਰਸ਼ਨ162:- ਹੇਠਾਂ ਦਿੱਤੀ ਸੀਰੀਜ਼ ਪੂਰੀ ਕਰੋ: (Complete the following series:)

3, 6, 18, 72,..... ?

(ੳ) 144 (ਅ) 216 (ੲ) 288 (ਸ) 360

ਪ੍ਰਸ਼ਨ163:- ਹੇਠ ਲਿਖੇ ਵਾਕ ਵਿੱਚੋਂ ਨਾਂਵ ਸ਼ਬਦਾਂ ਦੇ ਲਿੰਗ ਬਦਲ ਕੇ ਲਿਖੋ:-
ਗੱਭਰੂ ਟੋਲੀਆਂ ਬਣਾ ਕੇ ਘੁੰਮਦੇ ਆਮ ਦਿਖਾਈ ਦਿੰਦੇ ਹਨ।

ਪ੍ਰਸ਼ਨ164:- ਸਾਇਮਨ ਕਮਿਸ਼ਨ ਕਦੋਂ ਭਾਰਤ ਆਇਆ?
When did Simon Commision arrive in India?

(ੳ) 1908 ਈ. (ਅ) 1928 ਈ. (ੲ) 1938 ਈ.

ਪ੍ਰਸ਼ਨ165 Translate into English:

ਗਰੀਬਾਂ ਦੀ ਸਹਾਇਤਾ ਜ਼ਰੂਰ ਕਰੋ।

ਨੋਟ: ਉੱਤਰ ਅਗਲੇ ਦਿਨ ਦੀ ਸ਼ੀਟ ਵਿੱਚ ਭੇਜੇ ਜਾਣਗੇ, ਤਦ ਤੱਕ ਦਿਮਾਗੀ ਕਸਰਤ ਕਰੋ!

Answers of Sheet No.32

Ans 156. She hopes


Ans 157. 1

Ans 158. 3×10^8 m/s

Ans 159. ਡਾ. ਬੀ.ਆਰ.ਅੰਬੇਦਕਰ (Dr.B.R.Ambedkar)

Ans 160. ਰਬਿੰਦਰ ਨਾਥ ਟੈਗੋਰ (Rabindranath Tagore)

“ਜ਼ਿੰਦਗੀ ਵਿੱਚ ਹਰ ਰੋਜ਼ ਕੁੱਝ ਨਵਾਂ ਸਿੱਖਣ ਦੀ ਕੋਸ਼ਿਸ਼ ਕਰਨੀ ਚਾਹੀਦੀ ਹੈ”।



ਉਡਾਣ

ਨੌਵੀਂ ਤੋਂ ਦਸਵੀਂ ਜਮਾਤ ਦੇ ਵਿਦਿਆਰਥੀਆਂ ਲਈ

ਸ਼ੀਟ ਨੰ :34

ਮਿਤੀ 12-07-2019

Fill in the blank with a passive form:-

ਪ੍ਰਸ਼ਨ 166:- The patient is getting worse ; let the doctor _____. (call)

ਪ੍ਰਸ਼ਨ 167:- ਸਾਲ 2019 ਦੌਰਾਨ ਖੇਡ ਵਿਭਾਗ ਵਲੋਂ ਕਿੰਨੇ ਖਿਡਾਰੀਆਂ ਨੂੰ ਨਗਦ ਅਵਾਰਡ ਦੇ ਕੇ ਸਨਮਾਨਿਤ ਕੀਤਾ ਗਿਆ?

How many players were rewarded with cash prize during the year 2019 by sports department?

(a) 95 (b) 100 (c) 101 (d) 105

ਪ੍ਰਸ਼ਨ 168:- ਗੁਰਮੁੱਖੀ ਲਿਪੀ ਦੀਆਂ ਕਿੰਨੀਆਂ ਲਗਾਂ ਹੁੰਦੀਆਂ ਹਨ।

(ੳ) 5 (ਅ) 6 (ੲ) 10 (ਸ) 7

ਪ੍ਰਸ਼ਨ 169:- ਅੰਮ੍ਰਿਤਸਰ ਦੀ ਲੜਾਈ _____ ਈ. ਵਿੱਚ ਹੋਈ ਸੀ।

The battle of Amritsar was fought in _____.

(a) 1504 (b) 1634 (c) 1528 (d) 1643

ਪ੍ਰਸ਼ਨ 170:- Write the full form of UPSC.

ਨੋਟ: ਉੱਤਰ ਅਗਲੇ ਦਿਨ ਦੀ ਸ਼ੀਟ ਵਿੱਚ ਭੇਜੇ ਜਾਣਗੇ, ਤਦ ਤੱਕ ਦਿਮਾਗੀ ਕਸਰਤ ਕਰੋ!

Answers of Sheet No.33

Ans 161. has been teaching

Ans 162. 360

Ans 163. ਮੁਟਿਆਰਾਂ ਟੋਲੀਆਂ ਬਣਾ ਕੇ ਘੁੰਮਦੀਆਂ ਆਮ ਦਿਖਾਈ ਦਿੰਦੀਆਂ ਹਨ।

Ans 164. (ਅ) 1928 ਈ.

Ans 165. Do help the poor.

“ਜ਼ਿੰਦਗੀ ਵਿੱਚ ਹਰ ਰੋਜ਼ ਕੁੱਝ ਨਵਾਂ ਸਿੱਖਣ ਦੀ ਕੋਸ਼ਿਸ਼ ਕਰਨੀ ਚਾਹੀਦੀ ਹੈ”।



ਉਡਾਣ

ਨੌਵੀਂ ਤੋਂ ਦਸਵੀਂ ਜਮਾਤ ਦੇ ਵਿਦਿਆਰਥੀਆਂ ਲਈ

ਸ਼ੀਟ ਨੰ : 35

ਮਿਤੀ 15-07-2019

ਪ੍ਰਸ਼ਨ 171:- ਸਭ ਤੋਂ ਵੱਡਾ ਮਹਾਂਦੀਪ ਕਿਹੜਾ ਹੈ?

Which is the largest continent?

- (a) ਆਸਟ੍ਰੇਲੀਆ (Australia) (b) ਯੂਰਪ (Europe)
(c) ਏਸ਼ੀਆ (Asia) (d) ਅਫਰੀਕਾ (Africa)

ਪ੍ਰਸ਼ਨ 172:- Form Adverbs from the given Adjectives:

- (a) Careful (b) Urgent

ਪ੍ਰਸ਼ਨ 173:- Write the full form of IPS.

ਪ੍ਰਸ਼ਨ 174:- ਆਧੁਨਿਕ ਆਵਰਤੀ ਸਾਰਣੀ ਵਿੱਚ ਕਿੰਨੇ ਗਰੁੱਪ ਹੁੰਦੇ ਹਨ?

How many groups are there in Modern Periodic Table?

- (a) 18 (b) 7 (c) 15 (d) 8

ਪ੍ਰਸ਼ਨ 175:- ਇਸ ਮੁਹਾਵਰੇ ਦਾ ਅਰਥ ਦੱਸੋ।

'ਉੱਚਾ ਸਾਹ ਨਾ ਕੱਢਣਾ'-

ਨੋਟ: ਉੱਤਰ ਅਗਲੇ ਦਿਨ ਦੀ ਸ਼ੀਟ ਵਿੱਚ ਭੇਜੇ ਜਾਣਗੇ, ਤਦ ਤੱਕ ਦਿਮਾਗੀ ਕਸਰਤ ਕਰੋ!

Answers of Sheet No.34

Ans 166. be called

Ans 167. 101

Ans 168. 10

Ans 169. 1634

Ans 170. Union Public Service Commission

“ਜ਼ਿੰਦਗੀ ਵਿੱਚ ਹਰ ਰੋਜ਼ ਕੁੱਝ ਨਵਾਂ ਸਿੱਖਣ ਦੀ ਕੋਸ਼ਿਸ਼ ਕਰਨੀ ਚਾਹੀਦੀ ਹੈ”।



ਉਡਾਣ

ਨੌਵੀਂ ਤੋਂ ਦਸਵੀਂ ਜਮਾਤ ਦੇ ਵਿਦਿਆਰਥੀਆਂ ਲਈ

ਸ਼ੀਟ ਨੰ :36

ਮਿਤੀ 16-07-2019

ਪ੍ਰਸ਼ਨ 176:- ਭਾਰਤ ਦੇ ਗ੍ਰਹਿ ਮੰਤਰੀ ਕੌਣ ਹਨ?

Who is the Home Minister of India?

- (a) ਅਰੁਣ ਜੇਤਲੀ (Arun Jaitley) (b) ਰਾਜਨਾਥ ਸਿੰਘ (Rajnath Singh)
(c) ਸੁਮਿੱਤਰਾ ਮਹਾਜਨ (Sumitra Mahajan) (d) ਅਮਿਤ ਸ਼ਾਹ (Amit Shah)

ਪ੍ਰਸ਼ਨ 177:- _____ ਸਭ ਤੋਂ ਛੋਟਾ ਮਹਾਂਦੀਪ ਹੈ।

_____ is the smallest Continent.

- (a) ਏਸ਼ੀਆ (Asia) (b) ਆਸਟ੍ਰੇਲੀਆ (Australia)
(c) ਯੂਰਪ (Europe) (d) ਉੱਤਰੀ ਅਮਰੀਕਾ (North America)

ਪ੍ਰਸ਼ਨ 178:- Write the full form of DGP.

- (a) Director General of police (b) Deputy General of Police
(c) Deputy Government of Police (d) Director Government of Police

ਪ੍ਰਸ਼ਨ 179:- ਵਾਲੀਬਾਲ ਦੀ ਟੀਮ ਵਿੱਚ ਕੁੱਲ ਕਿੰਨੇ ਖਿਡਾਰੀ ਹੁੰਦੇ ਹਨ?

How many players are there in a Volleyball team?

- (a) 9 (b) 11 (c) 12 (d) 10

ਪ੍ਰਸ਼ਨ 180:- 'ਮੂਲ ਨਾਲੋਂ ਵਿਆਜ ਵੱਧ' ਦੇ ਅਧਾਰ ਤੇ ਅਖਾਣ ਚੁਣੋ।

- (1) ਪੌਲਾ ਝਾਟਾ, ਖਰਾਬ ਆਟਾ (2) ਦਾੜੀ ਨਾਲੋਂ ਮੁੱਛਾਂ ਵੱਡੀਆਂ
(3) ਢੋਲ ਦੇ ਅੰਦਰ ਪੋਲ (4) ਬੋਥਾ ਚਨਾ ਬਾਜੇ ਘਨਾ

ਨੋਟ: ਉੱਤਰ ਅਗਲੇ ਦਿਨ ਦੀ ਸ਼ੀਟ ਵਿੱਚ ਭੇਜੇ ਜਾਣਗੇ, ਤਦ ਤੱਕ ਦਿਮਾਗੀ ਕਸਰਤ ਕਰੋ!

Answers of Sheet No.35

Ans 171. (c) ਏਸ਼ੀਆ (Asia)

Ans 172. a) Carefully (b) Urgently

Ans 173. Indian Police Service

Ans 174. (a) 18

Ans 175. ਡਰ ਕੇ ਰਹਿਣਾ।

“ਵੱਧ ਤੋਂ ਵੱਧ ਰੁੱਖ ਲਗਾਓ, ਵਾਤਾਵਰਣ ਬਚਾਓ”।



ਉਡਾਣ



ਸ਼ੀਟ ਨੰ:37

ਨੌਵੀਂ ਅਤੇ ਦਸਵੀਂ ਜਮਾਤ ਦੇ ਵਿਦਿਆਰਥੀਆਂ ਲਈ
(Revised sheet)

ਮਿਤੀ 17-07-2019

ਪ੍ਰਸ਼ਨ181 ਜੇਕਰ $X - 12Y = 0$ ਹੈ, ਤਾਂ ਫਿਰ y/x ਦਾ ਮੁੱਲ ਹੋਵੇਗਾ _____।

If $X - 12Y = 0$, then the value of y/x is _____.

(a) $1/6$ (b) 12 (c) $1/12$ (d) 6

ਪ੍ਰਸ਼ਨ182 ਜੇਕਰ $y^2 + 4 = 20$ ਹੈ, ਤਾਂ ਫਿਰ Y ਦਾ ਮੁੱਲ ਹੋਵੇਗਾ _____।

If $y^2 + 4 = 20$, then the value of Y is _____.

(a) 4 only (b) -4 only (c) 4 and -4 (d) 16

ਪ੍ਰਸ਼ਨ183 ਮੁਰਗੀ ਦੇ ਅੰਡੇ ਵਿਚ ਕਿੰਨੇ ਕਾਰਬੋਹਾਈਡਰੇਟ ਮੌਜੂਦ ਹੁੰਦੇ ਹਨ।

How many grams of Carbohydrates are there in a hen's egg?

(a) 0.61 gram (b) 0.5 gram (c) 1.3gram (d) 2.5gram

ਪ੍ਰਸ਼ਨ 184 Change the Gender: Camel _____

(a) Cow (b) Camelite (c) Camel (d) Mare

ਪ੍ਰਸ਼ਨ 185 ਪੰਜਾਬ ਦਾ ਪਹਿਲਾ ਗਵਰਨਰ ਕੌਣ ਸੀ।

Who was the first Governor of Punjab?

(a) ਸ਼੍ਰੀ ਕਪੂਰ ਸਿੰਘ (Sri Kapoor Singh) (b) ਸ਼੍ਰੀ ਹਰਬੰਸ ਸਿੰਘ (Sri Harbans Singh)

(c) ਸ਼੍ਰੀ ਚੰਦੂਲਾਲ ਮਾਧਵਲਾਲ ਤ੍ਰਿਵੇਦੀ Sri Chandulal Madhavlal Trivedi

(d) ਸ਼੍ਰੀ ਧਰਮਵੀਰ (Sri Dharamveer)

ਨੋਟ: ਉੱਤਰ ਅਗਲੇ ਦਿਨ ਦੀ ਸ਼ੀਟ ਵਿੱਚ ਭੇਜੇ ਜਾਣਗੇ, ਤਦ ਤੱਕ ਦਿਮਾਗੀ ਕਸਰਤ ਕਰੋ!

Answers of Sheet No.36

Ans 176. (d) ਅਮਿਤ ਸ਼ਾਹ (Amit Shah)

Ans 177. (b) ਆਸਟ੍ਰੇਲੀਆ (Australia)

Ans 178. (a) Director General of police

Ans 179. (c) 12

Ans 180. (2) ਦਾੜੀ ਨਾਲੋਂ ਮੁੱਛਾਂ ਵੱਡੀਆਂ

“ਵੱਧ ਤੋਂ ਵੱਧ ਰੁੱਖ ਲਗਾਓ, ਵਾਤਾਵਰਣ ਬਚਾਓ”।



ਉਡਾਣ

ਨੌਵੀਂ ਤੋਂ ਦਸਵੀਂ ਜਮਾਤ ਦੇ ਵਿਦਿਆਰਥੀਆਂ ਲਈ

ਸ਼ੀਟ ਨੰ :38

ਮਿਤੀ 18-07-2019

ਪ੍ਰਸ਼ਨ186:-ਪ੍ਰਸਿੱਧ ਅਥਲੀਟ ਮਿਲਖਾ ਸਿੰਘ,(ਉਡਾਣ ਸਿੱਖ) _____ਮੀਟਰ ਦੀ ਦੌੜ ਲਈ ਜਾਣਿਆ ਜਾਂਦਾ ਹੈ।

The famous athlete Milkha Singh, (Flying Sikh) is known for his race of _____ m.

- (a) 100 (b) 400 (c) 800 (d) 500

ਪ੍ਰਸ਼ਨ187:- _____ਸੰਸਾਰ ਦਾ ਸਭ ਤੋਂ ਵੱਡਾ ਝਰਨਾ ਹੈ।

_____ is the largest waterfall in the world.

- (a) ਏਂਜਲ (Angel) (b) ਜੋਰਾਂਡਾ (Joranda)
(c) ਚਿੱਤਰਕੋਟ (Chitrakote) (d) ਵਿਕਟੋਰੀਆ (Victoria)

ਪ੍ਰਸ਼ਨ 188:- ਪੰਜਾਬੀ ਵਿਆਕਰਨ ਵਿੱਚ ਵਿਸ਼ੇਸ਼ਣ ਕਿੰਨੀ ਤਰ੍ਹਾਂ ਦੇ ਹੁੰਦੇ ਹਨ?
(ੳ) 3 (ਅ) 4 (ੲ) 5 (ਸ) 6

ਪ੍ਰਸ਼ਨ 189:- ਵਿਸ਼ਵ ਕੱਪ ਕ੍ਰਿਕੇਟ(2019)_____ਵਿਖੇ ਖੇਡਿਆ ਗਿਆ।

The Cricket World Cup (2019) was played in _____.

- (a) ਭਾਰਤ(India) (b) ਅਫਰੀਕਾ (Africa)
(c) ਇੰਗਲੈਂਡ(England) (d) ਫਰਾਂਸ(France)

ਪ੍ਰਸ਼ਨ 190:- ਸੀਰੀਜ਼ ਪੂਰੀ ਕਰੋ: (Complete the Series)

14, _____,42, _____,70, _____.

- (a) 15, 43, 71 (b) 13, 41, 69
(c) 28, 56, 84 (d) 14, 42, 70

ਨੋਟ: ਉੱਤਰ ਅਗਲੇ ਦਿਨ ਦੀ ਸ਼ੀਟ ਵਿੱਚ ਭੇਜੇ ਜਾਣਗੇ,ਤਦ ਤੱਕ ਦਿਮਾਗੀ ਕਸਰਤ ਕਰੋ!

Answers of Sheet No.37

- Ans 181. (c) 1/12
Ans 182. (c) 4 and -4
Ans 183. (a) 0.61 gram
Ans 184. (a) Cow
Ans 185. (c) ਸ਼੍ਰੀ ਚੰਦੂਲਾਲ ਮਾਧਵਲਾਲ ਤ੍ਰਿਵੇਦੀ (Sri Chandulal Madhavlal Trivedi)

“ਵੱਧ ਤੋਂ ਵੱਧ ਰੁੱਖ ਲਗਾਓ, ਵਾਤਾਵਰਣ ਬਚਾਓ”।



ਉਡਾਣ

ਨੌਵੀਂ ਤੋਂ ਦਸਵੀਂ ਜਮਾਤ ਦੇ ਵਿਦਿਆਰਥੀਆਂ ਲਈ

ਸ਼ੀਟ ਨੰ : 39

ਮਿਤੀ 19-07-2019

ਪ੍ਰਸ਼ਨ 191:- Change the following sentence into negative sentence:

I helped my friend.

ਪ੍ਰਸ਼ਨ 192:- (16)^{3/4} ਬਰਾਬਰ ਹੈ _____।

(16)^{3/4} is equal to _____.

(a) (16)^{3/4} (b) 4 (c) 8 (d) 16

ਪ੍ਰਸ਼ਨ 193:- ਜਦੋਂ ਇਹ ਦੱਸਣਾ ਹੋਵੇ ਕਿ ਆਪਣੇ ਹੱਥੀ ਕੀਤੇ ਕੰਮ ਵਰਗੀ ਰੀਸ ਨਹੀਂ ਹੁੰਦੀ ਤਾਂ ਕਿਹੜੀ ਅਖਾਣ ਵਰਤੀ ਜਾਂਦੀ ਹੈ?

(ੳ) ਉਹ ਕਿਹੜੀ ਗਲੀ ਜਿੱਥੇ ਭਾਗੋ ਨਾ ਖਲੀ।

(ਅ) ਆਪ ਕਾਜ ਮਹਾਂ ਕਾਜ।

(ੲ) ਮਨ ਜੀਤੇ ਜਗ ਜੀਤ।

(ਸ) ਉਹ ਕੀ ਜਾਣੇ ਪੀਰ ਪਰਾਈ, ਜਿਸ ਦੇ ਅੰਦਰ ਦਰਦ ਨਾ ਭਾਈ।

ਪ੍ਰਸ਼ਨ 194:- ਬੰਗਲਾ ਦੇਸ਼ ਇੱਕ ਅਲੱਗ ਦੇਸ਼ ਕਦੋਂ ਬਣਿਆ?

In which year Bangladesh was formed as a separate Country?

(a) 1971 (b) 1991 (c) 1989 (d) 1972

ਪ੍ਰਸ਼ਨ 195:- Translate into English:

ਹੁਣ ਚਾਹ ਪੀਣ ਦਾ ਸਮਾਂ ਹੈ।

ਨੋਟ: ਉੱਤਰ ਅਗਲੇ ਦਿਨ ਦੀ ਸ਼ੀਟ ਵਿੱਚ ਭੇਜੇ ਜਾਣਗੇ, ਤਦ ਤੱਕ ਦਿਮਾਗੀ ਕਸਰਤ ਕਰੋ!

Answers of Sheet No.38

- Ans 186. (b) 400
Ans 187. (d) ਵਿਕਟੋਰੀਆ (Victoria)
Ans 188. (ੲ) 5
Ans 189. (c) ਇੰਗਲੈਂਡ (England)
Ans 190. (c) 28, 56, 84

“ਵੱਧ ਤੋਂ ਵੱਧ ਰੁੱਖ ਲਗਾਓ, ਵਾਤਾਵਰਣ ਬਚਾਓ”।



ਉਡਾਣ

ਨੌਵੀਂ ਤੋਂ ਦਸਵੀਂ ਜਮਾਤ ਦੇ ਵਿਦਿਆਰਥੀਆਂ ਲਈ

ਸ਼ੀਟ ਨੰ : 40

ਮਿਤੀ 20 - 07 - 2019

- ਪ੍ਰਸ਼ਨ 196. ਹਾਕੀ ਦੀ ਖੇਡ ਵਿੱਚ ਗੇਂਦ ਦਾ ਔਸਤ ਭਾਰ _____ ਹੁੰਦਾ ਹੈ?
(ੳ) 4.5 ਆਂਊਂਸ (ਅ) 5.5 ਆਂਊਂਸ (ੲ) 6.5 ਆਂਊਂਸ (ਸ) 7.5 ਆਂਊਂਸ
_____ is the average weight of hockey ball.
(a) 4.5 Ounces (b) 5.5 Ounces (c) 6.5 Ounces (d) 7.5 Ounces
- ਪ੍ਰਸ਼ਨ 197. ਹੇਠ ਲਿਖਿਆਂ ਵਿੱਚੋਂ ਕਿਹੜਾ ਗੁਣਵਾਚਕ ਵਿਸ਼ੇਸ਼ਣ ਨਹੀਂ ਹੈ ?
(ੳ) ਪਤਲੀ (ਅ) ਸੱਤਵਾਂ (ੲ) ਚਲਾਕ (ਸ) ਸੁੰਦਰ
- ਪ੍ਰਸ਼ਨ 198. ਨਿਮਨਲਿਖਤ ਰਸਾਇਣਿਕ ਸਮੀਕਰਣ ਨੂੰ ਪੂਰਾ ਕਰੋ:
(Complete the following chemical equation:)
 $Mg_{(s)} + CuO_{(s)} \rightarrow \text{_____} + \text{_____}$
(ੳ) $MgO_{(s)} + Cu_{(s)}$ (ਅ) $Mg_{(s)} + CuO_{(s)}$ (ੲ) $Mg_{(s)} + Cu_{(s)} + O_2_{(g)}$
(ਸ) None of these
- ਪ੍ਰਸ਼ਨ 199. Punctuate the following :
may god bless you with all the joys of life
- ਪ੍ਰਸ਼ਨ 200. 'ਪਿਟਸ ਇੰਡੀਆ ਐਕਟ' _____ ਸੰਨ ਵਿੱਚ ਪਾਸ ਹੋਇਆ।
The 'Pitts India Act' passed in _____.
(a) 1770 (b) 1773 (c) 1784 (d) 1788

ਨੋਟ: ਉੱਤਰ ਅਗਲੇ ਦਿਨ ਦੀ ਸ਼ੀਟ ਵਿੱਚ ਭੇਜੇ ਜਾਣਗੇ, ਤਦ ਤੱਕ ਦਿਮਾਗੀ ਕਸਰਤ ਕਰੋ!

Answers of Sheet No.39

Ans 191. I did not help my friend.

Ans 192. (c) 8

Ans 193. (ਅ) ਆਪ ਕਾਜ ਮਹਾਂ ਕਾਜ।

Ans 194. (a) 1971

Ans 195. It is time to take tea.

“ਵੱਧ ਤੋਂ ਵੱਧ ਰੁੱਖ ਲਗਾਓ, ਵਾਤਾਵਰਣ ਬਚਾਓ”।



ਉਡਾਣ

ਨੌਵੀਂ ਅਤੇ ਦਸਵੀਂ ਜਮਾਤ ਦੇ ਵਿਦਿਆਰਥੀਆਂ ਲਈ

ਸ਼ੀਟ ਨੰ :41

ਮਿਤੀ 22 -07-2019

- ਪ੍ਰਸ਼ਨ201. ਹੇਠ ਲਿਖਿਆਂ ਵਿੱਚੋਂ ਕਿਹੜੀ ਭਾਸ਼ਾ ਭਾਰਤੀ ਸੰਵਿਧਾਨ ਦੁਆਰਾ ਪ੍ਰਵਾਣਿਤ ਨਹੀਂ ਹੈ?
Which one of the following is not a recognised language in Indian constitution ?
(a) Bodo (ਬੋਡੋ) (b) Punjabi (ਪੰਜਾਬੀ)
(c) English (ਅੰਗਰੇਜ਼ੀ) (d) Urdu (ਉਰਦੂ)
- ਪ੍ਰਸ਼ਨ202. $\sqrt{5}$ ਇੱਕ ਅਪਰਿਮੇਯ ਸੰਖਿਆ ਹੈ। (ਸਹੀ / ਗਲਤ)
 $\sqrt{5}$ is an irrational number. (True / False)
- ਪ੍ਰਸ਼ਨ203. ਤਿੰਨ ਘਾਤੀ ਬਹੁਪਦ ਦੇ ਵੱਧ ਤੋਂ ਵੱਧ _____ ਸਿਫਰ ਹੁੰਦੇ ਹਨ।
Maximum number of zeros of cubic polynomial is _____.
(a) 1 (b) 2 (c) 3 (d) 4
- ਪ੍ਰਸ਼ਨ204. ਸ਼ਾਹ ਹੁਸੈਨ ਕਿਸ ਕਾਵਿ-ਧਾਰਾ ਨਾਲ ਸੰਬੰਧਿਤ ਹੈ ?
(ੳ) ਕਿੱਸਾ ਕਾਵਿ (ਅ) ਗੁਰਮਤਿ ਕਾਵਿ
(ੲ) ਸੂਫੀ ਕਾਵਿ (ਸ) ਬੀਰ ਕਾਵਿ
- ਪ੍ਰਸ਼ਨ205. ਹੇਠ ਲਿਖਿਆਂ ਵਿੱਚੋਂ ਕਿਹੜਾ ਅਵਿਘਟਨਸ਼ੀਲ ਹੈ ?
Which of the following is non-biodegradable?
(a) Egg Shell (ਅੰਡਾ ਸ਼ੈਲ) (b) Butter (ਮੱਖਣ)
(c) Detergent (ਡਿਟਰਜੈਂਟ) (d) Leather (ਚਮੜਾ)

ਨੋਟ: ਉੱਤਰ ਅਗਲੇ ਦਿਨ ਦੀ ਸ਼ੀਟ ਵਿੱਚ ਭੇਜੇ ਜਾਣਗੇ, ਤਦ ਤੱਕ ਦਿਮਾਗੀ ਕਸਰਤ ਕਰੋ!

Answers of Sheet No.40

Ans 196. (ਅ) 5.5 ਆਂਊਂਸ

Ans 197. (ਅ) ਸੱਤਵਾਂ

Ans 198. (ੳ) $MgO_{(s)}+Cu_{(s)}$

Ans 199. May God bless you with all the joys of life.

Ans 200. (c) 1784

“ਵੱਧ ਤੋਂ ਵੱਧ ਰੁੱਖ ਲਗਾਓ, ਵਾਤਾਵਰਣ ਬਚਾਓ”।



ਉਡਾਣ

ਨੌਵੀਂ ਤੋਂ ਦਸਵੀਂ ਜਮਾਤ ਦੇ ਵਿਦਿਆਰਥੀਆਂ ਲਈ

ਸ਼ੀਟ ਨੰ :42

ਮਿਤੀ 23-07-2019

ਪ੍ਰਸ਼ਨ206. Choose the right one:

(a) Comunicate (b)Cummunicate (c)Communicat (d)Communicate

ਪ੍ਰਸ਼ਨ207. 'ਲਿਖਤੀ ਭਾਸ਼ਾ' ਕਦੇ ਹੋਂਦ ਵਿੱਚ ਆਉਂਦੀ ਹੈ ?

(ੳ) ਮੌਖਿਕ ਭਾਸ਼ਾ ਤੋਂ ਬਾਅਦ

(ਅ) ਮੌਖਿਕ ਭਾਸ਼ਾ ਤੋਂ ਪਹਿਲਾਂ

(ੲ) ਮੌਖਿਕ ਭਾਸ਼ਾ ਦੇ ਨਾਲ

(ਸ) ਮੌਖਿਕ ਭਾਸ਼ਾ ਨਾਲ ਕੋਈ ਸੰਬੰਧ ਨਹੀਂ

ਪ੍ਰਸ਼ਨ208. -10-(-6) ਦੇ ਬਰਾਬਰ ਕੀ ਹੈ?

What is -10-(-6) equal to?

(a) $(16)^2$

(b) $(-16)^2$

(c)-4

(d)4

ਪ੍ਰਸ਼ਨ209. ਕੀ ਹੋਵੇਗਾ ਜੇ ਬਾਲਗ ਮਨੁੱਖੀ ਸਰੀਰ ਵਿੱਚੋਂ ਤਿੱਲੀ ਹਟਾ ਦਿੱਤੀ ਜਾਵੇ ?

What will happen to the body of an adult human being if spleen is removed?

(a)ਲਾਲ ਲਹੂ ਕੋਸ਼ਿਕਾਵਾਂ ਬਣਨੀਆਂ ਘਟ ਜਾਣਗੀਆਂ(RBCs production will be reduced).

(b)ਐਂਟੀਬੌਡੀਜ਼ ਦਾ ਬਣਨਾ ਘਟ ਜਾਵੇਗਾ(Antibodies production will be less).

(c)ਸਫੈਦ ਲਹੂ ਕੋਸ਼ਿਕਾਵਾਂ ਬਣਨੀਆਂ ਘਟ ਜਾਣਗੀਆਂ(WBCs production will be lowered).

(d)ਮ੍ਰਿਤਕ ਲਾਲ ਲਹੂ ਕੋਸ਼ਿਕਾਵਾਂ ਦਾ ਫਿਲਟਰ ਹੋਣਾ ਸੰਭਵ ਨਹੀਂ ਹੋਵੇਗਾ

(Filtration of dead RBCs will not be possible).

ਪ੍ਰਸ਼ਨ210. ਭਾਰਤ ਦੇ ਪੂਰਬੀ ਭਾਗ ਵਿੱਚ ਮਿਆਂਮਾਰ ਨਾਲ ਲੱਗਦੀਆਂ ਪਰਬਤ ਲੜੀਆਂ/ਮਾਲਾਵਾਂ ਨੂੰ ਸਮੂਹਿਕ ਰੂਪ ਵਿੱਚ ਕਿਸ ਨਾਂ ਨਾਲ ਜਾਣਿਆ ਜਾਂਦਾ ਹੈ ?

Mountain ranges in the eastern part of India forming its boundary with Myanmar are collectively called as:

(a)ਹਿਮਾਚਲ(Himachal)

(b)ਪੂਰਵਾਂਚਲ(Purvanchal)

(c)ਉਤਰਾਂਚਲ(Uttaranchal)

(d)ਉਪਰੋਕਤ ਵਿੱਚੋਂ ਕੋਈ ਨਹੀਂ(None of these)

ਨੋਟ: ਉੱਤਰ ਅਗਲੇ ਦਿਨ ਦੀ ਸ਼ੀਟ ਵਿੱਚ ਭੇਜੇ ਜਾਣਗੇ, ਤਦ ਤੱਕ ਦਿਮਾਗੀ ਕਸਰਤ ਕਰੋ!

Answers of Sheet No.41

Ans 201. (c)English

Ans202. True

Ans203 (c) 3

Ans204 ਸੁਫੀ ਕਾਵਿ

Ans 205 Detergent

“ਵੱਧ ਤੋਂ ਵੱਧ ਰੁੱਖ ਲਗਾਓ, ਵਾਤਾਵਰਣ ਬਚਾਓ”।



ਉਡਾਣ

ਨੌਵੀਂ ਤੋਂ ਦਸਵੀਂ ਜਮਾਤ ਦੇ ਵਿਦਿਆਰਥੀਆਂ ਲਈ

ਸ਼ੀਟ ਨੰ :43

ਮਿਤੀ 24-07-2019

- ਪ੍ਰਸ਼ਨ211. The recently launched 'Indian Moon Mission' is named as _____ .
(a) Chandrayaan (b) Chandrayaan 2 (c) Chandrayaan 3 (d) Chandrayaan 4
- ਪ੍ਰਸ਼ਨ212. Choose the correct one:
Take a deep _____ .
(a) Breath (b) Breathe (c) Brathe (d) Brethe
- ਪ੍ਰਸ਼ਨ213. 'ਸਿਹਾਰੀ' ਅਤੇ 'ਬਿਹਾਰੀ' ਲਗਾ ਕੇ ਕਿਹੜੇ ਸੂਰ ਨਾਲ ਲੱਗਦੇ ਹਨ?
(ੳ) 'ਅ' ਨਾਲ (ਅ) 'ੲ' ਨਾਲ (ੲ) 'ੳ' ਨਾਲ (ਸ) ਕਿਸੇ ਨਾਲ ਨਹੀਂ
- ਪ੍ਰਸ਼ਨ214. ਓਜ਼ੋਨ ਦੇ ਇੱਕ ਅਣੂ ਵਿੱਚ ਆਕਸੀਜਨ ਦੇ _____ ਪਰਮਾਣੂ ਹੁੰਦੇ ਹਨ ।
The number of atoms of Oxygen present in one molecule of Ozone is _____ .
(ੳ) 3 (ਅ) 4 (ੲ) 2 (ਸ) 1
- ਪ੍ਰਸ਼ਨ215. ਇੱਕ ਸਦੀ ਵਿੱਚ ਕਿੰਨੇ ਮਹੀਨੇ ਹੁੰਦੇ ਹਨ?
How many months are there in a century?
(ੳ)12 (ਅ)120 (ੲ)1200 (ਸ) 12000

ਨੋਟ: ਉੱਤਰ ਅਗਲੇ ਦਿਨ ਦੀ ਸ਼ੀਟ ਵਿੱਚ ਭੇਜੇ ਜਾਣਗੇ, ਤਦ ਤੱਕ ਦਿਮਾਗੀ ਕਸਰਤ ਕਰੋ!

Answers of Sheet No.42

- Ans 201. (d) Communicate
Ans202. (ੳ) ਮੌਖਿਕ ਭਾਸ਼ਾ ਤੋਂ ਬਾਅਦ
Ans203 (c) -4
Ans204 (d) ਮ੍ਰਿਤਕ ਲਾਲ ਲਹੂ ਕੋਸ਼ਿਕਾਵਾਂ ਦਾ ਫਿਲਟਰ ਹੋਣਾ ਸੰਭਵ ਨਹੀਂ ਹੋਵੇਗਾ
(Filtration of dead RBCs will not be possible).
Ans 205 (b) ਪੂਰਵਾਂਚਲ(Purvanchal)

“ਵੱਧ ਤੋਂ ਵੱਧ ਰੁੱਖ ਲਗਾਓ, ਵਾਤਾਵਰਣ ਬਚਾਓ”।



ਉਡਾਣ



ਨੌਵੀਂ ਤੋਂ ਦਸਵੀਂ ਜਮਾਤ ਦੇ ਵਿਦਿਆਰਥੀਆਂ ਲਈ

ਸ਼ੀਟ ਨੰ :44

ਮਿਤੀ 25-07-2019

ਪ੍ਰਸ਼ਨ216. ਭਾਰਤ ਦੀ ਸਰਬਉੱਚ ਅਦਾਲਤ ਦਾ ਉਦਘਾਟਨ ਕਦੋਂ ਹੋਇਆ?

When was 'The Supreme Court of India' inaugurated?

(ੳ) 1950 (ਅ) 1951 (ੲ) 1952 (ਸ) 1953

ਪ੍ਰਸ਼ਨ217. ਭਾਰਤੀ ਸੰਵਿਧਾਨ ਵਿੱਚ ਦਰਜ 'ਕੇਂਦਰ ਅਤੇ ਰਾਜਾਂ ਵਿਚਕਾਰ ਸ਼ਕਤੀਆਂ ਦੀ ਵੰਡ' ਦਾ ਸਿਧਾਂਤ _____ ਦੇਸ਼ ਦੇ ਸੰਵਿਧਾਨ ਤੋਂ ਲਿਆ ਗਿਆ ਹੈ।

'Distribution of power between union and state governments' policy in Indian constitution borrowed from _____ country.

(ੳ) ਅਮਰੀਕਾ (America) (ਅ) ਕੈਨੇਡਾ (Canada)

(ੲ) ਜਾਪਾਨ (Japan) (ਸ) ਰੂਸ (Russia)

ਪ੍ਰਸ਼ਨ218. 15 ਦਾ ਵਰਗ ਕੀ ਹੈ?

What is the square of 15?

(ੳ) 15 (ਅ) 30 (ੲ) 252 (ਸ) 225

ਪ੍ਰਸ਼ਨ219. ਆਵਾਜ਼ ਦੀ ਗਤੀ _____ ਵਿੱਚ ਸਭ ਤੋਂ ਵੱਧ ਅਤੇ _____ ਵਿੱਚ ਸਭ ਤੋਂ ਘੱਟ ਹੁੰਦੀ ਹੈ।

The speed of sound is maximum in _____ and minimum in _____.

(ੳ) ਠੋਸ, ਤਰਲ (Solids, Liquids) (ਅ) ਠੋਸ, ਗੈਸਾਂ (Solids, Gases)

(ੲ) ਤਰਲ, ਗੈਸਾਂ (Liquids, Gases) (ਸ) ਗੈਸਾਂ, ਤਰਲ (Gases, Liquids)

ਪ੍ਰਸ਼ਨ220. ਪਾਕਿਸਤਾਨੀ ਪੰਜਾਬ ਵਿੱਚ ਪੰਜਾਬੀ ਕਿਸ ਲਿਪੀ ਵਿੱਚ ਲਿਖੀ ਜਾਂਦੀ ਹੈ?

(ੳ) ਫ਼ਾਰਸੀ (ਅ) ਦੇਵਨਾਗਰੀ (ੲ) ਸ਼ਾਹਮੁਖੀ (ਸ) ਗੁਰਮੁਖੀ

ਨੋਟ: ਉੱਤਰ ਅਗਲੇ ਦਿਨ ਦੀ ਸ਼ੀਟ ਵਿੱਚ ਭੇਜੇ ਜਾਣਗੇ, ਤਦ ਤੱਕ ਦਿਮਾਗੀ ਕਸਰਤ ਕਰੋ!

Answers of Sheet No.43

Ans211. Satish Dhawan Space Centre (Sriharikota)


Ans212. (ੳ) Breath

Ans213. (ਅ) 'ੲ' ਨਾਲ

Ans214. (ੳ) 3

Ans215. (ੲ) 1200

“ਵੱਧ ਤੋਂ ਵੱਧ ਰੁੱਖ ਲਗਾਓ, ਵਾਤਾਵਰਣ ਬਚਾਓ”।



ਉਡਾਣ



ਨੌਵੀਂ ਤੋਂ ਦਸਵੀਂ ਜਮਾਤ ਦੇ ਵਿਦਿਆਰਥੀਆਂ ਲਈ

ਸ਼ੀਟ ਨੰ : 45

ਮਿਤੀ 26-07-2019

- ਪ੍ਰਸ਼ਨ221. A ਭਰਾ ਹੈ B ਦਾ, B ਧੀ ਹੈ C ਦੀ, C ਪਤਨੀ ਹੈ D ਦੀ। D, A ਦਾ ਕੀ ਲੱਗਦਾ ਹੈ?
A is the Brother of B. B is daughter of C, C is wife of D. What is D's relation to A?
(ੳ) ਪਿਤਾ (Father) (ਅ) ਭਰਾ (Brother)
(ੲ) ਦਾਦਾ (Grand Father) (ਸ) ਭੈਣ (Sister)
- ਪ੍ਰਸ਼ਨ222. Give the meaning of the following Idiom:
A bed of roses.
- ਪ੍ਰਸ਼ਨ223. 'ਜੋ ਕਰੇਗਾ ਸੋ ਭਰੇਗਾ' ਵਿੱਚ 'ਜੋ' ਅਤੇ 'ਸੋ' ਸ਼ਬਦ ਪੜਨਾਂਵ ਦੀ ਕਿਹੜੀ ਕਿਸਮ ਨੂੰ ਦਰਸਾਉਂਦੇ ਹਨ?
(ੳ) ਨਿਸ਼ਚੇਵਾਚਕ (ਅ) ਪ੍ਰਸ਼ਨਵਾਚਕ (ੲ) ਨਿੱਜਵਾਚਕ (ਸ) ਸੰਬੰਧਵਾਚਕ ਪੜਨਾਂਵ
- ਪ੍ਰਸ਼ਨ224. Who wrote the book 'The Test of my life from Cricket to cancer and back'?
(ੳ) ਕਪਿਲ ਦੇਵ (Kapil Dev) (ਅ) ਮਿਲਖਾ ਸਿੰਘ (Milkha Singh)
(ੲ) ਯੁਵਰਾਜ ਸਿੰਘ (Yuvraj Singh) (ਸ) ਹਰਭਜਨ ਸਿੰਘ (Harbhajan Singh)
- ਪ੍ਰਸ਼ਨ225. How many numbers are there from 21 to 70 which are divisible by 9?
(a) 2 (b) 4 (c) 5 (d) 6

ਨੋਟ: ਉੱਤਰ ਅਗਲੇ ਦਿਨ ਦੀ ਸ਼ੀਟ ਵਿੱਚ ਭੇਜੇ ਜਾਣਗੇ, ਤਦ ਤੱਕ ਦਿਮਾਗੀ ਕਸਰਤ ਕਰੋ!

Answers of Sheet No.44

- Ans216. (ੳ) 1950
Ans217. (ਅ) ਕੈਨੇਡਾ (Canada)
Ans218. (ਸ) 225
Ans219. (ਅ) ਠੋਸ, ਗੈਸਾਂ (Solids, Gases)
Ans220. (ੲ) ਸ਼ਾਹਮੁਖੀ

“ਵੱਧ ਤੋਂ ਵੱਧ ਰੁੱਖ ਲਗਾਓ, ਵਾਤਾਵਰਣ ਬਚਾਓ”।



ਉਡਾਣ

ਨੌਵੀਂ ਤੋਂ ਦਸਵੀਂ ਜਮਾਤ ਦੇ ਵਿਦਿਆਰਥੀਆਂ ਲਈ

ਸ਼ੀਟ ਨੰ :46

ਮਿਤੀ 27-07-2019

ਪ੍ਰਸ਼ਨ226. ਸਮੁੰਦਰੀ ਜਹਾਜ਼ਾਂ ਦਾ ਪ੍ਰਮੁੱਖ ਨਿਰਮਾਣ ਕੇਂਦਰ ਕਿਹੜਾ ਹੈ?

_____ is the main ship building centre in India?

(ੳ) ਦਿੱਲੀ (Delhi) (ਅ) ਵਿਸ਼ਾਖਾਪਟਨਮ (Vishakhapatnam)

(ੲ) ਜੈਪੁਰ (Jaipur) (ਸ) ਚੰਡੀਗੜ੍ਹ (Chandigarh)

ਪ੍ਰਸ਼ਨ227. ਭਾਰਤੀ ਸੰਵਿਧਾਨ ਦੀ ਕਿਹੜੀ ਧਾਰਾ 'ਛੂਤ-ਛਾਤ ਦੇ ਖਾਤਮੇ ਨਾਲ ਸੰਬੰਧਿਤ ਹੈ?

Which Article is related with Abolition of Untouchability?

(a) 20 (b) 19 (c) 18 (d) 17

ਪ੍ਰਸ਼ਨ228. 'ਤੂੰ', 'ਤੁਸੀਂ', 'ਤੇਰਾ', 'ਤੁਹਾਡਾ', ਸ਼ਬਦ ਕਿਹੜੇ ਪੁਰਖ ਨਾਲ ਸੰਬੰਧਿਤ ਹਨ।

(ੳ) ਉੱਤਮ ਪੁਰਖ (ਅ) ਮੱਧਮ ਪੁਰਖ (ੲ) ਅਨਯ ਪੁਰਖ

ਪ੍ਰਸ਼ਨ229. Change the following sentence into negative sentence:

I have some letters for you.

ਪ੍ਰਸ਼ਨ230. Complete the following series:

a, __, bab, __, ab, __, abb.

(a) baa (b) aaa (c) bbb (d) aab

ਨੋਟ: ਉੱਤਰ ਅਗਲੇ ਦਿਨ ਦੀ ਸ਼ੀਟ ਵਿੱਚ ਭੇਜੇ ਜਾਣਗੇ, ਤਦ ਤੱਕ ਦਿਮਾਗੀ ਕਸਰਤ ਕਰੋ!

Answers of Sheet No.45

Ans221. (ੳ) ਪਿਤਾ (Father)

Ans222. Comfortable situation

Ans223. (ਸ) ਸੰਬੰਧਵਾਚਕ ਪੜਨਾਂਵ

Ans224. (ੲ) ਯੁਵਰਾਜ ਸਿੰਘ (Yuvraj Singh)

Ans225. (c) 5

“ਵੱਧ ਤੋਂ ਵੱਧ ਰੁੱਖ ਲਗਾਓ, ਵਾਤਾਵਰਣ ਬਚਾਓ”।



ਉਡਾਣ



ਨੌਵੀਂ ਤੋਂ ਦਸਵੀਂ ਜਮਾਤ ਦੇ ਵਿਦਿਆਰਥੀਆਂ ਲਈ

ਸ਼ੀਟ ਨੰ :47

ਮਿਤੀ 29-07-2019

ਪ੍ਰਸ਼ਨ231. ਇਸ ਸਾਲ ਸ੍ਰੀ ਗੁਰੂ ਨਾਨਕ ਦੇਵ ਜੀ ਦਾ 550ਵਾਂ ਪ੍ਰਕਾਸ਼ ਪੁਰਬ ਮਨਾਇਆ ਜਾਏਗਾ।

(ਸਹੀ ਜਾਂ ਗਲਤ)

ਪ੍ਰਸ਼ਨ232. ਭਾਰਤੀ ਸੰਸਦ ਦੇ ਕਿੰਨੇ ਭਾਗ ਹਨ?

How many parts have the Indian Parliament?

ਪ੍ਰਸ਼ਨ233. Fill in the blank with an Adjective:

The dog is a _____ animal.(faith)

ਪ੍ਰਸ਼ਨ234. Write the full form of ISP.

ਪ੍ਰਸ਼ਨ235. ਰੇਲ ਕੋਚ ਫੈਕਟਰੀ _____ ਵਿਖੇ ਹੈ।

Rail Coach Factory (RCF) is located at _____.

(a) ਗੰਗਟੋਕ (Gangtok) (b) ਕਪੂਰਥਲਾ(Kapurthala)

(c) ਲੁਧਿਆਣਾ (Ludhiana) (d) ਸ਼ਿਮਲਾ (Shimla)

ਨੋਟ: ਉੱਤਰ ਅਗਲੇ ਦਿਨ ਦੀ ਸ਼ੀਟ ਵਿੱਚ ਭੇਜੇ ਜਾਣਗੇ, ਤਦ ਤੱਕ ਦਿਮਾਗੀ ਕਸਰਤ ਕਰੋ!

Answers of Sheet No.46

Ans226. (ਅ) ਵਿਸ਼ਾਖਾਪਟਨਮ (Vishakhapatnam)

Ans227. (d) 17

Ans228. (ਅ) ਮੱਧਮ ਪੁਰਖ

Ans229. I have not some letters for you.

Ans230. (c) bbb

“ਵੱਧ ਤੋਂ ਵੱਧ ਰੁੱਖ ਲਗਾਓ, ਵਾਤਾਵਰਣ ਬਚਾਓ”।



ਉਡਾਣ



ਨੋਵੀਂ ਅਤੇ ਦਸਵੀਂ ਜਮਾਤ ਦੇ ਵਿਦਿਆਰਥੀਆਂ ਲਈ

ਸ਼ੀਟ ਨੰ:48

ਮਿਤੀ 30-07-2019

ਭਾਰਤ ਦੇ ਨਕਸ਼ੇ ਨੂੰ ਧਿਆਨ ਨਾਲ ਦੇਖੋ ਅਤੇ ਹੇਠ ਲਿਖੇ ਪ੍ਰਸ਼ਨਾਂ ਦੇ ਉੱਤਰ ਲੱਭੋ:-

ਪ੍ਰਸ਼ਨ 236: ਨੰਬਰ 1 ਅੰਕਿਤ ਵਾਲੇ ਰਾਜ ਦਾ ਕੀ ਨਾਮ ਹੈ?

Qu 236. What is the name of state marked on number 1 ?

(ੳ) Punjab (ਅ) Uttar pradesh

(ੲ) Jammu & Kashmir (ਸ) Haryana

ਪ੍ਰਸ਼ਨ 237. ਨੰਬਰ 24 ਤੇ ਦਰਜ ਰਾਜ ਤੇਲਗਾਨਾ ਕਿਸ ਰਾਜ ਤੋਂ ਅਲੱਗ ਹੋ ਕੇ ਬਣਿਆ ਹੈ?

Qu.237. The state of Telangana

(marked on number 24) is formed from which state? ?

(ੳ) ਉੱਤਰ ਪ੍ਰਦੇਸ਼ (ਅ) ਆਂਧਰਾ ਪ੍ਰਦੇਸ਼

(ੲ) ਮੱਧ ਪ੍ਰਦੇਸ਼ (ਸ) ਉੜੀਸ਼ਾ

ਪ੍ਰਸ਼ਨ 238: ਸਭ ਤੋਂ ਛੋਟੇ ਰਾਜ (ਅੰਕਿਤ 25 ਨੰਬਰ) ਦਾ ਕੀ ਨਾਮ ਹੈ?

Qu 238. Which is the smallest state (Marked on number 25)?

(ੳ) Goa (ਅ) Punjab (ੲ) Gujrat (ਸ) Kerla

ਪ੍ਰਸ਼ਨ 239 : ਖੇਤਰਫਲ ਪੱਖੋਂ ਸਭ ਤੋਂ ਵੱਡਾ ਰਾਜ (ਅੰਕਿਤ 6 ਨੰਬਰ) ਦਾ ਕੀ ਨਾਮ ਹੈ?

Qu 239. Which is the largest state according to area (Marked on number 6)?

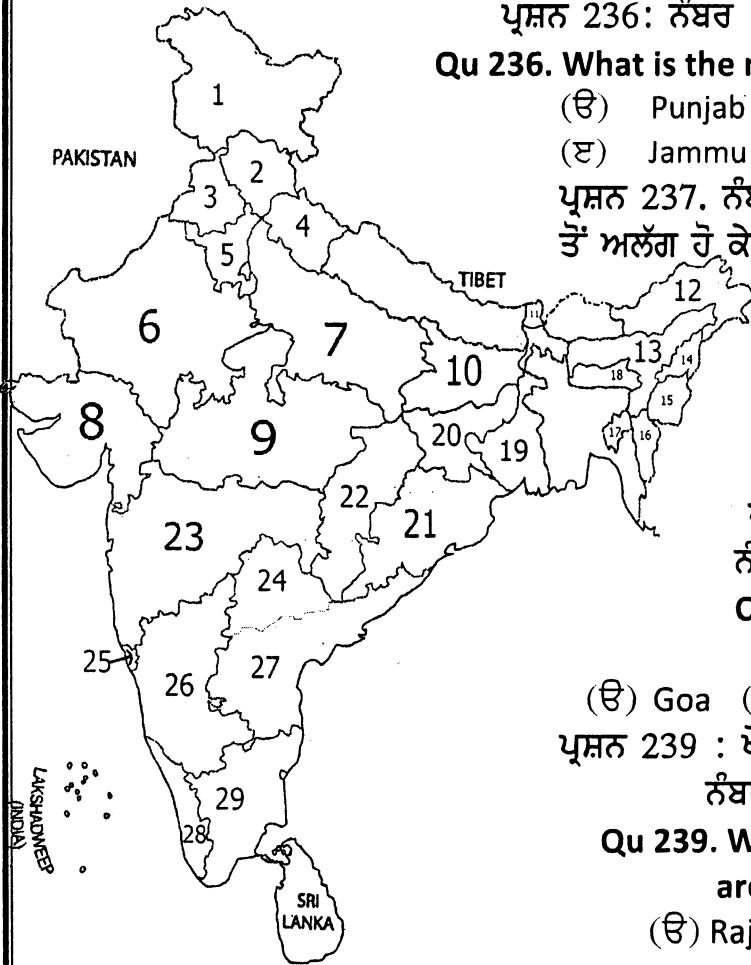
(ੳ) Rajasthan (ਅ) Maharashtra

(ੲ) Bihar (ਸ) Gujarat

ਪ੍ਰਸ਼ਨ 240: ਪੰਜਾਬ ਨੂੰ ਇਸ ਨਕਸ਼ੇ ਵਿਚ ਕਿਹੜੇ ਨੰਬਰ ਤੇ ਦਰਸਾਇਆ ਗਿਆ ਹੈ?

Qu 240. What is the number of Punjab in this map?

(ੳ) 3 (ਅ) 2 (ੲ) 4 (ਸ) 5



ਸ਼ੀਟ ਨੰਬਰ 47 ਦੇ ਸਹੀ ਉੱਤਰ

ਪ੍ਰਸ਼ਨ 231. ਸਹੀ

ਪ੍ਰਸ਼ਨ 232. ਢੇ

ਪ੍ਰਸ਼ਨ 233. Faithful

ਪ੍ਰਸ਼ਨ 234 Internet Service Provider

ਪ੍ਰਸ਼ਨ 235 (b) ਕਪੂਰਥਲਾ (Kapurthala)

“ਵੱਧ ਤੋਂ ਵੱਧ ਰੁੱਖ ਲਗਾਓ, ਵਾਤਾਵਰਣ ਬਚਾਓ”



ਉਡਾਣ

ਨੌਵੀਂ ਅਤੇ ਦਸਵੀਂ ਜਮਾਤ ਦੇ ਵਿਦਿਆਰਥੀਆਂ ਲਈ

ਸ਼ੀਟ ਨੰ: 49

ਮਿਤੀ 01-08-2019

Q 241. 'ਸੌਰਾਸ਼ਟਰ' ਹੇਠ ਲਿਖਿਆਂ ਵਿੱਚੋਂ ਕਿਸ ਰਾਜ ਦਾ ਹਿੱਸਾ ਹੈ? 'Saurashtra' is a part of which of the following states?

(ੳ) ਮਨੀਪੁਰ (ਅ) ਗੁਜਰਾਤ (ੲ) ਮਹਾਰਾਸ਼ਟਰ (ਸ) ਨਾਗਾਲੈਂਡ

Q 242. ਬਿੰਦੂ (-5,-9) ਕਿਸ ਚੌਥਾਈ ਵਿੱਚ ਸਥਿਤ ਹੈ? The point (-5,-9) is located in which quadrant?

(ੳ) ਚੌਥੀ ਚੌਥਾਈ (4th quadrant) (ਅ) ਤੀਜੀ ਚੌਥਾਈ (3rd quadrant)
(ੲ) ਦੂਜੀ ਚੌਥਾਈ (2nd quadrant) (ਸ) ਪਹਿਲੀ ਚੌਥਾਈ (1st quadrant)

Q 243. Which day is observed as World AIDS Day?

(ੳ) December 20th (ਅ) March 20th
(ੲ) December 1st (ਸ) March 1st

Q 244. ਹਿਰਾਸਤ ਵਿੱਚ ਉਧਮ ਸਿੰਘ ਨੇ ਆਪਣਾ ਨਵਾਂ ਨਾਮ ਕੀ ਰੱਖ ਲਿਆ ਸੀ? What new name did Udham Singh assigned himself while In Custody ?

(ੳ) ਸ਼ਹੀਦੇ-ਏ-ਆਜ਼ਮ (Shaheed-E-Azam)
(ਅ) ਰਾਮ ਮਹੰਮਦ (Ram Mohammad)
(ੲ) ਰਾਮ ਮੁਹੰਮਦ ਸਿੰਘ ਅਜ਼ਾਦ (Ram Mohammad Singh Azad)
(ਸ) ਸ਼ੇਰ ਸਿੰਘ (Sher Singh)

Q 245. ਸੂਤ ਦੀਆਂ ਅੱਟੀਆ ਤੋਂ ਨੜੇ ਬਣਾਉਣ ਲਈ.....ਦੀ ਵਰਤੋਂ ਕੀਤੀ ਜਾਂਦੀ ਸੀ/ਹੈ।

(ੳ) ਅਟੇਰਨ (ਅ) ਉਰੀ (ੲ) ਚਰਖਾ (ੳ) ਤੱਕਲਾ

ਨੋਟ:- ਉੱਤਰ ਅਗਲੇ ਦਿਨ ਦੀ ਸ਼ੀਟ ਵਿੱਚ ਭੇਜੇ ਜਾਣਗੇ, ਤਦ ਤੱਕ ਦਿਮਾਗੀ ਕਸਰਤ ਕਰੋ।

ਸ਼ੀਟ ਨੰਬਰ 48 ਦੇ ਸਹੀ ਉੱਤਰ

ਪ੍ਰਸ਼ਨ 236 (ੲ) Jammu & Kashmir

ਪ੍ਰਸ਼ਨ 237 (ਅ) ਆਂਧਰਾ ਪ੍ਰਦੇਸ਼

ਪ੍ਰਸ਼ਨ 238 (ੳ) Goa

ਪ੍ਰਸ਼ਨ 239 (ੳ) Rajasthan

ਪ੍ਰਸ਼ਨ 240 (ੳ) 3

“ਵੱਧ ਤੋਂ ਵੱਧ ਰੁੱਖ ਲਗਾਓ, ਵਾਤਾਵਰਣ ਬਚਾਓ”



ਉਡਾਣ

ਨੌਵੀਂ ਅਤੇ ਦਸਵੀਂ ਜਮਾਤ ਦੇ ਵਿਦਿਆਰਥੀਆਂ ਲਈ

ਸ਼ੀਟ ਨੰ: 50

ਮਿਤੀ 02-08-2019

Q 246. ਸੂਰਜ ਦੀ ਸਤਿਹ ਦਾ ਤਾਪਮਾਨ ਕਿੰਨਾ ਹੈ? What is the temperature at surface of the Sun?

(ੳ) 6000°C (ਅ) 5000°C (ੲ) 4000°C (ਸ) 3000°C

Q 247. Translate the following sentence into English:

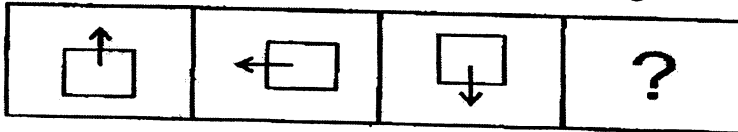
ਬਿਨਾਂ ਟਿਕਟ ਯਾਤਰਾ ਕਰਨਾ ਜੁਰਮ ਹੈ।

Q 248. ਅੰਗਰੇਜ਼ੀ 'ਸ਼ਬਦਕੋਸ਼' ਅਨੁਸਾਰ ਕਿਹੜਾ ਸ਼ਬਦ ਪਹਿਲਾ ਆਵੇਗਾ? Which word with come first as per english 'dictionary'?

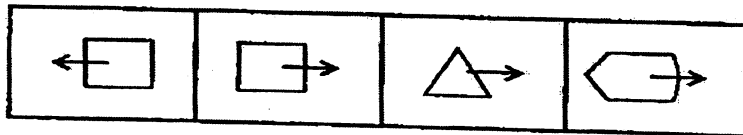
(ੳ) Chair (ਅ) Charm (ੲ) Champ (ਸ) Chain

Q 249. ਹੇਠਾਂ ਦਿਤੀਆਂ ਤਸਵੀਰਾਂ ਦੀ ਤਰਤੀਬ ਸਹੀ ਕਰਨ ਲਈ ਉੱਤਰ ਚਿਤਰ ਵਿੱਚੋਂ ਸਹੀ ਉੱਤਰ ਲੱਭੋ।

Complete the series with right picture from the pictures given below:-



ਉੱਤਰ ਚਿੱਤਰ



(ੳ)

(ਅ)

(ੲ)

(ਸ)

Q 250. ਸੰਸਾਰ ਦੀ ਸਭ ਤੋਂ ਉੱਚੀ ਇਮਾਰਤ ਕਿਹੜੀ ਹੈ? Which is the tallest building in the world ?

(ੳ) ਸ਼ੰਗਾਈ ਟਾਵਰ (ਚੀਨ) Shangai Tower (China)

(ਅ) ਵਰਲਡ ਟਰੇਡ ਸੈਂਟਰ (ਨਿਊ ਯਾਰਕ) World Trade Centre (New York)

(ੲ) ਬੁਰਜ ਖਲੀਫਾ (ਦੁਬਈ) Burj Khalifa (Dubai)

(ਸ) ਪੈਟਰੋਨਜ਼ ਟਾਵਰ (ਮਲੇਸ਼ੀਆ) Petronas Tower (Malasiya)

ਨੋਟ:- ਉੱਤਰ ਅਗਲੇ ਦਿਨ ਦੀ ਸ਼ੀਟ ਵਿੱਚ ਭੇਜੇ ਜਾਣਗੇ, ਤਦ ਤੱਕ ਦਿਮਾਗੀ ਕਸਰਤ ਕਰੋ।

ਸ਼ੀਟ ਨੰਬਰ 49 ਦੇ ਸਹੀ ਉੱਤਰ:

ਪ੍ਰਸ਼ਨ 241 (ਅ) ਗੁਜਰਾਤ(Gujrat) ਪ੍ਰਸ਼ਨ 242 (ਅ) ਤੀਜੀ ਚੌਥਾਈ (3rd quadrant)

ਪ੍ਰਸ਼ਨ 242 (ਅ) ਤੀਜੀ ਚੌਥਾਈ (3rd quadrant)

ਪ੍ਰਸ਼ਨ 243 (ੲ) December 1st

ਪ੍ਰਸ਼ਨ 244 (ੲ) ਰਾਮ ਮੁਹੰਮਦ ਸਿੰਘ ਅਜ਼ਾਦ (Ram Mohammad Singh Azad)

ਪ੍ਰਸ਼ਨ 245 (ਅ) ਊਰੀ

"ਕਾਲਾ ਰੰਗ ਸੰਵੇਦਨਾਪੂਰਨ ਮਾੜਾ ਹੈ, ਪਰ ਕਾਲਾ ਬਲੈਕ-ਬੋਰਡ ਵਿਦਿਆਰਥੀ ਜੀਵਨ ਨੂੰ ਚਮਕਦਾਰ ਬਣਾਉਂਦਾ ਹੈ"



ਉਡਾਣ

ਨੌਵੀਂ ਅਤੇ ਦਸਵੀਂ ਜਮਾਤ ਦੇ ਵਿਦਿਆਰਥੀਆਂ ਲਈ

ਸ਼ੀਟ ਨੰ: 51

ਮਿਤੀ 03-08-2019

Q 251. ਹੇਠ ਲਿਖਿਆ ਵਿੱਚੋਂ ਕਿਹੜਾ ਜਿਲ੍ਹਾ ਕਿਸੇ ਕੌਮਾਂਤਰੀ ਸਰਹੱਦ ਦੇ ਨਾਲ ਨਹੀਂ ਲੱਗਦਾ?

Which of the following district is is not adjoining to any national border?

(ੳ) ਪਠਾਨਕੋਟ (ਅ) ਫਰੀਦਕੋਟ (ੲ) ਫ਼ਾਜ਼ਿਲਕਾ (ਸ) ਤਰਨਤਾਰਨ

Q 252. ਮਨੁੱਖੀ ਖੋਪੜੀ ਦੀਆਂ ਕਿੰਨੀਆਂ ਹੱਡੀਆਂ ਹੁੰਦੀਆਂ ਹਨ? How many bones are there in human skull?

(ੳ) 206 (ਅ) 12 (ੲ) 5 (ਸ) 22

Q 253. Which is the full form of AIDS ?

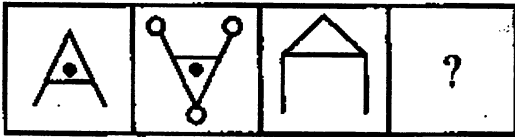
(ੳ) Acquired Immune Deficiency Syndrome

(ਅ) Acquired Immune Deficiency System

(ੲ) Acquired Immune Defected Syndrome

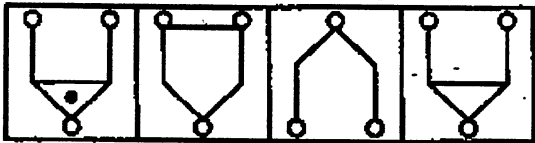
(ਸ) Aid by society

Q 254. ਹੇਠ ਦਿੱਤੇ ਚਿੱਤਰਾਂ ਦੀ ਤਰਤੀਬ ਸਹੀ ਕਰਨ ਲਈ ਉੱਤਰ ਚਿੱਤਰ ਵਿੱਚੋਂ ਸਹੀ ਉੱਤਰ ਲੱਭੋ। Find the suitable picture from the answer pictures to complete the series of the following pictures.



(ਉੱਤਰ ਚਿੱਤਰ)(Answer pictures)

(ੳ) (ਅ) (ੲ) (ਸ)



Q 255. ਭਾਰਤ ਦਾ ਕਿਹੜੇ ਸ਼ਹਿਰ ਨੂੰ 'ਸਿਲੀਕਾਨ ਘਾਟੀ' ਦੇ ਨਾਮ ਨਾਲ ਜਾਣਿਆ ਜਾਂਦਾ ਹੈ? Which city is know as 'silicon valley' in India?

(ੳ) ਬੰਗਲੌਰ (ਅ) ਕਲਕੱਤਾ (ੲ) ਦਿੱਲੀ (ਸ) ਸ਼੍ਰੀਨਗਰ

ਨੋਟ:- ਉੱਤਰ ਅਗਲੇ ਦਿਨ ਦੀ ਸ਼ੀਟ ਵਿੱਚ ਭੇਜੇ ਜਾਣਗੇ, ਤਦ ਤੱਕ ਦਿਮਾਗੀ ਕਸਰਤ ਕਰੋ।

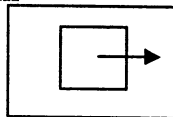
ਸ਼ੀਟ ਨੰਬਰ 50 ਦੇ ਸਹੀ ਉੱਤਰ

ਪ੍ਰਸ਼ਨ 246 (ੳ) 6000°C

ਪ੍ਰਸ਼ਨ 247 It is crime to travel without ticket.

ਪ੍ਰਸ਼ਨ 248 (ਸ) Chain

ਪ੍ਰਸ਼ਨ 249 (ਅ)



ਪ੍ਰਸ਼ਨ 250 (ੲ) ਬੁਰਜ ਖਲੀਫਾ (ਦੁਬਈ)

“ ਸਫਲਤਾ ਅਤੇ ਅਰਾਮ ਜਿੰਦਗੀ ਵਿੱਚ ਕਦੇ ਵੀ ਇੱਕਠੇ ਨਹੀਂ ਹੁੰਦੇ”
ਸਕੂਲ ਸਿੱਖਿਆ ਵਿਭਾਗ ,ਪੰਜਾਬ



ਉਡਾਣ

ਨੌਵੀਂ ਅਤੇ ਦਸਵੀਂ ਜਮਾਤ ਦੇ ਵਿਦਿਆਰਥੀਆਂ ਲਈ

ਸ਼ੀਟ ਨੰ: 52

ਮਿਤੀ 05-08-2019

ਪ੍ਰਸ਼ਨ 256. 'ਚਿਪਕੋ ਅੰਦੋਲਨ' ਦਾ ਮੁੱਖ ਉਦੇਸ਼ ਕੀ ਸੀ? what is the main aim of the 'chipko movement'?

- (ੳ) ਜੰਗਲਾਂ ਨੂੰ ਬਚਾਉਣਾ (ਅ) ਫੈਕਟਰੀਆਂ ਬੰਦ ਕਰਨਾ
(ੲ) ਧਰਮ ਦੀ ਰੱਖਿਆ (ਸ) ਨਸ਼ਿਆਂ ਦੀ ਰੋਕਥਾਮ

ਪ੍ਰਸ਼ਨ 257. ਕਣਕ ਪੀਂਹਣ ਵਾਲੀ ਚੱਕੀ ਜੋ ਪਾਣੀ ਨਾਲ ਚਲਦੀ ਹੈ, ਉਸ ਨੂੰ ਕੀ ਕਿਹਾ ਜਾਂਦਾ ਹੈ?

- (ੳ) ਬੇਲਣ (ਅ) ਖੱਡੀ (ੲ) ਘਰਾਟ (ਸ) ਪੇਂਜਾ

ਪ੍ਰਸ਼ਨ 258. ਭਾਰਤ ਦਾ ਪ੍ਰਮਾਣਿਕ ਸਮਾਂ ਗ੍ਰੀਨਵਿੱਚ ਦੇ ਸਮੇਂ ਤੋਂ ਕਿੰਨੇ ਘੰਟੇ ਅੱਗੇ ਹੈ? how much Indian standard time is ahead of greenwitch time?

- (ੳ) 3 ਘੰਟੇ 30 ਮਿੰਟ (ਅ) 4 ਘੰਟੇ 30 ਮਿੰਟ
(ੲ) 6 ਘੰਟੇ 30 ਮਿੰਟ (ਸ) 5 ਘੰਟੇ 30 ਮਿੰਟ

ਪ੍ਰਸ਼ਨ 259. ਸੰਸਾਰ ਦਾ ਸਭ ਤੋਂ ਵੱਡਾ ਮਾਰੂਥਲ ਕਿਹੜਾ ਹੈ? Which is largest dessert in the world?

- (ੳ) ਸਹਾਰਾ (Sahara) (ਅ) ਥਾਰ (Thar)
(ੲ) ਵਿਕਟੋਰੀਆ (Victoria) (ਸ) ਗੋਬੀ (Gobi)

ਪ੍ਰਸ਼ਨ 260. ਜੇਕਰ ਹਰੇ ਨੂੰ ਲਾਲ, ਲਾਲ ਨੂੰ ਨੀਲਾ ਕਿਹਾ ਜਾਵੇ। ਨੀਲੇ ਨੂੰ ਸਫੈਦ ਕਿਹਾ ਜਾਵੇ। ਸਫੈਦ ਨੂੰ ਪੀਲਾ, ਪੀਲੇ ਨੂੰ ਬੈਂਗਣੀ ਕਿਹਾ ਜਾਵੇ ਤਾਂ ਘਾਹ ਦਾ ਰੰਗ ਕਿਹੋ ਜਿਹਾ ਹੋਵੇਗਾ? If green is red ,red is blue. blue is white,white is yellow and yellow is purple then what will be the color of grass?

- (ੳ) ਸਫੈਦ (white) (ਅ) ਪੀਲਾ (yellow) (ੲ) ਹਰਾ (green) (ਸ) ਬੈਂਗਣੀ (purple)

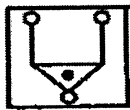
ਨੋਟ:- ਉੱਤਰ ਅਗਲੇ ਦਿਨ ਦੀ ਸ਼ੀਟ ਵਿੱਚ ਭੇਜੇ ਜਾਣਗੇ, ਤਦ ਤੱਕ ਦਿਮਾਗੀ ਕਸਰਤ ਕਰੋ।

ਸ਼ੀਟ ਨੰਬਰ 51 ਦੇ ਸਹੀ ਉੱਤਰ

ਪ੍ਰਸ਼ਨ 251 (ਅ) ਫਰੀਦਕੋਟ

ਪ੍ਰਸ਼ਨ 252 (ਸ) 22

ਪ੍ਰਸ਼ਨ 253 (ੳ) Acquired Immune Deficiency Syndrome



ਪ੍ਰਸ਼ਨ 254 (ੳ)

ਪ੍ਰਸ਼ਨ 255 (ੳ) ਬੰਗਲੌਰ

“ ਸਫਲਤਾ ਅਤੇ ਅਰਾਮ ਜਿੰਦਗੀ ਵਿੱਚ ਕਦੇ ਵੀ ਇੱਕਠੇ ਨਹੀਂ ਹੁੰਦੇ”
ਸਕੂਲ ਸਿੱਖਿਆ ਵਿਭਾਗ ,ਪੰਜਾਬ



ਉਡਾਣ

ਨੌਵੀਂ ਅਤੇ ਦਸਵੀਂ ਜਮਾਤ ਦੇ ਵਿਦਿਆਰਥੀਆਂ ਲਈ
ਸ਼ੀਟ ਨੰ: 53 ਮਿਤੀ 06-08-2019

Q 261. We get solar energy from.....

(ੳ) Moon (ਅ) Sea (ੲ) Sun (ਸ) Air

Q 262. ਦੰਦਾਂ ਦੇ ਡਾਕਟਰ ਦੁਆਰਾ ਹੇਠ ਲਿਖਿਆ ਵਿੱਚੋਂ ਰੋਗੀ ਦਾ ਦੰਦ ਦੇਖਣ ਲਈ ਕੀ ਵਰਤਿਆ ਜਾਂਦਾ ਹੈ? Which of the following is used by dentist to see image of teeth of a patient?

(ੳ) Concave Mirror (ਅ) Convex Len (ੲ) Convex Mirror (ਸ) Plane Mirror

Q 263. Full form of NTSE.....

(ੳ) National talent state examination
(ਅ) National talent search examination
(ੲ) National testing search examination
(ਸ) National test state english

Q 264. ਕਿਸ ਟੀਵੀ ਚੈਨਲ ਦੇ ਪੱਤਰਕਾਰ ਰਵੀਸ਼ ਕੁਮਾਰ ਦੀ ਚੋਣ ਏਸ਼ੀਆ ਦੇ ਸਭ ਤੋਂ ਵੱਡੇ ਪੁਰਸਕਾਰ ਮੈਗਸੇਸੇ ਐਵਾਰਡ ਲਈ ਕੀਤੀ ਗਈ ਹੈ?

(ੳ) ਆਜ ਤੱਕ (ਅ) ਸਟਾਰ ਪਲੱਸ (ੲ) ਐਨ.ਡੀ.ਟੀ.ਵੀ. (ਸ) ਇੰਡੀਆ ਟੀ.ਵੀ.

Q 265. ਇੱਕ ਵਿਅਕਤੀ 60 ਫੁੱਟ ਉੱਚੇ ਰੁੱਖ ਤੇ ਚੜ੍ਹ ਰਿਹਾ ਹੈ। ਹਰੇਕ ਇੱਕ ਸਕਿੰਟ ਵਿੱਚ ਉਹ 5 ਫੁੱਟ ਚੜ੍ਹਦਾ ਹੈ, ਪ੍ਰੰਤੂ 4 ਫੁੱਟ ਹੇਠਾਂ ਸਰਕ ਜਾਂਦਾ ਹੈ। ਕਿੰਨੇ ਸਕਿੰਟ ਬਾਅਦ ਉਹ ਦਰੱਖਤ ਦੇ ਸਿਖਰ ਨੂੰ ਛੂਹ ਲਵੇਗਾ?

(ੳ) 60 ਸਕਿੰਟ (ਅ) 55 ਸਕਿੰਟ (ੲ) 59 ਸਕਿੰਟ (ਸ) 56 ਸਕਿੰਟ

ਨੋਟ:- ਉੱਤਰ ਅਗਲੇ ਦਿਨ ਦੀ ਸ਼ੀਟ ਵਿੱਚ ਭੇਜੇ ਜਾਣਗੇ, ਤਦ ਤੱਕ ਦਿਮਾਗੀ ਕਸਰਤ ਕਰੋ।

ਸ਼ੀਟ ਨੰਬਰ 52 ਦੇ ਸਹੀ ਉੱਤਰ

ਪ੍ਰਸ਼ਨ 256 (ੳ) ਜੰਗਲਾਂ ਨੂੰ ਬਚਾਉਣਾ

ਪ੍ਰਸ਼ਨ 257 (ੲ) ਘਰਾਟ

ਪ੍ਰਸ਼ਨ 258 (ਸ) 5 ਘੰਟੇ 30 ਮਿੰਟ

ਪ੍ਰਸ਼ਨ 259 (ੳ) ਸਹਾਰਾ (Sahara)

ਪ੍ਰਸ਼ਨ 260 (ੲ) ਹਰਾ (green)



“ ਪਾਣੀ ਬਚਾਓ, ਭਵਿੱਖ ਬਚਾਓ ”
ਸਕੂਲ ਸਿੱਖਿਆ ਵਿਭਾਗ, ਪੰਜਾਬ



ਉੱਤਰ

ਨੌਵੀਂ ਅਤੇ ਦਸਵੀਂ ਜਮਾਤ ਦੇ ਵਿਦਿਆਰਥੀਆਂ ਲਈ

ਸ਼ੀਟ ਨੰ: 54

ਮਿਤੀ 07-08-2019

Q 266. ਕਿਸ ਦੇਸ਼ ਨੂੰ 'ਅੱਧੀ ਰਾਤ ਦੇ ਸੂਰਜ ਦਾ ਦੇਸ਼' ਕਿਹਾ ਜਾਂਦਾ ਹੈ?

Which Country is called the 'country of midnight sun'?

(ੳ) ਨਾਰਵੇ(Norway) (ਅ) ਸਵੀਡਨ(Sweden) (ੲ) ਮਲੇਸ਼ੀਆ (Malaysia) (ਸ) ਜਪਾਨ (Japan)

Q 267. ਬਹੁਚਰਚਿਤ ਪੁਸਤਕ 'ਲੱਜਾ' ਦਾ ਲੇਖਕ ਕੌਣ ਹੈ?

Who is the writer of most discussed book 'Lajja'?

(ੳ) ਮੋਨਿਕਾ ਅਲੀ (ਅ) ਤਸਲੀਮਾ ਨਸਰੀਨ (ੲ) ਮੁਲਕਰਾਜ ਆਨੰਦ (ਸ) ਅਰਧੁਤੀ ਰਾਏ

Q 268. Full form of DPI in Education Department ?

(ੳ) Director Public Internet (ਅ) Department of Personnel Investigation

(ੲ) Director Private Instruction (ਸ) Director of Public Instructions

Q 269. ਹੇਠ ਲਿਖਿਆਂ ਵਿੱਚੋਂ ਕਿਹੜਾ ਗਰੁੱਪ 'ਸਰਵ ਵਿਆਪੀ' ਖੂਨ ਪ੍ਰਾਪਤ ਕਰਤਾ ਹੈ?

Which of the following blood groups is a universal recipient?

(ੳ) A (ਅ) B (ੲ) AB (ਸ) O

Q 270. ਇੱਕ ਪਰਿਵਾਰ ਵਿੱਚ ਇੱਕ ਪੁਰਸ਼, ਉਸਦੀ ਪਤਨੀ, ਚਾਰ ਪੁੱਤਰ ਅਤੇ ਉਹਨਾਂ ਦੀਆਂ ਪਤਨੀਆਂ ਹਨ। ਹਰੇਕ ਪੁੱਤਰ ਦੇ ਪਰਿਵਾਰ ਵਿੱਚ ਤਿੰਨ ਬੇਟੇ ਅਤੇ ਇੱਕ ਬੇਟੀ ਹੈ। ਪਰਿਵਾਰ ਵਿੱਚ ਕੁੱਲ ਪੁਰਸ਼ ਮੈਂਬਰਾਂ ਦੀ ਗਿਣਤੀ ਪਤਾ ਕਰੋ?

If a Man ,his wife and his four sons with their wives are living together in a family. If each son has three sons and one daughter. Calculate the total number of male members of the family.

(ੳ) 1 (ਅ) 12 (ੲ) 4 (ਸ) 17

ਨੋਟ:- ਉੱਤਰ ਅਗਲੇ ਦਿਨ ਦੀ ਸ਼ੀਟ ਵਿੱਚ ਭੇਜੇ ਜਾਣਗੇ, ਤਦ ਤੱਕ ਦਿਮਾਗੀ ਕਸਰਤ ਕਰੋ।

ਸ਼ੀਟ ਨੰਬਰ 53 ਦੇ ਸਹੀ ਉੱਤਰ

Ans 261 (ੲ) Sun

Ans 262 (ੳ) Concave Mirror

Ans 263 (ਅ) National Talent Search Examination

Ans 264 (ੲ) ਐਨ.ਡੀ.ਟੀ.ਵੀ.

Ans 265 (ਸ) 56 ਸਕਿੰਟ



“ ਪਾਣੀ ਬਚਾਓ, ਭਵਿੱਖ ਬਚਾਓ ”
ਸਕੂਲ ਸਿੱਖਿਆ ਵਿਭਾਗ, ਪੰਜਾਬ



ਉਡਾਣ

ਨੌਵੀਂ ਅਤੇ ਦਸਵੀਂ ਜਮਾਤ ਦੇ ਵਿਦਿਆਰਥੀਆਂ ਲਈ
ਸ਼ੀਟ ਨੰ: 55 ਮਿਤੀ 08-08-2019

Q 271. ਟਾਈਫਾਈਡ ਬੁਖਾਰ ਦਾ ਮੁੱਖ ਕਾਰਨ ਕੀ ਹੈ?

What is the main cause of Typhoid fever ?

(ੳ) Virus (ਅ) Bacteria (ੲ) Fungus (ਸ) Allergy

Q 272. ਗੰਡੋਏ ਦੇ ਕਿੰਨੀਆਂ ਅੱਖਾਂ ਹੁੰਦੀਆਂ ਹਨ?

How many eyes do an earthworm have?

(ੳ) 1 (ਅ) 2 (ੲ) ਕੋਈ ਨਹੀਂ (ਸ) ਬਹੁਤ ਸਾਰੀਆਂ

Q 273. ਧਰਤੀ ਉੱਪਰ ਸਭ ਤੋਂ ਵੱਡਾ ਦੁਧਾਧਾਰੀ ਜੀਵ ਕਿਹੜਾ ਹੈ?

Which is the largest mammal on earth?

(ੳ) Elephant (ਅ) Camel (ੲ) Blue Whale (ਸ) Giraffe

Q 274. ਹੇਠ ਲਿਖਿਆਂ ਨਿਯਮਾਂ ਵਿੱਚੋਂ ਕਿਹੜਾ ਸਰਬੰਗਸਮਤਾ ਦਾ ਨਿਯਮ ਨਹੀਂ ਹੈ?

Which of the following rules is not a congruency rule?

(ੳ) SSS (ਅ) SAS (ੲ) AAA (ਸ) ASA

Q 275. ਖਾਲੀ ਸਥਾਨ ਭਰੋ?

B	4	E	9	L	?
3	C	6	H	13	?

(ੳ) 18,Q (ਅ) 16,R (ੲ) 13,T (ਸ) 20,W

ਨੋਟ:- ਉੱਤਰ ਅਗਲੇ ਦਿਨ ਦੀ ਸ਼ੀਟ ਵਿੱਚ ਭੇਜੇ ਜਾਣਗੇ, ਤਦ ਤੱਕ ਦਿਮਾਗੀ ਕਸਰਤ ਕਰੋ।

ਸ਼ੀਟ ਨੰਬਰ 54 ਦੇ ਸਹੀ ਉੱਤਰ

Ans 266 (ੳ) ਨਾਰਵੇਂ

Ans 267 (ਅ) ਤਸਲੀਮਾ


ਨਸਰੀਨ

Ans 268 (ਸ) Director of Public Instructions Ans 269 (ੲ) AB

Ans 270 (ਸ) 17



“ ਪਾਣੀ ਬਚਾਓ, ਭਵਿੱਖ ਬਚਾਓ ”
ਸਕੂਲ ਸਿੱਖਿਆ ਵਿਭਾਗ, ਪੰਜਾਬ



ਉਡਾਣ

ਨੌਵੀਂ ਅਤੇ ਦਸਵੀਂ ਜਮਾਤ ਦੇ ਵਿਦਿਆਰਥੀਆਂ ਲਈ
ਸ਼ੀਟ ਨੰ: 56 ਮਿਤੀ 09-08-2019

Q 276. ਭਾਰਤੀ ਸੰਵਿਧਾਨ ਵਿੱਚ ਕਿੰਨੇ 'ਮੌਲਿਕ ਕਰਤੱਵ' ਹਨ?

How many 'Fundamental duties' are there in the Indian Costitution?

(ੳ) 9 (ਅ) 11 (ੲ) 12 (ਸ) 6

Q 277. ਭਾਰਤ ਦਾ ਰਾਸ਼ਟਰੀ ਫੁੱਲ ਕਿਹੜਾ ਹੈ?

Which is the National Flower of India?

(ੳ) Rose (ਅ) Lotus (ੲ) Sunflower (ਸ) Marigold

Q 278. 'ਪੰਚਸ਼ੀਲ ਸਮਝੌਤੇ' ਉੱਪਰ ਕਿਹੜੇ ਦੋ ਦੇਸ਼ਾਂ ਨੇ ਹਸਤਾਖਰ ਕੀਤੇ?

Which of two countries signed the 'Panchsheel Agreement'?

(ੳ) Bangladesh-Pakistan (ਅ) China-India

(ੲ) Pakistan-India (ਸ) Sri Lanka-India

Q 279. ਹੇਠ ਲਿਖਿਆਂ ਵਿੱਚੋਂ ਕਿਹੜਾ 'ਇੱਕ ਸੈੱਲੀ ਜੀਵ' ਨਹੀਂ ਹੈ?

Which is not a 'single cell organism'?

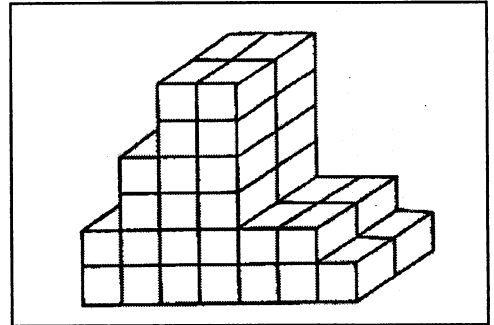
(ੳ) ਪਲਾਜਮੋਡੀਅਮ (ਅ) ਅਮੀਬਾ (ੲ) ਪੈਰਾਮੀਸ਼ੀਅਮ (ਸ) ਹਾਈਡਰਾ

Q 280. ਚਿੱਤਰ ਵਿੱਚ ਕਿੰਨੀਆਂ ਇੱਟਾਂ ਹਨ?

How many Bricks are there in the figure?

(ੳ) 40 (ਅ) 38

(ੲ) 46 (ਸ) 52



ਨੋਟ:- ਉੱਤਰ ਅਗਲੇ ਦਿਨ ਦੀ ਸ਼ੀਟ ਵਿੱਚ ਭੇਜੇ ਜਾਣਗੇ, ਤਦ ਤੱਕ ਦਿਮਾਗੀ ਕਸਰਤ ਕਰੋ।

ਸ਼ੀਟ ਨੰਬਰ 55 ਦੇ ਸਹੀ ਉੱਤਰ

Ans 271 (ਅ) Bacteria

Ans 272 (ੲ) ਕੋਈ ਨਹੀਂ

Ans 273 (ੲ) Blue Whale

Ans 274 (ੲ) AAA

Ans 275 (ੳ) 18,Q



“ Save the Nature & Save your Life ”
ਸਕੂਲ ਸਿੱਖਿਆ ਵਿਭਾਗ, ਪੰਜਾਬ



ਉਡਾਣ

ਨੌਵੀਂ ਅਤੇ ਦਸਵੀਂ ਜਮਾਤ ਦੇ ਵਿਦਿਆਰਥੀਆਂ ਲਈ

ਸ਼ੀਟ ਨੰ: 57

ਮਿਤੀ 13-08-2019

Q 281. ਭਾਰਤ ਦਾ ਸਭ ਤੋਂ ਲੰਬਾ ਸਮੁੰਦਰੀ ਬੀਚ ਕਿਹੜਾ ਹੈ? Which is the longest beach of India?

(ੳ) ਜੁਹੂ ਬੀਚ (ਅ) ਕੋਬੋਲਮ ਬੀਚ (ੲ) ਮੈਰੀਨਾ ਬੀਚ (ਸ) ਕੋਲਵਾ ਬੀਚ

Q 282. ਭਾਰਤ ਵਿੱਚ ਨਿਰਮਿਤ ਪਹਿਲਾ ਉਪਗ੍ਰਹਿ ਕਿਹੜਾ ਹੈ? Which is the first satellite made in India?

(ੳ) ਐਪਲ (ਅ) ਕਨਿਸ਼ਕਾ (ੲ) ਆਰੀਆ ਭੱਟ (ਸ) ਚੰਦਰਯਾਨ

Q 283. ਹਵਾ ਵਿਚ ਗੈਸ ਸਭ ਤੋਂ ਵੱਧ ਮਾਤਰਾ ਵਿੱਚ ਹੁੰਦੀ ਹੈ।

Air has highest percentage of.....gas in it.

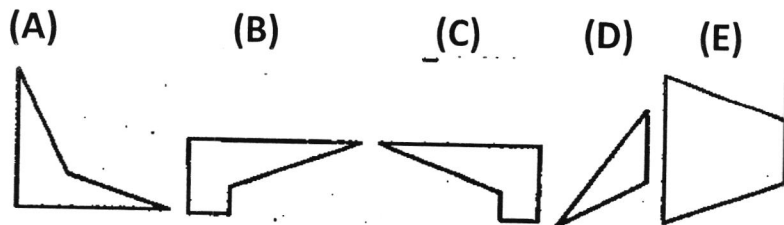
(ੳ) ਆਕਸੀਜਨ Oxygen (ਅ) ਕਾਰਬਨ ਡਾਈਆਕਸਾਈਡ Carbondioxide

(ੲ) ਨਾਈਟ੍ਰੋਜਨ Nitrogen (ਸ) ਆਰਗਨ Argon

Q 284. ਯੋਧਿਆਂ ਦੀ ਮਹਿਮਾ ਵਿੱਚ ਲਿਖੀ ਗਈ ਬਿਰਤਾਂਤਿਕ ਕਵਿਤਾ ਨੂੰ ਕੀ ਕਿਹਾ ਜਾਂਦਾ ਹੈ?

(ੳ) ਵਾਰ (ਅ) ਕਿੱਸਾ (ੲ) ਜੰਗਨਾਮਾ (ਸ) ਸੱਦ

Q 285. ਦਿੱਤੇ ਗਏ ਪੰਜ ਚਿੱਤਰਾਂ A,B,C,D,E ਵਿੱਚੋਂ ਕਿਹੜੇ ਤਿੰਨ ਚਿੱਤਰ ਮਿਲਕੇ ਇੱਕ ਵਰਗ ਬਣਾਉਣਗੇ? Out of given 5 figures A,B,C,D,E which three figures on joining for a square?



(ੳ) A,B,C

(ਅ) B,C,D

(ੲ) C,D,E

(ਸ) B,C,E

ਨੋਟ:- ਉੱਤਰ ਅਗਲੇ ਦਿਨ ਦੀ ਸ਼ੀਟ ਵਿੱਚ ਭੇਜੇ ਜਾਣਗੇ, ਤਦ ਤੱਕ ਦਿਮਾਗੀ ਕਸਰਤ ਕਰੋ।

ਸ਼ੀਟ ਨੰਬਰ 56 ਦੇ ਸਹੀ ਉੱਤਰ

Ans 276 (ਅ) 11

Ans 277 (ਅ) Lotus

Ans 278 (ਅ) China-India

Ans 279 (ਸ) ਹਾਈਡਰਾ

Ans 280 (ੲ) 46



“ Save the Nature & Save your Life ”

ਸਕੂਲ ਸਿੱਖਿਆ ਵਿਭਾਗ, ਪੰਜਾਬ



ਉਡਾਣ



ਨੌਵੀਂ ਤੋਂ ਦਸਵੀਂ ਜਮਾਤ ਦੇ ਵਿਦਿਆਰਥੀਆਂ ਲਈ
ਸ਼ੀਟ ਨੰ: 58 ਮਿਤੀ : 14-08-2019

Q 286. 'ਬਾਲ, ਪਾਲ, ਲਾਲ' ਵਿੱਚੋਂ ਬਾਲ ਕੌਣ ਸਨ? Who was the Bal in' Bal, Pal, Lal'?

- (ੳ) Lal Bahadur Shastri (ਅ) Bal Gangadhar Tilak
(ੲ) Jawaharlal Nehru (ਸ) Motilal Nehru

Q 287. 'ਤੁਸੀਂ ਮੈਨੂੰ ਖੂਨ ਦੇਵੋ, ਮੈਂ ਤੁਹਾਨੂੰ ਅਜ਼ਾਦੀ ਦੇਵਾਂਗਾ' ਇਹ ਨਾਅਰਾ ਕਿਸ ਨੇ ਦਿੱਤਾ?

Who gave the slogan "Give me blood and I promise you freedom"?

- (ੳ) Bal Gangadhar Tilak (ਅ) Subash Chandra Bose
(ੲ) Mahatma Gandhi (ਸ) S. Bhagat Singh

Q 288. ਭਾਰਤ ਦੇ ਰਾਸ਼ਟਰੀ ਗਾਣੇ ਦਾ ਲੇਖਕ ਕੌਣ ਹੈ?

Who is the author of the National Anthem of India?

- (ੳ) Rabindranath Tagore (ਅ) Vallabhbhai Patel
(ੲ) Bankim Chandra Chatterjee (ਸ) Subhash Chandra Bose

Q 289. ਦੇਸ਼ ਦੀ ਅਜ਼ਾਦੀ ਦੀ ਲੜਾਈ ਦੇ ਪਹਿਲੇ ਸ਼ਹੀਦ ਕੌਣ ਸਨ?

Who was the first martyr of the country's Independence war?

- (ੳ) Rani Laxmi Bai (ਅ) Tantia Tope
(ੲ) Nana Saheb (ਸ) Mangal Pandey

Q 290. ਭਾਰਤ ਦਾ 'ਰਾਸ਼ਟਰੀ ਮਾਟੋ' ਕੀ ਹੈ? What is the 'national motto' of India?

- (ੳ) Work Hard (ਅ) Satyameva Jayathe
(ੲ) Help the Needy (ਸ) Speak the Truth

ਨੋਟ:- ਉੱਤਰ ਅਗਲੇ ਦਿਨ ਦੀ ਸ਼ੀਟ ਵਿੱਚ ਭੇਜੇ ਜਾਣਗੇ, ਤਦ ਤੱਕ ਦਿਮਾਗੀ ਕਸਰਤ ਕਰੋ।

ਸ਼ੀਟ ਨੰਬਰ 57 ਦੇ ਸਹੀ ਉੱਤਰ

Ans 281 (ੲ) ਮੈਰੀਨਾ ਬੀਚ

Ans 282 (ੲ) ਆਰੀਆ ਭੱਟ

Ans 283 (ੲ) ਨਾਈਟ੍ਰੋਜਨ Nitrogen

Ans 284 (ੳ) ਵਾਰ

Ans 285 (ਸ) B,C,E



ਸਕੂਲ ਸਿੱਖਿਆ ਵਿਭਾਗ, ਪੰਜਾਬ



ਉਡਾਣ

ਨੌਵੀਂ ਅਤੇ ਦਸਵੀਂ ਜਮਾਤ ਦੇ ਵਿਦਿਆਰਥੀਆਂ ਲਈ
ਸ਼ੀਟ ਨੰ: 59 ਮਿਤੀ 17-08-2019

Q 291. ਬੱਚਿਆਂ ਦੀ ਸਹਾਇਤਾ ਲਈ ਭਾਰਤ ਸਰਕਾਰ ਨੇ ਕਿਹੜਾ ਹੈਲਪਲਾਈਨ ਨੰਬਰ ਜਾਰੀ ਕੀਤਾ ਹੈ? Which helpline number has been given by Govt. of India for helping the children?

(ੳ) 100 (ਅ) 1098 (ੲ) 1234 (ਸ) 111

Q 292. ਕਿਹੜੀ ਅਧਾਤ ਤਰਲ ਹੈ? Which non-metal is a liquid?

(ੳ) ਸੋਡੀਅਮ (ਅ) ਬਰੋਮਿਨ (ੲ) ਗੰਧਕ (ਸ) ਹਾਈਡਰੋਜਨ

Q 293. ਭਾਰਤੀ ਸੰਗੀਤ ਪ੍ਰਣਾਲੀ ਵਿੱਚ ਸੰਗੀਤ ਦੇ ਕਿੰਨੇ ਸੁਰ ਹਨ?

How many notes (Sur) are there in Indian music system?

(ੳ) ਅੱਠ Eight (ਅ) ਛੇ Six (ੲ) ਸੱਤ Seven (ਸ) ਬਾਰਾਂ Twelve

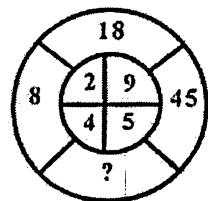
Q 294. ਮਨੁੱਖ ਦਾ ਵਿਗਿਆਨਕ ਨਾਂ ਕੀ ਹੈ? What is the scientific name of a human being?

(ੳ) ਹੋਮੋ ਸੇਪੀਅਨਜ਼ (Homo sapiens) (ਅ) ਪੈਂਥਰਾ ਲੀਓ (Panthera leo)

(ੲ) ਹਿਪੋਕੈਂਪਸ (Hippocampus) (ਸ) ਕੈਨਿਸ ਫੈਮੀਲੀਅਰਿਸ (Canis familiaris)

Q 295. ਹੇਠ ਦਿੱਤੀ ਤਸਵੀਰ ਵਿੱਚ (?) ਦੀ ਥਾਂ ਤੇ ਢੁੱਕਵੀਂ ਸੰਖਿਆ ਭਰੋ।

Fill up a suitable number in the place of (?) in the figure given below.



(ੳ) 20 (ਅ) 23 (ੲ) 29 (ਸ) 17

ਨੋਟ:- ਉੱਤਰ ਅਗਲੇ ਦਿਨ ਦੀ ਸ਼ੀਟ ਵਿੱਚ ਭੇਜੇ ਜਾਣਗੇ, ਤਦ ਤੱਕ ਦਿਮਾਗੀ ਕਸਰਤ ਕਰੋ।

ਸ਼ੀਟ ਨੰਬਰ 58 ਦੇ ਸਹੀ ਉੱਤਰ

Ans 286 (ਅ) Bal Gangadhar Tilak Ans 287 (ਅ) Subhash Chandra Bose

Ans 288 (ੳ) Rabindranath Tagore Ans 289 (ਸ) Mangal Pandey

Ans 290 (ਅ) Satyameva Jayathe



“ Save the Nature & Save your Life ”
ਸਕੂਲ ਸਿੱਖਿਆ ਵਿਭਾਗ, ਪੰਜਾਬ



ਉਡਾਣ

ਨੌਵੀਂ ਅਤੇ ਦਸਵੀਂ ਜਮਾਤ ਦੇ ਵਿਦਿਆਰਥੀਆਂ ਲਈ
ਸ਼ੀਟ ਨੰ: 60 ਮਿਤੀ 19-08-2019

Q 296. ਲੋਕ ਸਭਾ ਲਈ ਸਭ ਤੋਂ ਵੱਧ ਮੈਂਬਰ ਕਿਸ ਰਾਜ ਵਿੱਚੋਂ ਚੁਣੇ ਜਾਂਦੇ ਹਨ?

For Lok Sabha, maximum members are elected from which state?

(ੳ) ਉੱਤਰ ਪ੍ਰਦੇਸ਼ (ਅ) ਮੱਧ ਪ੍ਰਦੇਸ਼ (ੲ) ਬਿਹਾਰ (ਸ) ਰਾਜਸਥਾਨ

Q 297. ਕੰਪਿਊਟਰ ਕਿਹੜੀ ਭਾਸ਼ਾ ਸਮਝਦਾ ਹੈ?

Which language does a computer understand?

(ੳ) Binary Language (ਅ) Punjabi Language

(ੲ) English Language (ਸ) Official Language

Q 298. ਨਾਸਿਕੀ ਧੁਨੀਆਂ ਕਿਹੜੀਆਂ ਹਨ?

(ੳ) ਜਿਨ੍ਹਾਂ ਦਾ ਉਚਾਰਨ ਨੱਕ ਦੁਆਰਾ ਹੋਵੇ

(ਅ) ਜਿਨ੍ਹਾਂ ਦਾ ਉਚਾਰਨ ਨਾਲ ਜੀਭ ਤਾਲੂ ਨਾਲ ਲੱਗੇ

(ੲ) ਜਿਨ੍ਹਾਂ ਦਾ ਉਚਾਰਨ ਨਾਲ ਜੀਭ ਦੰਦਾਂ ਨੂੰ ਲੱਗੇ

(ਸ) ਇਹਨਾਂ ਵਿੱਚੋਂ ਕੋਈ ਨਹੀਂ

Q 299. ਜੇਕਰ ਕਿਸੇ ਭਾਸ਼ਾ ਵਿੱਚ TRIPPLE ਦਾ ਕੋਡ SQHOOKD ਹੈ ਤਾਂ ਉਸੇ ਭਾਸ਼ਾ ਵਿੱਚ DISPOSE ਦਾ ਕੋਡ ਕੀ ਹੋਵੇਗਾ। In any language, if code for TRIPPLE is SQHOOKD, then what will be the code for DISPOSE in the same language?

(ੳ) CHRONRD (ਅ) DSOESPI (ੲ) ESJTPTF (ਸ) ESOPSID

Q 300. A group of wolves is called.....

(ੳ) Crew (ਅ) pack (ੲ) shoal (ਸ) herd

ਨੋਟ:- ਉੱਤਰ ਅਗਲੇ ਦਿਨ ਦੀ ਸ਼ੀਟ ਵਿੱਚ ਭੇਜੇ ਜਾਣਗੇ, ਤਦ ਤੱਕ ਦਿਮਾਗੀ ਕਸਰਤ ਕਰੋ।

ਸ਼ੀਟ ਨੰਬਰ 59 ਦੇ ਸਹੀ ਉੱਤਰ

Ans 291 (ਅ) 1098

Ans 292 (ਅ) ਬਰੋਮਿਨ

Ans 293 (ੲ) ਸੱਤ Seven

Ans 294 (ੳ) ਹੋਮੋ ਸੇਪੀਅਨਜ਼ Homo sapiens

Ans 295 (ੳ) 20



“ Save the Nature & Save your Life ”
ਸਕੂਲ ਸਿੱਖਿਆ ਵਿਭਾਗ, ਪੰਜਾਬ



ਉਡਾਣ

ਨੌਵੀਂ ਅਤੇ ਦਸਵੀਂ ਜਮਾਤ ਦੇ ਵਿਦਿਆਰਥੀਆਂ ਲਈ

ਸ਼ੀਟ ਨੰ: 61

ਮਿਤੀ 20-08-2019

Q 301. ਨਗਰ ਪਾਲਿਕਾ ਅਤੇ ਗ੍ਰਾਮ ਪੰਚਾਇਤ ਦੀਆ ਚੋਣਾਂ ਕਰਵਾਉਣ ਦੇ ਪ੍ਰਬੰਧਾਂ ਦੀ ਜ਼ਿੰਮੇਵਾਰੀ ਕਿਸਦੀ ਹੈ? Who is responsible to conduct the Municipal corporation and Gram Panchyat elections?

- (ੳ) ਰਾਜ ਸਰਕਾਰ ਦੀ (ਅ) ਕੇਂਦਰ ਸਰਕਾਰ ਦੀ
 (ੲ) ਵਿਧਾਨ ਸਭਾ ਦੀ (ਸ) ਰਾਜ ਚੋਣ ਆਯੋਗ ਦੀ

Q 302. ਕਿਸ ਸਾਬਕਾ ਰਾਸ਼ਟਰਪਤੀ ਨੂੰ 2019 ਦਾ ਭਾਰਤ ਰਤਨ ਐਵਾਰਡ ਦਿੱਤਾ ਗਿਆ?

Which ex President of India has been conferred 'Bharat Ratan' in 2019?

- (ੳ) ਸ਼੍ਰੀਮਤੀ ਪ੍ਰਤਿਭਾ ਪਾਟਿਲ (ਅ) ਡਾ. ਏ.ਪੀ.ਜੇ.ਅਬਦੁਲ ਕਲਾਮ
 (ੲ) ਸ਼੍ਰੀ ਪ੍ਰਣਬ ਮੁਖਰਜੀ (ਸ) ਸ਼੍ਰੀ ਸੰਕਰ ਦਿਆਲ ਸ਼ਰਮਾ

Q 303. ਦੂਰ ਦ੍ਰਿਸ਼ਟੀ ਨੁਕਸ ਕਿਸ ਤਰ੍ਹਾਂ ਦੂਰ ਕੀਤਾ ਜਾ ਸਕਦਾ ਹੈ?

How can hypermetropia be corrected?

- (ੳ) ਅਵਤਲ ਲੈਨਜ਼ ਨਾਲ (Concave Lens)
 (ਅ) ਉੱਤਲ ਲੈਨਜ਼ (Convex Lens)
 (ੲ) ਅਵਤਲ ਅਤੇ ਉੱਤਲ ਲੈਨਜ਼ (Concave and Convex Lens)
 (ਸ) ਇਹਨਾਂ ਵਿੱਚੋਂ ਕੋਈ ਨਹੀਂ (None of these)

Q 304. ਚੱਕਰ ਨੂੰ ਇੱਕ ਬਿੰਦੂ ਤੋਂ ਛੂਹ ਕੇ ਜਾਂਦੀ ਰੇਖਾ ਨੂੰ ਕਿਹੜੀ ਰੇਖਾ ਕਿਹਾ ਜਾਂਦਾ ਹੈ?

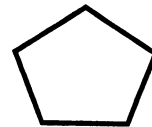
What a line that touch at a single point on a circle is called?

- (ੳ) ਕਾਟਵੀਂ ਰੇਖਾ (Intersecting line) (ਅ) ਸ਼ਪਰਸ ਰੇਖਾ (Tangent)
 (ੲ) ਛੇਦਕ ਰੇਖਾ (secant) (ਸ) ਸਮਾਨਅੰਤਰ ਰੇਖਾ (Parallel line)

Q 305. ਪੰਜ ਭੁਜ ਦੇ ਕਿੰਨੇ ਵਿਕਰਨ ਹੁੰਦੇ ਹਨ ?

How many diagonals are in a pentagon?

- (ੳ) 5 (ਅ) 2 (ੲ) 3 (ਸ) 4



ਨੋਟ:- ਉੱਤਰ ਅਗਲੇ ਦਿਨ ਦੀ ਸ਼ੀਟ ਵਿੱਚ ਭੇਜੇ ਜਾਣਗੇ, ਤਦ ਤੱਕ ਦਿਮਾਗੀ ਕਸਰਤ ਕਰੋ।

ਸ਼ੀਟ ਨੰਬਰ 60 ਦੇ ਸਹੀ ਉੱਤਰ

Ans 296 (ੳ) ਉੱਤਰ ਪ੍ਰਦੇਸ਼

Ans 297 (ੳ) Binary Language

Ans 298 (ੳ) ਜਿਨ੍ਹਾਂ ਦਾ ਉਚਾਰਨ ਨੱਕ ਦੁਆਰਾ ਹੋਵੇ

Ans 299 (ੳ) CHRONRD

Ans 300 (ਅ) pack

"ਕੋਸ਼ਿਸ ਕਰਨ ਵਾਲਿਆਂ ਦੀ ਹਮੇਸ਼ਾ ਜਿੱਤ ਹੁੰਦੀ ਹੈ।"

ਸਕੂਲ ਸਿੱਖਿਆ ਵਿਭਾਗ, ਪੰਜਾਬ



ਉਡਾਣ

ਨੌਵੀਂ ਅਤੇ ਦਸਵੀਂ ਜਮਾਤ ਦੇ ਵਿਦਿਆਰਥੀਆਂ ਲਈ

ਸ਼ੀਟ ਨੰ: 62

ਮਿਤੀ 21-08-2019

Q 306. ਨੋਬਲ ਪੁਰਸਕਾਰ ਪ੍ਰਾਪਤ ਕਰਨ ਵਾਲੇ ਪਹਿਲੇ ਭਾਰਤੀ ਕੌਣ ਸਨ?

Who was the first Indian to receive a Nobel Prize?

(ੳ) Mother Teresa

(ਅ) Hargobind Tagore

(ੲ) C V Raman

(ਸ) Rabindranath Tagore

Q 307. ਹੇਠ ਲਿਖਿਆਂ ਵਿੱਚੋਂ ਕਿਹੜਾ ਭਾਰਤੀ ਰਾਜ ਕੁਦਰਤੀ ਰਬੜ ਦਾ ਸਭ ਤੋਂ ਵੱਡਾ ਉਤਪਾਦਕ ਹੈ? Which one of the following Indian states is the largest producer of natural rubber?

(ੳ) Tamil Nadu

(ਅ) Kerala

(ੲ) Assam

(ਸ) Andhra Pradesh

Q 308. Kangaroo is the national animal of..... ਕੰਗਾਰੂ ... ਦਾ ਰਾਸ਼ਟਰੀ ਜਾਨਵਰ ਹੈ।

(ੳ) Pakistan

(ਅ) Thailand

(ੲ) Australia

(ਸ) India

Q 309. A noun that refers to a male is said to be the.....

ਜਿਹੜਾ ਨਾਉਂ ਮਰਦ ਲਈ ਵਰਤਿਆ ਜਾਵੇ, ਉਸ ਨੂੰ ਲਿੰਗ ਆਖਦੇ ਹਨ।।

(ੳ) Masculine Gender

(ਅ) Feminine Gender

(ੲ) Common Gender

(ਸ) Neuter Gender

Q 310. ਪੰਜ ਲੜਕਿਆਂ ਨੇ ਦੌੜ ਵਿੱਚ ਭਾਗ ਲਿਆ। ਰਾਜ ਮੋਹਿਤ ਤੋਂ ਅੱਗੇ ਪਰ ਗੌਰਵ ਤੋਂ ਪਿੱਛੇ ਰਿਹਾ। ਅਸ਼ੀਸ ਸੰਜਿਤ ਤੋਂ ਅੱਗੇ ਪਰ ਮੋਹਿਤ ਤੋਂ ਪਿੱਛੇ ਰਿਹਾ। ਦੌੜ ਵਿੱਚੋਂ ਕੌਣ ਜੇਤੂ ਰਿਹਾ? Five boys participated in a race. Raj was ahead of Mohit but behind Gaurav. Ashish was ahead of Sanjit but behind Mohit. Who won the race?

(ੳ) ਰਾਜ (Raj)

(ਅ) ਗੌਰਵ (Gaurav)

(ੲ) ਮੋਹਿਤ (Mohit)

(ਸ) ਅਸ਼ੀਸ (Ashish)

ਨੋਟ:- ਉੱਤਰ ਅਗਲੇ ਦਿਨ ਦੀ ਸ਼ੀਟ ਵਿੱਚ ਭੇਜੇ ਜਾਣਗੇ, ਤਦ ਤੱਕ ਦਿਮਾਗੀ ਕਸਰਤ ਕਰੋ।

ਸ਼ੀਟ ਨੰਬਰ 61 ਦੇ ਸਹੀ ਉੱਤਰ

Ans 301 (ਸ) ਰਾਜ ਚੋਣ ਆਯੋਗ ਦੀ

Ans 302 (ੲ) ਸ੍ਰੀ ਪ੍ਰਣਬ ਮੁਖਰਜੀ

Ans 303 (ਅ) ਉੱਤਲ ਲੈਨਜ਼ (Convex Lens)

Ans 304 (ਅ) ਸ਼ਪਰਸ ਰੇਖਾ

(Tangent)

Ans 305 (ੳ) 5

"ਕੋਸ਼ਿਸ ਕਰਨ ਵਾਲਿਆਂ ਦੀ ਹਮੇਸ਼ਾ ਜਿੱਤ ਹੁੰਦੀ ਹੈ।"

ਸਕੂਲ ਸਿੱਖਿਆ ਵਿਭਾਗ, ਪੰਜਾਬ



ਉਡਾਣ

ਨੌਵੀਂ ਅਤੇ ਦਸਵੀਂ ਜਮਾਤ ਦੇ ਵਿਦਿਆਰਥੀਆਂ ਲਈ
ਸ਼ੀਟ ਨੰ: 63 ਮਿਤੀ 22-08-2019

Q 311. ਭਾਰਤ ਦਾ ਸਭ ਤੋਂ ਵੱਡਾ ਡੈਲਟਾ ਕਿਹੜਾ ਹੈ? Which is the largest Delta in India?

- (ੳ) ਕਾਵੇਰੀ ਡੈਲਟਾ (ਅ) ਸੁੰਦਰ ਬਨ ਡੈਲਟਾ
(ੲ) ਮਹਾਂਨਦੀ ਡੈਲਟਾ (ਸ) ਬੋਲਗਾ ਡੈਲਟਾ

Q 312. ਕੁਤਬਮੀਨਾਰ ਦੀ ਉਸਾਰੀ ਕਿਸ ਨੇ ਸ਼ੁਰੂ ਕਰਵਾਈ ?

- (ੳ) ਕੁਤਬਦੀਨ ਐਬਕ (ਅ) ਰਜ਼ੀਆ ਸੁਲਤਾਨ (ੲ) ਬਾਬਰ (ਸ) ਇਲਤੁਤਮਿਸ

Q 313. ਭਾਰਤ ਦੇ ਟ੍ਰੈਫਿਕ ਨਿਯਮਾਂ ਅਨੁਸਾਰ ਹੇਠ ਦਿੱਤੇ ਚਿੰਨ੍ਹ ਤੋਂ ਕੀ ਭਾਵ ਹੈ?



- (ੳ) ਅੱਗੇ ਬਜ਼ਾਰ ਹੈ। (ਅ) ਅੱਗੇ ਖੇਡ ਗਰਾਊਂਡ ਹੈ।
(ੲ) ਅੱਗੇ ਜਾਮ ਲੱਗਿਆ ਹੈ। (ਸ) ਅੱਗੇ ਸਕੂਲ ਹੈ।

Q 314. ਚਾਰ ਅੰਕਾਂ ਦੀ ਪੂਰਨ ਵਰਗ ਸੰਖਿਆ ਦੱਸੋ ਜੋ ਪੂਰਨ ਵਰਗ ਹੋਵੇ?
which is the largest 4 digit perfect square numbers ?

- (ੳ) 9999 (ਅ) 1024 (ੲ) 9801 (ਸ) 1000

Q 315. 'One who treats all teeth problems' is called

- (ੳ) Chemist (ਅ) Dentist (ੲ) Cardiologist (ਸ) Surgeon

ਨੋਟ:- ਉੱਤਰ ਅਗਲੇ ਦਿਨ ਦੀ ਸ਼ੀਟ ਵਿੱਚ ਭੇਜੇ ਜਾਣਗੇ, ਤਦ ਤੱਕ ਦਿਮਾਗੀ ਕਸਰਤ ਕਰੋ।

ਸ਼ੀਟ ਨੰਬਰ 62 ਦੇ ਸਹੀ ਉੱਤਰ

Ans 306 (ਸ) Rabindranath Tagore

Ans 307 (ਅ) Kerala

Ans 308 (ੲ) Australia

Ans 309 (ੳ) Masculine Gender

Ans 310 (ਅ) ਗੌਰਵ (Gaurav)

"ਕੋਸ਼ਿਸ ਕਰਨ ਵਾਲਿਆਂ ਦੀ ਹਮੇਸ਼ਾ ਜਿੱਤ ਹੁੰਦੀ ਹੈ।"
ਸਕੂਲ ਸਿੱਖਿਆ ਵਿਭਾਗ, ਪੰਜਾਬ



ਉਡਾਣ

ਨੌਵੀਂ ਅਤੇ ਦਸਵੀਂ ਜਮਾਤ ਦੇ ਵਿਦਿਆਰਥੀਆਂ ਲਈ
ਸ਼ੀਟ ਨੰ: 64 ਮਿਤੀ 23-08-2019

Q 316. ਭਾਰਤ ਦਾ ਪਹਿਲਾ ਅਖਬਾਰ ਕਿਹੜਾ ਸੀ? Which was the first newspaper of India?

(ੳ) ਬੰਗਾਲ ਗਜ਼ਟ (ਅ) ਬੰਬੇ ਸਮਾਚਾਰ (ੲ) ਦਾ ਹਿੰਦੂ (ਸ) ਦਾ ਟੈਲੀਗ੍ਰਾਫ

Q 317. ਕੁਨੀਨ ਕਿਸ ਦਰੱਖਤ ਤੋਂ ਤਿਆਰ ਹੁੰਦੀ ਹੈ? Quinine is prepared from which plant?

(ੳ) ਨਿੰਮ (ਅ) ਪਿੱਪਲ (ੲ) ਸਿਨਕੋਨਾ (ਸ) ਮੈਰੀਗੋਲਡ

Q 318. ਚਤੁਰਭੁਜ ਦੇ ਚਾਰੇ ਕੋਣਾਂ ਦਾ ਜੋੜ ਕਿੰਨਾ ਹੁੰਦਾ ਹੈ? What is the sum of all angles of a quadrilateral ?

(ੳ) 90° (ਅ) 180° (ੲ) 270° (ਸ) 360°


Q 319. Computer cannot work without _____

(ੳ) Internet (ਅ) software (ੲ) e-mail (ਸ) mouse

Q 320. ਤਰਤੀਬ ਸਹੀ ਕਰਨ ਲਈ ਉੱਤਰ ਚਿੱਤਰ ਵਿੱਚੋਂ ਸਹੀ ਉੱਤਰ ਲੱਭੋ? Find the suitable figure from the answer pictures to complete the sequence of figures given below.

ਪ੍ਰਸ਼ਨ ਚਿੱਤਰ

(ਉੱਤਰ ਚਿੱਤਰ)



(ੳ) (ਅ) (ੲ) (ਸ)

ਨੋਟ:- ਉੱਤਰ ਅਗਲੇ ਦਿਨ ਦੀ ਸ਼ੀਟ ਵਿੱਚ ਭੇਜੇ ਜਾਣਗੇ, ਤਦ ਤੱਕ ਦਿਮਾਗੀ ਕਸਰਤ ਕਰੋ।

ਸ਼ੀਟ ਨੰਬਰ 63 ਦੇ ਸਹੀ ਉੱਤਰ

Ans 311 (ਅ) ਸੁੰਦਰ ਬਨ ਡੈਲਟਾ

Ans 312 (ੳ) ਕੁਤਬਦੀਨ ਐਬਕ

Ans 313 (ਸ) ਅੱਗੇ ਸਕੂਲ ਹੈ।

Ans 314 (ੲ) 9801

Ans 315 (ਅ) Dentist



" A Library without Books is a like Tree without Birds "

ਸਕੂਲ ਸਿੱਖਿਆ ਵਿਭਾਗ, ਪੰਜਾਬ





ਉਡਾਣ

ਨੌਵੀਂ ਅਤੇ ਦਸਵੀਂ ਜਮਾਤ ਦੇ ਵਿਦਿਆਰਥੀਆਂ ਲਈ
ਸ਼ੀਟ ਨੰ: 65 ਮਿਤੀ 26-08-2019

Q 321. ਘਰਾਂ ਵਿੱਚ ਆਮ ਵਰਤੇ ਜਾਣ ਵਾਲੇ ਦਰਪਣ ਨੂੰ ਕੀ ਕਹਿੰਦੇ ਹਨ?

Which type of mirror is commonly used in homes?

(ੳ) ਉੱਤਲ ਦਰਪਣ(concave) (ਅ) ਅਵਤਲ ਦਰਪਣ(convex)

(ੲ) ਸਮਤਲ (plane) (ਸ) 'ੳ' ਅਤੇ 'ਅ' ਦੋਵੇਂ(both 'ੳ' and 'ਅ')

Q 322. 'ਕਿਰਤ ਕਰੋ, ਨਾਮ ਜਪੋ, ਵੰਡ ਛਕੋ' ਕਿਸ ਗੁਰੂ ਸਾਹਿਬ ਜੀ ਦਾ ਉਪਦੇਸ਼ ਹੈ ?

(ੳ) ਸ੍ਰੀ ਗੁਰੂ ਅਮਰ ਦਾਸ ਜੀ (ਅ) ਸ੍ਰੀ ਗੁਰੂ ਨਾਨਕ ਦੇਵ ਜੀ

(ੲ) ਸ੍ਰੀ ਗੁਰੂ ਗੋਬਿੰਦ ਸਿੰਘ ਜੀ (ਸ) ਸ੍ਰੀ ਗੁਰੂ ਅਰਜਨ ਦੇਵ ਜੀ

Q 323. ਗੂਗਲ ਕੀ ਹੈ? What is 'Google'?

(ੳ) Opreting system (ਅ) Search Engine (ੲ) Virus (ਸ) Browser

Q 324. ਹਿਮਾਯੂਂ ਦਾ ਮਕਬਰਾ ਕਿੱਥੇ ਹੈ? Where is Humanyus's tomb situated ?

(ੳ) ਦਿੱਲੀ (ਅ) ਆਗਰਾ (ੲ) ਫਤਿਹਪੁਰ ਸੀਕਰੀ (ਸ) ਕਾਬੁਲ

Q 325. ਕਿਸੇ ਭਾਸ਼ਾ ਵਿੱਚ '467' ਦਾ ਅਰਥ 'leaves are green' ਹੈ। '485' ਦਾ ਅਰਥ 'green is gold' ਅਤੇ '639' ਦਾ ਅਰਥ 'they are playing' ਹੈ। ਇਸ ਭਾਸ਼ਾ ਵਿੱਚ Leaves ਦਾ ਕੋਡ ਦੱਸੋ?

If 467 means 'leaves are green'. 485 means 'green is gold' and 639 is 'they are playing' in a code language. Find the code for 'Leaves' in this language.

(ੳ) 4 (ਅ) 6 (ੲ) 7 (ਸ) 3

ਨੋਟ:- ਉੱਤਰ ਅਗਲੇ ਦਿਨ ਦੀ ਸ਼ੀਟ ਵਿੱਚ ਭੇਜੇ ਜਾਣਗੇ, ਤਦ ਤੱਕ ਦਿਮਾਗੀ ਕਸਰਤ ਕਰੋ।

ਸ਼ੀਟ ਨੰਬਰ 64 ਦੇ ਸਹੀ ਉੱਤਰ

Ans 316 (ੳ) ਬੰਗਾਲ ਗਜ਼ਟ

Ans 317 (ੲ) ਸਿਨਕੋਨਾ

Ans 318 (ਸ) 360°

Ans 319 (ਅ) software

Ans 320 (ੲ)



" A Library without Books is a like Tree without Birds"

ਸਕੂਲ ਸਿੱਖਿਆ ਵਿਭਾਗ, ਪੰਜਾਬ





ਉਡਾਣ

ਨੌਵੀਂ ਅਤੇ ਦਸਵੀਂ ਜਮਾਤ ਦੇ ਵਿਦਿਆਰਥੀਆਂ ਲਈ

ਸ਼ੀਟ ਨੰ: 66

ਮਿਤੀ 27-08-2019

Q 326. ਭਾਰਤ ਵਿੱਚ ਕਿਹੜਾ ਰਾਜ ਸਭ ਤੋਂ ਵੱਧ ਚਾਵਲ ਪੈਦਾ ਕਰਦਾ ਹੈ? Which state of India is the largest producer of Rice ?

(ੳ) ਪੰਜਾਬ (ਅ) ਹਰਿਆਣਾ (ੲ) ਪੱਛਮੀ ਬੰਗਾਲ (ਸ) ਉੱਤਰ ਪ੍ਰਦੇਸ਼

Q 327. ਇੱਕ ਸਮਚਤੁਰਭੁਜ ਦੇ ਵਿਕਰਨ ਆਪਸ ਵਿੱਚ ਕਿੰਨੇ ਡਿਗਰੀ ਦੇ ਕੋਣ ਤੇ ਕੱਟਦੇ ਹਨ?

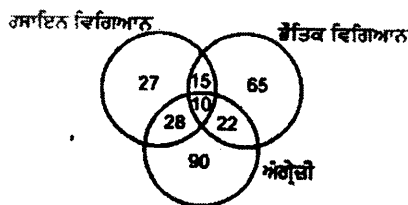
At what angles do the diagonal of a Rhombus intersect ?

(ੳ) 60° (ਅ) 90° (ੲ) 120° (ਸ) 180°

Q 328. The words, 'honesty', 'bravery', 'kindness', and 'hope' are.....

(ੳ) Common Nouns (ਅ) Proper Nouns
(ੲ) Abstract Nouns (ਸ) Collective Nouns

Q329. ਹੇਠ ਦਿੱਤੀ ਤਸਵੀਰ ਦਾ ਵਿਸ਼ਲੇਸ਼ਣ ਕਰਕੇ ਦੱਸੋ ਕਿ ਇੱਕ ਸਕੂਲ ਵਿੱਚ ਵਿਦਿਆਰਥੀਆਂ ਦਾ ਭੌਤਿਕ ਵਿਗਿਆਨ, ਰਸਾਇਣ ਵਿਗਿਆਨ ਅਤੇ ਅੰਗਰੇਜ਼ੀ ਵਿਸ਼ੇ ਦੇ ਪੇਪਰ ਵਿੱਚੋਂ ਕਿੰਨੇ ਵਿਦਿਆਰਥੀ ਤਿੰਨੇ ਵਿਸ਼ਿਆਂ ਵਿੱਚੋਂ ਪਾਸ ਹੋਏ? Analyse the following picture and answer that how many students have cleared all three subjects of Physics, Chemistry and Biology in a school examination.



(ੳ) 25 (ਅ) 38 (ੲ) 32 (ਸ) 10

Q 330. ਕੁਦਰਤੀ ਪਾਣੀ ਦਾ ਸ਼ੁੱਧ ਰੂਪ ਕਿਹੜਾ ਹੈ ? What is the purest form of natural water?

(ੳ) ਫਿਲਟਰ ਦਾ ਪੀਣ (ਅ) ਮੀਂਹ ਦਾ ਪਾਣੀ
(ੲ) ਖੂਹ ਦਾ ਪਾਣੀ (ਸ) ਨਲਕੇ ਦਾ ਪਾਣੀ

ਨੋਟ:- ਉੱਤਰ ਅਗਲੇ ਦਿਨ ਦੀ ਸ਼ੀਟ ਵਿੱਚ ਭੇਜੇ ਜਾਣਗੇ, ਤਦ ਤੱਕ ਦਿਮਾਗੀ ਕਸਰਤ ਕਰੋ।

ਸ਼ੀਟ ਨੰਬਰ 65 ਦੇ ਸਹੀ ਉੱਤਰ

Ans 321 (ੲ) ਸਮਤਲ

Ans 322 (ਅ) ਸ੍ਰੀ ਗੁਰੂ ਨਾਨਕ ਦੇਵ ਜੀ


Ans 323 (ਅ) Search Engine

Ans 324 (ੳ) ਦਿੱਲੀ

Ans 325 (ੲ) 7

“ਸੰਭਵ ਅਤੇ ਅਸੰਭਵ ਵਿਚਕਾਰ ਅੰਤਰ ਕਾਰਜ ਦਾ ਹੀ ਹੁੰਦਾ ਹੈ।”

ਸਕੂਲ ਸਿੱਖਿਆ ਵਿਭਾਗ, ਪੰਜਾਬ



ਉਡਾਣ

ਨੌਵੀਂ ਅਤੇ ਦਸਵੀਂ ਜਮਾਤ ਦੇ ਵਿਦਿਆਰਥੀਆਂ ਲਈ
ਸ਼ੀਟ ਨੰ: 67

ਮਿਤੀ 28-08-2019

Q 331. ਭੂ-ਮੱਧ ਰੇਖਾ ਉੱਤੇ ਰਾਤ ਅਤੇ ਦਿਨ.....ਹੁੰਦੇ ਹਨ। Nights and days on equatorial region are

- (ੳ) Equal (ਅ) Unequal
(ੲ) Less in Length (ਸ) None of these

Q 332. ਪਾਣੀ ਦੀ ਘਣਤਾ ਕਿਸ ਤਾਪਮਾਨ ਤੇ ਸਭ ਤੋਂ ਵੱਧ ਹੁੰਦੀ ਹੈ? At what temperature does the water have maximum density ?

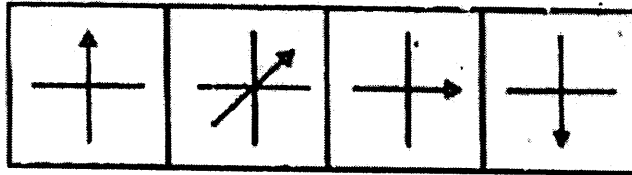
- (ੳ) 0°C (ਅ) 100°C (ੲ) 4°C (ਸ) 10°C

Q 333. ਦੁਨੀਆਂ ਦਾ ਸਭ ਤੋਂ ਲੰਬਾ ਡੈਮ ਕਿਹੜਾ ਹੈ? Which is the longest dam of the world?

- (ੳ) ਹੀਰਾ ਕੁੰਡ (ਉੜੀਸਾ) (ਅ) ਟੀਹਰੀ ਡੈਮ (ਉੱਤਰਾਖੰਡ)
(ੲ) ਭਾਖੜਾ ਡੈਮ (ਹਿਮਾਚਲ ਪ੍ਰਦੇਸ) (ਸ) ਰਣਜੀਤ ਸਾਗਰ ਡੈਮ (ਪੰਜਾਬ)

Q 334. ਹੇਠ ਦਿੱਤੇ ਚਿੱਤਰਾਂ ਵਿੱਚੋਂ ਕਿਹੜਾ ਚਿੱਤਰ ਬਾਕੀਆਂ ਨਾਲੋਂ ਅਲੱਗ ਹੈ?

Following set of figures, select the one that is different from rest?



- (ੳ) (ਅ) (ੲ) (ਸ)

Q 335. OMR ਦਾ ਪੂਰਾ ਨਾਮ ਕੀ ਹੈ? What is the full form of OMR?

- (ੳ) Optical Mark Reader (ਅ) On Mark Reader
(ੲ) On Money Reader (ਸ) Optical Mark Run

ਨੋਟ:- ਉੱਤਰ ਅਗਲੇ ਦਿਨ ਦੀ ਸ਼ੀਟ ਵਿੱਚ ਭੇਜੇ ਜਾਣਗੇ, ਤਦ ਤੱਕ ਦਿਮਾਗੀ ਕਸਰਤ ਕਰੋ।

ਸ਼ੀਟ ਨੰਬਰ 66 ਦੇ ਸਹੀ ਉੱਤਰ

Ans 326 (ੲ) ਪੱਛਮੀ ਬੰਗਾਲ

Ans 327 (ਅ) 90°

Ans 328 (ੲ) Abstract Nouns

Ans 329 (ਸ) 10

Ans 330 (ਅ) ਮੀਂਹ ਦਾ ਪਾਣੀ

“ਸੰਭਵ ਅਤੇ ਅਸੰਭਵ ਵਿਚਕਾਰ ਅੰਤਰ ਕਾਰਜ ਦਾ ਹੀ ਹੁੰਦਾ ਹੈ।”

ਸਕੂਲ ਸਿੱਖਿਆ ਵਿਭਾਗ, ਪੰਜਾਬ



ਉਡਾਣ

ਨੌਵੀਂ ਅਤੇ ਦਸਵੀਂ ਜਮਾਤ ਦੇ ਵਿਦਿਆਰਥੀਆਂ ਲਈ
ਸ਼ੀਟ ਨੰ: 68

ਮਿਤੀ 29-08-2019

Q 336. 'ਗੁਰੂ ਗੋਬਿੰਦ ਸਿੰਘ ਸੁਪਰ ਥਰਮਲ ਪਾਵਰ ਪਲਾਂਟ' ਕਿੱਥੇ ਹੈ?

Where is "Guru Gobind Singh Super Thermol Power Plant" situated?

(ੳ) ਰੂਪਨਗਰ Rupnagar

(ਅ) ਅੰਮ੍ਰਿਤਸਰ Amritsar

(ੲ) ਮਾਨਸਾ Mansa

(ਸ) ਬਠਿੰਡਾ Bhatinda

Q 337. ਭਾਰਤ ਵਿੱਚ ਰਾਸ਼ਟਰਪਤੀ ਅਤੇ ਉਪ-ਰਾਸ਼ਟਰਪਤੀ ਦੀ ਚੋਣ ਕਿਹੜੀ ਵਿਧੀ ਨਾਲ ਕੀਤੀ ਜਾਂਦੀ ਹੈ? Name the procedure adopted for electing the president and vice president of India?

(ੳ) ਪ੍ਰਤੱਖ ਵਿਧੀ Direct Method

(ਅ) ਅਪ੍ਰਤੱਖ ਵਿਧੀ Indirect Method

(ੲ) ਤਾਨਾਸ਼ਾਹੀ ਵਿਧੀ Dictatorship Method

(ਸ) ਕੋਈ ਵੀ ਨਹੀਂ None of these

Q 338. ਪਹਿਲਾਂ ਮਹਾਂਯੁੱਧ ਕਦੋਂ ਹੋਇਆ? When did the first world war occur?

(ੳ) 1915-17

(ਅ) 1939-45

(ੲ) 1914-18

(ਸ) 1920-25

Q 339. ਹੇਠ ਲਿਖਿਆਂ ਵਿੱਚੋਂ ਕਿਹੜੀ ਸਮੱਗਰੀ ਪੈਨਸਿਲਾਂ ਵਿੱਚ ਲਿਖਣ ਦਾ ਕੋਰ ਬਣਾਉਣ ਲਈ ਵਰਤੀ ਜਾਂਦੀ ਹੈ? Which of the following material is used in pencils to makes writing cores of pencils?

(ੳ) Zinc

(ਅ) Copper

(ੲ) Graphite

(ਸ) Iron

Q 340. ਕਿਸੇ ਕੋਡ ਭਾਸ਼ਾ ਵਿੱਚ BLOOD ਨੂੰ 24113, BRUST ਨੂੰ 26078 ਲਿਖਿਆ ਜਾਂਦਾ ਹੈ। ਤਾਂ ROBUST ਦਾ ਕੋਡ ਦੱਸੋ। If in a certain code language BLOOD is written 24113, BRUST is written 26078. Then the code of ROBUST is.

(ੳ) 620781

(ਅ) 612078

(ੲ) 678102

(ਸ) 610732

ਨੋਟ:- ਉੱਤਰ ਅਗਲੇ ਦਿਨ ਦੀ ਸ਼ੀਟ ਵਿੱਚ ਭੇਜੇ ਜਾਣਗੇ, ਤਦ ਤੱਕ ਦਿਮਾਗੀ ਕਸਰਤ ਕਰੋ।

ਸ਼ੀਟ ਨੰਬਰ 67 ਦੇ ਸਹੀ ਉੱਤਰ

Ans 331 (ੳ) Equal

Ans 332 (ੲ) 4°C

Ans 333 (ੳ) ਹੀਰਾ ਕੁੰਡ (ਉੜੀਸਾ)

Ans 334 (ਅ)

Ans 335 (ੳ) Optical Mark Reader

“ਮਿਹਨਤ ਉਹ ਚਾਬੀ ਹੈ ਜੋ ਸਫਲਤਾ ਦਾ ਦਰਵਾਜ਼ਾ ਖੋਲ੍ਹ ਦਿੰਦੀ ਹੈ।”
ਸਕੂਲ ਸਿੱਖਿਆ ਵਿਭਾਗ, ਪੰਜਾਬ



ਉਡਾਣ

ਨੌਵੀਂ ਅਤੇ ਦਸਵੀਂ ਜਮਾਤ ਦੇ ਵਿਦਿਆਰਥੀਆਂ ਲਈ
ਸ਼ੀਟ ਨੰ: 69 ਮਿਤੀ 30-08-2019

Q 341. ਤਾਜ ਮਹੱਲ ਨੂੰ ਕਿਹੜਾ ਪ੍ਰਦੂਸ਼ਣ ਸਭ ਤੋਂ ਜ਼ਿਆਦਾ ਨੁਕਸਾਨ ਪਹੁੰਚਾ ਰਿਹਾ ਹੈ? Which type of pollution is causing damage to 'Taj Mahal'?

- (ੳ) ਪਾਣੀ ਪ੍ਰਦੂਸ਼ਣ (ਅ) ਹਵਾ ਪ੍ਰਦੂਸ਼ਣ
(ੲ) ਸੌਰ ਪ੍ਰਦੂਸ਼ਣ (ਸ) ਇਹਨਾਂ ਵਿੱਚੋਂ ਕੋਈ ਨਹੀਂ

Q 342. ਤਾਰਿਆਂ ਦੀ ਧਰਤੀ ਤੋਂ ਦੂਰੀ ਪਤਾ ਕਰਨ ਲਈ ਕਿਸ ਪੈਮਾਨੇ ਦੀ ਵਰਤੋਂ ਕੀਤੀ ਜਾਂਦੀ ਹੈ? What is the standard unit to measure the distance of stars from the earth ?

- (ੳ) ਕਿਲੋਮੀਟਰ (ਅ) ਮੀਟਰ (ੲ) ਪ੍ਰਕਾਸ਼ ਸਾਲ (ਸ) ਡੈਕਾਮੀਟਰ

Q 343. ਲੋਹੇ ਨੂੰ ਜੰਗ ਤੋਂ ਬਚਾਉਣ ਲਈ ਇਸ ਉੱਪਰ ਕਿਸ ਦਾ ਲੇਪ ਕੀਤਾ ਜਾਂਦਾ ਹੈ?

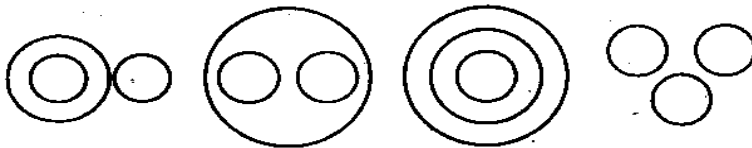
What is coated on iron to protect it from rusting?

- (ੳ) ਐਲੂਮੀਨੀਅਮ (ਅ) ਕਾਪਰ (ੲ) ਜਿੰਕ (ਸ) ਸੋਡੀਅਮ

Q 344. 29 ਅਗਸਤ ਨੂੰ ਜਨਮੇਂ ਮਹਾਨ ਹਾਕੀ ਖਿਡਾਰੀ ਮੇਜ਼ਰ ਧਿਆਨ ਚੰਦ ਦੇ ਜਨਮ ਦਿਨ ਨੂੰ ਕਿਹੜੇ ਦਿਵਸ ਵਜੋਂ ਮਨਾਇਆ ਜਾਂਦਾ ਹੈ? Which day is celebrated on the occasion of Major Dhyan Chand's birthday on August 29 ?

- (ੳ) ਵਾਤਾਵਰਣ ਦਿਵਸ environment day (ੲ) ਰਾਸ਼ਟਰੀ ਯੁਥ ਦਿਵਸ National Youth Day
(ਸ) ਵਿਜੈ ਦਿਵਸ Vijay day (ਅ) ਰਾਸ਼ਟਰੀ ਖੇਡ ਦਿਵਸ National sports Day

Q 345. ਹੇਠ ਲਿਖਿਆਂ ਵਿੱਚੋਂ ਕਿਹੜਾ ਚਿੱਤਰ ਭੋਜਨ, ਸਬਜੀ ਅਤੇ ਗਾਜਰ ਵਿੱਚ ਸਬੰਧ ਨੂੰ ਦਰਸਾਉਂਦਾ ਹੈ? Which one of the following picture depicts the relationship between food ,vegetable and carrot accurately?



- (ੳ) (ਅ) (ੲ) (ਸ)

ਨੋਟ:- ਉੱਤਰ ਅਗਲੇ ਦਿਨ ਦੀ ਸ਼ੀਟ ਵਿੱਚ ਭੇਜੇ ਜਾਣਗੇ, ਤਦ ਤੱਕ ਦਿਮਾਗੀ ਕਸਰਤ ਕਰੋ।

ਸ਼ੀਟ ਨੰਬਰ 68 ਦੇ ਸਹੀ ਉੱਤਰ

Ans 336 (ੳ) ਰੂਪਨਗਰ Rupnagar Ans 337 (ਅ) ਅਪ੍ਰੱਖ ਵਿਧੀ Indirect Method

Ans 338 (ੲ) 1914-18

Ans 339 (ੲ) Graphite

Ans 340 (ਅ) 612078

“ਮਿਹਨਤ ਉਹ ਚਾਬੀ ਹੈ ਜੋ ਸਫਲਤਾ ਦਾ ਦਰਵਾਜ਼ਾ ਖੋਲ੍ਹ ਦਿੰਦੀ ਹੈ।”
ਸਕੂਲ ਸਿੱਖਿਆ ਵਿਭਾਗ, ਪੰਜਾਬ



ਉਡਾਣ

ਨੌਵੀਂ ਅਤੇ ਦਸਵੀਂ ਜਮਾਤ ਦੇ ਵਿਦਿਆਰਥੀਆਂ ਲਈ
ਸ਼ੀਟ ਨੰ: 69 ਦੇ ਉੱਤਰ

ਮਿਤੀ 02-09-2019

ਸਤਿਕਾਰਯੋਗ ਸਕੂਲ ਮੁੱਖੀ ਸਾਹਿਬਾਨ ਜੀਓ,

ਸਕੂਲ ਸਿੱਖਿਆ ਵਿਭਾਗ ਵੱਲੋਂ 9 ਸਤੰਬਰ ਤੋਂ ਪ੍ਰੀਖਿਆਵਾਂ ਕਰਵਾਈਆਂ ਜਾ ਰਹੀਆਂ ਹਨ। ਵਿਦਿਆਰਥੀਆਂ ਵੱਲੋਂ ਪ੍ਰੀਖਿਆਵਾਂ ਦੀ ਤਿਆਰੀ ਦੇ ਮੱਦੇਨਜ਼ਰ ਉਡਾਣ ਪ੍ਰੋਜੈਕਟ ਤਹਿਤ ਭੇਜੇ ਜਾ ਰਹੇ ਆਮ ਗਿਆਨ ਦੇ ਪ੍ਰਸ਼ਨਾਂ ਦਾ ਕੰਮ ਅਗਲੇ ਹੁਕਮਾਂ ਤੱਕ ਰੋਕਿਆ ਜਾਂਦਾ ਹੈ। ਸਤੰਬਰ ਪ੍ਰੀਖਿਆ ਦੇ ਨਾਲ ਹੀ ਇੱਕ ਆਮ ਗਿਆਨ ਦੇ ਪ੍ਰਸ਼ਨਾਂ ਦਾ ਲਿਖਤੀ ਪੇਪਰ ਲਿਆ ਜਾਵੇਗਾ। ਜਿਸ ਦੀ ਮਿਤੀ ਅਤੇ ਹਦਾਇਤਾਂ ਜਲਦੀ ਆਪ ਜੀ ਨੂੰ ਭੇਜ ਦਿੱਤੀਆਂ ਜਾਣਗੀਆਂ। ਹੁਣ ਤੱਕ ਹਰੇਕ ਗਰੁੱਪ ਨੂੰ ਭੇਜੇ ਜਾ ਚੁੱਕੇ 345 ਪ੍ਰਸ਼ਨਾਂ ਦੀ ਸਕੂਲ ਪੱਧਰ ਤੇ ਦੁਹਰਾਈ ਕਰਵਾਈ ਜਾਵੇ।

ਸ਼ੀਟ ਨੰਬਰ 69 ਦੇ ਸਹੀ ਉੱਤਰ

Ans 341 (ਅ) ਹਵਾ ਪ੍ਰਦੂਸ਼ਣ

Ans 342 (ੲ) ਪ੍ਰਕਾਸ਼ ਸਾਲ

Ans 343 (ੲ) ਜਿੰਕ

Ans 344 (ਅ) ਰਾਸ਼ਟਰੀ ਖੇਡ ਦਿਵਸ National sports Day

Ans 345 (ੲ)

“ਮਿਹਨਤ ਉਹ ਚਾਬੀ ਹੈ ਜੋ ਸਫਲਤਾ ਦਾ ਦਰਵਾਜ਼ਾ ਖੋਲ੍ਹ ਦਿੰਦੀ ਹੈ।”
ਸਕੂਲ ਸਿੱਖਿਆ ਵਿਭਾਗ, ਪੰਜਾਬ