



ਉਡਾਣ



ਛੇਵੀਂ ਤੋਂ ਅਠਵੀਂ ਜਮਾਤ ਦੇ ਵਿਦਿਆਰਥੀਆਂ ਲਈ

ਸ਼ੀਟ ਨੰ:01

ਮਿਤੀ 01 -05-2019

ਪ੍ਰਸ਼ਨ 1 :- ਧਰਤੀ ਦੇ ਸਭ ਤੋਂ ਨੇੜੇ ਦਾ ਗ੍ਰਹਿ ਕਿਹੜਾ ਹੈ?

- (1) ਬੁੱਧ (2) ਮੰਗਲ (3) ਸ਼ੁੱਕਰ (4) ਬ੍ਰਹਿਸਪਤੀ

ਪ੍ਰਸ਼ਨ 2 : $3 + \frac{7}{10}$ ਨੂੰ ਦਸ਼ਮਲਵ ਰੂਪ ਵਿੱਚ ਲਿਖੋ।

- (1) 3.07 (2) 3.7 (3) 0.37 (4) 37.0

ਪ੍ਰਸ਼ਨ 3 :- ਪੰਜਾਬ ਰਾਜ ਵਿੱਚੋਂ ਲੋਕ ਸਭਾ ਲਈ ਕਿੰਨੇ ਮੈਂਬਰ ਚੁਣੇ ਜਾਂਦੇ ਹਨ?

- (1) 13 (2) 7 (3) 545 (4) 17

ਪ੍ਰਸ਼ਨ 4 :- ਹੇਠ ਲਿਖੇ ਪ੍ਰਸ਼ਨ ਵਿੱਚ ਅੰਕਾਂ ਦੀ ਇੱਕ ਲੜੀ ਦਿੱਤੀ ਗਈ ਹੈ। ਅੰਕਾਂ ਵਿੱਚ ਸੰਬੰਧ ਹੈ।
ਇਸ ਸੰਬੰਧ ਨੂੰ ਧਿਆਨ ਵਿੱਚ ਰੱਖ ਕੇ ਲੜੀ ਨੂੰ ਪੂਰਾ ਕਰਨ ਲਈ ਸਹੀ ਉੱਤਰ ਦੀ ਚੋਣ
ਕਰੋ:

2, 3, 7, 16, 32,..... ?

- (1) 57 (2) 37 (3) 48 (4) 55

ਪ੍ਰਸ਼ਨ 5 :- ਅੰਗਰੇਜ਼ੀ ਸ਼ਬਦਕੋਸ਼ ਅਨੁਸਾਰ ਕਿਹੜਾ ਅੱਖਰ ਪਹਿਲਾਂ ਆਵੇਗਾ?

- (1) CHAIR (2) CHARM (3) CHAMP (4) CHAIN

ਨੋਟ: ਉੱਤਰ ਅਗਲੇ ਦਿਨ ਦੀ ਸ਼ੀਟ ਵਿੱਚ ਭੇਜੇ ਜਾਣਗੇ, ਤਦ ਤੱਕ ਦਿਮਾਗੀ ਕਸਰਤ ਕਰੋ!

“ਜ਼ਿੰਦਗੀ ਵਿੱਚ ਹਰ ਰੋਜ਼ ਕੁੱਝ ਨਵਾਂ ਸਿੱਖਣ ਦੀ ਕੋਸ਼ਿਸ਼ ਕਰਨੀ
ਚਾਹੀਦੀ ਹੈ”।



ਉਡਾਣ



ਛੇਵੀਂ ਤੋਂ ਅਠਵੀਂ ਜਮਾਤ ਦੇ ਵਿਦਿਆਰਥੀਆਂ ਲਈ

ਸ਼ੀਟ ਨੰ :02

ਮਿਤੀ 02 -05-2019

ਪ੍ਰਸ਼ਨ 06 :- ਅੱਗ ਬੁਝਾਉਣ ਵਾਲੇ ਵਰਕਰਾਂ ਦੀ ਵਰਦੀ 'ਤੇ ਕਿਸ ਪਦਾਰਥ ਦੀ ਕੋਟਿੰਗ ਕੀਤੀ ਜਾਂਦੀ ਹੈ?

(1) ਮੈਲਾਮਾਈਨ (2) ਟੈਫਲਾਨ (3) ਪੋਲੀਐਸਟਰ (4) ਨਾਈਲਾਨ

ਪ੍ਰਸ਼ਨ 07 :- 'ਵਿਦ੍ਵਾਨ' ਸ਼ਬਦ ਦਾ ਸ਼ੁੱਧ ਰੂਪ ਦੱਸੋ।

(1) ਵਿਦਬਾਨ (2) ਵਿਦਵਾਣ (3) ਵਿਦਵਾਨ (4) ਵੀਦਵਾਨ

ਪ੍ਰਸ਼ਨ 08 :- ਪੰਜਾਬ ਰਾਜ ਵਿੱਚੋਂ ਰਾਜ ਸਭਾ ਲਈ ਕਿੰਨੇ ਮੈਂਬਰ ਚੁਣੇ ਜਾਂਦੇ ਹਨ?

(1) 13 (2) 7 (3) 245 (4) 9

ਪ੍ਰਸ਼ਨ 09 :- ਹੇਠ ਲਿਖੇ ਪ੍ਰਸ਼ਨ ਵਿੱਚ ਅੰਕਾਂ ਦੀ ਇੱਕ ਲੜੀ ਦਿੱਤੀ ਗਈ ਹੈ। ਅੰਕਾਂ ਵਿਚਲੇ ਸੰਬੰਧ ਨੂੰ ਧਿਆਨ ਵਿੱਚ ਰੱਖ ਕੇ ਲੜੀ ਨੂੰ ਪੂਰਾ ਕਰਨ ਲਈ ਸਹੀ ਉੱਤਰ ਦੀ ਚੋਣ ਕਰੋ:

11, 13, 17, 19, 23,..... ?

(1) 26 (2) 37 (3) 27 (4) 29

ਪ੍ਰਸ਼ਨ 10:- ਅੰਗਰੇਜ਼ੀ ਸ਼ਬਦ 'CONSTRUCTION' ਦੇ ਅੱਖਰਾਂ ਤੋਂ ਹੇਠ ਲਿਖਿਆਂ ਵਿੱਚੋਂ ਕਿਹੜਾ ਸ਼ਬਦ ਨਹੀਂ ਬਣਾਇਆ ਜਾ ਸਕਦਾ ?

(1) SUCTION (2) COINS (3) CAUTION (4) NOTION

ਨੋਟ: ਉੱਤਰ ਅਗਲੇ ਦਿਨ ਦੀ ਸ਼ੀਟ ਵਿੱਚ ਭੇਜੇ ਜਾਣਗੇ, ਤਦ ਤੱਕ ਦਿਮਾਗੀ ਕਸਰਤ ਕਰੋ!

Answers of Sheet No.01

Ans 1. ਸ਼ੁੱਕਰ

Ans 2. 3.7

Ans 3. 13

Ans 4. 57

Ans 5. CHAIN

“ਜ਼ਿੰਦਗੀ ਵਿੱਚ ਹਰ ਰੋਜ਼ ਕੁੱਝ ਨਵਾਂ ਸਿੱਖਣ ਦੀ ਕੋਸ਼ਿਸ਼ ਕਰਨੀ ਚਾਹੀਦੀ ਹੈ”।



ਉਡਾਣ



ਛੇਵੀਂ ਤੋਂ ਅਠਵੀਂ ਜਮਾਤ ਦੇ ਵਿਦਿਆਰਥੀਆਂ ਲਈ

ਸ਼ੀਟ ਨੰ :03

ਮਿਤੀ 03 -05-2019

ਪ੍ਰਸ਼ਨ11:- ਸਰੀਰ ਵਿੱਚ ਕਿਹੜਾ ਵਿਟਾਮਿਨ ਸੂਰਜ ਦੀ ਮੌਜੂਦਗੀ ਵਿੱਚ ਬਣਦਾ ਹੈ?

- (1) ਵਿਟਾਮਿਨ ਏ (2) ਵਿਟਾਮਿਨ ਬੀ (3) ਵਿਟਾਮਿਨ ਸੀ (4) ਵਿਟਾਮਿਨ ਡੀ

ਪ੍ਰਸ਼ਨ12:- ਇੱਕ ਮਿਲੀਅਨ ਕਿੰਨੇ ਲੱਖ ਦੇ ਬਰਾਬਰ ਹੁੰਦਾ ਹੈ?

- (1) 1 ਲੱਖ (2) 5 ਲੱਖ (3) 10 ਲੱਖ (4) 100 ਲੱਖ

ਪ੍ਰਸ਼ਨ13 :- ਪੰਜਾਬ ਰਾਜ ਵਿੱਚ ਸਤਾਰਵੀਂ ਲੋਕ ਸਭਾ ਦੀਆਂ ਚੋਣਾਂ ਕਦੋਂ ਹੋਣਗੀਆਂ ?

- (1) 16 ਮਈ (2) 18 ਮਈ (3) 19 ਮਈ (4) 23 ਮਈ

ਪ੍ਰਸ਼ਨ14 :- ਨਿਮਨਲਿਖਤ ਕਥਨ ਸਹੀ ਹੈ ਜਾਂ ਗਲਤ ? ਦੱਸੋ ।

'ਸਮਕੋਣ, ਨਿਊਨ ਕੋਣ ਤੋਂ ਛੋਟਾ ਹੁੰਦਾ ਹੈ।' ਸਹੀ ਹੈ ਜਾਂ ਗਲਤ ?

ਪ੍ਰਸ਼ਨ15 :- ਦਿਓਰ ਸ਼ਬਦ ਦਾ ਇਸਤਰੀ ਲਿੰਗ ਦੱਸੋ !

ਨੋਟ: ਉੱਤਰ ਅਗਲੇ ਦਿਨ ਦੀ ਸ਼ੀਟ ਵਿੱਚ ਭੇਜੇ ਜਾਣਗੇ, ਤਦ ਤੱਕ ਦਿਮਾਗੀ ਕਸਰਤ ਕਰੋ!

Answers of Sheet No.02

Ans 06. ਮੈਲਾਮਾਈਨ

Ans 07. ਵਿਦਵਾਨ

Ans 08. 7

Ans 09. 29

Ans 10. CAUTION

“ਜ਼ਿੰਦਗੀ ਵਿੱਚ ਹਰ ਰੋਜ਼ ਕੁੱਝ ਨਵਾਂ ਸਿੱਖਣ ਦੀ ਕੋਸ਼ਿਸ਼ ਕਰਨੀ ਚਾਹੀਦੀ ਹੈ”।



ਉਡਾਣ



ਫੋਵੀਂ ਤੋਂ ਅਠਵੀਂ ਜਮਾਤ ਦੇ ਵਿਦਿਆਰਥੀਆਂ ਲਈ

ਸ਼ੀਟ ਨੰ :04

ਮਿਤੀ 04 -05-2019

ਪ੍ਰਸ਼ਨ 16:- ਜਦੋਂ ਮੈਗਨੀਸ਼ੀਅਮ ਧਾਤ ਹਵਾ ਵਿੱਚ ਜਲਦੀ ਹੈ ਤਾਂ _____ ਬਣਦੀ/ਬਣਦਾ ਹੈ।

- (1) ਮੈਗਨੀਸ਼ੀਅਮ ਆਕਸਾਈਡ (2) ਪਾਣੀ (3) ਆਕਸੀਜਨ ਗੈਸ (4) ਨਾਈਟ੍ਰੋਜਨ ਗੈਸ

ਪ੍ਰਸ਼ਨ 17:- ਸ਼ੇਖ ਫਰੀਦ ਜੀ ਕੌਣ ਸਨ?

- (1) ਸੂਫੀ (2) ਗੁਰੂ (3) ਜੋਗੀ (4) ਕਿੱਸਾਕਾਰ

ਪ੍ਰਸ਼ਨ 18:- 'ਭਾਰਤ-ਪਾਕਿਸਤਾਨ ਵੰਡ' 1947 ਦਾ ਮੁੱਖ ਕਾਰਣ ਕੀ ਸੀ ?

- (1) ਜਾਤੀਵਾਦ (2) ਗਰੀਬੀ (3) ਅਨਪੜ੍ਹਤਾ (4) ਸੰਪਰਦਾਇਕਤਾ

ਪ੍ਰਸ਼ਨ 19:- ਨਿਮਨਲਿਖਤ ਕਥਨ ਸਹੀ ਹੈ ਜਾਂ ਗਲਤ ?

0 ਦਾ ਪਿਛੇਤਰ -1 ਹੈ।

ਪ੍ਰਸ਼ਨ 20:- ਹੇਠ ਲਿਖੇ ਪ੍ਰਸ਼ਨ ਵਿੱਚ ਅੰਕਾਂ ਦੀ ਇੱਕ ਲੜੀ ਦਿੱਤੀ ਗਈ ਹੈ। ਅੰਕਾਂ ਵਿਚਲੇ ਸੰਬੰਧ ਨੂੰ ਧਿਆਨ ਵਿੱਚ ਰੱਖ ਕੇ ਲੜੀ ਨੂੰ ਪੂਰਾ ਕਰਨ ਲਈ ਸਹੀ ਉੱਤਰ ਦੀ ਚੋਣ ਕਰੋ:

73.5, 70.5, 67.5, 64.5 _____ ?

- (1) 61.5 (2) 62.5 (3) 59.5 (4) 60.5

ਨੋਟ: ਉੱਤਰ ਅਗਲੇ ਦਿਨ ਦੀ ਸ਼ੀਟ ਵਿੱਚ ਭੇਜੇ ਜਾਣਗੇ, ਤਦ ਤੱਕ ਦਿਮਾਗੀ ਕਸਰਤ ਕਰੋ!

Answers of Sheet No.03

Ans 11. ਵਿਟਾਮਿਨ ਡੀ

Ans 12. 10 ਲੱਖ

Ans 13. 19 ਮਈ

Ans 14. ਗਲਤ

Ans 15. ਦਰਾਣੀ

“ਜ਼ਿੰਦਗੀ ਵਿੱਚ ਹਰ ਰੋਜ਼ ਕੁੱਝ ਨਵਾਂ ਸਿੱਖਣ ਦੀ ਕੋਸ਼ਿਸ਼ ਕਰਨੀ ਚਾਹੀਦੀ ਹੈ”।



ਉਡਾਣ



ਛੇਵੀਂ ਤੋਂ ਅਠਵੀਂ ਜਮਾਤ ਦੇ ਵਿਦਿਆਰਥੀਆਂ ਲਈ

ਸ਼ੀਟ ਨੰ :05

ਮਿਤੀ 06 -05-2019

ਪ੍ਰਸ਼ਨ 21:- ਅੰਗਰੇਜ਼ੀ ਸ਼ਬਦਕੋਸ਼ ਅਨੁਸਾਰ ਕਿਹੜਾ ਸ਼ਬਦ ਤੀਸਰੇ ਸਥਾਨ 'ਤੇ ਆਵੇਗਾ ?

(1) CLIENT (2) CASTLE (3) DAZZLE (4) FACE

ਪ੍ਰਸ਼ਨ 22:- ਗੁਰੂ ਨਾਨਕ ਦੇਵ ਜੀ ਨੇ ਰਾਵੀ ਦਰਿਆ ਦੇ ਕੰਢੇ ਕਿਹੜਾ ਨਗਰ ਵਸਾਇਆ?

(1) ਕਰਤਾਰਪੁਰ (2) ਤਰਨਤਾਰਨ (3) ਅੰਮ੍ਰਿਤਸਰ (4) ਗੋਇੰਦਵਾਲ

ਪ੍ਰਸ਼ਨ 23:- ਜਦੋਂ ਵਾਕ ਵਿੱਚ ਕਿਰਿਆ ਦਾ ਕੰਮ 'ਹੁਣ ਦੇ ਸਮੇਂ' ਵਿੱਚ ਹੋਵੇ, ਉਸਨੂੰ ਕਿਹੜਾ ਕਾਲ ਕਹਿੰਦੇ ਹਨ ?

(1) ਭੂਤਕਾਲ (2) ਵਰਤਮਾਨ ਕਾਲ (3) ਭਵਿੱਖ ਕਾਲ

ਪ੍ਰਸ਼ਨ 24:- Fill in the blanks with correct articles.

I saw _____ boy. _____ boy was crying. (a, an, the)

ਪ੍ਰਸ਼ਨ 25:- Which is the hottest continent on the earth?

(1) Asia (2) Europe (3) Africa (4) South America

ਨੋਟ: ਉੱਤਰ ਅਗਲੇ ਦਿਨ ਦੀ ਸ਼ੀਟ ਵਿੱਚ ਭੇਜੇ ਜਾਣਗੇ, ਤਦ ਤੱਕ ਦਿਮਾਗੀ ਕਸਰਤ ਕਰੋ!

Answers of Sheet No.04

Ans 16. ਮੈਗਨੀਸ਼ੀਅਮ ਆਕਸਾਈਡ

Ans 17. ਸੂਫੀ

Ans 18. ਸੰਪਰਦਾਇਕਤਾ

Ans 19. ਸਹੀ

Ans 20. 61.5

“ਜ਼ਿੰਦਗੀ ਵਿੱਚ ਹਰ ਰੋਜ਼ ਕੁੱਝ ਨਵਾਂ ਸਿੱਖਣ ਦੀ ਕੋਸ਼ਿਸ਼ ਕਰਨੀ ਚਾਹੀਦੀ ਹੈ”।



ਉਡਾਣ



ਛੇਵੀਂ ਤੋਂ ਅਠਵੀਂ ਜਮਾਤ ਦੇ ਵਿਦਿਆਰਥੀਆਂ ਲਈ

ਸ਼ੀਟ ਨੰ :06

ਮਿਤੀ 07 - 05 - 2019

ਪ੍ਰਸ਼ਨ 26:- ਪੰਜਾਬੀ ਭਾਸ਼ਾ ਵਿੱਚ ਵਚਨ ਕਿੰਨੀ ਪ੍ਰਕਾਰ ਦੇ ਹੁੰਦੇ ਹਨ?

(1) ਇੱਕ (2) ਦੋ (3) ਤਿੰਨ (4) ਚਾਰ

ਪ੍ਰਸ਼ਨ 27:- ਕਿਸ਼ੋਰ ਅਵਸਥਾ ਦੀ ਅਵਧੀ ਕਿੰਨੇ ਸਾਲ ਤੱਕ ਹੁੰਦੀ ਹੈ?

(1) 5 ਤੋਂ 10 ਸਾਲ (2) 14 ਤੋਂ 25 ਸਾਲ ਤੱਕ (3) 11 ਤੋਂ 19 ਸਾਲ

ਪ੍ਰਸ਼ਨ 28:- ਪੰਜਾਬ ਰਾਜ ਵਿੱਚ ਕਿੰਨੇ ਜ਼ਿਲ੍ਹੇ ਹਨ?

(1) 19 (2) 20 (3) 21 (4) 22

ਪ੍ਰਸ਼ਨ 29:- ਅੱਖ ਦਾ ਕਿਹੜਾ ਭਾਗ ਅੱਖ ਨੂੰ ਇੱਕ ਵਿਸ਼ੇਸ਼ ਰੰਗ ਪ੍ਰਦਾਨ ਕਰਦਾ ਹੈ?

(1) ਪੁਤਲੀ (2) ਕਾਰਨੀਆ (3) ਆਇਰਸ (4) ਰੈਟੀਨਾ

ਪ੍ਰਸ਼ਨ 30:- ਭਾਰਤ ਦੇ ਮੌਜੂਦਾ ਰਾਸ਼ਟਰਪਤੀ ਦਾ ਕੀ ਨਾਂ ਹੈ?

ਨੋਟ: ਉੱਤਰ ਅਗਲੇ ਦਿਨ ਦੀ ਸ਼ੀਟ ਵਿੱਚ ਭੇਜੇ ਜਾਣਗੇ, ਤਦ ਤੱਕ ਦਿਮਾਗੀ ਕਸਰਤ ਕਰੋ!

Answers of Sheet No.05

Ans 21. DAZZLE

Ans 22. ਕਰਤਾਰਪੁਰ

Ans 23. ਵਰਤਮਾਨ ਕਾਲ

Ans 24. a, the

Ans 25. Africa

“ਜ਼ਿੰਦਗੀ ਵਿੱਚ ਹਰ ਰੋਜ਼ ਕੁੱਝ ਨਵਾਂ ਸਿੱਖਣ ਦੀ ਕੋਸ਼ਿਸ਼ ਕਰਨੀ ਚਾਹੀਦੀ ਹੈ”।



ਉਡਾਣ



ਫੇਵੀਂ ਤੋਂ ਅਠਵੀਂ ਜਮਾਤ ਦੇ ਵਿਦਿਆਰਥੀਆਂ ਲਈ

ਸ਼ੀਟ ਨੰ :07

ਮਿਤੀ 08 -05-2019

ਪ੍ਰਸ਼ਨ 31:- ਮਨੁੱਖੀ ਸਰੀਰ ਦਾ ਸਧਾਰਨ ਤਾਪਮਾਨ ਹੁੰਦਾ ਹੈ?

(ੳ) 98.6°F (ਅ) 37 °F (ੲ) 32 °F (ਸ) 212 °F

ਪ੍ਰਸ਼ਨ 32:-“ਹਾਕੀ ਦਾ ਜਾਦੂਗਰ” ਕਿਸ ਭਾਰਤੀ ਖਿਡਾਰੀ ਨੂੰ ਕਿਹਾ ਜਾਂਦਾ ਹੈ ?

(ੳ) ਹਰਜੀਤ ਸਿੰਘ (ਅ) ਪਰਗਟ ਸਿੰਘ

(ੲ) ਮੇਜਰ ਧਿਆਨ ਚੰਦ (ਸ) ਅਜੀਤ ਪਾਲ ਸਿੰਘ

ਪ੍ਰਸ਼ਨ 33:- ਪੰਜਾਬੀ ਭਾਸ਼ਾ ਦਾ ਇੱਕੋ ਇੱਕ ਅੱਖਰ ਕਿਹੜਾ ਹੈ, ਜਿਸ ਨੂੰ 'ਹੋੜਾ' ਲਗਾਉਣ ਸਮੇਂ ਉਸ ਦਾ

ਮੂੰਹ ਖੁੱਲ੍ਹਾ ਰੱਖ ਦਿੱਤਾ ਜਾਂਦਾ ਹੈ

(ੳ) ਸ (ਅ) ਲ (ੲ) ਓ (ਸ) ਜ

ਪ੍ਰਸ਼ਨ 34:- ਸਭ ਤੋਂ ਛੋਟੀ ਪੂਰਨ ਸੰਖਿਆ ਕਿਹੜੀ ਹੈ?

(ੳ) 2 (ਅ) -1 (ੲ) 1 (ਸ) 0

ਪ੍ਰਸ਼ਨ 35:- Who is the first citizen of India ?

(ੳ) The Chief Minister (ਅ) The President

(ੲ) The Governor (ਸ) The Prime Minister

ਨੋਟ: ਉੱਤਰ ਅਗਲੇ ਦਿਨ ਦੀ ਸ਼ੀਟ ਵਿੱਚ ਭੇਜੇ ਜਾਣਗੇ, ਤਦ ਤੱਕ ਦਿਮਾਗੀ ਕਸਰਤ ਕਰੋ!

Answers of Sheet No.06

Ans 26. ਦੋ

Ans 27. 11 ਤੋਂ 19 ਸਾਲ

Ans 28. 22

Ans 29. ਆਇਰਸ

Ans 30. ਰਾਮ ਨਾਥ ਕੋਵਿੰਦ

“ਜ਼ਿੰਦਗੀ ਵਿੱਚ ਹਰ ਰੋਜ਼ ਕੁੱਝ ਨਵਾਂ ਸਿੱਖਣ ਦੀ ਕੋਸ਼ਿਸ਼ ਕਰਨੀ ਚਾਹੀਦੀ ਹੈ”।



ਉਡਾਣ



ਛੇਵੀਂ ਤੋਂ ਅੱਠਵੀਂ ਜਮਾਤ ਦੇ ਵਿਦਿਆਰਥੀਆਂ ਲਈ

ਸ਼ੀਟ ਨੰ: 08

ਮਿਤੀ 09-05-2019

ਪ੍ਰਸ਼ਨ 36. Fill in the blank with correct article.

He met _____ European in the market. (a,an,the)

ਪ੍ਰਸ਼ਨ 37. “ਝੁਕਿਆ ਹੋਇਆ ਰਾਸ਼ਟਰੀ ਝੰਡਾ” ਕਿਸ ਗੱਲ ਦਾ ਪ੍ਰਤੀਕ ਹੈ ?

- (ੳ) ਵਿਰੋਧਤਾ ਦਾ (ਅ) ਰਾਸ਼ਟਰੀ ਸ਼ੋਕ ਦਾ
(ੲ) ਸ਼ਾਂਤੀ ਦਾ (ਸ) ਖਤਰੇ ਦਾ

ਪ੍ਰਸ਼ਨ 38. ਨੀਲੇ ਗ੍ਰਹਿ ਦੇ ਨਾਮ ਨਾਲ ਕਿਸ ਗ੍ਰਹਿ ਨੂੰ ਜਾਣਿਆ ਜਾਂਦਾ ਹੈ?

- (ੳ) ਧਰਤੀ ਨੂੰ (ਅ) ਬੁੱਧ ਨੂੰ (ੲ) ਸ਼ੁੱਕਰ ਨੂੰ (ਸ) ਮੰਗਲ ਨੂੰ

ਪ੍ਰਸ਼ਨ 39. ਅਜ਼ਾਦ ਭਾਰਤ ਦੇ ਪਹਿਲੇ ਪ੍ਰਧਾਨ ਮੰਤਰੀ ਕੌਣ ਸਨ?

- (ੳ) ਸ਼੍ਰੀਮਤੀ ਇੰਦਰਾ ਗਾਂਧੀ (ਅ) ਸ਼੍ਰੀ ਰਾਜਿੰਦਰ ਪ੍ਰਸਾਦ
(ੲ) ਡਾ: ਮਨਮੋਹਨ ਸਿੰਘ (ਸ) ਪੰਡਿਤ ਜਵਾਹਰ ਲਾਲ ਨਹਿਰੂ

ਪ੍ਰਸ਼ਨ 40. ਸਭ ਤੋਂ ਛੋਟੀ ਅਭਾਜ ਸੰਖਿਆ ਕਿਹੜੀ ਹੈ ?

- (ੳ) 2 (ਅ) 1 (ੲ) 3 (ਸ) 5

ਨੋਟ: ਉੱਤਰ ਅਗਲੇ ਦਿਨ ਦੀ ਸ਼ੀਟ ਵਿੱਚ ਭੇਜੇ ਜਾਣਗੇ, ਤਦ ਤੱਕ ਦਿਮਾਗੀ ਕਸਰਤ ਕਰੋ!

Answers of Sheet No.07

Ans31. 98.6°F

Ans32. ਮੇਜਰ ਧਿਆਨ ਚੰਦ

Ans33. ੳ

Ans34. 0

Ans35. The President

“ਜ਼ਿੰਦਗੀ ਵਿੱਚ ਹਰ ਰੋਜ਼ ਕੁੱਝ ਨਵਾਂ ਸਿੱਖਣ ਦੀ ਕੋਸ਼ਿਸ਼ ਕਰਨੀ ਚਾਹੀਦੀ ਹੈ”।



ਉਡਾਣ



ਛੇਵੀਂ ਤੋਂ ਅਠਵੀਂ ਜਮਾਤ ਦੇ ਵਿਦਿਆਰਥੀਆਂ ਲਈ

ਸ਼ੀਟ ਨੰ: 09

ਮਿਤੀ 10-05-2019

- ਪ੍ਰਸ਼ਨ 41. ਕਿਸ ਦੇਸ਼ ਨੂੰ ਚੜ੍ਹਦੇ ਸੂਰਜ ਦਾ ਦੇਸ਼ ਕਿਹਾ ਜਾਂਦਾ ਹੈ?
(ੳ) ਭਾਰਤ (ਅ) ਜਪਾਨ (ੲ) ਸ੍ਰੀ ਲੰਕਾ (ਸ) ਅਮਰੀਕਾ
- ਪ੍ਰਸ਼ਨ 42. ਤਿਕੋਣ ਦੇ ਤਿੰਨ ਕੋਣਾਂ ਦਾ ਜੋੜ ਕਿੰਨੇ ਡਿਗਰੀ ਹੁੰਦਾ ਹੈ ?
(ੳ) 360° (ਅ) 90° (ੲ) 180° (ਸ) 45°
- ਪ੍ਰਸ਼ਨ 43. ਮਨੁੱਖੀ ਸਰੀਰ ਦਾ ਤਾਪਮਾਨ ਮਾਪਣ ਵਾਲੇ ਯੰਤਰ ਨੂੰ ਕੀ ਕਿਹਾ ਜਾਂਦਾ ਹੈ?
(ੳ) ਥਰਮਾਮੀਟਰ (ਅ) ਲੈਕਟੋਮੀਟਰ (ੲ) ਬੈਰੋਮੀਟਰ (ਸ) ਸਟੈਥੋਸਕੋਪ
- ਪ੍ਰਸ਼ਨ 44. ਜ਼ਿਲ੍ਹੇ ਦਾ ਪ੍ਰਸ਼ਾਸਨਿਕ ਮੁਖੀ ਕੌਣ ਹੁੰਦਾ ਹੈ?
(ੳ) ਜ਼ਿਲ੍ਹਾ ਸਿੱਖਿਆ ਅਫ਼ਸਰ (ਅ) ਐੱਸ.ਐੱਸ.ਪੀ.
(ੲ) ਸਿਵਲ ਸਰਜਨ (ਸ) ਡਿਪਟੀ ਕਮਿਸ਼ਨਰ
- ਪ੍ਰਸ਼ਨ 45. ਹੇਠ ਲਿਖਿਆਂ ਵਿੱਚੋਂ ਕਿਹੜਾ ਕੰਪਿਊਟਰ ਦਾ ਇਨਪੁੱਟ ਡਿਵਾਇਸ ਨਹੀਂ ਹੈ ?
(ੳ) ਮਾਊਸ (ਅ) ਕੀ-ਬੋਰਡ (ੲ) ਪ੍ਰਿੰਟਰ (ਸ) ਲਾਈਟ ਪੈਨ

ਨੋਟ: ਉੱਤਰ ਅਗਲੇ ਦਿਨ ਦੀ ਸ਼ੀਟ ਵਿੱਚ ਭੇਜੇ ਜਾਣਗੇ, ਤਦ ਤੱਕ ਦਿਮਾਗੀ ਕਸਰਤ ਕਰੋ!

Answers of Sheet No.08

- Ans 36. a
Ans 37. ਰਾਸ਼ਟਰੀ ਸ਼ੋਕ ਦਾ
Ans 38. ਧਰਤੀ ਨੂੰ
Ans 39. ਪੰਡਿਤ ਜਵਾਹਰ ਲਾਲ ਨਹਿਰੂ
Ans 40. 2

“ਗਿਆਨ ਇੱਕ ਅਜਿਹਾ ਗਹਿਣਾ ਹੈ ਜਿਸ ਦੇ ਲੁੱਟਣ, ਖੋਹਣ ਜਾਂ ਗੁੰਮ ਹੋਣ ਦਾ ਡਰ ਨਹੀਂ ਹੁੰਦਾ”।



ਉਡਾਣ



ਛੇਵੀਂ ਤੋਂ ਅੱਠਵੀਂ ਜਮਾਤ ਦੇ ਵਿਦਿਆਰਥੀਆਂ ਲਈ

ਸ਼ੀਟ ਨੰ: 10

ਮਿਤੀ 13-05-2019

ਪ੍ਰਸ਼ਨ 46. ਸਾਡਾ ਰਾਸ਼ਟਰੀ ਪੰਛੀ ਕਿਹੜਾ ਹੈ?

(ੳ) ਮੋਰ (ਅ) ਕਬੂਤਰ (ੲ) ਬੱਤਖ (ਸ) ਤੋਤਾ

ਪ੍ਰਸ਼ਨ 47. ਰੋਮਨ ਸੰਖਿਆ ਅੰਕ ਪ੍ਰਣਾਲੀ ਵਿੱਚ ਅੰਗਰੇਜ਼ੀ ਵਰਣਮਾਲਾ ਦੇ ਕਿੰਨੇ ਅੱਖਰਾਂ ਦਾ ਪ੍ਰਯੋਗ ਹੁੰਦਾ ਹੈ?

(ੳ) 5 (ਅ) 6 (ੲ) 7 (ਸ) 8

ਪ੍ਰਸ਼ਨ 48. ਕਿਸ ਕਵੀ ਨੂੰ 'ਬਿਰਹਾ ਦਾ ਸੁਲਤਾਨ' ਦੇ ਨਾਮ ਨਾਲ ਜਾਣਿਆ ਜਾਂਦਾ ਹੈ?

(ੳ) ਸ਼ਿਵ ਕੁਮਾਰ ਬਟਾਲਵੀ ਨੂੰ (ਅ) ਧਨੀ ਰਾਮ ਚਾਤ੍ਰਕ ਨੂੰ
(ੲ) ਜਗਜੀਤ ਸਿੰਘ ਨੂੰ (ਸ) ਹਰਬੰਸ ਰਾਏ ਬਚਨ ਨੂੰ

ਪ੍ਰਸ਼ਨ 49. ਭਾਰਤ ਸਰਕਾਰ ਵੱਲੋਂ ਨਾਗਰਿਕਾਂ ਨੂੰ ਜਾਰੀ ਕੀਤੇ ਆਧਾਰ ਕਾਰਡ ਨੰਬਰ 'ਤੇ ਕਿੰਨੇ ਅੰਕ ਹੁੰਦੇ ਹਨ?

(ੳ) 10 (ਅ) 12 (ੲ) 6 (ਸ) 14

ਪ੍ਰਸ਼ਨ 50. ਜੋ ਵਿਅਕਤੀ ਪਾਣੀ ਸਪਲਾਈ ਦੇ ਕੰਮ ਦੀ ਰਿਪੋਅਰ ਕੰਮ ਕਰਦਾ ਹੈ, ਉਸ ਨੂੰ ਕੀ ਕਿਹਾ ਜਾਂਦਾ ਹੈ?

(ੳ) ਪਲੰਬਰ (ਅ) ਤਰਖਾਣ (ੲ) ਲੁਹਾਰ (ਸ) ਕਿਸਾਨ

ਨੋਟ: ਉੱਤਰ ਅਗਲੇ ਦਿਨ ਦੀ ਸ਼ੀਟ ਵਿੱਚ ਭੇਜੇ ਜਾਣਗੇ, ਤਦ ਤੱਕ ਦਿਮਾਗੀ ਕਸਰਤ ਕਰੋ!

ਸ਼ੀਟ ਨੰਬਰ 09 ਦੇ ਸਹੀ ਉੱਤਰ

ਪ੍ਰਸ਼ਨ 41 (ਅ) ਜਪਾਨ ਨੂੰ

ਪ੍ਰਸ਼ਨ 42 (ੲ) 180°

ਪ੍ਰਸ਼ਨ 43 (ੳ) ਥਰਮਾਮੀਟਰ

ਪ੍ਰਸ਼ਨ 44 (ਸ) ਡਿਪਟੀ ਕਮਿਸ਼ਨਰ

ਪ੍ਰਸ਼ਨ 45 (ੲ) ਪ੍ਰਿੰਟਰ

“ਗਿਆਨ ਇੱਕ ਅਜਿਹਾ ਗਹਿਣਾ ਹੈ ਜਿਸ ਦੇ ਲੁੱਟਣ, ਖੋਹਣ ਜਾਂ ਗੁੰਮ ਹੋਣ ਦਾ ਡਰ ਨਹੀਂ ਹੁੰਦਾ”



ਉਡਾਣ



ਛੇਵੀਂ ਤੋਂ ਅੱਠਵੀਂ ਜਮਾਤ ਦੇ ਵਿਦਿਆਰਥੀਆਂ ਲਈ

ਸ਼ੀਟ ਨੰ: 11

ਮਿਤੀ 14-05-2019

ਪ੍ਰਸ਼ਨ 51:- 'ਚੰਡੀ ਦੀ ਵਾਰ' ਕਿਸ ਦੀ ਰਚਨਾ ਹੈ?

- (ੳ) ਸ੍ਰੀ ਗੁਰੂ ਗੋਬਿੰਦ ਸਿੰਘ ਜੀ ਦੀ (ਅ) ਸ੍ਰੀ ਗੁਰੂ ਨਾਨਕ ਦੇਵ ਜੀ
(ੲ) ਸ੍ਰੀ ਗੁਰੂ ਰਾਮ ਦਾਸ ਜੀ ਦੀ (ਸ) ਸ੍ਰੀ ਗੁਰੂ ਅਰਜਨ ਦੇਵ ਜੀ ਦੀ

ਪ੍ਰਸ਼ਨ 52:- ਵਿਆਕਰਣ ਦੇ ਨਿਯਮਾਂ ਵਿੱਚ ਬੱਝੀ ਭਾਸ਼ਾ ਨੂੰ ਕੀ ਕਿਹਾ ਜਾਂਦਾ ਹੈ?

- (ੳ) ਲਿਖਤੀ ਭਾਸ਼ਾ (ਅ) ਮਾਤ ਭਾਸ਼ਾ (ੲ) ਉਪ-ਭਾਸ਼ਾ (ਸ) ਬੋਲਚਾਲ ਦੀ ਭਾਸ਼ਾ

ਪ੍ਰਸ਼ਨ 53:- ਫੀਮਰ ਬੋਨ(ਪੱਟ ਦੀ ਹੱਡੀ) ਮਨੁੱਖੀ ਸਰੀਰ ਵਿੱਚ ਸਭ ਤੋਂ ਲੰਬੀ ਹੱਡੀ ਹੁੰਦੀ ਹੈ? (ਠੀਕ / ਗਲਤ)

ਪ੍ਰਸ਼ਨ 54:- ਸੂਰਜੀ ਪਰਿਵਾਰ ਵਿੱਚ ਸਭ ਤੋਂ ਵੱਡਾ ਗ੍ਰਹਿ (PLANET) ਕਿਹੜਾ ਹੈ?

- (ੳ) ਧਰਤੀ (EARTH) (ਅ) ਮੰਗਲ (MARS)
(ੲ) ਸ਼ਨੀ (SATURN) (ਸ) ਬ੍ਰਹਿਸਪਤੀ (JUPITER)

ਪ੍ਰਸ਼ਨ 55:- 180° ਤੋਂ ਵੱਡੇ 360° ਤੋਂ ਛੋਟੇ ਕੋਣ (ANGLE) ਦਾ ਨਾਮ ਦੱਸੋ?

- (ੳ) ਰਿਫਲੈਕਸ ਕੋਣ (REFLEX ANGLE) (ਅ) ਸਰਲ ਕੋਣ (RIGHT ANGLE)
(ੲ) ਨਿਊਨ ਕੋਣ (ACUTE ANGLE) (ਸ) ਅਧਿਕ ਕੋਣ (OBTUSE ANGLE)

ਨੋਟ: ਉੱਤਰ ਅਗਲੇ ਦਿਨ ਦੀ ਸ਼ੀਟ ਵਿੱਚ ਭੇਜੇ ਜਾਣਗੇ, ਤਦ ਤੱਕ ਦਿਮਾਗੀ ਕਸਰਤ ਕਰੋ!

Answers of Sheet No.10

- Ans 46. ਮੋਰ
Ans 47. 7
Ans 48. ਸ਼ਿਵ ਕੁਮਾਰ ਬਟਾਲਵੀ ਨੂੰ
Ans 49. 12
Ans 50. ਪਲੰਬਰ

“ਗਿਆਨ ਇੱਕ ਅਜਿਹਾ ਗਹਿਣਾ ਹੈ ਜਿਸ ਦੇ ਲੁੱਟਣ, ਖੋਹਣ ਜਾਂ ਗੁੰਮ ਹੋਣ ਦਾ ਡਰ ਨਹੀਂ ਹੁੰਦਾ”।



ਉਡਾਣ



ਛੇਵੀਂ ਤੋਂ ਅੱਠਵੀਂ ਜਮਾਤ ਦੇ ਵਿਦਿਆਰਥੀਆਂ ਲਈ

ਸ਼ੀਟ ਨੰ: 12

ਮਿਤੀ 15-05-2019

ਪ੍ਰਸ਼ਨ 56. ਕੁਤੂਬ ਮੀਨਾਰ ਕਿੱਥੇ ਹੈ?

(ੳ) ਜੈਪੁਰ (ਅ) ਦਿੱਲੀ (ੲ) ਚੰਡੀਗੜ੍ਹ (ਸ) ਮੁੰਬਈ

ਪ੍ਰਸ਼ਨ 57. ਜਲ੍ਹਿਆਂਵਾਲਾ ਬਾਗ ਦੇ ਖੂਨੀ ਸਾਕੇ ਦੀ ਘਟਨਾ ਕਦੋਂ ਵਾਪਰੀ ?

(ੳ) 15 ਅਗਸਤ 1947 (ਅ) 26 ਜਨਵਰੀ 1950
(ੲ) 13 ਅਪ੍ਰੈਲ 1947 (ਸ) 13 ਅਪ੍ਰੈਲ 1919

ਪ੍ਰਸ਼ਨ 58. ਹੇਠ ਲਿਖੇ ਰਾਜਾਂ ਵਿੱਚੋਂ ਕਿਹੜਾ ਪੰਜਾਬ ਦਾ ਗੁਆਂਢੀ ਰਾਜ ਨਹੀਂ ਹੈ?

(ੳ) ਬਿਹਾਰ (ਅ) ਹਰਿਆਣਾ (ੲ) ਹਿਮਾਚਲ ਪ੍ਰਦੇਸ਼ (ਸ) ਰਾਜਸਥਾਨ

ਪ੍ਰਸ਼ਨ 59:- ਹਰ ਸਾਲ ਭਾਰਤ ਵਿੱਚ Children's Day ਕਦੋਂ ਮਨਾਇਆ ਜਾਂਦਾ ਹੈ ?

(ੳ) 5 ਸਤੰਬਰ (ਅ) 14 ਨਵੰਬਰ (ੲ) 1 ਮਈ (ਸ) 25 ਦਸੰਬਰ

ਪ੍ਰਸ਼ਨ 60:- 1 ਤੋਂ 100 ਤੱਕ ਗਿਣਤੀ ਲਿਖਦਿਆਂ ਅੰਕ "2" ਕਿੰਨੀ ਵਾਰ ਆਉਂਦਾ ਹੈ?

(ੳ) 19 ਵਾਰ (ਅ) 10 ਵਾਰ (ੲ) 20 ਵਾਰ (ਸ) 21 ਵਾਰ

ਨੋਟ: ਉੱਤਰ ਅਗਲੇ ਦਿਨ ਦੀ ਸ਼ੀਟ ਵਿੱਚ ਭੇਜੇ ਜਾਣਗੇ, ਤਦ ਤੱਕ ਦਿਮਾਗੀ ਕਸਰਤ ਕਰੋ!

Answers of Sheet No.11

- Ans 51. ਸ੍ਰੀ ਗੁਰੂ ਗੋਬਿੰਦ ਸਿੰਘ ਜੀ ਦੀ
Ans 52. ਲਿਖਤੀ ਭਾਸ਼ਾ
Ans 53. ਠੀਕ
Ans 54. ਬ੍ਰਹਿਸਪਤੀ (JUPITER)
Ans 55. ਰਿਫਲੈਕਸ ਕੋਣ (REFLEX ANGLE)

“ਗਿਆਨ ਇੱਕ ਅਜਿਹਾ ਗਹਿਣਾ ਹੈ ਜਿਸ ਦੇ ਲੁੱਟਣ, ਖੋਹਣ ਜਾਂ ਗੁੰਮ ਹੋਣ ਦਾ ਡਰ ਨਹੀਂ ਹੁੰਦਾ”।



ਉਡਾਣ



ਫੋਵੀਂ ਤੋਂ ਅੱਠਵੀਂ ਜਮਾਤ ਦੇ ਵਿਦਿਆਰਥੀਆਂ ਲਈ

ਸ਼ੀਟ ਨੰ: 13

ਮਿਤੀ 16-05-2019

ਪ੍ਰਸ਼ਨ61:- ਲੋਕ ਸਭਾ ਲਈ ਸਭ ਤੋਂ ਵੱਧ ਮੈਂਬਰ ਕਿਸ ਰਾਜ ਵਿੱਚੋਂ ਚੁਣੇ ਜਾਂਦੇ ਹਨ?

(ੳ) ਬਿਹਾਰ (ਅ) ਪੱਛਮੀ ਬੰਗਾਲ (ੲ) ਉੱਤਰ ਪ੍ਰਦੇਸ਼ (ਸ) ਮੱਧ ਪ੍ਰਦੇਸ਼

ਪ੍ਰਸ਼ਨ62:- ਇੱਕ ਘਣਾਵ ਅਕਾਰ ਬਕਸੇ ਦੇ ਕਿੰਨੇ ਕਿਨਾਰੇ (EDGE) ਹੁੰਦੇ ਹਨ?

(ੳ) 10 (ਅ) 6 (ੲ) 4 (ਸ) 12

ਪ੍ਰਸ਼ਨ63:- ਮਾਘੀ ਦਾ ਪ੍ਰਸਿੱਧ ਮੇਲਾ ਪੰਜਾਬ ਦੇ ਕਿਸ ਸ਼ਹਿਰ ਵਿੱਚ ਲੱਗਦਾ ਹੈ?

(ੳ) ਆਨੰਦਪੁਰ ਸਾਹਿਬ (ਅ) ਮੁਕਤਸਰ ਸਾਹਿਬ

(ੲ) ਅੰਮ੍ਰਿਤਸਰ (ਸ) ਲੁਧਿਆਣਾ

ਪ੍ਰਸ਼ਨ64:- ਅਜਿਹੇ ਜਾਨਵਰ ਜੋ ਪੌਦੇ ਅਤੇ ਦੂਜੇ ਜਾਨਵਰਾਂ ਨੂੰ ਆਪਣਾ ਭੋਜਨ ਬਣਾਉਂਦੇ

ਹਨ, ਉਹਨਾਂ ਨੂੰ _____ ਕਿਹਾ ਜਾਂਦਾ ਹੈ?

(ੳ) ਸ਼ਾਕਾਹਾਰੀ (ਅ) ਮਾਸਾਹਾਰੀ

(ੲ) ਸਰਬਆਹਾਰੀ (ਸ) ਇਹਨਾਂ ਵਿੱਚੋਂ ਕੋਈ ਨਹੀਂ

ਪ੍ਰਸ਼ਨ65:- ਭਾਰਤ ਦੀ ਰਾਸ਼ਟਰੀ ਮੁਦਰਾ ਕਿਹੜੀ ਹੈ?

(ੳ) ਦੀਨਾਰ (ਅ) ਡਾਲਰ (ੲ) ਰੁਪਇਆ (ਸ) ਪੌਂਡ

ਨੋਟ: ਉੱਤਰ ਅਗਲੇ ਦਿਨ ਦੀ ਸ਼ੀਟ ਵਿੱਚ ਭੇਜੇ ਜਾਣਗੇ, ਤਦ ਤੱਕ ਦਿਮਾਗੀ ਕਸਰਤ ਕਰੋ!

Answers of Sheet No.12

- Ans 56. ਦਿੱਲੀ
Ans 57. 13 ਅਪ੍ਰੈਲ 1919
Ans 58. ਬਿਹਾਰ
Ans 59. 14 ਨਵੰਬਰ
Ans 60. 20 ਵਾਰ

“ਗਿਆਨ ਇੱਕ ਅਜਿਹਾ ਗਹਿਣਾ ਹੈ ਜਿਸ ਦੇ ਲੁੱਟਣ, ਖੋਹਣ ਜਾਂ ਗੁੰਮ ਹੋਣ ਦਾ ਡਰ ਨਹੀਂ ਹੁੰਦਾ”।



ਉਡਾਣ

ਛੇਵੀਂ ਤੋਂ ਅੱਠਵੀਂ ਜਮਾਤ ਦੇ ਵਿਦਿਆਰਥੀਆਂ ਲਈ

ਸ਼ੀਟ ਨੰ: 14

ਮਿਤੀ 17-05-2019

ਪ੍ਰਸ਼ਨ 66. ਧਰਤੀ ਦੀ ਸਤ੍ਹਾ ਦਾ ਕਿੰਨ੍ਹੇ ਪ੍ਰਤੀਸ਼ਤ ਹਿੱਸਾ ਪਾਣੀ ਨਾਲ ਢਕਿਆ ਹੋਇਆ ਹੈ ?

(ੳ) 71 (ਅ) 29 (ੲ) 65 (ਸ) 81

ਪ੍ਰਸ਼ਨ 67:- ਵਿਆਹ ਵਾਲੇ ਘਰ ਵਿੱਚ 'ਜਾਗੋ' ਕਿਹਨਾਂ ਵੱਲੋਂ ਕੱਢੀ ਜਾਂਦੀ ਹੈ?

(ੳ) ਦਾਦਕਿਆਂ (ਅ) ਨਾਨਕਿਆਂ (ੲ) ਦੋਸਤਾਂ (ਸ) ਬੱਚਿਆਂ

ਪ੍ਰਸ਼ਨ 68:- ਵਿਟਾਮਿਨ 'ਏ' ਦੀ ਕਮੀ ਕਾਰਨ ਕਿਹੜਾ ਰੋਗ ਹੋ ਜਾਂਦਾ ਹੈ?

(ੳ) ਬੇਰੀ-ਬੇਰੀ (ਅ) ਰਿਕਟਸ
(ੲ) ਅੰਧਰਾਤਾ (ਸ) ਸਕਰਵੀਂ

ਪ੍ਰਸ਼ਨ 69:- ਵਰਤਮਾਨ ਸਮੇਂ ਗੁਰਮੁੱਖੀ ਲਿਪੀ ਦੇ ਕਿੰਨ੍ਹੇ ਅੱਖਰ ਹਨ ?

(ੳ) 42 (ਅ) 41 (ੲ) 35 (ਸ) 26

ਪ੍ਰਸ਼ਨ 70:- ਇੱਕ ਸਾਲ ਵਿੱਚ 31 ਦਿਨ ਵਾਲੇ ਕਿੰਨ੍ਹੇ ਮਹੀਨੇ ਹੁੰਦੇ ਹਨ?

(ੳ) 8 (ਅ) 7 (ੲ) 5 (ਸ) 6

ਨੋਟ: ਉੱਤਰ ਅਗਲੇ ਦਿਨ ਦੀ ਸ਼ੀਟ ਵਿੱਚ ਭੇਜੇ ਜਾਣਗੇ, ਤਦ ਤੱਕ ਦਿਮਾਗੀ ਕਸਰਤ ਕਰੋ!

Answers of Sheet No.13

- Ans 61. ਉੱਤਰ ਪ੍ਰਦੇਸ਼
Ans 62. 12
Ans 63. ਸ੍ਰੀ ਮੁਕਤਸਰ ਸਾਹਿਬ
Ans 64. ਸਰਬਆਹਾਰੀ
Ans 65. ਰੁਪਇਆ

“ਗਿਆਨ ਇੱਕ ਅਜਿਹਾ ਗਹਿਣਾ ਹੈ ਜਿਸ ਦੇ ਲੁੱਟਣ, ਖੋਹਣ ਜਾਂ ਗੁੰਮ ਹੋਣ ਦਾ ਡਰ ਨਹੀਂ ਹੁੰਦਾ”।



ਉਡਾਣ



ਛੇਵੀਂ ਤੋਂ ਅੱਠਵੀਂ ਜਮਾਤ ਦੇ ਵਿਦਿਆਰਥੀਆਂ ਲਈ

ਸ਼ੀਟ ਨੰ: 15

ਮਿਤੀ 18-05-2019

ਪ੍ਰਸ਼ਨ71:- What is the full form of R.A.M. ?

- (ੳ) Random access memory (ਅ) Real access memory
(ੲ) Random accurate memory (ਸ) Read access memory

ਪ੍ਰਸ਼ਨ72:- ਭਾਰਤ ਦਾ ਰਾਸ਼ਟਰੀ ਗਾਣ ਕਿਹੜਾ ਹੈ?

- (ੳ) ਮੇਰਾ ਰੰਗ ਦੇ ਬਸੰਤੀ ਚੋਲਾ (ਅ) ਸਾਰੇ ਜਹਾਂ ਸੇ ਅੱਛਾ
(ੲ) ਵੰਦੇ ਮਾਤਰਮ (ਸ) ਜਨ ਗਨ ਮਨ

ਪ੍ਰਸ਼ਨ73:- ਭਾਰਤ ਦੀ ਪਹਿਲੀ ਮਹਿਲਾ ਰਾਸ਼ਟਰਪਤੀ ਕੌਣ ਸਨ ?

- (ੳ) ਸ਼੍ਰੀਮਤੀ ਇੰਦਰਾ ਗਾਂਧੀ (ਅ) ਸ਼੍ਰੀਮਤੀ ਪ੍ਰਤਿਭਾ ਦੇਵੀ ਪਾਟਿਲ
(ੲ) ਸ਼੍ਰੀਮਤੀ ਸੁਸ਼ਮਾ ਸਵਰਾਜ (ਸ) ਸ਼੍ਰੀਮਤੀ ਮਮਤਾ ਬੈਨਰਜੀ

ਪ੍ਰਸ਼ਨ74:- ਤੀਆਂ ਦਾ ਤਿਉਹਾਰ ਕਿਹੜੇ ਮਹੀਨੇ ਵਿੱਚ ਮਨਾਇਆ ਜਾਂਦਾ ਹੈ ?

- (ੳ) ਭਾਦੋਂ ਵਿੱਚ (ਅ) ਸਾਉਣ ਵਿੱਚ (ੲ) ਅੱਸੂ ਵਿੱਚ (ਸ) ਜੇਠ ਵਿੱਚ

ਪ੍ਰਸ਼ਨ75:- ਕਿਰਨ (Ray) ਦਾ.....ਆਰੰਭਿਕ ਬਿੰਦੂ ਹੁੰਦਾ ਹੈ?

- (ੳ) ਇੱਕ (ਅ) ਜ਼ੀਰੋ (ੲ) ਦੋ (ਸ) ਅਣਗਣਿਤ

ਨੋਟ: ਉੱਤਰ ਅਗਲੇ ਦਿਨ ਦੀ ਸ਼ੀਟ ਵਿੱਚ ਭੇਜੇ ਜਾਣਗੇ, ਤਦ ਤੱਕ ਦਿਮਾਗੀ ਕਸਰਤ ਕਰੋ!

Answers of Sheet No.14

Ans 66. 71

Ans 67. ਨਾਨਕਿਆਂ

Ans 68. ਅੰਧਰਾਤਾ

Ans 69. 41

Ans 70. 7

“ਗਿਆਨ ਇੱਕ ਅਜਿਹਾ ਗਹਿਣਾ ਹੈ ਜਿਸ ਦੇ ਲੁੱਟਣ, ਖੋਹਣ ਜਾਂ ਗੁੰਮ ਹੋਣ ਦਾ ਡਰ ਨਹੀਂ ਹੁੰਦਾ”।



ਉਡਾਣ



ਛੇਵੀਂ ਤੋਂ ਅੱਠਵੀਂ ਜਮਾਤ ਦੇ ਵਿਦਿਆਰਥੀਆਂ ਲਈ

ਸ਼ੀਟ ਨੰ: 16

ਮਿਤੀ 20-05-2019

ਪ੍ਰਸ਼ਨ76:- ਸੰਸਾਰ ਦੀ ਸਭ ਤੋਂ ਪੁਰਾਣੀ ਪੁਸਤਕ ਕਿਹੜੀ ਹੈ?

(ੳ) ਸਾਮਵੇਦ (ਅ) ਯਜੁਰਵੇਦ (ੲ) ਰਿਗਵੇਦ (ਸ) ਅਥਰਵਵੇਦ

ਪ੍ਰਸ਼ਨ77:- ਕਿਹੜੀ ਅਕਸ਼ਾਂਸ਼ ਰੇਖਾ ਭਾਰਤ ਨੂੰ ਦੋ ਹਿੱਸਿਆਂ ਵਿੱਚ ਵੰਡਦੀ ਹੈ?

(ੳ) ਕਰਕ ਰੇਖਾ (ਅ) ਮਕਰ ਰੇਖਾ (ੲ) ਭੂ-ਮੱਧ ਰੇਖਾ (ਸ) ਤੱਟ ਰੇਖਾ

ਪ੍ਰਸ਼ਨ78:- ਪੌਣ ਉਰਜਾ ਪੈਦਾ ਕਰਨ ਵਿੱਚ ਭਾਰਤ ਦਾ ਕਿਹੜਾ ਰਾਜ ਮੋਹਰੀ ਹੈ ?

(ੳ) ਆਂਧਰਾ ਪ੍ਰਦੇਸ਼ (ਅ) ਕਰਨਾਟਕਾ (ੲ) ਤਾਮਿਲਨਾਡੂ (ਸ) ਕੇਰਲਾ

ਪ੍ਰਸ਼ਨ79:- ਤੂੜੀ ਇਕੱਠੀ ਕਰਨ ਲਈ ਵਰਤੇ ਜਾਣ ਵਾਲੇ ਲੋਹੇ ਜਾਂ ਲੱਕੜ ਦੇ ਸੰਦ ਨੂੰ ਕੀ ਕਿਹਾ ਜਾਂਦਾ ਹੈ ?

(ੳ) ਕਹੀ (ਅ) ਟੋਕਰਾ (ੲ) ਤਾਸਲਾ (ਸ) ਤੰਗਲੀ

ਪ੍ਰਸ਼ਨ 80. ਇੱਕ ਚੱਕਰ ਦੀਆਂ ਕਿੰਨੀਆਂ ਸਮਮਿਤੀ ਰੇਖਾਵਾਂ (symmetrical lines) ਖਿੱਚੀਆਂ ਜਾ ਸਕਦੀਆਂ ਹਨ?

(ੳ) ਇੱਕ (ਅ) ਕੋਈ ਨਹੀਂ (ੲ) ਅਣਗਣਿਤ (ਸ) ਦੋ

ਨੋਟ: ਉੱਤਰ ਅਗਲੇ ਦਿਨ ਦੀ ਸ਼ੀਟ ਵਿੱਚ ਭੇਜੇ ਜਾਣਗੇ, ਤਦ ਤੱਕ ਦਿਮਾਗੀ ਕਸਰਤ ਕਰੋ!

Answers of Sheet No.15

Ans 71. Random access memory

Ans 72. ਜਨ ਗਨ ਮਨ

Ans 73. ਸ਼੍ਰੀਮਤੀ ਪ੍ਰਤਿਭਾ ਦੇਵੀ ਪਾਟਿਲ

Ans 74. ਸਾਉਣ ਵਿੱਚ

Ans 75. ਇੱਕ

“ਗਿਆਨ ਇੱਕ ਅਜਿਹਾ ਗਹਿਣਾ ਹੈ ਜਿਸ ਦੇ ਲੁੱਟਣ, ਖੋਹਣ ਜਾਂ ਗੁੰਮ ਹੋਣ ਦਾ ਡਰ ਨਹੀਂ ਹੁੰਦਾ”।



ਉਡਾਣ

ਛੇਵੀਂ ਤੋਂ ਅੱਠਵੀਂ ਜਮਾਤ ਦੇ ਵਿਦਿਆਰਥੀਆਂ ਲਈ
ਸ਼ੀਟ ਨੰ: 17

ਮਿਤੀ 21-05-2019

ਪ੍ਰਸ਼ਨ 81. ਖੇਤਰਫਲ ਦੇ ਪੱਖ ਨਾਲ ਸੰਸਾਰ ਵਿੱਚ ਭਾਰਤ ਦਾ ਕਿੰਨ੍ਹਵਾਂ ਸਥਾਨ ਹੈ?

(ੳ) ਦੂਜਾ (ਅ) ਤੀਜਾ (ੲ) ਸੱਤਵਾਂ (ਸ) ਪੰਜਵਾਂ

ਪ੍ਰਸ਼ਨ 82. ਚਾਣਕਿਆ ਦਾ ਦੂਜਾ ਨਾਂ ਕੀ ਸੀ?

(ੳ) ਕੋਟਲਿਆ (ਅ) ਚੰਦਰ ਗੁਪਤ
(ੲ) ਅਸ਼ੋਕ ਮਹਾਨ (ਸ) ਹਰਸ਼ਵਰਧਨ

ਪ੍ਰਸ਼ਨ 83. ਰੇਸ਼ਿਆਂ ਤੋਂ ਧਾਗਾ ਬਣਾਉਣ ਦੀ ਪ੍ਰਕਿਰਿਆ ਨੂੰ ਕੀ ਕਿਹਾ ਜਾਂਦਾ ਹੈ?

(ੳ) ਕਢਾਈ (ਅ) ਕਤਾਈ (ੲ) ਬੁਣਾਈ (ਸ) ਵੇਲਣਾ

Qu 84. How many vowels are there in English Alphabet?

(ੳ) 21 (ਅ) 3 (ੲ) 5 (ਸ) 26

Qu 85. Find the odd one out?

(ੳ) ਮੰਗਲ (ਅ) ਸ਼ਨੀ (ੲ) ਬੁੱਧ (ਸ) ਸੂਰਜ

ਸ਼ੀਟ ਨੰਬਰ 16 ਦੇ ਸਹੀ ਉੱਤਰ

ਪ੍ਰਸ਼ਨ 76 (ੲ) ਰਿਗਵੇਦ

ਪ੍ਰਸ਼ਨ 77 (ੳ) ਕਰਕ ਰੇਖਾ

ਪ੍ਰਸ਼ਨ 78 (ੲ) ਤਾਮਿਲਨਾਡੂ

ਪ੍ਰਸ਼ਨ 79 (ਸ) ਤੰਗਲੀ

ਪ੍ਰਸ਼ਨ 80 (ੲ) ਅਣਗਿਣਤ

“ਗਿਆਨ ਇੱਕ ਅਜਿਹਾ ਗਹਿਣਾ ਹੈ ਜਿਸ ਦੇ ਲੁੱਟਣ, ਖੋਹਣ ਜਾਂ ਗੁੰਮ ਹੋਣ ਦਾ ਡਰ ਨਹੀਂ ਹੁੰਦਾ”



ਉਡਾਣ

ਛੇਵੀਂ ਤੋਂ ਅੱਠਵੀਂ ਜਮਾਤ ਦੇ ਵਿਦਿਆਰਥੀਆਂ ਲਈ




ਸ਼ੀਟ ਨੰ: 18

ਮਿਤੀ : 22.05.2019

ਪਹਿਲੇ ਦੋ ਚਿੱਤਰਾਂ ਨੂੰ ਧਿਆਨ ਨਾਲ ਦੇਖੋ, ਇਹਨਾਂ ਵਿੱਚ ਬਣੇ ਸਬੰਧ ਨੂੰ ਸਮਝੋ। ਦਿੱਤੀਆਂ ਆਪਸ਼ਨਾਂ ਵਿੱਚੋਂ ਚੌਥੇ ਥਾਂ (?) ਲਈ ਢੁਕਵੀਂ ਆਪਸ਼ਨ ਚੁਣੋ ਤਾਂ ਜੋ ਤੀਜੇ ਚਿੱਤਰ ਨਾਲ ਸਹੀ ਸਬੰਧ ਸਥਾਪਿਤ ਹੋ ਸਕੇ।




ਪ੍ਰ:86.



- (a)  (b)  (c) 

ਪ੍ਰ:87.




- (a)  (b)  (c) 




ਪ੍ਰ:88.




- (a) cba (b) \overline{ABC} (c) CBA




ਪ੍ਰ:89.



- (a)  (b)  (c) 

ਪ੍ਰ:90.



- (a)  (b)  (c) 

ਸ਼ੀਟ ਨੰਬਰ 17 ਦੇ ਸਹੀ ਉੱਤਰ

ਪ੍ਰਸ਼ਨ 81 (ੲ) ਸੱਤਵਾਂ

ਪ੍ਰਸ਼ਨ 82 (ੳ) ਕੋਟੱਲਿਆ

ਪ੍ਰਸ਼ਨ 83 (ਅ) ਕਤਾਈ

ਪ੍ਰਸ਼ਨ 84 (ੲ) 5

ਪ੍ਰਸ਼ਨ 85 (ਸ) ਸੂਰਜ

“ਗਿਆਨ ਇੱਕ ਅਜਿਹਾ ਗਹਿਣਾ ਹੈ ਜਿਸ ਦੇ ਲੁੱਟਣ, ਖੋਹਣ ਜਾਂ ਗੁੰਮ ਹੋਣ ਦਾ ਡਰ ਨਹੀਂ ਹੁੰਦਾ”



ਉਡਾਣ

ਛੇਵੀਂ ਤੋਂ ਅੱਠਵੀਂ ਜਮਾਤ ਦੇ ਵਿਦਿਆਰਥੀਆਂ ਲਈ

ਸ਼ੀਟ ਨੰ:19

ਮਿਤੀ 23-05-2019

ਪ੍ਰਸ਼ਨ 91. ਸਾਡੇ ਕੌਮੀ ਝੰਡੇ (National Flag) ਵਿੱਚ ਸਭ ਤੋਂ ਉੱਪਰ ਕਿਹੜਾ ਰੰਗ ਹੈ?

(ੳ) ਕੇਸਰੀ (ਅ) ਲਾਲ (ੲ) ਹਰਾ (ਸ) ਸਫੈਦ

ਪ੍ਰਸ਼ਨ 92. ਤਿੰਨ ਟਾਂਕ ਸੰਖਿਆਵਾਂ (Odd Numbers) ਦਾ ਜੋੜ ਹਮੇਸ਼ਾ.....ਸੰਖਿਆਂ ਹੁੰਦਾ ਹੈ?
(ਟਾਂਕ/ ਜਿਸਤ)

ਪ੍ਰਸ਼ਨ 93. ਗੁਰੂ ਨਾਨਕ ਦੇਵ ਜੀ ਨੇ ਲੋਕਾਈ ਨੂੰ ਜਗਾਉਣ ਲਈ ਕਿੰਨੀਆਂ ਉਦਾਸੀਆਂ (ਧਾਰਮਿਕ ਯਾਤਰਵਾਂ) ਕੀਤੀਆਂ ।

(ੳ) ਤਿੰਨ (ਅ) ਦਸ (ੲ) ਅੱਠ (ਸ) ਚਾਰ

ਪ੍ਰਸ਼ਨ 94. What is the full form of CBSE ?

ਪ੍ਰਸ਼ਨ 95. ਇਹਨਾਂ ਵਿੱਚੋਂ ਕਿਹੜਾ ਪ੍ਰੈਜ਼ਨਟੇਸ਼ਨ ਪ੍ਰੋਗਰਾਮ (Presentation Program) ਹੈ?

(ੳ) Excel (ਅ) Word (ੲ) Power point (ਸ) Paint

ਨੋਟ: ਉੱਤਰ ਅਗਲੇ ਦਿਨ ਦੀ ਸ਼ੀਟ ਵਿੱਚ ਭੇਜੇ ਜਾਣਗੇ, ਤਦ ਤੱਕ ਦਿਮਾਗੀ ਕਸਰਤ ਕਰੋ!

ਸ਼ੀਟ ਨੰਬਰ 18 ਦੇ ਸਹੀ ਉੱਤਰ

ਪ੍ਰਸ਼ਨ 86. (c)

ਪ੍ਰਸ਼ਨ 87. (a)

ਪ੍ਰਸ਼ਨ 88. (c)

ਪ੍ਰਸ਼ਨ 89. (b)

ਪ੍ਰਸ਼ਨ 90. (b)

“ਗਿਆਨ ਇੱਕ ਅਜਿਹਾ ਗਹਿਣਾ ਹੈ ਜਿਸਦੇ ਲੁੱਟਣ, ਖੋਹਣ ਜਾਂ ਗੁੰਮ ਹੋਣ ਦਾ ਡਰ ਨਹੀਂ ਹੁੰਦਾ”



ਉਡਾਣ

ਛੇਵੀਂ ਤੋਂ ਅੱਠਵੀਂ ਜਮਾਤ ਦੇ ਵਿਦਿਆਰਥੀਆਂ ਲਈ

ਸ਼ੀਟ ਨੰ:20

ਮਿਤੀ 24-05-2019

ਪ੍ਰਸ਼ਨ 96. ਧਰਤੀ ਦੀ ਕਿਹੜੀ ਗਤੀ ਕਾਰਨ ਦਿਨ ਅਤੇ ਰਾਤ ਆਉਂਦੇ ਹਨ?

(ੳ) ਵਾਰਸ਼ਿਕ ਗਤੀ (ਅ) ਦੈਨਿਕ ਗਤੀ

ਪ੍ਰਸ਼ਨ97. ਸੰਸਾਰ ਦਾ ਸਭ ਤੋਂ ਛੋਟਾ ਮਹਾਂਸਾਗਰ (Ocean) ਕਿਹੜਾ ਹੈ?

(ੳ) ਪ੍ਰਸ਼ਾਂਤ ਮਹਾਂਸਾਗਰ(Pacific Ocean) (ਅ) ਅੰਧ ਮਹਾਂਸਾਗਰ(Atlantic Ocean)
(ੲ) ਹਿੰਦ ਮਹਾਂਸਾਗਰ(Indian Ocean) (ਸ) ਆਰਕਟਿਕ ਮਹਾਂਸਾਗਰ(Arctic Ocean)

ਪ੍ਰਸ਼ਨ98. Which command is used to copy any Text or line?

(ੳ) Ctrl+V (ਅ) Ctrl+C (ੲ) Ctrl+S (ਸ) Shift+A

ਪ੍ਰਸ਼ਨ99. ਹੇਠ ਲਿਖਿਆਂ ਵਿੱਚੋਂ ਮਾਪ ਦੀ ਸਭ ਤੋਂ ਛੋਟੀ ਇਕਾਈ ਕਿਹੜੀ ਹੈ?

(ੳ) ਮਿਲੀਮੀਟਰ (ਅ) ਸੈਂਟੀਮੀਟਰ
(ੲ) ਡੈਸੀਮੀਟਰ (ਸ) ਕਿਲੋਮੀਟਰ

ਪ੍ਰਸ਼ਨ100. ਬਿਨ੍ਹਾ ਗੁਣਨਖੰਡ ਬਣਾਏ ਅਭਾਜ ਸੰਖਿਆਵਾਂ ਪਤਾ ਕਰਨ ਦੀ ਆਸਾਨ ਵਿਧੀ ਕਿਸ ਹਿਸਾਬਦਾਨ ਵੱਲੋਂ ਦਿੱਤੀ ਗਈ?

(ੳ) ਇਰਾਟੋਸਥੀਨਸ (ਅ) ਪਾਈਥਾਗੋਰਸ (ੲ) ਆਰੀਆ ਭੱਟ (ਸ) ਯੂਕਲਿਡ

ਸ਼ੀਟ ਨੰਬਰ 19 ਦੇ ਸਹੀ ਉੱਤਰ

ਪ੍ਰਸ਼ਨ 91. (ੳ) ਕੇਸਰੀ

ਪ੍ਰਸ਼ਨ 92. ਟਾਂਕ

ਪ੍ਰਸ਼ਨ 93. (ਸ)

ਚਾਰ

ਪ੍ਰਸ਼ਨ 94. Central Board of Secondary Education

ਪ੍ਰਸ਼ਨ 95. (ੲ) Power point

“ਗਿਆਨ ਇੱਕ ਅਜਿਹਾ ਗਹਿਣਾ ਹੈ ਜਿਸ ਦੇ ਲੁੱਟਣ, ਖੋਹਣ ਜਾਂ ਗੁੰਮ ਹੋਣ ਦਾ ਡਰ ਨਹੀਂ ਹੁੰਦਾ”।



ਉਡਾਣ



ਫੋਵੀਂ ਤੋਂ ਅੱਠਵੀਂ ਜਮਾਤ ਦੇ ਵਿਦਿਆਰਥੀਆਂ ਲਈ

ਸ਼ੀਟ ਨੰ: 21

ਮਿਤੀ 25-05-2019

ਪ੍ਰਸ਼ਨ101. ਪਾਣੀ ਕਿਹੜੇ ਦੋ ਤੱਤਾਂ ਤੋਂ ਮਿਲ ਕੇ ਬਣਿਆ ਹੈ?

- (ੳ) ਆਕਸੀਜਨ ਅਤੇ ਨਾਈਟਰੋਜਨ (ਅ) ਹਾਈਡਰੋਜਨ ਅਤੇ ਆਕਸੀਜਨ
(ੲ) ਨਾਈਟਰੋਜਨ ਅਤੇ ਹਾਈਡਰੋਜਨ (ਸ) ਕਾਰਬਨ ਡਾਈਆਕਸਾਇਡ ਅਤੇ ਗੰਧਕ

ਪ੍ਰਸ਼ਨ102. How many centimeters are there in a foot?

- (ੳ) 12 (ਅ) 100 (ੲ) 30.48 (ਸ) 250

ਪ੍ਰਸ਼ਨ103. _____ is the National Game of India?

- (ੳ) Kabaddi (ਅ) Cricket (ੲ) Hockey (ਸ) Football

ਪ੍ਰਸ਼ਨ104. Which is the smallest state of India according to area ?

- (ੳ) Goa (ਅ) Sikkim
(ੲ) Nagaland (ਸ) Mizoram

ਪ੍ਰਸ਼ਨ105. What is the full form of EVM ?

- (ੳ) Electronic Voting Machine (ਅ) Electronic Voting Mark
(ੲ) Electric Voting Machine (ਸ) Electric Voting Module

ਸ਼ੀਟ ਨੰਬਰ 20 ਦੇ ਸਹੀ ਉੱਤਰ

ਪ੍ਰਸ਼ਨ 96. (ਅ) ਦੈਨਿਕ ਗਤੀ ਪ੍ਰਸ਼ਨ 97. (ਸ) ਆਰਕਟਿਕ ਮਹਾਂਸਾਗਰ(Arctic Ocean)

ਪ੍ਰਸ਼ਨ 98. (ਅ) Ctrl+C ਪ੍ਰਸ਼ਨ 99. (ੳ) ਮਿਲੀਮੀਟਰ

ਪ੍ਰਸ਼ਨ 100. (ੳ) ਇਰਾਟੋਸਥੀਨਸ

“ਗਿਆਨ ਇੱਕ ਅਜਿਹਾ ਗਹਿਣਾ ਹੈ ਜਿਸ ਦੇ ਲੁੱਟਣ, ਖੋਹਣ ਜਾਂ ਗੁੰਮ ਹੋਣ ਦਾ ਡਰ ਨਹੀਂ ਹੁੰਦਾ”।



ਉਡਾਣ

ਫੇਵੀਂ ਤੋਂ ਅੱਠਵੀਂ ਜਮਾਤ ਦੇ ਵਿਦਿਆਰਥੀਆਂ ਲਈ

ਸ਼ੀਟ ਨੰ: 22

ਮਿਤੀ 27-05-2019

ਪ੍ਰਸ਼ਨ106. ਮਨੁੱਖੀ ਸਰੀਰ ਦਾ ਸਭ ਤੋਂ ਵੱਡਾ ਅੰਦਰੂਨੀ ਅੰਗ ਕਿਹੜਾ ਹੈ?

(ੳ) ਦਿਲ (Heart) (ਅ) ਜਿਗਰ (Liver)

(ੲ) ਦਿਮਾਗ (Brain) (ਸ) ਫੇਫੜੇ (Lungs)

ਪ੍ਰਸ਼ਨ107. ਗੁਲਾਬੀ ਸ਼ਹਿਰ (Pink City) ਕਿਸ ਸ਼ਹਿਰ ਨੂੰ ਕਿਹਾ ਜਾਂਦਾ ਹੈ?

(ੳ) ਅੰਮ੍ਰਿਤਸਰ (ਅ) ਮੁੰਬਈ (ੲ) ਜੈਪੁਰ (ਸ) ਹੈਦਰਾਬਾਦ

ਪ੍ਰਸ਼ਨ108. _____ is the National Bird of India?

(ੳ) Sparrow (ਅ) Peacock (ੲ) Parrot (ਸ) Crow

ਪ੍ਰਸ਼ਨ109. ਸੂਰਜ ਦੀ ਰੋਸ਼ਨੀ ਨੂੰ ਧਰਤੀ ਤੇ ਪਹੁੰਚਣ ਲਈ ਕਿੰਨ੍ਹਾ ਸਮਾਂ ਲੱਗਦਾ ਹੈ?

(ੳ) 500 ਸੈਕਿੰਡ (ਅ) 400 ਸੈਕਿੰਡ

(ੲ) 450 ਸੈਕਿੰਡ (ਸ) 300 ਸੈਕਿੰਡ

ਪ੍ਰਸ਼ਨ110. What is the full form of ATM ?

(ੳ) Automated Teller Machine (ਅ) Automated Teller Mark

(ੲ) Automatic Teller Machine (ਸ) Automatic Teller Motar

ਸ਼ੀਟ ਨੰਬਰ 21 ਦੇ ਸਹੀ ਉੱਤਰ

ਪ੍ਰਸ਼ਨ 101. (ਅ) ਹਾਈਡਰੋਜਨ ਅਤੇ ਆਕਸੀਜਨ

ਪ੍ਰਸ਼ਨ 102. (ੲ) 30.48

ਪ੍ਰਸ਼ਨ 103. (ੲ) Hockey

ਪ੍ਰਸ਼ਨ 104. (ੳ) Goa

ਪ੍ਰਸ਼ਨ 105. (ੳ) Electronic Voting Machine

“ਗਿਆਨ ਇੱਕ ਅਜਿਹਾ ਗਹਿਣਾ ਹੈ ਜਿਸ ਦੇ ਲੁੱਟਣ, ਖੋਹਣ ਜਾਂ ਗੁੰਮ ਹੋਣ ਦਾ ਡਰ ਨਹੀਂ ਹੁੰਦਾ”।



ਉਡਾਣ



ਫੇਵੀਂ ਤੋਂ ਅੱਠਵੀਂ ਜਮਾਤ ਦੇ ਵਿਦਿਆਰਥੀਆਂ ਲਈ

ਸ਼ੀਟ ਨੰ: 23

ਮਿਤੀ 28-05-2019

- ਪ੍ਰਸ਼ਨ111. ਅਜ਼ਾਦ ਭਾਰਤ ਵਿੱਚ ਪਹਿਲੀ ਵਾਰ ਆਮ ਚੋਣਾਂ (General Elections) ਕਦੋਂ ਕਰਵਾਈਆਂ ਗਈਆਂ?
- (ੳ) 1947 ਵਿੱਚ (ਅ) 1952 ਵਿੱਚ (ੲ) 1950 ਵਿੱਚ (ਸ) 1955 ਵਿੱਚ
- ਪ੍ਰਸ਼ਨ112. ਸੁੱਕਰ ਗ੍ਰਹਿ (Venus Planet) ਨੂੰ ਹੋਰ ਕਿਸ ਨਾਮ ਨਾਲ ਜਾਣਿਆ ਜਾਂਦਾ ਹੈ?
- (ੳ) Blue Planet (ਅ) Red Planet
(ੲ) Morning and Evening Star (ਸ) Big Star
- ਪ੍ਰਸ਼ਨ113. How many continents are there in the world?
- (ੳ) Four (ਅ) Seven (ੲ) Six (ਸ) Ten
- ਪ੍ਰਸ਼ਨ114. ਘੜੀ ਦੀਆਂ ਸੁਈਆਂ 5 ਵਜੇ ਕਿਹੜਾ ਕੋਣ ਬਣਾਉਣਗੀਆਂ?
- (ੳ) ਨਿਊਨ ਕੋਣ (Acute Angle) (ਅ) ਸਮ ਕੋਣ (Right Angle)
(ੲ) ਅਧਿਕ ਕੋਣ (Obtuse Angle) (ਸ) ਰਿਫਲੈਕਸ ਕੋਣ (Reflex Angle)
- ਪ੍ਰਸ਼ਨ115. What is the full form of LPG ?
- (ੳ) Liquefied Phosphorus Gas (ਅ) Liquefied Petroleum Gas
(ੲ) Light Petroleum Gas (ਸ) Light Phosphorus Gas

ਸ਼ੀਟ ਨੰਬਰ 22 ਦੇ ਸਹੀ ਉੱਤਰ

ਪ੍ਰਸ਼ਨ 106. (ਅ) ਜਿਗਰ

ਪ੍ਰਸ਼ਨ 107. (ੲ) ਜੈਪੁਰ

ਪ੍ਰਸ਼ਨ 108. (ਅ) Peacock

ਪ੍ਰਸ਼ਨ 109. (ੳ) 500 ਸੈਕਿੰਡ

ਪ੍ਰਸ਼ਨ 110. (ੳ) Automated Teller Machine

“ਗਿਆਨ ਇੱਕ ਅਜਿਹਾ ਗਹਿਣਾ ਹੈ ਜਿਸ ਦੇ ਲੁੱਟਣ, ਖੋਹਣ ਜਾਂ ਗੁੰਮ ਹੋਣ ਦਾ ਡਰ ਨਹੀਂ ਹੁੰਦਾ”।



ਉਡਾਣ



ਛੇਵੀਂ ਤੋਂ ਅੱਠਵੀਂ ਜਮਾਤ ਦੇ ਵਿਦਿਆਰਥੀਆਂ ਲਈ

ਸ਼ੀਟ ਨੰ: 24

ਮਿਤੀ 29-05-2019

ਪ੍ਰਸ਼ਨ116. ਧਰਤੀ ਆਪਣੀ ਧਰੀ ਉਪਰ ਕਿੰਨੇ ਡਿਗਰੀ ਤੇ ਝੁਕੀ ਹੋਈ ਹੈ?

(ੳ) 66½ ਡਿਗਰੀ ਤੇ (ਅ) 56½ ਡਿਗਰੀ ਤੇ

(ੲ) 23½ ਡਿਗਰੀ ਤੇ (ਸ) 90 ਡਿਗਰੀ ਤੇ

ਪ੍ਰਸ਼ਨ117. _____ is the Presiding Officer of the Lok Sabha.

(ੳ) Prime Minister (ਅ) Governor

(ੲ) Speaker (ਸ) Chief Minister

ਪ੍ਰਸ਼ਨ118. The _____ is the longest river in India.

(ੳ) Ganga (ਅ) Yamuna (ੲ) Sutlej (ਸ) Narmada

ਪ੍ਰਸ਼ਨ119. ਇੱਕ ਮੀਲ ਵਿੱਚ ਕਿੰਨੇ ਗਜ਼ ਹੁੰਦੇ ਹਨ?

(ੳ) 1670 (ਅ) 1760 (ੲ) 1000 (ਸ) 1600

ਪ੍ਰਸ਼ਨ 120. What do we call the young one of a 'DOG'?

(ੳ) Puppy (ਅ) Calf (ੲ) Kitten (ਸ) Cub

ਸ਼ੀਟ ਨੰਬਰ 23 ਦੇ ਸਹੀ ਉੱਤਰ

ਪ੍ਰਸ਼ਨ 111. (ਅ) 1952 ਵਿੱਚ


ਪ੍ਰਸ਼ਨ 112. (ੲ) Morning and Evening Star

ਪ੍ਰਸ਼ਨ 113. (ਅ) Seven

ਪ੍ਰਸ਼ਨ 114. (ੲ) ਅਧਿਕ ਕੋਣ (Obtuse Angle)

ਪ੍ਰਸ਼ਨ 115. (ਅ) Liquefied Petroleum Gas

“ਗਿਆਨ ਇੱਕ ਅਜਿਹਾ ਗਹਿਣਾ ਹੈ ਜਿਸ ਦੇ ਲੁੱਟਣ, ਖੋਹਣ ਜਾਂ ਗੁੰਮ ਹੋਣ ਦਾ ਡਰ ਨਹੀਂ ਹੁੰਦਾ”।



ਉਡਾਣ

ਛੇਵੀਂ ਤੋਂ ਅਠਵੀਂ ਜਮਾਤ ਦੇ ਵਿਦਿਆਰਥੀਆਂ ਲਈ

ਸ਼ੀਟ ਨੰ : 25

ਮਿਤੀ 02-07-2019

ਪ੍ਰਸ਼ਨ 121:- 'A person who tries to break into people's computer systems.

- (A) Packer (B) Pecker (C) Hecker (D) Hacker

ਪ੍ਰਸ਼ਨ 122:- Which is the second highest Civilian Award in India?

- (A) Padma Vibhushan (B) Padma Bhushan
(C) Bharat Ratana (D) Veer Chakra

ਪ੍ਰਸ਼ਨ 123:- ਕਿੱਕਲੀ -----ਕੁੜੀਆਂ/ ਮੁੰਡਿਆਂ ਦੀ ਪ੍ਰਸਿੱਧ ਖੇਡ ਹੈ।

"Kikli " is a famous game of -----.(girls/boys).

ਪ੍ਰਸ਼ਨ 124:- I buy a purse . Give second form (V2) of the underlined verb.

ਪ੍ਰਸ਼ਨ 125:- Meenu said , "The man going on the road is my mother's husband ."
How is the man related to Meenu?

- (A) Brother (B) Son (C) Father (D) Uncle

ਨੋਟ: ਉੱਤਰ ਅਗਲੇ ਦਿਨ ਦੀ ਸ਼ੀਟ ਵਿੱਚ ਭੇਜੇ ਜਾਣਗੇ, ਤਦ ਤੱਕ ਦਿਮਾਗੀ ਕਸਰਤ ਕਰੋ!

“ਜ਼ਿੰਦਗੀ ਵਿੱਚ ਹਰ ਰੋਜ਼ ਕੁੱਝ ਨਵਾਂ ਸਿੱਖਣ ਦੀ ਕੋਸ਼ਿਸ਼ ਕਰਨੀ ਚਾਹੀਦੀ ਹੈ”।



ਉਡਾਣ

ਫੇਵੀਂ ਤੋਂ ਅੱਠਵੀਂ ਜਮਾਤ ਦੇ ਵਿਦਿਆਰਥੀਆਂ ਲਈ

ਸ਼ੀਟ ਨੰ: 26

ਮਿਤੀ 03-07-2019

ਪ੍ਰਸ਼ਨ126. You _____(must/have) keep your promise.Choose the correct option.

ਪ੍ਰਸ਼ਨ127. Panama canal connects _____Oceans.

(ੳ) Atlantic Ocean (ਅੰਧ ਮਹਾਂਸਾਗਰ) and Arctic Ocean(ਆਰਕਟਿਕ ਮਹਾਂਸਾਗਰ)

(ਅ) Atlantic Ocean (ਅੰਧ ਮਹਾਂਸਾਗਰ) and Pacific Ocean (ਸ਼ਾਂਤ ਮਹਾਂਸਾਗਰ)

(ੲ) Pacific Ocean (ਸ਼ਾਂਤ ਮਹਾਂਸਾਗਰ) and Arctic Ocean(ਆਰਕਟਿਕ ਮਹਾਂਸਾਗਰ)

(ਸ) Indian Ocean(ਹਿੰਦ ਮਹਾਂਸਾਗਰ) ਅਤੇ Atlantic Ocean (ਅੰਧ ਮਹਾਂਸਾਗਰ)

ਪ੍ਰਸ਼ਨ128. ਸੱਭਿਆਚਾਰ ਸਾਨੂੰ ਕੀ ਸਿਖਾਉਂਦਾ ਹੈ?

(ੳ) ਪੈਸੇ ਕਮਾਉਣ ਦਾ ਢੰਗ

(ਅ) ਜਿਉਣ ਦਾ ਚੱਜ

(ੲ) ਚੋਰੀ ਕਰਨ ਦਾ ਢੰਗ

(ਸ) ਦੂਜਿਆਂ ਨਾਲ ਲੜਨ ਦੀ ਜਾਚ

ਪ੍ਰਸ਼ਨ129. Where is "FATEH BURJ" is located?

(ੳ) Sri Anandpur Sahib

(ਅ) Sri Muktsar Sahib

(ੲ) Amritsar

(ਸ) Chappar chiri

ਪ੍ਰਸ਼ਨ130. The line passing through the centre of the circle is called a _____.

ਚੱਕਰ ਦੇ ਕੇਂਦਰ ਵਿੱਚੋਂ ਦੀ ਲੰਘਦੀ ਰੇਖਾ ਨੂੰ ਕੀ ਕਿਹਾ ਜਾਂਦਾ ਹੈ?

(ੳ) ਵਿਆਸ (Diameter)

(ਅ) ਅਰਧ ਵਿਆਸ (Radius)

(ੲ) ਛੇਦਕ ਰੇਖਾ (Secant line)

(ਸ) ਸਪਰਸ਼ ਰੇਖਾ (Tangent line)

ਨੋਟ: ਉੱਤਰ ਅਗਲੇ ਦਿਨ ਦੀ ਸ਼ੀਟ ਵਿੱਚ ਭੇਜੇ ਜਾਣਗੇ, ਤਦ ਤੱਕ ਦਿਮਾਗੀ ਕਸਰਤ ਕਰੋ!

ਸ਼ੀਟ ਨੰਬਰ 25 ਦੇ ਸਹੀ ਉੱਤਰ

ਪ੍ਰਸ਼ਨ 121. (D) Hacker

ਪ੍ਰਸ਼ਨ 122. (A) Padma Vibhushan

ਪ੍ਰਸ਼ਨ 123. ਕੁੜੀਆਂ (Girls)

ਪ੍ਰਸ਼ਨ 124. bought

ਪ੍ਰਸ਼ਨ 125. (C) Father

“ਜ਼ਿੰਦਗੀ ਵਿੱਚ ਹਰ ਰੋਜ਼ ਕੁੱਝ ਨਵਾਂ ਸਿੱਖਣ ਦੀ ਕੋਸ਼ਿਸ਼ ਕਰਨੀ ਚਾਹੀਦੀ ਹੈ”।



ਉਡਾਣ



ਛੇਵੀਂ ਤੋਂ ਅੱਠਵੀਂ ਜਮਾਤ ਦੇ ਵਿਦਿਆਰਥੀਆਂ ਲਈ

ਸ਼ੀਟ ਨੰ: 27

ਮਿਤੀ 04-07-2019

- ਪ੍ਰਸ਼ਨ131. Who is called the "Iron Man of India"?
- (ੳ) Sardar Vallabhbhai Patel (ਅ) Bipin Chandra Pal
(ੲ) Lala Lajpat Rai (ਸ) Mahatma Gandhi
- ਪ੍ਰਸ਼ਨ132. The 'Teacher's Day' is celebrated on the birth day of _____.
- (ੳ) Jawahar Lal Nehru (ਅ) Dr. Radha Krishnan
(ੲ) Indira Gandhi (ਸ) Mahatma Gandhi
- ਪ੍ਰਸ਼ਨ133. Highest Common Factor(H.C.F.) of two prime numbers is _____ .
- (ੳ) 0 (ਅ) smallest number from both of them
(ੲ) 1 (ਸ) multiplication of both prime numbers
- ਪ੍ਰਸ਼ਨ134. ਪੰਜਾਬੀ ਭਾਸ਼ਾ ਵਿੱਚ ਵਾਰਸ ਸ਼ਾਹ ਨੂੰ ਕਿਹੜਾ ਕਿੱਸਾ ਲਿਖਣ ਨਾਲ ਪ੍ਰਸਿੱਧੀ ਮਿਲੀ?
- (ੳ) ਸੋਹਣੀ ਮਹੀਵਾਲ (ਅ) ਸੱਸੀ ਪੁੱਠੂ
(ੲ) ਹੀਰ (ਸ) ਲੈਲਾ ਮਜਨੂੰ
- ਪ੍ਰਸ਼ਨ 135. Fill up suitable article:
Raman is..... intelligent girl. (the/an)

ਨੋਟ: ਉੱਤਰ ਅਗਲੇ ਦਿਨ ਦੀ ਸ਼ੀਟ ਵਿੱਚ ਭੇਜੇ ਜਾਣਗੇ, ਤਦ ਤੱਕ ਦਿਮਾਗੀ ਕਸਰਤ ਕਰੋ!

ਸ਼ੀਟ ਨੰਬਰ 26 ਦੇ ਸਹੀ ਉੱਤਰ

ਪ੍ਰਸ਼ਨ 126. must

ਪ੍ਰਸ਼ਨ 127. (ਅ) Atlantic Ocean (ਅੰਧ ਮਹਾਂਸਾਗਰ) and Pacific Ocean (ਪ੍ਰਸ਼ਾਂਤ ਮਹਾਂਸਾਗਰ)

ਪ੍ਰਸ਼ਨ 128. (ਅ) ਜਿਊਣ ਦਾ ਚੱਜ

ਪ੍ਰਸ਼ਨ129. (ਸ) Chappar Chiri

ਪ੍ਰਸ਼ਨ130. (ੲ) ਛੇਦਕ ਰੇਖਾ (Secant line)

“ਜ਼ਿੰਦਗੀ ਵਿੱਚ ਹਰ ਰੋਜ਼ ਕੁੱਝ ਨਵਾਂ ਸਿੱਖਣ ਦੀ ਕੋਸ਼ਿਸ਼ ਕਰਨੀ ਚਾਹੀਦੀ ਹੈ”।



ਉਡਾਣ

ਛੇਵੀਂ ਤੋਂ ਅੱਠਵੀਂ ਜਮਾਤ ਦੇ ਵਿਦਿਆਰਥੀਆਂ ਲਈ

ਸ਼ੀਟ ਨੰ: 28

ਮਿਤੀ 05-07-2019

ਪ੍ਰਸ਼ਨ 136. Fill up suitable Article

Sita reads interesting story. (a / an)

ਪ੍ਰਸ਼ਨ137. ਪਲਾਸੀ ਦੀ ਲੜਾਈ ਕਦੋਂ ਲੜੀ ਗਈ ਸੀ?

- (ੳ) 1764 (ਅ) 1757
(ੲ) 1914 (ਸ) 1857

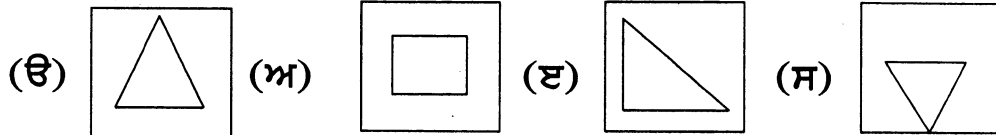
When was the 'BATTLE OF PLASSEY' fought ?

- (a) 1764 (b) 1757
(c) 1914 (d) 1857

ਪ੍ਰਸ਼ਨ138. ਸ੍ਰੀ ਗੁਰੂ ਨਾਨਕ ਦੇਵ ਜੀ ਦਾ ਜਨਮ ਕਿੱਥੇ ਹੋਇਆ ਸੀ?

- (ੳ) ਪਟਨਾ ਸਾਹਿਬ (ਅ) ਫਤਿਹਗੜ ਸਾਹਿਬ
(ੲ) ਅੰਮ੍ਰਿਤਸਰ (ਸ) ਰਾਇ ਭੋਇ ਦੀ ਤਲਵੰਡੀ

ਪ੍ਰਸ਼ਨ139. Find odd one out from given figures ?



ਪ੍ਰਸ਼ਨ140. World Environment day is celebrated on


- (ੳ) 28th Feb (ਅ) 5th June
(ੲ) 7th June (ਸ) 10th April

ਸ਼ੀਟ ਨੰਬਰ 27 ਦੇ ਸਹੀ ਉੱਤਰ

ਪ੍ਰਸ਼ਨ 131. (ੳ) Sardar Vallabhbhai Patel ਪ੍ਰਸ਼ਨ 132. (ਅ) Dr. Radha Krishnan

ਪ੍ਰਸ਼ਨ 133. (ੲ) ਪ੍ਰਸ਼ਨ 134. (ੲ) ਹੀਰ ਪ੍ਰਸ਼ਨ 135. an

“ਜ਼ਿੰਦਗੀ ਵਿੱਚ ਹਰ ਰੋਜ਼ ਕੁੱਝ ਨਵਾਂ ਸਿੱਖਣ ਦੀ ਕੋਸ਼ਿਸ਼ ਕਰਨੀ ਚਾਹੀਦੀ ਹੈ”।



ਉਡਾਣ



ਛੇਵੀਂ ਤੋਂ ਅੱਠਵੀਂ ਜਮਾਤ ਦੇ ਵਿਦਿਆਰਥੀਆਂ ਲਈ

ਸ਼ੀਟ ਨੰ: 29

ਮਿਤੀ 06-07-2019

ਪ੍ਰਸ਼ਨ141. What is the other name of black soil?

ਪ੍ਰਸ਼ਨ141. ਕਾਲੀ ਮਿੱਟੀ ਦਾ ਦੂਜਾ ਨਾਮ ਕੀ ਹੈ ?

(ੳ) ਜਲੋਢ ਮਿੱਟੀ (Alluvial Soil) (ਅ) ਲਾਲ ਮਿੱਟੀ (Red soil)

(ੲ) ਰੇਤਲੀ ਮਿੱਟੀ (Sandy soil) (ਸ) ਰੇਗੁਰ ਮਿੱਟੀ (Regur soil)

ਪ੍ਰਸ਼ਨ142. Every drop of water _____(is/are/am) Precious.

ਪ੍ਰਸ਼ਨ143. Which city is called "The city of Golden Temple"?

(ੳ) Patiala

(ਅ) Amritsar

(ੲ) Fatehgarh sahib

(ਸ) Anandpur sahib

ਪ੍ਰਸ਼ਨ144. What is the chemical formula of water?

ਪ੍ਰਸ਼ਨ144. ਪਾਣੀ ਦਾ ਰਸਾਇਣਕ ਸੂਤਰ ਕੀ ਹੈ?

(ੳ) H₂O

(ਅ) O₂

(ੲ) CO

(ਸ) CO₂

ਪ੍ਰਸ਼ਨ145. Volume of Cuboid =

(a) Length x Breadth x Height

(b) Length x Breadth

(c) 2 (Length + Breadth)

(d) 4 x Side

(ਘਣਾਕ ਦਾ ਆਇਤਨ) =

(ੳ) ਲੰਬਾਈ x ਚੌੜਾਈ x ਉਚਾਈ

(ਅ) ਲੰਬਾਈ x ਚੌੜਾਈ

(ੲ) 2 (ਲੰਬਾਈ + ਚੌੜਾਈ)

(ਸ) 4 x ਭੁਜਾ

ਸ਼ੀਟ ਨੰਬਰ 28 ਦੇ ਸਹੀ ਉੱਤਰ

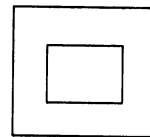
ਪ੍ਰਸ਼ਨ 136. an

ਪ੍ਰਸ਼ਨ 137. (ਅ) 1757


ਪ੍ਰਸ਼ਨ138. (ਸ) ਰਾਇ ਭੋਇ ਦੀ ਤਲਵੰਡੀ,

ਪ੍ਰਸ਼ਨ 139. (ਅ)

ਪ੍ਰਸ਼ਨ140. (ਅ) 5th June



“ਜ਼ਿੰਦਗੀ ਵਿੱਚ ਹਰ ਰੋਜ਼ ਕੁੱਝ ਨਵਾਂ ਸਿੱਖਣ ਦੀ ਕੋਸ਼ਿਸ਼ ਕਰਨੀ ਚਾਹੀਦੀ ਹੈ”।



ਉਡਾਣ



ਛੇਵੀਂ ਤੋਂ ਅੱਠਵੀਂ ਜਮਾਤ ਦੇ ਵਿਦਿਆਰਥੀਆਂ ਲਈ

ਸ਼ੀਟ ਨੰ: 30

ਮਿਤੀ 08-07-2019

Qu 146. Who is called the father of computer ?

ਪ੍ਰਸ਼ਨ146. ਕੰਪਿਊਟਰ ਦਾ ਪਿਤਾਮਾ ਕਿਸ ਨੂੰ ਕਿਹਾ ਜਾਂਦਾ ਹੈ?

(ੳ) Thales (ਅ) Charles Babbage (ੲ) Aryabhatta (ਸ) Edison

Qu147. Which metal is cut by knife?

(ੳ) Sodium (ਅ) Iron (ੲ) Copper (ਸ) Silver

ਪ੍ਰਸ਼ਨ147. ਕਿਹੜੀ ਧਾਤੂ ਨੂੰ ਚਾਕੂ ਨਾਲ ਕੱਟਿਆ ਜਾ ਸਕਦਾ ਹੈ?

(ੳ) ਸੋਡੀਅਮ (ਅ) ਲੋਹਾ (ੲ) ਕਾਪਰ (ਸ) ਸਿਲਵਰ

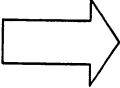

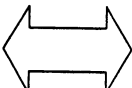

ਪ੍ਰਸ਼ਨ148. I get up early in the morning.

(change into past indefinite tense)

ਪ੍ਰਸ਼ਨ149. Area of Circle (ਚੱਕਰ ਦਾ ਖੇਤਰਫਲ) =

(ੳ) πr (ਅ) $2\pi r$ (ੲ) πr^2 (ਸ) $4\pi r^2$

ਪ੍ਰਸ਼ਨ150. Find odd one out from the given figures ?


(ੳ)  (ਅ)  (ੲ)  (ਸ) 

ਸ਼ੀਟ ਨੰਬਰ 29 ਦੇ ਸਹੀ ਉੱਤਰ

ਪ੍ਰਸ਼ਨ 141. (ਸ) ਰੇਗੁਰ ਮਿੱਟੀ (Regur soil) ਪ੍ਰਸ਼ਨ 142. is ਪ੍ਰਸ਼ਨ 143. (ਅ) Amritsar

ਪ੍ਰਸ਼ਨ 144. (ੳ) H_2O ਪ੍ਰਸ਼ਨ 145. (ੳ) Length x Breadth x Height (ਲੰਬਾਈ x ਚੌੜਾਈ x ਉਚਾਈ)

“ਜ਼ਿੰਦਗੀ ਵਿੱਚ ਹਰ ਰੋਜ਼ ਕੁੱਝ ਨਵਾਂ ਸਿੱਖਣ ਦੀ ਕੋਸ਼ਿਸ਼ ਕਰਨੀ ਚਾਹੀਦੀ ਹੈ”।



ਉਡਾਣ



ਫੇਵੀਂ ਤੋਂ ਅੱਠਵੀਂ ਜਮਾਤ ਦੇ ਵਿਦਿਆਰਥੀਆਂ ਲਈ
ਸ਼ੀਟ ਨੰ: 31 ਮਿਤੀ 09-07-2019

- Qu151. There are _____ parts of speech in English.
(a) Five (b) Eight (c) Three (d) Four
- Qu152. Which gas is produced when fireplace is lighted in a closed room?
(a) Carbon dioxide (b) Carbon monoxide (c) Oxygen (d) Nitrogen
- ਪ੍ਰਸ਼ਨ152. ਬੰਦ ਕਮਰੇ ਵਿੱਚ ਅੰਗੀਠੀ ਬਲਣ ਤੇ ਕਿਹੜੀ ਜ਼ਹਿਰੀਲੀ ਗੈਸ ਬਣਦੀ ਹੈ?
(ੳ) ਕਾਰਬਨ ਡਾਈਆਕਸਾਈਡ (ਅ) ਕਾਰਬਨ ਮੋਨੋਆਕਸਾਈਡ
(ੲ) ਆਕਸੀਜਨ (ਸ) ਨਾਈਟਰੋਜਨ
- Qu153. Who is the current Education Minister of Punjab?
- ਪ੍ਰਸ਼ਨ153. ਪੰਜਾਬ ਦੇ ਮੌਜੂਦਾ ਸਿੱਖਿਆ ਮੰਤਰੀ ਕੌਣ ਹਨ?
(ੳ) Smt Razia Sultana (ਅ) Smt Aruna Chaudhary
(ੲ) Shri Vijay Inder Singla (ਸ) Shri O.P. Soni
- Qu154. What is the size of each angle in an equilateral triangle?
- ਪ੍ਰਸ਼ਨ154. ਸਮਭੁਜੀ ਤਿਕੋਣ ਦਾ ਹਰੇਕ ਕੋਣ ਕਿੰਨੇ ਡਿਗਰੀ ਦਾ ਹੁੰਦਾ ਹੈ?
(ੳ) 90° (ਅ) 60° (ੲ) 180° (ਸ) 40°
- Qu155. Who is the captain of Indian cricket team?
- ਪ੍ਰਸ਼ਨ155. ਭਾਰਤੀ ਕ੍ਰਿਕੇਟ ਟੀਮ ਦੇ ਕਪਤਾਨ ਕੌਣ ਹਨ?
(ੳ) Virat Kohli (ਅ) Rohit Sharma (ੲ) M.S.Dhoni (ਸ) Ravi Shastri

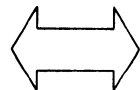
ਸ਼ੀਟ ਨੰਬਰ 30 ਦੇ ਸਹੀ ਉੱਤਰ

ਪ੍ਰਸ਼ਨ 146. (ਅ) Charles Babbage


ਪ੍ਰਸ਼ਨ 147. (ੳ) Sodium (ਸੋਡੀਅਮ)

ਪ੍ਰਸ਼ਨ 148. I got up early in the morning.

ਪ੍ਰਸ਼ਨ 149. (ੲ) π^2 ਪ੍ਰਸ਼ਨ 150. (ੲ)



“ਜ਼ਿੰਦਗੀ ਵਿੱਚ ਹਰ ਰੋਜ਼ ਕੁੱਝ ਨਵਾਂ ਸਿੱਖਣ ਦੀ ਕੋਸ਼ਿਸ਼ ਕਰਨੀ ਚਾਹੀਦੀ ਹੈ”।



ਉਡਾਣ

ਫੇਵੀਂ ਤੋਂ ਅਠਵੀਂ ਜਮਾਤ ਦੇ ਵਿਦਿਆਰਥੀਆਂ ਲਈ

ਸ਼ੀਟ ਨੰ: 32

ਮਿਤੀ 10-07-2019

ਪੰਜਾਬ ਦੇ ਨਕਸ਼ੇ ਨੂੰ ਧਿਆਨ ਨਾਲ ਦੇਖੋ ਅਤੇ ਹੇਠ ਲਿਖੇ ਪ੍ਰਸ਼ਨਾਂ ਦੇ ਉੱਤਰ ਲਓ:-

ਪ੍ਰਸ਼ਨ 156. 3 ਨੰਬਰ ਵਾਲੇ ਭਾਗ ਵਿੱਚ ਸਥਿਤ ਜਿਲ੍ਹੇ

ਦਾ ਨਾਮ ਦੱਸੋ।

(ੳ) ਅੰਮ੍ਰਿਤਸਰ

(ਅ) ਸੰਗਰੂਰ

(ੲ) ਮਾਨਸਾ

(ਸ) ਕਪੂਰਥਲਾ

ਪ੍ਰਸ਼ਨ 157. ਪੰਜਾਬ ਸਕੂਲ ਸਿੱਖਿਆ ਬੋਰਡ ਦਾ

ਮੁੱਖ ਦਫਤਰ ਜੋ ਐਸ.ਏ.ਐਸ. ਨਗਰ ਵਿਖੇ ਸਥਿਤ ਹੈ, ਉਹ

ਜਿਲ੍ਹਾ _____ ਨੰਬਰ ਤੇ ਦਰਸਾਇਆ ਗਿਆ ਹੈ।

(ੳ) 13

(ਅ) 14

(ੲ) 21

(ਸ) 12

ਪ੍ਰਸ਼ਨ 158. ਪੁਸ਼ਪਾ ਗੁਜਰਾਲ ਸਾਇੰਸ ਸਿਟੀ _____

ਜਿਲ੍ਹੇ ਵਿੱਚ (ਅੰਕਿਤ ਨੰ: 5) ਸਥਿਤ ਹੈ।

(ੳ) ਬਰਨਾਲਾ

(ਅ) ਫਾਜ਼ਿਲਕਾ

(ੲ) ਜਲੰਧਰ

(ਸ) ਕਪੂਰਥਲਾ

ਪ੍ਰਸ਼ਨ 159. ਅੰਕਿਤ XX ਵਾਲਾ ਦੇਸ਼ ਜਿਸ ਦੀ ਸੀਮਾ ਪੰਜਾਬ

ਨਾਲ ਲਗਦੀ ਹੈ, ਦਾ ਨਾਮ ਦੱਸੋ।

(ੳ) ਸ਼੍ਰੀ ਲੰਕਾ

(ਅ) ਪਾਕਿਸਤਾਨ

(ੲ) ਭੂਟਾਨ

(ਸ) ਨੇਪਾਲ

ਪ੍ਰਸ਼ਨ 160. ਪੰਜਾਬ ਦੀ ਰਾਜਧਾਨੀ ਚੰਡੀਗੜ ਨੂੰ _____

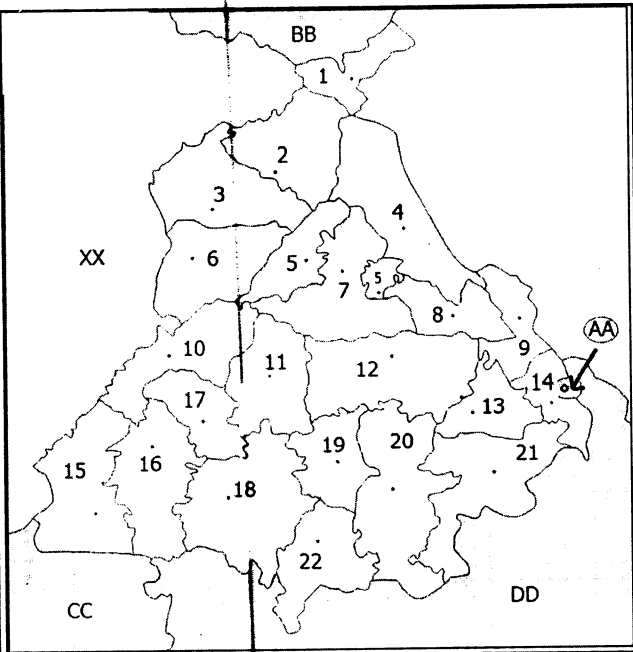
ਤੇ ਦਰਸਾਇਆ ਗਿਆ ਹੈ।

(ੳ) CC

(ਅ) BB

(ੲ) DD

(ਸ) AA



ਸ਼ੀਟ ਨੰਬਰ 31 ਦੇ ਸਹੀ ਉੱਤਰ

ਪ੍ਰਸ਼ਨ 151 (ਅ) Eight ਪ੍ਰਸ਼ਨ 152 (b) carbon monoxide (ਅ) ਕਾਰਬਨ ਮੋਨੋਆਕਸਾਇਡ

ਪ੍ਰਸ਼ਨ 153 (ੲ) Shri Vijay Inder Singla ਪ੍ਰਸ਼ਨ 154 (ਅ) 60° ਪ੍ਰਸ਼ਨ 155 (ੳ) Virat kohli

“ਜ਼ਿੰਦਗੀ ਵਿੱਚ ਹਰ ਰੋਜ਼ ਕੁੱਝ ਨਵਾਂ ਸਿੱਖਣ ਦੀ ਕੋਸ਼ਿਸ਼ ਕਰਨੀ ਚਾਹੀਦੀ ਹੈ”।



ਉਡਾਣ



ਛੇਵੀਂ ਤੋਂ ਅੱਠਵੀਂ ਜਮਾਤ ਦੇ ਵਿਦਿਆਰਥੀਆਂ ਲਈ

ਸ਼ੀਟ ਨੰ: 33

ਮਿਤੀ 11-07-2019

Qu 161. Sita was watering the plants.

(Change into Present Continuous tense)

Qu 162. Who is the first woman Finance Minister of India?

- (a) Smt. Nirmala Sitharaman (b) Smt.Kumari Mayawati
(c) Smt.Sumitra Mahajan (d) Smt.Sushma Swaraj

ਪ੍ਰਸ਼ਨ162. ਭਾਰਤ ਦੀ ਪਹਿਲੀ ਮਹਿਲਾ ਵਿੱਤ ਮੰਤਰੀ ਕੌਣ ਹਨ?

- (ੳ) ਸ਼੍ਰੀਮਤੀ ਨਿਰਮਲਾ ਸੀਤਾਰਮਨ (ਅ) ਸ਼੍ਰੀਮਤੀ ਸਮਰਿਤੀ ਇਰਾਨੀ
(ੲ) ਸ਼੍ਰੀਮਤੀ ਸੁਮਿਤਰਾ ਮਹਾਜਨ (ਸ) ਸ਼੍ਰੀਮਤੀ ਸੁਸ਼ਮਾ ਸਵਰਾਜ

Qu163. ਸਿੱਖਾਂ ਦੇ ਪਹਿਲੇ ਗੁਰੂ ਸ੍ਰੀ ਗੁਰੂ ਨਾਨਕ ਦੇਵ ਜੀ ਨੇ ਆਪਣਾ ਅੰਤਲਾ ਸਮਾਂ ਕਿੱਥੇ ਬਿਤਾਇਆ?

Where did first Sikh Guru Sri Guru Nanak Dev ji spent the last time of his life?

- (ੳ) ਸ਼੍ਰੀ ਆਨੰਦਪੁਰ ਸਾਹਿਬ (Sri Anandpur Sahi) (ਅ) ਸ਼੍ਰੀ ਪਟਨਾ ਸਾਹਿਬ (Sri Patna Sahib)
(ੲ) ਕਰਤਾਰਪੁਰ (Kartarpur) (ਸ) ਅੰਮ੍ਰਿਤਸਰ (Amritsar)

Qu 164 which is the smallest composite number?

ਪ੍ਰਸ਼ਨ164. ਸਭ ਤੋਂ ਛੋਟੀ ਭਾਜ ਸੰਖਿਆ ਕਿਹੜੀ ਹੈ?

- (ੳ) 2 (ਅ) 4 (ੲ) 9 (ਸ) 7

Qu165 _____ is our National Animal.

ਪ੍ਰਸ਼ਨ165 _____ ਸਾਡਾ ਰਾਸ਼ਟਰੀ ਪਸ਼ੂ ਕਿਹੜਾ ਹੈ।

- (ੳ) Royal Bengal Tiger (ਬਾਘ) (ਅ) Lion (ਸ਼ੇਰ)
(ੲ) Elephant (ਹਾਥੀ) (ਸ) Bear (ਭਾਲੂ)

ਸ਼ੀਟ ਨੰਬਰ 32 ਦੇ ਸਹੀ ਉੱਤਰ

ਪ੍ਰਸ਼ਨ 156. (ੳ) ਅੰਮ੍ਰਿਤਸਰ ਪ੍ਰਸ਼ਨ 157. (ਅ) 14 ਪ੍ਰਸ਼ਨ 158. (ਸ) ਕਪੂਰਥਲਾ

ਪ੍ਰਸ਼ਨ 159. (ਅ) ਪਾਕਿਸਤਾਨ ਪ੍ਰਸ਼ਨ 160. (ਸ) AA

“ਜ਼ਿੰਦਗੀ ਵਿੱਚ ਹਰ ਰੋਜ਼ ਕੁੱਝ ਨਵਾਂ ਸਿੱਖਣ ਦੀ ਕੋਸ਼ਿਸ਼ ਕਰਨੀ ਚਾਹੀਦੀ ਹੈ”।

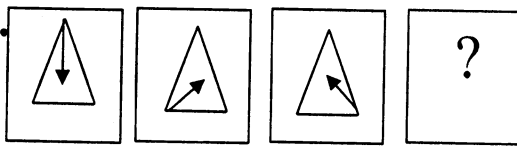
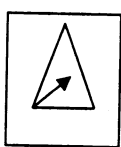
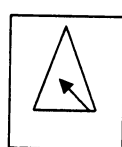
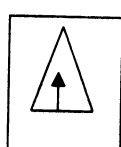
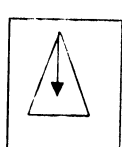
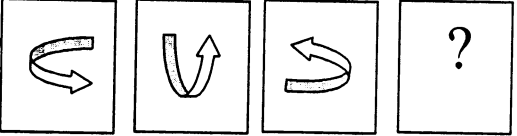
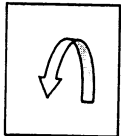
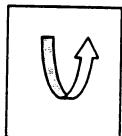
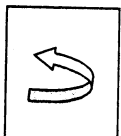
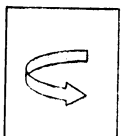
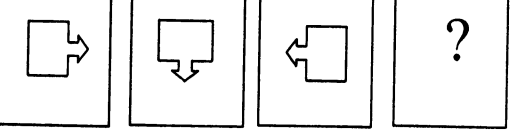
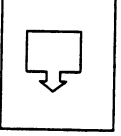
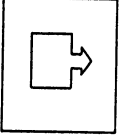
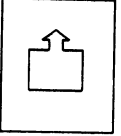
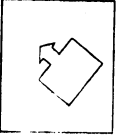
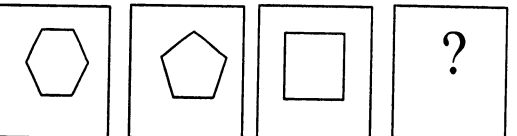
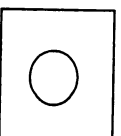
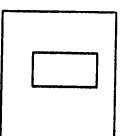
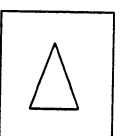
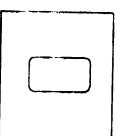
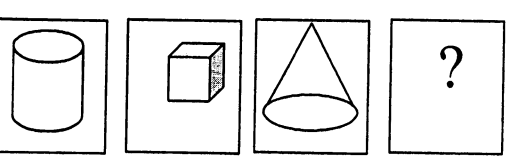
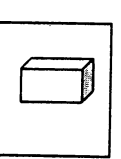
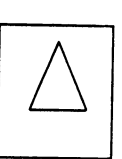
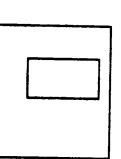
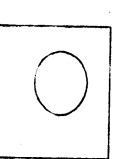


ਉਡਾਣ

ਫੇਵੀਂ ਤੋਂ ਅੱਠਵੀਂ ਜਮਾਤ ਦੇ ਵਿਦਿਆਰਥੀਆਂ ਲਈ
ਸ਼ੀਟ ਨੰ: 34 ਮਿਤੀ 12-07-2019

ਬੌਧਿਕ ਗਿਆਨ ਦੀ ਪਰਖ

Note:- ਤਿੰਨ ਚਿੱਤਰਾਂ ਦੀ ਤਰਤੀਬ ਨੂੰ ਧਿਆਨ ਵਿੱਚ ਰੱਖਦੇ ਹੋਏ ਦਿੱਤੇ ਉੱਤਰਾਂ ਵਿੱਚੋਂ ਸਹੀ ਚਿੱਤਰ ਲੱਭ ਕੇ ਚਿੱਤਰ ਲੜੀ ਨੂੰ ਪੂਰਾ ਕਰੋ:-

ਚਿੱਤਰ ਲੜੀ (Picture Series)	ਉੱਤਰ (Answer)			
	(ੳ)	(ਅ)	(ੲ)	(ਸ)
ਪ੍ਰਸ਼ਨ 166. 				
ਪ੍ਰਸ਼ਨ 167. 				
ਪ੍ਰਸ਼ਨ 168. 				
ਪ੍ਰਸ਼ਨ 169. 				
ਪ੍ਰਸ਼ਨ 170. 				

ਸੀਟ ਨੰਬਰ 33 ਦੇ ਸਹੀ ਉੱਤਰ

ਪ੍ਰਸ਼ਨ 161. Sita is watering the plants.

ਪ੍ਰਸ਼ਨ 162. (a) Smt Nirmala Sitharaman (ੳ) ਸ਼੍ਰੀਮਤੀ ਨਿਰਮਲਾ ਸੀਤਾਰਮਨ

ਪ੍ਰਸ਼ਨ 163. (ੲ) ਕਰਤਾਰਪੁਰ (Kartarpur)

ਪ੍ਰਸ਼ਨ 164. (ਅ) 4 ਪ੍ਰਸ਼ਨ 165. (ੳ) Royal Bengal Tiger(ਬਾਘ)

“ਜ਼ਿੰਦਗੀ ਵਿੱਚ ਹਰ ਰੋਜ਼ ਕੁੱਝ ਨਵਾਂ ਸਿੱਖਣ ਦੀ ਕੋਸ਼ਿਸ਼ ਕਰਨੀ ਚਾਹੀਦੀ ਹੈ”।

“ਅਧਿਆਪਕ ਉਹੀ ਯਾਦ ਰਹਿੰਦਾ ਹੈ, ਜਿਸ ਨੇ ਵਿਦਿਆਰਥੀਆਂ ਨੂੰ ਨਵਾਂ ਰੰਗ ਚੜ੍ਹਾਇਆ ਹੁੰਦਾ ਹੈ।”



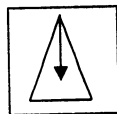
ਉਡਾਣ

ਫੇਵੀਂ ਤੋਂ ਅੱਠਵੀਂ ਜਮਾਤ ਦੇ ਵਿਦਿਆਰਥੀਆਂ ਲਈ
ਸ਼ੀਟ ਨੰ: 35 ਮਿਤੀ 15-07-2019

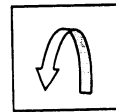
- ਪ੍ਰਸ਼ਨ171. What do we call the naming words in English grammar?
(ੳ) Pronouns (ਅ) Verbs (ੲ) Nouns (ਸ) Adverbs
- ਪ੍ਰਸ਼ਨ172. What is the target of Punjab Govt. to plant trees in every village, on the occasion of Shri Guru Nanak Dev's 550th Parkash Utsav?
ਪੰਜਾਬ ਸਰਕਾਰ ਦਾ ਸ੍ਰੀ ਗੁਰੂ ਨਾਨਕ ਦੇਵ ਜੀ ਦੇ 550 ਸਾਲਾ ਪ੍ਰਕਾਸ਼ ਉਤਸਵ ਮੌਕੇ ਹਰ ਪਿੰਡ ਵਿੱਚ ਕਿੰਨੇ ਰੁੱਖ ਲਗਾਉਣ ਦਾ ਟੀਚਾ ਹੈ?
(ੳ) 1000 (ਅ) 550 (ੲ) 121 (ਸ) 1500
- Qu173. What is known as vertical semi-spherical lines on the Globe?
(ੳ) Parallel line (ਅ) Transversal lines
(ੲ) Latitude lines (ਸ) Longitude lines
ਗਲੋਬ ਉੱਪਰ ਖਿੱਚੀਆਂ ਖੜਵੀਆਂ ਅਰਧ ਗੋਲਾਕਾਰ ਰੇਖਾਵਾਂ ਨੂੰ ਕੀ ਕਿਹਾ ਜਾਂਦਾ ਹੈ?
(ੳ) ਸਮਾਨਾਂਤਰ ਰੇਖਾਵਾਂ (ਅ) ਕਾਟਵੀਆਂ ਰੇਖਾਵਾਂ
(ੲ) ਅਕਸ਼ਾਂਸ਼ ਰੇਖਾਵਾਂ (ਸ) ਦਿਸ਼ਾਂਤਰ ਰੇਖਾਵਾਂ
- Qu174. How many yards are there in one mile?
ਪ੍ਰਸ਼ਨ174. ਇੱਕ ਮੀਲ ਵਿੱਚ ਕਿੰਨੇ ਗਜ਼ ਹੁੰਦੇ ਹਨ?
(ੳ) 1000 (ਅ) 1760 (ੲ) 30.48 (ਸ) 100
- Qu175. Presently, India has _____ states and _____ Union Territories.

ਸੀਟ ਨੰਬਰ 34 ਦੇ ਸਹੀ ਉੱਤਰ

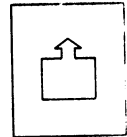
ਪ੍ਰਸ਼ਨ 166.(ਸ)



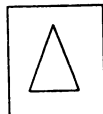
ਪ੍ਰਸ਼ਨ 167.(ੳ)



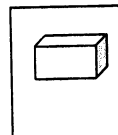
ਪ੍ਰਸ਼ਨ 168.(ੲ)



ਪ੍ਰਸ਼ਨ 169.(ੲ)



ਪ੍ਰਸ਼ਨ 170. (ੳ)



“ਜ਼ਿੰਦਗੀ ਵਿੱਚ ਹਰ ਰੋਜ਼ ਕੁੱਝ ਨਵਾਂ ਸਿੱਖਣ ਦੀ ਕੋਸ਼ਿਸ਼ ਕਰਨੀ ਚਾਹੀਦੀ ਹੈ”।

“ਅਧਿਆਪਕ ਉਹੀ ਯਾਦ ਰਹਿੰਦਾ ਹੈ, ਜਿਸ ਨੇ ਵਿਦਿਆਰਥੀਆਂ ਨੂੰ ਨਵਾਂ ਰੰਗ ਚੜ੍ਹਾਇਆ ਹੁੰਦਾ ਹੈ।”



ਉਡਾਣ

ਸ਼ੀਟ ਨੰ: 36

ਛੇਵੀਂ ਤੋਂ ਅੱਠਵੀਂ ਜਮਾਤ ਦੇ ਵਿਦਿਆਰਥੀਆਂ ਲਈ

ਮਿਤੀ 16-07-2019

- How many poles does a magnet have ?

ਪ੍ਰਸ਼ਨ176. ਚੁੰਬਕ ਦੇ ਕਿੰਨੇ ਧਰੁਵ ਹੁੰਦੇ ਹਨ?

(ੳ) 2 (ਅ) 4 (ੲ) 3 (ਸ) 5

- When did Alexander attack India?

ਪ੍ਰਸ਼ਨ177. ਸਿਕੰਦਰ ਨੇ ਭਾਰਤ ਉਤੇ ਹਮਲਾ ਕਦੋਂ ਕੀਤਾ?

(ੳ) 327 B.C. (ਅ) 336 B.C. (ੲ) 326 B.C. (ਸ) 426 B.C.

Q178. Change the gender of the word 'He-goat'.

- Who won the ICC Cricket World Cup-2019?

ਪ੍ਰਸ਼ਨ179. ICC ਕ੍ਰਿਕਟ ਵਿਸ਼ਵ ਕੱਪ-2019 ਕਿਸ ਨੇ ਜਿੱਤਿਆ?

(ੳ) ਭਾਰਤ (India) (ਅ) ਆਸਟਰੇਲੀਆ (Australia)
(ੲ) ਇੰਗਲੈਂਡ (England) (ਸ) ਨਿਊਜੀਲੈਂਡ (New Zealand)

Q180. What is the full form of M.Sc.?

(a) Masters of Science (b) Masters in Science
(c) Master of Science (d) Master in Science

ਸੀਟ ਨੰਬਰ 35 ਦੇ ਸਹੀ ਉੱਤਰ

ਪ੍ਰਸ਼ਨ 171. (ੲ) Nouns

ਪ੍ਰਸ਼ਨ 172 (ਅ) 550

ਪ੍ਰਸ਼ਨ 173. (ਸ) Longitude lines (ਦਿਸ਼ਾਂਤਰ ਰੇਖਾਵਾਂ)

ਪ੍ਰਸ਼ਨ 174 (ਅ) 1760

ਪ੍ਰਸ਼ਨ 175. 29, 07

“ਵੱਧ ਤੋਂ ਵੱਧ ਰੁੱਖ ਲਗਾਓ, ਵਾਤਾਵਰਣ ਬਚਾਓ”।

“ਅਧਿਆਪਕ ਉਹੀ ਯਾਦ ਰਹਿੰਦਾ ਹੈ, ਜਿਸ ਨੇ ਵਿਦਿਆਰਥੀਆਂ ਨੂੰ ਨਵਾਂ ਰੰਗ ਚੜ੍ਹਾਇਆ ਹੁੰਦਾ ਹੈ।”



ਉਡਾਣ

ਛੇਵੀਂ ਤੋਂ ਅੱਠਵੀਂ ਜਮਾਤ ਦੇ ਵਿਦਿਆਰਥੀਆਂ ਲਈ
ਸ਼ੀਟ ਨੰ: 37

ਮਿਤੀ 17-07-2019

- ਪ੍ਰਸ਼ਨ181. ਖਾਲਸਾ ਪੰਥ ਦੀ ਸਥਾਪਨਾ ਵਿੱਖੇ ਹੋਈ?
. Where is the Khalsa Panth Founded?
(ੳ) ਸ੍ਰੀ ਮੁਕਤਸਰ ਸਾਹਿਬ(Sri Muktsar Sahib)
(ਅ) ਸ੍ਰੀ ਨਨਕਾਣਾ ਸਾਹਿਬ (Sri Nankana Sahib)
(ੲ) ਸ੍ਰੀ ਪਟਨਾ ਸਾਹਿਬ (Sri Patna Sahib)
(ਸ) ਸ੍ਰੀ ਆਨੰਦਪੁਰ ਸਾਹਿਬ (Sri Anandpur Sahib)
- ਪ੍ਰਸ਼ਨ182. 0° ਤੋਂ 90° ਦੇ ਵਿਚਕਾਰ ਬਣੇ ਕੋਣ ਨੂੰ ਕੀ ਕਿਹਾ ਜਾਂਦਾ ਹੈ?
. What do you call an angle between 0° and 90° ?
(ੳ) ਸਮ ਕੋਣ (Right angle) (ਅ) ਅਧਿਕ ਕੋਣ (Obtuse angle)
(ੲ) ਨਿਊਨ ਕੋਣ (Acute angle) (ਸ) ਰਿਫਲੈਕਸ ਕੋਣ (Reflex angle)
- ਪ੍ਰਸ਼ਨ183. ਸ੍ਰੀ ਗੁਰੂ ਨਾਨਕ ਦੇਵ ਜੀ ਨੇ ਆਪਣਾ ਉੱਤਰਾਧਿਕਾਰੀ ਕਿਸ ਨੂੰ ਨਿਯੁਕਤ ਕੀਤਾ?
(ੳ) ਭਾਈ ਲਾਲੋ (ਅ) ਭਾਈ ਲਹਿਣਾ ਜੀ
(ੲ) ਭਾਈ ਮਰਦਾਨਾ (ਸ) ਪੰਡਤ ਗੋਪਾਲ ਜੀ
- ਪ੍ਰਸ਼ਨ184. ਕੰਪਿਊਟਰ ਵਿੱਚ ਡਿਲੀਟ ਕੀਤੀਆ ਫਾਈਲਾਂਵਿੱਚ ਚਲੀਆਂ ਜਾਂਦੀਆਂ ਹਨ?
. When you delete a file ,it moves to Computer's_____.
(ੳ) My Documents (ਅ) My computer
(ੲ) Recycle Bin (ਸ) My Network
- ਪ੍ਰਸ਼ਨ 185. ਉਹ ਸ਼ਬਦ ਜਿਨ੍ਹਾਂ ਦਾ ਕੋਈ ਅਰਥ ਨਹੀਂ ਹੁੰਦਾ,ਉਨ੍ਹਾਂ ਨੂੰ_____ ਕਿਹਾ ਜਾਂਦਾ ਹੈ?

(ਸਾਰਥਕ ਸ਼ਬਦ / ਨਿਰਾਰਥਕ ਸ਼ਬਦ)

ਨੋਟ: ਉੱਤਰ ਅਗਲੇ ਦਿਨ ਦੀ ਸ਼ੀਟ ਵਿੱਚ ਭੇਜੇ ਜਾਣਗੇ,ਤਦ ਤੱਕ ਦਿਮਾਗੀ ਕਸਰਤ ਕਰੋ!

ਸੀਟ ਨੰਬਰ 36 ਦੇ ਸਹੀ ਉੱਤਰ

ਪ੍ਰਸ਼ਨ 176. (ੳ) 2

ਪ੍ਰਸ਼ਨ 177 (ੲ) 326 B.C.

ਪ੍ਰਸ਼ਨ 178. She-goat

ਪ੍ਰਸ਼ਨ 179 (ੲ) ਇੰਗਲੈਂਡ (England)

ਪ੍ਰਸ਼ਨ 180. (C) Master of science

“ਵੱਧ ਤੋਂ ਵੱਧ ਰੁੱਖ ਲਗਾਓ,ਵਾਤਾਵਰਣ ਬਚਾਓ”।

“ਅਧਿਆਪਕ ਉਹੀ ਯਾਦ ਰਹਿੰਦਾ ਹੈ, ਜਿਸ ਨੇ ਵਿਦਿਆਰਥੀਆਂ ਨੂੰ ਨਵਾਂ ਰੰਗ ਚੜ੍ਹਾਇਆ ਹੁੰਦਾ ਹੈ।”



ਉਡਾਣ

ਫੇਵੀਂ ਤੋਂ ਅੱਠਵੀਂ ਜਮਾਤ ਦੇ ਵਿਦਿਆਰਥੀਆਂ ਲਈ

ਸ਼ੀਟ ਨੰ: 38

ਮਿਤੀ 18-07-2019

ਪ੍ਰਸ਼ਨ186. ਡੈਸਕਟਾਪ ਦੀ ਸਕਰੀਨ ਦੇ ਹੇਠਲੇ ਪਾਸੇ ਲੇਟਵੀਂ ਬਾਰ ਨੂੰ ਕਿਹਾ ਜਾਂਦਾ ਹੈ?

The bar lying at the bottom of desktop screen is called.....

(ੳ) ਟਾਈਟਲ ਬਾਰ (Title Bar) (ਅ) ਸਟੇਟਸ ਬਾਰ (Status Bar)

(ੲ) ਟਾਸਕ ਬਾਰ (Task Bar) (ਸ) ਸਕਰੋਲ ਬਾਰ (Scroll Bar)

ਪ੍ਰਸ਼ਨ187. ਦੇਸੀ ਮਹੀਨਿਆਂ ਦੀ ਸ਼ੁਰੂਆਤ ਕਿਹੜੇ ਮਹੀਨੇ ਤੋਂ ਹੁੰਦੀ ਹੈ?

(ੳ) ਮਾਘ (ਅ) ਜੇਠ (ੲ) ਚੇਤ (ਸ) ਫੱਗਣ

ਪ੍ਰਸ਼ਨ188. Choose the suitable preposition.

Look.....the blackboard. (on/at)

ਪ੍ਰਸ਼ਨ189. ਸੰਸਾਰ ਦਾ ਸਭ ਤੋਂ ਛੋਟਾ ਦੇਸ਼ ਕਿਹੜਾ ਹੈ?

Which is the world's smallest country?

(ੳ) ਸੈਨ ਮੈਰੀਨੋ (San Marino) (ਅ) ਨੇਪਾਲ (Nepal)

(ੲ) ਵੈਟੀਕਨ ਸਿਟੀ (Vatican City) (ਸ) ਮਨਾਕੋ (Monaco)

ਪ੍ਰਸ਼ਨ190. ਸੰਖਿਆ ਹਮੇਸ਼ਾ 9 ਨਾਲ ਭਾਗਯੋਗ ਹੋਵੇਗੀ ਜੇਕਰ.....

The number is always divisible by 9 if.....

(ੳ) ਸੰਖਿਆ ਜਿਸਤ ਹੋਵੇ (the number is even)

(ਅ) ਸੰਖਿਆ ਟਾਂਕ ਹੋਵੇ (the number is odd)

(ੲ) ਸੰਖਿਆ ਦੇ ਅੰਕਾਂ ਦਾ ਜੋੜ 9 ਨਾਲ ਭਾਗਯੋਗ ਹੋਵੇ (the sum of digits is divisible by 9)

(ਸ) ਇਕਾਈ ਦਾ ਅੰਕ 9 ਹੋਵੇ (unit place number is 9)

ਸੀਟ ਨੰਬਰ 37 ਦੇ ਸਹੀ ਉੱਤਰ

ਪ੍ਰਸ਼ਨ 181. (ਸ) ਸ੍ਰੀ ਆਨੰਦਪੁਰ ਸਾਹਿਬ (Sri Anandpur Sahib)

ਪ੍ਰਸ਼ਨ 182 (ੲ) ਨਿਊਨ ਕੋਣ (Acute angle) ਪ੍ਰਸ਼ਨ 183. (ਅ) ਭਾਈ ਲਹਿਣਾ ਜੀ

ਪ੍ਰਸ਼ਨ 184 (ੲ) Recycle Bin

ਪ੍ਰਸ਼ਨ 185. ਨਿਰਾਰਥਕ ਸ਼ਬਦ

“ਵੱਧ ਤੋਂ ਵੱਧ ਰੁੱਖ ਲਗਾਓ, ਵਾਤਾਵਰਣ ਬਚਾਓ”।



ਉਡਾਣ

ਛੇਵੀਂ ਤੋਂ ਅੱਠਵੀਂ ਜਮਾਤ ਦੇ ਵਿਦਿਆਰਥੀਆਂ ਲਈ
ਸ਼ੀਟ ਨੰ:39

ਮਿਤੀ 19-07-2019

ਪ੍ਰਸ਼ਨ191. ਜੇਕਰ ਕਿਸੇ ਵਸਤੂ ਦਾ ਵੇਚ ਮੁੱਲ, ਖਰੀਦ ਮੁੱਲ ਤੋਂ ਜ਼ਿਆਦਾ ਹੋਵੇ ਤਾਂ ਪ੍ਰਾਪਤ ਹੋਵੇਗਾ।

If the selling price of a commodity is greater than the cost price, than you will get..... .

(ੳ) ਹਾਨੀ (Loss) (ਅ) ਲਾਭ (Profit)

(ੲ) ਵਿਆਜ (Interest) (ਸ) ਟੈਕਸ (Tax)

ਪ੍ਰਸ਼ਨ192. ਸਾਡਾ ਰਾਸ਼ਟਰੀ ਫਲ ਕਿਹੜਾ ਹੈ? Which is our national fruit?

(ੳ) ਸੇਬ (Apple) (ਅ) ਅੰਬ(Mango) (ੲ) ਕੇਲਾ(Banana) (ਸ) ਸੰਤਰਾ(Orange)

ਪ੍ਰਸ਼ਨ193. ਹਵਾ ਵਿੱਚ ਕਾਰਬਨ ਡਾਇਆਕਸਾਈਡ ਲਗਾਤਾਰ ਵਧਣ ਦੇ ਕੀ ਕਾਰਨ ਹਨ ?

(ੳ) ਰੁੱਖਾਂ ਦੀ ਕਟਾਈ (ਅ) ਉਦਯੋਗ (ੲ) ਜਨਸੰਖਿਆ ਵਿੱਚ ਵਾਧਾ

(ਸ) ਉਪਰੋਕਤ ਸਾਰੇ।

What are the reasons for the increased carbon dioxide level in air?

(a) cutting of trees (b) industry (c) increase in population

(d) all of the above

ਪ੍ਰਸ਼ਨ194. 'ਚਾਂਦੀ ਦੀ ਜੁੱਤੀ ਮਾਰਨਾ' ਮੁਹਾਵਰੇ ਦਾ ਸਹੀ ਅਰਥ ਦੱਸੋ?

(ੳ) ਸੱਟ ਮਾਰਨਾ(ਅ) ਰਿਸ਼ਵਤ ਦੇਣਾ (ੲ) ਬੇਇੱਜ਼ਤ ਕਰਨਾ (ਸ) ਨਖਰੇ ਕਰਨਾ

ਪ੍ਰਸ਼ਨ195. ਭਾਰਤੀ ਅਥਲੀਟ ਹਿਮਾ ਦਾਸ ਦਾ ਸਬੰਧ ਕਿਸ ਰਾਜ ਨਾਲ ਹੈ?

(ੳ) ਬਿਹਾਰ (ਅ) ਅਸਾਮ (ੲ) ਮਿਜ਼ੋਰਮ (ਸ) ਕੇਰਲ

The Indian athlete Hima Das is related to _____ state.

(a) Bihar (b) Assam (c) Mizoram (d) Kerala

ਸ਼ੀਟ ਨੰਬਰ 38 ਦੇ ਸਹੀ ਉੱਤਰ

ਪ੍ਰਸ਼ਨ 186.(ੲ) ਟਾਸਕ ਬਾਰ (Task Bar) ਪ੍ਰਸ਼ਨ 187 (ੲ) ਚੇਤ

ਪ੍ਰਸ਼ਨ 188. at ਪ੍ਰਸ਼ਨ 189 (ੲ) ਵੈਟੀਕਨ ਸਿਟੀ (Vatican City)

ਪ੍ਰਸ਼ਨ 190.(ੲ) ਸੰਖਿਆ ਦੇ ਅੰਕਾਂ ਦਾ ਜੋੜ 9 ਨਾਲ ਭਾਗ ਯੋਗ ਹੋਵੇ। (the sum of digits is divisible by 9)

“ਵੱਧ ਤੋਂ ਵੱਧ ਰੁੱਖ ਲਗਾਓ, ਵਾਤਾਵਰਣ ਬਚਾਓ”।



ਉਡਾਣ

ਛੇਵੀਂ ਤੋਂ ਅਠਵੀਂ ਜਮਾਤ ਦੇ ਵਿਦਿਆਰਥੀਆਂ ਲਈ

ਸ਼ੀਟ ਨੰ: 40

ਮਿਤੀ 20-07-2019

ਪ੍ਰਸ਼ਨ196. ਬਿਜਲੀ ਦੇ ਬਲਬ ਦੀ ਖੋਜ ਕਿਸਨੇ ਕੀਤੀ?

Who invented the electric bulb?

(ੳ) ਥਾਮਸ ਮੋਰ (Thomas More) (ਅ) ਥਾਮਸ ਐਲਵਾ ਐਡੀਸਨ (Thomas Alva Edison)

(ੲ) ਜੇਮਜ਼ ਵਾਟ (James Watt) (ਸ) ਇਹਨਾਂ ਵਿੱਚੋਂ ਕੋਈ ਵੀ ਨਹੀਂ (None of these)

ਪ੍ਰਸ਼ਨ197. ਭਾਰਤ ਦਾ 'ਉੱਡਣਾ ਸਿੱਖ' ਕਿਸ ਨੂੰ ਕਿਹਾ ਜਾਂਦਾ ਹੈ?

Who is called the 'Flying Sikh' of India?

(ੳ) ਮੋਹਿੰਦਰ ਸਿੰਘ (Mohinder Singh) (ਅ) ਅਜੀਤ ਪਾਲ ਸਿੰਘ (Ajit Paul Singh)

(ੲ) ਜੋਗਿੰਦਰ ਸਿੰਘ (Joginder Singh) (ਸ) ਮਿਲਖਾ ਸਿੰਘ (Milkha Singh)

ਪ੍ਰਸ਼ਨ198. ਚੰਦਰਮਾ ਦੀ ਸਤਹਿ ਉੱਪਰ ਸਭ ਤੋਂ ਪਹਿਲਾਂ ਕਿਸ ਨੇ ਪੈਰ ਪਾਇਆ?

Who among the following was the first to set foot on moon?

(ੳ) ਨੀਲ ਆਰਮਸਟਰਾਂਗ (Neil Armstrong) (ਅ) ਰਾਕੇਸ਼ ਕੁਮਾਰ (Rakesh Kumar)

(ੲ) ਕਲਪਨਾ ਚਾਵਲਾ (Kalpana Chawla) (ਸ) ਐਡਵਿਨ ਐਲਡਰਿਨ (Edwin Aldrin)

ਪ੍ਰਸ਼ਨ199. ਸਦਾ ਸੱਚ ਬੋਲੋ। (Translate into English.)

ਪ੍ਰਸ਼ਨ200. ਵੱਖ-ਵੱਖ ਅੰਕਾਂ ਦਾ ਪ੍ਰਯੋਗ ਕਰਕੇ 5 ਅੰਕਾਂ ਦੀ ਛੋਟੀ ਤੋਂ ਛੋਟੀ ਸੰਖਿਆ ਹੇਠ ਲਿਖਿਆਂ ਵਿੱਚ ਕਿਹੜੀ ਹੋਵੇਗੀ?

Which is the smallest 5-digit number using different digits?

(ੳ) 10000 (ਅ) 01234 (ੲ) 12345 (ਸ) 10234

ਸੀਟ ਨੰਬਰ 39 ਦੇ ਸਹੀ ਉੱਤਰ

ਪ੍ਰਸ਼ਨ 191. (ਅ) ਲਾਭ (Profit)

ਪ੍ਰਸ਼ਨ 192 (ਅ) ਅੰਬ (Mango)

ਪ੍ਰਸ਼ਨ 193. (ਸ) ਉਪਰੋਕਤ ਸਾਰੇ (d) all of the above

ਪ੍ਰਸ਼ਨ 194 (ਅ) ਰਿਸ਼ਵਤ ਦੇਣਾ

ਪ੍ਰਸ਼ਨ 195. (ਅ) ਆਸਾਮ ((b) Assam)

“ਵੱਧ ਤੋਂ ਵੱਧ ਰੁੱਖ ਲਗਾਓ, ਵਾਤਾਵਰਣ ਬਚਾਓ”।



ਉਡਾਣ

ਛੇਵੀਂ ਤੋਂ ਅੱਠਵੀਂ ਜਮਾਤ ਦੇ ਵਿਦਿਆਰਥੀਆਂ ਲਈ

ਸ਼ੀਟ ਨੰ: 41

ਮਿਤੀ 22-07-2019

- ਪ੍ਰਸ਼ਨ201. ਖੇਡਾਂ ਵਿਦਿਆਰਥੀ ਨੂੰ ਕੀ ਸਿਖਾਉਂਦੀਆਂ ਹਨ?
What do sports teach students?
(ੳ) ਅਨੁਸ਼ਾਸਨ (Discipline) (ਅ) ਸਮੇਂ ਦਾ ਪਾਬੰਦ ਹੋਣਾ (Punctuality)
(ੲ) ਆਗਿਆਕਾਰੀ ਬਣਨਾ (Obedience) (ਸ) ਉਪਰੋਕਤ ਸਾਰੇ (all of these)
- ਪ੍ਰਸ਼ਨ202. ਸ੍ਰੀ ਗੁਰੂ ਅਰਜਨ ਦੇਵ ਜੀ ਨੂੰ ਸ਼ਹਾਦਤ ਕਿੱਥੇ ਪ੍ਰਾਪਤ ਹੋਈ?
Where was Sri Guru Arjan dev ji martyred?
(ੳ) ਅੰਮ੍ਰਿਤਸਰ (Amritsar) (ਅ) ਨਨਕਾਣਾ ਸਾਹਿਬ (Nankana sahib)
(ੲ) ਦਿੱਲੀ (Delhi) (ਸ) ਲਾਹੌਰ (Lahore)
- ਪ੍ਰਸ਼ਨ203. ਕੰਪਿਊਟਰ ਵਿੱਚ ਪ੍ਰੋਗਰਾਮ ਦੇ ਸਮੂਹ ਨੂੰ ਕਿਹਾ ਜਾਂਦਾ ਹੈ?
In computer language, the group of programs is called.....
(ੳ) ਹਾਰਡਵੇਅਰ (Hardware) (ਅ) ਸਾਫਟਵੇਅਰ (Software)
(ੲ) ਪ੍ਰੋਸੈਸਰ (Processor) (ਸ) ਇਹਨਾਂ ਵਿੱਚੋਂ ਕੋਈ ਨਹੀਂ (none of these)
- ਪ੍ਰਸ਼ਨ204. ਬਹੁਤੇ ਸ਼ਬਦਾਂ ਦੀ ਥਾਂ ਇੱਕ ਸ਼ਬਦ ਵਰਤੋ।
'ਉਹ ਅਖਬਾਰ ਜੋ ਹਫਤੇ ਬਾਅਦ ਨਿਕਲੇ'।
(ੳ) ਮਹੀਨਾਵਾਰ (ਅ) ਸਪਤਾਹਿਕ (ੲ) ਰੋਜ਼ਾਨਾ (ਸ) ਪੰਦਰਵਾੜਾ
- ਪ੍ਰਸ਼ਨ205. ਭਾਰਤ ਸਰਕਾਰ ਨੇ ਸ੍ਰੀ ਗੁਰੂ ਨਾਨਕ ਦੇਵ ਜੀ ਦੇ 550 ਸਾਲਾ ਪ੍ਰਕਾਸ਼ ਉਤਸਵ ਨੂੰ
ਸਮਰਪਿਤ ਰੁਪਏ ਦਾ ਯਾਦਗਾਰੀ ਸਿੱਕਾ ਜਾਰੀ ਕੀਤਾ।
The Indian Govt. has released commemorative coin of Rs..... to mark
the 550th Prakash Utsav of Shri Guru Nanak dev ji.
(ੳ) 1000 ਰੁ: (ਅ) 1469 ਰੁ: (ੲ) 500 ਰੁ: (ਸ) 550 ਰੁ:

ਸੀਟ ਨੰਬਰ 40 ਦੇ ਸਹੀ ਉੱਤਰ

- ਪ੍ਰਸ਼ਨ 196. (ਅ) ਥਾਮਸ ਐਲਵਾ ਐਡੀਸਨ (Thomas Alva Edison)
ਪ੍ਰਸ਼ਨ 197 (ਸ) Milkha Singh
ਪ੍ਰਸ਼ਨ 198. (ੳ) ਨੀਲ ਆਰਮਸਟਾਂਗ (Neil Armstrong)
ਪ੍ਰਸ਼ਨ 199 Always speak the truth. ਪ੍ਰਸ਼ਨ 200. (ਸ) 10234

“ਵੱਧ ਤੋਂ ਵੱਧ ਰੁੱਖ ਲਗਾਓ, ਵਾਤਾਵਰਣ ਬਚਾਓ”।



ਉਡਾਣ

ਸ਼ੀਟ ਨੰ: 42

ਛੇਵੀਂ ਤੋਂ ਅੱਠਵੀਂ ਜਮਾਤ ਦੇ ਵਿਦਿਆਰਥੀਆਂ ਲਈ

ਮਿਤੀ 23-07-2019

ਪ੍ਰਸ਼ਨ206. ਪੰਜਾਬ ਖੇਤੀਬਾੜੀ ਯੂਨੀਵਰਸਿਟੀ _____ ਵਿਖੇ ਸਥਿਤ ਹੈ।

Punjab Agriculture University is situated in _____.

- (ੳ) ਪਟਿਆਲਾ (Patiala) (ਅ) ਲੁਧਿਆਣਾ (Ludhiana)
(ੲ) ਜਲੰਧਰ (Jalandhar) (ਸ) ਚੰਡੀਗੜ (Chandigarh)

ਪ੍ਰਸ਼ਨ207. ਪੰਜਾਬ ਦੀ ਕਿਹੜੀ ਝੀਲ 'ਪਰਵਾਸੀ ਪੰਛੀਆਂ ਦੇ ਸਵਰਗ' ਵਜੋਂ ਜਾਣੀ ਜਾਂਦੀ ਹੈ?

Which lake of Punjab is known as the 'Heaven of Migratory Birds'?

- (ੳ) ਹਰੀਕੇ ਝੀਲ (Harike Lake) (ਅ) ਸੁਖਨਾ ਝੀਲ (Sukhna Lake)
(ੲ) ਸਾਂਭਰ ਝੀਲ (Sambhar Lake) (ਸ) ਗੋਬਿੰਦ ਸਾਗਰ ਝੀਲ (Gobind Sagar Lake)

ਪ੍ਰਸ਼ਨ 208. ਸਾਨੂੰ ਟ੍ਰੈਫਿਕ ਨਿਯਮਾਂ ਦੀ ਪਾਲਣਾ ਕਰਨੀ ਚਾਹੀਦੀ ਹੈ।

(Translate into English)

ਪ੍ਰਸ਼ਨ209. ਹੇਠ ਲਿਖਿਆਂ ਵਿੱਚੋਂ ਕਿਹੜੇ ਦੇਸ਼ ਦੀ ਹੱਦ ਭਾਰਤ ਦੀ ਹੱਦ ਨਾਲ ਨਹੀਂ ਲੱਗਦੀ।

Which of the following countries does not share its border with India ?

- (ੳ) ਪਾਕਿਸਤਾਨ (Pakistan) (ਅ) ਚੀਨ (China)
(ੲ) ਨੇਪਾਲ (Nepal) (ਸ) ਸਿੰਗਾਪੁਰ (Singapore)

ਪ੍ਰਸ਼ਨ210. ਤਰਲ ਪਦਾਰਥਾਂ ਨੂੰ ਮਾਪਣ ਲਈ ਹੇਠ ਲਿਖੀਆਂ ਇਕਾਈਆਂ ਵਿੱਚੋਂ ਕਿਹੜੀ ਇਕਾਈ ਦੀ ਵਰਤੋਂ ਕੀਤੀ ਜਾਂਦੀ ਹੈ?

Which of the following units of measurement is used to measure liquids?

- (ੳ) ਲੀਟਰ (Litre) (ਅ) ਕਿਲੋਗ੍ਰਾਮ (Kilogram) (ੲ) ਮੀਟਰ (Meter) (ਸ) ਗਜ਼ (Yard)

ਸੀਟ ਨੰਬਰ 41 ਦੇ ਸਹੀ ਉੱਤਰ

ਪ੍ਰਸ਼ਨ 201. (ਸ) ਉਪਰੋਕਤ ਸਾਰੇ (all of these) ਪ੍ਰਸ਼ਨ 202 (ਸ) ਲਾਹੌਰ (Lahore)

ਪ੍ਰਸ਼ਨ 203. (ਅ) ਸਾਫਟਵੇਅਰ (Software) ਪ੍ਰਸ਼ਨ 204. (ਅ) ਸਪਤਾਹਿਕ

ਪ੍ਰਸ਼ਨ 205. (ਸ) 550 ਰੁ:

“ਵੱਧ ਤੋਂ ਵੱਧ ਰੁੱਖ ਲਗਾਓ, ਵਾਤਾਵਰਣ ਬਚਾਓ”



ਉਡਾਣ

ਫੇਵੀਂ ਤੋਂ ਅੱਠਵੀਂ ਜਮਾਤ ਦੇ ਵਿਦਿਆਰਥੀਆਂ ਲਈ

ਸ਼ੀਟ ਨੰ: 43

ਮਿਤੀ 24-07-2019

- ਪ੍ਰਸ਼ਨ211. 'ਚੰਦਰਯਾਨ-2' ਨੇ ਸ੍ਰੀ ਹਰੀਕੋਟਾ ਦੇ ਕਿਸ ਪੁਲਾੜ ਕੇਂਦਰ ਤੋਂ ਉਡਾਣ ਭਰੀ?
From which space centre in Sri Harikota was the 'CHANDRAYAAN-2' launched?
(ੳ) ਸਪੇਸ ਐਪਲੀਕੇਸ਼ਨ ਪੁਲਾੜ ਕੇਂਦਰ (Space Application Space Centre)
(ਅ) ਨਾਸਾ (NASA)
(ੲ) ਵਿਕਰਮ ਸਾਰਾਭਾਈ ਪੁਲਾੜ ਕੇਂਦਰ (Vikram Sarabhai Space Centre)
(ਸ) ਸ਼ਤੀਸ ਧਵਨ ਪੁਲਾੜ ਕੇਂਦਰ (Satish Dhawan Space Centre)
- ਪ੍ਰਸ਼ਨ212 ਸੈਨਾ, ਦਲ, ਸਭਾ, ਇੱਜੜ, ਡਾਰ ਕਿਹੜੇ ਨਾਂਵ ਹਨ?
(ੳ) ਖ਼ਾਸ ਨਾਂਵ (ਅ) ਵਸਤੂ ਵਾਚਕ ਨਾਂਵ
(ੲ) ਇਕੱਠ ਵਾਚਕ ਨਾਂਵ (ਸ) ਭਾਵਵਾਚਕ ਨਾਂਵ
- ਪ੍ਰਸ਼ਨ213. Use suitable modal:
We.....never tease animals. (should/would)
- ਪ੍ਰਸ਼ਨ214. 'Ctrl+S'ਕਰਨ ਲਈ ਵਰਤਿਆ ਜਾਂਦਾ ਹੈ।
'Ctrl +s' command is used to a file.
(ੳ) Save (ਅ) Open (ੲ) Copy (ਸ) Close
- ਪ੍ਰਸ਼ਨ 215. ਹੇਠ ਲਿਖੇ ਰਾਜਾਂ ਨੂੰ ਖੇਤਰਫਲ ਦੇ ਮੁਤਾਬਿਕ ਚੜ੍ਹਦੇ ਕ੍ਰਮ ਵਿੱਚ ਲਿਖੋ।
Arrange the following states in ascending order on the basis of their area.
(ੳ) ਪੰਜਾਬ (Punjab) (ਅ) ਗੋਆ (Goa)
(ੲ) ਗੁਜਰਾਤ (Gujarat) (ਸ) ਰਾਜਸਥਾਨ (Rajasthan)

ਸ਼ੀਟ ਨੰਬਰ 42 ਦੇ ਸਹੀ ਉੱਤਰ

ਪ੍ਰਸ਼ਨ 206. (ਅ) ਲੁਧਿਆਣਾ (Ludhiana) ਪ੍ਰਸ਼ਨ 207.(ੳ) ਹਰੀਕੇ ਝੀਲ (Harike Lake)

ਪ੍ਰਸ਼ਨ 208. We should obey the traffic rules.

ਪ੍ਰਸ਼ਨ 209. (ਸ) ਸਿੰਗਾਪੁਰ (Singapore) ਪ੍ਰਸ਼ਨ 210.(ੳ) ਲੀਟਰ (Litre)

“ਵੱਧ ਤੋਂ ਵੱਧ ਰੁੱਖ ਲਗਾਓ, ਵਾਤਾਵਰਣ ਬਚਾਓ”



ਉਡਾਣ

ਫੇਵੀਂ ਤੋਂ ਅਠਵੀਂ ਜਮਾਤ ਦੇ ਵਿਦਿਆਰਥੀਆਂ ਲਈ

ਸ਼ੀਟ ਨੰ: 44

ਮਿਤੀ 25-07-2019

ਪ੍ਰਸ਼ਨ216. ਸਰਕਾਰੀ ਸਕੂਲਾਂ ਦੀਆਂ ਵਿਦਿਆਰਥਣਾਂ ਨੂੰ ਕਿਸ ਸਕੀਮ ਅਧੀਨ ਮੁਫਤ ਸਾਇਕਲ ਦਿੱਤੇ ਜਾਂਦੇ ਹਨ?

Under which scheme are free cycles given to the girls of Govt. schools?

- (ੳ) ਡਾ. ਹਰਗੋਬਿੰਦ ਖੁਰਾਣਾ ਸਕੀਮ (Dr. Hargobind Khorana scheme)
(ਅ) ਮਾਈ ਭਾਗੋ ਸਕੀਮ (Mai Bhago scheme)
(ੲ) ਬੇਟੀ ਪੜਾਓ, ਬੇਟੀ ਬਚਾਓ ਸਕੀਮ (beti bachao beti padhao scheme)
(ਸ) ਮਿਡ-ਡੇ ਮੀਲ ਸਕੀਮ (Mid-Day Meal scheme)

ਪ੍ਰਸ਼ਨ217. ਰੁੱਖ, ਪੌਦੇ ਸਾਡੀ ਧਰਤੀ ਦਾ ਸ਼ਿੰਗਾਰ ਹਨ।

(Translate into English)

ਪ੍ਰਸ਼ਨ218. ਹੇਠ ਲਿਖਿਆਂ ਵਿੱਚੋਂ ਕਿਹੜਾ 36 ਦਾ ਗੁਣਨਖੰਡ ਨਹੀਂ ਹੈ?

Which of the following is not a factor of 36 ?

- (ੳ) 4 (ਅ) 9 (ੲ) 16 (ਸ) 12

ਪ੍ਰਸ਼ਨ219. ਖੇਤਰਫਲ ਦੇ ਪੱਖੋਂ ਸੰਸਾਰ ਵਿੱਚ ਭਾਰਤ ਦਾ ਕਿੰਨਵਾਂ ਸਥਾਨ ਹੈ?

What is the place of India in the World in respect of area?

- (ੳ) 2nd (ਅ) 3rd (ੲ) 7th (ਸ) 10th

ਪ੍ਰਸ਼ਨ220. ਕਿਸ ਗਾਇਕਾ ਨੂੰ 'ਪੰਜਾਬ ਦੀ ਕੋਇਲ' ਕਿਹਾ ਜਾਂਦਾ ਹੈ?

Which female singer is known as 'Nightingale of Punjab'?

- (ੳ) ਅੰਮ੍ਰਿਤਾ ਪ੍ਰੀਤਮ (Amrita Pritam) (ਅ) ਸੁਰਿੰਦਰ ਕੌਰ (Surinder Kaur)
(ੲ) ਜਸਪਿੰਦਰ ਨਰੂਲਾ (Jaspinder Narula) (ਸ) ਜਗਮੋਹਨ ਕੌਰ (Jagmohan Kaur)

ਸ਼ੀਟ ਨੰਬਰ 43 ਦੇ ਸਹੀ ਉੱਤਰ

ਪ੍ਰਸ਼ਨ 211. (ਸ) ਸਤੀਸ਼ ਧਵਨ ਪੁਲਾੜ ਕੇਂਦਰ (Satish Dhawan Space Centre)

ਪ੍ਰਸ਼ਨ 212. (ੲ) ਇੱਕਠ ਵਾਚਕ ਨਾਂਵ

ਪ੍ਰਸ਼ਨ 213. should

ਪ੍ਰਸ਼ਨ 214. (ੳ) Save

ਪ੍ਰਸ਼ਨ 215. (ਅ,ੳ,ੲ,ਸ)

“ਵੱਧ ਤੋਂ ਵੱਧ ਰੁੱਖ ਲਗਾਓ, ਵਾਤਾਵਰਣ ਬਚਾਓ”



ਉਡਾਣ

ਛੇਵੀਂ ਤੋਂ ਅੱਠਵੀਂ ਜਮਾਤ ਦੇ ਵਿਦਿਆਰਥੀਆਂ ਲਈ
ਸ਼ੀਟ ਨੰ: 45 ਮਿਤੀ 26-07-2019

- ਪ੍ਰਸ਼ਨ221. ਉਹ ਸਹਾਇਤਾ ਜੋ ਰੋਗੀ ਜਾਂ ਜਖਮੀ ਨੂੰ ਘਟਨਾ ਸਥਾਨ ਵਾਲੀ ਥਾਂ 'ਤੇ ਡਾਕਟਰ ਦੇ ਪਹੁੰਚਣ ਤੋਂ ਪਹਿਲਾਂ ਨਿਯਮਾਂ ਅਨੁਸਾਰ ਦਿੱਤੀ ਜਾਂਦੀ ਹੈ ਉਸ ਨੂੰ ਕਿਹਾ ਜਾਂਦਾ ਹੈ।
Help that is given to the patient or injured at the site of incident as per rules before the doctor arrived is called.....
(ੳ) ਡਾਕਟਰੀ ਸਹਾਇਤਾ (Medical Aid) (ਅ) ਸਮਾਜ ਸੇਵਾ (Social Service)
(ੲ) ਮੁੱਢਲੀ ਸਹਾਇਤਾ (First Aid) (ਸ) ਇਹਨਾਂ ਵਿੱਚੋਂ ਕੋਈ ਵੀ ਨਹੀਂ (None of these)
- ਪ੍ਰਸ਼ਨ222. ਮਨੁੱਖੀ ਸਰੀਰ ਦਾ ਤਾਪਮਾਨ ਮਾਪਣ ਵਾਲੇ ਯੰਤਰ ਨੂੰ ਕੀ ਕਿਹਾ ਜਾਂਦਾ ਹੈ ?
What is a human body temperature measuring device?
(ੳ) ਮਾਈਕ੍ਰੋਸਕੋਪ (Microscope) (ਅ) ਸਟੈਥੋਸਕੋਪ (Stethoscope)
(ੲ) ਬੈਰੋਮੀਟਰ (Barometer) (ਸ) ਥਰਮਾਮੀਟਰ (Thermometer)
- ਪ੍ਰਸ਼ਨ223. ਦੇਸੀ ਮਹੀਨਿਆਂ ਅਨੁਸਾਰ ਪੰਜਾਬ ਵਿੱਚ ਤੀਆਂ ਦਾ ਤਿਉਹਾਰ ਮਹੀਨੇ ਵਿੱਚ ਮਨਾਇਆ ਜਾਂਦਾ ਹੈ।
(ੳ) ਚੇਤ (ਅ) ਕੱਤਕ (ੲ) ਸਾਉਣ (ਸ) ਮਾਘ
- ਪ੍ਰਸ਼ਨ224. ਹੇਠਾਂ ਦਿੱਤਿਆਂ ਵਿੱਚੋਂ ਅਢੁੱਕਵਾਂ ਲੱਭੋ :-
Find Odd One Out from the following :-
(ੳ) ਧਰਤੀ (Earth) (ਅ) ਚੰਦਰਮਾ (Moon)
(ੲ) ਨੈਪਚੂਨ (Neptune) (ਸ) ਮੰਗਲ (Mars)
- ਪ੍ਰਸ਼ਨ225. 65° ਦਾ ਸੰਪੂਰਕ ਕੋਣ ਦੱਸੋ?
What is the Supplement Angle of 65° ?
(ੳ) 25° (ਅ) 115° (ੲ) 35° (ਸ) 295°

ਸੀਟ ਨੰਬਰ 44 ਦੇ ਸਹੀ ਉੱਤਰ

- ਪ੍ਰਸ਼ਨ 216. (ਅ) ਮਾਈ ਭਾਗੋ ਸਕੀਮ (Mai Bhago scheme)
ਪ੍ਰਸ਼ਨ 217. Trees and plants are ornaments of our earth.
ਪ੍ਰਸ਼ਨ 218. (ੲ) 16
ਪ੍ਰਸ਼ਨ 219. (ੲ) 7th ਪ੍ਰਸ਼ਨ 220. (ਅ) ਸੁਰਿੰਦਰ ਕੌਰ (Surinder Kaur)

“ਵੱਧ ਤੋਂ ਵੱਧ ਰੁੱਖ ਲਗਾਓ, ਵਾਤਾਵਰਣ ਬਚਾਓ”



ਉਡਾਣ

ਛੇਵੀਂ ਤੋਂ ਅੱਠਵੀਂ ਜਮਾਤ ਦੇ ਵਿਦਿਆਰਥੀਆਂ ਲਈ
ਸ਼ੀਟ ਨੰ: 46 ਮਿਤੀ 27-07-2019

ਪ੍ਰਸ਼ਨ 226. ਮੱਛੀਆਂ ਰਾਹੀਂ ਸਾਹ ਲੈਂਦੀਆਂ ਹਨ?

The fishes breathe through.....

(ੳ) ਫੇਫੜਿਆਂ (Lungs) (ਅ) ਚਮੜੀ (Skin)

(ੲ) ਗਲਫੜਿਆਂ (Gills) (ਸ) ਇਹਨਾਂ ਵਿੱਚੋਂ ਕੋਈ ਵੀ ਨਹੀਂ (None of these)

ਪ੍ਰਸ਼ਨ 227. ਲੋਕਤੰਤਰੀ ਸਰਕਾਰ ਵਿੱਚ ਰਾਜ ਪ੍ਰਬੰਧ ਦੀ ਸਭ ਤੋਂ ਛੋਟੀ ਇਕਾਈ ਕਿਹੜੀ ਹੈ?

Which is the smallest unit of state administration in a Democratic Government?

(ੳ) ਗ੍ਰਾਮ ਪੰਚਾਇਤ (Gram Panchayat)

(ਅ) ਜ਼ਿਲ੍ਹਾ ਪ੍ਰੀਸ਼ਦ (Zila Parishad)

(ੲ) ਪੰਚਾਇਤ ਸੰਮਤੀ (Panchayat Samiti)

(ਸ) ਵਿਧਾਨਪਾਲਿਕਾ (Legislative Assembly)

ਪ੍ਰਸ਼ਨ 228. ਸਰੀਰ ਵਿੱਚ ਆਇਓਡੀਨ ਦੀ ਕਮੀ ਹੋਣ ਕਾਰਨ ਕਿਹੜਾ ਰੋਗ ਹੋ ਜਾਂਦਾ ਹੈ?

Which disease is caused by the deficiency of Iodine?

(ੳ) ਅੰਧਰਾਤਾ (Night Blindness) (ਅ) ਬੇਰੀ-ਬੇਰੀ (Berry-Berry)

(ੲ) ਸਕਰਵੀ (Scurvy) (ਸ) ਗਿਲੜੂ (Goiter)

Qu 229. Full form of ISRO is.....

(ੳ) Indian Scientific Research Organization

(ਅ) Indian Space Research Organization

(ੲ) International Space Research Organization

(ਸ) International Scientific Research Organization

ਪ੍ਰਸ਼ਨ 230. ਪੰਜਾਬੀ ਭਾਸ਼ਾ ਵਿੱਚ ਸ਼ਬਦ 'ਖਿੱਦੋ' ਕਿਸ ਵਸਤੂ ਲਈ ਵਰਤਿਆ ਜਾਂਦਾ ਹੈ?

(ੳ) ਸੋਟੀ ਲਈ (ਅ) ਗੋਂਦ ਲਈ (ੲ) ਹਾਕੀ ਲਈ (ਸ) ਗੁੱਲੀ-ਡੰਡੇ ਲਈ

ਸ਼ੀਟ ਨੰਬਰ 45 ਦੇ ਸਹੀ ਉੱਤਰ

ਪ੍ਰਸ਼ਨ 221. (ੲ) ਮੁੱਢਲੀ ਸਹਾਇਤਾ (First Aid)

ਪ੍ਰਸ਼ਨ 222. (ਸ) ਥਰਮਾਮੀਟਰ (Thermometer). ਪ੍ਰਸ਼ਨ 223. (ੲ) ਸਾਉਣ

ਪ੍ਰਸ਼ਨ 224. (ਅ) ਚੰਦਰਮਾ (Moon)

ਪ੍ਰਸ਼ਨ 225. (ਅ) 115°

“ਵੱਧ ਤੋਂ ਵੱਧ ਰੁੱਖ ਲਗਾਓ, ਵਾਤਾਵਰਣ ਬਚਾਓ”



ਉਡਾਣ

Revised Sheet

ਛੇਵੀਂ ਤੋਂ ਅੱਠਵੀਂ ਜਮਾਤ ਦੇ ਵਿਦਿਆਰਥੀਆਂ ਲਈ
ਸ਼ੀਟ ਨੰ: 47

ਮਿਤੀ 29-07-2019

- ਪ੍ਰਸ਼ਨ 231. ਜੁਮੈਟਰੀ ਬਾਕਸ ਵਿੱਚ ਇੱਕ ਸੈੱਟ ਸੁਕਏਅਰ ਦੇ ਸਿਖਰ $45^\circ, 90^\circ, 45^\circ$ ਦੇ ਕੋਣਾਂ ਨੂੰ ਦਰਸਾਉਂਦੇ ਹਨ। ਦੂਜੇ ਸੈੱਟ ਸੁਕਏਅਰ ਦੇ ਸਿਖਰ ਕਿੰਨੇ ਡਿਗਰੀ ਦੇ ਕੋਣ ਦਰਸਾਉਂਦੇ ਹਨ?
The vertex of set square in geometry box represents the angle of $45^\circ, 90^\circ, 45^\circ$. The vertex of 2nd set square represent the degrees of angle....
(ੳ) $30^\circ, 30^\circ, 120^\circ$ (ਅ) $30^\circ, 90^\circ, 50^\circ$
(ੲ) $30^\circ, 90^\circ, 60^\circ$ (ਸ) $30^\circ, 50^\circ, 100^\circ$
- ਪ੍ਰਸ਼ਨ 232. ਦੁੱਧ ਇੱਕ ਸੰਪੂਰਨ ਭੋਜਨ ਹੈ। (Translate into English)
- ਪ੍ਰਸ਼ਨ 233. ਪੌਦੇ ਦੇ ਪੱਤਿਆਂ ਦੇ ਹੇਠਲੇ ਪਾਸੇ ਛੋਟੇ-ਛੋਟੇ ਛੋਕ ਹੁੰਦੇ ਹਨ, ਉਹਨਾਂ ਨੂੰ ਕੀ ਕਿਹਾ ਜਾਂਦਾ ਹੈ ?
At the lower surface of the leaves of the plant there are small pores. What are they called ?
(ੳ) ਸਟੋਮੈਟਾ (Stomata) (ਅ) ਨਾੜੀਆਂ (Veins)
(ੲ) ਲੈਮਿਨਾ (lamina) (ਸ) ਤਿੰਨਾਂ ਵਿੱਚੋਂ ਕੋਈ ਵੀ ਨਹੀਂ (None of these)
- ਪ੍ਰ: 234. ਜ਼ਿਲ੍ਹੇ ਦੇ ਪ੍ਰਬੰਧਕੀ ਕੰਮਾਂ ਨੂੰ ਨਿਪਟਾਉਣ ਲਈ ਸਭ ਤੋਂ ਉੱਚ ਅਧਿਕਾਰੀ ਕੌਣ ਹੁੰਦਾ ਹੈ?
Who is the highest authority to perform the administrative functions of district?
(ੳ) ਡਿਪਟੀ ਕਮਿਸ਼ਨਰ (Deputy commissioner) (ਅ) ਤਹਿਸੀਲਦਾਰ (Tehsildar)
(ੲ) ਜਿਲ੍ਹਾ ਸਿੱਖਿਆ ਅਫਸਰ (District Education Officer) (ਸ) ਐਸ.ਡੀ.ਐਮ. (SDM)
- ਪ੍ਰਸ਼ਨ 235. ਹੇਠ ਲਿਖੇ ਮੁੱਖ ਮੰਤਰੀਆਂ ਵਿੱਚੋਂ ਕਿਸ ਮੁੱਖ ਮੰਤਰੀ ਦਾ ਕਾਰਜਕਾਲ ਸਭ ਤੋਂ ਲੰਬਾ ਰਿਹਾ ਹੈ?
Which of the following Chief Ministers served for the longest tenure?
(ੳ) ਸ੍ਰੀ ਲਾਲੂ ਪ੍ਰਸਾਦ (Sri Lalu Prasad)
(ਅ) ਸ਼੍ਰੀ ਜਯੋਤੀ ਬਾਸੂ (Sh. Jyoti Basu)
(ੲ) ਸ੍ਰੀ ਕਮਲ ਨਾਥ (Sri Kamal Nath)
(ਸ) ਸ: ਪ੍ਰਕਾਸ਼ ਸਿੰਘ ਬਾਦਲ (S. Parkash Singh Badal)

ਸ਼ੀਟ ਨੰਬਰ 46 ਦੇ ਸਹੀ ਉੱਤਰ

- ਪ੍ਰਸ਼ਨ 226. (ੲ) ਗਲਫੜਿਆਂ (Gills) ਪ੍ਰਸ਼ਨ 227. (ੳ) ਗ੍ਰਾਮ ਪੰਚਾਇਤ (Gram Panchayat)
ਪ੍ਰਸ਼ਨ 228. (ਸ) ਗਿਲੜ (Goiter)
ਪ੍ਰਸ਼ਨ 229. (ਅ) Indian Space Research Organization
ਪ੍ਰਸ਼ਨ 230. (ਅ) ਗੋਂਦ ਲਈ

“ਵੱਧ ਤੋਂ ਵੱਧ ਰੁੱਖ ਲਗਾਓ, ਵਾਤਾਵਰਣ ਬਚਾਓ”



ਉਡਾਣ

ਫੇਵੀਂ ਤੋਂ ਅੱਠਵੀਂ ਜਮਾਤ ਦੇ ਵਿਦਿਆਰਥੀਆਂ ਲਈ
ਸ਼ੀਟ ਨੰ: 48 ਮਿਤੀ 30-07-2019

ਪ੍ਰਸ਼ਨ 236. C.P.U. ਦਾ ਪੂਰਾ ਨਾਮ ਕੀ ਹੈ ?

Qu 236. Full form of C.P.U.

(ੳ) Central plate unit (ਅ) Control Processing Unit.

(ੲ) Central Processing Unit. (ਸ) Control Plate Unit.

ਪ੍ਰਸ਼ਨ 237. “ਉਹ ਥਾਂ ਜਿੱਥੇ ਪਹਿਲਵਾਨ ਘੋਲ ਕਰਦੇ ਹਨ” ਨੂੰ ਕੀ ਕਿਹਾ ਜਾਂਦਾ ਹੈ?

(ੳ) ਚੁਰਸਤਾ (ਅ) ਸੱਥ (ੲ) ਅਖਾੜਾ (ਸ) ਪਿੱਚ

ਪ੍ਰਸ਼ਨ 238. ਬੀ.ਸੀ.ਜੀ. ਦਾ ਟੀਕਾ ਕਿਸ ਰੋਗ ਤੋਂ ਬਚਾਅ ਲਈ ਲਗਾਇਆ ਜਾਂਦਾ ਹੈ?

Qu 238 The BCG vaccine is vaccinated to prevent which disease?

(ੳ) ਨਮੂਨੀਆ (Pneumonia) (ਅ) ਟੀ.ਬੀ. (Tuberculosis)

(ੲ) ਟਾਈਫਾਈਡ (Typhoid) (ਸ) ਮਲੇਰੀਆ (Malaria)

ਪ੍ਰਸ਼ਨ 239. ਬਾਹਰ ਬੁੰਦਾਬਾਂਦੀ ਹੋ ਰਹੀ ਹੈ। (Translate into English)

ਪ੍ਰਸ਼ਨ 240. ਤ੍ਰਿਭੁਜ ਦੀਆਂ ਦੋ ਭੁਜਾਵਾਂ ਦਾ ਜੋੜ ਹਮੇਸ਼ਾ ਤੀਜੀ ਭੁਜਾ ਤੋਂਹੁੰਦੀ ਹੈ।

Qu 240. The sum of any two sides of a triangle is alwaysthan the third side.

(ੳ) ਦੇ ਬਰਾਬਰ (Equal to) (ਅ) ਨਾਲੋਂ ਛੋਟਾ (Smaller Than)

(ੲ) ਨਾਲੋਂ ਵੱਡਾ (Greater Than) (ਸ) ਇਹਨਾਂ ਵਿੱਚੋਂ ਕੋਈ ਨਹੀਂ (None of these)

ਨੋਟ:- ਉੱਤਰ ਅਗਲੇ ਦਿਨ ਦੀ ਸ਼ੀਟ ਵਿੱਚ ਭੇਜੇ ਜਾਣਗੇ, ਤਦ ਤੱਕ ਦਿਮਾਗੀ ਕਸਰਤ ਕਰੋ।

ਸ਼ੀਟ ਨੰਬਰ 47 ਦੇ ਸਹੀ ਉੱਤਰ

ਪ੍ਰਸ਼ਨ 231. (ੲ) $30^\circ, 90^\circ, 60^\circ$ ਪ੍ਰਸ਼ਨ 232. Milk is a perfect diet.

ਪ੍ਰਸ਼ਨ 233. (ੳ) ਸਟੋਮੈਟਾ (Stomata)

ਪ੍ਰਸ਼ਨ 234. (ੳ) ਡਿਪਟੀ ਕਮਿਸ਼ਨਰ (Deputy commissioner)

ਪ੍ਰਸ਼ਨ 235. (ਅ) ਸ਼੍ਰੀ ਜਯੋਤੀ ਬਾਸੂ (Shri Jyoti Basu)

“ਵੱਧ ਤੋਂ ਵੱਧ ਰੁੱਖ ਲਗਾਓ, ਵਾਤਾਵਰਣ ਬਚਾਓ”



ਉਡਾਣ

ਫੇਵੀਂ ਤੋਂ ਅੱਠਵੀਂ ਜਮਾਤ ਦੇ ਵਿਦਿਆਰਥੀਆਂ ਲਈ
ਸ਼ੀਟ ਨੰ: 49

ਮਿਤੀ 01-08-2019

Q 241 ਜਿਸ ਤ੍ਰਿਭੁਜ ਦੀਆਂ ਸਾਰੀਆਂ ਭੁਜਾਵਾਂ ਬਰਾਬਰ ਹੋਣ ਉਸ ਨੂੰ ਤ੍ਰਿਭੁਜ ਕਿਹਾ ਜਾਂਦਾ ਹੈ। The triangle whose all sides are equal is calledtriangle.

- (ੳ) ਸਮਭੁਜੀ (Equilateral) (ਅ) ਬਿਖਮ ਭੁਜੀ (Scalene)
(ੲ) ਸਮ-ਦੋ ਭੁਜੀ (isosceles) (ਸ) ਸਮਕੋਣੀ (Right angled)

Q 242. Translate into English

ਚੰਗੀ ਸਿਹਤ ਲਈ ਕਸਰਤ ਕਰਨਾ ਜ਼ਰੂਰੀ ਹੈ।

Q 243. ਸੁਨਾਮ ਸ਼ਹਿਰ ਦੀ ਧਰਤੀ ਤੋਂ ਕਿਸ ਸ਼ਹੀਦ ਨੇ ਜਨਮ ਲਿਆ? Which martyr was born in Sunam city of Punjab ?

- (ੳ) ਭਗਤ ਸਿੰਘ (Bhagat Singh) (ਅ) ਸੁਖਦੇਵ (Sukhdev)
(ੲ) ਉਧਮ ਸਿੰਘ (Udham Singh) (ਸ) ਰਾਜਗੁਰੂ (Rajguru)

Q 244. “ਉਹ ਥਾਂ ਜਿੱਥੇ ਚਾਰੇ ਪਾਸੇ ਨੂੰ ਰਸਤਾ ਨਿਕਲੇ” ਲਈ ਕਿਹੜਾ ਢੁੱਕਵਾਂ ਸ਼ਬਦ ਵਰਤਿਆ ਜਾਂਦਾ ਹੈ?

- (ੳ) ਸੜਕ (ਅ) ਚਾਰ ਰਸਤਿਆਂ ਦਾ ਸਮੂਹ
(ੲ) ਚੁਰਸਤਾ (ਸ) ਸਰਬ-ਸਾਂਝਾ ਰਸਤਾ

Q 245. 0° ਅਕਸ਼ਾਂਸ ਨੂੰਵੀ ਕਿਹਾ ਜਾਂਦਾ ਹੈ।

0° latitude is also called as.....

- (ੳ) ਕਰਕ ਰੇਖਾ (Tropic of cancer) (ਅ) ਮਕਰ ਰੇਖਾ (Tropic of Capricorn)
(ੲ) ਭੂ-ਮੱਧ ਰੇਖਾ (Equator) (ਸ) ਇਹਨਾਂ ਵਿੱਚੋਂ ਕੋਈ ਵੀ ਨਹੀਂ (None of these)

ਨੋਟ:- ਉੱਤਰ ਅਗਲੇ ਦਿਨ ਦੀ ਸ਼ੀਟ ਵਿੱਚ ਭੇਜੇ ਜਾਣਗੇ, ਤਦ ਤੱਕ ਦਿਮਾਗੀ ਕਸਰਤ ਕਰੋ।

ਸ਼ੀਟ ਨੰਬਰ 48 ਦੇ ਸਹੀ ਉੱਤਰ

ਪ੍ਰਸ਼ਨ 236. (ੲ) Central Processing Unit

ਪ੍ਰਸ਼ਨ 237. (ੲ) ਅਖਾੜਾ .

ਪ੍ਰਸ਼ਨ 238. (ਅ) ਟੀ.ਬੀ. (Tuberculosis)

ਪ੍ਰਸ਼ਨ 239. It is drizzling out side.

ਪ੍ਰਸ਼ਨ 240. (ੲ) ਨਾਲੋਂ ਵੱਡਾ (Greater Than)

“ਵੱਧ ਤੋਂ ਵੱਧ ਰੁੱਖ ਲਗਾਓ, ਵਾਤਾਵਰਣ ਬਚਾਓ”



ਉਡਾਣ

ਛੇਵੀਂ ਤੋਂ ਅੱਠਵੀਂ ਜਮਾਤ ਦੇ ਵਿਦਿਆਰਥੀਆਂ ਲਈ

ਸ਼ੀਟ ਨੰ: 50

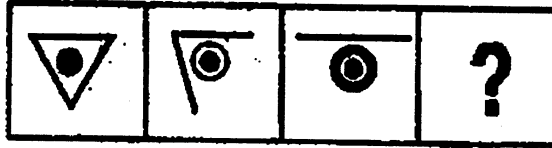
ਮਿਤੀ 02-08-2019

Q 246. ਕਿਹੜਾ ਵਿਟਾਮਿਨ ਖੂਨ ਦੇ ਜੰਮਣ ਵਿੱਚ ਮੱਦਦ ਕਰਦਾ ਹੈ? Which vitamin helps in blood clotting?
(ੳ) Vitamin D (ਅ) Vitamin K (ੲ) Vitamin A (ਸ) Vitamin E

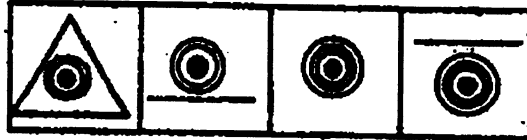
Q 247. ਜਿਹਨਾਂ ਸੰਖਿਆਵਾਂ ਦਾ ਸਿਰਫ ਇੱਕ ਹੀ ਸਾਂਝਾ ਗੁਣਨਖੰਡ ਹੋਵੇ ਉਹਨਾਂ ਨੂੰ ਕੀ ਕਿਹਾ ਜਾਂਦਾ ਹੈ? What are the numbers that have only one common factor?

- (ੳ) ਅਭਾਜ ਸੰਖਿਆਵਾਂ (Prime numbers) (ਅ) ਜਿਸਤ ਸੰਖਿਆਵਾਂ (Even numbers)
(ੲ) ਟਾਂਕ ਸੰਖਿਆਵਾਂ (odd numbers) (ਸ) ਸਹਿ-ਅਭਾਜ ਸੰਖਿਆਵਾਂ (Co-Prime numbers)

Q ਪ੍ਰਸ਼ਨ 248. ਤਰਤੀਬ ਸਹੀ ਕਰਨ ਲਈ ਉੱਤਰ ਚਿੱਤਰ ਵਿੱਚੋਂ ਸਹੀ ਉੱਤਰ ਲੱਭੋ?



ਉੱਤਰ ਚਿੱਤਰ



- (ੳ) (ਅ) (ੲ) (ਸ)

Q 249. Fill the suitable Modal:-

.....I come in, Sir? (can/may)

Q 250. ਜਦੋਂ ਚੰਨ, ਧਰਤੀ ਅਤੇ ਸੂਰਜ ਦੇ ਵਿਚਕਾਰਲੇ ਗ੍ਰਹਿਪੱਥ ਤੇ ਆ ਜਾਵੇ ਤਾਂ ਕੀ ਵਾਪਰਦਾ ਹੈ? What happens when moon comes in central orbit of Sun and Earth?

- (ੳ) (Moon eclipse) ਚੰਨ ਗ੍ਰਹਿਣ (ਅ) (Tides) ਜਵਾਰਭਾਟਾ
(ੲ) (Sun eclipse) ਸੂਰਜ ਗ੍ਰਹਿਣ (ਸ) (Volcano) ਜਵਾਲਾ ਮੁੱਖੀ

ਨੋਟ:- ਉੱਤਰ ਅਗਲੇ ਦਿਨ ਦੀ ਸ਼ੀਟ ਵਿੱਚ ਭੇਜੇ ਜਾਣਗੇ, ਤਦ ਤੱਕ ਦਿਮਾਗੀ ਕਸਰਤ ਕਰੋ।

ਸੀਟ ਨੰਬਰ 49 ਦੇ ਸਹੀ ਉੱਤਰ

ਪ੍ਰਸ਼ਨ 241. (ੳ) ਸਮਭੁਜੀ (Equilateral)

ਪ੍ਰਸ਼ਨ 242. Exercise is important for good health.

ਪ੍ਰਸ਼ਨ 243. (ੲ) ਊਧਮ ਸਿੰਘ (Udham Singh)

ਪ੍ਰਸ਼ਨ 244 (ੲ) ਚੁਰਸਤਾ.

ਪ੍ਰਸ਼ਨ 245. (ੲ) ਭੂ-ਮੱਧ ਰੇਖਾ (Equator)

“ਵੱਧ ਤੋਂ ਵੱਧ ਰੁੱਖ ਲਗਾਓ, ਵਾਤਾਵਰਣ ਬਚਾਓ”



ਉੱਤਰ

ਛੇਵੀਂ ਤੋਂ ਅੱਠਵੀਂ ਜਮਾਤ ਦੇ ਵਿਦਿਆਰਥੀਆਂ ਲਈ

ਸ਼ੀਟ ਨੰ: 51

ਮਿਤੀ 03-08-2019

Q 251. ਕਿਸ ਬਾਦਸ਼ਾਹ ਨੂੰ ਮੈਸੂਰ ਦਾ ਟਾਈਗਰ ਕਿਹਾ ਜਾਂਦਾ ਹੈ? Who is called 'Tiger of Mysor'?

(ੳ) ਹੈਦਰ ਅਲੀ (ਅ) ਟੀਪੂ ਸੁਲਤਾਨ (ੲ) ਬਾਬਰ (ਸ) ਸ਼ਾਹ ਮੁਹੰਮਦ

Q 252. ਹੇਠ ਦਿੱਤੇ ਸ਼ਬਦਾਂ ਵਿੱਚੋਂ ਢੁੱਕਵਾਂ ਖਾਲੀ ਸਥਾਨ ਭਰੋ। Identify the relation between words and fill in the blank with most appropriate word.

GOOD:BAD:: HAPPY:

(ੳ) Sad (ਅ) Great (ੲ) Smile (ਸ) Play

Q 253. 'ਪ੍ਰਿੰਟ' ਕਰਨ ਦਾ ਆਦੇਸ਼ ਦੇਣ ਲਈ ਕੰਪਿਊਟਰ ਵਿੱਚ ਕਿਸ ਸ਼ਾਰਟ ਕੱਟ ਦੀ ਵਰਤੋਂ ਕੀਤੀ ਜਾਂਦੀ ਹੈ? Which Shortcut key is used to command 'Print' in the computer?

(ੳ) Ctrl+V (ਅ) Ctrl+P (ੲ) Ctrl+A (ਸ) Ctrl+C

Q 254. ਕਿਸਾਨਾਂ ਵੱਲੋਂ ਤੂੜੀ ਸਟੋਰ ਕਰਨ ਲਈ ਬਣਾਈ ਜਾਂਦੀ ਸੰਕੂ ਆਕਾਰ ਆਕ੍ਰਿਤੀ ਨੂੰ ਕੀ ਕਿਹਾ ਜਾਂਦਾ ਹੈ?

(ੳ) ਗੁਹਾਰਾ (ਅ) ਟੋਆ (ੲ) ਕੁੱਪ (ਸ) ਕੋਠਾ

Q 255. ਕਰਕ ਰੇਖਾ ਅਤੇ ਮਕਰ ਰੇਖਾ ਦੇ ਵਿਚਕਾਰਲੇ ਖੇਤਰ ਨੂੰ ਕੀ ਕਿਹਾ ਜਾਂਦਾ ਹੈ? What is the area lying in between tropic of cancer and tropic of Capricorn is called?

(ੳ) ਉਪ-ਉਸ਼ਣ ਖੰਡ (Temperate Zone) (ਅ) ਸ਼ੀਤ ਖੰਡ (Frigid Zone)
(ੲ) ਉਸ਼ਣ ਤਾਪ ਖੰਡ (Hot Zone) (ਸ) ਕੋਈ ਵੀ ਨਹੀਂ (None of These)

ਨੋਟ:- ਉੱਤਰ ਅਗਲੇ ਦਿਨ ਦੀ ਸ਼ੀਟ ਵਿੱਚ ਭੇਜੇ ਜਾਣਗੇ, ਤਦ ਤੱਕ ਦਿਮਾਗੀ ਕਸਰਤ ਕਰੋ।
ਸ਼ੀਟ ਨੰਬਰ 50 ਦੇ ਸਹੀ ਉੱਤਰ

ਪ੍ਰਸ਼ਨ 246. (ਅ) Vitamin K

ਪ੍ਰਸ਼ਨ 247. (ਸ) ਸਹਿ-ਅਭਾਜ ਸੰਖਿਆਵਾਂ (Co-Prime numbers)



ਪ੍ਰਸ਼ਨ 248. (ੲ)

ਪ੍ਰਸ਼ਨ 249. may

ਪ੍ਰਸ਼ਨ 250. (ੲ) ਸੂਰਜ ਗ੍ਰਹਿਣ ਲੱਗਦਾ ਹੈ।

“ ਸਫਲਤਾ ਅਤੇ ਅਰਾਮ ਜਿੰਦਗੀ ਵਿੱਚ ਕਦੇ ਵੀ ਇੱਕਠੇ ਨਹੀਂ ਹੁੰਦੇ”
ਸਕੂਲ ਸਿੱਖਿਆ ਵਿਭਾਗ, ਪੰਜਾਬ



ਉਡਾਣ

ਛੇਵੀਂ ਤੋਂ ਅੱਠਵੀਂ ਜਮਾਤ ਦੇ ਵਿਦਿਆਰਥੀਆਂ ਲਈ

ਮਿਤੀ 05-08-2019

ਸ਼ੀਟ ਨੰ: 52

ਪ੍ਰਸ਼ਨ 256. ਹੇਠ ਲਿਖਿਆਂ ਵਿੱਚੋਂ ਕਿਹੜਾ ਜੀਵ ਅਲੋਪ ਹੋ ਚੁੱਕਾ ਹੈ? Which Animal has been distinguished from earth?

(ੳ) ਬਾਘ (ਅ) ਡਾਇਨਾਸੋਰ (ੲ) ਜੰਗਲੀ ਮੱਝ (ਸ) ਹਾਥੀ

Q 257. ਹੇਠ ਦਿੱਤੇ ਸ਼ਬਦਾਂ ਵਿੱਚੋਂ ਢੁੱਕਵਾਂ ਖਾਲੀ ਸਥਾਨ ਭਰੋ। Identify the relation between words and fill in the blank with most appropriate word.

TEACHER:SCHOOL:: DOCTOR:

(ੳ) House (ਅ) Post Office (ੲ) Hospital (ਸ) Restaurant

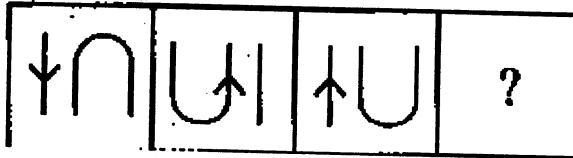
ਪ੍ਰਸ਼ਨ 258. Translate into English.

ਤੁਸੀਂ ਰੋਜ਼ਾਨਾ ਕਿਹੜਾ ਅਖਬਾਰ ਪੜਦੇ ਹੋ?

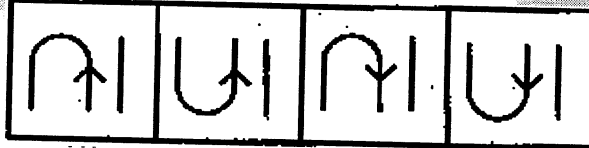
ਪ੍ਰਸ਼ਨ 259. ਇੱਕ ਕਿਲੋਮੀਟਰ ਵਿੱਚ ਕਿੰਨੇ ਮੀਟਰ ਹੁੰਦੇ ਹਨ? How many meter are there in a kilometer?

(ੳ) 100 (ਅ) 1000 (ੲ) 10000 (ਸ) 10

ਪ੍ਰਸ਼ਨ 260. ਤਰਤੀਬ ਸਹੀ ਕਰਨ ਲਈ ਉੱਤਰ ਚਿੱਤਰ ਵਿੱਚੋਂ ਸਹੀ ਉੱਤਰ ਲੱਭੋ?
ਪ੍ਰਸ਼ਨ ਚਿੱਤਰ



ਉੱਤਰ ਚਿੱਤਰ



(ੳ) (ਅ) (ੲ) (ਸ)

ਨੋਟ:- ਉੱਤਰ ਅਗਲੇ ਦਿਨ ਦੀ ਸ਼ੀਟ ਵਿੱਚ ਭੇਜੇ ਜਾਣਗੇ, ਤਦ ਤੱਕ ਦਿਮਾਗੀ ਕਸਰਤ ਕਰੋ।

ਸੀਟ ਨੰਬਰ 51 ਦੇ ਸਹੀ ਉੱਤਰ

ਪ੍ਰਸ਼ਨ 251. (ਅ) ਟੀਪੂ ਸੁਲਤਾਨ ਪ੍ਰਸ਼ਨ 252. (ੳ) Sad ਪ੍ਰਸ਼ਨ 253. (ਅ) Ctrl+P

ਪ੍ਰਸ਼ਨ 254. (ੲ) ਕੁੱਪ ਪ੍ਰਸ਼ਨ 255. (ੲ) ਉਸ਼ਣ ਤਾਪ ਖੰਡ (Hot Zone)

“ ਸਫਲਤਾ ਅਤੇ ਅਰਾਮ ਜਿੰਦਗੀ ਵਿੱਚ ਕਦੇ ਵੀ ਇੱਕਠੇ ਨਹੀਂ ਹੁੰਦੇ”
ਸਕੂਲ ਸਿੱਖਿਆ ਵਿਭਾਗ, ਪੰਜਾਬ



ਉਡਾਣ

ਛੇਵੀਂ ਤੋਂ ਅੱਠਵੀਂ ਜਮਾਤ ਦੇ ਵਿਦਿਆਰਥੀਆਂ ਲਈ

ਸ਼ੀਟ ਨੰ: 53

ਮਿਤੀ 06-08-2019

Q 261. ਮਨੁੱਖੀ ਸਰੀਰ ਦੀ ਸਭ ਤੋਂ ਛੋਟੀ ਹੱਡੀ ਕਿਹੜੀ ਹੈ?

Which is the smallest bone in human body?

- (ੳ) ਨਹੁੰ (Nails) (ਅ) ਫਾਈਬੁਲਾ (Fibula) (ੲ) ਨੱਕ ਦੀ ਹੱਡੀ (Bone of nose)
(ਸ) ਸਟੈਪਜ਼, ਕੰਨ ਦੀ ਹੱਡੀ (stapes, ear bone)

Q 262. How days are there in a week? (many/ much)

Q 263. 'ਜੈ ਜਵਾਨ, ਜੈ ਕਿਸਾਨ, ਜੈ ਵਿਗਿਆਨ' ਦਾ ਨਾਅਰਾ ਕਿਸ ਨੇ ਦਿੱਤਾ?

Who gave the slogan 'jai jawan, jai kisan, jai vighyan'?

- (ੳ) ਸ਼੍ਰੀ ਅਟਲ ਬਿਹਾਰੀ ਵਾਜਪਾਈ (Shri Atal Bihari Vajpayee)
(ਅ) ਡਾ. ਮਨਮੋਹਨ ਸਿੰਘ (Dr. Manmohan Singh)
(ੲ) ਸ਼੍ਰੀ ਰਾਜੀਵ ਗਾਂਧੀ (Shri Rajiv Gandhi)
(ਸ) ਸ਼੍ਰੀਮਤੀ ਇੰਦਰਾ ਗਾਂਧੀ (Smt. Indira Gandhi)

Q 264 . ਸਰਵਣ ਭਗਤ ਨੇ ਆਪਣੇ ਮਾਤਾ-ਪਿਤਾ ਨੂੰ ਵਿੱਚ ਬਿਠਾ ਕੇ ਧਾਰਮਿਕ ਯਾਤਰਾ ਕਰਵਾਈ।

- (ੳ) ਕਾਰ (ਅ) ਰੇਹੜੀ (ੲ) ਵਹਿੰਗੀ (ਸ) ਗੱਡੇ

Q 265. What is the full form NMMS ? NMMS ਦਾ ਪੂਰਾ ਨਾਂ ਦੱਸੋ।

- (ੳ) National Means cum Merit Scholarship.
(ਅ) National Means cum Merit State.
(ੲ) National Merit cum Means Scheme.
(ਸ) National Maths. Merit Scholarship.

ਨੋਟ:- ਉੱਤਰ ਅਗਲੇ ਦਿਨ ਦੀ ਸ਼ੀਟ ਵਿੱਚ ਭੇਜੇ ਜਾਣਗੇ, ਤਦ ਤੱਕ ਦਿਮਾਗੀ ਕਸਰਤ ਕਰੋ।

ਸ਼ੀਟ ਨੰਬਰ 52 ਦੇ ਸਹੀ ਉੱਤਰ

ਪ੍ਰਸ਼ਨ 256. (ਅ) ਡਾਇਨਾਸੌਰ (Dinosaur) ਪ੍ਰਸ਼ਨ 257. (ੲ) Hospital

ਪ੍ਰਸ਼ਨ 258. Which newspaper do you read daily? ਪ੍ਰਸ਼ਨ 259. (ਅ) 1000

ਪ੍ਰਸ਼ਨ 260. (ੲ)



“ ਪਾਣੀ ਬਚਾਓ, ਭਵਿੱਖ ਬਚਾਓ ”
ਸਕੂਲ ਸਿੱਖਿਆ ਵਿਭਾਗ, ਪੰਜਾਬ



ਉੱਤਰ

ਛੇਵੀਂ ਤੋਂ ਅੱਠਵੀਂ ਜਮਾਤ ਦੇ ਵਿਦਿਆਰਥੀਆਂ ਲਈ

ਸ਼ੀਟ ਨੰ: 54

ਮਿਤੀ 07-08-2019

ਪ੍ਰਸ਼ਨ 266. ਦੋ ਅੱਖਰਾਂ ਦੇ ਮੇਲ ਤੋਂ ਬਣੇ ਨੂੰ ਅੱਖਰ ਨੂੰ ਕਿਹਾ ਜਾਂਦਾ ਹੈ।

(ੳ) ਸਵਰ ਅੱਖਰ (ਅ) ਅਨੁਨਾਸ਼ਕੀ ਅੱਖਰ (ੲ) ਵਿਸ਼ੇਸ਼ਣ (ਸ) ਦੁੱਤ ਅੱਖਰ

Q 267. ਇਲਾਜ ਨਾਲੋਂ ਪ੍ਰੇਜ਼ ਚੰਗਾ। (Translate into English)

ਪ੍ਰਸ਼ਨ 268. ਭੂਚਾਲ ਮਾਪਣ ਵਾਲੇ ਯੰਤਰ ਨੂੰ ਕੀ ਕਿਹਾ ਜਾਂਦਾ ਹੈ?

What is the name of the device used to measure earthquakes ?

(ੳ) ਥਰਮਾਮੀਟਰ (Thermometer) (ਅ) ਬੈਰੋਮੀਟਰ (Barometer)
(ੲ) ਵੋਲਟਮੀਟਰ (Voltmeter) (ਸ) ਸਿਜ਼ਮੋਗ੍ਰਾਫ (Seismograph)

ਪ੍ਰਸ਼ਨ 269. ਜਸਦੀਪ ਦਾ ਜਮਾਤ ਵਿੱਚ ਉਪਰਲੇ ਪਾਸੇ ਅਤੇ ਹੇਠਾਂ ਵਾਲੇ ਪਾਸੇ ਤੋਂ ਜਮਾਤ ਵਿੱਚ 21 ਵਾਂ ਸਥਾਨ ਹੈ, ਦੱਸੋ ਜਮਾਤ ਵਿੱਚ ਕੁੱਲ ਕਿੰਨੇ ਵਿਦਿਆਰਥੀ ਹਨ?

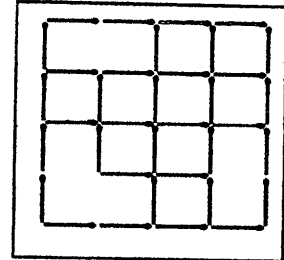
If Jasdeep is on 21st place in both ascending and descending order of merit in a class, calculate the total number of students of class.

(ੳ) 40 (ਅ) 41 (ੲ) 42 (ਸ) 39

ਪ੍ਰਸ਼ਨ 270. ਇਸ ਤਸਵੀਰ ਵਿੱਚ ਕਿੰਨੇ ਵਰਗ ਹਨ?

How many Square are there in this picture?

(ੳ) 14 (ਅ) 15 (ੲ) 18 (ਸ) 16



ਨੋਟ:- ਉੱਤਰ ਅਗਲੇ ਦਿਨ ਦੀ ਸ਼ੀਟ ਵਿੱਚ ਭੇਜੇ ਜਾਣਗੇ, ਤਦ ਤੱਕ ਦਿਮਾਗੀ ਕਸਰਤ ਕਰੋ।

ਸੀਟ ਨੰਬਰ 53 ਦੇ ਸਹੀ ਉੱਤਰ

Ans 261. (ਸ) ਸਟੈਪਜ਼, ਕੰਨ ਦੀ ਹੱਡੀ (stapes, Ear Bone) Ans 262. many

Ans 263. (ੳ) ਸ਼੍ਰੀ ਅਟਲ ਬਿਹਾਰੀ ਵਾਜਪਾਈ (Shri Atal Bihari Vajpayee)

Ans 264. (ੲ) ਵਹਿੰਗੀ Ans 265. (ੳ) National Means cum Merit Scholarship



“ ਪਾਣੀ ਬਚਾਓ, ਭਵਿੱਖ ਬਚਾਓ ”
ਸਕੂਲ ਸਿੱਖਿਆ ਵਿਭਾਗ, ਪੰਜਾਬ



ਉਡਾਣ

ਛੇਵੀਂ ਤੋਂ ਅੱਠਵੀਂ ਜਮਾਤ ਦੇ ਵਿਦਿਆਰਥੀਆਂ ਲਈ
ਸ਼ੀਟ ਨੰ: 55 ਮਿਤੀ 08-08-2019

Q 271 ਮਨੁੱਖੀ ਸਰੀਰ ਦਾ ਸਭ ਤੋਂ ਵੱਡਾ ਅੰਗ ਕਿਹੜਾ ਹੈ?

which is the largest organ of human body?

(ੳ) ਦਿਮਾਗ (Brain) (ਅ) ਦਿਲ (Heart) (ੲ) ਚਮੜੀ (Skin) (ਸ) ਜਿਗਰ (Liver)

Q 272. ਰੰਗਦਾਰ ਨਕਸ਼ਿਆਂ ਵਿੱਚ ਮਹਾਂਸਾਗਰ/ ਜਲ ਪਿੰਡਾਂ ਨੂੰ ਕਿਹੜੇ ਰੰਗ ਨਾਲ ਦਰਸਾਇਆ ਜਾਂਦਾ ਹੈ?

By which colour ocean/ water bodies are represented on the colourful maps?

(ੳ) ਲਾਲ (Red) (ਅ) ਨੀਲਾ Blue (ੲ) ਸਫੈਦ (White) (ਸ) ਹਰਾ (Green)

Q 273. ਜਿਸ ਵਾਕ ਵਿੱਚ ਪ੍ਰਸ਼ਨ ਪੁੱਛਿਆ ਗਿਆ ਹੋਵੇ, ਉਸ ਵਾਕ ਦੇ ਅੰਤ ਵਿੱਚ ਕਿਹੜਾ ਵਿਸਰਾਮ ਚਿੰਨ੍ਹ ਲਗਾਇਆ ਜਾਂਦਾ ਹੈ?

(ੳ) ਡੰਡੀ (ਅ) ਵਿਸਮਿਕ ਚਿੰਨ੍ਹ (ੲ) ਕੌਮਾ (ਸ) ਪ੍ਰਸ਼ਨ ਚਿੰਨ੍ਹ

Q 274. ਭਾਰਤ ਸਰਕਾਰ ਵੱਲੋਂ ਨਾਗਰਿਕਾਂ ਨੂੰ ਜਾਰੀ ਕੀਤੇ ਜਾਂਦੇ ਆਧਾਰ ਕਾਰਡ ਤੇ ਕਿੰਨੇ ਅੰਕਾਂ ਦਾ ਨੰਬਰ ਹੁੰਦਾ ਹੈ? How many digits are there on a AADHAR Card issued by Govt of India to the citizens?

(ੳ) 10 (ਅ) 12 (ੲ) 6 (ਸ) 14


Q 275. ਜੇਕਰ ਕਿਸੇ ਪਿੰਡ ਦੀ 9% ਪ੍ਰਤੀਸ਼ਤ ਵੱਸੋਂ ਪੋਸਟ ਗਰੈਜੂਏਟ ਅਤੇ 16% ਪ੍ਰਤੀਸ਼ਤ ਵੱਸੋਂ ਗਰੈਜੂਏਟ ਹੋਵੇ, ਤਾਂ ਦੱਸੋ ਕਿ ਹੇਠ ਦਿੱਤੇ ਚਿੱਤਰਾਂ ਵਿੱਚੋਂ ਕਿਹੜਾ ਚਿੱਤਰ ਪਿੰਡ ਦੇ ਪੋਸਟ ਗਰੈਜੂਏਟ ਅਤੇ ਗਰੈਜੂਏਟਾਂ ਦੀ ਗਿਣਤੀ ਨੂੰ ਠੀਕ ਢੰਗ ਨਾਲ ਦਰਸਾ ਰਿਹਾ ਹੈ? Which figure given below is correctly depicting graduates and postgraduates of the village where 9% of the population is postgraduate and 16% is graduate?



(ੳ)



(ਅ)



(ੲ)



(ਸ)

ਨੋਟ:- ਉੱਤਰ ਅਗਲੇ ਦਿਨ ਦੀ ਸ਼ੀਟ ਵਿੱਚ ਭੇਜੇ ਜਾਣਗੇ, ਤਦ ਤੱਕ ਦਿਮਾਗੀ ਕਸਰਤ ਕਰੋ।

ਸੀਟ ਨੰਬਰ 54 ਦੇ ਸਹੀ ਉੱਤਰ

Ans 266. (ਸ) ਦੁੱਤ ਅੱਖਰ

Ans 267.

Ans 268. (ਸ) ਸਿਜ਼ਮੋਗ੍ਰਾਫ (Seismograph)

Ans 269. (ਅ) 41

Ans 270. (ਸ) 16



“ ਪਾਣੀ ਬਚਾਓ, ਭਵਿੱਖ ਬਚਾਓ ”
ਸਕੂਲ ਸਿੱਖਿਆ ਵਿਭਾਗ, ਪੰਜਾਬ



ਉਡਾਣ

ਛੇਵੀਂ ਤੋਂ ਅੱਠਵੀਂ ਜਮਾਤ ਦੇ ਵਿਦਿਆਰਥੀਆਂ ਲਈ
ਸ਼ੀਟ ਨੰ: 56

ਮਿਤੀ 09-08-2019

Q 276. 'ਸੁੱਧ ਸੋਨਾ' ਕਿੰਨੇ ਕੈਰਟ ਸੋਨੇ ਨੂੰ ਕਿਹਾ ਜਾਂਦਾ ਹੈ?

How many carat of gold is called 'pure gold'?

(ੳ) 24 ਕੈਰੇਟ ਸੋਨਾ (24 carat gold) (ਅ) 23 ਕੈਰੇਟ ਸੋਨਾ (24 carat gold)

(ੲ) 20 ਕੈਰੇਟ ਸੋਨਾ (20 carat gold) (ਸ) 22 ਕੈਰੇਟ ਸੋਨਾ (22 carat gold)

Q 277. 'ਚਾਰ ਮੀਨਾਰ' ਕਿਸ ਸ਼ਹਿਰ ਵਿੱਚ ਹੈ?

In which city the 'Charminar' is located?

(ੳ) ਜੈਪੁਰ(Jaipur) (ਅ) ਹੈਦਰਾਬਾਦ(Hydrabad)

(ੲ) ਪਟਨਾ(Patna) (ਸ) ਚੇਨਈ(Chennai)

Q 278. ਭਾਰਤ ਵਿੱਚ ਸੂਤੀ ਕੱਪੜੇ ਦਾ ਪਹਿਲਾ ਕਾਰਖਾਨਾ ਕਦੋਂ ਅਤੇ ਕਿੱਥੇ ਲਗਾਇਆ ਗਿਆ?

When and where was the first cotton textile mill established in India ?

(ੳ) 1834 ਈ., ਗੁਹਾਟੀ (ਅ) 1853 ਈ., ਮੁੰਬਈ

(ੲ) 1854 ਈ., ਸੈਰਮਪੁਰ (ਸ) 1885 ਈ., ਰਾਣੀਗੰਜ

Q 279. ਜੇਕਰ ਕਿਸੇ ਕੋਡ ਭਾਸ਼ਾ ਵਿੱਚ TEA ਨੂੰ 2051 ਲਿਖਿਆ ਜਾਂਦਾ ਹੈ ਤਾਂ ਉਸੇ ਕੋਡ ਭਾਸ਼ਾ ਵਿੱਚ COFFEE ਨੂੰ ਕਿਸ ਤਰ੍ਹਾਂ ਲਿਖਿਆ ਜਾਵੇਗਾ? In certain code language if TEA is written as 2051 then how will COFFEE be written in the same code language?

(ੳ) 365566 (ਅ) 316655 (ੲ) 315566 (ਸ) 3156655

Q 280. ਅਨਾਜ ਸਟੋਰ ਕਰਨ ਲਈ ਮਿੱਟੀ ਦੇ ਬਣੇ ਬਰਤਨ ਨੂੰ ਕੀ ਕਿਹਾ ਜਾਂਦਾ ਹੈ।

(ੳ) ਤਪਲਾ (ਅ) ਢੋਲ (ੲ) ਭੜੋਲਾ (ਸ) ਟੋਕਨੀ

ਨੋਟ:- ਉੱਤਰ ਅਗਲੇ ਦਿਨ ਦੀ ਸ਼ੀਟ ਵਿੱਚ ਭੇਜੇ ਜਾਣਗੇ, ਤਦ ਤੱਕ ਦਿਮਾਗੀ ਕਸਰਤ ਕਰੋ।

ਸੀਟ ਨੰਬਰ 55 ਦੇ ਸਹੀ ਉੱਤਰ

Ans 271. (ੲ) ਚਮੜੀ Skin

Ans 272. (ਅ) ਨੀਲਾ Blue

Ans 273. (ਸ) ਪ੍ਰਸ਼ਨ ਚਿੰਨ੍ਹ

Ans 274. (ਅ) 12

Ans 275. (ਸ)



“ Save the Nature & Save your Life ”
ਸਕੂਲ ਸਿੱਖਿਆ ਵਿਭਾਗ, ਪੰਜਾਬ



ਉਡਾਣ

ਛੇਵੀਂ ਤੋਂ ਅੱਠਵੀਂ ਜਮਾਤ ਦੇ ਵਿਦਿਆਰਥੀਆਂ ਲਈ
ਸ਼ੀਟ ਨੰ: 57

ਮਿਤੀ 13-08-2019

Q 281. ਧਰਤੀ ਦੇ ਕਿਹੜੇ ਹਿੱਸੇ ਤੇ 6 ਮਹੀਨੇ ਦਿਨ ਅਤੇ 6 ਮਹੀਨੇ ਰਾਤ ਹੁੰਦੀ ਹੈ? 6 months day and 6 months night is there on which part of the earth ?

(ੳ) ਉੱਤਰੀ ਧਰੁਵ (ਅ) ਦੱਖਣੀ ਧਰੁਵ

(ੲ) ਉੱਤਰੀ ਅਤੇ ਦੱਖਣੀ ਧਰੁਵ (ਸ) ਭੂ-ਮੱਧ ਰੇਖਾ

Q 282. ਵਰਗ ਦੀਆਂ ਕਿੰਨੀਆਂ ਸਮਮਿਤੀ ਰੇਖਾਵਾਂ ਹੁੰਦੀਆਂ ਹਨ?

How many symmetrical lines does a square have?

(ੳ) 6 (ਅ) 2 (ੲ) 3 (ਸ) 4

Q 283. ਵਰਤਮਾਨ ਸਮੇਂ ਗੁਰਮੁੱਖੀ ਵਰਣਮਾਲਾ ਦੇ ਕੁੱਲ ਕਿੰਨੇ ਅੱਖਰ ਹਨ?

(ੳ) 35 (ਅ) 52 (ੲ) 26 (ਸ) 41

Q 284. ਸਿੱਖਾਂ ਦੇ ਬਾਲ ਗੁਰੂ ਵਜੋਂ ਕਿਹੜੇ ਗੁਰੂ ਸਾਹਿਬ ਨੂੰ ਜਾਣਿਆਂ ਜਾਂਦਾ ਹੈ?

Which of the given is known as the youngest Guru of Sikhs?

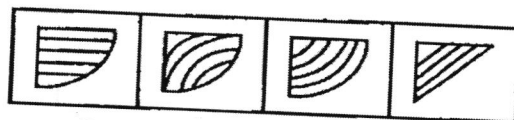
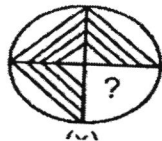
(ੳ) ਗੁਰੂ ਹਰ ਕ੍ਰਿਸ਼ਨ ਜੀ Guru Har Krishan ji

(ਅ) ਗੁਰੂ ਤੇਗ ਬਹਾਦਰ ਜੀ Guru Teg Bahadur ji

(ੲ) ਗੁਰੂ ਅਰਜਨ ਦੇਵ ਜੀ Guru Arjan Dev ji

(ਸ) ਗੁਰੂ ਗੋਬਿੰਦ ਸਿੰਘ ਜੀ Guru Gobind Singh ji

Q 285. ਚਿੱਤਰ ਪੂਰਾ ਕਰਨ ਲਈ ਚਾਰਾਂ ਵਿੱਚੋਂ ਸਹੀ ਵਿਕਲਪ ਦੀ ਚੋਣ ਕਰੋ। Pick out the correct option out of the given 4 alternatives to complete the figure.



(ੳ) (ਅ) (ੲ) (ਸ)

ਨੋਟ:- ਉੱਤਰ ਅਗਲੇ ਦਿਨ ਦੀ ਸ਼ੀਟ ਵਿੱਚ ਭੇਜੇ ਜਾਣਗੇ, ਤਦ ਤੱਕ ਦਿਮਾਗੀ ਕਸਰਤ ਕਰੋ।

ਸੀਟ ਨੰਬਰ 56 ਦੇ ਸਹੀ ਉੱਤਰ

Ans 276. (ੳ) 24 ਕੈਰੇਟ ਸੋਨਾ (24 carat gold)

Ans 277. (ਅ) ਹੈਦਰਾਬਾਦ(Hyderabad) Ans 278. (ਅ) 1853 ਈ., ਮੁੰਬਈ

Ans 279. (ਸ) 3156655

Ans 280. (ੲ) ਭੜੋਲਾ



“ Save the Nature & Save your Life ”

ਸਕੂਲ ਸਿੱਖਿਆ ਵਿਭਾਗ, ਪੰਜਾਬ



ਉੱਡਾਣ



ਛੇਵੀਂ ਤੋਂ ਅੱਠਵੀਂ ਜਮਾਤ ਦੇ ਵਿਦਿਆਰਥੀਆਂ ਲਈ
ਸ਼ੀਟ ਨੰ: 58 ਮਿਤੀ 14-08-2019

Q 286. 'ਤਿਰੰਗਾ' ਕਿਸ ਦੇਸ਼ ਦਾ ਰਾਸ਼ਟਰੀ ਝੰਡਾ ਹੈ?

The 'Tiranga' (Tricolour) is the National Flag of which country?

(ੳ) ਸ੍ਰੀ ਲੰਕਾ Sri Lanka (ਅ) ਭਾਰਤ India (ੲ) ਚੀਨ China (ਸ) ਅਮਰੀਕਾ America

Q 287. ਭਾਰਤ ਦੇ ਰਾਸ਼ਟਰੀ ਝੰਡੇ ਵਿੱਚ ਸਭ ਤੋਂ ਉੱਪਰ ਕਿਹੜਾ ਰੰਗ ਹੈ?

Which colour is on the top of our national flag of india?

(ੳ) ਚਿੱਟਾ (White) (ਅ) ਨੀਲਾ (Blue)
(ੲ) ਹਰਾ (Green) (ਸ) ਕੇਸਰੀ (Saffron)

Q 288. ਅਜ਼ਾਦੀ ਦੀ ਪਹਿਲੀ ਲੜਾਈ ਕਦੋਂ ਲੜੀ ਗਈ ?

When did the first war of independence take place?

(ੳ) 1919 (ਅ) 1914 (ੲ) 1857 (ਸ) 1939

Q 289. ਭਾਰਤ ਦੇ ਰਾਸ਼ਟਰੀ ਗੀਤ ਦਾ ਲੇਖਕ ਕੌਣ ਹਨ?

Who is the author of the National Song of India?

(ੳ) Sh. Rabindranath Tagore (ਅ) Sh. Vallabhbhai Patel
(ੲ) Sh. Bankim Chandra Chatterjee (ਸ) Sh. Subhash Chandra Bose

Q 290. ਸੁਤੰਤਰਤਾ ਦਿਵਸ ਦਾ ਕੌਮੀ ਸਮਾਰੋਹ ਕਿੱਥੇ ਆਯੋਜਿਤ ਕੀਤਾ ਜਾਂਦਾ ਹੈ?

Where the national program of Independence Day celebrated is held?

(ੳ) ਇੰਡੀਆ ਗੇਟ (India Gate) (ਅ) ਲਾਲ ਕਿਲ੍ਹਾ (Red Fort)
(ੲ) ਜੰਤਰ-ਮੰਤਰ (Jantar Mantar) (ਸ) ਰਾਸ਼ਟਰਪਤੀ ਭਵਨ (Rashtrapati Bhawan)

ਨੋਟ:- ਉੱਤਰ ਅਗਲੇ ਦਿਨ ਦੀ ਸ਼ੀਟ ਵਿੱਚ ਭੇਜੇ ਜਾਣਗੇ, ਤਦ ਤੱਕ ਦਿਮਾਗੀ ਕਸਰਤ ਕਰੋ।

ਸੀਟ ਨੰਬਰ 57 ਦੇ ਸਹੀ ਉੱਤਰ

Ans 281. (ੲ) ਉੱਤਰੀ ਅਤੇ ਦੱਖਣੀ ਧਰੁਵ North & South Pole

Ans 282. (ਸ) 4

Ans 283. (ਸ) 41

Ans 284. (ੳ) ਗੁਰੂ ਹਰ ਕ੍ਰਿਸ਼ਨ ਜੀ Guru Har Krishan ji

Ans 285. (ਸ)



ਸਕੂਲ ਸਿੱਖਿਆ ਵਿਭਾਗ, ਪੰਜਾਬ



ਉਡਾਣ

ਛੇਵੀਂ ਤੋਂ ਅੱਠਵੀਂ ਜਮਾਤ ਦੇ ਵਿਦਿਆਰਥੀਆਂ ਲਈ
ਸ਼ੀਟ ਨੰ: 59 ਮਿਤੀ 17-08-2019

Q 291. ਕਿਸ ਤਰਲ ਪਦਾਰਥ ਨੂੰ 'ਤਰਲ ਸੋਨਾ' ਕਿਹਾ ਜਾਂਦਾ ਹੈ ?

Which liquid matter is called 'liquid gold'?

(ੳ) ਸਰੋਂ ਦਾ ਤੇਲ (Mustard Oil)

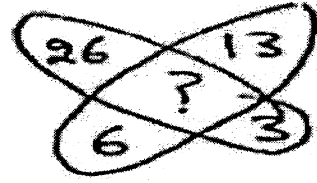
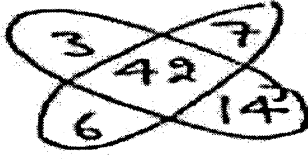
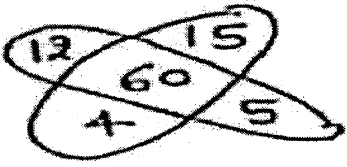
(ਅ) ਪੈਟਰੋਲੀਅਮ (Petroleum)

(ੲ) ਪਾਣੀ (Water)

(ਸ) ਮਿੱਟੀ ਦਾ ਤੇਲ (Kerosene Oil)

Q 292. ਹੇਠ ਦਿੱਤੀ ਤਸਵੀਰ ਵਿੱਚ (?) ਦੀ ਥਾਂ ਤੇ ਢੁੱਕਵੀਂ ਸੰਖਿਆਂ ਭਰੋ।

Fill up a suitable number in place of (?) in the figure given below.



(ੳ) 19

(ਅ) 29

(ੲ) 78

(ਸ) 48

Q 293. ਗੁਰੂ ਨਾਨਕ ਦੇਵ ਜੀ ਨੇ ਕਿੰਨੀਆਂ ਉਦਾਸੀਆਂ (ਧਾਰਮਿਕ ਯਾਤਰਾਵਾਂ) ਕੀਤੀਆਂ?

How many 'Udasis' (religious journeys) did Guru Nank Dev Ji carry out?

(ੳ) ਚਾਰ Four

(ਅ) ਤਿੰਨ Three

(ੲ) ਛੇ Six

(ਸ) ਅੱਠ Eight

Q 294. Translate into English:

ਪੜ੍ਹਨ ਨਾਲ ਭਾਸ਼ਾ ਦਾ ਗਿਆਨ ਵਧਦਾ ਹੈ।

Q 295. ਜੇਕਰ 30 ਮੀਟਰ ਲੰਬੀ ਰੱਸੀ ਵਿੱਚੋਂ 2-2 ਮੀਟਰ ਦੇ ਬਰਾਬਰ ਟੁੱਕੜੇ ਕੱਟੇ ਜਾਣੇ ਹਨ, ਦੱਸੋਂ ਤੁਸੀਂ ਰੱਸੀ ਨੂੰ ਕਿੰਨੀ ਵਾਰ ਕੱਟੋਗੇ?

If 2-2 metre long equal pieces are to be cut out of 30-metre long rope. How many times will you cut the rope?

(ੳ) 15 ਵਾਰ

(ਅ) 30 ਵਾਰ

(ੲ) 14 ਵਾਰ

(ਸ) 29 ਵਾਰ

ਨੋਟ:- ਉੱਤਰ ਅਗਲੇ ਦਿਨ ਦੀ ਸ਼ੀਟ ਵਿੱਚ ਭੇਜੇ ਜਾਣਗੇ, ਤਦ ਤੱਕ ਦਿਮਾਗੀ ਕਸਰਤ ਕਰੋ।

ਸ਼ੀਟ ਨੰਬਰ 58 ਦੇ ਸਹੀ ਉੱਤਰ

Ans 286. (ਅ) ਭਾਰਤ India Ans 287. (ਅ) ਕੇਸਰੀ (saffron)

Ans 288. (ੲ) 1857

Ans 289. (ੲ) Sh. Bankim Chandra Chatterjee

Ans 290. (ਅ) ਲਾਲ ਕਿਲ੍ਹਾ (Red Fort)



“ Save the Nature & Save your Life ”

ਸਕੂਲ ਸਿੱਖਿਆ ਵਿਭਾਗ, ਪੰਜਾਬ



ਉਡਾਣ

ਛੇਵੀਂ ਤੋਂ ਅੱਠਵੀਂ ਜਮਾਤ ਦੇ ਵਿਦਿਆਰਥੀਆਂ ਲਈ
ਸ਼ੀਟ ਨੰ: 60 ਮਿਤੀ 19-08-2019

Q 296. ਗੁਰੂ ਗੋਬਿੰਦ ਸਿੰਘ ਜੀ ਦੁਆਰਾ 'ਖਾਲਸਾ ਪੰਥ' ਦੀ ਸਾਜਨਾ ਕਦੋਂ ਕੀਤੀ ਗਈ?

When was 'Khalsa Panth' founded by Guru Gobind Singh Ji?

(ੳ) 1693 ਈ (ਅ) 1692 ਈ (ੲ) 1700 ਈ (ਸ) 1699 ਈ

Q 297. ਕੋਲਕਾਤਾ ਕਿਸ ਨਦੀ ਦੇ ਕਿਨਾਰੇ ਤੇ ਸਥਿਤ ਹੈ?

Kolkata is situated on the bank of which river?

(ੳ) ਬਾਣ ਗੰਗਾ (ਅ) ਮਹਾਨਦੀ (ੲ) ਗੋਮਤੀ (ਸ) ਹੁਗਲੀ

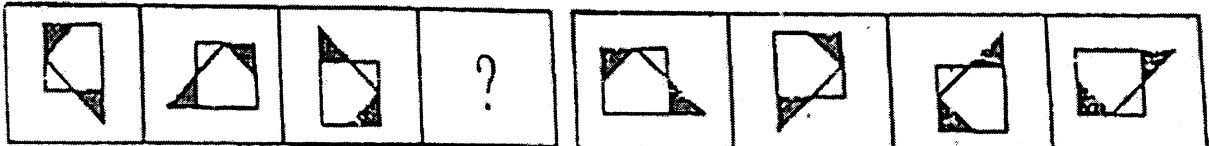
Q 298. ਰੇਸ਼ਮ ਦਾ ਕੀੜਾ ਕਿਸ ਰੁੱਖ ਦੇ ਪੱਤਿਆਂ ਤੇ ਪਲਦਾ ਹੈ? Silk worm grows on the leaves of which tree?

(ੳ) ਟਾਹਲੀ (ਅ) ਅੰਬ (ੲ) ਸ਼ਹਿਤੂਤ (ਸ) ਕਿੱਕਰ

Q 299. ਪ੍ਰਸ਼ਨ ਚਿੱਤਰ ਵਿਚਲੇ (?) ਲਈ ਉੱਤਰ ਚਿੱਤਰ ਵਿੱਚੋਂ ਸਹੀ ਉੱਤਰ ਲੱਭੋ।

Find the correct answer for (?) in the question figure from the answer figure.

ਪ੍ਰਸ਼ਨ ਚਿੱਤਰ Question figure ਉੱਤਰ ਚਿੱਤਰ Answer figure



(ੳ) (ਅ) (ੲ) (ਸ)

Q 300. ਹੇਠ ਦਿੱਤੀ ਅੰਕ ਲੜੀ ਨੂੰ ਪੂਰਾ ਕਰਨ ਲਈ ਢੁੱਕਵਾਂ ਸਥਾਨ ਭਰੋ:- Fill suitable place to complete the sequence of numbers given below.

3,5,8,13,20,31,.....,.....

(ੳ) 44,57 (ਅ) 44,61 (ੲ) 43,58 (ਸ) 40,53

ਨੋਟ:- ਉੱਤਰ ਅਗਲੇ ਦਿਨ ਦੀ ਸ਼ੀਟ ਵਿੱਚ ਭੇਜੇ ਜਾਣਗੇ, ਤਦ ਤੱਕ ਦਿਮਾਗੀ ਕਸਰਤ ਕਰੋ।

ਸ਼ੀਟ ਨੰਬਰ 59 ਦੇ ਸਹੀ ਉੱਤਰ

Ans 291. (ਅ) ਪੈਟਰੋਲੀਅਮ Petroleum

Ans 292. (ੲ) 78

Ans 293. (ੳ) ਚਾਰ Four

Ans 294. Reading improves the knowledge of language.

Ans 295. (ੲ) 14 ਵਾਰ



“ Save the Nature & Save your Life ”

ਸਕੂਲ ਸਿੱਖਿਆ ਵਿਭਾਗ, ਪੰਜਾਬ



ਉਡਾਣ

ਛੇਵੀਂ ਤੋਂ ਅੱਠਵੀਂ ਜਮਾਤ ਦੇ ਵਿਦਿਆਰਥੀਆਂ ਲਈ
ਸ਼ੀਟ ਨੰ: 61

ਮਿਤੀ 20-08-2019

Q 301. ਸਮਾਂ 8 a.m. ਵਿੱਚ a.m. ਤੋਂ ਕੀ ਭਾਵ ਹੈ? What is meant by a.m. in time 8 a.m.?

(ੳ) After Meridiem (ਅ) Anti Meridiem

(ੲ) Amplitude Modulation (ਸ) After Mid

Q 302. ਉਹ ਸਥਾਨ ਜਿੱਥੇ ਬੈਠ ਕੇ ਕੁੜੀਆਂ ਚਰਖਾ ਕੱਤਦੀਆਂ ਅਤੇ ਕਢਾਈ ਕਰਦੀਆਂ ਹਨ।

(ੳ) ਸੱਥ (ਅ) ਤ੍ਰਿੰਵਣ (ੲ) ਬਰਾਤ (ਸ) ਤੀਆਂ

Q 303. ਹੇਠ ਦਿੱਤੇ ਸ਼ਬਦਾਂ ਵਿੱਚੋਂ ਢੁਕਵਾਂ ਖਾਲੀ ਸਥਾਨ ਭਰੋ। Identify the relation between words and fill in the blank with most appropriate word.

BIG:LARGE:: LITTLE:

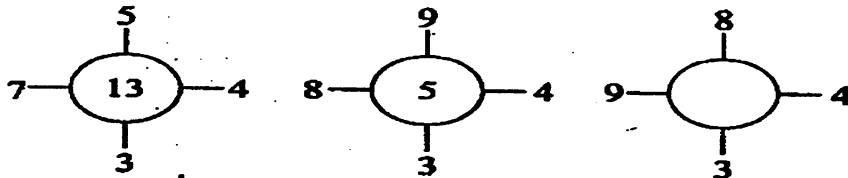
(ੳ) TALL (ਅ) QUICK (ੲ) SMALL (ਸ) NONE OF THESE

Q 304. ਪੰਜਾਬ ਦੇ ਕਿਸ ਪਿੰਡ ਨੂੰ 'ਹਾਕੀ ਦੀ ਨਰਸਰੀ' ਵਜੋਂ ਜਾਣਿਆ ਜਾਂਦਾ ਹੈ?

Which village of Punjab is known as the 'Hockey Nursery'?

(ੳ) ਕਰਤਾਰਪੁਰ (ਅ) ਸੰਘੋਲ (ੲ) ਸੰਸਾਰਪੁਰ (ਸ) ਸੀਚੇਵਾਲ

Q 305. ਖਾਲੀ ਸਥਾਨ ਵਿੱਚ ਢੁੱਕਵੀਂ ਸੰਖਿਆ ਭਰੋ? Fill in the missing digit?



(ੳ) 12

(ਅ) 15

(ੲ) 18

(ਸ) 14

ਨੋਟ:- ਉੱਤਰ ਅਗਲੇ ਦਿਨ ਦੀ ਸ਼ੀਟ ਵਿੱਚ ਭੇਜੇ ਜਾਣਗੇ, ਤਦ ਤੱਕ ਦਿਮਾਗੀ ਕਸਰਤ ਕਰੋ।

ਸ਼ੀਟ ਨੰਬਰ 60 ਦੇ ਸਹੀ ਉੱਤਰ

Ans 296. (ਸ) 1699 ਈ

Ans 297. (ਸ) ਹੁਗਲੀ

Ans 298. (ੲ) ਸ਼ਹਿਤੂਤ

Ans 299. (ਸ)

Ans 300. (ਅ) 44,61

"ਕੋਸ਼ਿਸ ਕਰਨ ਵਾਲਿਆਂ ਦੀ ਹਮੇਸ਼ਾ ਜਿੱਤ ਹੁੰਦੀ ਹੈ।"
ਸਕੂਲ ਸਿੱਖਿਆ ਵਿਭਾਗ, ਪੰਜਾਬ



ਉਡਾਣ

ਛੇਵੀਂ ਤੋਂ ਅੱਠਵੀਂ ਜਮਾਤ ਦੇ ਵਿਦਿਆਰਥੀਆਂ ਲਈ
ਸ਼ੀਟ ਨੰ: 62 ਮਿਤੀ 21-08-2019

Q 306. 'ਕੈਂਠਾ' ਸਰੀਰ ਦੇ ਕਿਸ ਅੰਗ ਤੇ ਮਰਦਾਂ ਦੁਆਰਾ ਪਹਿਨਿਆ ਜਾਣ ਵਾਲਾ ਗਹਿਣਾ ਹੈ? On which part of the body is the ornament "Kaintha" worn by the males?

(ੳ) ਗਲ ਵਿੱਚ (ਅ) ਉਗਲਾਂ ਵਿੱਚ (ੲ) ਬਾਹਾਂ ਵਿੱਚ (ਸ) ਪੱਗੜੀ/ਟੋਪੀ ਉੱਪਰ

Q 307. ਭਾਰਤ ਸਰਕਾਰ ਵੱਲੋਂ ਔਰਤਾਂ ਦੀ ਸੁਰੱਖਿਆ ਲਈ ਕਿਹੜਾ ਹੈਲਪਲਾਈਨ ਨੰਬਰ ਦਿੱਤਾ ਗਿਆ ਹੈ? Which helpline number has been given by Govt. of India for security of women?

(ੳ) 1098 (ਅ) 100 (ੲ) 181 (ਸ) 108

Q 308. ਭਾਰਤ ਦੇ ਕਿਹੜੇ ਰਾਜ ਦਾ ਪਟਸਨ ਦਾ ਉਤਪਾਦਨ ਸਭ ਤੋਂ ਵੱਧ ਹੈ?

Which state of India has maximum production of jute?

(ੳ) ਅਸਾਮ (ਅ) ਪੱਛਮੀ ਬੰਗਾਲ (ੲ) ਉੜੀਸਾ (ਸ) ਮੱਧ ਪ੍ਰਦੇਸ਼

Q 309. ਭਾਰਤ ਵਿੱਚ ਕਿੰਨੀ ਉਮਰ ਦੇ ਨਾਗਰਿਕ ਨੂੰ ਵੋਟ ਪਾਉਣ ਦਾ ਅਧਿਕਾਰ ਪ੍ਰਾਪਤ ਹੈ? At which age a citizen get the right to cast his vote in India?

(ੳ) 17 ਸਾਲ (ਅ) 18 ਸਾਲ (ੲ) 21 ਸਾਲ (ਸ) 60 ਸਾਲ

Q 310. ਹੇਠ ਲਿਖਿਆਂ ਨੂੰ ਠੀਕ ਤਰਤੀਬ ਦੇ ਕੇ ਚੜ੍ਹਦੇ ਕ੍ਰਮ ਵਿੱਚ ਲਿਖਦੇ ਹੋਏ ਚਾਰ ਸੰਭਾਵੀਂ ਉੱਤਰਾਂ ਵਿੱਚੋਂ ਠੀਕ ਤਰਤੀਬ ਵਾਲਾ ਸਮੂਹ ਚੁਣੋ? Find the the correct sequence out of the four possible answers by arranging the following in the ascending order.

(a) ਜਿਲ੍ਹਾ (b) ਦੇਸ਼ (c) ਪਿੰਡ (d) ਰਾਜ

(ੳ) a,b,c,d (ਅ) c,a,d,b, (ੲ) d,c,b,a (ਸ) b,d,c,a

ਨੋਟ:- ਉੱਤਰ ਅਗਲੇ ਦਿਨ ਦੀ ਸ਼ੀਟ ਵਿੱਚ ਭੇਜੇ ਜਾਣਗੇ, ਤਦ ਤੱਕ ਦਿਮਾਗੀ ਕਸਰਤ ਕਰੋ।

ਸ਼ੀਟ ਨੰਬਰ 61 ਦੇ ਸਹੀ ਉੱਤਰ

Ans 301. (ਅ) Anti Meridiem

Ans 302. (ਅ) ਤ੍ਰਿੰਵਣ

Ans 303. (ੲ) SMALL

Ans 304. (ੲ) ਸੰਸਾਰਪੁਰ (ਸ)

Ans 305. (ੳ) 12

"ਕੋਸ਼ਿਸ ਕਰਨ ਵਾਲਿਆਂ ਦੀ ਹਮੇਸ਼ਾ ਜਿੱਤ ਹੁੰਦੀ ਹੈ।"

ਸਕੂਲ ਸਿੱਖਿਆ ਵਿਭਾਗ, ਪੰਜਾਬ



ਉਡਾਣ



ਛੇਵੀਂ ਤੋਂ ਅੱਠਵੀਂ ਜਮਾਤ ਦੇ ਵਿਦਿਆਰਥੀਆਂ ਲਈ
ਸ਼ੀਟ ਨੰ: 63 , ਮਿਤੀ 22-08-2019

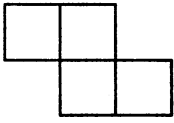
Q 311. ਮਨੁੱਖੀ ਸਰੀਰ ਦੀ ਕੂਹਣੀ ਵਿੱਚ ਕਿਹੜਾ ਜੋੜ ਹੁੰਦਾ ਹੈ?

(ੳ) ਹਿੰਜ ਜੋੜ (ਅ) ਸਥਿਰ ਜੋੜ (ੲ) ਗੋਂਦ ਗੁੱਤੀ ਜੋੜ (ਸ) ਕੇਂਦਰੀ ਜੋੜ

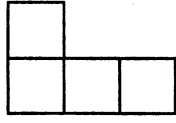
Q 312. The young ones of 'Sheep' is called.

(ੳ) Kid (ਅ) Kitten (ੲ) Lamb (ਸ) Calf

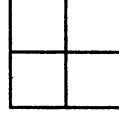
Q 313. ਹੇਠ ਦਿੱਤੀਆਂ ਤਸਵੀਰਾਂ ਚਾਰ ਵਰਗਾਂ ਨੂੰ ਜੋੜ ਕੇ ਬਣਾਈਆਂ ਗਈਆਂ ਹਨ।
ਇਹਨਾਂ ਵਿੱਚੋਂ ਕਿਸ ਦਾ ਪਰਿਮਾਪ ਸਭ ਤੋਂ ਘੱਟ ਹੈ?



(ੳ)



(ਅ)



(ੲ)



(ਸ)

Q 314. ਸੰਸਾਰ ਦੀ ਸਭ ਤੋਂ ਵੱਧ ਚਾਹ ਕਿੱਥੇ ਪੈਦਾ ਹੁੰਦੀ ਹੈ?

(ੳ) ਸ੍ਰੀ ਲੰਕਾ (ਅ) ਚੀਨ (ੲ) ਜਪਾਨ (ਸ) ਭਾਰਤ

Q 313. ਸੜਕ ਉੱਪਰੋਂ ਪੈਦਲ ਚਾਲਕਾਂ ਦੇ ਲੰਘਣ ਲਈ ਹੇਠ ਲਿਖਿਆ ਵਿੱਚੋਂ ਕਿਹੜਾ ਚਿੰਨ੍ਹ ਹੈ?



(ੳ)



(ਅ)



(ੲ)



(ਸ)

ਨੋਟ:- ਉੱਤਰ ਅਗਲੇ ਦਿਨ ਦੀ ਸ਼ੀਟ ਵਿੱਚ ਭੇਜੇ ਜਾਣਗੇ, ਤਦ ਤੱਕ ਦਿਮਾਗੀ ਕਸਰਤ ਕਰੋ।

ਸ਼ੀਟ ਨੰਬਰ 62 ਦੇ ਸਹੀ ਉੱਤਰ

Ans 306. (ੳ) ਗਲ ਵਿੱਚ

Ans 307. (ੲ) 100

Ans 308. (ਅ) ਪੱਛਮੀ ਬੰਗਾਲ

Ans 309. (ਅ) 18 ਸਾਲ

Ans 310. (ਅ) c,a,d,b,

"ਕੋਸ਼ਿਸ ਕਰਨ ਵਾਲਿਆਂ ਦੀ ਹਮੇਸ਼ਾ ਜਿੱਤ ਹੁੰਦੀ ਹੈ।"

ਸਕੂਲ ਸਿੱਖਿਆ ਵਿਭਾਗ, ਪੰਜਾਬ



ਉਡਾਣ



ਛੇਵੀਂ ਤੋਂ ਅੱਠਵੀਂ ਜਮਾਤ ਦੇ ਵਿਦਿਆਰਥੀਆਂ ਲਈ
ਸ਼ੀਟ ਨੰ: 64 ਮਿਤੀ 23-08-2019

Q 316. ਪੰਜਾਬੀ ਯੂਨੀਵਰਸਿਟੀ ਕਿੱਥੇ ਸਥਿਤ ਹੈ? Where is Punjabi University situated?



(ੳ) ਪਟਿਆਲਾ (ਅ) ਚੰਡੀਗੜ (ੲ) ਲੁਧਿਆਣਾ (ਸ) ਜਲੰਧਰ

Q 317. ਕਾਪਰ ਸਲਫੇਟ ਦਾ ਸਧਾਰਨ ਨਾਮ ਕੀ ਹੈ ?

What is the common name of CuSO_4

(ੳ) ਫਟਕੜੀ (ਅ) ਨੀਲਾ ਥੋਥਾ (ੲ) ਸੁਹਾਗਾ (ਸ) ਮਿੱਠਾ ਸੋਡਾ

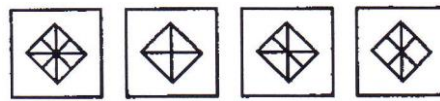
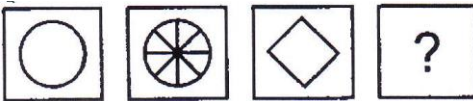
Q 318. ਜਿਨ੍ਹਾਂ ਸ਼ਬਦਾਂ ਦੁਆਰਾ ਖੁਸ਼ੀ, ਗਮੀ, ਹੈਰਾਨੀ, ਡਰ, ਪ੍ਰਸ਼ੰਸਾ ਆਦਿ ਦੇ ਭਾਵ ਪ੍ਰਗਟ ਹੋਣ , ਵਿਆਕਰਨ ਵਿੱਚ ਉਹਨਾਂ ਨੂੰ ਕੀ ਕਿਹਾ ਜਾਂਦਾ ਹੈ?

(ੳ) ਵਿਸ਼ੇਸ਼ਣ (ਅ) ਵਿਸਮਕ (ੲ) ਕਿਰਿਆ (ਸ) ਯੋਜਕ

Q 319. ਤਰਤੀਬ ਸਹੀ ਕਰਨ ਲਈ ਉੱਤਰ ਚਿੱਤਰ ਵਿੱਚੋਂ ਸਹੀ ਉੱਤਰ ਲੱਭੋ? Find the suitable picture from answer pictures to complete the following sequence.

ਪ੍ਰਸ਼ਨ ਚਿੱਤਰ

(ਉੱਤਰ ਚਿੱਤਰ)



(ੳ) (ਅ) (ੲ) (ਸ)

Q 320. To open a new document press _____ keys on the keyboard.

(ੳ) Ctrl+O (ਅ) Ctrl+S (ੲ) Ctrl+N (ਸ) Ctrl+M

ਨੋਟ:- ਉੱਤਰ ਅਗਲੇ ਦਿਨ ਦੀ ਸ਼ੀਟ ਵਿੱਚ ਭੇਜੇ ਜਾਣਗੇ, ਤਦ ਤੱਕ ਦਿਮਾਗੀ ਕਸਰਤ ਕਰੋ।

ਸ਼ੀਟ ਨੰਬਰ 63 ਦੇ ਸਹੀ ਉੱਤਰ

Ans 311. (ੳ) ਹਿੰਜ ਜੋੜ

Ans 312. (ੲ) Lamb

Ans 313. (ੲ)

Ans 314. (ਅ) ਚੀਨ

Ans 315. (ੳ)



" A Library without Books is a like Tree without Birds"
ਸਕੂਲ ਸਿੱਖਿਆ ਵਿਭਾਗ, ਪੰਜਾਬ





ਉਡਾਣ



ਛੇਵੀਂ ਤੋਂ ਅੱਠਵੀਂ ਜਮਾਤ ਦੇ ਵਿਦਿਆਰਥੀਆਂ ਲਈ
ਸ਼ੀਟ ਨੰ: 65 ਮਿਤੀ 26-08-2019

Q 321. ਬੁੱਧ ਗ੍ਰਹਿ ਸੂਰਜ ਦੁਆਲੇ ਆਪਣੀ ਪਰਿਕਰਮਾ ਕਿੰਨੇ ਦਿਨ ਵਿੱਚ ਪੂਰੀ ਕਰਦਾ ਹੈ ?

In how many days Mercury completes one orbit around Sun?

(ੳ) 366 ਦਿਨ (ਅ) 28 ਦਿਨ (ੲ) 88 ਦਿਨ (ਸ) 24 ਦਿਨ

Q 322. He has a knife.

What part of a speech is the above underline word ?

(ੳ) noun (ਅ) pronoun (ੲ) adjective (ਸ) adverb

Q 323. ਦੁੱਧ ਦੇ ਲੈਕਟੋਬੇਸੀਲਸ ਬੈਕਟਰੀਅਲ ਖਮੀਰੀਕਰਨ ਦੁਆਰਾ ਕੀ ਪੈਦਾ ਹੁੰਦਾ ਹੈ?

What is produced by the lactobacillus bacterial fermentation of milk?

(ੳ) ਪਨੀਰ (ਅ) ਦਹੀਂ (ੲ) ਮੱਖਣ (ਸ) ਆਇਸ ਕਰੀਮ

Q 324. ਪੁਲਾੜ ਵਿੱਚ ਜਾਣ ਵਾਲੀ ਪਹਿਲੀ ਭਾਰਤੀ ਮਹਿਲਾ ਪੁਲਾੜ ਯਾਤਰੀ ਮਹਿਲਾ ਕੌਣ ਸਨ?

Who was the first Indian Woman Astronaut to travel in Space?

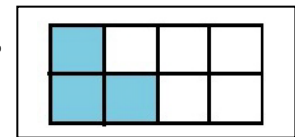
(ੳ) ਸ਼ਾਵਨਾ ਪਾਂਡਿਆ (ਅ) ਵਰਤਿਕਾ ਜੋਸ਼ੀ

(ੲ) ਸੁਨੀਤਾ ਵਿਲੀਅਮਜ਼ (ਸ) ਕਲਪਨਾ ਚਾਵਲਾ

Q 325. ਚਿੱਤਰ ਨੂੰ ਸਮਝ ਕੇ ਰੰਗਦਾਰ ਭਾਗ ਦੀ ਭਿੰਨ ਲਿਖੋ? Write the correct

fraction of colored portion of the following picture.

(ੳ) $8/3$ (ਅ) $3/8$ (ੲ) $3/11$ (ਸ) $3/5$



ਨੋਟ:- ਉੱਤਰ ਅਗਲੇ ਦਿਨ ਦੀ ਸ਼ੀਟ ਵਿੱਚ ਭੇਜੇ ਜਾਣਗੇ, ਤਦ ਤੱਕ ਦਿਮਾਗੀ ਕਸਰਤ ਕਰੋ।

ਸ਼ੀਟ ਨੰਬਰ 64 ਦੇ ਸਹੀ ਉੱਤਰ

Ans 316. (ੳ) ਪਟਿਆਲਾ

Ans 317. (ਅ) ਨੀਲਾ ਬੋਥਾ

Ans 318. (ਅ) ਵਿਸਮਕ

Ans 319. (ੳ)

Ans 320. (ੲ) Ctrl+N



" A Library without Books is a like Tree without Birds"

ਸਕੂਲ ਸਿੱਖਿਆ ਵਿਭਾਗ, ਪੰਜਾਬ





ਉਡਾਣ



ਛੇਵੀਂ ਤੋਂ ਅੱਠਵੀਂ ਜਮਾਤ ਦੇ ਵਿਦਿਆਰਥੀਆਂ ਲਈ

ਸ਼ੀਟ ਨੰ: 66

ਮਿਤੀ 27-08-2019

Q 326. ਤੂੜੀ ਇਕੱਠੀ ਕਰਨ ਲਈ ਵਰਤੇ ਜਾਣ ਵਾਲੇ ਲੋਹੇ ਜਾਂ ਲੱਕੜ ਦੇ ਸੰਦ ਨੂੰ ਕੀ ਕਿਹਾ ਜਾਂਦਾ ਹੈ ?

(ੳ) ਕਹੀ (ਅ) ਟੋਕਰਾ (ੲ) ਤਾਸਲਾ (ਸ) ਤੰਗਲੀ

Q 327. ਵਿਗਿਆਨ ਪ੍ਰਦਰਸ਼ਨੀ ਵਿੱਚ 42 ਅਧਿਆਪਕਾਂ ਦੀ ਕਤਾਰ ਵਿੱਚ ਸੰਤੋਖ ਸਿੰਘ ਸੱਜੇ ਪਾਸੇ ਤੋਂ 15 ਵੇਂ ਨੰਬਰ ਤੇ ਹੈ। ਖੱਬੇ ਪਾਸੇ ਤੋਂ ਉਹ ਕਿੰਨਵੇਂ ਸਥਾਨ ਤੇ ਹੈ। In a science exhibition if Santokh singh is on 15th place from right side out of total 42 teachers standing in a row, then what will be his place from left side.

(ੳ) 28 (ਅ) 43 (ੲ) 29 (ਸ) 42

Q 328. The antonym (opposite) of comfort is.....

(ੳ) Uncomfort (ਅ) incomfort (ੲ) discomfort (ਸ) imcomfort

Q 329. ਭਾਰਤੀ ਸੰਵਿਧਾਨ ਅਨੁਸਾਰ ਮੌਲਿਕ ਅਧਿਕਾਰ ਕਿੰਨਾ ਨਾਗਰਿਕਾਂ ਨੂੰ ਪ੍ਰਾਪਤ ਹਨ? Who has been conferred the fundamental rights as per Indian Constitution?

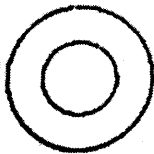
(ੳ) ਸਿਰਫ ਸਰਕਾਰੀ ਕਰਮਚਾਰੀਆਂ ਨੂੰ (To only Govt. employees)

(ਅ) ਸਿਰਫ ਬਾਲਗ ਨਾਗਰਿਕਾਂ ਨੂੰ (To only adults)

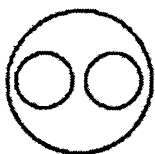
(ੲ) ਸਿਰਫ ਨੇਤਾਵਾਂ ਨੂੰ (To only leaders)

(ਸ) ਸਾਰੇ ਭਾਰਤੀ ਨਾਗਰਿਕਾਂ ਨੂੰ (To all Indian citizens)

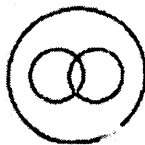
Q 330. ਹੇਠ ਲਿਖਿਆ ਵਿੱਚੋਂ ਕਿਹੜਾ ਚਿੱਤਰ ਵਿਗਿਆਨ, ਭੌਤਿਕ ਵਿਗਿਆਨ ਅਤੇ ਜੀਵ ਵਿਗਿਆਨ ਵਿਚਕਾਰ ਠੀਕ ਸਬੰਧ ਦਰਸਾਉਂਦਾ ਹੈ? Which one of the following figures represents the correct relationship among science, physics and biology.



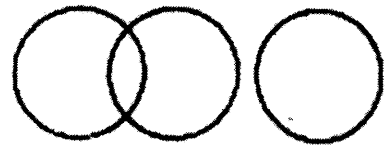
(ੳ)



(ਅ)



(ੲ)



(ਸ)

ਨੋਟ:- ਉੱਤਰ ਅਗਲੇ ਦਿਨ ਦੀ ਸ਼ੀਟ ਵਿੱਚ ਭੇਜੇ ਜਾਣਗੇ, ਤਦ ਤੱਕ ਦਿਮਾਗੀ ਕਸਰਤ ਕਰੋ।

ਸ਼ੀਟ ਨੰਬਰ 65 ਦੇ ਸਹੀ ਉੱਤਰ

Ans 321. (ੲ) 88 ਦਿਨ

Ans 322. (ੳ) noun

Ans 323. (ਅ) ਦਹੀਂ

Ans 324. (ਸ) ਕਲਪਨਾ ਚਾਵਲਾ

Ans 325. (ਅ) 3/8

“ਸੰਭਵ ਅਤੇ ਅਸੰਭਵ ਵਿਚਕਾਰ ਅੰਤਰ ਕਾਰਜ ਦਾ ਹੀ ਹੁੰਦਾ ਹੈ।”

ਸਕੂਲ ਸਿੱਖਿਆ ਵਿਭਾਗ, ਪੰਜਾਬ



ਉਡਾਣ

ਛੇਵੀਂ ਤੋਂ ਅੱਠਵੀਂ ਜਮਾਤ ਦੇ ਵਿਦਿਆਰਥੀਆਂ ਲਈ
ਸ਼ੀਟ ਨੰ: 67

ਮਿਤੀ 28-08-2019

Q 331. ‘ਅੰਗੂਰਾ’ ਉੱਨ ਕਿਸ ਜਾਨਵਰ ਤੋਂ ਪ੍ਰਾਪਤ ਹੁੰਦੀ ਹੈ? ‘Angora’ wool is obtained from which animal ?

(ੳ) ਬਿੱਲੀ (ਅ) ਭੇਡ (ੲ) ਖਰਗੋਸ (ਸ) ਬੱਕਰੀ

Q 332. ਕਰੰਟ ਮਾਪਣ ਵਾਲੇ ਯੰਤਰ ਨੂੰ ਕੀ ਕਿਹਾ ਜਾਂਦਾ ਹੈ? Equipment used for measuring current is called?

(ੳ) ਵੋਲਟਮੀਟਰ (ਅ) ਐਮਪੀਟਰ (ੲ) ਗਲਵੈਨੋਮੀਟਰ (ਸ) ਸਪੀਡੋਮੀਟਰ

Q 333. ਭਾਖੜਾ ਡੈਮ ਕਿਸ ਦਰਿਆ ਤੇ ਬਣਾਇਆ ਗਿਆ ਹੈ? Bhakra Dam is built on which river?

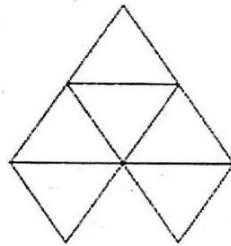
(ੳ) ਬਿਆਸ (ਅ) ਰਾਵੀ (ੲ) ਸਤਲੁਜ (ਸ) ਚਨਾਬ

Q 334. Fill in the blank with a suitable feminine noun.

The tiger and the.....look after their cubs.

(ੳ) lioness (ਅ) empress (ੲ) tigress (ਸ) princess

Q 335. ਦਿੱਤੇ ਗਏ ਚਿੱਤਰ ਵਿੱਚ ਕਿੰਨੀਆਂ ਤ੍ਰਿਭੁਜਾਂ ਹਨ? How many triangles are in the given figure?



(ੳ) 7 (ਅ) 5 (ੲ) 6 (ਸ) 8

ਨੋਟ:- ਉੱਤਰ ਅਗਲੇ ਦਿਨ ਦੀ ਸ਼ੀਟ ਵਿੱਚ ਭੇਜੇ ਜਾਣਗੇ, ਤਦ ਤੱਕ ਦਿਮਾਗੀ ਕਸਰਤ ਕਰੋ।

ਸ਼ੀਟ ਨੰਬਰ 66 ਦੇ ਸਹੀ ਉੱਤਰ

Ans 326. (ਸ) ਤੰਗਲੀ

Ans 327. (ੳ) 28

Ans 328. (ੲ) discomfort

Ans 329. (ਸ) ਸਾਰੇ ਭਾਰਤੀ ਨਾਗਰਿਕਾਂ ਨੂੰ (To all Indian citizens) Ans 330. (ਅ)

“ਸੰਭਵ ਅਤੇ ਅਸੰਭਵ ਵਿਚਕਾਰ ਅੰਤਰ ਕਾਰਜ ਦਾ ਹੀ ਹੁੰਦਾ ਹੈ।”
ਸਕੂਲ ਸਿੱਖਿਆ ਵਿਭਾਗ, ਪੰਜਾਬ



ਉਡਾਣ

ਛੇਵੀਂ ਤੋਂ ਅੱਠਵੀਂ ਜਮਾਤ ਦੇ ਵਿਦਿਆਰਥੀਆਂ ਲਈ

ਸ਼ੀਟ ਨੰ: 68

ਮਿਤੀ 29-08-2019

Q 336. ਸ੍ਰੀ ਹਰਿਮੰਦਰ ਸਾਹਿਬ ਦੀ ਨੀਂਹ ਕਿਸ ਨੇ ਰੱਖੀ ਸੀ?

Who laid the foundation of Sri Harmandir Sahib?

- (ੳ) ਗੁਰੂ ਅਰਜਨ ਦੇਵ ਜੀ (ਅ) ਬਾਬਾ ਬੁੱਢਾ ਜੀ
(ੲ) ਬਾਬਾ ਗੁਰਦਿੱਤਾ ਜੀ (ਸ) ਸਾਂਈ ਮੀਆਂ ਮੀਰ ਜੀ

Q 337. ਚੱਕਰ ਦਾ ਘੇਰਾ ਪਤਾ ਕਰਨ ਦਾ ਸੂਤਰ ਕੀ ਹੈ?

what is the formula for circumference of circle ?

- (ੳ) $2\pi r$ (ਅ) $2\pi r^2$ (ੲ) πr^2 (ਸ) $2\pi rh$

Q 338. Pick out adverb from the following sentence.

I never cheat anyone.

- (ੳ) I (ਅ) never (ੲ) Cheat (ਸ) anyone

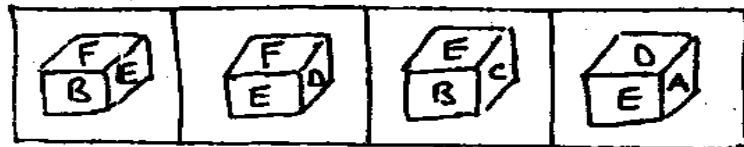
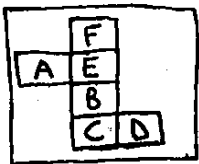
Q 339. ਸ਼ਾਂਤੀ ਨਿਕੇਤਨ ਦੀ ਸਥਾਪਨਾ ਕਿਸ ਨੇ ਕੀਤੀ? Who established shantiniketan ?

- (ੳ) ਰਬਿੰਦਰ ਨਾਥ ਟੈਗੋਰ Rabindranath Tagore
(ਅ) ਮਹਾਂਤਮਾ ਗਾਂਧੀ Mahatma Gandhi
(ੲ) ਜਵਾਹਰ ਲਾਲ ਨਹਿਰੂ Jawaharlal Nehru
(ਸ) ਡਾ. ਰਾਜਿੰਦਰ ਪ੍ਰਸਾਦ Dr. Rajendra Prasad

Q 340. ਹੇਠਾਂ ਦਿੱਤੇ ਗਏ ਚਿੱਤਰ ਨੂੰ ਤਹਿ ਕਰਨ ਤੋਂ ਬਾਅਦ ਕਿਹੜਾ ਘਣ ਬਣੇਗਾ? Which of the following cubes can be created by folding the given figure?

ਪ੍ਰਸ਼ਨ ਚਿੱਤਰ

ਉੱਤਰ ਚਿੱਤਰ



- (ੳ) (ਅ) (ੲ) (ਸ)

ਨੋਟ:- ਉੱਤਰ ਅਗਲੇ ਦਿਨ ਦੀ ਸ਼ੀਟ ਵਿੱਚ ਭੇਜੇ ਜਾਣਗੇ, ਤਦ ਤੱਕ ਦਿਮਾਗੀ ਕਸਰਤ ਕਰੋ।

ਸ਼ੀਟ ਨੰਬਰ 67 ਦੇ ਸਹੀ ਉੱਤਰ

Ans 331. (ੲ) ਖਰਗੋਸ

Ans 332. (ਅ) ਐਮਮੀਟਰ

Ans 333. (ੲ) ਸਤਲੁਜ

Ans 334. (ੲ) tigress

Ans 335. (ੳ) 7

“ਮਿਹਨਤ ਉਹ ਚਾਬੀ ਹੈ ਜੋ ਸਫਲਤਾ ਦਾ ਦਰਵਾਜ਼ਾ ਖੋਲ੍ਹ ਦਿੰਦੀ ਹੈ।”
ਸਕੂਲ ਸਿੱਖਿਆ ਵਿਭਾਗ, ਪੰਜਾਬ



ਉਡਾਣ



ਛੇਵੀਂ ਤੋਂ ਅੱਠਵੀਂ ਜਮਾਤ ਦੇ ਵਿਦਿਆਰਥੀਆਂ ਲਈ
ਸ਼ੀਟ ਨੰ: 69 ਮਿਤੀ 30-08-2019

Q 341. How many vowels are there in English Alphabet?

(ੳ) 21 (ਅ) 3 (ੲ) 5 (ਸ) 26

Q 342. ਧਰਤੀ ਆਪਣੀ ਧੁਰੀ ਦੁਆਲੇ ਕਿਸ ਦਿਸ਼ਾ ਵਿੱਚ ਘੁੰਮਦੀ ਹੈ। In which direction earth rotates around its axis?

(ੳ) ਉੱਤਰ ਤੋਂ ਦੱਖਣ (North to south)
(ਅ) ਦੱਖਣ ਤੋਂ ਉੱਤਰ (South to north)
(ੲ) ਪੂਰਬ ਤੋਂ ਪੱਛਮ (East to west)
(ਸ) ਪੱਛਮ ਤੋਂ ਪੂਰਬ (West to east)

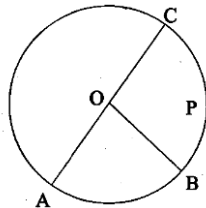
Q 343. ਵਿਆਕਰਨ ਅਨੁਸਾਰ ਕਾਲ ਤੋਂ ਭਾਵ ਹੈ -ਸਮਾਂ, ਕਾਲ ਕਿੰਨੀ ਪ੍ਰਕਾਰ ਦਾ ਹੁੰਦਾ ਹੈ?

(ੳ) ਚਾਰ (ਅ) ਇੱਕ (ੲ) ਦੋ (ਸ) ਤਿੰਨ

Q 344. 'ਮੂੰਗਫਲੀ' ਪੌਦੇ ਦਾ ਕਿਹੜਾ ਭਾਗ ਹੈ? Which part of plant is a peanut ?

(ੳ) ਜੜ੍ਹ Root (ਅ) ਤਣਾ Stem
(ੲ) ਪੱਤੇ Leaves (ਸ) ਫੁੱਲ Flowers

Q 345. ਚਿੱਤਰ ਵਿੱਚ ਵਿਆਸ ਕਿਹੜਾ ਹੈ? In the given figure which of the following represents Diameter



(ੳ) AB (ਅ) OB (ੲ) AC (ਸ) OC

ਨੋਟ:- ਉੱਤਰ ਅਗਲੇ ਦਿਨ ਦੀ ਸ਼ੀਟ ਵਿੱਚ ਭੇਜੇ ਜਾਣਗੇ, ਤਦ ਤੱਕ ਦਿਮਾਗੀ ਕਸਰਤ ਕਰੋ।
ਸ਼ੀਟ ਨੰਬਰ 68 ਦੇ ਸਹੀ ਉੱਤਰ

Ans 336. (ਸ) ਸਾਂਝੀ ਮੀਆਂ ਮੀਰ ਜੀ Ans 337. (ੳ) $2\pi r$

Ans 338. (ਅ) never Ans 339. (ੳ) ਰਬਿੰਦਰ ਨਾਥ ਟੈਗੋਰ Rabindranath Tagore

Ans 340 (ਅ)

“ਮਿਹਨਤ ਉਹ ਚਾਬੀ ਹੈ ਜੋ ਸਫਲਤਾ ਦਾ ਦਰਵਾਜ਼ਾ ਖੋਲ੍ਹ ਦਿੰਦੀ ਹੈ।”
ਸਕੂਲ ਸਿੱਖਿਆ ਵਿਭਾਗ, ਪੰਜਾਬ



ਉਡਾਣ

ਛੇਵੀਂ ਤੋਂ ਅੱਠਵੀਂ ਜਮਾਤ ਦੇ ਵਿਦਿਆਰਥੀਆਂ ਲਈ
ਸ਼ੀਟ ਨੰ: 69 ਦੇ ਉੱਤਰ ਮਿਤੀ 02-09-2019

ਸਤਿਕਾਰਯੋਗ ਸਕੂਲ ਮੁੱਖੀ ਸਾਹਿਬਾਨ ਜੀਓ,

ਸਕੂਲ ਸਿੱਖਿਆ ਵਿਭਾਗ ਵੱਲੋਂ 9 ਸਤੰਬਰ ਤੋਂ ਪ੍ਰੀਖਿਆਵਾਂ ਕਰਵਾਈਆਂ ਜਾ ਰਹੀਆਂ ਹਨ। ਵਿਦਿਆਰਥੀਆਂ ਵੱਲੋਂ ਪ੍ਰੀਖਿਆਵਾਂ ਦੀ ਤਿਆਰੀ ਦੇ ਮੱਦੇਨਜ਼ਰ ਉਡਾਣ ਪ੍ਰੋਜੈਕਟ ਤਹਿਤ ਭੇਜੇ ਜਾ ਰਹੇ ਆਮ ਗਿਆਨ ਦੇ ਪ੍ਰਸ਼ਨਾਂ ਦਾ ਕੰਮ ਅਗਲੇ ਹੁਕਮਾਂ ਤੱਕ ਰੋਕਿਆ ਜਾਂਦਾ ਹੈ। ਸਤੰਬਰ ਪ੍ਰੀਖਿਆ ਦੇ ਨਾਲ ਹੀ ਇੱਕ ਆਮ ਗਿਆਨ ਦੇ ਪ੍ਰਸ਼ਨਾਂ ਦਾ ਲਿਖਤੀ ਪੇਪਰ ਲਿਆ ਜਾਵੇਗਾ। ਜਿਸ ਦੀ ਮਿਤੀ ਅਤੇ ਹਦਾਇਤਾਂ ਜਲਦੀ ਆਪ ਜੀ ਨੂੰ ਭੇਜ ਦਿੱਤੀਆਂ ਜਾਣਗੀਆਂ। ਹੁਣ ਤੱਕ ਹਰੇਕ ਗਰੁੱਪ ਨੂੰ ਭੇਜੇ ਜਾ ਚੁੱਕੇ 345 ਪ੍ਰਸ਼ਨਾਂ ਦੀ ਸਕੂਲ ਪੱਧਰ ਤੇ ਦੁਹਰਾਈ ਕਰਵਾਈ ਜਾਵੇ।

ਸ਼ੀਟ ਨੰਬਰ 69 ਦੇ ਸਹੀ ਉੱਤਰ

Ans 341. (ੲ) 5

Ans 343. (ਸ) ਤਿੰਨ

Ans 345 (ੲ) AC

Ans 342. (ਸ) ਪੱਛਮ ਤੋਂ ਪੂਰਬ (West to east)

Ans 344. (ੳ) ਜੜ੍ਹ Root

“ਮਿਹਨਤ ਉਹ ਚਾਬੀ ਹੈ ਜੋ ਸਫਲਤਾ ਦਾ ਦਰਵਾਜ਼ਾ ਖੋਲ੍ਹ ਦਿੰਦੀ ਹੈ।”
ਸਕੂਲ ਸਿੱਖਿਆ ਵਿਭਾਗ, ਪੰਜਾਬ