

## ਸਿੱਖਣ ਪਰਿਣਾਮ ਆਧਾਰਿਤ ਅਭਿਆਸ ਸ਼ੀਟ- 1

### ਜਮਾਤ : ਪੰਜਵੀਂ

ਨੋਟ : ਹੇਠਾਂ ਹਰ ਇੱਕ ਪ੍ਰਸ਼ਨ ਦੇ 4 ਵਿਕਲਪ ਦਿੱਤੇ ਹਨ। ਚਾਰ ਵਿਕਲਪਾਂ ਵਿੱਚੋਂ ਸਹੀ ਵਿਕਲਪ 'ਤੇ ਚੱਕਰ ਲਾਓ:-

ਹੇਠਾਂ ਦਿੱਤੇ ਪੈਰੇ ਨੂੰ ਧਿਆਨ ਨਾਲ ਪੜ੍ਹੋ

ਬੀਬਾ ਦਾ ਅਰਥ ਹੈ ਸਿਆਣਾ। ਉਹ ਬੱਚਾ ਬੀਬਾ ਹੁੰਦਾ ਹੈ ਜਿਹੜਾ ਵੱਡਿਆਂ ਦਾ ਕਹਿਣਾ ਮੰਨਦਾ ਹੈ ਤੇ ਛੋਟਿਆਂ ਨੂੰ ਪਿਆਰ ਕਰਦਾ ਹੈ। ਆਪਣੇ ਸਾਰੇ ਕੰਮ ਜਿਹੜੇ ਉਹ ਕਰ ਸਕਦਾ ਹੈ, ਆਪਣੇ ਹੱਥੀਂ ਕਰਦਾ ਹੈ। ਹਰ ਰੋਜ਼ ਨਹਾ ਕੇ ਸਾਫ-ਸੁਥਰੇ ਕੱਪੜੇ ਪਹਿਨਦਾ ਹੈ। ਸਦਾ ਸੱਚ ਬੋਲਦਾ ਹੈ। ਹਰ ਰੋਜ਼ ਸਕੂਲ ਜਾਂਦਾ ਹੈ। ਆਪਣੇ ਸਾਥੀਆਂ ਨਾਲ ਮਿਲ ਜੁਲ ਕੇ ਰਹਿੰਦਾ ਹੈ। ਉਹ ਕਿਸੇ ਨੂੰ ਵੀ ਨਫਰਤ ਨਹੀਂ ਕਰਦਾ। ਘਰ ਵਿਚ ਆਪਣੇ ਮਾਤਾ ਪਿਤਾ ਦਾ ਘਰ ਦੇ ਕੰਮਾਂ ਵਿਚ ਹੱਥ ਵਟਾਉਂਦਾ ਹੈ। ਬੀਬਾ ਬੱਚਾ ਸਭ ਨੂੰ ਪਿਆਰਾ ਲੱਗਦਾ ਹੈ।

ਵਾਕ ਪੂਰਾ ਕਰੋ

1. ਬੀਬਾ ਬੱਚਾ ਉਹ ਹੁੰਦਾ ਹੈ ਜਿਹੜਾ

ੳ) ਸਭ ਦਾ ਕਹਿਣਾ ਮੰਨਦਾ ਹੈ

ਅ) ਸਵੇਰੇ ਦੇਰ ਨਾਲ ਉੱਠਦਾ ਹੈ

ੲ) ਕਦੇ ਕਦੇ ਸਕੂਲ ਜਾਂਦਾ ਹੈ

ਸ) ਕਿਸੇ ਦੀ ਮਦਦ ਨਹੀਂ ਕਰਦਾ

2. ਇਹਨਾ ਵਿੱਚੋਂ ਕਿਹੜਾ ਵਾਕ ਠੀਕ ਨਹੀਂ ਹੈ

ੳ) ਬੀਬਾ ਬੱਚਾ ਸਦਾ ਸੱਚ ਬੋਲਦਾ ਹੈ

ਅ) ਬੀਬਾ ਬੱਚਾ ਛੋਟੇ ਬੱਚਿਆਂ ਨੂੰ ਘੁਰਦਾ ਹੈ

ੲ) ਬੀਬਾ ਬੱਚਾ ਵੱਡਿਆਂ ਦਾ ਸਤਿਕਾਰ ਕਰਦਾ ਹੈ

ਸ) ਬੀਬਾ ਬੱਚਾ ਅਪਣਾ ਕੰਮ ਆਪ ਕਰਦਾ ਹੈ

3. ਜੇਕਰ "ਨਫਰਤ" ਲਈ "ਪਿਆਰ" ਹੈ ਤਾਂ "ਸੱਚ" ਲਈ ਕੀ ਹੋਵੇਗਾ?

- ੳ) ਸਾਫ਼  
ੲ) ਝੂਠ  
ਅ) ਆਦਰ  
ਸ) ਸਿਆਣਾ

4. ਬੀਬੇ ਬੱਚੇ ਨੂੰ ਸਾਰੇ.....ਕਰਦੇ ਹਨ

- ੳ) ਪਿਆਰ  
ੲ) ਨਫਰਤ  
ਅ) ਗੁੱਸਾ  
ਸ) ਖਰਾਬ

5. ਕੰਮ ਵਿੱਚ ਹੱਥ ਵਟਾਉਣ ਤੋਂ ਕੀ ਭਾਵ ਹੈ?

- ੳ) ਅਪਣਾ ਕੰਮ ਆਪ ਕਰਨਾ  
ੲ) ਕੰਮ ਵਿੱਚ ਕਿਸੇ ਦੀ ਸਹਾਇਤਾ ਕਰਨਾ  
ਅ) ਕੰਮ ਨੂੰ ਜਲਦੀ ਨਾਲ ਕਰਨਾ  
ਸ) ਕੰਮ ਨੂੰ ਹੌਲੀ-ਹੌਲੀ ਕਰਨਾ

ਹੇਠਾਂ ਦਿੱਤੇ ਇਸ਼ਤਿਹਾਰ ਨੂੰ ਧਿਆਨ ਨਾਲ ਪੜ੍ਹੋ :-

**ਖੁਸ਼ਖਬਰੀ**      **ਖੁਸ਼ਖਬਰੀ**      **ਖੁਸ਼ਖਬਰੀ**      **ਖੁਸ਼ਖਬਰੀ**

**ਦਾਖ਼ਲਾ ਸ਼ੁਰੂ**

**ਜਮਾਤ ਪ੍ਰੀ-ਪ੍ਰਾਇਮਰੀ ਤੋਂ ਬਾਰ੍ਹਵੀਂ ਤੱਕ**      **ਸੈਸ਼ਨ 2021-22**      **ਅੰਗਰੇਜ਼ੀ ਅਤੇ ਪੰਜਾਬੀ ਮਾਧਿਅਮ**

**ਸਰਕਾਰੀ ਸਕੂਲ ਬਿਹਤਰੀਨ ਸਕੂਲ**

**ਵਧੀਆ ਪੜ੍ਹਾਈ ਅਤੇ ਮੁਫ਼ਤ ਕਿਤਾਬਾਂ, ਵਰਦੀ**

**ਦੁਪਹਿਰ ਦਾ ਪੌਸ਼ਟਿਕ ਭੋਜਨ/ਸਾਫ਼ ਸੁੱਧ ਪਾਣੀ**

**ਸਮਾਰਟ ਕਲਾਸ ਰੂਮ /ਅੰਗਰੇਜ਼ੀ ਮਾਧਿਅਮ**

**ਲਾਇਬ੍ਰੇਰੀ ਦਾ ਖਾਸ ਪ੍ਰਬੰਧ/ਕੰਪਿਊਟਰ ਲੈਬ**

**ਤਜ਼ਰਬੇਕਾਰ ਅਤੇ ਮਿਹਨਤੀ ਸਟਾਫ਼**

**ਖੁੱਲ੍ਹੇ ਖੇਡ ਦੇ ਮੈਦਾਨ/ਵਿੱਦਿਅਕ ਟੂਰ**

**ਵਿਸ਼ੇਸ਼ਤਾਵਾਂ**

**ਮੌਜੂਦਗੀ ਆਉ ਅਤੇ ਆਪਣੇ ਬੱਚੇ ਦਾ ਦਾਖ਼ਲਾ ਸਰਕਾਰੀ ਸਕੂਲ ਵਿੱਚ ਕਰਵਾਓ**

6. ਇਸਤਿਹਾਰ ਵਿੱਚ ਕਿਸ ਮੁਹਿੰਮ ਬਾਰੇ ਗੱਲ ਕੀਤੀ ਗਈ ਹੈ?

ੳ) ਸਿਹਤ ਮੁਹਿੰਮ

ਅ) ਦਾਖਲਾ ਮੁਹਿੰਮ

ਸ) ਖੇਡ ਮੁਹਿੰਮ

ਹ) ਕੋਈ ਨਹੀਂ

7. ਹੇਠ ਲਿਖਿਆਂ ਵਿੱਚੋਂ ਕਿਹੜੀ ਸਕੂਲ ਦੀ ਵਿਸ਼ੇਸ਼ਤਾ ਨਹੀਂ ਹੈ?

ੳ) ਪੇਸ਼ਟਿਕ ਭੋਜਨ

ਅ) ਲਾਇਬ੍ਰੇਰੀ ਦਾ ਪ੍ਰਬੰਧ

ਸ) ਸਵਿਮਿੰਗ ਪੂਲ

ਹ) ਖੁੱਲ੍ਹੇ ਖੇਡ ਦੇ ਮੈਦਾਨ

8. ਇਸਤਿਹਾਰ ਕਿਸ ਸੰਸਥਾ ਨਾਲ ਸੰਬੰਧਿਤ ਹੈ?

ੳ) ਪ੍ਰਾਇਵੇਟ ਸਕੂਲ

ਅ) ਸਰਕਾਰੀ ਸਕੂਲ

ਸ) ਕਾਲਜ

ਹ) ਯੂਨੀਵਰਸਿਟੀ

9. ਇਸਤਿਹਾਰ ਮੁਤਾਬਿਕ ਸੰਸਥਾ ਵਿੱਚ ਕਿਹੜੀਆਂ ਜਮਾਤ ਦੇ ਦਾਖਲੇ ਦੀ ਗੱਲ ਕੀਤੀ ਗਈ ਹੈ?

ੳ) ਨਰਸਰੀ ਤੋਂ ਬਾਰ੍ਹਵੀਂ

ਅ) ਪ੍ਰੀ-ਪ੍ਰਾਇਮਰੀ ਤੋਂ ਬਾਰ੍ਹਵੀਂ

ਸ) ਪ੍ਰੀ-ਪ੍ਰਾਇਮਰੀ ਤੋਂ ਦਸਵੀਂ

ਹ) ਨਰਸਰੀ ਤੋਂ ਅੱਠਵੀਂ

10. ਇਸਤਿਹਾਰ ਕਿਸ ਸੈਸ਼ਨ ਨਾਲ ਸੰਬੰਧਿਤ ਹੈ?

ੳ) 2021-22

ਅ) 2022-23

ਸ) 2020-21

ਹ) 2023-24

ਹੇਠਾਂ ਦਿੱਤੇ ਵਾਰਤਾਲਾਪ ਨੂੰ ਪੜ੍ਹੋ:-

ਰਾਤ ਦਾ ਖਾਣਾ ਖਾ ਕੇ, ਦਾਦਾ ਜੀ ਹਵੇਲੀ ਦਾ ਗੇੜਾ ਮਾਰ ਕੇ, ਵਾਪਸ ਆਪਣੀ ਬੈਠਕ ਵਿੱਚ ਗਏ।

“ਦਾਦਾ ਜੀ! ਖਾਓ ਗੁਲਾਬ ਜਾਮਣ ਤੇ ਰਸਗੁੱਲੇ, ਪੀਓ ਗਰਮ-ਗਰਮ ਦੁੱਧ।” ਪੇਤਾ ਦੁੱਧ ਵਾਲੀ ਗੜਵੀ ਤੇ ਪਲੇਟ ਮੇਜ਼ ਉੱਤੇ ਰੱਖਦਾ ਬੋਲਿਆ। “ਪੁੱਤਰ ਜੀ! ਗੁਲਾਬ ਜਾਮਣ ਤੇ ਰਸਗੁੱਲੇ ਮੈਂ ਨਹੀਂ ਖਾਣੇ, ਹਾਂ ਦੁੱਧ ਜ਼ਰੂਰ ਪੀ ਲਵਾਂਗਾ।” “ਕਿਉਂ ਦਾਦਾ ਜੀ? ਗੁਲਾਬ ਜਾਮਣ ਤੇ ਰਸਗੁੱਲੇ ਕਿਉਂ ਨਹੀਂ ਖਾਣੇ, ਤੁਹਾਨੂੰ ਕਿਹੜਾ ਸ਼ੂਗਰ ਹੈ?” “ਬੱਲਿਆ! ਇਸ ਉਮਰ ਵਿੱਚ ਸਾਵਧਾਨੀ ਜ਼ਰੂਰੀ ਐ, ਜ਼ਿਆਦਾ ਮਿੱਠਾ ਖਾਣਾ ਠੀਕ ਨਹੀਂ। ਵੈਸੇ ਇਹ ਮਿਠਿਆਈ ਕਿੱਥੋਂ।” ਦਾਦਾ ਜੀ ਨੂੰ ਕੁਝ ਹੈਰਾਨੀ ਜ਼ਰੂਰ ਹੋਈ। “ਦਾਦਾ ਜੀ ਸਰਪੰਚ ਦੇ ਮੁੰਡੇ ਦਾ ਵਿਆਹ ਐ। ਕਾਰਡ ਤੇ ਮਿਠਿਆਈ ਦਾ ਡੱਬਾ ਉੱਥੋਂ ਆਇਐ। ਹੁਣ ਤੁਸੀਂ ਦੁੱਧ ਪੀਓ ਤੇ ਮੈਨੂੰ ਕਹਾਣੀ ਸੁਣਾਓ।” ਪੇਤੇ ਨੂੰ ਕੁਝ ਕਾਹਲ ਸੀ। ਦਾਦਾ ਜੀ ਨੇ ਦੋ ਗਲਾਸਾਂ ਵਿੱਚ ਦੁੱਧ ਪਾਇਆ। ਪੇਤੇ ਨੇ ਗੁਲਾਬ ਜਾਮਣ ਤੇ ਰਸਗੁੱਲੇ ਖਾ ਲਏ।

ਉਪਰੋਕਤ ਵਾਰਤਾਲਾਪ ਪੜ੍ਹ ਕੇ ਹੇਠਾਂ ਦਿੱਤੇ ਪ੍ਰਸ਼ਨਾਂ ਦੇ ਸਹੀ ਵਿਕਲਪ 'ਤੇ ਚੱਕਰ ਲਾਓ:-

11. ਦਾਦਾ ਜੀ ਕਿੱਥੇ ਬੈਠ ਗਏ ਸਨ?

ੳ) ਹਵੇਲੀ ਵਿੱਚ

ਅ) ਚੁਬਾਰੇ ਵਿੱਚ

ੲ) ਬੈਠਕ ਵਿੱਚ

ਸ) ਘਰ ਵਿੱਚ

12. ਗੁਲਾਬ ਜਾਮਣ ਅਤੇ ਰਸਗੁੱਲੇ ਖਾਣ ਤੋਂ ਦਾਦਾ ਜੀ ਕਿਉਂ ਡਰ ਰਹੇ ਸਨ?

ੳ) ਗੁਲਾਬ ਜਾਮਣ ਬਹੁਤ ਗਰਮ ਸੀ।

ਅ) ਗੁਲਾਬ ਜਾਮਣ ਖਰਾਬ ਹੋ ਗਈ ਸੀ।

ੲ) ਦਾਦਾ ਜੀ ਨੂੰ ਸ਼ੂਗਰ ਦੀ ਬਿਮਾਰੀ ਸੀ।

ਸ) ਦਾਦਾ ਜੀ ਸਿਹਤ ਪ੍ਰਤੀ ਜਾਗਰੂਕ ਸਨ।

13. ਪੇਤੇ ਨੂੰ ਕਾਹਲ਼ ਸੀ ਕਿਉਂਕਿ ਉਹ.....

ੳ) ਦੇਸਤਾਂ ਨਾਲ਼ ਖੇਡਣਾ ਚਾਹੁੰਦਾ ਸੀ।

ਅ) ਸਕੂਲ ਦਾ ਕੰਮ ਕਰਨਾ ਚਾਹੁੰਦਾ ਸੀ।

ੲ) ਕੋਈ ਕਹਾਣੀ ਸੁਣਨਾ ਚਾਹੁੰਦਾ ਸੀ।

ਸ) ਗੁਲਾਬ ਜਾਮਣ ਤੇ ਰਸਗੁੱਲੇ ਖਾਣਾ ਚਾਹੁੰਦਾ ਸੀ।

14. “ਬੱਲਿਆ! ਇਸ ਉਮਰ ਵਿੱਚ ਸਾਵਧਾਨੀ ਜ਼ਰੂਰੀ ਐ।”

ਇਸ ਸਤਰ ਵਿੱਚ ਕਿਸ ਉਮਰ ਦੀ ਗੱਲ ਕੀਤੀ ਗਈ ਹੈ?

ੳ) ਜਵਾਨੀ ਦੀ

ਅ) ਬਚਪਨ ਦੀ

ੲ) ਸਾਰੀ ਉਮਰ ਦੀ

ਸ) ਬੁਢਾਪੇ ਦੀ

15. ਜਿਵੇਂ ਦਾਦੇ ਦਾ ਪੋਤਾ ਹੁੰਦਾ ਹੈ, ਉਵੇਂ ਹੀ ਰੇਠ ਲਿਖਿਆਂ ਵਿੱਚੋਂ ਨਾਨੇ ਦਾ ਕੀ ਹੋਵੇਗਾ?

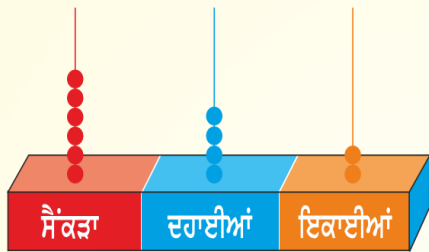
ੳ) ਭਾਣਜਾ

ਅ) ਦੇਹਤਾ

ੲ) ਭਤੀਜਾ

ਸ) ਇਹਨਾਂ ਵਿੱਚੋਂ ਕੋਈ ਨਹੀਂ

16. ਗਿਣਤਾਰੇ ਦੇ ਮੋਤੀਆਂ ਅਨੁਸਾਰ ਸਹੀ ਉੱਤਰ ਚੁਣੋ:



ੳ) 

ਸੈਂਕੜਾ	ਦਹਾਈਆਂ	ਇਕਾਈਆਂ
6	4	2

ਅ) 

ਸੈਂਕੜਾ	ਦਹਾਈਆਂ	ਇਕਾਈਆਂ
2	4	6


ੲ) 

ਸੈਂਕੜਾ	ਦਹਾਈਆਂ	ਇਕਾਈਆਂ
6	40	2

ਸ) 

ਸੈਂਕੜਾ	ਦਹਾਈਆਂ	ਇਕਾਈਆਂ
6	2	4

17. ਕਿੰਨੇ ਬੱਦਲਾਂ ਵਿੱਚ 8 ਦਹਾਈ ਦੀ ਥਾਂ ਹੈ?



ੳ) 9

ਅ) 3

ੲ) 6

ਸ) 5

18. ਸੰਖਿਆ ਪਛਾਣੋ ਜਿਸਦੇ ਦਹਾਈ ਦੇ ਅੰਕ ਦਾ ਸਥਾਨਕ ਮੁੱਲ 90 ਹੈ:

ੳ) 945

ਅ) 594

ੲ) 459

ਸ) 954

19. 57 ਦਹਾਈਆਂ ਅਤੇ 13 ਇਕਾਈਆਂ ਨਾਲ ਕਿਹੜੀ ਸੰਖਿਆ ਬਣੇਗੀ ?

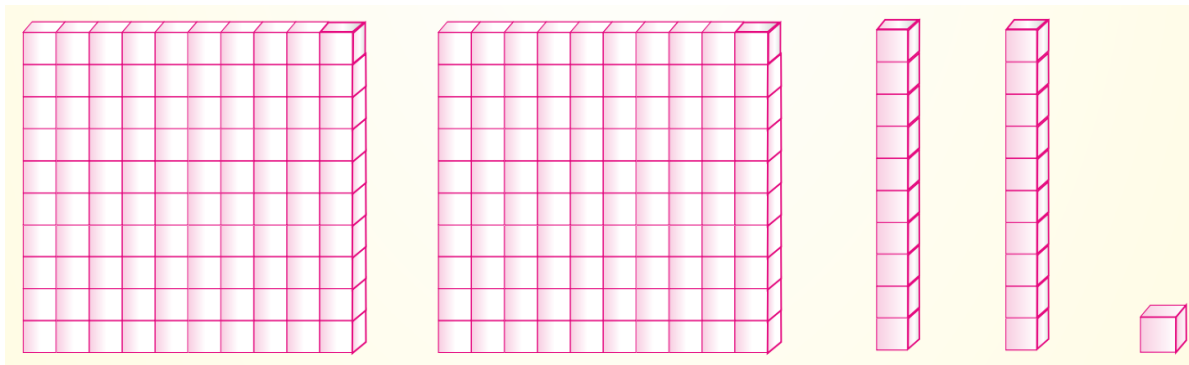
ੳ) 570

ਅ) 573

ੲ) 513

ਸ) 583

20. ਚਿੱਤਰ ਨੂੰ ਦੇਖੋ ਅਤੇ ਇਕਾਈਆਂ ਦੱਸੋ :



ੳ) 20

ਅ) 122

ੲ) 221

ਸ) 212

21. ਅਵਨੀਤ ਦੇ ਘਰ ਦਾ ਨੰਬਰ ਅੱਠ ਸੌ ਉਣਾਹਠ ਹੈ। ਦੱਸੋ ਅਵਨੀਤ ਦਾ ਘਰ ਕਿਹੜਾ ਹੈ ?



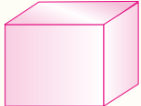

22. ਮੈਂ ਤਿੰਨ ਅੰਕਾਂ ਦੀ ਸੰਖਿਆ ਹਾਂ ਜਿਸਦਾ ਦਹਾਈ ਦਾ ਅੰਕ 7, ਇਕਾਈ ਦਾ ਅੰਕ 4 ਤੋਂ 3 ਵੱਧ ਅਤੇ ਸੌ ਦੇ ਸਥਾਨ ਦਾ ਅੰਕ 7 ਅਤੇ 9 ਦੇ ਵਿਚਕਾਰ ਹੈ।

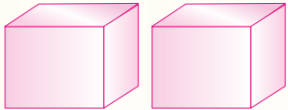

ੳ) 479

ਅ) 877

ੲ) 859

ਸ) 787

23. ਜੇ  = ਹਜ਼ਾਰ,  = ਇਕਾਈ

ਹਰਪ੍ਰੀਤ ਦਾ ਜਨਮ   ਦੇ ਅਨੁਸਾਰ

ਹਰਪ੍ਰੀਤ ਦੇ ਜਨਮ ਦਾ ਸਾਲ ਦੱਸੋ

ੳ) 205

ਅ) 2005

ੲ) 25

ਸ) 502

24. ਹਰਜੋਤ ਕੋਲ ਚਾਰ ਕਾਰਡ ਹਨ। ਉਹ ਇਹਨਾਂ ਵਿੱਚੋਂ ਸਭ ਤੋਂ ਛੋਟੀ ਸੰਖਿਆ ਵਾਲਾ ਕਾਰਡ ਚੁੱਕਣਾ ਚਾਹੁੰਦਾ ਹੈ। ਦੱਸੋ ਉਹ ਕਿਹੜਾ ਕਾਰਡ ਚੁਕੇਗਾ?

204

402

480

408

ੳ)

ਅ)

ੲ)

ਸ)

25 ਘਰ ਦੇ ਨੰਬਰਾਂ ਨੂੰ ਵੱਧਦੇ ਕ੍ਰਮ ਵਿੱਚ ਲਗਾਉਂਦੇ ਸਮੇਂ ਤੀਜੇ ਨੰਬਰ 'ਤੇ ਕਿਸਦੇ ਘਰ ਦਾ ਨੰਬਰ ਆਏਗਾ ?



ਪ੍ਰਭਲੀਨ



ਹਰਲੀਨ



ਗੁਰਪ੍ਰੀਤ



ਮੀਨੂੰ

ੳ) ਹਰਲੀਨ

ਅ) ਗੁਰਪ੍ਰੀਤ

ੲ) ਪ੍ਰਭਲੀਨ

ਸ) ਮੀਨੂੰ

26. ਅੰਮ੍ਰਿਤ ਕੋਲ 100 ਮੋਮਬਤੀਆਂ ਦੇ 3 ਡੱਬੇ, 10 ਮੋਮਬੱਤੀਆਂ ਵਾਲੇ 5 ਡੱਬੇ ਅਤੇ 6 ਖੁੱਲ੍ਹੀਆਂ ਮੋਮਬਤੀਆਂ ਹਨ। ਦੱਸੋ ਅੰਮ੍ਰਿਤ ਕੋਲ ਕਿੰਨੀਆਂ ਮੋਮਬਤੀਆਂ ਹਨ ?

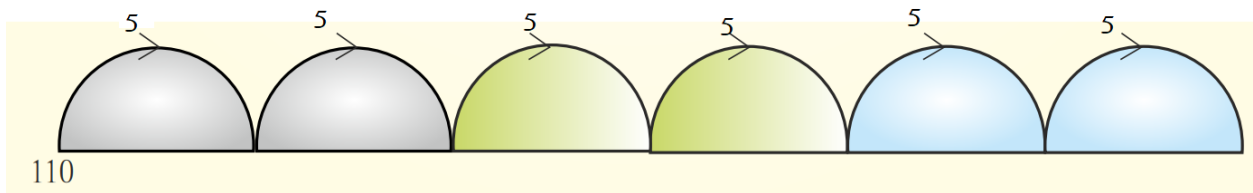
ੳ) 356

ਅ) 365

ੲ) 635

ਸ) 653

27. ਰਸਲੀਨ ਨੇ ਗਿਣਤੀ 110 ਤੋਂ ਸ਼ੁਰੂ ਕਰਕੇ 5 ਦੇ ਅੰਤਰਾਲ ਨਾਲ ਛਾਲਾਂ ਲਗਾਈਆਂ। ਛਾਲਾਂ ਲਗਾਉਂਦੇ ਹੋਏ ਕਿਹੜੀ ਸੰਖਿਆ ਨਹੀਂ ਆਈ?



ੳ) 115

ਅ) 137

ੲ) 135

ਸ) 140

28. ਮੈਂ ਕਹਾਣੀ ਦੀ ਇੱਕ ਕਿਤਾਬ ਦੇ 69 ਪੰਨੇ ਪੜ੍ਹੇ। ਰਵੀ ਨੇ ਉਸੇ ਕਹਾਣੀ ਦੀ ਕਿਤਾਬ ਦਾ ਕੋਈ ਪੰਨਾ ਨਹੀਂ ਪੜ੍ਹਿਆ। ਮੈਂ ਰਵੀ ਤੋਂ ਕਿੰਨੇ ਵੱਧ ਪੰਨੇ ਪੜ੍ਹੇ।

ੳ) 50 ਤੋਂ 100 ਦੇ ਵਿਚਕਾਰ

ਅ) 50 ਤੋਂ ਘੱਟ

ੲ) 50 ਰੁਪਏ ਦੇ ਬਰਾਬਰ

ਸ) 250 ਰੁਪਏ

29. ਰਵੀ ਕੋਲ 311 ਬੰਟੇ ਸੀ। ਸੋਨੂ ਨੇ ਰਵੀ ਨੂੰ 241 ਬੰਟੇ ਹੋਰ ਦੇ ਦਿੱਤੇ ਹੁਣ ਰਵੀ ਕੋਲ ਬੰਟਿਆਂ ਦੀ ਗਿਣਤੀ ਪਤਾ ਕਰਨ ਲਈ ਤੁਸੀਂ ਕੀ ਕਰੋਗੇ :

ੳ)  $311+241$

ਅ)  $311-241$

ੲ)  $311*241$

ਸ)  $311 \div 241$



30. ਮੇਰੇ ਕੋਲ 475 ਰੁਪਏ ਸੀ। ਮੈਂ ਉਸ ਵਿੱਚੋਂ 275 ਰੁਪਏ ਅਪਣੀ ਭੈਣ ਨੂੰ ਦਿੱਤੇ ਤਾਂ ਮੇਰੇ ਕੋਲ 200 ਰੁਪਏ ਬਚੇ। ਮਾਤਾ ਜੀ ਨੇ ਮੈਨੂੰ ਕੁਝ ਰੁਪਏ ਹੋਰ ਦਿੱਤੇ ਤਾਂ ਮੇਰੇ ਕੋਲ ਫਿਰ ਤੋਂ 475 ਰੁਪਏ ਹੋ ਗਏ। ਦੱਸੋ ਮਾਤਾ ਜੀ ਨੇ ਮੈਨੂੰ ਕਿੰਨੇ ਰੁਪਏ ਦਿੱਤੇ :

$$475 - 275 = 200$$



$$\underline{\hspace{2cm}} + 275 = 475$$

ੳ ) 275

ਅ ) 200

ੲ ) 475

ਸ ) 485

31. ਦੀਪੂ ਦੀ ਚਾਚੀ ਜੀ ਦਾ ਦੀਪੂ ਦੀ ਮੰਮੀ ਨਾਲ ਕੀ ਰਿਸ਼ਤਾ ਹੈ ?

ੳ) ਜਿਠਾਈ

ਅ) ਭੈਣ

ੲ) ਦਰਾਈ

ਸ) ਨਨਾਣ

32. ਅਨੂ ਦੇ ਪਿਤਾ ਜੀ ਦੇ ਵੱਡੇ ਭਰਾ ਅਨੂ ਦੇ ਰਿਸ਼ਤੇ ਵਿੱਚ ਅਨੂ ਦੇ ਕੀ ਲੱਗਦੇ ਹਨ ?

ੳ) ਚਾਚਾ ਜੀ

ਅ) ਦਾਦਾ ਜੀ

ਸ) ਮਾਮਾ ਜੀ

ੲ) ਤਾਇਆ ਜੀ

33. ਮਿੱਟੀ ਦੇ ਭਾਂਡੇ ਬਣਾਉਣ ਵਾਲੇ ਨੂੰ... ?

ੳ) ਮੋਚੀ ਕਹਿੰਦੇ ਹਨ।

ਅ) ਡਰਾਇਵਰ ਕਹਿੰਦੇ ਹਨ।

ੲ) ਘੁਮਿਆਰ ਕਹਿੰਦੇ ਹਨ

ਸ) ਮਿਸਤਰੀ ਕਹਿੰਦੇ ਹਨ।

34. ਦਰਜੀ ਸੂਈ ਨਾਲ ਕੀ ਕੰਮ ਕਰਦਾ ਹੈ?

ੳ) ਕੱਪੜੇ 'ਤੇ ਨਿਸ਼ਾਨ ਲਗਾਉਂਦਾ ਹੈ।      ਅ) ਬਟਨ ਲਾਉਂਦਾ ਹੈ ਅਤੇ ਤਰਪਾਈ ਕਰਦਾ ਹੈ।

ੲ) ਕੱਪੜੇ ਕੱਟਦਾ ਹੈ।      ਸ) ਕੋਈ ਕੰਮ ਨਹੀਂ ਕਰਦਾ।

35. ਜੁੱਤੀਆਂ ਦੀ ਮੁਰੰਮਤ ਕਰਨ ਵਾਲੇ ਨੂੰ ਕੀ ਕਿਹਾ ਜਾਂਦਾ ਹੈ ?

ੳ) ਡਾਕਟਰ      ਅ) ਵਕੀਲ

ੲ) ਸਫ਼ਾਈ ਕਰਮਚਾਰੀ      ਸ) ਮੋਚੀ

36. ਹੇਠ ਲਿਖਿਆਂ ਵਿੱਚੋਂ ਕਿਹੜੀ ਚੀਜ਼ ਮੇਲੇ ਵਿੱਚ ਨਹੀਂ ਮਿਲਦੀ ?

ੳ) ਖਿਡੌਣਿਆਂ ਵਾਲੀਆਂ ਦੁਕਾਨਾਂ      ਅ) ਖਾਣ-ਪੀਣ ਦੇ ਸਮਾਨ ਦੀਆਂ ਦੁਕਾਨਾਂ

ੲ) ਝੂਲੇ      ਸ) ਸੀਮਿੰਟ ਦੀਆਂ ਦੁਕਾਨਾਂ

37. ਮਾਘੀ ਦਾ ਮੇਲਾ ਕਦੋਂ ਲੱਗਦਾ ਹੈ?

ੳ) ਲੋਹੜੀ ਤੋਂ ਇੱਕ ਦਿਨ ਪਹਿਲਾਂ      ਅ) ਦਸੰਬਰ ਦੀਆਂ ਛੁੱਟੀਆਂ ਵਿੱਚ

ੲ) ਮਾਘ ਮਹੀਨੇ ਦੀ ਸੰਗਰਾਂਦ ਨੂੰ      ਸ) ਇੱਕ ਜਨਵਰੀ ਨੂੰ

38. ਜਿਸ ਸ਼ੋਅ ਵਿੱਚ ਜਾਨਵਰਾਂ ਦੇ ਕਰਤਬ ਵੀ ਦਿਖਾਏ ਜਾਂਦੇ ਹਨ, ਉਸ ਨੂੰ ਕੀ ਕਹਿੰਦੇ ਹਨ?

ੳ) ਮੈਜਿਕ ਸ਼ੋਅ      ਅ) ਸਰਕਸ

ੲ) ਚੰਡੋਲ      ਸ) ਇਹਨਾਂ ਵਿੱਚੋਂ ਕੁਝ ਵੀ ਨਹੀਂ

39. ਕਿਸੇ ਵਸਤੂ ਦੀ ਸੁੱਧਤਾ ਦੀ ਪਰਖ ਕਿਵੇਂ ਕੀਤੀ ਜਾ ਸਕਦੀ ਹੈ ?

ੳ) ਹੱਥ ਨਾਲ ਛੂਹ ਕੇ      ਅ) ਸੁੰਘਣ ਨਾਲ

ੲ) ਸੁੱਧਤਾ-ਚਿੰਨ੍ਹ ਦੇਖ ਕੇ      ਸ) ਦੁਕਾਨਦਾਰ ਦੇ ਦੱਸਣ 'ਤੇ

40. ਫੁੱਲਾਂ ਵਿੱਚੋਂ ਬਹੁਤ ਮਨਮੋਹਕ ਖੁਸ਼ਬੂ ਆਉਂਦੀ ਹੈ। ਹੇਠ ਲਿਖਿਆਂ ਵਿੱਚੋਂ ਦੱਸੋ ਕਿਹੜਾ ਸਮੂਹ ਖੁਸ਼ਬੂਦਾਰ ਫੁੱਲਾਂ ਦਾ ਹੈ ?

ੳ) ਕਪਾਹ, ਸਰੋਂ, ਗੁਲਾਬ

ਅ) ਗੁਲਾਬ, ਗੋਂਦਾ, ਚਮੇਲੀ

ੲ) ਕਪਾਹ, ਸੂਰਜਮੁਖੀ, ਕਿੱਕਰ

ਸ) ਗੋਂਦਾ, ਕਪਾਹ, ਅੱਕ

41. ਹੇਠ ਲਿਖਿਆਂ ਵਿੱਚੋਂ ਗ਼ਲਤ ਜੋੜੇ ਦੀ ਪਹਿਚਾਣ ਕਰੋ:

ੳ) ਖੁਸ਼ਬੂ - ਸੁੰਘ ਕੇ ਪਤਾ ਲਗਦੀ ਹੈ।

ਅ) ਅਵਾਜ਼ - ਸੁਣ ਕੇ ਪਤਾ ਲਗਦਾ ਹੈ।

ੲ) ਸੁਆਦ - ਜੀਭ ਨਾਲ ਚਖ ਕੇ ਪਤਾ ਲਗਦਾ ਹੈ।

ਸ) ਦੁਰਗੰਧ - ਦੇਖ ਕੇ ਪਤਾ ਲਗਦਾ ਹੈ।

42. ਕਿਹੜੇ ਤਰੀਕੇ ਨਾਲ ਪਾਣੀ ਨੂੰ ਧਰਤੀ ਵਿੱਚੋਂ ਬਾਹਰ ਕੱਢਿਆ ਜਾਂਦਾ ਹੈ?

ੳ) ਬੰਨ੍ਹ, ਡੈਮ ਅਤੇ ਖੂਹ ਬਣਾ ਕੇ

ਅ) ਤਲਾਬ ਅਤੇ ਖੂਹ ਦੀ ਮਦਦ ਨਾਲ

ੲ) ਖੂਹ ਅਤੇ ਟਿਊਬਵੈੱਲ ਲਗਾ ਕੇ

ਸ) ਨਹਿਰਾਂ ਖੋਦ ਕੇ

43. ਜੇ ਕਿਸੇ ਅਣਜਾਣ ਵਿਅਕਤੀ ਵੱਲੋਂ ਛੂਹਣਾ ਤੁਹਾਨੂੰ ਠੀਕ ਨਾ ਲੱਗੇ, ਤਾਂ ਕੀ ਕਰਨਾ ਚਾਹੀਦਾ ਹੈ?

ੳ) ਵੱਡਿਆਂ ਨੂੰ ਦੱਸ ਦੇਣਾ ਚਾਹੀਦਾ ਹੈ।

ਅ) ਵੱਡਿਆਂ ਤੋਂ ਛੁਪਾਉਣਾ ਚਾਹੀਦਾ ਹੈ।

ੲ) ਘਰੋਂ ਨਿਕਲਣਾ ਬੰਦ ਕਰ ਦੇਣਾ ਚਾਹੀਦਾ ਹੈ।

ਸ) ਕੁਝ ਨਹੀਂ ਕਰਨਾ ਚਾਹੀਦਾ।

44. ਤੁਹਾਡੀ ਜਮਾਤ ਵਿੱਚ ਇਕ ਨੇਤਰਗੀਨ ਬੱਚਾ ਦਾਖਲ ਹੋਇਆ ਹੈ। ਤੁਸੀਂ ਉਸ ਦੀ ਪੜ੍ਹਨ ਵਿੱਚ ਕਿਵੇਂ ਮਦਦ ਕਰੋਗੇ ?

ੳ) ਉਸ ਨੂੰ ਸਭ ਤੋਂ ਅੱਗੇ ਵਾਲੇ ਡੈਸਕ ਉੱਤੇ ਬੈਠਣ ਲਈ ਪ੍ਰੇਰਿਤ ਕਰਾਂਗੇ।

ਅ) ਉਸ ਨੂੰ ਹਫ਼ਤੇ ਵਿੱਚ ਸਿਰਫ਼ ਦੋ ਦਿਨ ਸਕੂਲ ਆਉਣ ਲਈ ਕਰਾਂਗੇ।

ੲ) ਉਸ ਨੂੰ ਸਿਰਫ਼ ਸੁਣ ਕੇ ਪੜ੍ਹਨ ਲਈ ਕਰਾਂਗੇ।

ਸ) ਬਰੇਲ ਲਿਪੀ ਦੀ ਮਦਦ ਨਾਲ ਪੜ੍ਹਨ ਲਈ ਪ੍ਰੇਰਿਤ ਕਰਾਂਗੇ।

45. ਪਰਿਵਾਰ ਵਿੱਚ ਵਾਧਾ ਹੁੰਦਾ ਹੈ.....?

ੳ)ਪਰਿਵਾਰ ਵਿੱਚ ਰਹਿੰਦੇ ਜੀਆਂ ਦੀ ਉਮਰ ਵਿੱਚ ਵਾਧਾ ਹੋਣ ਨਾਲ਼।

ਅ)ਪਰਿਵਾਰ ਵਿੱਚੋਂ ਕਿਸੇ ਜੀਅ ਦੇ ਸ਼ਹਿਰ ਨਿਵਾਸ ਕਰਨ ਨਾਲ਼।

ੲ)ਪਰਿਵਾਰ ਵਿੱਚ ਕਿਸੇ ਜੀਅ ਦੇ ਪੈਦਾ ਹੋਣ ਨਾਲ਼।

ਸ)ਉਪਰੋਕਤ ਸਾਰੇ ਕਥਨ ਸਹੀ ਹਨ।