

ਸਿੱਖਣ ਪਰਿਣਾਮ ਆਧਾਰਿਤ ਅਭਿਆਸ ਸ਼ੀਟ -1

ਜਮਾਤ : ਚੌਥੀ

ਨੋਟ : ਹੇਠਾਂ ਹਰ ਇੱਕ ਪ੍ਰਸ਼ਨ ਦੇ 4 ਵਿਕਲਪ ਦਿੱਤੇ ਹਨ। ਚਾਰ ਵਿਕਲਪਾਂ ਵਿੱਚੋਂ ਸਹੀ ਵਿਕਲਪ 'ਤੇ ਚੱਕਰ ਲਾਓ:-

ਹੇਠਾਂ ਦਿੱਤੇ ਗਏ ਪੈਰੇ ਨੂੰ ਧਿਆਨ ਨਾਲ ਪੜ੍ਹੋ।

ਪਿੰਡ ਤੋਂ ਬਾਹਰ ਪਿੱਪਲ ਦਾ ਇੱਕ ਰੁੱਖ ਸੀ। ਉਸ ਰੁੱਖ ਉੱਤੇ ਇੱਕ ਕਾਲੀ ਚਿੜੀ ਦਾ ਆਲ੍ਹਣਾ ਸੀ। ਸਾਰਾ ਦਿਨ ਉਹ ਚੋਗੇ ਦੀ ਭਾਲ ਵਿੱਚ ਇੱਧਰ-ਉੱਧਰ ਘੁੰਮਦੀ ਰਹਿੰਦੀ ਪਰ ਰਾਤ ਨੂੰ ਇਕੱਲੀ ਹੋਣ ਕਰਕੇ ਉਹ ਬਹੁਤ ਹੀ ਉਦਾਸ ਹੋ ਜਾਂਦੀ। ਇੱਕ ਸਵੇਰ ਉਸਨੇ ਦੇਖਿਆ ਕਿ ਰੁੱਖ ਦੀ ਹੇਠਲੀ ਟਾਹਣੀ 'ਤੇ ਨੀਲੇ ਰੰਗ ਦੀ ਚਿੜੀ ਘਬਰਾਈ ਜਿਹੀ ਬੈਠੀ ਸੀ। ਕਾਲੀ ਚਿੜੀ ਨੇ ਉਸਨੂੰ ਬਹੁਤ ਪਿਆਰ ਨਾਲ ਬੁਲਾਇਆ ਅਤੇ ਆਪਣੇ ਆਲ੍ਹਣੇ ਵਿੱਚ ਰਹਿਣ ਦਾ ਸੱਦਾ ਦਿੱਤਾ। ਦੋਨੋਂ ਚਿੜੀਆਂ ਖੁਸ਼ੀ-ਖੁਸ਼ੀ ਇਕੱਠੀਆਂ ਰਹਿਣ ਲੱਗੀਆਂ।

1. ਕਾਲੀ ਚਿੜੀ ਦਾ ਆਲ੍ਹਣਾ ਕਿਸ ਰੁੱਖ 'ਤੇ ਸੀ ?

ੳ) ਪਿੱਪਲ

ਅ) ਨਿੱਮ

ੲ) ਬੋਹੜ

ਸ) ਜਾਮਣ

2. ਕਾਲੀ ਚਿੜੀ ਰਾਤ ਨੂੰ ਉਦਾਸ ਕਿਉਂ ਹੋ ਜਾਂਦੀ ਸੀ ?

ੳ) ਜ਼ਿਆਦਾ ਉੱਡਣ ਕਰਕੇ

ਅ) ਇਕੱਲੀ ਹੋਣ ਕਰਕੇ

ੲ) ਕਾਲਾ ਰੰਗ ਹੋਣ ਕਾਰਨ

ਸ) ਆਲ੍ਹਣਾ ਛੋਟਾ ਹੋਣ ਕਾਰਨ

3. 'ਚੋਗੇ' ਸ਼ਬਦ ਦਾ ਕੀ ਅਰਥ ਹੈ?

ੳ) ਚੁਗਣਾ

ਅ) ਭੋਜਨ

ੲ) ਚੰਗਾ

ਸ) ਕੋਈ ਨਹੀਂ

4. ਜੇਕਰ 'ਚਿੜੀ' ਤੋਂ 'ਚਿੜੀਆਂ' ਹਨ ਤਾਂ 'ਕੀੜੀ' ਤੋਂ ਕੀ ਹੋਵੇਗਾ?

ੳ) ਕੀੜਾ

ਅ) ਕੀੜੇ

ੲ) ਕੀੜੀਆਂ

ਸ) ਕੀੜਿਆਂ

5. ਪੈਰੇ ਤੋਂ ਸਾਨੂੰ ਕੀ ਸਿੱਖਿਆ ਮਿਲਦੀ ਹੈ ?

ੳ) ਕਿਸੇ ਦੀ ਮਦਦ ਨਹੀਂ ਕਰਨੀ ਚਾਹੀਦੀ।
ਚਾਹੀਦਾ ਹੈ।

ੲ) ਕਰ ਭਲਾ, ਹੋ ਭਲਾ।

ਅ) ਆਲ੍ਹਣਾ ਦਰਖਤ 'ਤੇ ਹੀ ਬਣਾਉਣਾ

ਸ) ਉਪਰੋਕਤ ਕੋਈ ਨਹੀਂ।

ਹੇਠਾਂ ਦਿੱਤੀ ਸੂਚੀ ਨੂੰ ਧਿਆਨ ਨਾਲ ਦੇਖੋ:-

ਲੜੀ ਨੰ:	ਵਿਦਿਆਰਥੀ ਦਾ ਨਾਮ	ਮਨਪਸੰਦ ਖੇਡ/ਲੋਕ-ਖੇਡ
1	ਨਵਪ੍ਰੀਤ ਸਿੰਘ	ਕੋਟਲਾ ਛਪਾਕੀ
2	ਜੇਤੀ	ਗੁੱਲੀ ਡੰਡਾ
3	ਜਸਕੀਰਤ ਕੌਰ	ਈਂਗਣ-ਮੀਂਗਣ
4	ਵੰਸ਼	ਕੋਟਲਾ ਛਪਾਕੀ
5	ਨਵਦੀਪ ਸਿੰਘ	ਪਿੱਠੂ ਗਰਮ
6	ਸ਼ੋਇਬ	ਬਾਂਦਰ ਕਿੱਲਾ

ਨਿਮਨ ਲਿਖਤ ਪ੍ਰਸ਼ਨਾਂ ਦੇ ਉੱਤਰਾਂ ਲਈ ਸਹੀ ਵਿਕਲਪ 'ਤੇ ਚੱਕਰ ਲਾਓ:-

6. ਕਿਹੜੀ ਖੇਡ ਦੇ ਵਿਦਿਆਰਥੀਆਂ ਦੀ ਮਨਪਸੰਦ ਖੇਡ ਹੈ?

ੳ) ਪਿੱਠੂ ਗਰਮ

ਅ) ਗੁੱਲੀ ਡੰਡਾ

ੲ) ਬਾਂਦਰ ਕੀਲਾ

ਸ) ਕੋਟਲਾ ਛਪਾਕੀ

7. ਬਾਂਦਰ ਕੀਲਾ ਖੇਡ ਕਿਸਦੀ ਮਨਪਸੰਦ ਖੇਡ ਹੈ ?

ੳ) ਵੰਸ਼

ਅ) ਸ਼ੋਇਬ

ੲ) ਜੇਤੀ

ਸ) ਨਵਪ੍ਰੀਤ ਸਿੰਘ

8. ਕਿੰਨੇ ਬੱਚਿਆਂ ਨੇ ਮਨਪਸੰਦ ਖੇਡ ਬਾਰੇ ਦੱਸਿਆ ਹੈ?

ੳ) ਚਾਰ

ਅ) ਪੰਜ

ੲ) ਛੇ

ਸ) ਸੱਤ

9. ਸੂਚੀ ਵਿੱਚ ਕਿੰਨੇ ਮੁੰਡੇ ਅਤੇ ਕਿੰਨੀਆਂ ਕੁੜੀਆਂ ਹਨ?

ੳ) 3 ਮੁੰਡੇ 3 ਕੁੜੀਆਂ

ਅ) 2 ਮੁੰਡੇ 4 ਕੁੜੀਆਂ

ੲ) 4 ਮੁੰਡੇ 2 ਕੁੜੀਆਂ

ਸ) 1 ਮੁੰਡਾ 5 ਕੁੜੀਆਂ

10. ਸੂਚੀ ਵਿੱਚ ਦਰਜ ਖੇਡਾਂ ਨੂੰ ਹੋਰ ਕਿਸ ਨਾਮ ਨਾਲ ਜਾਣਿਆ ਜਾਂਦਾ ਹੈ?

ੳ) ਅੰਤਰ-ਰਾਸ਼ਟਰੀ ਖੇਡਾਂ

ਅ) ਰਾਸ਼ਟਰੀ ਖੇਡਾਂ

ੲ) ਰਾਜਖੇਡਾਂ

ਸ) ਲੋਕ ਖੇਡਾਂ

ਹੇਠਾਂ ਦਿੱਤੇ ਵਾਰਤਾਲਾਪ ਨੂੰ ਧਿਆਨ ਨਾਲ ਪੜ੍ਹੋ:-

ਇੱਕ ਵਾਰ ਚਾਰ ਦੇਸਤ ਜੰਗਲ ਵਿੱਚ ਜਾ ਰਹੇ ਸਨ। ਰਾਤ ਹੋਣ ਵਾਲੀ ਸੀ ਅਤੇ ਮੀਂਹ ਵੀ ਪੈ ਰਿਹਾ ਸੀ।

ਰਾਜ : ਮੈਨੂੰ ਛੋਟੇ ਬੱਚੇ ਦੇ ਰੋਣ ਦੀ ਆਵਾਜ਼ ਆ ਰਹੀ ਹੈ।

ਅਮਨ : ਦੇਖੋ, ਦੇਖੋ ਝਾੜੀਆਂ ਵਿੱਚ ਬਿੱਲੀ ਦਾ ਬੱਚਾ ਫਸਿਆ ਹੋਇਆ ਹੈ।

ਰਮਨ : ਚਲੋ, ਇਸਨੂੰ ਘਰ ਲੈ ਜਾਂਦੇ ਹਾਂ। ਇਹ ਤਾਂ ਮੀਂਹ ਵਿੱਚ ਬੁਰੀ ਤਰ੍ਹਾਂ ਭਿੱਜ ਗਿਆ ਹੈ।

ਵੀਰ : ਮੈਂ ਨਹੀਂ ਲੈ ਕੇ ਜਾਵਾਂਗਾ, ਮੇਰੇ ਮੰਮੀ ਗੁੱਸਾ ਕਰਨਗੇ।

ਅਮਨ : ਮੈਨੂੰ ਤਾਂ ਬਲੂੰਗੜੇ ਬੜੇ ਹੀ ਪਿਆਰੇ ਲੱਗਦੇ ਨੇ, ਮੈਂ ਇਸਨੂੰ ਪਾਲ ਲਵਾਂਗਾ।

ਰਾਜ : ਨਾ ਬਈ ਨਾ ! ਇਹ ਤਾਂ ਨਿੱਕਾ ਬੱਚਾ ਹੈ। ਇਸਦੀ ਮਾਂ ਇਸਨੂੰ ਲੱਭਣ ਲਈ ਪਰੇਸ਼ਾਨ ਹੋਵੇਗੀ।

ਚਲੋ! ਅੱਜ ਇਸਦੀ ਘਰ ਲਿਜਾਕੇ ਸੰਭਾਲ ਕਰੀਏ। ਕੱਲ੍ਹ ਇਹਨੂੰ ਇੱਥੇ ਹੀ ਛੱਡ ਜਾਵਾਂਗੇ।

ਨਿਮਨਲਿਖਤ ਪ੍ਰਸ਼ਨਾਂ ਦੇ ਉੱਤਰਾਂ ਲਈ ਸਹੀ ਵਿਕਲਪ 'ਤੇ ਚੱਕਰ ਲਾਓ:-

11. ਕਿਸ ਚੀਜ਼ ਦੀ ਆਵਾਜ਼ ਆ ਰਹੀ ਸੀ ?

ੳ) ਹੱਸਣ ਦੀ

ਅ) ਰੋਣ ਦੀ

ੲ) ਮੀਂਹ ਪੈਣ ਦੀ

ਸ) ਚੀਕਣ ਦੀ

12. ਬਿੱਲੀ ਦੇ ਬੱਚੇ ਨੂੰ ਕੀ ਕਹਿੰਦੇ ਹਨ ?

ੳ) ਮੇਮਣਾ

ਅ) ਕਤੂਰਾ

ੲ) ਬਲੂੰਗੜਾ

ਸ) ਚੂਚਾ

13. ਕੌਣ ਬਲੂੰਗੜੇ ਨੂੰ ਘਰ ਨਹੀਂ ਲੈ ਕੇ ਜਾਣਾ ਚਾਹੁੰਦਾ ਸੀ ?

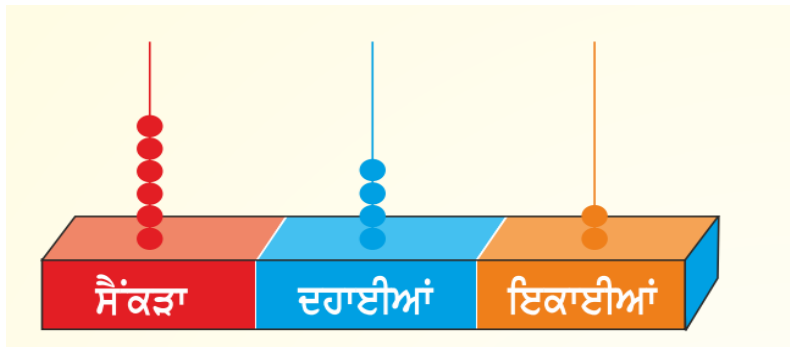
ੳ) ਰਾਜ

ਅ) ਰਮਨ

ੲ) ਅਮਨ

ਸ) ਵੀਰ

18. ਹੇਠਾਂ ਦਿਖਾਏ ਗਿਣਤਾਰੇ ਅਨੁਸਾਰ ਸੈਂਕੜੇ ਦੇ ਸਥਾਨ ਦੇ ਅੰਕ ਦਾ ਸਥਾਨਕ ਮੁੱਲ ਦੱਸੋ:



- ਓ) 20 ਅ) 40
 ਏ) 400 ਸ) 600

19. ਪੰਜ ਦਹਾਈਆਂ ਅਤੇ ਚਾਰ ਇਕਾਈਆਂ ਨਾਲ਼ ਮਿਲ ਕੇ ਕਿਹੜੀ ਸੰਖਿਆ ਬਣਦੀ ਹੈ:

- ਓ) 45 ਅ) 54
 ਏ) 504 ਸ) 405

20. 4 ਸੈਂਕੜੇ = _____ ਇਕਾਈਆਂ

- ਓ) 4 ਅ) 40
 ਏ) 400 ਸ) 4000

21. ਤਰਲੀਨ ਦੇ ਘਰ ਦਾ ਨੰਬਰ ਦੱਸੋ:



- ਓ) ਪੱਚੀ ਅ) ਪੰਜ ਸੌ ਬਾਈ
 ਏ) ਦੋ ਸੌ ਪੱਚੀ ਸ) ਦੋ ਹਜ਼ਾਰ ਪੱਚੀ

22. ਮੈਂ ਦੇ ਅੰਕਾਂ ਦੀ ਸੰਖਿਆ ਹਾਂ। ਮੇਰਾ ਦਹਾਈ ਦਾ ਅੰਕ ਇਕਾਈ ਦੇ ਅੰਕ ਤੋਂ ਘੱਟ ਹੈ ਜੇ ਇਕਾਈ ਦਾ ਅੰਕ 8 ਹੈ ਤਾਂ ਸੰਖਿਆ ਦੱਸੋ

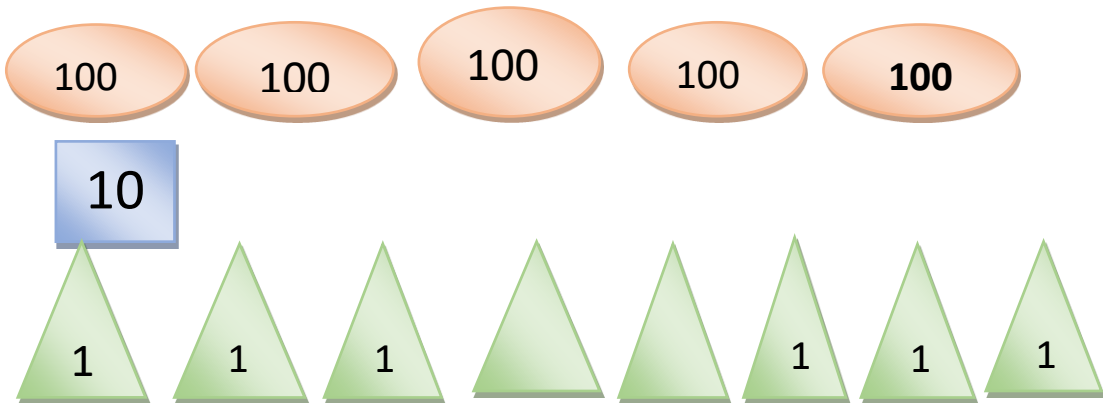
ੳ) 48

ਅ) 28

ੲ) 42

ਸ) 84

23. ਹੇਠਾਂ ਦਿਖਾਏ ਵੱਖ-ਵੱਖ ਕਾਰਡ ਦੀ ਵਰਤੋਂ ਨਾਲ ਬਣਨ ਵਾਲੀ ਸੰਖਿਆ ਦੱਸੋ।



ੳ) ਅੱਠ ਸੌ ਪੰਜ

ਅ) ਪੰਜ ਸੌ ਅਠਾਰਾਂ

ੲ) ਅੱਠ ਸੌ ਪੰਦਰਾਂ

ਸ) ਪੰਜ ਸੌ ਅੱਠ

24. ਵੱਖ-ਵੱਖ ਬੱਚਿਆਂ ਕੋਲ ਕੁਝ ਕਰੰਸੀ ਨੋਟ ਹਨ। ਕਰੰਸੀ ਨੋਟਾਂ ਦੇ ਮੁੱਲ ਅਨੁਸਾਰ ਦੱਸੋ ਕਿ ਸਭ ਤੋਂ ਘੱਟ ਕਿੰਨੇ ਰੁਪਏ ਹਨ?

ਅਨਮੋਲ



ਪਰਮਿੰਦਰ



ਮਨਜੀਤ



ਰੁਪਿੰਦਰ



ੳ) 21

ਅ) 22

ੲ) 42

ਸ) 20

25. ਹੇਠਾਂ ਦਿਖਾਏ ਖਿਡੌਣਿਆਂ ਦੇ ਮੁੱਲ ਨੂੰ ਦੇਖਦੇ ਹੋਏ ਵੱਧਦੇ ਮੁੱਲ ਅਨੁਸਾਰ ਸਹੀ ਉੱਤਰ ਚੁਣੋ:-

			
₹ 895	₹ 720	₹ 270	₹ 985

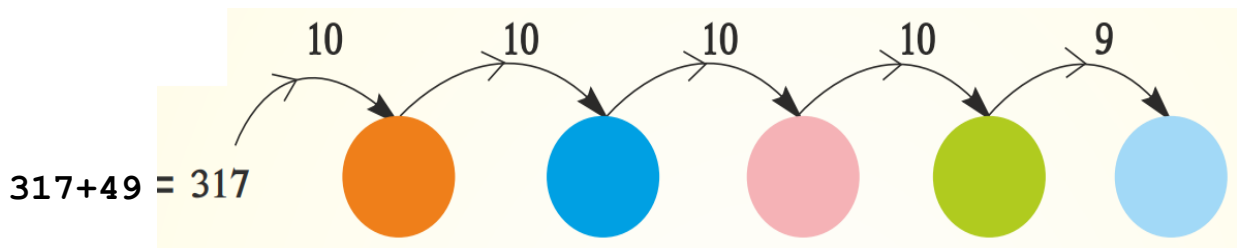
ੳ) ₹ 985, ₹ 895, ₹ 720, ₹ 270

ਅ) ₹ 985, ₹ 720, ₹ 895, ₹ 270

ੲ) ₹ 270, ₹ 895, ₹ 720, ₹ 985

ਸ) ₹ 270, ₹ 720, ₹ 895, ₹ 985

26. ਗੁਰਪ੍ਰੀਤ ਨੇ $317+49$ ਲਈ ਇੱਕ ਸੰਖਿਆ ਨੂੰ ਤੋੜ ਕੇ ਹੱਲ ਕੀਤਾ। ਹੱਲ ਕਰਨ ਤੋਂ ਬਾਅਦ ਆਇਆ ਸਹੀ ਉੱਤਰ ਦੱਸੋ:



ੳ) 366

ਅ) 466

ੲ) 467

ਸ) 566

27. 20 ਤੋਂ ਸ਼ੁਰੂ ਕਰ ਕੇ ਅੱਗੇ ਵੱਲ 20-20 ਦੀਆਂ ਛਾਲਾਂ ਮਾਰਦੇ ਹੋਏ ਡੱਡੂ ਸੰਖਿਆ 60 'ਤੇ ਕਿੰਨਵੀਂ ਛਾਲ 'ਤੇ ਪਹੁੰਚੇਗਾ?



ੳ) ਪਹਿਲੀ

ਅ) ਦੂਜੀ

ੲ) ਤੀਜੀ

ਸ) ਚੌਥੀ

28. ਅਵਨੀਤ ਕੋਲ 200 ਰੁਪਏ ਸੀ। ਉਸਨੇ ਬਜ਼ਾਰ ਤੋਂ ਹੇਠਾਂ ਦਿਖਾਇਆ ਸਾਮਾਨ ਖਰੀਦਣਾ ਹੈ। ਉਸਨੂੰ ਸਾਮਾਨ ਖਰੀਦਣ ਲਈ ਹੋਰ ਕਿੰਨੇ ਧਨ ਦੀ ਲੋੜ ਹੈ?



ੳ) 200 ਰੁਪਏ

ਅ) 100 ਰੁਪਏ

ੲ) 150 ਰੁਪਏ

ਸ) 250 ਰੁਪਏ

29. ਖਾਲੀ ਥਾਂ ਲਈ ਉਚਿਤ ਚਿੰਨ੍ਹ ਦੱਸੋ:

400 ___ 300 = 600 ਤੋਂ 800 ਦੇ ਵਿਚਕਾਰ

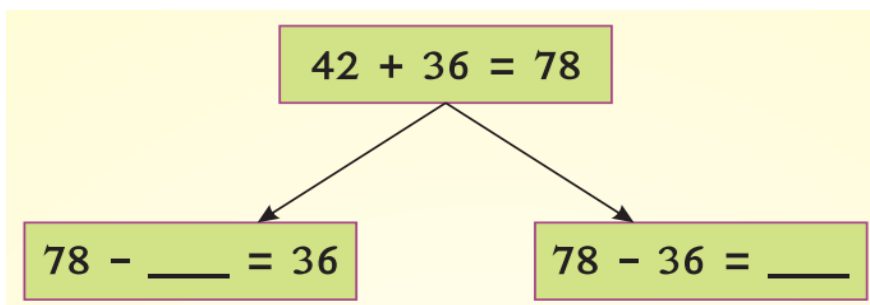
ੳ) ÷

ਅ) -

ੲ) +

ਸ) X

30. ਖਾਲੀ ਥਾਵਾਂ ਭਰਨ ਲਈ ਸਹੀ ਉੱਤਰ ਚੁਣੋ:



ੳ) 42

ਅ) 36

ੲ) 78

ਸ) 52

38. ਤੁਹਾਡਾ ਦੇਸਤ ਬੰਟੀ ਰੇਜ਼ ਸਕੂਲ ਵਿੱਚ ਖਾਣਾ ਖਾਂਦੇ ਸਮੇਂ ਖਾਣਾ ਜੁਠਾ ਛੱਡ ਦਿੰਦਾ ਹੈ। ਤੁਹਾਨੂੰ ਕੀ ਕਰਨਾ ਚਾਹੀਦਾ ਹੈ?

- ੳ) ਉਸਦਾ ਜੁਠਾ ਖਾਣਾ ਤੁਸੀਂ ਖਾ ਲਵੋਗੇ।
- ਅ) ਬਚਿਆ ਖਾਣਾ ਕਿਸੇ ਹੋਰ ਦੀ ਥਾਲੀ ਵਿੱਚ ਪਾਉਣ ਲਈ ਕਰੋਗੇ।
- ੲ) ਕੂੜੇ ਦਾਨ ਵਿੱਚ ਪਾਉਣ ਲਈ ਕਰੋਗੇ।
- ਸ) ਜ਼ਰੂਰਤ ਅਨੁਸਾਰ ਖਾਣਾ ਪਵਾਉਣ ਦੀ ਸਲਾਹ ਦੇਵੋਗੇ।

39. ਸਕੂਲ ਵਿੱਚ ਛੁੱਟੀ ਤੋਂ ਬਾਅਦ ਜਿਹੜਾ ਪਾਣੀ ਤੁਹਾਡੀ ਬੋਤਲ ਵਿੱਚ ਬਚ ਜਾਂਦਾ ਹੈ। ਉਸ ਤੋਂ ਸਭ ਤੋਂ ਚੰਗਾ ਪ੍ਰਯੋਗ ਕੀ ਹੋ ਸਕਦਾ ਹੈ?

- ੳ) ਪਾਣੀ ਕਿਤੇ ਵੀ ਸੁੱਟ ਕੇ।
- ਅ) ਪਾਣੀ ਆਪਣੇ ਦੇਸਤਾਂ 'ਤੇ ਸੁੱਟ ਕੇ।
- ੲ) ਪਾਣੀ ਨਾਲ ਖੇਡ ਕੇ।
- ਸ) ਪਾਣੀ ਪੈਂਦਿਆਂ ਨੂੰ ਦੇ ਕੇ।

40. ਹੇਠ ਦਿੱਤੇ ਕੰਮਾਂ ਵਿੱਚੋਂ ਕਿਹੜਾ ਕੰਮ ਕੁੜੀਆਂ ਕਰ ਸਕਦੀਆਂ ਹਨ. ?

- ੳ) ਬਜ਼ਾਰ ਵਿੱਚੋਂ ਸਾਮਾਨ ਲੈਕੇ ਆਉਣਾ
- ਅ) ਰੋਟੀ ਬਣਾਉਣਾ
- ੲ) ਘਰ ਦੀ ਸਾਂਭ-ਸੰਭਾਲ
- ਸ) ਉਪਰੋਕਤ ਸਾਰੇ

41. ਤੁਸੀਂ ਦੇਖਿਆ ਕਿ ਤੁਹਾਡੇ ਦੇਸਤ ਨੇ ਹੱਥ ਧੋ ਕੇ ਟੂਟੀ ਖੁੱਲ੍ਹੀ ਛੱਡ ਦਿੱਤੀ ਹੈ, ਤੁਸੀਂ ਕੀ ਕਰੋਗੇ?

- ੳ) ਅਧਿਆਪਕ ਨੂੰ ਸ਼ਿਕਾਇਤ ਕਰੋਗੇ।
- ਅ) ਪਹਿਲਾਂ ਉਸਨੂੰ ਸਮਝਾਓਗੇ।
- ੲ) ਪਹਿਲਾਂ ਟੂਟੀ ਬੰਦ ਕਰੋਗੇ, ਫਿਰ ਉਸਨੂੰ ਸਮਝਾਓਗੇ।
- ਸ) ਪਾਣੀ ਨਾਲ ਖੇਡੋਗੇ।

42. ਕੂੜਾ-ਕਰਕਟ ਕਿੱਥੇ ਸੁੱਟਣਾ ਚਾਹੀਦਾ ਹੈ?

- ੳ) ਘਰ ਦੇ ਬਾਹਰ
- ਅ) ਕੂੜੇਦਾਨ ਵਿੱਚ
- ੲ) ਛੱਤ 'ਤੇ
- ਸ) ਨਾਲੀਆਂ ਵਿੱਚ

43. ਘੱਟ ਤੋਂ ਘੱਟ ਕੂੜਾ ਕਰਕਟ ਪੈਦਾ ਹੋਵੇ, ਇਸ ਲਈ ਸਾਨੂੰ ਪਾਲੀਥੀਨ ਦੇ ਲਿਫ਼ਾਫ਼ੇ:

- ੳ) ਵੱਧ ਵਰਤਣੇ ਚਾਹੀਦੇ ਹਨ।
- ਅ) ਸੜਕ 'ਤੇ ਸੁੱਟ ਦੇਣੇ ਚਾਹੀਦੇ ਹਨ।
- ੲ) ਘੱਟ ਵਰਤਣੇ ਚਾਹੀਦੇ ਹਨ।
- ਸ) ਖਰੀਦਣੇ ਚਾਹੀਦੇ ਹਨ।

44 . ਫਲਾਂਤੇ ਸਬਜ਼ੀਆਂ ਦੇ ਛਿੱਲੜ, ਪੱਤੇ ਆਦਿ ਨੂੰ ਟੋਏ ਵਿੱਚ ਦੱਬ ਕੇ..... . ਤਿਆਰ ਕੀਤੀ ਜਾਂਦੀ ਹੈ।

ੳ) ਰੂੜੀ ਖਾਦ
ੲ) ਦਵਾਈ

ਅ) ਪਸ਼ੂਆਂ ਦਾ ਚਾਰਾ
ਸ) ਰਸਾਇਣਿਕ ਖਾਦ

45. ਸਵੱਛਤਾ ਦਾ ਕੀ ਮਤਲਬ ਹੈ?

ੳ) ਸਾਫ਼-ਸਫ਼ਾਈ ਰੱਖਣਾ
ੲ) ਸਜਾਵਟ

ਅ) ਗੰਦਗੀ ਫੈਲਾਉਣਾ
ਸ) ਖ਼ੁਸ਼ ਰਹਿਣਾ