



ਡਾਇਰੈਕਟਰ ਰਾਜ ਵਿੱਦਿਅਕ ਖੋਜ ਅਤੇ ਸਿਖਲਾਈ ਪ੍ਰੀਸ਼ਦ, ਪੰਜਾਬ

ਫੋਵੀਂ ਮੰਜ਼ਿਲ, ਬਲਾਕ-ਈ, ਪੰਜਾਬ ਸਕੂਲ ਸਿੱਖਿਆ ਬੋਰਡ ਕੰਪਲੈਕਸ, ਫੇਜ਼-8, ਐੱਸ.ਏ.ਐੱਸ.ਨਗਰ (ਪੰਜਾਬ)

ਫੋਨ ਨੰ: 0172-2212221, ਈ.ਮੇਲ: scertaffiliation@punjabeducation.gov.in




ਈਡੀ 504159(ਮੈਲਿੰਗ)

(ਪਬਲਿਕ ਨੋਟਿਸ)

ਮਿਤੀ 22/6/2023

ਡੀ.ਐਲ.ਐਡ. ਸੈਸ਼ਨ 2023-25 ਦੇ ਦਾਖਲੇ ਲਈ ਸਾਂਝੀ ਪ੍ਰਵੇਸ਼ ਪ੍ਰੀਖਿਆ ਕਰਵਾਈ ਜਾਣੀ ਹੈ। ਵਿਭਾਗ ਵੱਲੋਂ ਡੀ.ਐਲ.ਐਡ. ਸੈਸ਼ਨ 2023-25 ਦੇ ਦਾਖਲੇ ਦੀ ਵਿੱਦਿਅਕ ਯੋਗਤਾ ਵਿੱਚ 10+2 ਤੋਂ ਵਾਧਾ ਕਰਦੇ ਹੋਏ ਗਰੈਜੂਏਸ਼ਨ ਕਰ ਦਿੱਤੀ ਗਈ ਸੀ, ਜਿਸ ਬਾਰੇ ਪਹਿਲਾਂ ਹੀ ਮਿਤੀ 04.10.2022 ਨੂੰ ਵਿਭਾਗ ਵੱਲੋਂ ਜਾਰੀ ਪਬਲਿਕ ਨੋਟਿਸ ਰਾਹੀਂ ਸੂਚਿਤ ਕਰ ਦਿੱਤਾ ਗਿਆ ਸੀ। ਇਸ ਪ੍ਰੀਖਿਆ ਵਿੱਚ ਪੁੱਛੇ ਜਾਣ ਵਾਲੇ ਵਿਸ਼ਾਵਾਰ ਪ੍ਰਸ਼ਨਾਂ ਦਾ ਪੱਧਰ 10ਵੀਂ ਜਮਾਤ ਦਾ ਹੋਵੇਗਾ। ਇਹ ਪ੍ਰਵੇਸ਼ ਪ੍ਰੀਖਿਆ objective type ਹੋਵੇਗੀ, ਜਿਸ ਵਿੱਚ ਕੁੱਲ 150 Multiple choice questions ਹੋਣਗੇ ਅਤੇ ਇਸ ਪ੍ਰੀਖਿਆ ਦਾ ਸਮਾਂ 3 ਘੰਟੇ ਹੋਵੇਗਾ। ਇਸ ਪ੍ਰੀਖਿਆ ਦਾ ਸਿਲੇਬਸ ਅਤੇ ਸੈਂਪਲ ਪ੍ਰਸ਼ਨ ਪੱਤਰ ਚਾਹਵਾਨ ਉਮੀਦਵਾਰਾਂ ਦੀ ਜਾਣਕਾਰੀ ਲਈ ਐੱਸ.ਐੱਸ.ਏ. ਪੰਜਾਬ ਦੀ ਵੈਬਸਾਈਟ (<https://www.ssapunjab.org/>) ਤੇ ਅਪਲੋਡ ਕਰ ਦਿੱਤੇ ਗਏ ਹਨ। ਉਮੀਦਵਾਰ ਇਸ ਵੈਬਸਾਈਟ ਤੇ ਜਾ ਕੇ ਸਿਲੇਬਸ ਅਤੇ ਸੈਂਪਲ ਪ੍ਰਸ਼ਨ ਪੱਤਰ ਡਾਊਨਲੋਡ ਕਰ ਸਕਦੇ ਹਨ। ਇਹ ਪ੍ਰੀਖਿਆ ਜੁਲਾਈ ਮਹੀਨੇ ਦੇ ਅਖੀਰਲੇ ਹਫ਼ਤੇ ਕਰਵਾਈ ਜਾਵੇਗੀ। ਇਸ ਲਈ ਉਮੀਦਵਾਰ ਇਸ ਵੈਬਸਾਈਟ ਨੂੰ ਨਿਯਮਿਤ ਤੌਰ ਤੇ ਚੈੱਕ ਕਰਦੇ ਰਹਿਣ।


ਡਾਇਰੈਕਟਰ
ਐੱਸ.ਸੀ.ਈ.ਆਰ.ਟੀ. ਪੰਜਾਬ

Syllabus for C.E.T. (Combined Entrance Test)

For Admission in D.El.Ed. Session 2023-25

PART : A		
1	General Knowledge	15
2	General Mental Ability	15
3	Teaching Potential Test	15
PART : B		
4	Punjabi	20
5	Hindi	20
6	English	20
PART : C		
7	Mathematics	15
8	Social Science	15
9	Natural Science	15
	TOTAL	150

PART : A		
1	General Knowledge	15
1	Current Affairs	
2	Geography of Punjab	
3	Art & Culture of Punjab	
4	Sikh Gurus	
5	Banda Bahadur	
6	Sikh Mislis	
7	Maharaja Ranjit Singh	
8	Famous Places of Punjab	
9	Folk Dances & Folk Songs of Punjab	
10	Fairs and Festivals of Punjab	
11	Contribution of Punjab in Freedom Struggle	
2	General Mental Ability	15
1	Classification	
2	Analogies	
3	Number and Letter Series	
4	Directions Test	
5	Blood Relations	
6	Coding Decoding	
7	Ranking Test	
8	Missing Figures	
9	Calender	
10	Order and Sequence Test	
3	Teaching Potential Test	15
1	Education	
2	Teaching Learning Process	

3	Audio-Visual Aids & Mass Media	
4	Educational Agencies & Organisations	
5	Classroom Problems and Their Solutions	
6	Teacher's Relations with Students, Colleagues & Administrators	
7	Library Uses	
8	School, Society and Family	
9	ICT and Teaching - Learning Process	
PART : B		
4	PUNJABI	20
1	ਬੋਲੀ, ਉਪਬੋਲੀ, ਲਿਪੀ	
2	ਵਿਰੋਧੀ ਸ਼ਬਦ	
3	ਸਮਾਨਅਰਥਕ ਸ਼ਬਦ	
4	ਸ਼ਬਦ ਭੇਦ	
5	ਮੁਹਾਵਰੇ / ਅਖਾਣਾਂ	
6	ਬਹੁਤੇ ਸ਼ਬਦਾਂ ਦੀ ਥਾਂ ਇੱਕ ਸ਼ਬਦ	
7	ਸ਼ਬਦਾਂ ਦਾ ਅਰਥ-ਭੇਦ	
5	HINDI	15
1	वर्णमाला	1
2	शब्द विवेचन	2
3	शब्दकोश में शब्दों का क्रम	3
4	विलोम शब्द	4
5	पर्यायवाची शब्द	5
6	अनेक शब्दों के लिए एक शब्द	6
7	मुहावरे / लोकोक्तियाँ	7
8	समोच्चरित शब्द	8
9	उपसर्ग – प्रत्यय	9
10	शुद्ध – अशुद्ध	10
6	ENGLISH	20
1	Antonyms	
2	Synonyms	
3	Corrections	
4	Prepositions	
5	Idioms and Phrases	
6	One Word Substitutions	
7	Spellings	
8	Translations	
9	Sentence Types	
10	Comprehension	

PART : C		
7	MATHEMATICS	15
1	Number System	
2	LCM / HCF	
3	Average	
4	Ratio and Proportions	
5	Percentage	
6	Profit and Loss	
7	Time and Work	
8	Speed, Time and Distance	
9	Simple Interest & Compound Interest	
8	SOCIAL SCIENCE	15
1	Revolt of 1857	
2	British Governor Generals and Viceroy	
3	Indian Freedom Struggle	
4	Constitution and Its Features	
5	Parliament	
6	Judicial Institutions	
7	Important Days/Dates	
8	Neighbouring Countries and States of India and their Capitals	
9	Population	
10	Basic Concepts of Economics: Demand and Supply, National Income, GDP	
9	NATURAL SCIENCE	15
1	Energy	
2	Gravitation	
3	Water	
4	Air	
5	Universe	
6	Metals & Non-Metals	
7	Carbon and Its Compounds	
8	Light and Sound	
9	Acid. Base and Salts	
10	Respiratory System, Digestive System, Nervous System, Circulatory System	

COMBINED ENTRANCE TEST

D.El.Ed. 2023

PART : A

GENERAL KNOWLEDGE

1. Punjab shares its border with which of the following countries ?

- (a) China
- (b) Pakistan
- (c) Nepal
- (d) Afghanistan

Ans: b

2. During the festivals of Basant Panchmi people wear the clothes of which colour ?

- (a) Red
- (b) Blue
- (c) Yellow
- (d) White

Ans: c

3. Who called the Muktsar 'THE POOL OF SALVATION' ?

- (a) Maharaja Ranjit Singh
- (b) Baba Banda Singh Bahadur
- (c) Shivaji
- (d) Guru Gobind Singh Ji

Ans: a

4. Who was the Governor of Punjab at the time of Jallianwala Bagh Massacre ?

- (a) General dyer
- (b) Michael O'Dwyer
- (c) Sir John Lawrence
- (d) Henry Lawrence

Ans: b

5. Who has launched mobile app called 'My life to deal with climate change' ?

- (a) Bhupender Yadav
- (b) Draupadi Murmu
- (c) Amit Shah
- (d) S. Jaishankar

Ans: a

6. Which team was the runner-up in FIFA World Cup 2022?

- (a) Argentina
- (b) Morocco
- (c) Croatia
- (d) France

Ans: d

7. Where will India's first 3D printed post office open ?

- (a) Bengaluru
- (b) Mumbai

- (c) Kochi
- (d) Chandigarh

Ans: a

8. 'Jafarnama' was written by which Guru Sahib?

- (a) Sri Guru Hargobind Sahib Ji
- (b) Sri Guru Gobind Sahib Ji
- (c) Sri Guru Amardas Ji
- (d) Sri Guru Nank Dev Ji

Ans: b

9. What was the original name of Banda Bahadur Ji?

- (a) Hari Das
- (b) Madho Das
- (c) Kali Das
- (d) Madho Ram

Ans: b

10. How many total Misls have been in Punjab?

- (a) 11
- (b) 12
- (c) 26
- (d) 10

Ans: b

11. What was the childhood name of Maharaja Ranjit Singh Ji?

- (a) Buddh Singh
- (b) Sher Singh
- (c) Jeet Singh
- (d) Phula Singh

Ans: a

12. Which city is called "Home of Glory"?

- (a) Chandigarh
- (b) Patiala
- (c) Jalandhar
- (d) Amritsar

Ans: d

13. Which festival is celebrated in the month of Katak?

- (a) Lohri
- (b) Diwali
- (c) Holi
- (d) Rakhi

Ans: b

14. What is the theme of the G20 summit held in India?

- (a) Shaping an Interconnected World
- (b) Fighting poverty with rigidity
- (c) One Earth-One Family-One Future
- (d) Making the world together

Ans. c

15. Who won FIFA World Cup 2022 ?

- (a) Morocco
- (b) Mexico
- (c) Argentina
- (d) France

Ans. c

GENERAL MENTAL ABILITY

16. Choose the word which is least like the others words ?

- (a) Day
- (b) Calendar
- (c) Date
- (d) Month

Ans. b

17. Find the one.

- (a) Flower: Petal
- (b) Circle:arc
- (c) Cover:Page
- (d) Chair: Leg

Ans. c

18.Choose the odd one out

- (a) Shirt:Dress
- (b) Boy:Girl
- (c) Mango: Fruit
- (d) Table: Furniture

Ans. b

19. Arrange in appropriate sequence

1.Table 2.Tree 3.Wood 4.Seed 5. Plant

- (a) 4,5,3,2,1
- (b) 4,5,2,3,1
- (c) 1,3,2,4,5
- (d) 1,2,3,4,5

Ans. b

20. Complete the series

1(+2), 3(+4), 7(+6).....

- (a) 15(+8)
- (b) 21(+6)
- (c) 21(+10)
- (d) 23(+12)

Ans. a

21. If code for **DEAF** is 16, Then code for **LEAF** is:

- (a) 24
- (b) 25
- (c) 26
- (d) 27

Ans. a

22. If HOUSE is coded as KRTXH, how CASTLE would be coded?

- (a) OVDFWH
- (b) HOVDFW
- (c) HWFDVO
- (d) FDVWOH

Ans. d

23. A is the sister of B. B is the daughter of K. K is the husband of L. What is L to B ?

- (a) Father
- (b) Mother
- (c) Sister
- (d) Brother

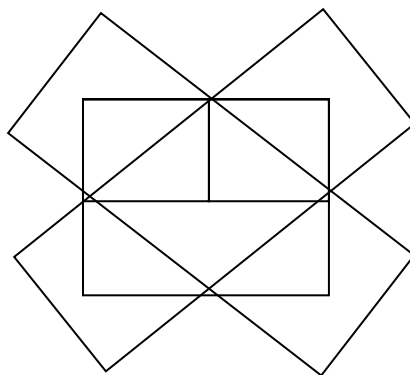
Ans. b

24. A girl introduced a boy as the son of the daughter of the father of her uncle. The boy is girl's?

- (a) Brother
- (b) Son
- (c) Uncle
- (d) Cousin

Ans. d

25. How many rectangles does this figure have ?

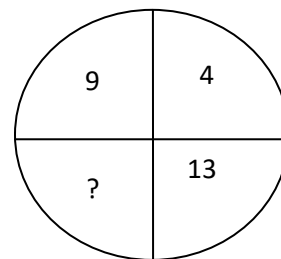
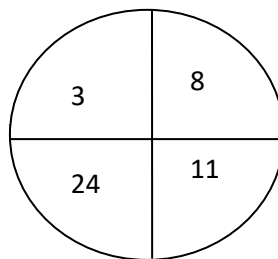
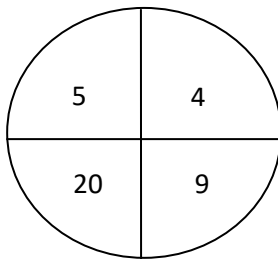




- (a) 10
- (b) 12
- (c) 13
- (d) 14

Ans. d

26. Find out the missing number.



- (a) 15
- (b) 117
- (c) 52
- (d) 28

Ans. d

27. A man walks 1 km to East and then he turns to South and walks 5 km. Again he turns to East and walks 2 km. After this he turns to North and walks 9 km. Now, how far is he from his starting point?

- (a) 3KM
- (b) 4KM
- (c) 5KM
- (d) 7KM

Ans. c

28. I walk 30 metres in North-West direction from my house and then 30 metres in South-west direction. After this I walk 30 metres in South-East direction. Now, I turn to my house, in what direction am I going?

- (a) North-East
- (b) North-West
- (c) South-East
- (d) South-West

Ans. a

29. It was Sunday on Jan 1, 2006. What was the day of the week on Jan 1, 2010?

- (a) Sunday
- (b) Saturday
- (c) Friday
- (d) Wednesday

Ans. c

30. Bank : River :: Shore : ?

- (A) Waves
- (B) Water
- (C) Sea
- (D) Tide

Ans. c

TEACHING POTENTIAL TEST

31. Which of the following reflects the nature of teaching?

- (a) It is an art.
- (b) It is a science.
- (c) It is an art as well as science
- (d) It is neither art nor science

Ans: c

32. Teaching is based upon the mastery of

- (a) Knowledge of concepts
- (b) Teaching skills
- (c) Decision-making skills
- (d) All of the above

Ans. d

33. A teacher asks the questions in the class to

- (a) Keep students busy
- (b) Maintain discipline
- (c) Attract student's attention
- (d) Teach

Ans : c

34. If students are not able to follow, you should

- (a) Give them prompt explanation
- (b) Make the matter easy
- (c) Illustrate with examples
- (d) All of the above

Ans: d

35. ICT stands for

- (a) Information Communication Technology
- (b) Information Computer Technology
- (c) Information Computer Teaching
- (d) Intelligent Computer Teaching

Ans : a

36. The best way to memorize is

- (a) Study for long time
- (b) To understand the concept
- (c) To read loudly
- (d) To write the concept

Ans : b

37. Teaching is the task of

- (a) Student
- (b) Teacher
- (c) Clerk
- (d) Accountant

Ans : b

38. The most essential quality of a teacher is

- (a) Social service
- (b) Deep knowledge of his subject
- (c) Hard work
- (d) Immense love for students

Ans : b

39. The purpose of parent teacher meet is

- (a) To discuss the performance of the students and remedial steps
- (b) To send memorandum to the government
- (c) To set up rule regulations of the school
- (d) To discuss the day to day performance of students

Ans : a

40. You want to develop cooperation and team spirit in students, with which would you promote?

- (a) Art
- (b) Debate
- (c) Project Work
- (d) Quiz

Ans : c

41. You want to adopt the teaching profession because

- (a) There are many others in the family who are teachers
- (b) There is no option to earn livelihood
- (c) Children give more respect and revenge
- (d) Opportunity to educate the future citizens of the nation

Ans : d

42. Family is the _____ school of a child.

- (a) First
- (b) Second
- (c) Third
- (d) Fourth

Ans : a

43. If a student is rude to you, which strategy would you adopt as a teacher?

- (a) Argue with the student
- (b) Express shock at such behaviour
- (c) Punish the student
- (d) Remind the student of classroom rules

Ans : d

44. Students pay respect to the teacher who

- (a) teaches in the right manner
- (b) is very healthy and handsome
- (c) has several degrees as qualification
- (d) teaches the student much

Ans : a

45. Blackboard can be included in which category of teaching aids?

- (a) Audio aids

- (b) Visual aids
- (c) Audio-visual aids
- (d) None of these

Ans : b

PART - B

ਪੰਜਾਬੀ

46. ਪੰਜਾਬੀ ਭਾਸ਼ਾ ਲਈ ਕਿਹੜੀ ਲਿਪੀ ਦੀ ਵਰਤੋਂ ਕੀਤੀ ਜਾਂਦੀ ਹੈ ?

(ੳ) ਦੇਵਨਾਗਰੀ

(ਅ) ਸ਼ਾਹਮੁਖੀ

(ੲ) ਰੋਮਨ

(ਸ) ਗੁਰਮੁਖੀ

Ans: (ਸ) ਗੁਰਮੁਖੀ

47. ਇਹਨਾਂ ਵਿੱਚੋਂ ਕਿਹੜਾ ਸ਼ਬਦ 'ਉਸਤਤ' ਦਾ ਸਮਾਨਾਰਥਕ ਨਹੀਂ ਹੈ ?

(ੳ) ਉਪਮਾ

(ਅ) ਖੁਸ਼ੀ

(ੲ) ਸ਼ਲਾਘਾ

(ਸ) ਪ੍ਰਸੰਸਾ

Ans: (ਅ) ਖੁਸ਼ੀ

48. ਪੰਜਾਬੀ ਭਾਸ਼ਾ ਵਿੱਚ ਕਿੰਨੇ ਲਗਾਖਰ ਦੀ ਵਰਤੋਂ ਕੀਤੀ ਜਾਂਦੀ ਹੈ ?

(ੳ) ਅੱਧਕ, ਲਾਂ, ਐੱਕੜ, ਸਿਹਾਰੀ (4)

(ਅ) ਕੰਨਾ, ਬਿੰਦੀ, ਬਿਹਾਰੀ, ਹੋੜਾ (4)

(ੲ) ਅੱਧਕ, ਬਿਹਾਰੀ, ਦੁਲੈਂਕੜ (3)

(ਸ) ਬਿੰਦੀ, ਟਿੱਪੀ, ਅੱਧਕ (3)

Ans: (ਸ) ਬਿੰਦੀ, ਟਿੱਪੀ, ਅੱਧਕ

49. ਬੁਰਾ ਰਿਵਾਜ ਪੈ ਜਾਣਾ ਲਈ ਕਿਹੜੇ ਮੁਹਾਵਰੇ ਦੀ ਵਰਤੋਂ ਕੀਤੀ ਜਾਂਦੀ ਹੈ?

(ੳ) ਵਲ ਛੱਲ ਕਰਨਾ

(ਅ) ਵਾ ਵੱਗ ਜਾਣੀ

(ੲ) ਬੀੜਾ ਚੁੱਕਣਾ

(ਸ) ਸਿਰ ਤੇ ਪੈਰ ਰੱਖ ਕੇ ਦੌੜਨਾ

Ans: (ਅ) ਵਾ ਵੱਗਜਾਣੀ

50. ਜਿੰਨਾ ਚਿਰ ਕਿਸੇ ਤੋਂ ਮਤਲਬ ਲੈਣਾ ਹੁੰਦਾ ਹੈ, ਉੱਨਾਂ ਚਿਰ ਉਹਨੂੰ ਸਲਾਹੁਣਾ ਵਡਿਆਉਣਾ, ਤੇ ਮਗਰੋਂ ਉਸੇ ਨੂੰ ਭੰਡਣ ਲੱਗ ਪੈਣਾ ਲਈ ਕਿਹੜੇ ਅਖਾਣ ਦੀ ਵਰਤੋਂ ਕੀਤੀ ਜਾਂਦੀ ਹੈ ?

(ੳ) ਕਾਲ ਦੀ ਬੱਧੀ ਨਾ ਮੰਗਿਆ, ਪਰ ਬਾਲ ਦੀ ਬੱਧੀ ਮੰਗਿਆ

(ਅ) ਗੁੜ ਦਿੱਤਿਆਂ ਮਰੇ ਤਾਂ ਮਹੁਰਾ ਕਿਉਂ ਦੇਈਏ ?

(ੲ) ਕੰਮ ਤੇ ਰਹੇ ਤਾਂ ਕਾਜੀ, ਨਾ ਰਹੇ ਤਾਂ ਪਾਜੀ

(ਸ) ਗੋਂ ਭੁਨਾਵੇ ਜੋਂ, ਭਾਵੇਂ ਗਿੱਲੇ ਹੋਣ

Ans: (ੲ) ਕੰਮ ਤੇ ਰਹੇ ਤਾਂ ਕਾਜੀ, ਨਾ ਰਹੇ ਤਾਂ ਪਾਜੀ

51. ਭਾਸ਼ਾ ਜਾਂ ਬੋਲੀ ਨੂੰ ਲਿਖਤੀ ਰੂਪ ਦੇਣ ਲਈ ਕੁਝ ਚਿੰਨ੍ਹ ਘੜੇ ਗਏ ਹਨ, ਇੰਨ੍ਹਾਂ ਚਿੰਨ੍ਹਾਂ ਦੇ ਸਮੂਹ ਨੂੰ ਕੀ ਕਿਹਾ ਜਾਂਦਾ ਹੈ ?

(ੳ) ਸ਼ਬਦ

(ਅ) ਲਿਪੀ

(ੲ) ਧੁਨੀ

(ਸ) ਵਾਕ

Ans: (ਅ) ਲਿਪੀ

52. ਅਨੁਨਾਸਿਕੀ ਅੱਖਰ ਕਿੰਨੇ ਹੁੰਦੇ ਹਨ ?

(ੳ) 5

(ਅ) 3

(ੲ) 6

(ਸ) 4

Ans: (ੳ) 5

53. ਇਹਨਾਂ ਵਿੱਚੋਂ ਕਿਹੜਾ ਸ਼ਬਦ ਜੋੜ ਸੁੱਧ ਹੈ?

(ੳ) ਪਰਵਰਤਨ

(ਅ) ਪਰਿਵਰਤਨ

(ੲ) ਪਰੀਵਰਤਨ

(ਸ) ਪ੍ਰਵਰਤਨ

Ans: (ਅ) ਪਰਿਵਰਤਨ

54. ਇਹਨਾਂ ਵਿੱਚੋਂ ਕਿਹੜਾ ਸ਼ਬਦ ਸਮਾਨਾਰਥਕ ਨਹੀਂ ਹੈ ?

(ੳ) ਯਥਾਰਥ

(ਅ) ਵਾਸਤਵਿਕ

(ੲ) ਹਕੀਕਤ

(ਸ) ਸਰੀਅਤ

Ans: (ਸ) ਸਰੀਅਤ

55. ਦੂਜਿਆਂ ਦੇ ਕੰਮਾਂ ਵਿੱਚ ਖਾਹ-ਮਖਾਹ ਦਖਲ ਦੇਣ ਵਾਲੇ ਨੂੰ ਕੀ ਕਿਹਾ ਜਾਂਦਾ ਹੈ?

(ੳ) ਖਾਂਘੜ

(ਅ) ਖੜਪੈਂਚ

(ੲ) ਖਿੱਲ

(ਸ)ਖਰੜ (ਅ) ਖੜਪੈਂਚ

56. ਪੰਜਾਬੀ ਭਾਸ਼ਾ ਵਿੱਚ ਕਿਹੜੇ-ਕਿਹੜੇ ਸਵਰ ਹਨ?

(ੳ) ਲ਼ ਹ ਅ

(ਅ) ਲ਼ ਅ ਏ

(ੲ) ਏ ਸ ਹ

(ਸ)ਅ ਏ ਹ

(ਅ) ਲ਼ ਅ ਏ

57. ਪੰਜਾਬੀ ਭਾਸ਼ਾ ਦੇ ਵਾਕ ਦੀ ਠੀਕ ਤਰਤੀਬ ਲਿਖੋ।

(ੳ) ਕਰਮ ਕਿਰਿਆ ਕਰਤਾ

(ਅ) ਕਿਰਿਆ ਕਰਮ ਕਰਤਾ

(ੲ) ਕਰਤਾ ਕਰਮ ਕਿਰਿਆ

(ਸ)ਇਨ੍ਹਾਂ ਵਿੱਚੋਂ ਕੋਈ ਨਹੀਂ

Ans:(ੲ) ਕਰਤਾ ਕਰਮਕਿਰਿਆ

58 : ਜਿਹੜਾ ਸ਼ਬਦ ਕਿਸੇ ਵਿਅਕਤੀ, ਸਥਾਨ, ਵਸਤੂ, ਗੁਣ ਆਦਿ ਦਾ ਬੋਧ ਕਰਵਾਉਂਦਾ ਹੋਵੇ, ਉਸਨੂੰ ਕੀ ਕਿਹਾ ਜਾਂਦਾ ਹੈ ?

(ੳ) ਪੜਨਾਂਵ

(ਅ) ਨਾਂਵ

(ੲ) ਕਿਰਿਆ

(ਸ)ਵਿਸ਼ੇਸ਼ਣ

Ans: (ਅ) ਨਾਂਵ

59. ਬਹੁਤੇ ਸ਼ਬਦਾਂ ਦੀ ਥਾਂ ਇੱਕ ਸ਼ਬਦ “ਹਰ ਥਾਂ ਮੌਜੂਦ ਰਹਿਣ ਵਾਲੇ” ਨੂੰ ਕੀ ਕਿਹਾ ਜਾਂਦਾ ਹੈ ?

(ੳ) ਸਰਬ ਸ਼ਕਤੀਮਾਨ

(ਅ) ਸਰਬ ਸੰਮਤੀ

(ੲ) ਸਰਬ ਪੂਰਨ

(ਸ)ਸਰਬ ਵਿਆਪੀ

Ans: (ਸ)ਸਰਬ ਵਿਆਪੀ

60. ਹੈਰਾਨੀ, ਖੁਸ਼ੀ, ਸਤਿਕਾਰ ਆਦਿ ਨੂੰ ਪ੍ਰਗਟ ਕਰਨ ਲਈ ਕਿਸ ਚਿੰਨ੍ਹ ਦੀ ਵਰਤੋਂ ਕੀਤੀ ਜਾਂਦੀ ਹੈ ?

(ੳ) ਪ੍ਰਸ਼ਨ ਚਿੰਨ੍ਹ

(ਅ) ਦੁਬਿੰਦੀ

(ੲ) ਵਿਸਮਿਕ ਚਿੰਨ੍ਹ

(ਸ)ਬਰੈਕਟ

Ans: (ੲ) ਵਿਸਮਿਕ ਚਿੰਨ੍ਹ

61. ਕਿਸੇ ਭਾਸ਼ਾ ਨੂੰ ਪੜ੍ਹਨ-ਲਿਖਣ ਲਈ ਬਣਾਏ ਗਏ ਨਿਯਮਾਂ ਦੇ ਸਮੂਹ ਨੂੰ ਕੀ ਕਿਹਾ ਜਾਂਦਾ ਹੈ ?

(ੳ) ਲਿਪੀ

(ਅ) ਵਰਣ

(ੲ) ਸਵਰ

(ਸ) ਵਿਆਕਰਣ

Ans: (ਸ) ਵਿਆਕਰਣ

62. ਪੰਜਾਬੀ ਉਪਬੋਲੀ ਦੁਆਬੀ ਕਿੱਥੇ-ਕਿੱਥੇ ਬੋਲੀ ਜਾਂਦੀ ਹੈ ?

(ੳ) ਹੁਸ਼ਿਆਰਪੁਰ, ਕਪੂਰਥਲਾ, ਜਲੰਧਰ

(ਅ) ਹੁਸ਼ਿਆਰਪੁਰ, ਕਪੂਰਥਲਾ, ਸੰਗਰੂਰ

(ੲ) ਕਪੂਰਥਲਾ, ਜਲੰਧਰ, ਬਠਿੰਡਾ

(ਸ) ਜਲੰਧਰ, ਰੋਪੜ, ਕਪੂਰਥਲਾ

Ans: (ੳ) ਹੁਸ਼ਿਆਰਪੁਰ, ਕਪੂਰਥਲਾ, ਜਲੰਧਰ

63. ਲਿਪੀ ਦੇ ਸ਼ਾਬਦਿਕ ਅਰਥ ਕੀ ਹਨ?

(ੳ) ਬਣੀ ਹੋਈ

(ਅ) ਤਿਆਰ ਕੀਤੀ ਹੋਈ

(ੲ) ਲੇਪੀ ਹੋਈ

(ਸ) ਪੜ੍ਹਾਈ ਗਈ

Ans: (ੲ) ਲੇਪੀ ਹੋਈ

64. ਆਪਣੇ ਕੋਲ ਪਈ ਚੀਜ਼ ਨੂੰ ਲੱਭਦੇ ਫਿਰਨਾ, ਦੇ ਆਧਾਰ ਤੇ ਕਿਹੜਾ ਅਖਾਣ ਢੁੱਕਵਾਂ ਹੈ ?

(ੳ) ਕੁੱਛੜ ਕੁੜੀ ਸਹਿਰ ਢੰਡੇਰਾ

(ਅ) ਕੱਖ ਉਹਲੇ ਲੱਖ

(ੲ) ਕਾਹਲੀ ਅੱਗੇ ਟੇਏ

(ਸ) ਇਨ੍ਹਾਂ ਵਿੱਚੋਂ ਕੋਈ ਨਹੀਂ

Ans: (ੳ) ਕੁੱਛੜ ਕੁੜੀ ਸਹਿਰ ਢੰਡੇਰਾ

65. ਵਿਸ਼ੇਸ਼ ਦੀਆਂ ਕਿੰਨੀਆਂ ਕਿਸਮਾਂ ਹਨ?

(ੳ) ਚਾਰ

(ਅ) ਪੰਜ

(ੲ) ਛੇ

(ਸ) ਅੱਠ

Ans: (ਅ) ਪੰਜ

HINDI

66. श, ष, स, ह कौनसे व्यंजन कहलाते हैं?
a) प्रकम्पी
b) स्पर्शी
c) संघर्षी
d) स्पर्श-संघर्षी उत्तर- c
67. निम्नमेंसे 'नासिक्य' व्यंजन कौन-सा है ?
a) ष
b) ज
c) ग
d) ज उत्तर- b
68. भाषा की सार्थक इकाई किसे कहा जाता है ?
a) शब्द
b) अक्षर
c) वाक्य
d) पदबंध उत्तर- a
69. शब्दकोश में से निम्न में से सर्वप्रथम आने वाला शब्द है
a) कमी
b) कमल
c) कमान
d) कर उत्तर- b
70. एक से अधिक वर्णों के मेल को क्या कहते हैं ?
a) अक्षर
b) स्वर
c) शब्द
d) व्यंजन उत्तर- d
71. 'घी के दिए जलाना' का अर्थ है ?
a) अपनी खुशी व्यक्त करना
b) अपने को अन्य से अलग समझना
c) रईसी प्रकट करना
d) दीपावली मनाना उत्तर- a
72. किस शब्द में उपसर्ग और प्रत्यय दोनों का प्रयोग हुआ है ?

- a) योग्यताओं
- b) क्षमताओं
- c) असफलता
- d) नम्रता

उत्तर-c

73. रूढ़शब्द किन्हें कहते हैं ?
- a) जिन शब्दों के सार्थक खंडन हो
 - b) जिनके अनेक अर्थ प्रचलित हो
 - c) जिनका एक ही अर्थ हो
 - d) जो संस्कृत से एहों

उत्तर-a

74. अनुचित बात के लिए किये गए हाथ को क्या कहते हैं ?
- a) आग्रह
 - b) दुराग्रह
 - c) हठी
 - d) सत्याग्रह

उत्तर-b

75. निम्नलिखित में से शुद्ध वर्तनी का चयन कीजिये
- a) पर्यटनं
 - b) संस्कृति
 - c) पर्यावरन
 - d) उल्लसित

उत्तर-b

76. शब्द युग्म के सही अर्थ भेद का चयन कीजिये
- अम्बुज - अम्बुद
- a) बादल-कमल
 - b) समुद्र - बादल
 - c) कमल - बादल
 - d) भ्रमर - मकरंद

उत्तर-d

77. निम्नलिखित में से कौन सा वर्ण उच्चारण की दृष्टि से दन्त्य नहीं है ?
- a) त
 - b) न
 - c) द
 - d) ट

उत्तर-d

78. सावधानी शब्द में कौन सा प्रत्यय है ?
- a) नी
 - b) धानी
 - c) ई

d) आनी

उत्तर-c

79. स्वरकितनेहोतेहैं ?

- a) 11
- b) 10
- c) 12
- d) 9

उत्तर-a

80. प्रत्ययक्याहै ?

- a) जोशब्दकेआगेलगताहै
- b) जोशब्दकेपीछेलगताहै
- c) जोशब्दकेबीचमेंलगताहै
- d) इनमेसेकोईनहीं

उत्तर-a

81. गालबजानाकाअर्थहै

- a) दूसरोंकीहसीउड़ाना
- b) अपनेमेंमस्तरहना
- c) अत्यंतप्रसन्नहोना
- d) बढ़चढ़करबातेंकरना

उत्तर-d

82. जोसदासेचलाआरहाहै ?

- a) सदैव
- b) परम्परागत
- c) शाश्वत
- d) सनातन

उत्तर-d

83. लिखितभाषामेंमूलध्वनियोंकेलिएजोचिन्हमानलिएगएहैंयाजिसरूपमेंलिखेजातेहैं, उसे क्याकहतेहैं ?

- a) स्वर
- b) लिपि
- c) ध्वनि
- d) व्यंजन

उत्तर-b

84. कौनसाशब्ददेशजनहींहैं?

- a) पत्र
- b) घपला

- c) पगड़ी
- d) लोटा

उत्तर-a

85. शब्दकोशमेंसेनिम्नमेंसेसर्वप्रथमआनेवालाशब्दहै

- e) कमी
- f) कमल
- g) कमान
- h) कर

उत्तर-b

ENGLISH

Read the following Paragraph and answer the following questions.

Dried fruits are useful in various diseases of the brain, muscles, and tissues. Almonds have unique properties to eliminate brain weakness and make it stronger. The almond preserves the vitality of the brain, straighten the muscles, destroys the diseases that originate in nervous and biliary disorders. Walnut is another dried fruit that has wonderful qualities to cure brain weakness. According to Dr. Johnson, almonds, figs, grapes, dates, apples and oranges are rich in phosphorous elements and should normally be consumed by brain workers. Phosphorous nourishes the vital tissues of the body. It keeps your mind full of enthusiasm for more work.

86. Dry Fruits are useful because they

- (a) Strengthen our heart
- (b) Cure various diseases of the brain, muscles and tissues
- (c) Give confidence to us
- (d) Empower us to do challenging tasks

Ans. d

87. Which one is not a property of almonds?

- (a) It preserves the vitality of the brain
- (b) It strengthens the muscles
- (c) It destroys diseases originating from nervous and bilious disorders
- (d) It strengthens our digestive system

Ans. b

88. Phosphoric element is profusely found in

- (a) Almonds, figs, grapes, dates, apples and oranges
- (b) Almonds, figs, papayas, guavas and pineapples
- (c) All the green vegetables
- (d) Seasonal fruits

Ans. a

89. Brain workers should take fruits rich in phosphoric elements because

- (a) They remove brain weakness
- (b) They nourish vital tissues of the body
- (c) They keep the mind full of enthusiasm
- (d) All the above

Ans. d

90. The word "Unique" means the same as

- (a) Ordinary
- (b) Highly qualified
- (c) Unusual
- (d) Distinctive

Ans. d

91. A synonym for solution is _____.

- (a) affirmative
- (b) amaze
- (c) ask
- (d) answer

Ans. d

92. What is synonym of community?

- A ancient
- B blink
- C list
- D society

Ans. d

93. What is antonym of urban?

- A pastoral
- B country-made
- C rural
- D provincial

Ans. c

94. What is antonym of destroy?

- (a) make
- (b) produce
- (c) create
- (d) invest

Ans. c

Choose the most appropriate preposition out of the given four options in the following questions.

95. We are playing ____ the playground.

- A within
- B in
- C into
- D under

Ans. b

96. It is dangerous to enter ____ enemy's camp.

- (a) in
- (b) into
- (c) on
- (d) through

Ans. b

Choose the one which can be substituted for the given sentences.

97. Writing of one's life story

- (a) Biography
- (b) Autobiography
- (c) Photography
- (d) Soliloquy

Ans. a

98. A good place for sick people

- (a) Resort
- (b) Hospital
- (c) Sanitarium
- (d) Asylum

Ans. b

99. *Choose the correct spellings of the following.*

- (a) Tomorrow
- (b) Tommorrow
- (c) Tomorrow
- (d) Tommorrow

Ans. c

Choose the right option which correctly explains the given meaning of idiom or phrase.

100. Give a hand _____

A to offer help

B to shake

C to take help

D to joke with those who need help

Ans. a

101. A piece of cake _____

- (a) easy to do
- (b) difficult
- (c) difficult to do
- (d) easy and difficult

Ans. a

Choose the correct option indicating type of given sentence

102. Would you like some coffee?

- (a) Imperative Sentence
- (b) Declarative Sentence
- (c) Interrogative sentence
- (d) Exclamatory sentence

Ans: c

Make the corrections in the following sentence and choose the correct option

103. Ravi is _____ a song.

- (a) Singing
- (b) Sang
- (c) Sing
- (d) Sung

Ans: a

Choose the correct Translation of the given sentences

104. ਅੰਗਰੇਜ਼ੀ ਵਿੱਚ ਪਹਿਲੇ ਨੰਬਰ ਤੇ ਕੌਣ ਆਇਆ ਹੈ ?

- (a) Who have stood first in English?
- (b) Who has stood first in English?

- (c) Who stands first in English?
- (d) Who stood first in English?

Ans: b

105. ਕਿਣ-ਮਿਣ ਹੋਰਹੀਹੈ।

- (a) It has been drizzling.
- (b) It is raining.
- (c) It is drizzling.
- (d) It has drizzling.

Ans: c

PART: C
MATHEMATICS

106. If a and b are two odd numbers, then which of the following is even?

- (a) $a + b + 2ab$
- (b) $a + b + ab$
- (c) $a + b + 1$
- (d) None of the above

Ans: a

107. If $(64)^2 - (36)^2 = 20 * x$, then what is the value of x?

- (a) 120
- (b) 140
- (c) 112
- (d) None of the above

Ans: b

108. Which of the following fraction is the smallest?

- (a) $14/33$
- (b) $7/13$
- (c) $11/13$
- (d) $8/15$

Ans: a

109. Find H.C.F. of 42 and 70.

- (a) 7
- (b) 14
- (c) 21
- (d) 28

Ans: b

110. The average of the first five multiple of 9 is

- (a) 20
- (b) 27
- (c) 28
- (d) 30

Ans: b

111. The ratio of 1.5 m to 10 cm is:

- (a) 1 : 15
- (b) 15 : 10
- (c) 10 : 15
- (d) 15 : 1

Ans: d

112. The length and breadth of a rectangle are in the ratio 3 : 1. If the breadth is 7 cm, then the length of the rectangle is:

- (a) 14 cm

- (b) 16 cm
- (c) 18 cm
- (d) 21 cm

Ans: d

113. Income of A is 25% more than the income of B. What is the income of B in terms of income of A?

- (a) 80%
- (b) 75%
- (c) 78.66%
- (d) 71.25%

Ans: a

114. The ratio of cost price and selling price is 4:5. The profit percent is

- (a) 10%
- (b) 20%
- (c) 25%
- (d) 30%

Ans: c

115. Find the value of $5.5 - 0.005$?

- (a) 5.0045
- (b) 5.045
- (c) 5.45
- (d) 5.495

Ans: d

116. A man buys an article for Rs. 27.50 and sells it for Rs. 28.60. Find his gain percent.

- (a) 4%
- (b) 5%
- (c) 10%
- (d) 15%

Ans: a

117. If a man runs at 3 metres per second, how many kilometers does he run in 1 hour 40 minutes.

- (a) 18 Km
- (b) 19 Km
- (c) 20 Km
- (d) 17 Km

Ans: a

118. Find simple interest on Rs. 6250 at 14% per annum for 146 days.

- a. 350
- b. 300
- c. 375
- d. 380

Ans: a

119. Find compound interest on Rs. 6250 at 16% per annum for 2 years, compounded annually.

- (a) 2160
- (b) 2100
- (c) 2150
- (d) 3000

Ans: a

120. Find the least number divisible by 12, 15, 20 and 27.

- (a) 500
- (b) 540
- (c) 600
- (d) 580

Ans: b

SOCIAL SCIENCE

121. Who was the first martyr of 1857 revolt ?

- a. Rani Jhansi
- b. Mangal pandey
- c. Tanya tope
- d. Bahadur shah

Ans: b

122. The revolt of 1857 had its beginning in _____

- a. Meerut
- b. Plassey
- c. Madras
- d. Bombay

Ans: a

123. Sati system was abolished by

- a. Lord warren hasting
- b. Lord Wellesley
- c. Lord William Bentinck
- d. Lord Ripon

Ans: c

124. Who among the following abolished 'Dual Government' system in Punjab

- a. Robert Clive
- b. Lord Corn Wallis
- c. Lord warren hasting
- d. None of the above

Ans: c

125. Who is popularly known as 'Grand old man of India'

- a. Bal Gangadhar Tilak
- b. Dada Bhai Naoroji
- c. Gopal Krishna Gokhale
- d. Mahatma Gandhi

Ans: b

126. Who said that Indian National Congress is a 'Begging Institute'?

- a. Mahatma Gandhi
- b. Bipin Chandra pal
- c. Bal Gangadhar Tilak
- d. Aurobindo Ghosh

Ans: d

127. The part of constitution that reflects the mind and ideals of its framers

- a. Fundamental rights
- b. Fundamental duties
- c. Directive principles of state policy
- d. The Preamble

Ans: d

128. Article 1 of the constitution declares India as

- a. Federal state
- b. Quasi federal state
- c. Unitary state
- d. Union of states

Ans: d

129. The Supreme Court of India was

- a. Created by the constitution
- b. Created through a presidential orders in 1951
- c. Created by an act of parliament in 1950
- d. Created by the Indian independence act 1947

Ans: a

130. Which day is celebrated as 'World Water Day'?

- a. 22nd march
- b. 10th December
- c. 13th November
- d. 27th January

Ans: a

131. Least population in India

- a. Uttar Pradesh
- b. Himachal Pradesh
- c. Sikkim
- d. All of the above

Ans: c

132. Total number of states in INDIA

- a. 28
- b. 27
- c. 25
- d. 22

Ans: a

133. _____ is known as 'Land of Thunder Dragons'

- a. Bhutan
- b. Sri Lanka
- c. Nepal

d. Bangladesh

Ans: a

134. Who measured the first National income of INDIA

- a. Dadabhai naoroji
- b. William digboi
- c. V.K.RV Rao
- d. Professor P.C. Mahalanabir

Ans: a

135. The concept of GDP was developed by

- a. Adam smith
- b. Simon Kuznells
- c. John maynerd keyner
- d. None of the above

Ans: b

NATURAL SCIENCE

136. The energy of a body due to its motion is called as:

- (a) Gravitation energy
- (b) Kinetic energy
- (c) Potential energy
- (d) All of these

Answer: b

137. Which one of the following is not the unit of energy?

- (a) Newton meter
- (b) Joule
- (c) Kilowatt
- (d) Kilowatt Hour

Answer: c

138. The gravitational force causes:

- (a) Tides
- (b) Motion of moon
- (c) None of them
- (d) Both a and b

Answer: d

139. Earth moves in a circular motion around the Sun because of which force?

- (a) Frictional
- (b) Gravitational
- (c) Electrical
- (d) Mechanical

Answer: b

140. What percent of the worlds' water is salt water?

- (a) 97%
- (b) 78%
- (c) 50%
- (d) 26%

Answer: a

141. Which of the following is needed for the combustion of substances?

- (a) Carbon dioxide
- (b) Nitrogen
- (c) Noble gases
- (d) Oxygen

Answer: d

142. Which blood vessels carry deoxygenated blood from all body parts back to the heart?

- (a) Arteries
- (b) Veins
- (c) Capillaries
- (d) Septum

Answer: b

143. The only metal that exists as liquid at room temperature:

- (a) Mercury
- (b) Chlorine
- (c) Bromine
- (d) Gold

Answer: a

144. Vinegar is a solution of

- a) 30-40% acetic acid in alcohol
- b) 5-8% acetic acid in alcohol
- c) 5-8% acetic acid in water
- d) 15-20% acetic acid in water

Answer: c

145. The image of an object is always formed at the:

- a) iris
- b) retina
- c) pupil
- d) lens

Answer: b

146. Sound cannot travel through:

- a) solid
- b) liquid
- c) gases
- d) vacuum

Answer: d

147. The chemical formula of Calcium Oxide is:

- a) CaO
- b) Ca₂ O
- c) CaO₃
- d) Ca₂ O₃

Answer: a

148. Which of the following are parts of the human respiratory system?

- a) Trachea

- b) Diaphragm
- c) The lungs
- d) All of the above

Answer: d

149. The largest gland in Human body is:

- a) Pancreas
- b) Liver
- c) Thyroid
- d) Adrenal

Answer: b

150. Nervous System is made of special cells called:

- a) Nephrons
- b) Follicles
- c) Neurons
- d) All of above

Answer: c