

ਦਫਤਰ ਡਾਇਰੈਕਟਰ ਐਸ.ਸੀ.ਈ.ਆਰ.ਟੀ. ਪੰਜਾਬ

ਬਲਾਕ-ਈ, ਪੀ.ਐਸ.ਈ.ਬੀ. ਕੰਪਲੈਕਸ, ਵਿੱਦਿਆ ਭਵਨ, ਛੇਵੀਂ ਮੰਜਿਲ, ਫੇਜ਼-8, ਮੋਹਾਲੀ, ਫੋਨ ਨੰ. 0172-2212221

ਵੱਲ

ਸਮੂਹ ਜਿਲ੍ਹਾ ਸਿਖਿਆ ਅਫਸਰ (ਸੈ.ਸਿੱ.),
ਸਮੂਹ ਸਕੂਲ ਮੁੱਖੀ (ਵੈਬਸਾਈਟ ਰਾਹੀਂ)
ਸਬੰਧਤ ਅਧਿਆਪਕ

ਮੀਮੋ ਨੰ. SECRET, OP/UP/2021-367531

ਮਿਤੀ - 17-Nov-2021

ਵਿਸ਼ਾ :- ਨਾਨ-ਬੋਰਡ ਜਮਾਤਾਂ (6 ਵੀਂ, 7 ਵੀਂ, ਅਤੇ 9 ਵੀਂ) ਦੀ ਟਰਮ-1 ਦੇ ਅੰਗਰੇਜ਼ੀ ਅਤੇ ਸਮਾਜਿਕ ਵਿਸ਼ੇ ਦੇ
ਮਾਡਲ ਪ੍ਰਸ਼ਨ ਪੱਤਰਾਂ ਸੰਬੰਧੀ।

- 1.0 ਉਪਰੋਕਤ ਵਿਸ਼ੇ ਵੱਲ ਧਿਆਨ ਦੇਣ ਦੀ ਖੇਚਲ ਕੀਤੀ ਜਾਵੇ ਜੀ।
- 2.0 6 ਵੀਂ, 7 ਵੀਂ ਅਤੇ 9 ਵੀਂ ਜਮਾਤ ਦੀ ਟਰਮ-1 ਦੇ ਅੰਗਰੇਜ਼ੀ ਅਤੇ ਸਮਾਜਿਕ ਵਿਸ਼ੇ ਦੇ ਮਾਡਲ ਪ੍ਰਸ਼ਨ
ਪੱਤਰ ਤਿਆਰ ਕੀਤੇ ਗਏ ਹਨ। ਇਸ ਨੂੰ ਅਧਿਆਪਕ ਵਰਗ ਅਤੇ ਵਿਦਿਆਰਥੀਆਂ ਦੀ ਸਹੂਲਤ ਲਈ
www.ssapunjab.org ਦੀ website ਤੇ ਅਪਲੋਡ ਕੀਤਾ ਜਾ ਰਿਹਾ ਹੈ।

ਨੋਟ:- 6 ਵੀਂ, 7 ਵੀਂ ਅਤੇ 9 ਵੀਂ ਜਮਾਤ ਦੀ ਟਰਮ-1 ਦੇ ਅੰਗਰੇਜ਼ੀ ਅਤੇ ਸਮਾਜਿਕ ਵਿਸ਼ੇ ਦੇ ਮਾਡਲ ਪ੍ਰਸ਼ਨ
ਪੱਤਰ।



ਡਾਇਰੈਕਟਰ

ਐਸ.ਸੀ.ਈ.ਆਰ.ਟੀ. ਪੰਜਾਬ।

Sample Paper English
TERM -I
CLASS - IX

Maximum Marks: 40

Section A - Reading Skills

Read the passage carefully and answer the questions that follow.

5 Marks

I have heard nearly as much nonsense about zoos as I have heard about God and religion. Well-meaning but misinformed people think animals in the wild are "happy" because they are "free". These people usually have a large, handsome predator in mind, a lion or a cheetah. They imagine this wild animal roaming about the Savannah on digestive walks after eating a prey that accepted its lot piously, or going for calisthenic runs to stay slim after overindulging. They imagine this animal overseeing its offspring proudly and tenderly, the whole family watching the setting of the sun from the limbs of trees with sighs of pleasure. The life of the wild animal is simple, noble and meaningful, they imagine. Then it is captured by wicked men and thrown into tiny jails. Its "happiness" is dashed. It yearns mightily for "freedom" and does all it can to escape. Being denied its "freedom" for too long, the animal becomes a shadow of itself. Animals in the wild lead lives of compulsion and necessity within an unforgiving social hierarchy in an environment where the supply of fear is high and the supply of food is low and where territory must constantly be defended and parasites forever endured. What is the meaning of freedom in such a context? Animals in the wild are in practice, free neither in space nor in time, nor in their personal relations. In theory- that is, a simple physical possibility - an animal could pick up and go, flaunting all the social conventions and boundaries proper to its species, if a man, boldest and most intelligent to creatures, won't wander from place to place, a stranger to all, beholden to none, why would an animal, which is by temperament far more conservative? The small changes can upset them. They want things to be just so, day after day, month after month.

Q.1 Those who think that animals in the wild are happy are.....

- | | |
|---------------------------------|------------------------------|
| a. uninformed | b. misinformed |
| c. well-meaning but misinformed | d. not sufficiently awakened |

Q.2 When wild animals are captured and thrown into tiny jails.....

- | | |
|-------------------------------------|------------------------------|
| a. they feel restless | b. their happiness is dashed |
| c. they lose interest in everything | d. all of these |

Q.3 Choose the incorrect statement-

- a. Some people think that the life of wild animals is simple, noble and meaningful.
- b. Animals in the wild lead lives of compulsion.
- c. Animals in the wild are free neither in space nor time.
- d. Animals by temperament are not conservative.

Q.4 Choose the correct synonym for the word 'conservative'.

- a. liberal b. progressive c. modern d. orthodox

Q.5 What message does this passage convey?

- a. Animals in the wild are happy.
b. Animals in the wild lead a simple and noble life.
c. It contradicts the view that animals in the wild are happy as they are free.
d. It contradicts the view that animals in the wild are not happy as they are free.

Section B - Literature and Poetry

15 Marks

Main Course Book (Questions from 6-11)

a. Choose the correct option for the following questions.

6 Marks

6) Whom did Abraham Lincoln write the letter to? (Grooming of a Boy)

- a. his son b. his daughter c. his son's teacher d. his son's friend

7) Where did Bose go for higher studies? (Plants also Breathe and Feel)

- a. England b. Europe c. Italy d. Egypt

8) Where did Bose display his machine? (Plants also Breathe and Feel)

- a. at the Paris Science Congress b. at the England Science Congress
c. at the convocation of the University of Mysore d. during his job in Kolkata

9) Whose power is greater than that of money? (Budgeting Your Time)

- a. power of man b. power of time
c. power of human relationships d. all of these

10) How old was Sher Singh? (Journey by Night)

- a. ten years old b. twelve years old c. eleven years old d. fifteen years old

11) How far was the hospital where Kunwar was to be taken? (Journey by Night)

- a. 40 kilometers away b. 80 kilometers away
c. 50 kilometers away d. 60 kilometers away

b. English Supplementary Reader (Questions from 12 to 16) 5 Marks

12) Whom did the boy ask for work? (The Magic Violin)

- a. the beggar b. the magistrate c. the hangman d. the farmer

13) How much did the farmer pay to the boy as wages? (The Magic Violin)

- a. three copper coins b. three silver coins c. three gold coins d. three brass coins

14) What excuse did Sushil make for not going to school? (Wishes Come True)

- a) tummy ache b) severe cold c) high fever d) severe headache

15) How were Subhalchandra and Sushilchandra related to each other? (Wishes Come True)

- a. They were close friends. b. They were father and son.
c. They were cousins. d. They were neighbours.

16. Where did the villagers go for safety? (In the Flood)

- a. to the palace b. to the village school c. to the fields d. to the village temple

c. English Main Course Book (Poetry) (Questions from 17 to 20) 4 Marks

A: Read the stanza below and answer the questions that follow:

a) Deliverance? Where is this deliverance

to be found? Our master himself

has joyfully taken upon him the bonds

of creation; He is bound with us all forever.

Q17) Choose the correct option which depicts the name of the poem and the poet.

- a. Open Thy Eyes and See Thy God by Rabindranath Tagore
b. No Men Are Foreign by James Kirkup
c. Excelsior by H.W. Longfellow
d. The Nightingale and the Glow - worm by William Cowper

18) Who is our master?

- a. God b. money c. power d. none of these

B) Understanding based questions from the poetry section:

19) God can be found by..... (Open Thy Eyes and See Thy God)

- a. chanting hymns
- b. telling the beads
- c. praising Him day and night
- d. none of these

20) What is the theme or central idea of the poem "No Men are Foreign"?

- a. All men are foreign and all countries are strange.
- b. No men are foreign and no countries are strange.
- c. We all are strangers and we live in foreign countries.
- d. We should hate foreigners and strangers.

Section C - Vocabulary 3 Marks

Answer the following questions by selecting the most appropriate options:

21) Choose the best suited meaning for the statement given below:

Raghu is well set in his new job.

- a. started
- b. settled
- c. fixed
- d. both a and b

22) Get your luggage booked. (Choose the correct part of speech for the underlined word)

- a. noun
- b. verb
- c. adjective
- d. adverb

23) Choose the correct synonym of the word 'begin'.

- a. ended
- b. start
- c. close
- d. finish

Section D - Translation, Grammar and Composition 17 Marks

a) Translate the following sentences from English to Punjabi: (2X1=2 Marks)

24) Steer him from envy.

- a. ਉਸ ਨੂੰ ਈਰਖਾ ਵਰਨੀ ਸਿਖਾਓ।/उस को ईर्षा करनी सिखाओ।
- b. ਉਸ ਨੂੰ ਈਰਖਾ ਤੋਂ ਦੂਰ ਲੈ ਜਾਓ।/ उस को ईर्षा से दूर ले जाओ।
- c. ਉਸ ਨੂੰ ਈਰਖਾ ਨਹੀਂ ਵਰਨੀ ਚਾਹੀਦੀ।/ उसे कोई ईर्षा नहीं करनी चाहिए।
- d. ਈਰਖਾ ਵਰਨੀ ਬੁਰੀ ਗੱਲ ਹੈ।/ ईर्षा करनी बुरी बात है।

25). There are no men in the village.

- a. ਪਿੰਡ ਵਿੱਚ ਕੋਈ ਆਦਮੀ ਨਹੀਂ ਹੈ।/ ਗਾਂਵ ਮੇਂ ਕੋਈ ਆਦਮੀ ਨਹੀਂ ਹੈ।
- b. ਪਿੰਡ ਵਿੱਚ ਕੋਈ ਆਦਮੀ ਨਹੀਂ ਸਨ।/ ਗਾਂਵ ਮੇਂ ਕੋਈ ਆਦਮੀ ਨਹੀਂ ਥੇ।
- c. ਪਿੰਡ ਵਿੱਚ ਕੋਈ ਆਦਮੀ ਨਹੀਂ ਹੋਵੇਗਾ।/ ਗਾਂਵ ਮੇਂ ਕੋਈ ਆਦਮੀ ਨਹੀਂ ਹੋਗਾ।
- d. ਪਿੰਡ ਵਿੱਚ ਕਈ ਆਦਮੀ ਸਨ।/ਗਾਂਵ ਮੇਂ ਕਈ ਆਦਮੀ ਥੇ।

b) Translate the following sentences from Punjabi to English. (2X1=2 Marks)

26. ਅਧਿਆਪਕ ਪਾਠ ਨਹੀਂ ਪੜ੍ਹਾ ਚੁੱਕਾ ਸੀ।/ ਅਧਿਆਪਕ ਪਾਠ ਨਹੀਂ ਪੜ੍ਹਾ ਚੁਕਾ ਥਾ।

- a. The teacher had not taught the lesson.
- b. The teacher has not taught the lesson.
- c. The teacher will not teach the lesson.
- d. The teacher would have taught the lesson.

27. ਸੂਰਜ ਪੂਰਬ ਵਿੱਚੋਂ ਨਿਕਲਦਾ ਹੈ। / ਸੂਰ੍ਯ ਪ੍ਰਵ ਮੇਂ ਸੇ ਨਿਕਲਤਾ ਹੈ।

- a. The sun rises in the east.
- b. The sun has risen in the east.
- c. The sun will rise in the east.
- d. The sun had risen in the east.

c. Grammar (Do as directed:)

(8 Marks)

Answer the following questions by selecting the most appropriate option.

28. Fill the blanks with suitable determiners. (28-29)

Have you got _____ butter?

- a. any
- b. some
- c. an
- d. every

29. Gita is _____ intelligent girl.

- a. a
- b. an
- c. the
- d. none of these

Fill the blanks with suitable prepositions. (30-31)

30. I feel no appetite _____ food.

- a. of
- b. for
- c. with
- d. to

31. Distribute these books _____ the students.

- a. with b. among c. between d. to

Select the correct clause for the underlined part.

32. The boy who is wearing red shirt is the monitor.

- a. Adjective clause b. Adverb clause c. Noun clause d. Main clause

Choose the correct passive forms of the given sentences.(33-34)

33. She will water the plants.

- a. The plants will be watered by her. b. The plants will watered by her.
c. The plants would be watered by her. d. The plants were watered by her.

34. Whom do you love?

- a. Who was loved by you? b. Who is loved by you?
c. By whom are you loved? d. Who loved you?

35. Choose the correct verb to fill the blank.

Time and tide _____ for none.

- a. wait b. waits c. is waiting d. will be waiting

d) Composition Part: (36 to 38)

Read the following and answer the questions with the help of the given reference.

Mr. Bedi is our neighbour.....a retired professor..... in spite of his old age.....very active.....man of some good qualities.....very helpful to poor and needy people.....involved in many social activities.....set up an orphanage and a dispensary in the village..... everyone respects him

36. Choose the most appropriate description of a neighbour from the following statements.

- a. The name of our neighbour is Mr. Bedi and he is a very active person.
b. He is a retired professor but even after retirement he never remained idle.
c. He is an active member of our village and he is quite young in his age.
d. He is involved in many social activities and he is a respectable man.

37. Choose a word from the options to complete the sentence meaningfully.

After his retirement, he did not sit _____ and engaged himself in social work.

- a. idle b. properly c. in his room d. anywhere

38. Select an appropriate sentence for concluding the paragraph.

- a. To sum up, people have great respect for him because he is a nice and helpful person.
- b. Mr. Bedi is my neighbour and he is around 82 years old.
- c. He was a professor in Mathematics and now he is a retired person.
- d. He is not an idle person and has opened a dispensary in the village.
- e. Choose the correct options with reference to an Email. (39 to 40)

39. The e-mail address of the person whom you are sending the email message should be typed in the ____ slot.

- a. from b. to c. Cc d. Bcc

40. Which among the following are some commonly used short forms (acronyms) understood by the e-mail users ?

- a. ADN b. BBL c. DIKU d. All of these

Subject- English
Sample Paper (Term I)
Session 2021-22
Class VI

Time:

M.M.40

General Instructions:

- 1. The Question Paper carries 40 questions.**
- 2. Each question consists of 1 mark only.**
- 3. All questions are compulsory.**
- 4. No choice is given in any of the question.**
- 5. There is no negative marking.**

Section-A (Reading Skills)

Read the passage and answer the questions (1-4) that follow:

All the animals of the forest gathered to elect their new king. They chose the monkey because they were amused by his fun elements. The fox was very disappointed at not being chosen and waited for a chance to get mock the monkey. One day, he found a piece of meat on a path. He realised at once it was the bait for a trap. But off he went to the monkey and offered to show him where it was, as sign of his loyalty. The monkey king at once fell into the trap and the fox burst out laughing. 'With so few wits, you cannot even rule yourself; let alone animals.'

- 1. Why did the animals elect the monkey as their king?**
 - a. because he was very intelligent
 - b. because he pleased the animals with his funny tricks
 - c. because he could climb the highest trees
 - d. because he was liked by all in the forest
- 2. Why was the fox disappointed?**
 - a. because he wanted to become the king
 - b. because he was not chosen the king by the animals
 - c. both 'a' and 'b'
 - d. none of the above
- 3. Why did the fox show the piece of meat to the monkey?**
 - a. out of loyalty
 - b. out of disappointment
 - c. just for fun
 - d. to prove the monkey stupid
- 4. Which word in the passage means 'food which is put to catch animals'?**
 - a. elements
 - b. wits
 - c. bait
 - d. amused

Read the dialogue and answer the questions (5-8) that follow:

Mansi: Hey Mehul!

Mehul: Yes Mansi, what is wrong?

Mansi: Oh Mehul! I need your help. Can you help me please?

Mehul: Mmm.....Yes I can. But what happened?

Mansi: I have a project that I have to finish until tomorrow. I thought I could finish it on my own but I couldn't. Now, I am helpless and don't know what to do.

Mehul: Calm down. Tell me what is it about?

Mansi: It is an English project. It is about the difference between British and American English words.

Mehul: But I am not good at English.....You know.....

Mansi: Hmmm.....Hey, you said you had a cousin teaching English in Government School. She may help us.

Mehul: Ohh right! We can take her help. We can ask our questions and she can answer.

Mansi: Yeah, great idea! Then let's go to her place.

Mehul: Ok Mansi. Just wish that she might be free and help us.

5. What is the conversation about?

- a. English Project
- b. Government School
- c. Mehul's cousin
- d. Teaching English

6. Who is given a project?

- a. Mehul
- b. Mansi
- c. English Teacher
- d. Mansi's cousin

7. What is the topic of the project?

- a. British English Words
- b. American English Words
- c. Differentiate British and American English Words
- d. Find British and American English Words

8. Who teaches English in Government School?

- a. Mansi's cousin brother
- b. Mansi's cousin sister
- c. Mehul's cousin brother
- d. Mehul's cousin sister

Section-B (Literature)

9. What present does the mother get from the cow? (The Farmhouse Cows)

- a. milk
- b. cream
- c. a loaf of bread
- d. a piece of cheese

10. What was close to the lake? (The Lake of the Moon)

- a. a big forest
- b. a colony of rabbits
- c. a herd of elephants
- d. the moon

11. What did the little rabbit climb? (The Lake of the Moon)

- a. a mountain
- b. a lake
- c. a huge rock
- d. on the back of the elephant

12. Why did the boy want to go to another city? (The Giving Tree)

- a. to do a business
- b. to get married
- c. to roam around
- d. to sell apples

13. What did the crow not like about himself? (The Peacock and the Crow)

- a. his colourful feathers
- b. his friends
- c. the peacocks
- d. his black feathers

14. What did the crow see on the ground? (The Peacock and the Crow)

- a. peacock feathers
- b. his own feathers
- c. his reflection
- d. the other crow's feathers

15. What is the meaning of the word 'delicious'? (The Farmhouse Cows)

- a. ਸੁਆਦੀ
- b. ਟੁੱਕੜਾ
- c. ਪਨੀਰ
- d. ਹੇਠਾਂ

16. What is the meaning of the word 'swift'? (How Beautiful is the Rain!)

- a. चैली
- b. उल्ल
- c. वरिष्ठ
- d. गली

17. Fill in the blank with a suitable word.

The boy cut off the branches to make a _____. (The Giving Tree)

- a. boat
- b. money
- c. tree
- d. house

18. Who said these words and to whom?

"We should accept ourselves the way we are."

(The Peacock and the Crow)

- a. The crow
- b. The crow's friends
- c. The old crow
- d. The peacock

Read the given stanza and answer the questions (19-20):

I brought home a puppy

He looked very happy!

(My Furry Friend)

19. What did the poet bring home?

- a. a young dog
- b. a young cow
- c. a young lion
- d. a young cow

20. Who looked happy?

- a. the poet
- b. the puppy
- c. both of the above
- d. none of the above

21. Which are the places where the rain falls? (How Beautiful is the Rain!)

- a. wide streets
- b. narrow streets
- c. both 'a' and 'b'
- d. only 'b'

22. What gushes and struggles out? (How Beautiful is the Rain!)

- a. the roofs
- b. the rain water
- c. the tides
- d. the river

23. Fill in the blank with correct collective noun.

A _____ of fruits.

- a. bouquet
- b. bunch
- c. basket
- d. pack

24. What is the opposite of the word 'give'?

- a. sad
- b. take
- c. buy
- d. go

Section-C (Grammar and Writing)

Choose the correct translation of the following sentences. (25-28)

25. Let's play a game.

- a. ਆਓ ਇੱਕ ਖੇਡ ਖੇਡੀਏ।
- b. ਕੀ ਆਓ ਇੱਕ ਖੇਡ ਖੇਡੀਏ?
- c. ਆਓ ਇੱਕ ਖੇਡ ਨਾ ਖੇਡੀਏ।
- d. ਇੱਕ ਖੇਡ ਖੇਡੀਏ।

26. Don't stand here.

- a. ਇੱਥੇ ਖੜੋ ਹੋਵੋ।
- b. ਖੜੋ ਹੋਵੋ
- c. ਖੜੋ ਨਾ ਹੋਵੋ।
- d. ਇੱਥੇ ਖੜੋ ਨਾ ਹੋਵੋ।

27. ਲਾਈਟ ਬੰਦ ਕਰ ਦਿਓ।

- a. Switched off the light.
- b. Switch off the light.
- c. Switch on the light.
- d. Switched on the light.

28. ਆਪਣਾ ਕੰਮ ਕਰੋ।

- a. Do work.
- b. Work well.
- c. Do your work.
- d. Don't work.

29. Tell the Proper Noun in the given sentence.

Harjot wants some ice-cream.

- a. Harjot
- b. wants
- c. some
- d. ice-cream

30. What is the plural of 'ox'?

- a. oxs
- b. oxes
- c. oxen
- d. oxens

31. What is the gender of 'gander'?

- a. niece
- b. goose
- c. grandson
- d. nephew

32. Put comma, full stop, capital letter, question mark wherever needed.

please get biscuits vegetables fruits and some nuts from the market

- a. Please get biscuits vegetables fruits and some nuts from the market.
- b. Please get biscuits, vegetables fruits and some nuts from the market
- c. Please get biscuits, vegetables fruits and some nuts from the market.
- d. Please get biscuits, vegetables, fruits and some nuts from the market.

33. Use capital letters where needed in the sentence.

does pratima live in mumbai?

- a. Does pratima live in mumbai?
- b. Does Pratima live in mumbai?
- c. Does Pratima live in Mumbai?
- d. Does Pratima Live in Mumbai?

34. Fill in the blank with a suitable pronoun.

_____ bike is that?

- a. whom
- b. whose
- c. what
- d. who

35. Fill in the blank with a suitable pronoun.

Are _____ your shoes?

- a. that
- b. them
- c. those
- d. this

36. Which of these lines can be included in the paragraph 'Cow'?

- a. We cannot be friends with cows.
- b. The cow gives us delicious things.
- c. A cow is a useless animal.
- d. We become unhealthy with the milk of cow.

You have to write a letter to your uncle thanking him for the beautiful gift he has sent to you. Answer the given questions accordingly. (37-38)

37. Whose address would be written in the beginning?

- a. receiver
- b. sender
- c. post office
- d. none of the above

38. Where would you write the date?

- a. after address of the writer
- b. after body of the letter
- c. in the end
- d. no date would be there in the letter

You have to write a letter to your friend to invite him for your birthday party. Answer the given questions accordingly. (39-40)

39. How would you begin the body of the letter?

- a. You will be glad to know.....
- b. You will be sad to know.....
- c. You will be sorry to know.....
- d. You will be unhappy to know.....

40. How would you conclude/end the letter?

- a. I am sure you will regret yourself.
- b. I am sure you will not enjoy yourself.
- c. I am sure you will enjoy yourself.
- d. None of the above

ਸਾਰੇ ਪ੍ਰਸ਼ਨ ਬਹੁ-ਵਿਕਲਪੀ ਹਨ ।

1. ਚੰਨ ਪ੍ਰਿਥਵੀ ਦੀ ਪਰਿਕਰਮਾ ਕਿੰਨੇ ਦਿਨਾਂ ਵਿੱਚ ਪੂਰੀ ਕਰਦਾ ਹੈ?

- (ੳ) 88 ਦਿਨ (ਅ) 27 ਦਿਨ 7 ਘੰਟੇ (ੲ) 28 ਦਿਨ (ਸ) 27 ਦਿਨ

2. ਰਾਤ ਸਮੇਂ ਤਾਰਿਆਂ ਨੂੰ ਨੀਝ ਲਾ ਕੇ ਵੇਖਣ 'ਤੇ ਸਾਨੂੰ ਤਾਰਿਆਂ ਦੇ ਸਮੂਹਾਂ ਦੇ ਰੂਪ ਵਿੱਚ ਕਈ ਸ਼ਕਲਾਂ ਦਿਖਾਈ ਦਿੰਦੀਆਂ ਹਨ। ਤਾਰਿਆਂ ਦੇ ਇਹਨਾਂ ਸਮੂਹਾਂ ਨੂੰ 'ਤਾਰਾ ਮੰਡਲ' ਆਖਦੇ ਹਨ। ਇਹਨਾਂ ਵਿੱਚੋਂ 'ਸਪਤ ਰਿਸ਼ੀ' ਤਾਰਾ ਮੰਡਲ ਦਾ ਨਾਂ ਪੁਰਾਣੇ ਸਮਿਆਂ ਤੋਂ ਹੀ ਪ੍ਰਚੱਲਿਤ ਹੈ। ਇਹ ਤਾਰਾ ਮੰਡਲ ਕਿੰਨੇ ਤਾਰਿਆਂ ਦਾ ਸਮੂਹ ਹੈ?

- (ੳ) ਪੰਜ (ਅ) ਸੱਤ (ੲ) ਨੌਂ (ਸ) ਸਤਾਈ

3. ਸੂਰਜ ਜ਼ਿਆਦਾ ਭਾਰੀ ਅਤੇ ਵੱਡਾ ਹੋਣ ਕਰਕੇ ਆਪਣੀ ਵੱਡੀ ਤਾਕਤ ਨਾਲ ਸਾਰਿਆਂ ਗ੍ਰਹਿਆਂ ਦੀ ਹਿਲਚੁਲ ਨੂੰ ਦੂਰੋਂ ਹੀ ਕੰਟਰੋਲ ਕਰਦਾ ਹੈ। ਸੂਰਜ ਦੀ ਇਸ ਤਾਕਤ ਜਾਂ ਸ਼ਕਤੀ ਨੂੰ ਕੀ ਕਿਹਾ ਜਾਂਦਾ ਹੈ?

- (ੳ) ਸੂਰਜੀ ਸ਼ਕਤੀ (ਅ) ਆਕਾਸ਼ੀ ਸ਼ਕਤੀ
(ੲ) ਸਮੂਹਿਕ ਸ਼ਕਤੀ (ਸ) ਗੁਰੂਤਾ ਸ਼ਕਤੀ

4. ਸੌਰ ਮੰਡਲ ਦਾ ਸਭ ਤੋਂ ਗਰਮ ਅਤੇ ਚਮਕੀਲਾ ਗ੍ਰਹਿ ਕਿਹੜਾ ਹੈ?

- (ੳ) ਬੁੱਧ (ਅ) ਸ਼ੁੱਕਰ (ੲ) ਧਰਤੀ (ਸ) ਸ਼ਨੀ

5. ਦਿਨ ਰਾਤ ਧਰਤੀ ਦੀ ਕਿਸ ਗਤੀ ਕਰਕੇ ਬਣਦੇ ਹਨ ?

- (ੳ) ਵਾਰਸ਼ਿਕ ਗਤੀ (ਅ) ਦੈਨਿਕ ਗਤੀ
(ੲ) ਰਾਤਰੀ ਗਤੀ (ਸ) ਇਹਨਾਂ 'ਚੋਂ ਕੋਈ ਨਹੀਂ

6. 21 ਜੂਨ ਨੂੰ ਸੂਰਜ ਦੀਆਂ ਕਿਰਨਾਂ ਕਿਸ ਕਲਪਿਤ ਰੇਖਾ 'ਤੇ ਸਿੱਧੀਆਂ ਪੈਂਦੀਆਂ ਹਨ?

- (ੳ) ਮਕਰ ਰੇਖਾ (ਅ) ਭੂ-ਮੱਧ ਰੇਖਾ (ੲ) ਕਰਕ ਰੇਖਾ (ਸ) ਸਾਰੀਆਂ ਤੇ

7. ਸਾਲ 2021 ਤੋਂ ਬਾਅਦ ਆਉਣ ਵਾਲੇ ਸਮੇਂ ਵਿੱਚ ਲੀਪ ਦਾ ਸਾਲ ਕਿਹੜਾ ਹੋਵੇਗਾ ?

- (ੳ) 2022 (ਅ) 2024 (ੲ) 2026 (ਸ) 2030

8. ਹਰਲੀਨ ਧਰਤੀ ਦੇ ਉਸ ਹਿੱਸੇ ਵਿੱਚ ਰਹਿੰਦਾ ਹੈ ਜਿੱਥੇ ਲਗਭਗ ਪੂਰਾ ਸਾਲ ਦਿਨ ਅਤੇ ਰਾਤ ਬਰਾਬਰ ਰਹਿੰਦੇ ਹਨ। ਦੱਸੋ ਉਹ ਹੇਠ ਲਿਖਿਆਂ ਵਿੱਚੋਂ ਕਿਸ ਜਗ੍ਹਾ 'ਤੇ ਰਹਿੰਦਾ ਹੈ?

- (ੳ) ਕਰਕ ਰੇਖਾ (ਅ) ਉੱਤਰੀ ਧਰੁਵ (ੲ) ਭੂ-ਮੱਧ ਰੇਖਾ (ਸ) ਮਕਰ ਰੇਖਾ

9. ਇਹ ਇੱਕ ਕਲਪਿਤ ਰੇਖਾ ਹੈ ਜੋ ਧਰਤੀ ਨੂੰ ਦੋ ਸਮਾਨ ਅਰਧ ਭਾਗਾਂ ਵਿੱਚ ਵੰਡਦੀ ਹੈ।

- (ੳ) ਭੂ-ਮੱਧ ਰੇਖਾ (ਅ) ਕਰਕ ਰੇਖਾ
(ੲ) ਮਕਰ ਰੇਖਾ (ਸ) ਇਹਨਾਂ 'ਚੋਂ ਕੋਈ ਨਹੀਂ

10. ਸਾਡੀ ਧਰਤੀ ਦਾ ਆਕਾਰ ਬਹੁਤ ਵੱਡੇ ਗੋਲੇ ਵਾਂਗ ਹੈ। ਅਸੀਂ ਪੂਰੀ ਧਰਤੀ ਨੂੰ ਇੱਕੋ ਸਮੇਂ ਨਹੀਂ ਦੇਖ ਸਕਦੇ। ਇਸ ਲਈ ਧਰਤੀ ਨੂੰ ਪੂਰਾ ਦੇਖਣ ਅਤੇ ਪਰਖਣ ਲਈ, ਇਸਦਾ ਇੱਕ ਮਾਡਲ ਬਣਾਇਆ ਗਿਆ ਹੈ। ਇਸ ਮਾਡਲ ਨੂੰ ਕੀ ਆਖਦੇ ਹਨ?

- (ੳ) ਬ੍ਰਹਿਮੰਡ (ਅ) ਅਰਧ-ਗੋਲਾ (ੲ) ਧਰਤ -ਗੋਲਾ (ਸ) ਗਲੋਬ

11. ਆਸਟ੍ਰੇਲੀਆ ਦੇ ਵਿਚਕਾਰੋਂ ਕਿਹੜੀ ਅਕਸ਼ਾਂਸ਼ ਰੇਖਾ ਗੁਜਰਦੀ ਹੈ?

- (ੳ) ਕਰਕ ਰੇਖਾ (ਅ) ਭੂ ਮੱਧ ਰੇਖਾ
(ੲ) ਮਕਰ ਰੇਖਾ (ਸ) ਇਹਨਾਂ ਵਿੱਚੋਂ ਕੋਈ ਨਹੀਂ

12. ਵਿਗਿਆਨੀਆਂ ਨੇ ਗਲੋਬ ਤੇ ਧਰਤੀ ਦਾ ਅਧਿਐਨ ਕਰਨ ਲਈ ਪੂਰਬ-ਪੱਛਮ ਦਿਸ਼ਾ ਵਿਚ ਕਲਪਿਤ ਰੇਖਾਵਾਂ ਖਿੱਚੀਆਂ ਹਨ। ਇਹ ਸਾਰੀਆਂ ਰੇਖਾਵਾਂ ਗੋਲਾਕਾਰ ਰੂਪ ਵਿਚ ਹਨ। ਇਹਨਾਂ ਨੂੰ ਅਕਸ਼ਾਂਸ਼ ਜਾਂ ਵਿਥਕਾਰ ਰੇਖਾਵਾਂ ਆਖਦੇ ਹਨ। ਇਹ ਕਿਹੜੀ ਰੇਖਾ ਦੇ ਸਮਾਨੰਤਰ ਹਨ?

- ੳ) ਕਰਕ ਰੇਖਾ ਏ) ਮਕਰ ਰੇਖਾ
ੲ) ਮੁੱਖ ਮਧਿਆਨ ਰੇਖਾ ਸ) ਭੂ-ਮੱਧ ਰੇਖਾ

ਇਤਿਹਾਸ

13. ਇਤਿਹਾਸ ਕਿਸ ਕਾਲ ਦਾ ਵੇਰਵਾ ਹੈ?

- (ੳ) ਭੂਤਕਾਲ (ਅ) ਵਰਤਮਾਨ ਕਾਲ (ੲ) ਭਵਿੱਖ ਕਾਲ (ਸ) ਉਪਰੋਕਤ ਸਾਰੇ

14. ਰਾਜੇਸ਼ ਦੇ ਪਿਤਾ ਜੀ ਬੀਤ ਚੁੱਕੀਆਂ ਘਟਨਾਵਾਂ ਦਾ ਅਧਿਐਨ ਕਰਦੇ ਹਨ ਅਤੇ ਉਹਨਾਂ ਬਾਰੇ ਲਿਖਦੇ ਹਨ। ਰਾਜੇਸ਼ ਦੇ ਪਿਤਾ ਜੀ ਕੀ ਹਨ?


- ੳ. ਜੀਵ ਵਿਗਿਆਨੀ
ਅ. ਅਧਿਆਪਕ
ੲ. ਇਤਿਹਾਸਕਾਰ
ਸ. ਭੌਤਿਕ ਵਿਗਿਆਨੀ

15. ਹੇਠ ਦਿੱਤੀ ਤਸਵੀਰ ਨੂੰ ਪਛਾਣ ਕੇ ਦੱਸੋ ਕਿ ਇਹ ਇਤਿਹਾਸ ਨੂੰ ਜਾਨਣ ਦਾ ਕਿਹੜਾ ਸ੍ਰੋਤ ਹੈ?

- ੳ. ਘਰ
ਅ. ਸਮਾਰਕ

ੲ. ਸਾਹਿਤਕ ਸ੍ਰੋਤ

ਸ. ਇਹਨਾਂ ਵਿੱਚੋਂ ਕੋਈ ਨਹੀਂ



16. ਮਨੁੱਖ ਨੇ ਖੇਤੀਬਾੜੀ ਕਰਨੀ ਕਿਸ ਯੁੱਗ ਵਿੱਚ ਸ਼ੁਰੂ ਕੀਤੀ?

- ੳ) ਪੁਰਾਤਨ ਪੱਥਰ ਯੁੱਗ ਵਿੱਚ (ਅ) ਮੱਧ ਪੱਥਰ ਯੁੱਗ ਵਿੱਚ
ੲ) ਨਵੇਂ ਪੱਥਰ ਯੁੱਗ ਵਿੱਚ (ਸ) ਉਪਰੋਕਤ ਸਾਰੇ

17. ਆਦਿ ਮਨੁੱਖ ਨੂੰ ਚਿੱਤਰਕਾਰੀ ਦਾ ਵੀ ਸ਼ੌਕ ਸੀ। ਉਹ ਇਹ ਚਿੱਤਰਕਾਰੀ ਗੁਫਾਵਾਂ ਵਿੱਚ ਕਰਦਾ ਸੀ। ਉਸਦੇ ਬਣਾਏ ਗਏ ਚਿੱਤਰਾਂ ਦਾ ਮੁੱਖ ਵਿਸ਼ਾ ਸ਼ਿਕਾਰ ਹੁੰਦਾ ਸੀ। ਅਜਿਹੇ ਬਹੁਤ ਸਾਰੇ ਚਿੱਤਰ ਸਾਨੂੰ ਭਾਰਤ ਵਿੱਚ ਭੀਮ ਬੈਠਕਾ ਨਾਮੀ ਸਥਾਨ ਤੋਂ ਮਿਲੇ ਹਨ। ਕੀ ਤੁਸੀਂ ਜਾਣਦੇ ਹੋ ਕਿ ਆਧੁਨਿਕ ਭਾਰਤ ਵਿੱਚ ਇਹ ਸਥਾਨ ਕਿਸ ਰਾਜ ਵਿੱਚ ਸਥਿਤ ਹੈ:-

- ੳ. ਪੰਜਾਬ (ਅ) ਮੱਧ ਪ੍ਰਦੇਸ਼
ੲ. ਰਾਜਸਥਾਨ (ਸ) ਗੁਜਰਾਤ

18. ਅੱਗ ਦੀ ਖੋਜ ਕਿਸਨੇ ਕੀਤੀ ਸੀ ?

- ੳ) ਵਿਗਿਆਨੀ (ਅ) ਆਦਿ ਮਾਨਵ (ੲ) ਇੰਜੀਨੀਅਰ (ਸ) ਆਧੁਨਿਕ ਮਨੁੱਖ

19. ਸਿੰਧ ਘਾਟੀ ਦੇ ਲੋਕਾਂ ਦੇ ਕਿਸ ਦੇਸ਼ ਨਾਲ ਵਪਾਰਕ ਸਬੰਧ ਸਨ?

(ੳ) ਮੈਸੋਪੋਟਾਮੀਆ

(ਅ) ਮਿਸਰ

(ੲ) ਚੀਨ

(ਸ) ਆਸਟ੍ਰੇਲੀਆ

20. ਇਹ ਭਾਰਤ ਦੀ ਇੱਕ ਮਹਾਨ ਅਤੇ ਮੁੱਢਲੀ ਸਭਿਅਤਾ ਨਾਲ ਸੰਬੰਧਿਤ ਨਕਸ਼ਾ ਹੈ। ਇਹ ਸਭਿਅਤਾ ਸਿੰਧ ਅਤੇ ਸਰਸਵਤੀ ਨਦੀ ਵਿਚਕਾਰ ਪ੍ਰਫੁੱਲਿਤ ਹੋਈ ਸੀ। ਨਕਸ਼ੇ ਵਿੱਚ ਦਰਸਾਇਆ ਖੇਤਰ ਤੋਂ ਅਨੁਮਾਨ ਲਗਾਕੇ ਦੱਸੋ ਕਿ ਇਹ ਪੁਰਾਤਨ ਸਭਿਅਤਾ ਕਿਹੜੀ ਹੈ?

ੳ. ਚੀਨ ਦੀ ਸਭਿਅਤਾ

ਅ. ਮਿਸਰ ਦੀ ਸਭਿਅਤਾ

ੲ. ਸਿੰਧ ਘਾਟੀ ਸਭਿਅਤਾ

ਸ. ਮੈਸੋਪੋਟਾਮੀਆ ਦੀ ਸਭਿਅਤਾ



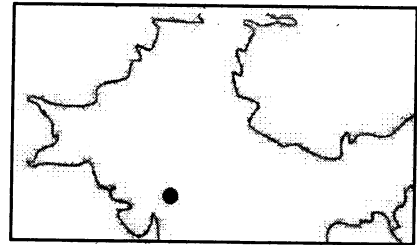
21. ਚਿੱਤਰ ਵਿੱਚ ਦਰਸਾਇਆ ਸਥਾਨ ਸਿੰਧ ਘਾਟੀ ਨਾਲ ਸੰਬੰਧਿਤ ਹੈ ਅਤੇ ਭਾਰਤ ਦੇ ਗੁਜਰਾਤ ਰਾਜ ਵਿੱਚ ਸਮੁੰਦਰ ਲਾਗੇ ਸਥਿਤ ਸੀ। ਇਸ ਸਥਾਨ ਤੇ ਖੁਦਾਈ ਦੌਰਾਨ ਇੱਕ ਬੰਦਰਗਾਹ ਮਿਲੀ ਹੈ। ਇਹ ਕਿਹੜਾ ਸਥਾਨ ਹੈ?

ੳ. ਹੜੱਪਾ

ਅ. ਸੰਘੋਲ

ੲ. ਲੋਥਲ

ਸ. ਮੋਹਿੰਜੋਦੜੋ



22. ਸਿੰਧ ਘਾਟੀ ਸੱਭਿਅਤਾ ਦੇ ਲੋਕਾਂ ਦਾ ਮੁੱਖ ਧੰਦਾ ਖੇਤੀਬਾੜੀ ਸੀ। ਪਰ ਲੋਕ ਹੋਰ ਵੀ ਕੰਮ ਕਰਦੇ ਸਨ। ਇਹਨਾਂ ਵਿੱਚ ਮਣਕੇ ਬਣਾਉਣ ਦਾ ਕੰਮ ਵੀ ਮੁੱਖ ਸੀ। ਕੀ ਤੁਸੀਂ ਜਾਣਦੇ ਹੋ ਕਿ ਮਣਕੇ ਬਣਾਉਣ ਦਾ ਕਾਰਖਾਨਾ ਕਿਹੜੇ ਸਥਾਨ ਦੀ ਖੁਦਾਈ ਤੋਂ ਮਿਲਿਆ ਹੈ?

ੳ. ਸੰਘੋਲ

ਅ. ਰੰਗਪੁਰ

ੲ. ਲੋਥਲ

ਸ. ਕਾਲੀਬੰਗਾ



23. ਵੈਦਿਕ ਕਾਲ ਵਿੱਚ ਕਿਸ ਨਦੀ ਨੂੰ ਸੱਭ ਤੋਂ ਪਵਿੱਤਰ ਮੰਨਿਆ ਜਾਂਦਾ ਸੀ?

(ੳ) ਜਮੁਨਾ

(ਅ) ਸਰਸਵਤੀ

(ੲ) ਗੰਗਾ

ਸ) ਰਾਵੀ

24. ਵੈਦਿਕ ਕਾਲ ਵਿੱਚ ਸਮਾਜ ਦੀ ਸਭ ਤੋਂ ਛੋਟੀ ਇਕਾਈ ਕਿਹੜੀ ਸੀ?

ੳ) ਪਰਿਵਾਰ

ਅ) ਪਿੰਡ

ੲ) ਮਹੱਲਾ

ਸ) ਸਮਾਜ

25. ਤੁਹਾਡੇ ਸਕੂਲ ਵਿੱਚ ਇੱਕ ਨਾਟਕ ਕੀਤਾ ਜਾਣਾ ਹੈ। ਇਹ ਨਾਟਕ ਵੈਦਿਕ ਕਾਲ ਨਾਲ ਸੰਬੰਧਿਤ ਹੈ। ਇਸ ਵਿੱਚ ਤੁਸੀਂ ਰਾਜੇ ਦੇ ਇੱਕ ਸਹਾਇਕ ਦੀ ਭੂਮਿਕਾ ਕਰ ਰਹੇ ਹੋ, ਜਿਹੜਾ ਰਾਜੇ ਦੇ ਧਾਰਮਿਕ ਕੰਮਕਾਰ ਕਰਦਾ ਹੈ। ਹੇਠ ਲਿਖਿਆ ਵਿੱਚੋਂ ਤੁਸੀਂ ਕਿਸਦੀ ਭੂਮਿਕਾ ਨਿਭਾ ਰਹੇ ਹੋ?

ੳ. ਗ੍ਰਾਮਣੀ

ਅ. ਸੇਨਾਨੀ

ੲ. ਪ੍ਰੋਹਿਤ

ਸ. ਰਾਜਨ

26. ਜਸਵਿੰਦਰ ਲਾਇਬ੍ਰੇਰੀ ਵਿੱਚੋਂ ਦੋ ਕਿਤਾਬਾਂ 'ਰਮਾਇਣ' ਅਤੇ 'ਮਹਾਂਭਾਰਤ' ਲੈ ਕੇ ਆਇਆ। ਉਹ ਜਾਣਨਾ ਚਾਹੁੰਦਾ ਹੈ ਕਿ ਇਹ ਕਿਤਾਬਾਂ ਸਾਹਿਤਕ ਇਤਿਹਾਸ ਦੀ ਕਿਹੜੀ ਕਿਸਮ ਵਿੱਚ ਆਉਂਦੀਆਂ ਹਨ?

ੳ. ਵੇਦ

ਅ. ਮਹਾਂਕਾਵਿ

ੲ. ਉਪਨਿਸ਼ਦ

ਸ. ਕੁਰਾਨ

27. ਭਾਗਵਾਨ ਮਹਾਵੀਰ ਸਵਾਮੀ ਜੀ ਨੂੰ ਕਿੰਨਵਾਂ ਤੀਰਥੰਕਰ ਹੋਣ ਦਾ ਗੌਰਵ ਪ੍ਰਾਪਤ ਹੋਇਆ?

ੳ) 23

ਅ) 24

ੲ) 25

ਸ) 26

28. ਗੌਤਮ ਬੁੱਧ ਨੂੰ ਕਿਸ ਦਰੱਖਤ ਦੇ ਹੇਠ ਤਪੱਸਿਆ ਕਰਦੇ ਗਿਆਨ ਦੀ ਪ੍ਰਾਪਤੀ ਹੋਈ?

ੳ) ਪਿੱਪਲ

ਅ) ਨਿੰਮ

ੲ) ਅੰਬ

ਸ) ਸਾਗਵਾਨ

29. ਮੰਨ ਲਵੋ ਤੁਹਾਡੀ ਉਮਰ 75 ਸਾਲ ਤੋਂ ਉਪਰ ਹੋ ਗਈ ਹੈ। ਆਸ਼ਰਮ ਵਿਵਸਥਾ ਦਾ ਪਾਲਣ ਕਰਦੇ ਹੋਏ ਤੁਹਾਨੂੰ ਹੇਠ ਲਿਖਿਆਂ ਵਿੱਚੋਂ ਕਿਹੜੇ ਆਸ਼ਰਮ ਵਿੱਚ ਸ਼ਾਮਲ ਹੋ ਜਾਣਾ ਚਾਹੀਦਾ ਹੈ?

ੳ. ਬ੍ਰਹਮਚਾਰੀਆ

ਅ. ਗ੍ਰਹਿਸਥ

ੲ. ਸੰਨਿਆਸ

ਸ. ਵਾਨਪ੍ਰਸਥ

30 “ਸਾਂਚੀ ਦਾ ਸਤੂਪ” ਕਿਸ ਪ੍ਰਦੇਸ਼ ਵਿੱਚ ਬਣਾਇਆ ਗਿਆ?

ੳ. ਉੱਤਰ ਪ੍ਰਦੇਸ਼

ਅ. ਮੱਧ ਪ੍ਰਦੇਸ਼

ੲ. ਬਿਹਾਰ

ਸ) ਪੰਜਾਬ

31 . ਮਹਾਨ ਸਾਸ਼ਕ ਸਿਕੰਦਰ ਨੇ ਭਾਰਤ 'ਤੇ ਕਦੋਂ ਹਮਲਾ ਕੀਤਾ?

ੳ. 326 ਈ. ਪੂ.

ਅ. 328 ਈ. ਪੂ.

ੲ. 324 ਈ. ਪੂ.

ਸ. 341 ਈ. ਪੂ.

32. ਹੇਠ ਦਿੱਤੀ ਤਸਵੀਰ ਸਾਡੇ ਰਾਸ਼ਟਰੀ ਚਿੰਨ੍ਹ ਦੀ ਹੈ ਅਸਲ ਦੇ ਵਿੱਚ ਇਹ ਸਮਰਾਟ ਅਸ਼ੋਕ ਦੇ ਇੱਕ ਸਤੰਭ ਦਾ ਹਿੱਸਾ ਹੈ। ਇਹ ਸਤੰਭ ਉਸ ਸਥਾਨ ਤੇ ਸਥਿਤ ਹੈ ਜਿੱਥੇ ਮਹਾਤਮਾ ਬੁੱਧ ਨੇ ਸਭ ਤੋਂ ਪਹਿਲਾਂ ਉਪਦੇਸ਼ ਦਿੱਤਾ ਸੀ। ਕੀ ਤੁਸੀਂ ਜਾਣਦੇ ਹੋ ਕਿ ਇਹ ਸਤੰਭ ਕਿਥੇ ਸਥਿਤ ਹੈ?

ੳ. ਸਾਰਨਾਥ

ਅ. ਸਾਂਚੀ

ੲ. ਅਮਰਾਵਤੀ

ਸ. ਕੋਸ਼ਾਭੀ



ਨਾਗਰਿਕ ਸਾਸ਼ਤਰ

33. ਬੱਚੇ ਦਾ ਮੁੱਢਲਾ ਅਤੇ ਪਹਿਲਾ ਸਮਾਜ ਕਿਹੜਾ ਹੈ ?

ੳ) ਸਕੂਲ

(ਅ) ਆਂਢ-ਗੁਆਂਢ

(ੲ) ਪਰਿਵਾਰ

(ਸ) ਦੋਸਤ

34. ਦੇਸ਼ ਵਾਸੀਆਂ ਵਿੱਚ ਕਿਹੜੀ ਭਾਵਨਾ ਨਹੀਂ ਹੋਣੀ ਚਾਹੀਦੀ?

ੳ. ਦੇਸ਼ ਪਿਆਰ ਦੀ

ਅ. ਸਮਾਜਿਕ ਕਦਰਾਂ ਕੀਮਤਾਂ

ੲ. ਫਿਰਕੂ ਭਾਵਨਾ

ਸ. ਦੇਸ਼ ਭਗਤੀ

35. ਪਹਿਲਾਂ ਅਸੀਂ ਸਾਰੇ ਮਨੁੱਖ ਜੰਗਲੀ ਜੀਵਾਂ ਵਾਂਗ ਰਹਿੰਦੇ ਸੀ, ਅਤੇ ਜੰਗਲੀ ਜਾਨਵਰਾਂ ਦਾ ਸ਼ਿਕਾਰ ਕਰਕੇ ਆਪਣਾ ਪੇਟ ਭਰਦੇ ਸੀ। ਇਸ ਤਰ੍ਹਾਂ ਅਸੀਂ ਆਪਣਾ ਜੀਵਨ ਕਿਸ ਦੇ ਤੌਰ 'ਤੇ ਸ਼ੁਰੂ ਕੀਤਾ ?

(ੳ) ਸ਼ਿਕਾਰੀ

(ਅ) ਭੋਜਨ ਸੰਗ੍ਰਹਿਕ

(ੲ) ਖੋਜਕਰਤਾ

(ਸ) ਉਪਰੋਕਤ ਕੋਈ ਨਹੀਂ

36. ਜੇ ਅਸੀਂ ਪਿੰਡ ਵਿੱਚ ਰਹਿੰਦੇ ਹਾਂ ਤੇ ਕੁਝ ਜਰੂਰਤਾਂ ਵਾਸਤੇ ਸ਼ਹਿਰ ਉੱਪਰ ਨਿਰਭਰ ਕਰਨਾ ਪੈਂਦਾ ਹੈ ਅਤੇ ਸ਼ਹਿਰੀ ਨਾਗਰਿਕਾਂ ਨੂੰ ਖਾਧ ਵਸਤਾਂ ਵਾਸਤੇ ਕਿਸਾਨ ਉੱਪਰ। ਅਸੀਂ ਸਾਰੇ ਇੱਕ ਦੂਸਰੇ ਉੱਪਰ ਨਿਰਭਰ ਹਾਂ, ਇਸ ਤਰ੍ਹਾਂ ਅਸੀਂ ਕਿਸ ਕਿਸਮ ਦੇ ਪ੍ਰਾਣੀ ਹਾਂ?

(ੳ) ਸਮਾਜਿਕ ਪ੍ਰਾਣੀ (ਅ) ਸ਼ਿਕਾਰੀ ਪ੍ਰਾਣੀ (ੲ) ਘੁਮੱਕੜ ਪ੍ਰਾਣੀ (ਸ) ਕੋਈ ਨਹੀਂ

37. ਭਾਰਤ ਇੱਕ ਖੇਤੀ ਪ੍ਰਧਾਨ ਦੇਸ਼ ਹੈ। ਇਸਦੀ ਲਗਭਗ ਕਿੰਨੇ ਪ੍ਰਤੀਸ਼ਤ ਜਨਸੰਖਿਆ ਪਿੰਡਾਂ ਵਿੱਚ ਰਹਿੰਦੀ ਹੈ?

(ੳ) 65% (ਅ) 45% (ੲ) 75% (ਸ) 55%

38. ਪੰਚਾਇਤ ਦੀ ਆਮਦਨ ਅਤੇ ਖਰਚੇ ਦਾ ਹਿਸਾਬ ਰੱਖਣ ਵਾਲੇ ਕਰਮਚਾਰੀ ਨੂੰ ਕੀ ਕਹਿੰਦੇ ਹਨ ?

(ੳ) ਸਰਪੰਚ (ਅ) ਸੁਪਰਡੈਂਟ (ੲ) ਪੰਚਾਇਤ ਸੱਕਤਰ (ਸ) ਪੰਚ

39. ਸੁਰਜੀਤ ਨੇ ਪਿਛਲੇ ਸਾਲ ਆਪਣੀ ਬੀ.ਏ. ਦੀ ਪੜ੍ਹਾਈ ਪੂਰੀ ਕੀਤੀ ਸੀ, ਉਹ ਆਪਣੇ ਪਿੰਡ ਦੇ ਸਰਪੰਚ ਦੇ ਕੰਮਾਂ ਤੋਂ ਨਾਖੁਸ਼ ਹੈ। ਉਸਨੂੰ ਲਗਦਾ ਹੈ ਕਿ ਉਹ ਪਿੰਡ ਦਾ ਹੋਰ ਵਿਕਾਸ ਕਰ ਸਕਦਾ ਹੈ। ਉਹ ਸਰਪੰਚ ਦੀ ਚੋਣ ਲੜਨਾ ਚਾਹੁੰਦਾ ਹੈ ਜਿਸਦੇ ਲਈ ਉਸਦੀ ਉਮਰ ਕਿੰਨੀ ਹੋਣੀ ਚਾਹੀਦੀ ਹੈ?

ੳ. 18 ਸਾਲ ਅ. 21 ਸਾਲ ੲ. 25 ਸਾਲ ਸ. 20 ਸਾਲ

40. ਪੂਜਾ ਦੀ ਮਾਤਾ ਜੀ ਪਿੰਡ ਵਿੱਚ ਬਣੀ ਪੰਚਾਇਤ ਦਾ ਹਿੱਸਾ ਬਣਨਾ ਚਾਹੁੰਦੀ ਹੈ। ਕੀ ਤੁਸੀਂ ਦੱਸ ਸਕਦੇ ਹੋ ਕਿ ਪੰਚਾਇਤ ਦੇ ਕੁੱਲ ਮੈਂਬਰਾਂ ਦਾ ਕਿੰਨਵਾਂ ਹਿੱਸਾ ਔਰਤ ਮੈਂਬਰਾਂ ਦਾ ਹੋਣਾ ਚਾਹੀਦਾ ਹੈ?

ੳ. ਅੱਧਾ ਹਿੱਸਾ ਅ. ਤੀਸਰਾ ਹਿੱਸਾ ੲ. ਚੌਥਾ ਹਿੱਸਾ ਸ. ਇਹਨਾਂ ਵਿੱਚੋਂ ਕੋਈ ਨਹੀਂ

Class: 6th Sample Paper Social Science (1st term) 2021-22

Total: 40 Marks

All questions are compulsory:-

1. How many days does the Moon take to revolve around the Earth?
a) 88 days b) 27 days 7 hours c) 28 days d) 27 days
2. When we look closely at the stars at night, we see many shapes in the form of clusters of stars. These clusters of stars are called 'constellations'. The name of the constellation 'Sapat Rishi' has been prevalent among them since ancient times. How many stars does this constellation have?
(a) Five (b) Seven (c) Nine (d) Twenty Seven
3. Because the sun is heavier and bigger, it controls the movement of all the planets remotely with its great power. What is this power of the sun called?
(a) Solar power (b) Celestial power
(c) Collective power (d) Gravity
4. Which is the hottest and brightest planet of the Solar System?
a) Mercury b) Venus c) Earth d) Saturn
5. How are the days and nights formed?
a. Due to revolution b. Due to rotation
c. Due to night speed d. None of the above
6. On which imaginary line does the vertical rays of sun fall on 21 June?
a. Tropic of Capricorn b. Equator
c. Tropic of Cancer d. On all latitudes
7. What will be the next year of leap after 2021?
(a) 2022 (b) 2024 (c) 2026 (d) 2030
8. Harleen lives in such a place where days and nights are equal throughout the year. Where does he live?
a. Tropic of cancer b. North Pole c. Equator d. Tropic of Capricorn.
9. It is the imaginary line that divides the earth in two equal parts or halves.
a) Equator b) Tropic of Cancer
c) Tropic of Capricorn d) None of the above

10. Our earth is like a huge sphere. We cannot see the whole earth at once. Therefore, in order to see and examine the whole earth, a model of it has been made. What is this model called?

- a) Universe
- b) Hemisphere
- c) Earth-sphere
- d) Globe

11 Which latitude passes through Australia?

- a) Tropic of Cancer
- b) Equator
- c) Tropic of Capricorn
- d) None of these

12. Scientists have drawn imaginary lines in an east-west direction to study the globe and the earth. All these lines are spherical in shape. These are called latitude or longitude lines. Which line are they not parallel to?

- a) Tropic of Cancer
- b) Tropic of Capricorn
- c) Prime meridian
- d) Equator

HISTORY

13. History is a description of which of the following _____ time.


- A) past
- B) present
- C) future
- D) All of the above

14. Rajesh's father studies past events and writes about them. What is Rajesh's father?

- a. Biologist
- b. Teacher
- c. Historian
- d. Physicist

15. Identify the type of the source of history from the given picture.

- a. Home
- b. Monument
- c. Literary source
- d. None of these



16. In what age did man begin farming?

- A) In the ancient Stone age
- (B) In the Middle Stone Age
- (C) In the new stone age
- (d) All of the above

17. The Early man was also fond of painting. He did this painting in caves. The main subject of his paintings was hunting. We have come across many such paintings from a place called Bhimbaitaka in India. Do you know in which state is this place located in modern India?

- a. Punjab
- b. Madhya Pradesh
- c. Rajasthan
- d. Gujarat

18. Who invented fire?

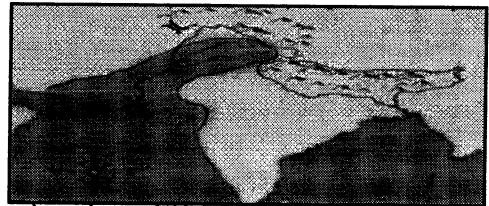
- a) Scientist
- b) Early man
- c) Engineer
- d) Modern man

19. With which country did the people of Indus Valley civilization has trade relations?

- (A) Mesopotamia
- (B) Egypt
- (C) China
- (d) Australia

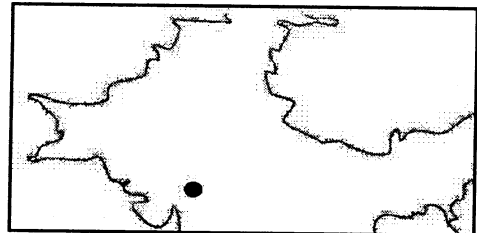
20. This is a map of a great and primitive civilization of India. This civilization flourished between the Indus and the river Saraswati. Guess from the area shown in the map which civilization is this?

- a) Chinese civilization
- b) Egyptian civilization
- c) Indus Valley Civilization
- d) Mesopotamian civilization




21. The place shown in the picture belongs to the Indus Valley and was located near the sea in the state of Gujarat, India. A port has been found during excavations at this place. Which place is this?

- a) Harappa
- b) Sanghol
- c) Lothal
- d) Mohenjo-daro



22. Agriculture was the main occupation of the people of Indus Valley Civilization. But people did some other works also. Bead making was also a major occupation. Do you know from where was the bead factory excavated?

- a) Sanghol
- b) Rangpur
- c) Lothal
- d) Kalibanga



23. In the Vedic period, which river was considered to be the most sacred?

- A) Yamuna
- B) Sarasvati
- C) Ganga
- D) Ravi

24. Which was the smallest unit in the society during Vedic period?

- A) Family
- B) Village
- C) Mohalla
- D) Society

25. A play is to be performed in your school. This play is related to Vedic period. In it you are playing the role of an assistant to the king, who performs the king's religious duties. Which of the following role are you playing?

- a. Gramini b. Senani c. Purohita d. Rajan

26. Jaswinder brought two books 'Ramayana' and 'Mahabharat' from the library. He wants to know what kind of literary books are these?

- a. Vedas b. Epics c. Upanishads d. Puranas

27. Bhagwan Mahavir Swami ji was honored to be _____ tirthanakara.

- (a) 23rd B) 24th C) 25th d. 26th

28. Under which tree did Gautama Buddha get enlightenment?

- a) Peepal b) tree c) Neem tree d) Mango tree

29. Suppose you are over 75 years old. Following the Ashram system, which of the following Ashram should you join?

- a. Brahmacharya b. Grihastha c. Sanyasa d. Vanaprastha

30 Where is Sanchi stupa situated?

- (a) Uttar Pradesh (b) Madhya Pradesh (c) Bihar d. Punjab

31. When did Alexander the Great invade India?

- (a) 326 B.C. (b) 328 B.C.
(c) 324 B.C. (d) 341 B.C.

32. The following picture is of our national emblem .In fact this is a part of Emperor Ashoka's pillar. This pillar is located at the place where Mahatma Buddha delivered his first sermon. Do you know where is the pillar located?

- a) Sarnath
b) Sanchi
c) Amravati
d) Koshambi



CIVICS

33. Which is the first and basic unit of the society for a child?

- A. School B. Neighbourhood C. Family D. Friends

34. Which kind of feeling should not be there among the countrymen?

- A. Love for Country B. Social values
C. Communalism D. Patriotism

35. In the beginning, human beings lived like wild animals. They killed wild animals to feed themselves. How did humans begin their life?

- a. As a hunter
- b. As a food gatherer
- c. As a researcher
- d. None of the above

36. If we live in a village we have to depend on the city for some necessities and the urban citizens have to depend on the farmer for fertilizers. We are all dependent on each other, so what kind of creatures are we?

- (a) Social creatures
- (b) Hunting creatures
- (c) Nomadic creatures
- (d) None of these

37. India is an agriculture based country, what percentage of Indian population live in villages?

- a. 65%
- b. 45%
- c. 75%
- d. 55%

38. The employee who keeps the account of Panchayat's expenditure and income is known as:-

- a. Sarpanch
- b. Superintendent
- c. Panchayat Secretary
- d. Panch (a member of Panchayat)

39 Surjit completed his B.A. last year. He is unhappy with the work of the Sarpanch of his village. He feels that he can further develop the village. He wants to contest for the post of Sarpanch for which he should be_____.

- a. 18 years
- b. 21 years
- c. 25 years
- d. 20 years

40. Pooja's mother wants to be a part of the village panchayat but she does not know about the number of reserved seats for women in panchayat? Can you tell?

- a. 1/2 part
- b. 1/3 part
- c. 1/4 part
- d. None of these

Subject- English
Sample Paper (Term I)
Session 2021-22
Class VII

Time:

M.M.40

General Instructions:

- 1. The Question Paper carries 40 questions.**
- 2. Each question consists of 1 mark only.**
- 3. All questions are compulsory.**
- 4. No choice is given in any of the question.**
- 5. There is no negative marking.**

Section-A (Reading Skills)

Read the passage and answer the questions (1-4) that follow:

Once there was a miser who sold all his possessions and, with the money, bought a great lump of gold. He dug a deep hole at the edge of the garden, and there he buried his gold. Once a day, thereafter, the miser would go to the garden, dig up his gold, and embrace it lovingly. One of the miser's workmen wondered why his master spent so much time in the garden. One day, he hid behind a tree and soon discovered the secret of the hidden treasure. That night, when the miser was fast asleep, the workman crept into the garden and stole the lump of gold. When the miser found that his gold was gone, he pulled his hair and cried aloud in despair. A neighbour came running to see what the matter was, and the grief-stricken miser told him what had happened. Then the neighbour said, "Please stop weeping. Go and find a stone. Place the stone in the hole and imagine that it is your lump of gold. The stone will serve your purpose, because you never meant to use the gold anyway."

"To a miser, what he has is of no more use than what he doesn't have."

- 1. How did the miser get the lump of gold?**
 - a. by selling all he had
 - b. while digging his garden
 - c. from his ancestors
 - d. from his neighbour
- 2. Why did the miser spend so much time in the garden?**
 - a. He was a nature lover.
 - b. He liked watching children playing in the garden.
 - c. To keep an eye on his hidden treasure.
 - d. To change the place of his lump of gold.
- 3. By whom was the gold stolen?**
 - a. A thief
 - b. His neighbour
 - c. The miser's workman
 - d. The miser, himself

4. The neighbour advised the miser to put a stone in the hole because_____.

- a. gold is like a stone only
- b. the stone would become gold after sometime
- c. for a wise man gold and stone have equal worth
- d. the miser had never used the gold

Read the dialogue and answer the questions (5-8) that follow:

Drishti: Good Morning, Hardik. How are you?

Hardik: Good Morning! I'm alright, but it's too hot. Oh, it is simply terrible!

Drishti: True! I am not able to do any work. It is so close that one can hardly breathe.

Hardik: Even after using the fan whole day, I felt restless. When would the monsoon break?

Drishti: There are no signs of it yet in Delhi, but I have just read in today's paper that it has reached Mumbai, and that there was a shower.

Hardik: It will take some days to reach here, and till then we must tolerate the heat somehow.

Drishti: Exactly, we have to take care of our health and improve eating habits. We should use the things which prevent us from heat.

Hardik: Absolutely! We should drink plenty of water to avoid dehydration and carry umbrella and water bottle to avoid heat.

Drishti: That's right! And we must pray for the early arrival of monsoon.

5. What is the conversation about?

- a. cool weather
- b. hot weather
- c. monsoons
- d. advantage of water

6. Who felt restless even after using the fan whole day?

- a. Hardik
- b. Drishti
- c. Both
- d. No one

7. What has reached Mumbai?

- a. heat
- b. drinks
- c. sun rays
- d. monsoon

8. What should be done to avoid heat?

- a. improve eating habits
- b. drink plenty of water
- c. carry umbrella
- d. all of the above

Section-B (Literature)

9. Who did the farmer buy the well from? (Rent For Water)

- a. King Krishna Dev Rai
- b. Tenali Raman
- c. the king's neighbour
- d. his own neighbour

10. How much money did Akbar agree to give to the Brahmin?

(Birbal's Khichdi)

- a. two gold coins
- b. two thousand gold coins
- c. two hundred gold coins
- d. one thousand gold coins

11. What was the boy selling? (A Glass of Milk)

- a. books
- b. milk
- c. pencils
- d. glasses

12. What was written on the bill of the hospital? (A Glass of Milk)

- a. Paid in full months ago with a glass of milk.
- b. Paid in full years ago with a glass of milk.
- c. Paid in full days ago with a glass of milk.
- d. Paid in full hours ago with a glass of milk.

13. Who was the first Indian to climb Everest? (Mountaineers)

- a. Tenzing Norgay
- b. Sir Edmund Hillary
- c. Commander M.S. Kohli
- d. Captain Avtar Singh Cheema

14. What is the oxygen-starved area of the mountains called? (Mountaineers)

- a. damage zone
- b. death zone
- c. adventurous zone
- d. danger zone

15. What is the meaning of the word 'pleaded'? (Rent For Water)

- a. ਬੇਨਤੀ ਕੀਤੀ
- b. ਬਾਹਰ ਕੱਢਣਾ
- c. ਬਹਿਸ ਕਰਨਾ
- d. ਝੁੱਕਣਾ

16. What is the meaning of the word 'precious'? (Trains)

- a. ਚਮਕੀਲਾ
- b. ਕੀਮਤੀ
- c. ਯਾਤਰੀ
- d. ਡਾਕ

17. Who said these words and to whom?

“Oh Brahmin, you have cheated me!” (Birbal’s Khichdi)

- a. Birbal
- b. The emperor
- c. The messenger
- d. Akbar

18. Who said these words and to whom?

“Your Majesty, it is impossible to get the warmth from the lights glowing so far away!” (Birbal’s Khichdi)

- a. The brahmin
- b. The messenger
- c. The king
- d. Birbal

Read the given lines and answer the questions (19-20):

**Through day and darkness,
Through dusk and dawn.(Trains)**

19. What do the above lines refer to?

- a. loads of the trains
- b. constant working of the trains
- c. routes of the trains
- d. failure of the trains

20. What do the ‘day and darkness’ and ‘dusk and dawn’ in these lines tell the readers?

- a. regularity of the trains
- b. irregularity of the trains
- c. journey of the trains
- d. control of the trains

21. The hunter went on a journey to find some _____.

(The Hunter and the Deer)

- a. deer meat
- b. dog meat
- c. horse meat
- d. all of the above

22. The poet thought that the buck was begging for _____.

(The Hunter and the Deer)

- a. the fawn’s life
- b. his own life
- c. the doe’s life
- d. the hunter’s life

23. Insert 'instead of' in the following sentence, wherever needed:

I wore blue socks red.

- a. I wore instead of blue socks red.
- b. I instead of wore blue socks red.
- c. I wore blue instead of socks red.
- d. I wore blue socks instead of red.

24. Which suffix is used in the word 'disappointed'?

- a. -appointed
- b. -ed
- c. -ted
- d. -inted

Section-C (Grammar and Writing)

Choose the correct translation of the following sentences. (25-28)

25. I am proud of you.

- a. ਮੈਨੂੰ ਤੁਹਾਡੇ ਤੇ ਮਾਣ ਹੈ।
- b. ਕੀ ਮੈਨੂੰ ਤੁਹਾਡੇ ਤੇ ਮਾਣ ਹੈ?
- c. ਮੈਨੂੰ ਤੁਹਾਡੇ ਤੇ ਮਾਣ ਸੀ।
- d. ਮੈਨੂੰ ਤੁਹਾਡੇ ਤੇ ਮਾਣ ਨਹੀਂ ਹੈ।

26. My mother cooked food.

- a. ਕੀ ਮੇਰੀ ਮਾਂ ਨੇ ਖਾਣਾ ਪਕਾਇਆ?
- b. ਮੇਰੀ ਮਾਂ ਨੇ ਖਾਣਾ ਨਹੀਂ ਪਕਾਇਆ।
- c. ਮੇਰੀ ਮਾਂ ਨੇ ਖਾਣਾ ਪਕਾਇਆ ਹੈ।
- d. ਮੇਰੀ ਮਾਂ ਨੇ ਖਾਣਾ ਪਕਾਇਆ।

27. ਕੀ ਰਾਮ ਨਿਸ਼ੀ ਦੀ ਮਦਦ ਕਰ ਰਿਹਾ ਹੈ?

- a. Are Ram helping Nishi?
- b. Is Ram helping Nishi?
- c. Is Ram not helping Nishi?
- d. Am Ram helping Nishi?

28. ਉਸਨੂੰ ਬੋਲਣ ਦਿਓ।

- a. Let them speak.
- b. Let he speak.
- c. Let him speak.
- d. Let you speak.

29. Tell the Abstract Noun in the given sentence.

I have full trust in my maid.

- a. full
- b. trust
- c. my
- d. maid

30. Fill in the blank with a suitable conjunction.

I am feeling sleepy _____ I am very tired.

- a. although
- b. yet
- c. because
- d. so

31. Fill in the blank with a suitable adverb.

When do you _____ go on vacation each year?

- a. always
- b. never
- c. usually
- d. ever

32. Fill in the blank with appropriate degree of adjectives.

The white dog was the _____ of all.

- a. greedy
- b. greedier
- c. greediest
- d. most greedy

33. Use correct degree of comparison in the given sentence.

That is the (small) umbrella I have ever seen.

- a. smaller
- b. more small
- c. smallest
- d. most small

34. Fill in the blank with a suitable determiner.

There is a bus _____ 2 hours.

- a. each
- b. every
- c. many
- d. few

35. Fill in the blank with a suitable pronoun.

He gave _____ a beautiful gift. I really like it.

- a. me
- b. him
- c. himself
- d. myself

You are the Principal of your school. Your school is going to hold a science exhibition on the 15th of next month. It is mandatory for all the students to participate and make a science project. Answer the following questions according to the notice you would put up on notice board. (36-37)

36. What would you write in the notice?

- a. It is optional for all the students to participate.
- b. It is compulsory for all the students to participate.
- c. It is unnecessary for all the students to participate.
- d. It is insignificant for all the students to participate.

37. What would you write in the end?

- a. Your signature and designation
- b. Your school name
- c. Date
- d. All of the above

38. Which of these lines can be included in a paragraph 'A Journey by Bus'?

- a. The guard showed the green flag.
- b. I got a comfortable seat by the window.
- c. The bus was running fast on the track.
- d. The passengers fastened their seat belts.

You have to write an application to the Principal of your school asking him/her to grant you full fee-concession. Answer the given questions accordingly. (39-40)

39. What would you include in the application?

- a. station where you are moving to
- b. financial condition of your family
- c. poor school results
- d. precautions to be taken to cure disease

40. How would you conclude/end the application?

- a. Yours lovingly
- b. Yours friendly
- c. Yours obediently
- d. None of the above


ਸਾਰੇ ਪ੍ਰਸ਼ਨ ਜ਼ਰੂਰੀ ਹਨ।

ਕੁੱਲ ਅੰਕ : 40

1. ਸੂਰਜ ਦੇ ਕਿਹੜੇ ਗ੍ਰਹਿ ਉੱਤੇ ਵਾਯੂਮੰਡਲ ਨਹੀਂ ਹੈ?

- | | |
|------------|---------|
| 1. ਬੁੱਧ | 2. ਸ਼ਨੀ |
| 3. ਪ੍ਰਿਥਵੀ | 4. ਮੰਗਲ |

2. ਬੱਚਿਓ! ਆਪਣੇ ਵਾਤਾਵਰਣ ਨੂੰ ਸਾਫ਼ ਸੁਥਰਾ ਰੱਖਣ ਦੇ ਲਈ ਸਾਨੂੰ ਹੇਠ ਲਿਖੇ ਤਰੀਕਿਆਂ ਵਿੱਚੋਂ ਕਿਹੜਾ ਤਰੀਕਾ ਅਪਣਾਉਣਾ ਚਾਹੀਦਾ ਹੈ?



- (1) ਰੁੱਖ ਲਗਾਉਣਾ (2) ਰੁੱਖ ਕੱਟਣਾ (3) ਕਾਰਖਾਨੇ ਲਗਾਉਣੇ (4) ਇਹਨਾਂ ਵਿੱਚੋਂ ਕੋਈ ਨਹੀਂ

3. ਇੱਕ ਦਿਨ ਵਿਕਾਸ ਆਪਣੇ ਪਿਤਾ ਜੀ ਨਾਲ ਸਵੇਰੇ-ਸਵੇਰੇ ਸੈਰ 'ਤੇ ਗਿਆ। ਰਸਤੇ ਵਿੱਚ ਜਾਂਦੇ-ਜਾਂਦੇ ਉਸਨੇ ਬਹੁਤ ਸਾਰੇ ਪੇੜ ਪੌਦੇ, ਪੰਛੀ, ਜਾਨਵਰ ਅਤੇ ਹੋਰ ਬਹੁਤ ਸਾਰੇ ਜੀਵ ਵੇਖੇ, ਕੀ ਤੁਸੀਂ ਦੱਸ ਸਕਦੇ ਹੋ ਕਿ ਇਨ੍ਹਾਂ ਸਾਰੇ ਜੀਵਾਂ ਨੂੰ ਕੀ ਕਿਹਾ ਜਾਂਦਾ ਹੈ?

1. ਜੀਵ ਜਗਤ 2. ਜਲ ਮੰਡਲ 3. ਥਲ ਮੰਡਲ 4. ਵਾਯੂ ਮੰਡਲ

4. ਹੇਠ ਲਿਖੇ ਕਥਨਾਂ ਵਿੱਚੋਂ ਕਿਹੜਾ ਕਥਨ ਗਲਤ ਹੈ:-


ਕਥਨ-1 ਸਮੁੰਦਰੀ ਧਾਰਾਵਾਂ ਅਤੇ ਜਵਾਰ ਭਾਟਾ ਨਾਲ ਲੱਗਦੇ ਖੇਤਰਾਂ 'ਤੇ ਬਹੁਤ ਪ੍ਰਭਾਵ ਪਾਉਂਦੇ ਹਨ।

ਕਥਨ-2 ਮਨੁੱਖ ਨੇ ਆਪਣੇ ਆਲੇ ਦੁਆਲੇ ਨੂੰ ਪ੍ਰਦੂਸ਼ਿਤ ਨਹੀਂ ਕੀਤਾ।

- | | |
|-------------------------------|-------------------------------|
| 1. ਕਥਨ 1 ਅਤੇ 2 ਸਹੀ ਹਨ। | 2. ਕਥਨ 1 ਅਤੇ 2 ਗਲਤ ਹਨ। |
| 3. ਕਥਨ 1 ਸਹੀ ਹੈ ਅਤੇ 2 ਗਲਤ ਹੈ। | 4. ਕਥਨ 1 ਗਲਤ ਹੈ ਅਤੇ 2 ਸਹੀ ਹੈ। |

5. ਨਕਸ਼ੇ ਵਿੱਚ ਦਰਸਾਇਆ ਗਿਆ ਇਲਾਕਾ ਕਿਹੜੀ ਮਿੱਟੀ ਨੂੰ ਦਰਸਾਉਂਦਾ ਹੈ?

- | | |
|-----------------|------------------|
| 1. ਕਾਲੀ ਮਿੱਟੀ | 2. ਲਾਲ ਮਿੱਟੀ |
| 3. ਜਲ੍ਹੋਢ ਮਿੱਟੀ | 4. ਲੈਟਰਾਈਟ ਮਿੱਟੀ |



6. ਅੱਜਕਲ੍ਹ ਮੈਂ ਇੰਨਾਂ ਮਹੱਤਵਪੂਰਨ ਹਾਂ ਕਿ ਮੈਨੂੰ ਤਰਲ ਸੋਨਾ ਵੀ ਕਿਹਾ ਜਾਂਦਾ ਹੈ। ਮੇਰਾ ਨਾਂ ਦੱਸੋ।

1. ਯੂਰੇਨੀਅਮ 2. ਪੈਟਰੋਲੀਅਮ 3. ਥੋਰੀਅਮ 4. ਪਾਣੀ

7. ਇਹ ਮੂਲ ਅਗਨੀ ਚਟਾਨ, ਬਿਜਲੀ ਦਾ ਸਮਾਨ ਬਣਾਉਣ ਦੇ ਕੰਮ ਆਉਂਦੀ ਹੈ। ਇਹ ਚੱਟਾਨ ਪਰਿਵਰਤਿਤ ਹੋ ਕੇ ਸ਼ਿਸ਼ਟ ਵਿੱਚ ਬਦਲ ਜਾਂਦੀ ਹੈ। ਹੇਠ ਲਿਖਿਆਂ ਵਿੱਚੋਂ ਇਹ ਕਿਹੜੀ ਹੈ?

1. ਅਬਰਕ 2. ਨਾਈਸ 3. ਗੈਬਰੋ 4. ਸਲੇਟ

8. ਚਿੱਤਰ ਦੇਖ ਕੇ ਪਛਾਣੋ ਕਿ ਹੇਠ ਦਿੱਤੀਆਂ ਵਸਤਾਂ ਕਿਹੜੇ ਧਾਤਵੀ ਖਣਿਜ ਤੋਂ ਬਣੀਆਂ ਹਨ?

1. ਲੋਹਾ 2. ਤਾਂਬਾ
3. ਬਾਕਸਾਈਟ 4. ਅਬਰਕ



9. ਰਾਮ ਜਦੋਂ ਵੀ ਕਿਤੇ ਬਾਹਰ ਜਾਂਦਾ ਹੈ ਤਾਂ ਪਰਫਿਊਮ ਦੀ ਬਹੁਤ ਹੀ ਜ਼ਿਆਦਾ ਵਰਤੋਂ ਕਰਦਾ ਹੈ। ਦੱਸੋ ਉਹ ਵਾਤਾਵਰਨ ਵਿੱਚ ਕੀ ਭੂਮਿਕਾ ਨਿਭਾ ਰਿਹਾ ਹੈ?

1. ਉਹ ਵਾਯੂ ਪ੍ਰਦੂਸ਼ਣ ਘਟਾ ਰਿਹਾ ਹੈ।
2. ਉਹ ਵਾਯੂ ਪ੍ਰਦੂਸ਼ਣ ਵਧਾ ਰਿਹਾ ਹੈ।
3. ਉਹ ਆਕਸੀਜਨ ਦੀ ਮਾਤਰਾ ਵਧਾ ਰਿਹਾ ਹੈ।
4. ਉਹ ਹਵਾ ਨੂੰ ਸਾਫ਼ ਕਰ ਰਿਹਾ ਹੈ।

10. ਵਾਯੂਮੰਡਲ ਦਾ ਕਿਹੜਾ ਭਾਗ ਹਵਾਈ ਜਹਾਜ਼ਾਂ ਦੀ ਉਡਾਨ ਲਈ ਬਹੁਤ ਯੋਗ ਹੁੰਦਾ ਹੈ?

1. ਮੱਧਵਰਤੀ ਮੰਡਲ 2. ਸਮਤਾਪ ਮੰਡਲ 3. ਤਾਪ ਮੰਡਲ 4. ਅਸ਼ਾਂਤੀ ਮੰਡਲ

11. ਸੁਖਜੀਤ ਇੱਕ ਪਿੰਡ ਵਿੱਚ ਰਹਿੰਦਾ ਹੈ। ਇੱਕ ਵਾਰ ਉਹ ਆਪਣੇ ਪਿਤਾ ਜੀ ਨਾਲ ਆਪਣੇ ਮਾਮੇ ਨੂੰ ਮਿਲਣ ਦਿੱਲੀ ਗਿਆ। ਸਟੇਸ਼ਨ ਦੇ ਬਾਹਰ ਆਉਂਦੇ ਹੀ ਸਕੂਟਰਾਂ, ਬੱਸਾਂ ਅਤੇ ਉਸਾਰੀ ਦੇ ਕੰਮਾਂ ਕਾਰਨ ਉਸਦਾ ਸਾਹ ਲੈਣਾ ਔਖਾ ਹੋ ਗਿਆ। ਉਸਦੇ ਪਿਤਾ ਜੀ ਨੇ ਦੱਸਿਆ ਕਿ ਇਹ....

1. ਹਵਾ ਪ੍ਰਦੂਸ਼ਣ ਕਾਰਨ ਹੋ ਰਿਹਾ ਹੈ। 2. ਥਕਾਵਟ ਕਾਰਨ ਹੋ ਰਿਹਾ ਹੈ।
3. ਜਲ ਪ੍ਰਦੂਸ਼ਣ ਕਾਰਨ ਹੋ ਰਿਹਾ ਹੈ। 4. ਘੱਟ ਜਗ੍ਹਾ ਕਾਰਨ ਹੋ ਰਿਹਾ ਹੈ।

12. ਸੁਖਬੀਰ ਆਪਣੇ ਰੇਡੀਓ ਉੱਪਰ ਪ੍ਰੋਗਰਾਮ ਸੁਣ ਰਿਹਾ ਸੀ। ਅਚਾਨਕ ਉਸਨੇ ਆਪਣੇ ਮਾਤਾ ਜੀ ਨੂੰ ਪੁੱਛਿਆ, ਜੋ ਕਿ ਇੱਕ ਸ.ਸ. ਅਧਿਆਪਿਕਾ ਹੈ, ਕਿ ਅਸੀਂ ਰੇਡੀਓ ਦਾ ਪ੍ਰਸਾਰਣ ਕਿਵੇਂ ਸੁਣ ਸਕਦੇ ਹਾਂ। ਉਸਦੀ ਮਾਤਾ ਨੇ ਦੱਸਿਆ ਕਿ ਸਾਡੇ ਵਾਯੂਮੰਡਲ ਵਿੱਚ ਬਹੁਤ ਸਾਰੇ ਬਿਜਲਈ ਅਣੂ ਮਿਲਦੇ ਹਨ, ਜੋ ਧਰਤੀ ਦੀਆਂ ਰੇਡੀਓ ਤਰੰਗਾਂ ਨੂੰ ਵਾਪਸ ਧਰਤੀ ਤੇ ਭੇਜ ਦਿੰਦੇ ਹਨ, ਪੁਲਾੜ ਵਿੱਚ ਨਹੀਂ ਜਾਣ ਦਿੰਦੇ। ਇਹ ਬਿਜਲਈ ਕਣ ਵਾਯੂਮੰਡਲ ਦੀ ਕਿਸ ਪਰਤ ਵਿੱਚ ਪਾਏ ਜਾਂਦੇ ਹਨ:

1. ਆਇਨ ਮੰਡਲ 2. ਮੱਧ ਮੰਡਲ 3. ਅਸ਼ਾਂਤ ਮੰਡਲ 4. ਸਮਤਾਪ ਮੰਡਲ

ਇਤਿਹਾਸ

13. ਵੈਦਿਕ ਕਾਲ ਵਿੱਚ ਭਾਰਤ ਨੂੰ ਕੀ ਨਾਂ ਦਿੱਤਾ ਗਿਆ?

1. ਭਾਰਤਵਰਸ਼
2. ਹਿੰਦੂ
3. ਆਰੀਆ ਵਰਤ
4. ਇੰਡਸ

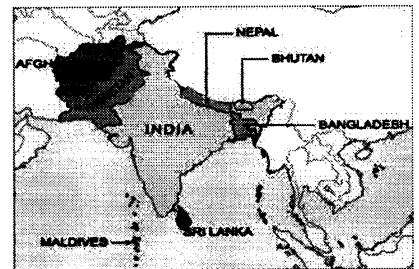
14. ਮੰਨ ਲਵੋ ਤੁਹਾਡੇ ਅਧਿਆਪਕ ਨੇ ਤੁਹਾਨੂੰ ਮੱਧ ਕਾਲ ਬਾਰੇ ਜਾਣਕਾਰੀ ਪ੍ਰਾਪਤ ਕਰਕੇ ਇੱਕ ਲੇਖ ਲਿਖਣ ਲਈ ਦਿੱਤਾ ਹੈ।

ਤੁਸੀਂ ਇਸ ਸੰਬੰਧੀ ਜਾਣਕਾਰੀ ਕਿੱਥੋਂ ਪ੍ਰਾਪਤ ਕਰੋਗੇ:

1. ਉਸ ਸਮੇਂ ਦੇ ਸਮਾਰਕਾਂ ਦੀ ਸੈਰ ਕਰਕੇ।
2. ਅਜਾਇਬ ਘਰ ਵਿੱਚ ਉਸ ਸਮੇਂ ਨਾਲ ਸੰਬੰਧਿਤ ਸਿੱਕੇ ਦੇਖ ਕੇ।
3. ਉਸ ਸਮੇਂ ਨਾਲ ਸੰਬੰਧਿਤ ਪੁਸਤਕਾਂ ਪੜ੍ਹਕੇ।
4. ਉਪਰੋਕਤ ਸਾਰੇ

15. ਭਾਰਤੀ ਉਪ-ਮਹਾਂਦੀਪ ਵਿੱਚ ਹੇਠ ਲਿਖਿਆਂ ਵਿੱਚੋਂ ਕਿਹੜਾ ਦੇਸ਼ ਸ਼ਾਮਲ ਨਹੀਂ ਹੈ?

1. ਭੂਟਾਨ
2. ਨੇਪਾਲ
3. ਮਾਲਦੀਵ
4. ਬੰਗਲਾ ਦੇਸ਼




16. ਰਾਸ਼ਟਰਕੂਟ ਰਾਜ ਕਿਹੜੀਆਂ ਦੋ ਨਦੀਆਂ ਦੇ ਵਿਚਕਾਰ ਸੀ?

1. ਕ੍ਰਿਸ਼ਨਾ ਅਤੇ ਤੁੰਗਭਦਰਾ
2. ਨਰਮਦਾ ਅਤੇ ਤਾਪਤੀ
3. ਗੋਦਾਵਰੀ ਅਤੇ ਮਹਾਂਨਦੀ
4. ਗੰਗਾ ਅਤੇ ਜਮੁਨਾ

17. ਇਹ ਤਸਵੀਰ ਚੌਹਾਨ ਵੰਸ਼ ਦੇ ਕਿਸ ਸ਼ਾਸਕ ਦੀ ਹੈ?

1. ਪ੍ਰਿਥਵੀਰਾਜ ਚੌਹਾਨ
2. ਮੁਹੰਮਦ ਗੌਰੀ
3. ਮਹਿਮੂਦ ਗਜ਼ਨਵੀ
4. ਅਕਬਰ



18. ਅਧਿਆਪਕ ਜੀ ਨੇ ਜਮਾਤ ਵਿੱਚ ਆਉਂਦਿਆਂ ਹੀ ਵਿਦਿਆਰਥੀਆਂ ਨੂੰ ਦੱਸਿਆ ਕਿ ਜਲਦੀ ਉਹ ਜਮਾਤ ਨੂੰ ਲੈ ਕੇ ਉਸ ਮੰਦਰ ਵਿੱਚ ਜਾਣਗੇ ਜਿੱਥੋਂ ਮਹਿਮੂਦ ਗਜ਼ਨਵੀ ਬਹੁਤ ਸਾਰਾ ਸੋਨਾ, ਚਾਂਦੀ ਅਤੇ ਹੀਰੇ ਜਵਾਹਰਾਤ ਲੁੱਟ ਕੇ ਲੈ ਗਿਆ ਸੀ। ਇਹ ਮੰਦਰ ਗੁਜਰਾਤ ਵਿੱਚ ਹੈ। ਕੀ ਤੁਸੀਂ ਦੱਸ ਸਕਦੇ ਹੋ ਕਿ ਅਧਿਆਪਕ ਕਿਹੜੇ ਮੰਦਰ ਦੀ ਗੱਲ ਕਰ ਰਹੇ ਸਨ?

1. ਸੋਮਨਾਥ
2. ਸੂਰਜ ਮੰਦਰ
3. ਕੈਲਾਸ਼ ਮੰਦਰ
4. ਰੱਥ ਮੰਦਰ

19. ਚੋਲ ਰਾਜ ਪ੍ਰਬੰਧ ਸਮੇਂ ਹਰੇਕ ਪਿੰਡ ਦੀਆਂ ਕਿੰਨੀਆਂ ਸਭਾਵਾਂ ਹੁੰਦੀਆਂ ਸਨ?

1. ਤਿੰਨ
2. ਦੋ
3. ਚਾਰ
4. ਪੰਜ

20. 5ਵੀਂ ਅਤੇ 6ਵੀਂ ਸਦੀ ਦੌਰਾਨ ਪੱਲਵ ਸ਼ਕਤੀਸ਼ਾਲੀ ਬਣ ਗਏ। ਉਹਨਾਂ ਨੇ ਕਾਂਚੀ ਨੂੰ ਆਪਣੀ ਰਾਜਧਾਨੀ ਬਣਾ ਲਿਆ। ਪੱਲਵ ਕਿਹੜੇ ਵੰਸ਼ ਦੇ ਪਤਨ ਤੋਂ ਬਾਅਦ ਸ਼ਕਤੀਸ਼ਾਲੀ ਬਣੇ?

1. ਪਾਲ ਵੰਸ਼
2. ਸਾਤਵਾਹਨ ਵੰਸ਼
3. ਚੋਲ ਵੰਸ਼
4. ਪਾਂਡਯ ਵੰਸ਼

21. ਮੰਨ ਲਵੋ ਤੁਸੀਂ ਚੋਲ ਵੰਸ਼ ਦੇ ਸਮੇਂ ਇੱਕ ਪਿੰਡ ਵਿੱਚ ਪਹੁੰਚੇ। ਤੁਸੀਂ ਦੇਖਿਆ ਕਿ ਪਿੰਡ ਦੇ ਸਾਰੇ ਬਾਲਗ ਪੁਰਸ਼ ਇਕੱਠੇ ਹੋ ਕੇ ਕਿਸੇ ਝਗੜੇ ਦਾ ਨਿਪਟਾਰਾ ਕਰ ਰਹੇ ਹਨ। ਇਸ ਆਧਾਰ 'ਤੇ ਕੀ ਤੁਸੀਂ ਦੱਸ ਸਕਦੇ ਹੋ ਕਿ ਇਸ ਪ੍ਰਸ਼ਾਸਨਿਕ ਸੰਸਥਾ ਨੂੰ ਕੀ ਕਿਹਾ ਜਾਂਦਾ ਸੀ?

- | | | | |
|-------|-----------|--------|----------|
| 1. ਉਰ | 2. ਵੇਲੇਡੂ | 3. ਸਭਾ | 4. ਮੰਡਲਮ |
|-------|-----------|--------|----------|

22. ਕੁਤਬ ਮੀਨਾਰ ਦੀ ਉਸਾਰੀ ਕਿਸ ਨੇ ਸ਼ੁਰੂ ਕਰਵਾਈ?

- | | | | |
|---------|--------------|-----------------|--------------|
| 1. ਬਲਬਨ | 2. ਇਲਤੁਤਮਿਸ਼ | 3. ਕੁਤਬਉਦੀਨ ਐਬਕ | 4. ਅਰਾਮ ਸ਼ਾਹ |
|---------|--------------|-----------------|--------------|

23. ਖਿਲਜੀ ਵੰਸ਼ ਦਾ ਸੰਸਥਾਪਕ ਕੌਣ ਸੀ?

- | | | | |
|-------------------|----------|----------------------|---------|
| 1. ਜਲਾਲਉਦੀਨ ਖਿਲਜੀ | 2. ਤੈਮੂਰ | 3. ਮੁਹੰਮਦ-ਬਿਨ-ਤੁਗ਼ਲਕ | 4. ਅਕਬਰ |
|-------------------|----------|----------------------|---------|

24. ਮੰਨ ਲਵੋ ਤੁਸੀਂ ਇੱਕ ਕਿਸਾਨ ਹੋ। ਤੁਹਾਡੇ ਰਾਜੇ ਨੇ ਲਗਾਨ ਦੀ ਦਰ ਘੱਟ ਹੀ ਰੱਖੀ ਹੈ। ਉਸਨੇ ਚੰਗੀ ਪੈਦਾਵਾਰ ਲਈ ਨਹਿਰਾਂ ਬਣਾਕੇ ਸਿੰਚਾਈ ਦਾ ਵੀ ਵਧੀਆ ਪ੍ਰਬੰਧ ਕੀਤਾ ਹੈ। ਕਈ ਵਾਰ ਤਾਂ ਉਹ ਕਿਸਾਨਾਂ ਦੇ ਕਰਜ਼ੇ ਵੀ ਮੁਆਫ਼ ਕਰ ਦਿੰਦਾ ਹੈ। ਤੁਹਾਡਾ ਰਾਜਾ ਕੌਣ ਹੈ?

- | | |
|----------------------|-----------------|
| 1. ਸਿਕੰਦਰ ਲੋਧੀ | 2. ਖਿਜਰ ਖਾਂ |
| 3. ਫਿਰੋਜ਼ਸ਼ਾਹ ਤੁਗ਼ਲਕ | 4. ਇਬਰਾਹੀਮ ਲੋਧੀ |

25. ਮੰਨ ਲਵੋ ਤੁਸੀਂ ਇਸਲਾਮ ਧਰਮ ਨੂੰ ਮੰਨਣ ਵਾਲੇ ਹੋ ਅਤੇ ਦਿੱਲੀ ਸਲਤਨਤ ਕਾਲ ਵਿੱਚ ਰਹਿ ਰਹੇ ਹੋ। ਸਰਕਾਰ ਤੁਹਾਡੇ ਤੋਂ 2.5% ਦੀ ਦਰ ਨਾਲ ਤੁਹਾਡੀ ਜਾਇਦਾਦ 'ਤੇ ਕਰ ਵਸੂਲ ਕਰਦੀ ਹੈ। ਤੁਸੀਂ ਹੇਠ ਲਿਖਿਆਂ ਵਿੱਚੋਂ ਕਿਹੜਾ ਕਰ ਚੁਕਾ ਹੋ?

- | | | | |
|----------|----------|----------|--------|
| 1. ਜ਼ਜੀਆ | 2. ਜ਼ਕਾਤ | 3. ਖਰਾਜ਼ | 4. ਖਮਸ |
|----------|----------|----------|--------|

26. ਮੁਗ਼ਲਾਂ ਦੇ ਆਖਰੀ ਪ੍ਰਸਿੱਧ ਸ਼ਾਸਕ ਔਰੰਗਜ਼ੇਬ ਦਾ ਸ਼ਾਸਨ ਕਾਲ ਦੱਸੋ।

- | | |
|-----------------|-----------------|
| 1. 1564-1574 ਈ. | 2. 1658-1707 ਈ. |
| 3. 1708-1718 ਈ. | 4. 1650-1670 ਈ. |

27. ਸਿੱਖਾਂ ਦੇ ਨੌਵੇਂ ਸ੍ਰੀ ਗੁਰੂ ਤੇਗ ਬਹਾਦਰ ਜੀ ਨੂੰ ਕਿਹੜੇ ਮੁਗ਼ਲ ਬਾਦਸ਼ਾਹ ਦੁਆਰਾ ਤਸੀਹੇ ਦੇ ਕੇ ਸ਼ਹੀਦ ਕੀਤਾ ਗਿਆ?

- | | | | |
|---------|-------------|-------------|------------|
| 1. ਅਕਬਰ | 2. ਸ਼ਾਹਜਹਾਂ | 3. ਔਰੰਗਜ਼ੇਬ | 4. ਜਹਾਂਗੀਰ |
|---------|-------------|-------------|------------|

28. ਮੁਗ਼ਲ ਕਾਲ ਵਿੱਚ ਲਗਾਨ ਇੱਕਠਾ ਕਰਨ ਦੀਆਂ ਕਈ ਪ੍ਰਣਾਲੀਆਂ ਸਨ। ਇਹਨਾਂ ਵਿੱਚੋਂ ਇੱਕ ਪ੍ਰਣਾਲੀ ਅਨੁਸਾਰ ਜਦੋਂ ਫ਼ਸਲ ਕੱਟ ਲਈ ਜਾਂਦੀ ਸੀ, ਉਸਨੂੰ ਤਿੰਨ ਹਿੱਸਿਆਂ ਵਿੱਚ ਵੰਡ ਦਿੱਤਾ ਜਾਂਦਾ ਸੀ ਇੱਕ ਹਿੱਸਾ ਸਰਕਾਰ ਲਗਾਨ ਦੇ ਰੂਪ ਵਿੱਚ ਲੈ ਲੈਂਦੀ ਸੀ ਬਾਕੀ ਦੇ ਹਿੱਸੇ ਕਿਸਾਨ ਕੋਲ ਰਹਿ ਜਾਂਦੇ ਸਨ। ਕੀ ਤੁਸੀਂ ਇਸ ਪ੍ਰਣਾਲੀ ਦਾ ਨਾਂ ਜਾਣਦੇ ਹੋ ?

- | | |
|------------------|--------------------------|
| 1. ਕਨਕੂਤ ਪ੍ਰਣਾਲੀ | 3. ਵਟਾਈ ਪ੍ਰਣਾਲੀ |
| 2. ਨਾਸਕ ਪ੍ਰਣਾਲੀ | 4. ਇਹਨਾਂ ਵਿੱਚੋਂ ਕੋਈ ਨਹੀਂ |

29. ਅਕਬਰ ਦੇ ਸਮੇਂ ਵਿੱਚ ਲਗਾਨ ਭੂਮੀ ਦਾ ਉਪਜਾਊਪਨ ਦੇਖ ਕੇ ਲਿਆ ਜਾਂਦਾ ਸੀ। ਇੱਕ ਤਰ੍ਹਾਂ ਦੀ ਜ਼ਮੀਨ ਜਿਸ 'ਤੇ ਇੱਕ ਜਾਂ ਦੋ ਸਾਲਾਂ ਬਾਅਦ ਫ਼ਸਲ ਬੀਜੀ ਜਾਂਦੀ ਸੀ, ਤੇ ਲਗਾਨ ਵੀ ਬਹੁਤ ਜ਼ਿਆਦਾ ਨਹੀਂ ਲਿਆ ਜਾਂਦਾ ਸੀ। ਕੀ ਤੁਸੀਂ ਦੱਸ ਸਕਦੇ ਹੋ ਕਿ ਇਸ ਤਰ੍ਹਾਂ ਦੀ ਭੂਮੀ ਨੂੰ ਕੀ ਕਿਹਾ ਜਾਂਦਾ ਸੀ?

- | | |
|---------------|---------------|
| 1. ਪੋਲਜ਼ ਭੂਮੀ | 3. ਪਰੋਤੀ ਭੂਮੀ |
| 2. ਛੱਫ਼ਰ ਭੂਮੀ | 4. ਬੰਜਰ ਭੂਮੀ |

30. ਐਲੋਰਾ ਵਿਖੇ ਕੈਲਾਸ਼ ਮੰਦਰ ਰਾਸ਼ਟਰਕੂਟ ਸ਼ਾਸਕਾਂ ਦੀ ਭਵਨ ਨਿਰਮਾਣ ਕਲਾ ਦਾ ਇੱਕ ਪ੍ਰਸਿੱਧ ਨਮੂਨਾ ਹੈ। ਕੀ ਤੁਸੀਂ ਦੱਸ ਸਕਦੇ ਹੋ ਕਿ ਇਹ ਮੰਦਰ ਕਿਸ ਸ਼ਾਸਕ ਦੁਆਰਾ ਬਣਾਇਆ ਗਿਆ ਹੈ?


1. ਅਕਬਰ
2. ਸ਼ਾਹਜਹਾਂ
3. ਰਾਜਿੰਦਰ ਚੋਲ
4. ਕ੍ਰਿਸ਼ਨ ਪਹਿਲੇ

31. ਤਾਜ ਮਹਿਲ ਬਹੁਤ ਸਾਰੀਆਂ ਭਵਨ ਨਿਰਮਾਣ ਕਲਾ ਦੇ ਨਮੂਨਿਆਂ ਦਾ ਸੁਮੇਲ ਹੈ। ਇਹ ਸੰਗਮਰਮਰ ਦਾ ਬਣਿਆ ਹੈ। ਇਹ ਦੂਸਰੇ ਦੇਸ਼ਾਂ ਤੋਂ ਮੰਗਵਾਏ ਗਏ ਕਿੰਨੀ ਤਰ੍ਹਾਂ ਦੇ ਕੀਮਤੀ ਪੱਥਰਾਂ ਨਾਲ ਸਜਾਇਆ ਗਿਆ ਹੈ?

1. 10 ਤਰ੍ਹਾਂ
2. 20 ਤਰ੍ਹਾਂ
3. 30 ਤਰ੍ਹਾਂ
4. 40 ਤਰ੍ਹਾਂ

32. ਮੰਨ ਲਵੋ ਤੁਸੀਂ ਅਜ਼ਮੇਰ ਜਾ ਰਹੇ ਹੋ। ਇੱਥੇ ਇੱਕ ਪ੍ਰਸਿੱਧ ਸੂਫੀ ਸੰਤ ਦੀ ਦਰਗਾਹ ਹੈ। ਕੀ ਤੁਸੀਂ ਦੱਸ ਸਕਦੇ ਹੋ ਕਿ ਤੁਸੀਂ ਕਿਹੜੇ ਸੂਫੀ ਸੰਤ ਦੀ ਦਰਗਾਹ ਤੇ ਜਾਵੋਗੇ?

1. ਨਿਜਾਮੁਦੀਨ ਔਲੀਆ
2. ਮੁਈਨਉਦੀਨ ਚਿਸ਼ਤੀ
3. ਸ਼ੇਖ ਫਰੀਦ
4. ਸ਼ੇਖ ਸਲੀਮ ਚਿਸ਼ਤੀ



ਨਾਗਰਿਕ ਸਾਸ਼ਤਰ

33. ਆਧੁਨਿਕ ਯੁੱਗ ਵਿੱਚ ਕਿਸ ਸਰਕਾਰ ਨੂੰ ਸਭ ਤੋਂ ਵਧੀਆ ਮੰਨਿਆ ਜਾਂਦਾ ਹੈ?

1. ਤਾਨਾਸ਼ਾਹੀ ਸਰਕਾਰ
2. ਲੋਕਤੰਤਰੀ ਸਰਕਾਰ
3. ਸੈਨਿਕ ਸਰਕਾਰ
4. ਇਹ ਸਾਰੇ

34. ਸੰਸਦੀ ਲੋਕਤੰਤਰੀ ਸਰਕਾਰਾਂ ਵਾਲੇ ਦੇਸ਼ਾਂ ਵਿੱਚ ਦੇਸ਼ ਦੇ ਮੁੱਖੀ ਕਿੰਨੀ ਤਰ੍ਹਾਂ ਦੇ ਹੁੰਦੇ ਹਨ?

1. ਚਾਰ
2. ਪੰਜ
3. ਦੋ
4. ਤਿੰਨ

35. ਆਧੁਨਿਕ ਯੁੱਗ ਵਿੱਚ ਲੋਕਤੰਤਰੀ ਸਰਕਾਰ ਨੂੰ ਸਭ ਤੋਂ ਵਧੀਆ ਸਰਕਾਰ ਮੰਨਿਆ ਗਿਆ ਹੈ। ਪਰ ਇਸਦੀ ਸਫਲਤਾ ਕੁੱਝ ਕਾਰਕਾਂ ਤੇ ਨਿਰਭਰ ਕਰਦੀ ਹੈ। ਹੇਠ ਲਿਖਿਆਂ ਵਿੱਚੋਂ ਕਿਹੜਾ ਇਸ ਲਈ ਲੋੜੀਂਦਾ ਕਾਰਕ ਨਹੀਂ ਹੈ?

1. ਸੂਝਵਾਨ ਨਾਗਰਿਕ
2. ਸਮਝਦਾਰ ਅਤੇ ਸੂਝਵਾਨ ਨੇਤਾ
3. ਸਹਿਣਸ਼ੀਲਤਾ
4. ਅਮੀਰ ਨਾਗਰਿਕ

36. ਹੇਠ ਲਿਖੇ ਕਥਨਾਂ ਵਿੱਚੋਂ ਕਿਹੜਾ ਸਹੀ ਹੈ?

ਕਥਨ 1 ਲੋਕਤੰਤਰੀ ਸਰਕਾਰ ਵਾਲੇ ਦੇਸ਼ ਵਿੱਚ ਦੇਸ਼ ਦੇ ਮੁੱਖੀ ਦੋ ਤਰ੍ਹਾਂ ਦੇ ਹੁੰਦੇ ਹਨ- ਨਾਂ ਮਾਤਰ ਮੁੱਖੀ ਅਤੇ ਅਸਲੀ ਮੁੱਖੀ।
ਕਥਨ 2 ਸਾਡੇ ਦੇਸ਼ ਵਿੱਚ ਕੇਂਦਰੀ ਸਰਕਾਰ ਦਾ ਨਾਂ -ਮਾਤਰ ਮੁੱਖੀ ਰਾਸ਼ਟਰਪਤੀ ਹੈ ਅਤੇ ਰਾਜ ਸਰਕਾਰਾਂ ਦੇ ਨਾਂ ਮਾਤਰ ਮੁੱਖੀ ਰਾਜਪਾਲ ਹੁੰਦੇ ਹਨ।

1. ਕਥਨ 1 ਸਹੀ ਹੈ।
2. ਕਥਨ 2 ਸਹੀ ਹੈ।

3. ਕਥਨ 1 ਅਤੇ 2 ਸਹੀ ਹਨ।

4. ਕਥਨ 1 ਅਤੇ 2 ਗਲਤ ਹਨ।

37. ਭਾਰਤ ਵਿੱਚ ਚੋਣਾਂ ਕਰਾਉਣ ਦੀ ਜ਼ਿੰਮੇਵਾਰੀ ਕਿਸਦੀ ਹੈ?

1. ਪ੍ਰਧਾਨ ਮੰਤਰੀ

2. ਸੁਪਰੀਮ ਕੋਰਟ ਦੇ ਮੁੱਖ ਜੱਜ ਦੀ

3. ਚੋਣ ਕਮਿਸ਼ਨ ਦੀ

4. ਇਹਨਾਂ ਵਿੱਚੋਂ ਕੋਈ ਨਹੀਂ

38. ਭਾਰਤ ਵਿੱਚ ਕਿਹੋ ਜਿਹੀ ਦਲ ਪ੍ਰਣਾਲੀ ਹੈ?

1. ਇੱਕ ਦਲੀ

2. ਦੋ-ਦਲੀ

3. ਬਹੁ-ਦਲੀ

4. ਇਹਨਾਂ ਵਿੱਚੋਂ ਕੋਈ ਨਹੀਂ


39. ਹੇਠ ਦਿੱਤੀ ਤਸਵੀਰ ਨੂੰ ਪਛਾਣੋ।

1. ਈ.ਵੀ.ਐਮ

2. ਏ.ਟੀ.ਐਮ

3. ਬੈਲਟ ਬਾਕਸ

4. ਵੀ.ਵੀ.ਪੈਟ



40. ਤੁਸੀਂ ਆਪਣੇ ਦੇਸ਼ ਦੀ ਸੇਵਾ ਕਰਨੀ ਚਾਹੁੰਦੇ ਹੋ, ਲੋਕਤੰਤਰ ਦੇ ਨਿਯਮਾਂ ਅਨੁਸਾਰ ਤੁਸੀਂ ਇਸ ਰਾਜਨੀਤਿਕ ਉਦੇਸ਼ ਦੀ ਪ੍ਰਾਪਤੀ ਲਈ ਮਿਲ ਕੇ ਕੰਮ ਕਰਨ ਵਾਲੇ ਵਿਅਕਤੀਆਂ ਦਾ ਇਕ ਸਮੂਹ ਬਣਾਇਆ ਹੈ, ਇਸ ਸਮੂਹ ਨੂੰ ਕੀ ਆਖਦੇ ਹਨ?

1. ਉਮੀਦਵਾਰ

2. ਵਿਰੋਧੀ ਦਲ

3. ਰਾਜਨੀਤਿਕ ਦਲ

4. ਇਹਨਾਂ ਵਿੱਚੋਂ ਕੋਈ ਨਹੀਂ

SAMPLE PAPER TERM-1 (2021-22)

CLASS: 7th SOCIAL SCIENCE


All questions are compulsory

Total Marks: 40

1 Which planet of the solar system has no atmosphere?

1. Mercury
2. Saturn
3. Earth
4. Mars

2. Children, which of the following way should we adopt to keep our environment clean?



1. Plant trees 2. Cutting trees 3. Setup factories 4. None of the above

3. One day, Vikas went out for a walk with his father early in the morning. On the way, he saw many plants, birds, animals and many more creatures. Can you tell, what are all these creatures known as?

1. Lithosphere
2. Hydrosphere
3. Biosphere
4. Atmosphere

4. Which of the following statements is wrong?


Statement -1 = Ocean currents and tides affect the adjoining areas.

Statement -2 = Man has not polluted his surroundings.

1. Statements (1) and (2) are correct.
2. Statements (1) and (2) are incorrect.
3. Statement (1) is correct and (2) is wrong.
4. Statement (1) is wrong and (2) is correct.

5. Which type of soil is found in the highlighted area in the given map?

1. Black soil
2. Red soil
3. Alluvial soil
4. Laterite soil



6. These days, I am so important that I am also known as liquid gold. What is my name?

1. Uranium
2. Petroleum
3. Thorium
4. Water

7. This basic igneous rock is used to make electric appliances. This rock changes into Schist after conversion. Which of the following is this?

1. Mica
2. Gneiss
3. Gabbro
4. Slate

8. Look at the picture and identify the metal of which the following things are made of.

1. Iron
2. Copper
3. Bauxite
4. Mica



9. Whenever Ram goes out, he makes excessive use of perfume. Tell what role is he playing in the environment?

1. He is decreasing air pollution.
2. He is increasing air pollution.
3. He is increasing amount of oxygen.
4. He is cleaning the air.

10. Which of the following layers of atmosphere is the best for flying aeroplanes?

1. Mesosphere
2. Stratosphere
3. Atmosphere
4. Troposphere

11. Sukhjit lived in a village. Once he went to Delhi to meet his uncle. While coming out of the station, he found difficulty in breathing due to the scooters, buses and construction work. His father told him that:

1. It is happening due to air pollution.
2. It is happening due to fatigue.
3. It is happening due to water pollution.
4. It is happening due to less space.

12. Sukhbir was listening to a program on the radio. Suddenly, he asked his mother, who is a Social Science teacher, how can we listen to a radio broadcast? His mother replied that a lot of electrically charged particles are found in our atmosphere which help in the reflection of the radio waves back to the earth and stop them from going in the space. Which sphere of atmosphere are these electrically charged particles found in?

1. Ionosphere
2. Mesosphere
3. Troposphere
4. Stratosphere

HISTORY

13. What was India named in vedic period?

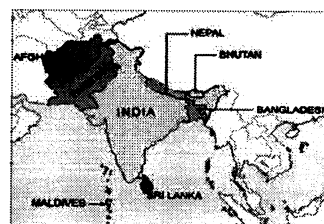
1. Bharatvarsh
2. Hindu
3. Aryavrata
4. Indus

14. Suppose your teacher has assigned you to collect information on the medieval period and write an essay on it. From where will you get the information about it?

1. Travelling buildings of that period
2. After seeing coins of that period in museum
3. After reading books related to that period
4. All of the above

15 Which of the following countries is not included in the Indian subcontinent?

1. Bhutan
2. Nepal
3. Maldives
4. Bangladesh



16. Which of the two rivers did the kingdom of Rashtrakuta exist between?

1. Krishna and Tungabhadra
2. Narmada and Tapti
3. Godavari and Mahanadi
4. Ganga and Yamuna

17. Which of the following rulers of Chauhan dynasty is shown in the given picture?

1. Prithviraj Chauhan
2. Mohammad Ghori
3. Mehmud Ghaznavi



4. Akbar

18. No sooner did the teacher enter the class, than she told the students that she would take them to the Temple from where Mahmud Ghaznavi looted all the Gold, Silver and other ornaments. This temple is in Gujarat. Can you tell which temple is the teacher talking about?

1. Somnath temple
2. Sun temple
3. Kailash temple
4. Rath temple

19. During the Chola rule, how many units was every village divided into ?

1. three
2. two
3. four
4. five

20. Palavas became powerful during 5th and 6th century. They made Kanchi as their capital. Palavas became powerful after the end of _____ dynasty.

1. Pala dynasty
2. Satvahana dynasty
3. Chola dynasty
4. Pandya dynasty

21. Suppose you visited a village at the time of Chola dynasty. You saw that all adult men gathered to settle a dispute. On this basis can you tell that what was this administrative unit called?

- | | |
|----------|------------|
| 1. Urr | 2. Veledu |
| 3. Sabha | 4. Mandlam |

22. Who started the construction of Qutab Minar ?

- | | |
|-----------------------|---------------|
| 1. Balban | 2. Iltutmish |
| 3. Qutab-ud-din Aibak | 4. Aaram Shah |

23. Who was the founder of the Khalji dynasty?

- | | |
|------------------------|-----------|
| 1. Jalal-ud-din Khalji | 2. Taimur |
| 3. Mohammad Bin Tuglaq | 4. Akbar |

24. Suppose you are a farmer. Your king charges a nominal land tax. He has made good irrigation system by making canals for good produce. Sometimes he waive off the farmer's loans. Who is your king?

- | | |
|------------------------|------------------|
| 1. Sikandar Lodhi | 2. Khizar Khan |
| 3. Feroze shah Tughlaq | 4. Ibrahim Lodhi |

25. Suppose you follow Islam religion and you are living in Delhi Sultanate time. Government collects property tax at the rate of 2.5 % from you. Which of the following tax are you paying?

- | | |
|-----------|----------|
| 1. Jizya | 2. Zakat |
| 3. Kharaj | 4. Khams |

26. Tell the ruling period of Aurangzeb, the last famous Mughal emperor.

1. 1564-1574 AD
2. 1658-1707 AD
3. 1708-1718 AD
4. 1650-1670 AD

27. Which mughal emperor ordered to execute Guru Teg Bahadur ?

- | | |
|--------------|---------------|
| 1. Akbar | 2. Shah Jahan |
| 3. Aurangzeb | 4. Jahangir |

28. There were many revenue systems during Mughal era. According to one such systems after the harvest, the produce was divided into three parts. One part of it went to the government as revenue and other two remained with the farmer. Do you know the name of this system?

- | | | | |
|------------------|-----------------|-----------------|------------------|
| 1. Kankut System | 2. Nasak System | 3. Batai System | 4. None of these |
|------------------|-----------------|-----------------|------------------|

29. During the time of Akbar, revenue was collected on the basis of land fertility. One type of land, where cultivation was done after one or two years, was charged with little amount of tax. Can you tell what was this type of land called?

- | | | | |
|----------|--------------|------------|-----------|
| 1. Polaj | 2. Chhachhar | 3. Parauti | 4. Barren |
|----------|--------------|------------|-----------|

30. The Kailash Temple at Ellora is a specimen of the Rashtrakutas architecture. Can you tell the name of the ruler who built this temple?


1. Akbar
2. Shah Jahan
3. Rajendra Chola
4. Krishan -I

31. The Taj Mahal is a mixture of many architectural styles. It is built of white marble. How many varieties of precious stones were imported from other countries to decorate it?

1. 10 type
2. 20 types
3. 30 types
4. 40 types

32. Suppose you are going to Ajmer. Here is a tomb of a famous Sufi saint. Can you tell which Sufi Saint's tomb will you visit?

- | | |
|------------------------|------------------------|
| 1. Nizam-ud-din Auliya | 2. Muin-ud-din Chishti |
| 3. Sheikh Farid | 4. Shekh Salim Chishti |



CIVICS

33. In modern times, which govt is considered the best govt.?

- | | | | |
|----------------|---------------|---------------|------------------|
| 1. Dictatorial | 2. Democratic | 3. Autocratic | 4. All the above |
|----------------|---------------|---------------|------------------|

34. In democratic countries, how many types of heads are there to govern?

- | | | | |
|---------|---------|--------|----------|
| 1. Four | 2. Five | 3. Two | 4. Three |
|---------|---------|--------|----------|

35. In modern time, democracy is considered as to be the best form of govt. Some basic conditions are required for successful democracy. Which among the following is not the basic requirement for democracy?

2. Enlightened citizens
2. Intelligent leaders
3. Tolerance
4. Rich citizens

36. Which statement is true?

Statement 1 – In a democratic country there are two types of heads- nominal and real.
Statement 2 – In our country, president is nominal head and state government has governor as nominal head.

1. Statement 1 is true
2. Statement 2 is true.
3. Statement 1 and 2 are true.
4. Statement 1 and 2 are false.

37. Who is responsible for holding elections in India?

1. Prime Minister
2. Chief Justice of the Supreme Court

3. Election Commissioner

4. None of the above

38. What type of party system is in India?

1. Single party

2. Double party

3. Multi party

4. None of the above


39. Identify the given picture

1. E.V.M

2. A.T.M

3. Ballot box

4. V.V.P.A.T



40. You want to serve your country. According to the laws of democracy, you have made a group of people to achieve political goals. What do we call this group?

1 Candidate

2 Opposition party

3 Political party

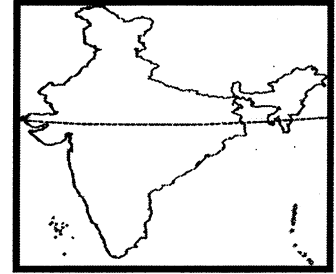
4 None of the above

1. ਸੰਸਾਰ ਦਾ ਖੇਤਰਫਲ ਪੱਖੋਂ ਸੱਤਵੇਂ ਨੰਬਰ ਦਾ ਦੇਸ਼ ਹੈ:

1. ਚੀਨ 2. ਰੂਸ 3. ਕੈਨੇਡਾ 4. ਭਾਰਤ

2. ਸਾਹਮਣੇ ਦਿੱਤੇ ਭਾਰਤ ਦੇ ਨਕਸ਼ੇ ਵਿੱਚ ਕਿਸ ਰੇਖਾ ਨੂੰ ਦਰਸਾਇਆ ਗਿਆ ਹੈ?

1. ਮਕਰ ਰੇਖਾ
2. ਭੂ-ਮੱਧ ਰੇਖਾ
3. ਕਰਕ ਰੇਖਾ
4. ਇਹਨਾਂ ਵਿੱਚੋਂ ਕੋਈ ਨਹੀਂ



3. ਹੇਠ ਲਿਖੇ ਕਥਨਾਂ ਵਿੱਚੋਂ ਕਿਹੜਾ ਕਥਨ ਸਹੀ ਹੈ:

ਕਥਨ 1: ਭਾਰਤ ਦੀ ਅੰਤਰ ਰਾਸ਼ਟਰੀ ਸਰਹੱਦ ਸਭ ਤੋਂ ਜ਼ਿਆਦਾ ਬੰਗਲਾਦੇਸ਼ ਅਤੇ ਸਭ ਤੋਂ ਘੱਟ ਅਫ਼ਗਾਨਿਸਤਾਨ ਨਾਲ ਲੱਗਦੀ ਹੈ।

ਕਥਨ 2 :ਭਾਰਤ ਦੀਆਂ ਹੱਦਾਂ ਨੂੰ ਛੂੰਹਣ ਵਾਲੇ ਦੇਸ਼ਾਂ ਦੀ ਗਿਣਤੀ 4 ਹੈ।

1. ਕਥਨ 1 ਅਤੇ ਕਥਨ 2 ਸਹੀ ਹਨ।
2. ਕਥਨ 1 ਅਤੇ ਕਥਨ 2 ਗਲਤ ਹਨ।
3. ਕਥਨ 1 ਸਹੀ ਹੈ ਅਤੇ ਕਥਨ 2 ਗਲਤ ਹੈ।
4. ਕਥਨ 1 ਗਲਤ ਹੈ ਅਤੇ ਕਥਨ 2 ਸਹੀ ਹੈ।
4. ਪੰਜਾਬ ਦਾ ਇਹ ਸ਼ਹਿਰ ਲੋਹਾ ਢਲਾਈ ਦੀਆਂ ਸਨਅਤਾਂ ਲਈ ਜਾਣਿਆ ਜਾਂਦਾ ਹੈ:

1. ਬਟਾਲਾ 2. ਅਬੋਹਰ 3. ਜਲੰਧਰ 4. ਮੰਡੀ ਗੋਬਿੰਦਗੜ੍ਹ

5. ਭਾਰਤੀ ਪੰਜਾਬ ਦੀਆਂ ਰਾਜਸ਼ਾਹੀ ਰਿਆਸਤਾਂ ਪਟਿਆਲਾ, ਨਾਭਾ, ਮਲੇਰਕੋਟਲਾ, ਜੀਂਦ, ਕਪੂਰਥਲਾ, ਫ਼ਰੀਦਕੋਟ, ਨਾਲਾਗੜ੍ਹ ਅਤੇ ਕਲਸੀਆ ਨੂੰ _____ ਨੂੰ ਇਕੱਠਾ ਕਰਕੇ ਨਵਾਂ ਰਾਜ ਪੈਪਸੂ ਬਣਾਇਆ ਗਿਆ?

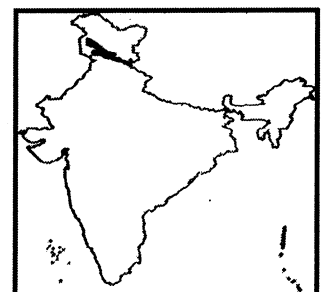
1. 15 ਜੁਲਾਈ 1948 ਈ. 2. 25 ਜੁਲਾਈ 1948 ਈ:
3. 10 ਜਨ 1950 ਈ. 4. 05 ਮਈ 1960 ਈ.

6. ਭਾਬਰ, ਤਰਾਈ, ਬਾਂਗਰ ਅਤੇ ਖਾਡਰ ਹਨ:

1. ਪਰਬਤਾਂ ਦੀਆਂ ਕਿਸਮਾਂ
2. ਪਠਾਰਾਂ ਦੀਆਂ ਕਿਸਮਾਂ
3. ਮੈਦਾਨਾਂ ਦੀਆਂ ਕਿਸਮਾਂ
4. ਇਹਨਾਂ ਵਿੱਚੋਂ ਕੋਈ ਨਹੀਂ

7. ਭਾਰਤ ਦੇ ਭੂਗੋਲਿਕ ਨਕਸ਼ੇ ਵਿੱਚ ਦਿੱਤੀਆਂ ਗਈਆਂ ਪਰਬਤ ਲੜੀਆਂ ਦੀ ਪਹਿਚਾਣ ਕਰੋ:

1. ਜਾਸਕਰ ਅਤੇ ਧੌਲਾਧਰ ਪਰਬਤ ਲੜੀਆਂ
2. ਧੌਲਾਧਾਰ ਅਤੇ ਪੀਰ ਪੰਜਾਲ ਪਰਬਤ ਲੜੀਆਂ
3. ਜਾਸਕਰ ਅਤੇ ਸ਼ਿਵਾਲਿਕ ਪਰਬਤ ਲੜੀਆਂ
4. ਸ਼ਿਵਾਲਿਕ ਅਤੇ ਧੌਲਾਧਾਰ ਪਰਬਤ ਲੜੀਆਂ



8. ਬਿਆਸ ਤੋਂ ਸਤਲੁਜ ਦਰਿਆ ਤੱਕ ਦੇ ਇਲਾਕੇ ਨੂੰ ਇਹ ਨਾਮ ਵੀ ਦਿੱਤਾ ਜਾਂਦਾ ਹੈ:

- | | |
|-------------------------------|------------------------|
| 1. ਗੁਰਦਾਸਪੁਰ-ਪਠਾਨਕੋਟ ਸ਼ਿਵਾਲਿਕ | 2. ਹੁਸ਼ਿਆਰਪੁਰ ਸ਼ਿਵਾਲਿਕ |
| 3. ਰੋਪੜ ਸ਼ਿਵਾਲਿਕ | 4. ਇਹ ਸਾਰੇ |

9. ਪੰਜਾਬ ਵਿੱਚ ਰਾਵੀ ਤੇ ਬਿਆਸ ਦਰਿਆਵਾਂ ਵਿਚਕਾਰਲਾ ਖੇਤਰ ਬਾਰੀ ਦੋਆਬ ਹੈ। ਇਸ ਵਿੱਚ ਪਠਾਨਕੋਟ, ਗੁਰਦਾਸਪੁਰ, ਅੰਮ੍ਰਿਤਸਰ ਅਤੇ ਤਰਨਤਾਰਨ ਦੇ ਜ਼ਿਲ੍ਹੇ ਆਉਂਦੇ ਹਨ। ਇਸ ਖੇਤਰ ਨੂੰ ਹੋਰ ਕਿਸ ਨਾਮ ਨਾਲ ਜਾਣਿਆ ਜਾਂਦਾ ਹੈ ?

- | | | | |
|----------|----------|---------|---------|
| 1. ਮਾਲਵਾ | 2. ਦੋਆਬਾ | 3. ਮਾਝਾ | 4. ਪੱਟੀ |
|----------|----------|---------|---------|

10. ਲੁਨੀ ਨਦੀ ਕਿਸ ਰਾਜ ਤੋਂ ਸ਼ੁਰੂ ਹੁੰਦੀ ਹੈ?

- | | | | |
|----------------|------------|-----------|----------|
| 1. ਮੱਧ ਪ੍ਰਦੇਸ਼ | 2. ਰਾਜਸਥਾਨ | 3. ਝਾਰਖੰਡ | 4. ਬਿਹਾਰ |
|----------------|------------|-----------|----------|

11. ਦੋ ਦਰਿਆਵਾਂ ਦੇ ਵਿਚਕਾਰਲੇ ਖੇਤਰ ਨੂੰ ਅਸੀਂ ਦੋਆਬ ਆਖਦੇ ਹਾਂ। ਪਰ ਕੋਈ ਵੀ ਉੱਚਾ ਖੇਤਰ ਜਿਵੇਂ ਕੋਈ ਪਰਬਤ ਜਾਂ ਉੱਚੀ ਭੂਮੀ ਜੋ ਦੋ-ਜਲ ਪ੍ਰਵਾਹਾਂ ਨੂੰ ਵੰਡਦੀ ਹੋਵੇ, ਉਸ ਭੂਮੀ ਨੂੰ ਕੀ ਕਹਿੰਦੇ ਹਨ?

- | | |
|-----------------|--------------------|
| 1. ਅਪ੍ਰਵਾਹ ਖੇਤਰ | 2. ਜਲ ਵਿਭਾਜਕ |
| 3. ਦਰਿਆਈ ਚੋਅ | 4. ਉਪਰੋਕਤ ਕੋਈ ਨਹੀਂ |

12. ਪ੍ਰਦੂਸ਼ਣ ਰੋਕਣ ਲਈ ਅਤੇ ਨਦੀਆਂ ਸਾਫ਼ ਰੱਖਣ ਲਈ ਸਰਕਾਰ ਨੇ 1986 ਵਿੱਚ 'ਗੰਗਾ ਐਕਸ਼ਨ ਪਲਾਨ' ਬਣਾਇਆ। ਸੰਨ 2015 ਵਿੱਚ ਕੇਂਦਰ ਸਰਕਾਰ ਨੇ ਗੰਗਾ ਨਦੀ ਨੂੰ ਸਾਫ਼ ਰੱਖਣ ਲਈ ਮਹੱਤਵਪੂਰਨ ਕਦਮ ਚੁੱਕੇ ਅਤੇ ਇਸ ਯੋਜਨਾ ਵਿੱਚ ਪੰਜਾਬ ਦੇ ਇੱਕ ਮਹੱਤਵਪੂਰਨ ਦਰਿਆ ਨੂੰ ਸ਼ਾਮਲ ਕੀਤਾ ਗਿਆ। ਇਸ ਦਰਿਆ ਦਾ ਨਾਂ ਦੱਸੋ?

- | | | | |
|---------|----------|---------|----------|
| 1. ਰਾਵੀ | 2. ਸਤਲੁਜ | 3. ਚਨਾਬ | 4. ਜਿਹਲਮ |
|---------|----------|---------|----------|

ਅਰਬ-ਸਾਸ਼ਤਰ

13. ਹੇਠ ਲਿਖਿਆਂ ਵਿੱਚੋਂ ਕਿਹੜਾ ਉਤਪਾਦਨ ਦਾ ਸਾਧਨ ਨਹੀਂ ਹੈ?

- | | |
|----------|-----------|
| 1. ਭੂਮੀ | 2. ਕਿਰਤ |
| 3. ਪੂੰਜੀ | 4. ਬਾਜ਼ਾਰ |

14. ਹੇਠ ਲਿਖਿਆਂ ਵਿੱਚੋਂ ਕਿਹੜੀ ਖੇਤੀ ਅਧਾਰਿਤ ਕਿਰਿਆ ਨਹੀਂ ਹੈ?

- | | |
|--------------|---------------|
| 1. ਮੱਛੀ ਪਾਲਣ | 2. ਮੁਰਗੀ ਪਾਲਣ |
| 3. ਪਸ਼ੂ ਪਾਲਣ | 4. ਲੁਹਾਰ |

15. ਹੇਠ ਲਿਖਿਆਂ ਵਿੱਚੋਂ ਉੱਦਮੀ ਦੀਆਂ ਵਿਸ਼ੇਸ਼ਤਾਵਾਂ ਦੀ ਪਹਿਚਾਣ ਕਰੋ:-

1. ਉਹ ਲਾਭ ਦੇ ਉਦੇਸ਼ ਨਾਲ ਕੰਮ ਕਰਦਾ ਹੈ।
2. ਉਹ ਜੋਖਿਮ ਉਠਾਉਂਦਾ ਹੈ।
3. ਉਹ ਉਤਪਾਦਨ ਦੇ ਬਾਕੀ ਸਾਧਨਾਂ ਵਿੱਚ ਤਾਲ ਮੇਲ ਕਰਕੇ ਉਤਪਾਦਨ ਕਰਦਾ ਹੈ।
4. ਉਪਰੋਕਤ ਸਾਰੇ।

16. ਵਸਤੂ ਦੇ ਉਤਪਾਦਨ ਤੋਂ ਲੈ ਕੇ ਵਿਕਰੀ ਕਰਨ ਤੱਕ ਮੁਦਰਾ ਦੇ ਰੂਪ ਵਿੱਚ ਜੋ ਰਾਸ਼ੀ ਖਰਚ ਕੀਤੀ ਜਾਂਦੀ ਹੈ, ਉਸਨੂੰ ਕੀ ਕਿਹਾ ਜਾਂਦਾ ਹੈ?

- | | | | |
|---------|--------|---------|---------|
| 1. ਆਮਦਨ | 2. ਮੰਗ | 3. ਲਾਗਤ | 4. ਕੀਮਤ |
|---------|--------|---------|---------|

17. ਇਹ ਕਿਰਿਆਵਾਂ ਅਰਥ ਵਿਵਸਥਾ ਵਿੱਚ ਵਸਤੂਆਂ ਅਤੇ ਸੇਵਾਵਾਂ ਦੇ ਪ੍ਰਵਾਹ ਵਿੱਚ ਹਿੱਸਾ ਨਹੀਂ ਪਾਉਂਦੀਆਂ ਅਤੇ ਇਹਨਾਂ ਕਿਰਿਆਵਾਂ ਦੇ ਕਰਨ ਨਾਲ ਆਮਦਨ ਪ੍ਰਾਪਤ ਨਹੀਂ ਹੁੰਦੀ ਦੱਸੋ ਇਹ ਕਿਹੜੀਆਂ ਕਿਰਿਆਵਾਂ ਹੁੰਦੀਆਂ ਹਨ?

- | | |
|-------------------|-----------------------|
| 1. ਆਰਥਿਕ ਕਿਰਿਆਵਾਂ | 2. ਗੈਰ ਆਰਥਿਕ ਕਿਰਿਆਵਾਂ |
|-------------------|-----------------------|

3. ਸੇਵਾ ਖੇਤਰ

4. ਗੋਣ ਖੇਤਰ

18. ਜੇਕਰ ਕਿਸੇ ਕੰਮ ਨੂੰ ਲੋੜ ਤੋਂ ਵੱਧ ਵਿਅਕਤੀ ਕਰ ਰਹੇ ਹੁੰਦੇ ਹਨ, ਉਹ ਕਿਸ ਤਰ੍ਹਾਂ ਦੀ ਬੇਰੁਜ਼ਗਾਰੀ ਹੈ?

1. ਮੌਸਮੀ ਬੇਰੁਜ਼ਗਾਰੀ

2. ਸ਼ਹਿਰੀ ਬੇਰੁਜ਼ਗਾਰੀ

3. ਪੇਂਡੂ ਬੇਰੁਜ਼ਗਾਰੀ

4. ਛੁਪੀ ਹੋਈ ਬੇਰੁਜ਼ਗਾਰੀ

19. ਹੇਠ ਲਿਖਿਆਂ ਵਿੱਚੋਂ ਕਿਸ ਨੂੰ ਬੇਰੁਜ਼ਗਾਰ ਮੰਨਿਆ ਜਾਂਦਾ ਹੈ?

1. 12 ਸਾਲ ਦਾ ਬੱਚਾ

2. 65 ਸਾਲ ਦਾ ਬਜ਼ੁਰਗ

3. ਬਿਮਾਰ ਵਿਅਕਤੀ

4. 42 ਸਾਲ ਦਾ ਵਿਅਕਤੀ

20. ਜਨਸੰਖਿਆ ਦੀ ਗੁਣਵੱਤਾ ਹੇਠ ਲਿਖਿਆਂ ਵਿੱਚੋਂ ਕਿਸ 'ਤੇ ਅਧਾਰਿਤ ਨਹੀਂ ਹੈ?

1. ਚੰਗੀ ਸਿੱਖਿਆ

2. ਚੰਗੀ ਸਿਹਤ

3. ਸ਼ਹਿਰੀਕਰਨ

4. ਉਪਰੋਕਤ ਕੋਈ ਨਹੀਂ

ਇਤਿਹਾਸ

21. ਯੂਨਾਨੀਆਂ ਨੇ ਪੰਜਾਬ ਦਾ ਨਾਂ ਰੱਖਿਆ:

1. ਪੰਚਨਦ

2. ਸਪਤਸਿੰਧੂ

3. ਪੈਂਟਾਪੋਟਾਮੀਆ

4. ਸੇਕੀਆ

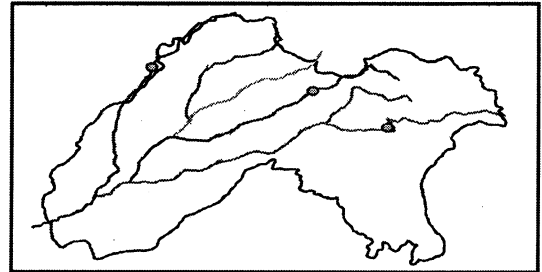
22. ਦਿੱਤੇ ਗਏ ਨਕਸ਼ੇ ਵਿੱਚ ਉਹਨਾਂ ਦਰਿਆਵਾਂ (ਨਦੀਆਂ) ਦੇ ਨਾਵਾਂ ਦੀ ਪਹਿਚਾਣ ਕਰੋ, ਜਿਨ੍ਹਾਂ ਨੂੰ ਬਿੰਦੂਆਂ ਨਾਲ ਦਰਸਾਇਆ ਗਿਆ ਹੈ:

1. ਸਤਲੁਜ, ਬਿਆਸ, ਰਾਵੀ

2. ਸਿੰਧ, ਰਾਵੀ, ਸਤਲੁਜ

3. ਸਿੰਧ, ਜਿਹਲਮ, ਚਨਾਬ

4. ਬਿਆਸ, ਜਿਹਲਮ, ਸਿੰਧ



23. ਇਹ ਸੰਸਾਰ ਦੀ ਪਹਿਲੀ ਪੁਸਤਕ ਮੰਨੀ ਜਾਂਦੀ ਹੈ। ਇਸਦੀ ਰਚਨਾ ਪੰਜਾਬ ਵਿੱਚ ਹੀ ਹੋਈ ਸੀ। ਇਹ ਪੁਸਤਕ ਕਿਹੜੀ ਹੈ?

1. ਰਿਗਵੇਦ

2. ਮਨੂੰ ਸਮ੍ਰਿਤੀ

3. ਮਹਾਂਭਾਰਤ

4. ਗੀਤਾ

24. ਪਾਣੀਪਤ ਦੀ ਪਹਿਲੀ ਲੜਾਈ ਹੋਈ:

1. 1526 ਈ:

2. 1571 ਈ:

3. 1546 ਈ:

4. 1556 ਈ:

25. ਸੁਲਤਾਨਪੁਰ ਲੋਧੀ ਰਹਿੰਦਿਆਂ ਗੁਰੂ ਜੀ ਹਰ ਰੋਜ਼ ਵੇਂਈ ਨਦੀ ਵਿੱਚ ਇਸ਼ਨਾਨ ਕਰਨ ਲਈ ਜਾਂਦੇ ਸਨ। ਇੱਥੇ ਹੀ ਉਹਨਾਂ ਨੂੰ ਗਿਆਨ ਦੀ ਪ੍ਰਾਪਤੀ ਹੋਈ। ਇਸ ਸਥਾਨ ਤੇ ਅੱਜਕਲ੍ਹ ਕਿਹੜਾ ਗੁਰਦੁਆਰਾ ਬਣਿਆ ਹੋਇਆ ਹੈ?

1. ਹਰਿਮੰਦਰ ਸਾਹਿਬ

2. ਬੇਰ ਸਾਹਿਬ

3. ਤਪ ਅਸਥਾਨ

4. ਹਜ਼ੂਰ ਸਾਹਿਬ

26. ਵਲੀ ਕੰਧਾਰੀ ਇੱਕ ਵੱਡੀ ਚਟਾਨ ਸੁੱਟਕੇ ਗੁਰੂ ਜੀ ਨੂੰ ਮਾਰਨਾ ਚਾਹੰਦਾ ਸੀ। ਪਰ ਗੁਰੂ ਜੀ ਨੇ ਆਪਣੇ ਹੱਥ ਨਾਲ ਚਟਾਨ ਨੂੰ ਰੋਕ ਲਿਆ। ਇਹ ਘਟਨਾ ਕਿੱਥੇ ਘਟੀ ਸੀ?

1. ਹਸਨ ਅਬਦਾਲ

2. ਮੱਕਾ

3. ਬਗਦਾਦ

4. ਪੇਸ਼ਾਵਰ

27. 'ਲਾਵਾਂ' ਬਾਣੀ ਦੀ ਰਚਨਾ ਕਿਸ ਗੁਰੂ ਸਾਹਿਬਾਨ ਨੇ ਕੀਤੀ ?

- | | |
|---------------------|---------------------|
| 1. ਗੁਰੂ ਨਾਨਕ ਦੇਵ ਜੀ | 2. ਗੁਰੂ ਅਮਰਦਾਸ ਜੀ |
| 3. ਗੁਰੂ ਰਾਮਦਾਸ ਜੀ | 4. ਗੁਰੂ ਅਰਜਨ ਦੇਵ ਜੀ |

28. ਗੁਰੂ ਅੰਗਦ ਦੇਵ ਜੀ ਨੇ ਗੋਇੰਦਵਾਲ ਵਿਖੇ ਇੱਕ ਬਾਉਲੀ ਦਾ ਨਿਰਮਾਣ ਕਰਾਇਆ ਸੀ। ਇਸ ਵਿੱਚ ਕਿੰਨੀਆਂ ਪੌੜੀਆਂ ਬਣੀਆਂ ਹੋਈਆਂ ਹਨ?

- | | | | |
|--------|-------|-------|-------|
| 1. 108 | 2. 99 | 3. 84 | 4. 24 |
|--------|-------|-------|-------|

29. ਗੁਰੂ ਅਮਰਦਾਸ ਜੀ ਬਹੁਤ ਬਜ਼ੁਰਗ ਹੋ ਜਾਣ ਕਾਰਣ ਹਰ 'ਥਾਂ ਆਪ ਨਹੀਂ ਜਾ ਸਕਦੇ ਸਨ। ਇਸ ਲਈ ਉਹਨਾਂ ਨੇ ਸਿੱਖ ਧਰਮ ਦੇ ਪ੍ਰਚਾਰ ਪ੍ਰਸਾਰ ਲਈ ਮੰਜੀ ਪ੍ਰਥਾ ਚਲਾਈ। ਉਹਨਾਂ ਵੱਲੋਂ ਕੁੱਲ ਕਿੰਨੀਆਂ ਮੰਜੀਆਂ ਸਥਾਪਿਤ ਕੀਤੀਆਂ ਗਈਆਂ ਸਨ?

- | | | | |
|-------|-------|-------|-------|
| 1. 12 | 2. 22 | 3. 28 | 4. 79 |
|-------|-------|-------|-------|

30. ਗੁਰੂ ਅਰਜਨ ਦੇਵ ਜੀ ਦੀ ਸ਼ਹੀਦੀ ਹੋਈ:

- | | |
|--------------------|---------------------|
| 1. ਅਕਬਰ ਦੇ ਸਮੇਂ | 3. ਜਹਾਂਗੀਰ ਦੇ ਸਮੇਂ |
| 2. ਹੁਮਾਯੂੰ ਦੇ ਸਮੇਂ | 4. ਔਰੰਗਜ਼ੇਬ ਦੇ ਸਮੇਂ |

31. ਗੁਰੂ ਗ੍ਰੰਥ ਸਾਹਿਬ ਦੇ ਸੰਕਲਨ ਦਾ ਕੰਮ ਗੁਰੂ ਜੀ ਨੇ ਅੰਮ੍ਰਿਤਸਰ ਨੇੜੇ ਕਿਹੜੇ ਸਰੋਵਰ ਕੋਲ ਬੈਠ ਕੇ ਕੀਤਾ ਸੀ?

- | | | | |
|----------|------------|------------|--------------------------|
| 1. ਰਾਮਸਰ | 2. ਰਿਵਾਲਸਰ | 3. ਸੰਤੋਖਸਰ | 4. ਇਹਨਾਂ ਵਿੱਚੋਂ ਕੋਈ ਨਹੀਂ |
|----------|------------|------------|--------------------------|

32. ਪ੍ਰਿਥੀ ਚੰਦ ਦੇ ਪੁੱਤਰ ਨੇ ਗੁਰੂ ਨਾਨਕ ਦੇਵ ਜੀ ਦੀ ਜਨਮ ਸਾਖੀ ਦੀ ਰਚਨਾ ਕੀਤੀ ਸੀ। ਉਸਦਾ ਕੀ ਨਾਂ ਸੀ?

- | | | | |
|------------|------------|-------------|--------------|
| 1. ਮੇਹਰਬਾਨ | 2. ਮਹਾਂਦੇਵ | 3. ਹਰਗੋਬਿੰਦ | 4. ਚੰਦੂ ਸ਼ਾਹ |
|------------|------------|-------------|--------------|

ਨਾਗਰਿਕ ਸਾਸ਼ਤਰ

33. ਸੰਯੁਕਤ ਰਾਸ਼ਟਰ ਸੰਘ ਦਾ ਜਨਮ ਹੋਇਆ:

- | | |
|--------------------|-------------------|
| 1. 24 ਅਕਤੂਬਰ, 1945 | 2. 24 ਸਤੰਬਰ, 1945 |
| 3. 24 ਨਵੰਬਰ, 1946 | 4. 24 ਦਸੰਬਰ, 1946 |

34. ਇਹ ਦੇਸ਼ ਅਫ਼ਰੀਕਾ ਦਾ ਪਹਿਲਾ ਦੇਸ਼ ਸੀ ਜਿਸਨੇ 1957 ਵਿੱਚ ਅੰਗਰੇਜ਼ੀ ਬਸਤੀਵਾਦ ਤੋਂ ਆਜ਼ਾਦੀ ਪ੍ਰਾਪਤ ਕੀਤੀ:

- | | |
|------------------|-------------|
| 1. ਕੀਨੀਆ | 2. ਨਾਇਜੀਰੀਆ |
| 3. ਦੱਖਣੀ ਅਫ਼ਰੀਕਾ | 4. ਘਾਨਾ |

35. 'ਡੈਮੋਕ੍ਰੇਸੀ' ਇਸ ਭਾਸ਼ਾ ਦੇ ਸ਼ਬਦ ਜੋੜਾਂ ਤੋਂ ਬਣਿਆ ਹੈ:

- | | |
|-------------|-----------|
| 1. ਅੰਗਰੇਜ਼ੀ | 2. ਫ਼ਾਰਸੀ |
| 3. ਲਾਤੀਨੀ | 4. ਯੂਨਾਨੀ |

36. ਹੇਠਾਂ ਲਿਖੇ ਕਥਨਾਂ ਵਿੱਚੋਂ ਲੋਕਤੰਤਰ ਬਾਰੇ ਕਿਹੜਾ ਕਥਨ ਗਲਤ ਹੈ?

1. ਲੋਕਤੰਤਰ ਸਮਾਨਤਾ 'ਤੇ ਆਧਾਰਿਤ ਹੈ।
2. ਲੋਕਤੰਤਰ ਵਿਅਕਤੀਗਤ ਸੁਤੰਤਰਤਾ ਨੂੰ ਯਕੀਨੀ ਬਣਾਉਂਦਾ ਹੈ।
3. ਲੋਕਤੰਤਰ ਵਿੱਚ ਲੋਕਾਂ ਨੂੰ ਰਾਜਨੀਤਿਕ ਸਿੱਖਿਆ ਮਿਲਦੀ ਹੈ।
4. ਲੋਕਤੰਤਰ ਹਿੰਸਾਤਮਕ ਸਾਧਨਾਂ ਦੇ ਹੱਕ ਵਿੱਚ ਹੈ।

37. ਚੀਨ ਦੇ ਲੋਕ ਚੋਣਾਂ ਵੇਲੇ ਆਪਣੀ ਵੋਟ ਕੇਵਲ ਕਮਿਊਨਿਸਟ ਪਾਰਟੀ ਨੂੰ ਹੀ ਪਾਉਂਦੇ ਹਨ। ਇਸਦਾ ਕੀ ਕਾਰਨ ਹੈ?

1. ਉਹਨਾਂ ਨੂੰ ਹੋਰ ਕੋਈ ਰਾਜਨੀਤਿਕ ਦਲ ਪਸੰਦ ਨਹੀਂ
2. ਉਥੇ ਕੋਈ ਹੋਰ ਰਾਜਨੀਤਿਕ ਦਲ ਹੈ ਹੀ ਨਹੀਂ।
3. ਉਹਨਾਂ ਨੂੰ ਇਸਦੇ ਬਦਲੇ ਬਹੁਤ ਸਾਰਾ ਧਨ ਮਿਲਦਾ ਹੈ।
4. ਇਹਨਾਂ ਵਿੱਚੋਂ ਕੋਈ ਨਹੀਂ

38. ਭਾਰਤੀ ਸੰਵਿਧਾਨ ਦੀ 42ਵੀਂ ਸੋਧ ਇਸ ਸਾਲ ਕੀਤੀ ਗਈ:

1. 1973 ਈ.
2. 1974 ਈ.
3. 1975 ਈ.
4. 1976 ਈ.

39. ਅੰਸ਼ਿਕਾ ਨੇ ਸਵੇਰ ਦੀ ਸਭਾ ਵਿੱਚ ਭਾਸ਼ਣ ਦਿੰਦੇ ਹੋਏ ਕਿਹਾ ਕਿ “ਕਿਸੇ ਵੀ ਧਰਮ ਨੂੰ ਭਾਰਤ ਵਿੱਚ ਰਾਜ ਧਰਮ ਕਰਾਰ ਨਹੀਂ ਦਿੱਤਾ ਗਿਆ ਅਤੇ ਸਰਕਾਰ ਵੱਲੋਂ ਸਾਰੇ ਧਰਮਾਂ ਨੂੰ ਸਮਾਨ ਮੰਨਿਆ ਗਿਆ ਹੈ।” ਦੱਸੋ ਅੰਸ਼ਿਕਾ ਨੇ ਭਾਰਤੀ ਸੰਵਿਧਾਨ ਦੀ ਕਿਹੜੀ ਵਿਸ਼ੇਸ਼ਤਾ ‘ਤੇ ਭਾਸ਼ਨ ਦਿੱਤਾ?

1. ਸੁਤੰਤਰਤਾ
2. ਗਣਤੰਤਰ
3. ਕਠੋਰ ਅਤੇ ਲਚਕੀਲਾ ਸੰਵਿਧਾਨ
4. ਧਰਮ ਨਿਰਪੱਖਤਾ

40. ਸਾਡੇ ਦੇਸ਼ ਦਾ ਸੰਵਿਧਾਨ ਬਣਾਉਣ ਵਿੱਚ ਅਨੇਕਾਂ ਹੀ ਵਿਦਵਾਨਾਂ ਦਾ ਯੋਗਦਾਨ ਰਿਹਾ ਹੈ। ਪਰ ‘ਭਾਰਤੀ ਸੰਵਿਧਾਨ ਦਾ ਪਿਤਾਮਾ’ ਕਹਾਉਣ ਦਾ ਮਾਣ ਕਿਸਨੂੰ ਹਾਸਿਲ ਹੈ?

1. ਪੰ. ਜਵਾਹਰ ਲਾਲ ਨਹਿਰੂ
2. ਡਾ. ਰਾਜਿੰਦਰ ਪ੍ਰਸਾਦ
3. ਸਰਦਾਰ ਵੱਲਭ ਭਾਈ ਪਟੇਲ
4. ਡਾ. ਭੀਮ ਰਾਓ ਅੰਬੇਦਕਰ

SAMPLE PAPER SOCIAL SCIENCE CLASS: 9TH 1ST TERM

All questions are compulsory.

Total Marks: 40

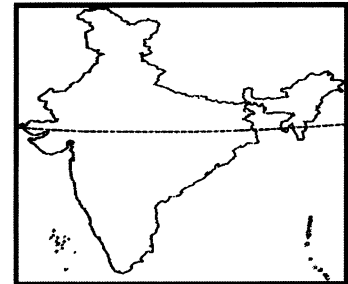
GEOGRAPHY

1. The seventh largest country of the world in area is _____.

- (a) China (b) Russia (c) Canada (d) India

2. Which line is shown on the Map of India?

- a. Tropic of Capricorn
b. Equator
c. Tropic of Cancer
d. None of these



3. Which of the following statements is correct?

Statement 1 – India shares maximum International boundary with Bangladesh and minimum with Afghanistan.

Statement 2 – India shares International boundary with four countries.

- a. Statement 1 and 2 are correct.
b. Statement 1 and 2 are incorrect.
C. Statement 1 is correct but 2 is incorrect.
D. Statement 1 is incorrect but 2 is correct.

4. This city of Punjab is famous for Iron Furnace industry:

- (a) Batala (b) Abohar
(c) Jalandhar (d) Mandi Gobindgarh

5. The princely states of Punjab which included Patiala, Nabha, Malerkotla, Jind, Kapurthala, Faridkot, Nalagarh and Kalsia were combined and a new state "PEPSU" was formed on _____.

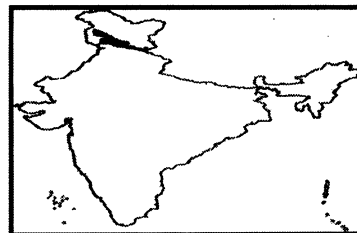
- a. 15 July 1948 b. 25 July 1948
c. 10 June 1950 d. 5 May 1960

6. Bhabar, Tarai, Bangar and Khadar are _____.

- (a) Types of mountains (b) Types of plateaus
(c) Types of plains (d) None of these

7. Identify the mountain ranges shown in the given geographical map of India.

- a. Zaskar and Dhauladhar
- b. Dhauladhar and Pir Panjal
- c. Zaskar and Shivalik
- d. Shivalik and Dhauladhar



8. The area between Beas and Satluj is also known as _____.

- (a) Gurdaspur-Pathankot Shivalik
- (b) Hoshiarpur Shivalik
- (c) Ropar Shivalik
- (d) All of these

9. The area between Ravi and Beas rivers in Punjab is called Bari Doab. It covers the districts of Pathankot, Gurdaspur, Amritsar and Tarn Taran. By what other name is this area known?

- a. Malwa
- b. Doaba
- c. Majha
- d. Patti

10. From which state does the Luni river originate?

- a) Madhya Pardesh
- b) Rajasthan
- c) Jharkhand
- d) Bihar

11. The area between two rivers is called Doab .But what do we call an elevated area of terrain that separates drainage basins into two parts?

- a) Inflow area
- b) Water Divide
- c) River Choa
- d) None of the above

12. To curb pollution and keep rivers clean, the government formulated the Ganga Action Plan in 1986. In 2015, the Union Government took important steps to keep the river Ganga clean and included an important river of Punjab in this scheme. What is the name of this river?

- a. Ravi
- b. Sutlej
- c. Chenab
- d. Jhelum

ECONOMICS

13. Which of the following is not a factor of production?

- a. Land
- b. Labour
- c. Capital
- d. Market

14. Which among the following is not an agricultural activity?

- a. Fishing
- b. Poultry Farming
- c. Animal Husbandry
- d. Blacksmith

15. An entrepreneur has the following qualities.

- a. He works for a profit
- b. He bears risk
- c. He makes coordination among the sources of production
- d. All the above

16. What is the amount spent in terms of money from production of goods till their sale called?

- a. Income
- b. Demand
- c. Cost
- d. Price

17. What do we call the activities that do not contribute to the liquidity of goods and services in economic system and do not provide income?

- a. Economic Activities
- b. Non-Economic Activities

- c. Tertiary Sector
- d. Secondary Sector

18. If more number of people are engaged in a particular work than required, which type of unemployment is this?

- a. Seasonal unemployment
- b. Urban unemployment
- c. Rural unemployment
- d. Disguised unemployment

19. Who among the following is considered an unemployed?

- a. 12 years old child
- b. 65 years old
- c. Sick person
- d. 42 years old person

20. Quality of population does not depend on _____.

- a. Good Health
- b. Good Education
- c. Urbanisation
- d. None of these

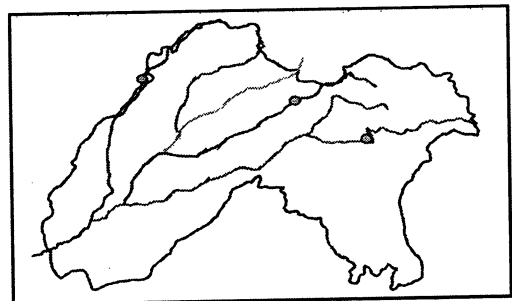
HISTORY

21. The name given by Greeks to Punjab was _____.

- a) Panchnad
- b) Saptsindhu
- c) Pentapotamia
- d) Tseh-kia

22. In the given map, identify the rivers which are shown through points.

- a. Sutlej, Beas, Ravi
- b. Indus, Ravi, Sutlej
- c. Indus, Jhelum, Chenab
- d. Beas, Jhelum, Indus



23. This is considered the very first book of the world. It was written in Punjab. Which is this book?

- a. Rigveda
- b. Manu Samriti
- c. Mahabharata
- d. Gita

24. The first battle of Panipat was fought in _____.

- (a) 1526 A.D.
- (b) 1571 A.D.
- (c) 1546 A.D.
- (d) 1561 A.D.

25. While living in Sultanpur Lodhi, Guru Nanak Dev ji used to take bath in 'Kali Bein' River, where he got enlightenment. Which Gurudwara is situated here?

- a. Shri Harmandir Sahib
- b. Ber Sahib

c. Tap Asthan

d. Hajoor Sahib

26. Vali Kandhari threw a big stone to kill Sri Guru Nanak Dev Ji. But, Guru Ji stopped it with his hand. Where did this incidence occur?

a. Hasan Abdal

b. Mecca

c. Baghdad

d. Peshawar

27. Laavan' bani was composed by_____.

(a) Guru Nanak Dev Ji

(b) Guru Amar Das Ji

(c) Guru Ramdas Ji

(d) Guru Arjan Dev ji

28. Guru Angad Dev Ji got constructed a Baoli at Goindwal. How many steps are there?

a. 108

b. 99

c. 84

d. 24

29. Due to old age, Guru Amardas Ji was not able to move to every place. He founded the Manji System to preach Sikhism. How many Manjis were established?

a. 12

b. 22

c. 28

d. 79

30. Guru Arjan Dev Ji was martyred during the reign of_____.

(a) Akbar

(b) Jahangir

(c) Humayun

(d) Aurangzeb

31. Near which sarovar in Amritsar was the compilation of Guru Granth Sahib done?

a. Ramsar

b. Riwalsar

c. Santokhsar

d. None of these

32. Pirthi Chand's son composed 'Janam Sakhi' of Guru Nanak Dev Ji. What was his name?

a. Meharban

b. Mahadev

c. Hargobind

d. Chandu Shah

CIVICS

33. United Nations Organization was established on:

(a) 24 Oct, 1945

(b) 24 Sept, 1945

(c) 24 Nov, 1946

(d) 24 Dec, 1946

34. This was the first country of Africa to get independence in 1957 from British Colonialism.

a) Kenya

b. Nigeria

c. South Africa

d) Ghana

35. The word 'Democracy' has been derived from two words of _____ language.

(a) English

(b) Persian

(c) Latin

(d) Greek

36. Which of the following statement is wrong about 'Democracy'?

- a. Democracy is based on equality
- b. Democracy ensures the protection of individual liberty.
- c. Democracy provides more opportunities for political awareness.
- d. Democracy is in favour of violence.

37. The citizens of China always vote for the Communist Party. What is the reason for it?

- a. They do not like any other political party.
- b. There is no other political party in China.
- c. They get lots of money for this.
- d. None of the above.

38. 42nd amendment of Indian Constitution was done in _____.

- (a) 1973 (b) 1974 (c) 1975 (d) 1976

39. Anshika while giving a speech in the morning assembly said, "None of the religions in India is stated as official religion and all the religions are equal in the eyes of the government." On which feature of Indian Constitution has Anshika given the speech?

- a. Freedom
- b. Republic
- c. Rigid and flexible constitution
- d. Secularism

40. Many scholars have contributed in the framing of the Indian constitution. But, only one person is called 'The Father of Indian Constitution'. Who is he?

- a. Pandit Jawaharlal Nehru
- b. Dr. Rajindra Prasad
- c. Sardar Vallabh Bhai Patel
- d. Dr. B.R. Ambedkar