

ਜਮਾਤ:- ਚੌਥੀ



ਪੰਜਾਬ ਪ੍ਰਾਪਤੀ ਸਰਵੇਖਣ-2020  
Punjab Achievement Survey-2020



ਨਮੂਨਾ ਮੁਲਾਂਕਣ ਪੱਤਰ ਸਬੰਧੀ ਧਿਆਨ ਦੇਣ ਯੋਗ ਨੁਕਤੇ:-

1. ਇਹ ਨਮੂਨਾ ਮੁਲਾਂਕਣ ਪੱਤਰ ਰਾਸ਼ਟਰੀ ਮਾਪਦੰਡਾਂ ਨੂੰ ਧਿਆਨ ਵਿੱਚ ਰੱਖਦੇ ਹੋਏ ਅਧਿਆਪਕ ਦੀ ਅਗਵਾਈ ਲਈ ਤਿਆਰ ਕੀਤਾ ਗਿਆ ਹੈ।
2. ਅਧਿਆਪਕਾਂ ਅਤੇ ਵਿਦਿਆਰਥੀਆਂ ਨੂੰ ਪੰਜਾਬ ਪ੍ਰਾਪਤੀ ਸਰਵੇਖਣ (Punjab Achievement Survey - 2020) ਸਬੰਧੀ ਹੋਣ ਵਾਲੇ ਮੁਲਾਂਕਣ ਪੱਤਰ ਦੀ ਬਣਤਰ ਅਤੇ ਪ੍ਰਸ਼ਨਾਂ ਦੀਆਂ ਵੱਖ-ਵੱਖ ਵੰਨਗੀਆਂ ਸਬੰਧੀ ਜਾਣੂ ਕਰਵਾਉਣ ਦੇ ਉਦੇਸ਼ ਨਾਲ ਇਹ ਨਮੂਨਾ ਮੁਲਾਂਕਣ ਪੱਤਰ ਸਾਂਝੇ ਕੀਤੇ ਗਏ ਹਨ।
3. ਅਧਿਆਪਕ ਆਪਣੇ ਵਿਦਿਆਰਥੀਆਂ ਨੂੰ ਵੱਧ ਤੋਂ ਵੱਧ ਪ੍ਰਸ਼ਨਾਂ ਦਾ ਅਭਿਆਸ ਕਰਵਾਉਣ ਲਈ ਇਸ ਨਮੂਨਾ ਮੁਲਾਂਕਣ ਪੱਤਰ ਤੋਂ ਅਗਵਾਈ ਲੈਂਦੇ ਹੋਏ ਆਪਣੇ ਪੱਧਰ ਤੇ ਇਸ ਤਰ੍ਹਾਂ ਦੇ ਹੋਰ ਪ੍ਰਸ਼ਨ ਤਿਆਰ ਕਰਕੇ ਵਿਦਿਆਰਥੀਆਂ ਤੋਂ ਹੱਲ ਕਰਵਾਉਣ।
4. ਨਮੂਨਾ ਮੁਲਾਂਕਣ ਪੱਤਰ ਵਿੱਚ ਦਿੱਤੇ ਗਏ ਸਾਰੇ ਪ੍ਰਸ਼ਨ ਬਹੁਵਿਕਲਪੀ ਉੱਤਰਾਂ ਵਾਲੇ ਹਨ। ਦਿੱਤੇ ਗਏ ਵਿਕਲਪਾਂ ਵਿੱਚੋਂ ਵਿਦਿਆਰਥੀ ਢੁਕਵੇਂ ਉੱਤਰ / ਵਿਕਲਪ ਦੀ ਚੋਣ ਕਰਕੇ ਗੋਲਾ (○) ਲਗਾਉਣਗੇ।
5. ਤਿਆਰ ਕੀਤੇ ਗਏ ਇਸ ਨਮੂਨਾ ਮੁਲਾਂਕਣ ਪੱਤਰ ਵਿੱਚ 15 ਬਹੁਵਿਕਲਪੀ ਉੱਤਰਾਂ ਵਾਲੇ ਪ੍ਰਸ਼ਨ ਦਿੱਤੇ ਗਏ ਹਨ।
6. ਅਧਿਆਪਕ ਆਪਣੇ ਵਿਦਿਆਰਥੀਆਂ ਨੂੰ ਸਾਰੇ ਹੀ ਪ੍ਰਸ਼ਨਾਂ ਨੂੰ ਹੱਲ ਕਰਨ ਲਈ ਉਤਸ਼ਾਹਿਤ ਕਰਨਗੇ।
7. ਨਮੂਨਾ ਮੁਲਾਂਕਣ ਪੱਤਰ ਵਿੱਚ ਸ਼ਾਮਲ ਕੀਤੇ ਗਏ ਸਾਰੇ ਪ੍ਰਸ਼ਨ ਸਿੱਖਣ ਪਰਿਣਾਮਾਂ ਅਨੁਸਾਰ ਤਿਆਰ ਕੀਤੇ ਗਏ ਹਨ।
8. ਹਰੇਕ ਪ੍ਰਸ਼ਨ 2 ਅੰਕਾਂ ਦਾ ਹੋਵੇਗਾ।

ਪੰਜਾਬ ਪ੍ਰਾਪਤੀ ਸਰਵੇਖਣ 2020 (ਨਮੂਨਾ ਪੇਪਰ)

ਵਿਦਿਆਰਥੀ ਦਾ ਨਾਂ : - .....

ਰੋਲ ਨੰਬਰ :- .....

ਵਿਸ਼ਾ : - ਗਣਿਤ

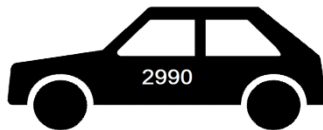
ਜਮਾਤ : - ਚੌਥੀ

ਕੁੱਲ ਅੰਕ : - 30

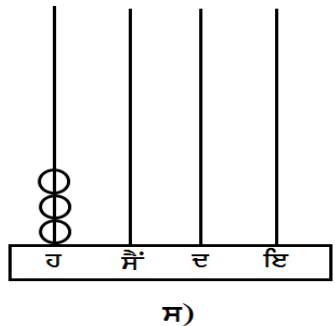
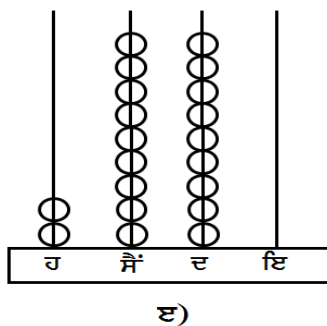
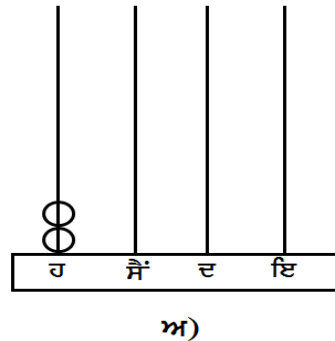
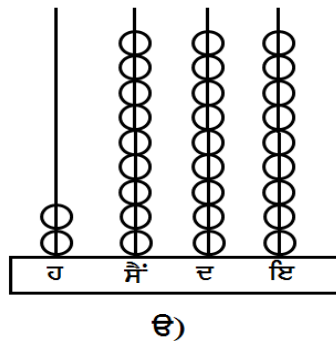
ਪ੍ਰਾਪਤ ਅੰਕ : - .....

ਪ੍ਰਸ਼ਨ ਨੰ:-	1	2	3	4	5	6	7	8	9	10	11	12	13	14	15
ਪ੍ਰਾਪਤ ਅੰਕ															

1. ਹੇਠਾਂ ਦਿੱਤੇ ਗਿਣਤਾਰਿਆਂ ਵਿੱਚੋਂ ਕਿਹੜਾ ਗਿਣਤਾਰਾ



ਦਾ ਨੰਬਰ ਦਿਖਾ ਰਿਹਾ ਹੈ?



2. ਇੱਕ ਕਾਪੀ ਦਾ ਮੁੱਲ



ਹੈ। ਗੁਰਜੀਤ ਨੇ 2 ਦਰਜਨ ਕਾਪੀਆਂ ਖਰੀਦਣੀਆਂ ਹਨ ਤਾਂ

ਉਸ ਨੂੰ ਕਿੰਨੇ ਰੁਪਏ ਚਾਹੀਦੇ ਹਨ ?

ੳ)



ਅ)



ੲ)



ਸ)




3. ਮਾਚਿਸ ਦੀਆਂ ਤੀਲੀਆਂ ਬਣਾਉਣ ਵਾਲੀ ਕੰਪਨੀ ਇੱਕ ਡੱਬੀ ਵਿੱਚ 35 ਤੀਲੀਆਂ ਭਰਦੀ ਹੈ ਤਾਂ 385 ਤੀਲੀਆਂ ਲਈ ਕਿੰਨੀਆਂ ਖਾਲੀ ਡੱਬੀਆਂ ਚਾਹੀਦੀਆਂ ਹਨ ?


ੳ)




ਅ)



ੲ)

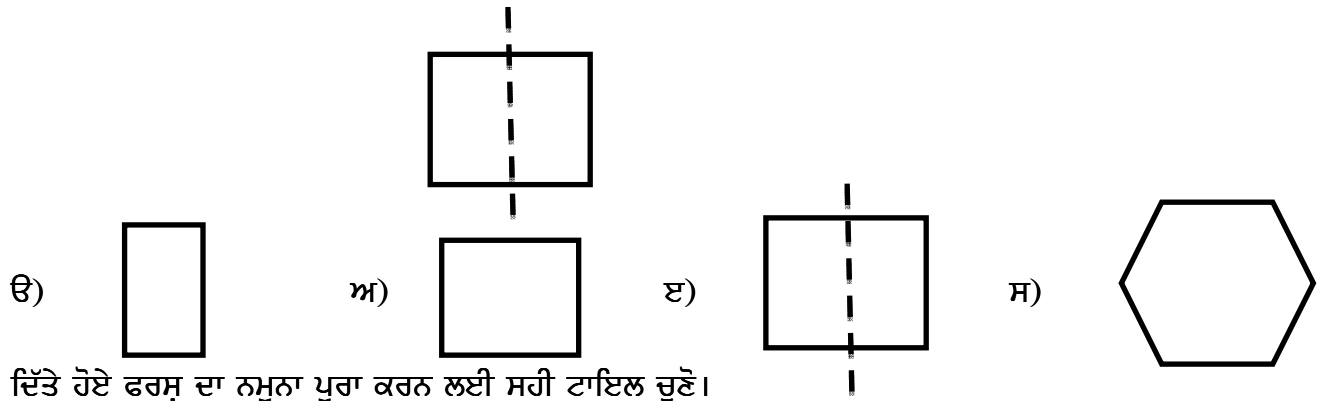


ਸ)

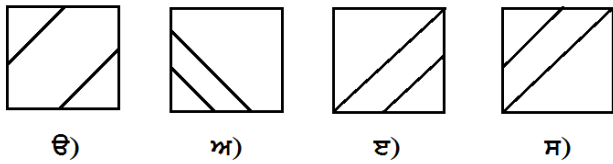
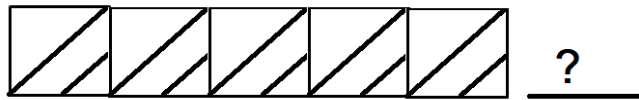




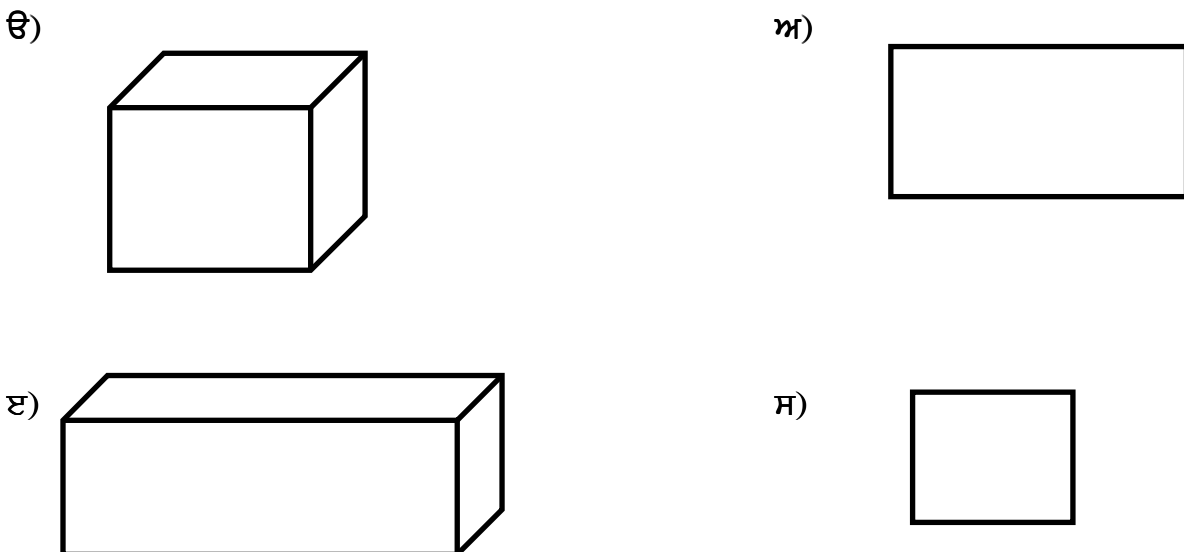
7. ਹੇਠਾਂ ਦਿੱਤੀ ਤਸਵੀਰ ਨੂੰ ਸਮਸਿਤੀ ਰੇਖਾ ਨਾਲ ਵੰਡਣ 'ਤੇ ਬਣਨ ਵਾਲੀ ਆਕ੍ਰਿਤੀ ਚੁਣੋ -




8. ਦਿੱਤੇ ਹੋਏ ਫਰਸ਼ ਦਾ ਨਮੂਨਾ ਪੂਰਾ ਕਰਨ ਲਈ ਸਹੀ ਟਾਇਲ ਚੁਣੋ।



9. ਹੇਠਾਂ ਦਿਖਾਈ ਤਸਵੀਰ ਆਕ੍ਰਿਤੀ ਦੇ ਆਧਾਰ 'ਤੇ ਕਿਸ ਨਾਲ ਮਿਲਦੀ ਹੈ?



10. ਕਿਹੜੀਆਂ ਦੋ ਪੈਂਸਿਲਾਂ ਦੀ ਲੰਬਾਈ ਬਰਾਬਰ ਹੈ?



ੳ) ਪੈਂਸਿਲ A ਅਤੇ B  
ੲ) ਪੈਂਸਿਲ B ਅਤੇ C

ਅ) ਪੈਂਸਿਲ A ਅਤੇ C  
ਸ) ਸਾਰੀਆਂ ਪੈਂਸਿਲਾਂ ਦੀ ਲੰਬਾਈ ਵੱਖਰੀ ਹੈ।

11. ਹੇਠਾਂ ਦਿਖਾਏ ਅਨੁਸਾਰ ਗੁਰਨੀਤ ਦੇ ਪਿਤਾ ਜੀ ਨੇ ਸਬਜ਼ੀਆਂ ਖਰੀਦੀਆਂ।



2 ਕਿਲੋਗ੍ਰਾਮ



2 ਕਿਲੋ 250 ਗ੍ਰਾਮ



1 ਕਿਲੋਗ੍ਰਾਮ

ਉਪਰੋਕਤ ਦੇ ਸੰਬੰਧ ਵਿੱਚ ਕਿਹੜਾ ਕਥਨ ਗਲਤ ਹੈ ?

ੳ) ਪਿਤਾ ਜੀ ਨੇ ਕੁੱਲ 5 ਕਿਲੋਗ੍ਰਾਮ ਸਬਜ਼ੀਆਂ ਖਰੀਦੀਆਂ।  
ਅ) ਪਿਆਜ਼ ਤਿੰਨ ਕਿਲੋਗ੍ਰਾਮ ਤੋਂ 750 ਗ੍ਰਾਮ ਘੱਟ ਹਨ।  
ੲ) ਗਾਜਰਾਂ ਦੀ ਮਾਤਰਾ ਆਲੂਆਂ ਤੋਂ 1000 ਗ੍ਰਾਮ ਘੱਟ ਹੈ।  
ਸ) ਪਿਆਜ਼ ਦੀ ਮਾਤਰਾ ਆਲੂਆਂ ਤੋਂ 250 ਗ੍ਰਾਮ ਵੱਧ ਹੈ।

12. ਘੜੀ' ਤੇ ਸਮਾਂ ਦੇਖ ਕੇ ਦੱਸੋ ਕਿ ਇੱਕ ਘੰਟਾ ਬਾਅਦ ਕੀ ਸਮਾਂ ਹੋਵੇਗਾ?



ੳ)



ਅ)



ੲ)



ਸ)

13. ਹੇਠਾਂ ਦਿਖਾਈ ਗਈ ਘੜੀ ਲਈ ਸਹੀ ਕਥਨ ਚੁਣੋ -



- ੳ) ਘੜੀ ਉੱਪਰ ਸਮਾਂ 5:55 pm ਹੈ।
- ਅ) ਛੇ ਵੱਜਣ ਵਿੱਚ ਪੰਜ ਮਿੰਟ ਰਹਿੰਦੇ ਹਨ।
- ੲ) ਇਹ 24 ਘੰਟਿਆਂ ਵਾਲੀ ਘੜੀ ਹੈ।
- ਸ) ਸਾਰੇ ਕਥਨ ਸਹੀ ਹਨ।

14. ਦਿੱਤੇ ਹੋਏ ਪੈਟਰਨ ਨੂੰ ਸਮਝੋ ਅਤੇ ਪੂਰਾ ਕਰਨ ਲਈ ਸਹੀ ਵਿਕਲਪ ਚੁਣੋ।

$$\begin{aligned}
 12+14 &= 2 \times 13 \\
 12+14+16 &= 3 \times 14 \\
 12+14+16+18 &= 4 \times 15 \\
 12+14+16+18+20+22 &= \underline{\hspace{2cm}}
 \end{aligned}$$

- ੳ) 5 X 16                      ਅ) 6 X 17                      ਏ) 7 X 18                      ਸ) 5 X 15

15. ਦਿੱਤੀ ਹੋਈ ਸਾਰਣੀ ਨੂੰ ਧਿਆਨ ਨਾਲ ਦੇਖੋ ਅਤੇ ਸਭ ਤੋਂ ਘੱਟ ਅੰਕ ਪ੍ਰਾਪਤ ਕਰਨ ਵਾਲੇ ਵਿਦਿਆਰਥੀ ਦਾ ਨਾਂ ਚੁਣੋ।

ਲੜੀ ਨੰ:	ਵਿਦਿਆਰਥੀਆਂ ਦੇ ਨਾਂ	ਪ੍ਰਾਪਤ ਅੰਕ
1.	ਸਿਮਰਨ	
2.	ਜੋਤੀ	
3.	ਪ੍ਰਕਾਸ਼	
4.	ਕਮਲਜੀਤ	

- ੳ) ਸਿਮਰਨ                      ਅ) ਜੋਤੀ                      ਏ) ਪ੍ਰਕਾਸ਼                      ਸ) ਕਮਲਜੀਤ

## ਪੰਜਾਬ ਪ੍ਰਾਪਤੀ ਸਰਵੇਖਣ -2020 (ਨਮੂਨਾ ਪੱਤਰ)

ਵਿਦਿਆਰਥੀ ਦਾ ਨਾਮ:- .....

ਰੋਲ ਨੰ:- .....

ਵਿਸ਼ਾ:- ਵਾਤਾਵਰਣ ਸਿੱਖਿਆ

ਜਮਾਤ :- .....

ਕੁੱਲ ਅੰਕ :- 30

ਪ੍ਰਾਪਤ ਅੰਕ :- .....

ਪ੍ਰਸ਼ਨ ਨੰ:-	1	2	3	4	5	6	7	8	9	10	11	12	13	14	15
ਪ੍ਰਾਪਤ ਅੰਕ															

ਪ੍ਰਸ਼ਨ 1. ਜੇਕਰ ਇਤਰ, ਸ਼ਰਬਤ ਤੇ ਦਵਾਈ ਤਿੰਨੋਂ ਬਣਾਉਣੇ ਹੋਣ ਤਾਂ ਹੇਠ ਲਿਖਿਆਂ ਵਿੱਚੋਂ ਕਿਹੜੇ ਫੁੱਲ ਦੀ ਵਰਤੋਂ ਕਰਾਂਗੇ?

- 1) ਗੁਲਾਬ                                      2) ਗੋਂਦਾ                                      3) ਬ੍ਰੋਕਲੀ                                      4) ਦੇਸੀ ਅੱਕ

ਪ੍ਰਸ਼ਨ 2. ਪੁਰਾਣੇ ਸਮੇਂ ਤੋਂ ਹੀ ਆਵਾਜਾਈ ਅਤੇ ਯੁੱਧ ਲਈ ਘੋੜੇ ਦੀ ਵਰਤੋਂ ਕੀਤੀ ਜਾਂਦੀ ਹੈ ਕਿਉਂਕਿ .....

- 1) ਇਹ ਬਹੁਤ ਜ਼ਿਆਦਾ ਤਾਕਤਵਰ ਜਾਨਵਰ ਹੈ।
- 2) ਇਹ ਆਕਾਰ ਵਿੱਚ ਵੱਡਾ ਜਾਨਵਰ ਹੈ।
- 3) ਇਸ ਦੀ ਯਾਦਦਾਸ਼ਤ ਕਮਾਲ ਦੀ ਹੁੰਦੀ ਹੈ।
- 4) ਇਹ ਇੱਕ ਬਹਾਦਰ ਜਾਨਵਰ ਹੈ।

ਪ੍ਰਸ਼ਨ 3. ਪਿੰਡ ਵਿੱਚ ਇੱਕ ਵਿਅਕਤੀ ਸੁਰਜੀਤ ਸਿੰਘ ਰਹਿੰਦਾ ਹੈ। ਉਸ ਦੇ ਤਿੰਨ ਪੁੱਤਰ ਅਤੇ ਨੂੰਹਾਂ ਹਨ ਅਤੇ ਚਾਰ ਪੋਤਰੇ ਤੇ ਪੰਜ ਪੋਤਰੀਆਂ ਹਨ। ਸਾਰੇ ਮਿਲ ਕੇ ਇਕੱਠੇ ਰਹਿੰਦੇ ਹਨ।

- 1) ਇਹ ਇੱਕ ਇਕਹਿਰਾ ਪਰਿਵਾਰ ਹੈ।
- 2) ਇਹ ਇੱਕ ਛੋਟਾ ਪਰਿਵਾਰ ਹੈ।
- 3) ਇਹ ਇੱਕ ਅਮੀਰ ਪਰਿਵਾਰ ਹੈ।
- 4) ਇਹ ਇੱਕ ਸਾਂਝਾ ਪਰਿਵਾਰ ਹੈ।



ਪ੍ਰਸ਼ਨ 4. "ਏਕੇ ਵਿੱਚ ਤਾਕਤ ਹੁੰਦੀ ਹੈ", ਜਾਨਵਰਾਂ ਦੁਆਰਾ ਇਸ ਦਾ ਪ੍ਰਗਟਾਵਾ ਕਿਵੇਂ ਕੀਤਾ ਜਾਂਦਾ ਹੈ?

- 1) ਜਦੋਂ ਜੰਗਲ ਵਿੱਚ ਖਾਣਾ ਇਕੱਠੇ ਖਾਂਦੇ ਹਨ।
- 2) ਜੰਗਲ ਵਿੱਚ ਝੁੰਡ ਬਣਾ ਕੇ ਰਹਿੰਦੇ ਹਨ।
- 3) ਦੇਖਣ ਵਿੱਚ ਇੱਕੋ ਜਿਹੇ ਲੱਗਦੇ ਹਨ।
- 4) ਸਾਰੇ ਜਾਨਵਰ ਇਕੱਠੇ ਬਿਮਾਰ ਹੁੰਦੇ ਹਨ।

ਪ੍ਰਸ਼ਨ 5. ਤਸਵੀਰ ਵਿਚਲੇ ਯੰਤਰ ਦੀ ਵਰਤੋਂ ਸਬੰਧੀ ਕਿਹੜਾ ਕਥਨ ਠੀਕ ਹੈ?



- 1) ਡਾਕਟਰ ਬਲੱਡ ਪ੍ਰੈਸ਼ਰ ਚੈੱਕ ਕਰਨ ਲਈ ਕਰਦਾ ਹੈ।
- 2) ਦੁਕਾਨਦਾਰ ਤਾਪਮਾਨ ਚੈੱਕ ਕਰਨ ਲਈ ਕਰਦਾ ਹੈ।
- 3) ਡਾਕਟਰ ਮਰੀਜ਼ਾਂ ਦਾ ਤਾਪਮਾਨ ਚੈੱਕ ਕਰਨ ਲਈ ਕਰਦਾ ਹੈ।
- 4) ਦਰਜੀ ਗਰਮੀ ਚੈੱਕ ਕਰਨ ਲਈ ਕਰਦਾ ਹੈ।

ਪ੍ਰਸ਼ਨ 6. ਜੇਕਰ ਤੁਸੀਂ ਘਰ ਦੇ ਬਗੀਚੇ ਵਿੱਚ ਸਬਜ਼ੀਆਂ ਉਗਾਈਆਂ ਹਨ, ਅਚਾਨਕ ਸਬਜ਼ੀਆਂ ਉੱਤੇ ਸੁੰਡੀ ਨੇ ਹਮਲਾ ਕਰ ਦਿੱਤਾ ਹੈ ਤਾਂ ਤੁਸੀਂ ਕੀ ਕਰੋਗੇ?

- 1) ਵੱਧ ਮਾਤਰਾ ਵਿੱਚ ਪਾਣੀ ਲਾ ਦੇਵਾਂਗੇ।
- 2) ਸੁੰਡੀ ਦੇ ਖਾਤਮੇ ਦਾ ਇੰਤਜ਼ਾਰ ਕਰਾਂਗੇ।
- 3) ਬਾਜ਼ਾਰ ਤੋਂ ਵਧੀਆ ਕੀਟ ਨਾਸ਼ਕ ਲਿਆ ਕੇ ਛਿੜਕਾਅ ਕਰਾਂਗੇ।
- 4) ਵੱਧ ਮਾਤਰਾ ਵਿਚ ਖਾਦ ਪਾ ਦੇਵਾਂਗੇ।

ਪ੍ਰਸ਼ਨ 7. ਪੁਰਾਣੇ ਸਮੇਂ ਵਿੱਚ ਖੇਤੀਬਾੜੀ ਕਰਨ ਲਈ.....

- 1) ਧਨ ਦੀ ਵਧੇਰੇ ਵਰਤੋਂ ਕੀਤੀ ਜਾਂਦੀ ਸੀ।
- 2) ਉਠਾਂ ਤੇ ਬਲਦਾਂ ਦੀ ਵਰਤੋਂ ਕੀਤੀ ਜਾਂਦੀ ਸੀ।
- 3) ਵੱਡੀਆਂ-ਵੱਡੀਆਂ ਮਸ਼ੀਨਾਂ ਦੀ ਵਰਤੋਂ ਕੀਤੀ ਜਾਂਦੀ ਸੀ।
- 4) ਬਿਜਲੀ ਵਾਲੀਆਂ ਮਸ਼ੀਨਾਂ ਦੀ ਵਰਤੋਂ ਕੀਤੀ ਜਾਂਦੀ ਸੀ।

ਪ੍ਰਸ਼ਨ 8. ਰੁੱਖ ਸਾਡੇ ਸਾਥੀ ਹਨ ਕਿਉਂਕਿ.....

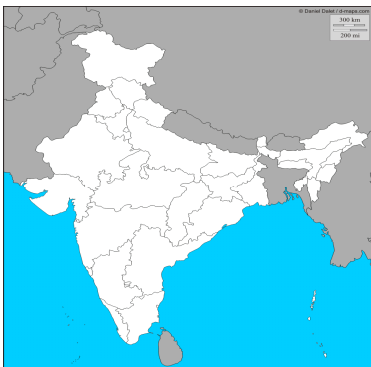
- 1) ਸਾਨੂੰ ਛਾਂ ਦਿੰਦੇ ਹਨ।
- 2) ਸਾਨੂੰ ਆਕਸੀਜਨ ਦਿੰਦੇ ਹਨ।
- 3) ਰੁੱਖਾਂ ਤੋਂ ਲੱਕੜ ਮਿਲਦੀ ਹੈ।
- 4) ਉਪਰੋਕਤ ਸਭ ਕੁਝ ਮਿਲਦਾ ਹੈ।

ਪ੍ਰਸ਼ਨ 9. ਜੇਕਰ ਲੱਕੜ ਦੇ ਡੰਡੇ ਨੂੰ ਜ਼ੋਰ ਨਾਲ ਪੱਥਰ ਉੱਤੇ ਵਾਰ-ਵਾਰ ਮਾਰਿਆ ਜਾਵੇ ਤਾਂ.....



- 1) ਪੱਥਰ ਟੁੱਟ ਜਾਵੇਗਾ।
- 2) ਡੰਡਾ ਟੁੱਟ ਜਾਵੇਗਾ।
- 3) ਦੋਨੋਂ ਟੁੱਟ ਜਾਣਗੇ।
- 4) ਕੁਝ ਵੀ ਨਹੀਂ ਹੋਵੇਗਾ।

ਪ੍ਰਸ਼ਨ 10. ਜੇਕਰ ਸੂਰਜ ਦਿੱਤੇ ਗਏ ਨਕਸ਼ੇ ਦੇ ਪੱਛਮ ਵੱਲ ਹੈ ਤਾਂ ਸਮਝੋ.....



- 1) ਅੱਧੀ ਰਾਤ ਦਾ ਵੇਲਾ ਹੈ।
- 2) ਦੁਪਹਿਰ ਦਾ ਵੇਲਾ ਹੈ।
- 3) ਸ਼ਾਮ ਦਾ ਵੇਲਾ ਹੈ।
- 4) ਰਾਤ ਦਾ ਸਮਾਂ ਹੈ।

ਪ੍ਰਸ਼ਨ 11. ਤਸਵੀਰ ਵਿੱਚ ਖਿਡਾਰਨ ਸੰਕੇਤ ਕਰ ਰਹੀ ਹੈ।



- 1) ਜੇਤੂ ਹੋਣ ਬਾਰੇ
- 2) ਦੋ ਉਂਗਲਾਂ ਬਾਰੇ
- 3) ਫੁੱਲਾਂ ਬਾਰੇ
- 4) ਉਂਗਲਾਂ ਦਿਖਾ ਕੇ ਮੁਸਕਰਾਉਣ ਬਾਰੇ

ਪ੍ਰਸ਼ਨ 12.

ਲੜੀ ਨੰਬਰ	ਟਰੇਨ ਦਾ ਨਾਮ	ਸਟੇਸ਼ਨ ਜਿਸ ਵੱਲ ਜਾਂਦੀ ਹੈ।
1	ਰਾਜਧਾਨੀ ਐਕਸਪ੍ਰੈੱਸ	ਇੰਦੌਰ
2	ਪੰਜਾਬ ਮੇਲ	ਮੁੰਬਈ
3	ਹਾਵੜਾ ਐਕਸਪ੍ਰੈੱਸ	ਕਲਕੱਤਾ
4	ਜੰਮੂ ਤਵੀ ਐਕਸਪ੍ਰੈੱਸ	ਅਹਿਮਦਾਬਾਦ

ਜਸ਼ਨ ਦੇ ਪਿਤਾ ਜੀ ਮੁੰਬਈ ਜਾਣਾ ਚਾਹੁੰਦੇ ਹਨ। ਸੂਚਨਾ ਬੋਰਡ ਦੇ ਆਧਾਰ ਤੇ ਉਨ੍ਹਾਂ ਨੂੰ ਕਿਹੜੀ ਟਰੇਨ ਦੀ ਸੀਟ ਬੁੱਕ ਕਰਵਾਉਣੀ ਪਏਗੀ?

- |                       |                      |
|-----------------------|----------------------|
| 1) ਜੰਮੂ ਤਵੀ ਐਕਸਪ੍ਰੈੱਸ | 2) ਰਾਜਧਾਨੀ ਐਕਸਪ੍ਰੈੱਸ |
| 3) ਪੰਜਾਬ ਮੇਲ          | 4) ਹਾਵੜਾ ਐਕਸਪ੍ਰੈੱਸ   |

ਪ੍ਰਸ਼ਨ 13. ਤੁਹਾਡੀ ਜਮਾਤ ਵਿੱਚ ਇੱਕ ਵਿਸ਼ੇਸ਼ ਲੋੜਾਂ ਵਾਲਾ ਵਿਦਿਆਰਥੀ ਹੈ। ਉਸ ਦਾ ਕੋਈ ਦੇਸਤ ਨਹੀਂ ਹੈ ਤੁਸੀਂ

.....

- 1) ਉਸ ਦੇ ਦੇਸਤ ਬਣੇਗੇ ਅਤੇ ਉਸਦੀ ਮਦਦ ਕਰੋਗੇ।
- 2) ਉਸ ਨਾਲ ਗੱਲ ਨਹੀਂ ਕਰੋਗੇ।
- 3) ਉਸ ਤੋਂ ਦੂਰ ਰਹੋਗੇ।
- 4) ਉਸ ਨੂੰ ਸਕੂਲ ਛੱਡਣ ਲਈ ਕਹੋਗੇ।

ਪ੍ਰਸ਼ਨ 14. ਸਫ਼ਾਈ ਲਈ ਜ਼ਰੂਰੀ ਹੈ ਕਿ ਕੂੜਾ-ਕਰਕਟ ਘੱਟ ਪੈਦਾ ਕੀਤਾ ਜਾਵੇ। ਨਾ-ਗਲਣਯੋਗ ਕੂੜੇ ਤੋਂ ਬਚਣ ਲਈ ਕਿਹੜਾ ਕਥਨ ਲਾਹੇਵੰਦ ਹੋ ਸਕਦਾ ਹੈ?

- 1) ਸਬਜ਼ੀਆਂ ਦੀ ਵਰਤੋਂ ਘੱਟ ਕਰਨੀ ਚਾਹੀਦੀ ਹੈ।
- 2) ਕੂੜੇਦਾਨ ਦੀ ਵਰਤੋਂ ਨਹੀਂ ਕਰਨੀ ਚਾਹੀਦੀ।
- 3) ਪਾਲੀਥੀਨ ਦੇ ਲਿਫ਼ਾਫ਼ੇ ਤੇ ਪਲਾਸਟਿਕ ਦੀ ਵਰਤੋਂ ਘੱਟ ਕਰਨੀ ਚਾਹੀਦੀ ਹੈ।
- 4) ਕੂੜਾ ਬਾਹਰ ਖਿਲਾਰ ਦੇਣਾ ਚਾਹੀਦਾ ਹੈ।

ਪ੍ਰਸ਼ਨ 15. ਹੇਠ ਲਿਖੀਆਂ ਵਿੱਚੋਂ ਕਿਹੜੇ ਜੁੱਟ ਦਾ ਸਬੰਧ ਸਾਡੇ ਭੋਜਨ ਦੇ ਸਵਾਦ ਵਧਾਉਣ ਨਾਲ ਹੈ?

- |              |               |                |                                 |
|--------------|---------------|----------------|---------------------------------|
| 1) ਮੱਝ-ਬੱਕਰੀ | 2) ਸੋਨਾ-ਚਾਂਦੀ | 3) ਜੀਰਾ-ਇਲਾਇਚੀ | 4) ਇਹਨਾਂ ਵਿੱਚੋਂ ਕਿਸੇ ਦਾ ਵੀ ਨਹੀਂ |
|--------------|---------------|----------------|---------------------------------|



ਅ) ਹੇਠਾਂ ਦਿੱਤੇ ਪੈਰੇ ਨੂੰ ਪੜ੍ਹ ਕੇ ਦਿੱਤੇ ਗਏ ਪ੍ਰਸ਼ਨਾਂ ਦੇ ਉੱਤਰ ਦਿਓ:-

ਸਾਉਣ ਮਹੀਨੇ ਦਾ ਪੰਜਾਬੀਆਂ ਲਈ ਬੜਾ ਮਹੱਤਵ ਹੈ। ਇਹ ਵਰਖਾ-ਰੁੱਤ ਦਾ ਮਹੀਨਾ ਹੈ। ਇਸ ਮਹੀਨੇ ਕਈ-ਕਈ ਦਿਨ ਝੜੀ ਲੱਗੀ ਰਹਿੰਦੀ ਹੈ। ਇਸ ਨਾਲ ਸਖ਼ਤ ਗਰਮੀ ਤੋਂ ਰਾਹਤ ਮਿਲਦੀ ਹੈ। ਚਾਰ-ਚੁਫ਼ੇਰੇ ਹਰਿਆਲੀ ਹੀ ਹਰਿਆਲੀ ਦਿਸਣ ਲਗਦੀ ਹੈ। ਬਾਗ਼ਾਂ ਵਿੱਚ ਮੋਰ ਪੈਲਾਂ ਪਾਉਂਦੇ ਹਨ। ਇਹ ਮੀਂਹ ਫ਼ਸਲਾਂ ਲਈ ਫ਼ਾਇਦੇਮੰਦ ਹੁੰਦਾ ਹੈ। ਇਸ ਨਾਲ ਫ਼ਸਲਾਂ ਦਾ ਝਾੜ ਚੰਗਾ ਨਿਕਲਦਾ ਹੈ। ਕੁੜੀਆਂ ਲਈ ਇਹ ਮਹੀਨਾ ਹੋਰ ਵੀ ਚਾਵਾਂ ਭਰਿਆ ਹੁੰਦਾ ਹੈ। ਇਸੇ ਮਹੀਨੇ ਹੀ ਤੀਆਂ ਲਗਦੀਆਂ ਹਨ। ਕੁੜੀਆਂ ਇਕੱਠੀਆਂ ਹੋ ਕੇ ਪੀਂਘਾਂ ਝੂਟਦੀਆਂ ਅਤੇ ਗਿੱਧਾ ਪਾਉਂਦੀਆਂ ਹਨ। ਇਸ ਮਹੀਨੇ ਬਾਰੇ ਵੀ ਗਿੱਧੇ ਵਿੱਚ ਬਹੁਤ ਸਾਰੀਆਂ ਬੋਲੀਆਂ ਵੀ ਪਾਈਆਂ ਜਾਂਦੀਆਂ ਹਨ। ਘਰਾਂ ਵਿੱਚ ਖੀਰ ਤੇ ਪੂੜੇ ਬਣਦੇ ਹਨ ਜੋ ਕਿ ਪੰਜਾਬੀਆਂ ਦਾ ਮਨਪਸੰਦ ਖਾਣਾ ਹੈ। ਪੰਜਾਬੀਆਂ ਲਈ ਇਹ ਮਹੀਨਾ ਖੁਸ਼ੀਆਂ ਤੇ ਖੇਡੇ ਲੈ ਕੇ ਆਉਂਦਾ ਹੈ।

ੲ) ਹੇਠਾਂ ਦਿੱਤੇ ਗਏ ਪ੍ਰਸ਼ਨਾਂ ਦੇ ਉੱਤਰ ਦਿਓ:-

6. ਇਹਨਾਂ ਵਿੱਚੋਂ ਕਿਹੜਾ ਮਹੀਨਾ ਵਰਖਾ-ਰੁੱਤ ਦਾ ਹੈ?

ੳ) ਚੇਤ                      ਅ) ਸਾਉਣ                      ਈ) ਪੋਹ                      ਸ) ਮਾਘ

7. 'ਝੜੀ' ਤੋਂ ਕੀ ਭਾਵ ਹੈ?

ੳ) ਝੜ ਜਾਣਾ                      ਅ) ਚੜ੍ਹਨਾ                      ਈ) ਕਈ ਦਿਨ ਲਗਾਤਾਰ ਮੀਂਹ                      ਸ) ਮੀਂਹ ਪੈਣਾ

8. ਸਾਉਣ ਦੇ ਮਹੀਨੇ ਘਰਾਂ ਵਿੱਚ..... ਅਤੇ ਪੂੜੇ ਬਣਦੇ ਹਨ?

ੳ) ਖੀਰ                      ਅ) ਰੋਟੀ                      ਈ) ਸਬਜ਼ੀ                      ਸ) ਦਾਲ

9. ਸਹੀ ਵਾਕ ਦੀ ਚੋਣ ਕਰੋ:-

ੳ) ਕੁੜੀਆਂ ਪੀਂਘਾਂ ਝੂਟਦੀਆਂ ਹੈ।  
ਅ) ਕੁੜੀਆਂ ਪੀਂਘਾਂ ਝੂਟਦੀਆਂ ਹਨ।  
ੲ) ਕੁੜੀ ਪੀਂਘਾਂ ਝੂਟਦੀਆਂ ਹੈ।  
ਸ) ਕੁੜੀਆਂ ਪੀਘਾ ਝੂਟਦੀਆਂ ਹਨ।

10. ਕਿਹੜਾ ਪੰਛੀ ਪੈਲਾਂ ਪਾਉਂਦਾ ਹੈ ?

ੳ) ਮੋਰ                      ਅ) ਕਬੂਤਰ                      ਈ) ਤੋਤਾ                      ਸ) ਕਾਂ

ੲ) ਹੇਠਾਂ ਦਿੱਤੇ ਪ੍ਰਸ਼ਨਾਂ ਦੇ ਉੱਤਰ ਦਿਓ:-

11. ਪਰਵਾਸੀ ਪੰਛੀ ਕਿੱਥੋਂ ਆਉਂਦੇ ਹਨ?

ੳ) ਸ਼ਹਿਰਾਂ ਤੋਂ                      ਅ) ਨੇੜੇ ਦੇ ਪਿੰਡਾਂ ਤੋਂ                      ਈ) ਨਾਲ ਦੇ ਰਾਜਾਂ ਤੋਂ                      ਸ) ਦੂਰ ਦੇਸਾਂ ਤੋਂ

12. 'ਜਾਇਆ' ਨਾਲ ਮਿਲਦਾ ਸ਼ਬਦ ਚੁਣੋ:-

ੳ) ਰੋਇਆ                      ਅ) ਗਾਇਆ                      ਈ) ਪਾਏ                      ਸ) ਜਾਏ

13. ਰੁੱਖ ਸਾਨੂੰ ਦਿੰਦੇ ਹਨ:-

ੳ) ਦੁੱਖ                      ਅ) ਸਤਿਕਾਰ                      ਈ) ਫਲ                      ਸ) ਧੁੱਪ

14. ਸ਼ਬਦਕੋਸ਼ ਤਰਤੀਬ ਅਨੁਸਾਰ ਲਿਖੋ:- ਬੀੜ, ਅਮਨ, ਕਿਰਸਾਣ, ਪੰਛੀ

ੳ) ਬੀੜ, ਪੰਛੀ, ਅਮਨ, ਕਿਰਸਾਣ                      ਅ) ਅਮਨ, ਕਿਰਸਾਣ, ਪੰਛੀ, ਬੀੜ  
ੲ) ਕਿਰਸਾਣ, ਪੰਛੀ, ਬੀੜ, ਅਮਨ                      ਸ) ਪੰਛੀ, ਅਮਨ, ਕਿਰਸਾਣ, ਬੀੜ

15. 'ਛਿੱਥਾ ਪੈਣਾ' ਤੋਂ ਕੀ ਭਾਵ ਹੈ?

ੳ) ਖੁਸ਼ ਹੋ ਜਾਣਾ                      ਅ) ਸ਼ਰਮਿੰਦਾ ਹੋਣਾ                      ਈ) ਰੋਣ ਲੱਗ ਜਾਣਾ                      ਸ) ਦੂਰ ਚਲੇ ਜਾਣਾ

## PUNJAB ACHIEVEMENT SURVEY-2020 (Sample Paper)

Student's Name .....

Subject : English

Total Marks .....

Roll No. ....

Class :- 4th

Marks obtd.....

Question no.	1	2	3	4	5	6	7	8	9	10	11	12	13	14	15	Total Marks
Marks obtd																

**Read the passage and answer the following questions.**

Today is Sunday. We all have a holiday. My mother is busy in the kitchen. Grandmother is helping her. My father is reading newspaper. Grandfather has gone for a walk. I am playing with my doll. My sister, Reena is still asleep. We have planned to go for shopping today. It is 8a.m. and we will leave after two hours.

**Q1. Who is helping mother in the kitchen?**

1. sister            2. grandmother            3. mother            4. grandfather

**Q2. Who is reading newspaper?**

1. mother            2. grandmother            3. father            4. grandfather

**Q3. At what time are we going for shopping?**

1. 8 a.m.            2. 10 p.m.            3. 12 p.m.            4. 2 p.m.

**Q4. Choose the verb.**

1. doll            2. walk            3. busy            4. today

**Q5. Choose the opposite of 'after'.**

1. back            2. below            3. before            4. under

Look at the picture and answer the following questions



Q6. The above poster is about the .....

1. fair      2. market      3. drawing classes      4. circus

Q7. On which day are the classes going to start?

1. Sunday      2. Saturday      3. Monday      4. not given

Q8. The drawing classes will be for ..... days.

1. four      2. two      3. six      4. seven

Q 9. Who cannot take part in the classes?

1. Amit 7 years      2. Sona 9 years      3. Rajan 11 years      4. Rohan 8 years

Q10. Which of the following is not available in the classes?

1. painting      2. thumb painting  
3. pot painting      4. Colouring

Answer the following questions

11. Which of the following is not a season?

1. winter      2. summer      3. rain      4. autumn

12. Choose the word having a silent letter.


1. green

2. brown

3. white

4. yellow

13. Which of the following is hidden in the grid?



o	n	e	o	s
c	a	p	r	t
t	u	e	n	p
g	i	a	g	r
p	e	s	o	a



14. Choose the incorrect statement.

1. He was waiting for a bus.

2. She was waiting for a bus.

3. They was waiting for a bus.

4. I was waiting for a bus.

15. Choose the correct statement.

1. When are they coming.

2. When are they coming!

3. When are they coming?

4. When are they coming,



## पंजाब प्राप्ति सर्वेक्षण : (नमूना प्रश्न पत्र)

विद्यार्थी का नाम :

रोल नंबर

विषय

कक्षा

कुल अंक :- 30

प्राप्त अंक

प्रश्न नं.:	1	2	3	4	5	6	7	8	9	10	11	12	13	14	15
प्राप्त अंक															

प्रश्न 1 : चित्रों को को सही क्रमांक दें :



- 1) 5 , 4 , 3 , 2 , 1
- 2) 4 , 3 , 2 , 5 , 1
- 3) 1 , 2 , 3 , 4 , 5
- 4) 3 , 5, 4 ,1 , 2

प्रश्न 2 : वर्णमाला अनुसार वर्णों को सही क्रम में लिखें ।

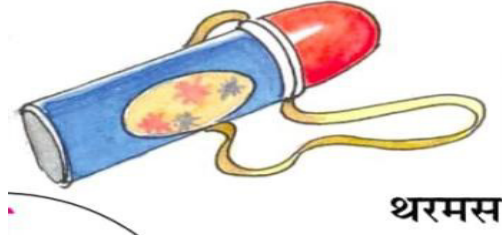
- 1) च ज छ झ ञ
- 2) च छ झ ज ञ
- 3) च ज झ छ ञ
- 4) च छ ज झ ञ

प्रश्न 3 : हिंदी में "ड"वर्ण कैसे लिखेंगे ?

- 1) म
- 2) ब
- 3) भ
- 4) उ


प्रश्न 4 : दिया गया चित्र जिस वर्ण से शुरू होता है , वर्ण कौन से वर्ण के मध्य आता है ?

- 1) द \_\_\_\_\_ न
- 2) त \_\_\_\_\_ द
- 3) त \_\_\_\_\_ ध
- 4) प \_\_\_\_\_ ब



प्रश्न 5 : चित्र किसका है?

- 1) टरम
- 2) टमर
- 3) रमट
- 4) मटर



प्रश्न 6 : छत / अमन / जा / पर / शब्दों के प्रयोग से वाक्य बनाएँ ।

- 1) छत अमन जा पर ।
- 2) अमन पर जा छत ।
- 3) छत अमन पर जा ।
- 4) अमन छत पर जा ।

प्रश्न 7 : चित्र में खाना कौन खा रहा है ?

- 1) लडका
- 2) लइका
- 3) लाइका
- 4) लइक



प्रश्न 8 : "ल" वर्ण से पहले कौन सा वर्ण आता है ?

- 1) व
- 2) य
- 3) र
- 4) श

प्रश्न 9 : मगन आया \_\_\_\_\_ लाया । चित्र देखकर उपयुक्त शब्द भरें।



- 1) छाता
- 2) छता
- 3) छत
- 4) छात

प्रश्न 10 : रिक्त स्थान भरते हुए वर्णमाला पूरी करो : घ \_\_\_\_\_ च \_\_\_\_\_ ज \_\_\_\_\_

- 1) ड , झ , छ
- 2) ड , छ , झ
- 3) ड , छ , झ
- 4) ड , छ , झ

प्रश्न 11 : चित्र देखकर सही वर्ण भरकर शुद्ध शब्द बनाएँ। बा \_\_\_\_\_ ल



- 1) द
- 2) ठ
- 3) ढ
- 4) ढ

प्रश्न 12 : चित्र देखकर वर्णों के साथ उचित मात्रा लगाकर शब्द बनाएँ : र / अ / न



- 1) आनार
- 2) आनर
- 3) अनारा
- 4) अनार

प्रश्न 13 : एक बार मदन बाज़ार गया , वह कार, पान, मटका , आम , माला लाया । मदन बाज़ार से क्या नहीं लाया ?

- 1) माला
- 2) ताला
- 3) कार
- 4) मटका

प्रश्न 14 : दिए गए संकेतों का प्रयोग करते हुए गद्यांश पूर्ण करें पूरा करें : ( खाना , फल , दाल )

गगन आया \_\_\_\_\_ लाया , माता \_\_\_\_\_ बना । अजय \_\_\_\_\_ चावल खा ।

- 1) खाना , फल , दाल
- 2) फल , खाना , दाल
- 3) दाल , फल , खाना
- 4) फल , खाना , दाल

प्रश्न 15 : निम्न में से कौन से फल का रंग लाल नहीं है ।

