

ਪ੍ਰਸ਼ਨ ਬੈਂਕ (ਹੱਲ ਸਹਿਤ)

ਵਿਲੱਖਣ ਸਮਰੱਥਾ (HI,VI, ਅਤੇ MR) ਵਾਲੇ ਵਿਦਿਆਰਥੀਆਂ ਲਈ

ਸ਼੍ਰੇਣੀ : ਪੰਜਵੀਂ

ਵਿਸ਼ਾ : ਵਾਤਾਵਰਣ ਸਾਇੰਸ

ਪਿਆਰੇ ਵਿਦਿਆਰਥੀਓ,

ਮਾਣਯੋਗ ਸਕੱਤਰ ਸਕੂਲ ਸਿੱਖਿਆ, ਪੰਜਾਬ ਜੀ ਦੇ ਮਾਰਗ ਦਰਸ਼ਨ ਅਤੇ ਦਿਸ਼ਾ ਨਿਰਦੇਸ਼ਾਂ ਹੇਠ ਵਿਲੱਖਣ ਸਮਰੱਥਾ ਵਾਲੇ ਵਿਦਿਆਰਥੀਆਂ (HI,VI,ਅਤੇ MR) ਪੰਜਵੀਂ ਸ਼੍ਰੇਣੀ ਦਾ ਵਾਤਾਵਰਣ ਸਾਇੰਸ ਵਿਸ਼ੇ ਦਾ ਪ੍ਰਸ਼ਨ ਬੈਂਕ ਤਿਆਰ ਕੀਤਾ ਗਿਆ ਹੈ। ਇਹ ਪ੍ਰਸ਼ਨ ਬੈਂਕ ਪੰਜਾਬ ਸਕੂਲ ਸਿੱਖਿਆ ਬੋਰਡ ਦੇ ਪੰਜਵੀਂ ਦੇ ਪਾਠਕ੍ਰਮ ਦੇ ਆਧਾਰ ਤੇ ਬਣਾਇਆ ਗਿਆ ਹੈ। ਵਿਲੱਖਣ ਸਮਰੱਥਾ ਵਾਲੇ ਵਿਦਿਆਰਥੀਆਂ ਲਈ ਕੋਈ ਵੱਖਰਾ ਪਾਠਕ੍ਰਮ ਨਹੀਂ ਰੱਖਿਆ ਗਿਆ। ਸਿਰਫ ਪ੍ਰਸ਼ਨ ਪੱਤਰ ਦੀ ਰੂਪ ਰੇਖਾ ਹੀ ਭਿੰਨ ਰੱਖੀ ਗਈ ਹੈ। ਇਸ ਪ੍ਰਸ਼ਨ ਪੱਤਰ ਵਿੱਚ 60% ਪ੍ਰਸ਼ਨ objective type (Multiple choice, Fill in the blanks, Match the following ਅਤੇ True False) ਹਨ ਜਦੋਂ ਕਿ 20% ਛੋਟੇ ਉਤਰਾਂ ਵਾਲੇ ਪ੍ਰਸ਼ਨ ਅਤੇ 20% ਵੱਡੇ ਉਤਰਾਂ ਵਾਲੇ ਪ੍ਰਸ਼ਨ ਹਨ।

ਇਸ ਪ੍ਰਸ਼ਨ ਬੈਂਕ ਨੂੰ ਬਣਾਉਣ ਦਾ ਉਦੇਸ਼ ਵਿਲੱਖਣ ਪ੍ਰਤਿਭਾ ਵਾਲੇ ਵਿਦਿਆਰਥੀਆਂ ਨੂੰ ਉਚਿਤ ਅਤੇ ਲੋੜੀਂਦਾ ਗਿਆਨ ਸਰਲਤਾ ਨਾਲ ਪ੍ਰਦਾਨ ਕਰਨ ਦਾ ਹੈ। ਇਸ ਪ੍ਰਸ਼ਨ ਬੈਂਕ ਦੀ ਵਿਸ਼ੇਸ਼ਤਾ ਇਹ ਹੈ ਕਿ ਇਸ ਨੂੰ 100% ਹੱਲ ਕੀਤਾ ਗਿਆ ਹੈ ਅਤੇ ਪ੍ਰੀਖਿਆ ਵਿੱਚ ਕੇਵਲ ਇਸ ਪ੍ਰਸ਼ਨ ਬੈਂਕ ਵਿੱਚੋਂ ਹੀ ਪ੍ਰਸ਼ਨ ਪੁੱਛੇ ਜਾਣਗੇ।

ਇਸ ਪ੍ਰਸ਼ਨ ਬੈਂਕ ਨੂੰ ਵਿਸ਼ਾ ਮਾਹਿਰਾਂ ਵੱਲੋਂ ਤਿਆਰ ਕੀਤਾ ਗਿਆ ਹੈ। ਸੁਧਾਰ ਦੇ ਤੌਰ ਤੇ ਆਏ ਸੁਝਾਵਾਂ ਦਾ ਸਵਾਗਤ ਕੀਤਾ ਜਾਵੇਗਾ।

ਵਿਸ਼ਵਾਕੀਰਤ

ਤਿਆਰ ਕਰਤਾ

ਲੈਕਚਰਾਰ ਫਿਜ਼ਿਕਸ ਸ.ਕੰ.ਸ.ਸ.ਗਿੱਲ

(ਲੁਧਿਆਣਾ)

ਜਯੋਤੀ ਸੋਨੀ

ਸੰਪਾਦਕ

ਵਿਸ਼ਾ ਮਾਹਿਰ

ਐਸ.ਸੀ.ਆਰ.ਟੀ.ਪੰਜਾਬ

ਪ੍ਰਸ਼ਨ ਪੱਤਰ ਦੀ ਰੂਪ - ਰੇਖਾ
(ਵਿਲੱਖਣ ਪ੍ਰਤਿਭਾ ਵਾਲੇ ਵਿਦਿਆਰਥੀਆਂ ਲਈ)

ਸੈਸ਼ਨ 2018-19

ਸਮਾਂ-3 ਘੰਟੇ + 1 ਘੰਟਾ ਵਾਧੂ ਜਮਾਤ ਪੰਜਵੀਂ ਬਿਓਰੀ ਅੰਕ 80

ਵਿਸ਼ਾ ਸਾਇੰਸ (ਫਿਜ਼ਿਕਸ ਸਾਇੰਸ)

ਭਾਗ (ੳ) ਆੱਬਜੈਕਟਿਵ ਪ੍ਰਸ਼ਨ

ਕੁੱਲ ਪ੍ਰਸ਼ਨ- 23, ਕੁੱਲ ਅੰਕ-46

- | | |
|------------------|---------------------------|
| 1.ਸਹੀ ਵਿਕਲਪ ਚੁਣੋ | 2 ਅੰਕ × 6 ਪ੍ਰਸ਼ਨ = 12 ਅੰਕ |
| 2.ਖਾਲੀ ਸਥਾਨ ਭਰੋ | 2 ਅੰਕ × 6 ਪ੍ਰਸ਼ਨ = 12 ਅੰਕ |
| 3.ਮਿਲਾਨ ਕਰੋ | 2 ਅੰਕ × 6 ਪ੍ਰਸ਼ਨ = 12 ਅੰਕ |
| 4.ਸਹੀ/ਗਲਤ ਚੁਣੋ | 2 ਅੰਕ × 5 ਪ੍ਰਸ਼ਨ = 10 ਅੰਕ |

ਭਾਗ (ਅ) ਤਿੰਨ ਅੰਕਾਂ ਵਾਲੇ ਪ੍ਰਸ਼ਨ

ਕੁੱਲ ਪ੍ਰਸ਼ਨ - 8, ਕੁੱਲ ਅੰਕ - 24

- | | |
|--------------------------|---------------------------|
| 5.ਤਿੰਨ ਅੰਕਾਂ ਵਾਲੇ ਪ੍ਰਸ਼ਨ | 3 ਅੰਕ × 8 ਪ੍ਰਸ਼ਨ = 24 ਅੰਕ |
|--------------------------|---------------------------|

ਭਾਗ (ੲ) ਪੰਜ ਅੰਕਾਂ ਵਾਲੇ ਪ੍ਰਸ਼ਨ

ਕੁੱਲ ਪ੍ਰਸ਼ਨ - 2, ਕੁੱਲ ਅੰਕ - 10

- | | |
|-------------------------|---------------------------|
| 6.ਪੰਜ ਅੰਕਾਂ ਵਾਲੇ ਪ੍ਰਸ਼ਨ | 5 ਅੰਕ × 2 ਪ੍ਰਸ਼ਨ = 10 ਅੰਕ |
|-------------------------|---------------------------|

ਪਾਠ ਪੁਸਤਕ

ਪੰਜਾਬ ਸਕੂਲ ਸਿੱਖਿਆ ਬੋਰਡ ਦੁਆਰਾ ਨਿਰਧਾਰਿਤ ਪਾਠ ਪੁਸਤਕ

ਵਾਤਾਵਰਣ ਸਿੱਖਿਆ - ਪੰਜਵੀਂ ਜਮਾਤ ਲਈ

ਜਮਾਤ ਪੰਜਵੀਂ

ਪ੍ਰਸ਼ਨ 1) ਸਹੀ ਵਿਕਲਪ ਚੁਣੋ

1) ਰਾਜੂ ਦੇ ਪਿਤਾ ਕਿੱਥੇ ਨੌਕਰੀ ਕਰਦੇ ਸਨ?

- a) ਪਿੰਡ b) ਸ਼ਹਿਰ c) d)

ਉੱਤਰ (ਸ਼ਹਿਰ)

2) ?

- a) b) c) d)

ਉੱਤਰ ()

3) ?

- a) b) c) d)

ਉੱਤਰ ()

4) ?

- a) b) c) d)

ਉੱਤਰ (ਦੋਨੋ)

5)

- a) b) c) d)

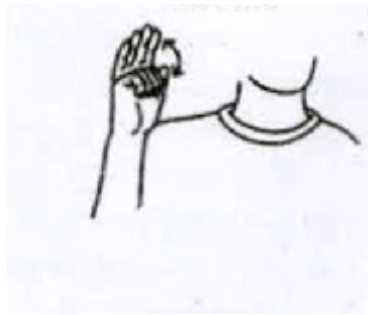
ਉੱਤਰ ()

6) _____ ?

- a) _____ b) _____ c) _____ d) _____

ਉੱਤਰ (ਔਖਾ)

7) ਚਿੱਤਰ ਵਿੱਚ ਕਿਸ ਸ਼ਬਦ ਨੂੰ ਸੰਕੇਤ ਰਾਹੀਂ ਦਰਸਾਇਆ ਗਿਆ ਹੈ?



- (a) ਹਾਂਜੀ (b) ਅਲਵਿਦਾ (c) ਧੰਨਵਾਦ (d) ਕੋਈ ਨਹੀਂ

ਉੱਤਰ (ਅਲਵਿਦਾ)

8) ਕਿਹੜੀ ਬਿਮਾਰੀ ਕਾਰਨ ਇਨਸਾਨ ਠੀਕ ਤਰ੍ਹਾਂ ਚੱਲਣ ਫਿਰਨ ਤੋਂ ਅਸਮਰਥ ਹੋ ਜਾਂਦਾ ਹੈ?

- (a) ਖਾਂਸੀ (b) ਜੁਕਾਮ (c) ਪੋਲੀਓ (d) ਬੁਖਾਰ

ਉੱਤਰ (ਪੋਲੀਓ)

9) ਖੇਡਾਂ ਵਿੱਚ ਕਿਹੜਾ ਵਿਅਕਤੀ ਜਿੱਤ ਸਕਦਾ ਹੈ?

- (a) ਤੰਦਰੁਸਤ (b) ਬਿਮਾਰ (c) ਕਮਜ਼ੋਰ (d) ਬਜ਼ੁਰਗ

ਉੱਤਰ (ਤੰਦਰੁਸਤ)

10) ਪੀ. ਟੀ ਉਸ਼ਾ ਕੌਣ ਹੈ?

- (a) ਹਾਕੀ ਖਿਡਾਰਨ (b) ਦੌੜਾਕ (c) ਕੱਬਡੀ ਖਿਡਾਰਨ

(d) ਕ੍ਰਿਕਟ ਖਿਡਾਰਨ

ਉੱਤਰ (ਦੌੜਾਕ)

11) ਮਿਲਖਾ ਸਿੰਘ ਨੂੰ ਕਿਸ ਸਿੱਖ ਦਾ ਅਵਾਰਡ ਮਿਲਿਆ?

(a) ਫਲਾਈਂਗ ਸਿੱਖ (b) ਮਿਹਨਤੀ (c) ਕਮਜ਼ੋਰ (d) ਇਹਨਾਂ ਵਿਚੋਂ
ਕੋਈ ਨਹੀਂ

ਉੱਤਰ (ਫਲਾਈਂਗ ਸਿੱਖ)

12) ਉਲੰਪਿਕ ਖੇਡਾਂ ਦਾ ਆਯੋਜਨ ਕਿੰਨੇ ਸਾਲਾਂ ਬਾਅਦ ਹੁੰਦਾ ਹੈ?

(a) ਦਸ (b) ਚਾਰ (c) ਦੋ (d) ਨੌਂ

ਉੱਤਰ (ਚਾਰ)

13) ਕੁਸ਼ਤੀ ਕਿਸ ਰਾਜ ਦੀ ਖੇਡ ਹੈ?

(a) ਗੁਜਰਾਤ (b) ਬੰਗਾਲ (c) ਬਿਹਾਰ (d) ਪੰਜਾਬ

ਉੱਤਰ (ਪੰਜਾਬ)

14) ਵਿਹਲੇ ਸਮੇਂ ਵਿੱਚ ਕੀ ਕੀਤਾ ਜਾ ਸਕਦਾ ਹੈ?

(a) ਖੇਡਣਾ (b) ਟੀ.ਵੀ. ਦੇਖਣਾ (c) ਕਿਤਾਬ ਪੜ੍ਹਣਾ
(d) ਇਹ ਸਾਰੇ

ਉੱਤਰ (ਇਹ ਸਾਰੇ)

15) ਵਿਸ਼ਵ ਵਾਤਾਵਰਣ ਦਿਵਸ ਕਦੋਂ ਮਨਾਇਆ ਜਾਂਦਾ ਹੈ?

(a) 5 ਜੂਨ (b) 15 ਜੁਲਾਈ (c) 23 ਅਗਸਤ (d) 2 ਨਵੰਬਰ

ਉੱਤਰ (5 ਜੂਨ)

16) ਭਾਰਤ ਦਾ ਰਾਸ਼ਟਰੀ ਜਾਨਵਰ ਕਿਹੜਾ ਹੈ?

(a) ਚੀਤਾ (b) ਚੂਹਾ (c) ਬਿੱਲੀ (d) ਬਾਘ

ਉੱਤਰ (ਬਾਘ)

17) ਪੁਲਿਸ ਅਪਰਾਧੀਆਂ ਨੂੰ ਫੜਨ ਲਈ ਕਿਹੜੇ ਜਾਨਵਰ ਦੀ ਮੱਦ ਲੈਂਦੀ ਹੈ।

- (a) ਚੀਤਾ (b) ਹਾਥੀ (c) ਕੁੱਤਾ (d) ਸ਼ੇਰ

ਉੱਤਰ (ਕੁੱਤਾ)

18) ਪੁਲਾੜ ਵਿੱਚ ਜਾਣ ਵਾਲੀ ਕੁੱਤੀ ਦਾ ਨਾਂ ਕੀ ਸੀ?

- (a) ਲਾਇਕਾ (b) ਡੌਲੀ (c) ਮੀਨਾ (d) ਨੈਨਸੀ

ਉੱਤਰ (ਲਾਇਕਾ)

19) ਉੱਠ ਕਿਸ ਜੰਤੂ ਤੋਂ ਪ੍ਰਾਪਤ ਕੀਤੀ ਜਾਂਦੀ ਹੈ?

- (a) ਕੁੱਤਾ (b) ਬਿੱਲੀ (c) ਚੂਹਾ (d) ਭੇਡ

ਉੱਤਰ (ਭੇਡ)

20) ਕਿਹੜਾ ਜਾਨਵਰ ਆਵਾਜਾਈ ਅਤੇ ਢੋਆ-ਢੋਆਈ ਲਈ ਵਰਤਿਆ ਜਾਂਦਾ ਹੈ।

- (a) ਉੱਠ (b) ਘੋੜਾ (c) ਬਲਦ (d) ਉਪਰੋਕਤ ਸਾਰੇ

ਉੱਤਰ (ਉਪਰੋਕਤ ਸਾਰੇ)

21) ਮਸਾਲੇ ਵਜੋਂ ਵਰਤੇ ਜਾਣ ਵਾਲੇ ਬੀਜ ਦੱਸੋ?

- (a) ਜੀਰਾ (b) ਸੌਂਫ (c) ਧਨੀਆ (d) ਇਹ ਸਾਰੇ

ਉੱਤਰ (ਇਹ ਸਾਰੇ)

22) ਤੇਲ ਕਿਸ ਦੇ ਬੀਜ ਤੋਂ ਨਿਕਲਦਾ ਹੈ?

- (a) ਕਣਕ (b) ਸਰੋਂ (c) ਚਾਵਲ (d) ਮੱਕੀ

ਉੱਤਰ (ਸਰੋਂ)

23) ਇਹਨਾਂ ਵਿੱਚੋਂ ਕਿਹੜਾ ਫੁੱਲ ਹੈ?

(a) ਗੁਲਾਬ (b) ਪੱਥਰਚੱਟ (c) ਮੂਲੀ (d) ਬਾਜਰਾ

ਉੱਤਰ (ਗੁਲਾਬ)

24) ਕਿਹੜਾ ਰੁੱਖ ਬਹੁਤ ਤੇਜ਼ੀ ਨਾਲ ਵੱਧਦਾ ਹੈ?

(a) ਨਿੰਮ (b) ਪਿੱਪਲ (c) ਸਫ਼ੈਦਾ (d) ਅੰਬ

ਉੱਤਰ (ਸਫ਼ੈਦਾ)

25) ਜੰਗਲਾਂ ਦੀ ਕਟਾਈ ਦੇ ਕੀ ਨਤੀਜੇ ਹਨ?

(a) ਤਾਪਮਾਨ ਵਿੱਚ ਤਬਦੀਲੀ (b) ਜਲ ਚੱਕਰ ਨੂੰ ਨੁਕਸਾਨ

(c) ਭੌਂ-ਖੋਰ (d) ਉਪਰੋਕਤ ਸਾਰੇ

ਉੱਤਰ (ਉਪਰੋਕਤ ਸਾਰੇ)

26) ਕਿਹੜੇ ਭੋਜਨ ਪਦਾਰਥ ਜਲਦੀ ਖਰਾਬ ਹੋ ਜਾਂਦੇ ਹਨ?

(a) ਬਰੈੱਡ (b) ਕਣਕ (c) ਚਾਵਲ (d) ਮੱਕੀ

ਉੱਤਰ (ਬਰੈੱਡ)

27) ਭੋਜਨ ਨੂੰ ਖਰਾਬ ਹੋਣ ਤੋਂ ਕਿਸ ਤਰੀਕੇ ਨਾਲ ਬਚਾਇਆ ਜਾ ਸਕਦਾ ਹੈ?

(a) ਫਰਿੱਜ ਵਿੱਚ ਰੱਖ ਕੇ (b) ਉਬਾਲ ਕੇ (c) ਖੰਡ ਅਤੇ ਨਮਕ

ਪਾ ਕੇ (d) ਇਹ ਸਾਰੇ

ਉੱਤਰ (ਇਹ ਸਾਰੇ)

28) ਬੰਦ ਸ਼ੈਡਾਂ ਨੂੰ ਕੀ ਕਹਿੰਦੇ ਹਨ?

(a) ਦਾਣਾ ਮੰਡੀ (b) ਗੋਦਾਮ (c) ਡਰੰਮ (d) ਕੋਈ ਵੀ ਨਹੀਂ

ਉੱਤਰ (ਗੋਦਾਮ)

29) _____ ?

(ੳ) 30 (ਅ) 40 (ੲ) 28 (ਸ) 50

ਉੱਤਰ (28)

30) ?

(ੳ) (ਅ) (ੲ) (ਸ)

ਉੱਤਰ ()

31) ?

(ੳ) 1-2 (ਅ) 3-4 (ੲ) 2-3 (ਸ) 8-10

ਉੱਤਰ (8-10)

32) ?

(ੳ) (ਅ) (ੲ) (ਸ)

ਉੱਤਰ (ਜੀਭ)

33) ?

a) b) c) d)

ਉੱਤਰ ()

34) ?

a) b) c) d)

ਉੱਤਰ ()

35) ਇਆ ?



- a) b) c) d) ਡੀ


ਉੱਤਰ (ਡੀ)

36) , ?

- a) b) c) d)

ਉੱਤਰ ()

37) ?



- a) b) c) d)

ਉੱਤਰ ()

38) ?

- a) b) c) d)

ਉੱਤਰ ()

39) ?

a) b) c) d)

ਉੱਤਰ ()

40) ?

a) b) c) d)

ਉੱਤਰ ()

41) ?

a) b) c) d)

ਉੱਤਰ ()

42) ?

a) b) c) d)

ਉੱਤਰ (ਨੀਲਾ)

43) :

a) b) c) d)

ਉੱਤਰ (ਕਾਗਜ਼)

44) ?

a) b) c) d)

ਉੱਤਰ (ਨਮਕ ਅਤੇ ਚੀਨੀ)

45) ?

a) b) c) d)

ਉੱਤਰ (ਵਰਖਾ)

46) ?

a) b) c) d)

ਉੱਤਰ (ਝੋਨਾ)

47) ?

a) b) c) d)

ਉੱਤਰ (ਪਾਣੀ)

48) ?

a) b) c) d)

ਉੱਤਰ (ਸੁਖਦੀਪ)

49) ?

a) b) c) d)

ਉੱਤਰ (ਹਵਾ)

50) ?



a)

b)

c)

d)

ਉੱਤਰ (ਰਜੀਆ ਸੁਲਤਾਨ)

ਪ੍ਰਸ਼ਨ 2) ਸਹੀ :

1)

(ਸਹੀ)

2)

|

(ਗਲਤ)

3)

ਅਧਿਆਪਕ ।

(ਗਲਤ)

4)

ਨ।(ਸਹੀ)

5) ਝੂਠ ਬੋਲਣਾ ਚੰਗੀ ਆਦਤ ਹੈ ।

(ਗਲਤ)

6) ਸਾਨੂੰ ਸਕੂਲ ਸਮੇਂ ਸਿਰ ਜਾਣਾ ਚਾਹੀਦਾ ਹੈ ।

(ਸਹੀ)

7) ਕ੍ਰਿਕਟ ਖੇਡਣ ਲਈ ਟੀਮ ਦੀ ਜ਼ਰੂਰਤ ਨਹੀਂ ਹੁੰਦੀ।

(ਗਲਤ)

8) ਜਲੰਧਰ ਵਿੱਚ ਖੇਡਾਂ ਦਾ ਸਾਮਾਨ ਬਣਦਾ ਹੈ।

(ਸਹੀ)

9) ਪੁਲਿਸ ਜਾਂ ਫੌਜ ਵਿੱਚ ਭਰਤੀ ਸਮੇਂ ਭਾਰ ਨਾਪਿਆ ਜਾਂਦਾ ਹੈ।

(ਸਹੀ)

10) ਖੇਡ ਮੇਲਿਆਂ ਵਿੱਚ ਜਾਨਵਰਾਂ ਦੇ ਮੁਕਾਬਲੇ ਵੀ ਕਰਾਏ ਜਾਂਦੇ ਹਨ।

(ਸਹੀ)

11) ਬਹੁਤ ਸਾਰੇ ਲੋਕ ਸ਼ੇਰ, ਚੀਤਾ ਅਤੇ ਬਾਘ ਵਿੱਚ ਅੰਤਰ ਨਹੀਂ ਜਾਣਦੇ।

(ਸਹੀ)

12) ਭੋਜਨ ਦੀ ਕਮੀ ਜੀਵ ਜੰਤੂਆਂ ਲਈ ਵੱਡਾ ਖੱਤਰਾ ਹੈ।

(ਸਹੀ)

13) ਕੁੱਤੇ ਤੋਂ ਦੁੱਧ ਪ੍ਰਾਪਤ ਕੀਤਾ ਜਾਂਦਾ ਹੈ।

(ਗਲਤ)

14) ਪਸ਼ੂਆਂ ਨੂੰ ਬਿਮਾਰੀਆਂ ਨਹੀਂ ਲਗਦੀਆਂ।

(ਗਲਤ)

15) ਝੋਨਾ ਪਾਣੀ ਵਿੱਚ ਝੋਨੇ ਦੀ ਪਨੀਰੀ ਲਾ ਕੇ ਉਗਾਇਆ ਜਾਂਦਾ ਹੈ।

।

(ਸਹੀ)

16) ਕਪਾਹ ਦਾ ਪੌਦਾ ਬੀਜ ਤੋਂ ਤਿਆਰ ਹੁੰਦਾ ਹੈ।

(ਸਹੀ)

17) ਜੰਗਲਾਂ ਦੀ ਕਟਾਈ ਨਾਲ ਜਲ ਚੱਕਰ ਨੂੰ ਨੁਕਸਾਨ ਨਹੀਂ ਪਹੁੰਚਦਾ।

(ਗਲਤ)

18) ਰੁੱਖਾਂ ਤੋਂ ਕਾਗਜ਼ ਤਿਆਰ ਕੀਤਾ ਜਾਂਦਾ ਹੈ ।

(ਸਹੀ)

19) ਸਾਨੂੰ ਖਰਾਬ ਭੋਜਨ ਕਦੇ ਨਹੀਂ ਖਾਣਾ ਚਾਹੀਦਾ ।

(ਸਹੀ)

20) ਬਰੈੱਡ ਜਲਦੀ ਖਰਾਬ ਨਹੀਂ ਹੁੰਦਾ ।

(ਗਲਤ)

21) | (ਸਹੀ)

22) | (ਗਲਤ)

23) | (ਗਲਤ)

24) | (ਸਹੀ)

25) | (ਗਲਤ)

26) | (ਸਹੀ)

27) | (ਸਹੀ)

28) | (ਗਲਤ)

29) | (ਗਲਤ)

31) | (ਗਲਤ)

32) | (ਸਹੀ)

34) | (ਸਹੀ)

- 35) | (ਸਹੀ)
- 36) | (ਗਲਤ)
- 37) | (ਗਲਤ)
- 38) | (ਗਲਤ)
- 39) | (ਸਹੀ)
- 40) ਸਮਾਗਮ ਕੀਤੇ ਜਾਂਦਾ ਹਨ। (ਸਹੀ)
- 41) , f | (ਗਲਤ)
- 42) | (ਗਲਤ)
- 43) | (ਸਹੀ)
- 44) ~ | (ਸਹੀ)
- 45) | (ਗਲਤ)
- 46) | (ਸਹੀ)
- 47) | (ਗਲਤ)

- 48) _____ | _____
(ਗਲਤ)
- 49) _____ | _____
(ਸਹੀ)
- 50) _____ - _____ | _____
(ਸਹੀ)

3) _____ :

- 1) _____ (/) (ਵੱਡੇ)
- 2) _____ (/) (ਬਹੁਤ)
- 3) _____ (/) (ਕੁਦਰਤੀ)
- 4) _____ (/)
(ਝੱਗੀਆਂ)

5) ਚੰਗੀ ਸਿਹਤ ਲਈ ਚੰਗੀ _____ ਜ਼ਰੂਰੀ ਹੈ ।
(ਖੁਰਾਕ)

6) _____ ਸੰਪੂਰਨ ਆਹਾਰ ਹੈ । (ਦੁੱਧ)

7) ਖੇਡਾਂ ਸਾਨੂੰ _____ ਸਿਖਾਉਂਦੀਆਂ ਹਨ।

(ਮਿਲਵਰਤਨ, ਦੁਸ਼ਮਣੀ)

(ਮਿਲਵਰਤਨ)

8) _____ ਵਿਲੱਖਣ ਪ੍ਰਤਿਭਾ ਵਾਲੇ ਖਿਡਾਰੀਆਂ ਲਈ ਖੇਡ

ਮੁਕਾਬਲਾ ਹੈ । (ਪੈਰਾ ਉਲੰਪਿਕ, ਉਲੰਪਿਕ) (ਪੈਰਾ ਉਲੰਪਿਕ)

9) ਬਾਜ਼ੀਗਰ _____ ਦਿਖਾਉਂਦੇ ਹਨ । (ਜਾਦੂ, ਕਰਤਬ) (ਕਰਤਬ)

10) ਨਗਰ ਕੀਰਤਨ ਸਮੇਂ _____ ਖੇਡਿਆ ਜਾਂਦਾ ਹੈ । (ਫੁੱਟਬਾਲ, ਗਤਕਾ)

(ਗਤਕਾ)

11) ਬਾਘ _____ ਪਰਿਵਾਰ ਨਾਲ ਸਬੰਧਤ ਜੀਵ ਹੈ । (ਬਿੱਲੀ, ਚੂਹਾ)

(ਬਿੱਲੀ)

12) ਡਾਕ ਵਿਭਾਗ ਜੰਤੂਆਂ ਦੀਆਂ ਤਸਵੀਰਾਂ ਵਾਲੇ _____ ਜਾਰੀ ਕਰਦਾ ਹੈ

(ਬਸ ਟਿਕਟ, ਡਾਕ ਟਿਕਟ) (ਡਾਕ ਟਿਕਟ)

(ਡਾਕ ਟਿਕਟ)

13) ਗਾਂ ਅਤੇ ਮੱਝ ਤੋਂ _____ ਮਿਲਦਾ ਹੈ । (ਮੀਟ, ਦੁੱਧ) (ਦੁੱਧ)

14) ਕੁੱਤੇ ਦੀ _____ ਸ਼ਕਤੀ ਕਮਾਲ ਦੀ ਹੁੰਦੀ ਹੈ । (ਸੁੰਘਣ, ਬੋਲਣ)

(ਸੁੰਘਣ)

15) ਸ਼ਕਰਕੰਦੀ ਪੌਦੇ ਦੀਆਂ _____ ਤੋਂ ਉਗਾਈ ਜਾਂਦੀ ਹੈ ।

(ਜੜ੍ਹਾਂ, ਤਣੇ)

(ਜੜ੍ਹਾਂ)

16) ਆਟਾ ਤਿਆਰ ਕਰਨ ਲਈ _____ ਦੇ ਬੀਜ ਵਰਤੇ ਜਾਂਦੇ ਹਨ । (ਕਣਕ, ਗੋਂਦੇ) (ਕਣਕ)

(ਕਣਕ)

17) ਸਫ਼ੈਦਾ _____ ਰੁੱਖ ਨਹੀਂ ਹੈ । (ਪੰਜਾਬੀ, ਭਾਰਤੀ)
(ਭਾਰਤੀ)

18) ਲੱਕੜ ਦੀ _____ ਨਾਲ ਵਰਤੋਂ ਕਰੋ । (ਅੰਨ੍ਹੇਵਾਹ, ਸੰਜਮ)
(ਸੰਜਮ)

19) ਅਸੀਂ ਦੁੱਧ ਨੂੰ ਠੰਡਾ ਕਰਨ ਲਈ _____ ਵਰਤਦੇ ਹਾਂ । (ਹੀਟਰ, ਫਰਿਜ)

(ਫਰਿਜ)

20) ਮੁਰੱਬਾ _____ ਪਾ ਕੇ ਤਿਆਰ ਕੀਤਾ ਜਾਂਦਾ ਹੈ । (ਲੱਸੀ, ਖੰਡ)
(ਖੰਡ)

21) _____ ।
(_____ , _____) (ਪ੍ਰੰਗਰਨ)

22) _____ (_____ , _____)
(ਸੰਭਾਲ)

23) _____ -ਰੂ _____ ।
(_____ , _____) (ਮੂੰਹ)

24) _____ । (_____ , _____) (ਛੇ)

25) _____ । (_____ , _____)
(ਕੁਪੋਸ਼ਣ)

26) _____

- 27) _____ | (,) (ਡਾਕਟਰ)
- 28) _____ | (,) (ਭੋਜਨ ਜਾਲ)
- 29) _____ | (,) (ਪੱਕੇ)
- 30) _____ | (,) (ਫੌਜੀ)
- 31) _____ (,) (ਪਾਣੀ)
- 32) _____ (,) (ਨੀਵੀਂ)
- 33) _____ (,) (ਤਿੰਨ)
- 34) _____ (, -) (ਤਿੰਨ-ਚੌਥਾਈ)
- 35) _____ | (,) (ਚਾਵਲ)
- 36) _____ | (,) (ਕਪਾਹ)

37) _____ | (,)
()

38) _____ | (, -)
(कमल)

39) _____ | (,)
()

40) _____ | (22,12) (22)

41) _____ |
(,) ()

42) ° _____ |
(,) ()

43) _____
(,)
()

44) _____ | (,)
()

45) _____

| (,) ()

46) _____

| (,) ()

47) _____

| (,) ()

48) _____ |

(123456,) (123456)

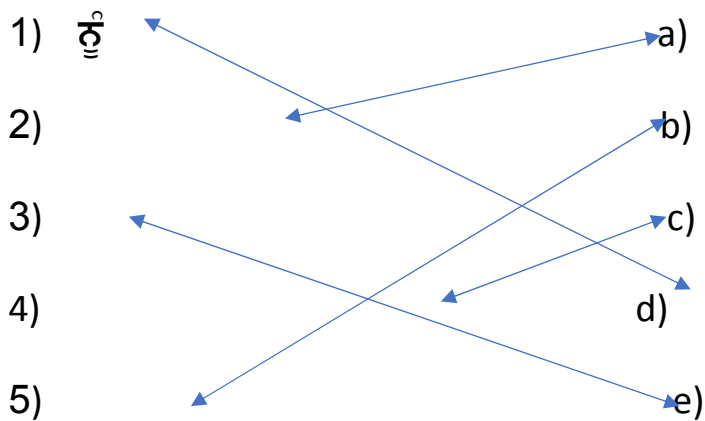
49) _____ |

(,) ()

50) _____ |

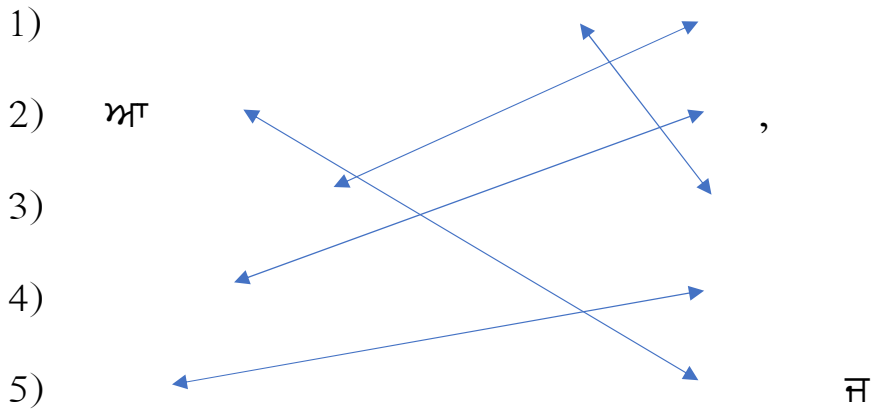
(,) ()

4) :1: -

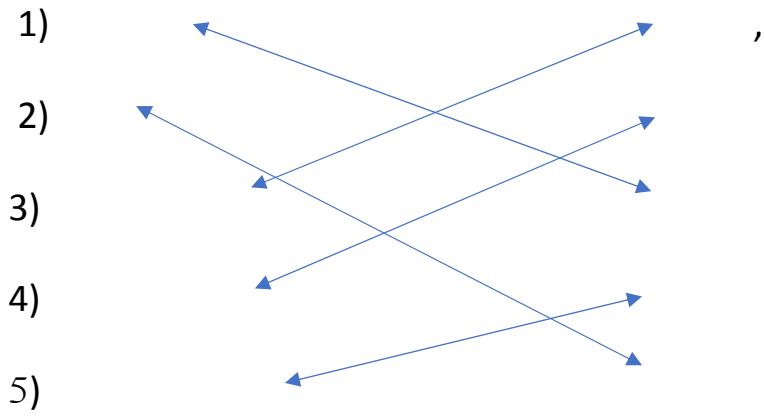


लगा

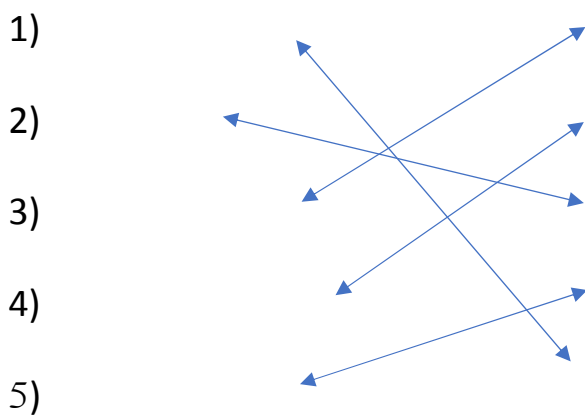
2:-



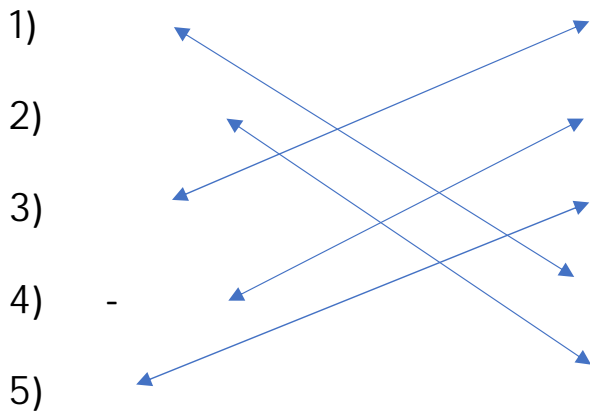
3:-



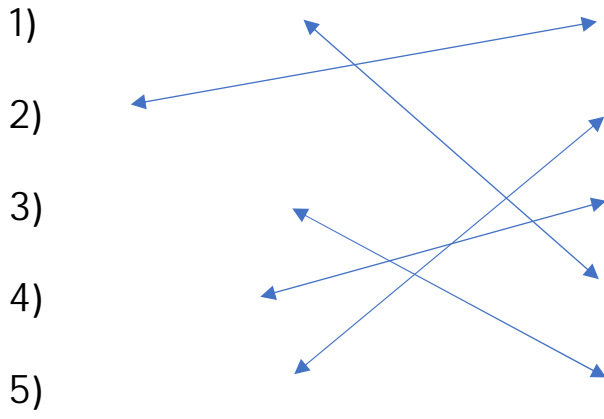
4:-



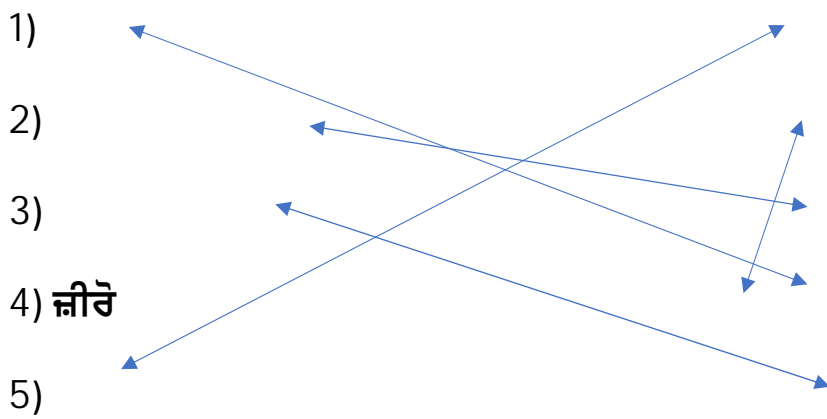
5:-



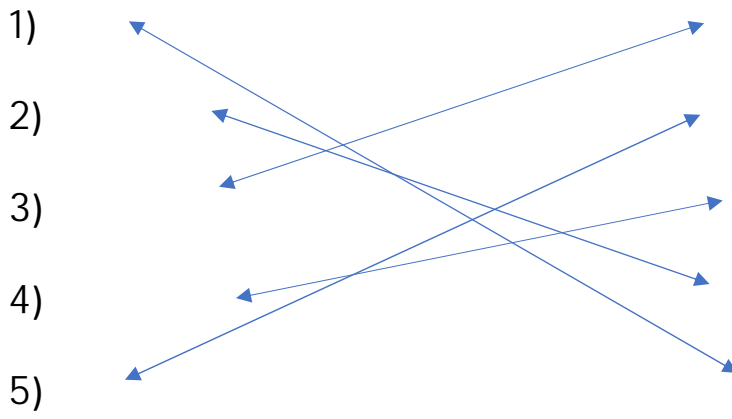
6:-



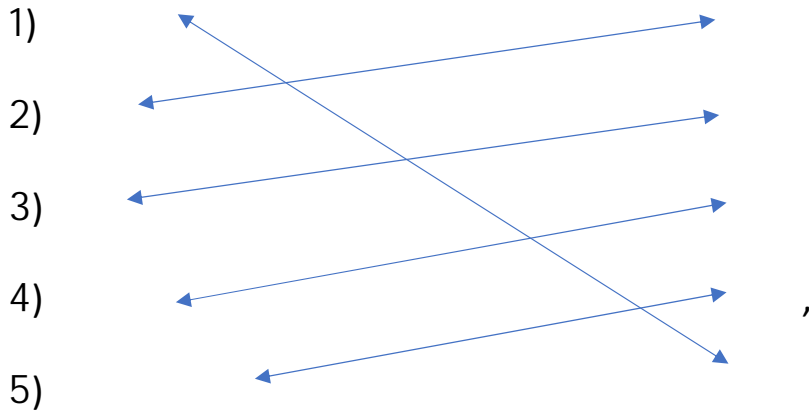
7:-



8:-



9:-



)

:

1)

?

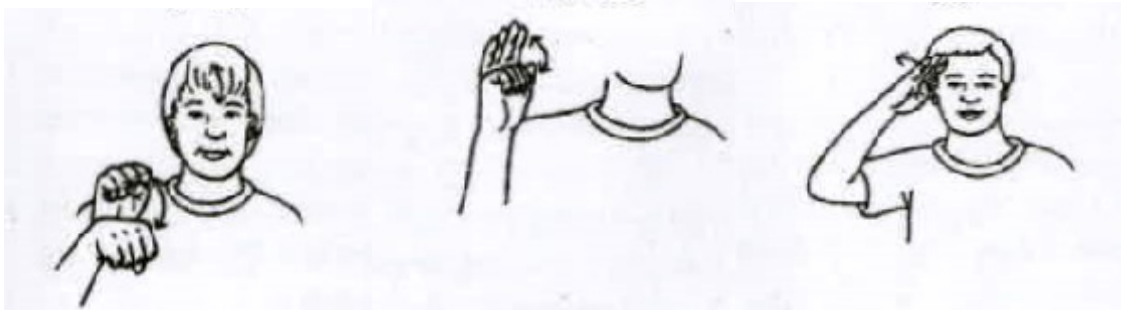
|

2)

|

, , |

3) ਚਿੱਤਰ ਵਿੱਚ ਕਿਹੜੇ ਸੰਕੇਤ ਦਰਸਾਏ ਗਏ ਹਨ ।



ਹਾਂ ਜੀ, ਅਲਵਿਦਾ, ਹੈਲੋ ।

4) ਇਹ ਚਿੰਨ੍ਹ ਕੀ ਦਸਦੇ ਹਨ?



ਅੱਪੂ, ਸ਼ੇਰਾ, ਪੰਜ ਚੱਕਰ ਉਲੰਪਿਕ ਖੇਡਾਂ ਦੇ ਵੱਖ ਵੱਖ ਚਿੰਨ੍ਹ ਹਨ ।

5) ਕਸਰਤ ਕਿਉਂ ਕਰਨੀ ਚਾਹੀਦੀ ਹੈ?

ਮਾਨਸਿਕ ਅਤੇ ਸ਼ਰੀਰਕ ਤੌਰ ਤੇ ਤੰਦਰੁਸਤ ਰਹਿਣ ਲਈ ।

6) ਬਾਘ ਦੇ ਸਰੀਰ ਦਾ ਰੰਗ, ਛਾਤੀ ਦਾ ਰੰਗ ਅਤੇ ਧਾਰੀਆਂ ਦਾ ਰੰਗ
ਕਿਹੜਾ ਹੁੰਦਾ ਹੈ?

ਪੀਲਾ ਭੂਰਾ, ਚਿੱਟਾ, ਕਾਲਾ

7) ਚਿੱਤਰ ਵਿੱਚ ਦਿਖਾਏ ਗਏ ਪਸ਼ੂਆਂ ਦੇ ਨਾਂ ਲਿਖੋ ।



ਅੰਗੋਰਾ ਖਰਗੋਸ਼, ਪਸ਼ਮੀਨਾ ਬੱਕਰੀ

8) ਕੋਈ ਤਿੰਨ ਫੁੱਲਾਂ ਦੇ ਨਾਂ ਦੱਸੋ ।

ਗੁਲਾਬ, ਗੇਂਦਾ, ਚਮੇਲੀ

9) ਕਿਹੜੇ ਭੋਜਨ ਜਲਦੀ ਖਰਾਬ ਹੁੰਦੇ ਹਨ?

ਹਰੀਆਂ ਸਬਜੀਆਂ, ਦੁੱਧ, ਦੁੱਧ ਤੋਂ ਬਣੇ ਪਦਾਰਥ, ਮਿਠਾਈਆਂ,
ਬਰੈੱਡ

10) _____ ?

, A,B,C,D,E,K

11) -

?

, ੁਨ

12) ਚਿੱਤਰ ਵਿੱਚ ਵਿਖਾਏ ਲੋਕਾਂ ਨੂੰ ਕੀ ਕਹਿੰਦੇ ਹਨ? ਇਹ ਕਿੱਥੇ
ਰਹਿੰਦੇ ਹਨ?



ਆਦਿਵਾਸੀ, ਜੰਗਲਾਂ ਵਿੱਚ

13) _____ ?

_____, _____ |

14) _____ ? _____ |


_____ : _____ -

15) _____ ?



16)

?



17)

18)

?

? ਵਿੱਚ




, ਇਸ ਚ ਟੀ |

19)

?

?



, |

20)

?

, , |

21)

?

, , |

22)

?



, - , -

23)

?

?



,

,

24)

?

,

|

6)

:

1)

?

|

2) ਕੋਈ ਪੰਜ ਖੇਡਾਂ ਦੇ ਨਾਂ ਦੱਸੋ?
ਵਿਦਿਆਰਥੀ ਆਪਣੇ ਆਪ ਕਰੇਗਾ ।

3) ਚਿੱਤਰ ਪਹਿਚਾਣੋ: -



(ਬਾਘ)



(ਚੀਤਾ)



(ਸ਼ੇਰ)

4) ਚਿੱਤਰ ਵਿੱਚ ਕੀ ਦਿਖਾਇਆ ਗਿਆ ਹੈ?



ਸਪੇਰਾ ਸੱਪ ਨਾਲ ਅਤੇ ਮਦਾਰੀ ਬਾਂਦਰ ਨਾਲ ਕਰਤੱਬ ਵਿਖਾ ਰਿਹਾ ਹੈ ।

ਇਸ ਤੋਂ ਪਤਾ ਚਲਦਾ ਹੈ ਕਿ ਜਾਨਵਰ ਮਨੁੱਖਾਂ ਲਈ ਰੁਜ਼ਗਾਰ ਦਾ ਸਾਧਨ ਬਣਦੇ ਹਨ ।

5) ਜੰਗਲਾਂ ਤੋਂ ਸਾਨੂੰ ਕੀ ਕੀ ਮਿਲਦਾ ਹੈ?

ਲੱਕੜ, ਗੂੰਦ, ਪਸ਼ੂਆਂ ਦਾ ਚਾਰਾ, ਸ਼ਹਿਦ, ਬਾਲਣ।

6) ਭੋਜਨ ਸੁਰੱਖਿਅਤ ਰੱਖਣ ਦੇ ਤਰੀਕੇ ਦੱਸੋ?

ਠੰਡਾ ਰੱਖ ਕੇ, ਉਬਾਲ ਕੇ, ਖੰਡ ਪਾ ਕੇ, ਨਮਕ ਪਾ ਕੇ, ਤੇਲ ਪਾ ਕੇ, ਸੁਕਾ ਕੇ।

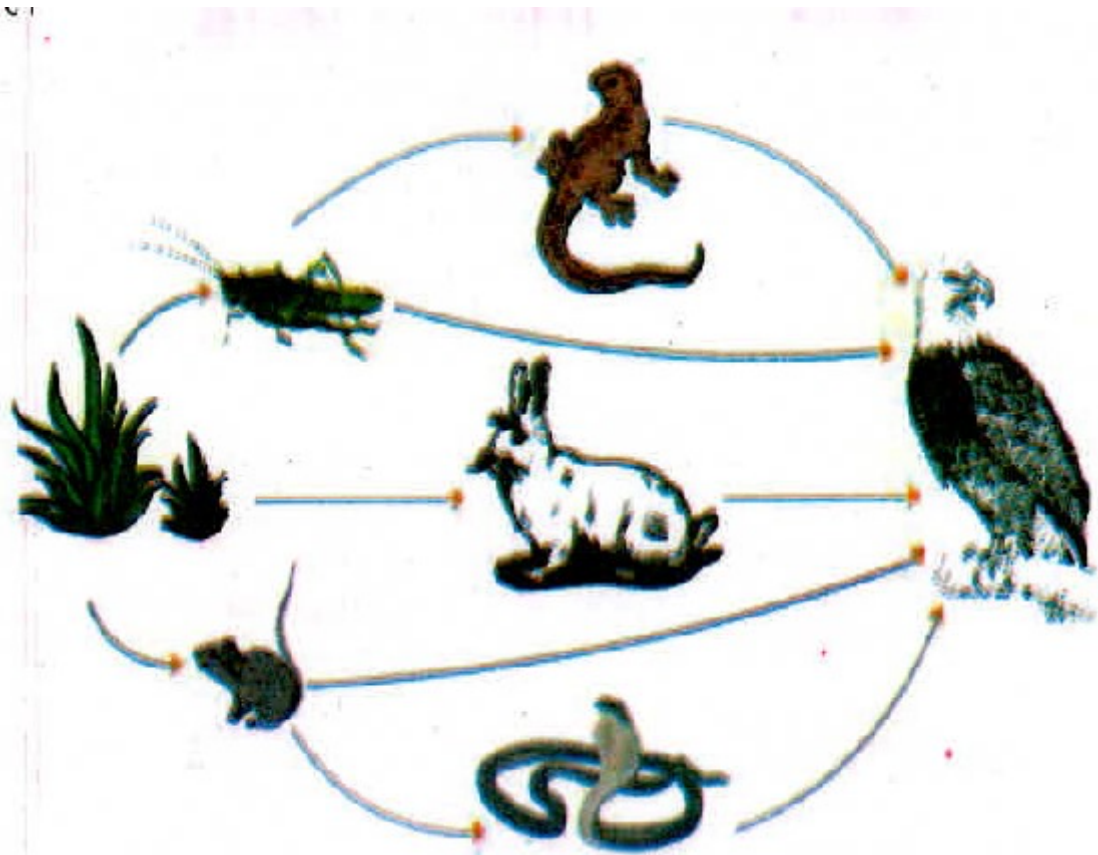
7) ?

8) ? ।

9) ?

10) † ?

|



,

|

11) , , | ?

,

,

|

12) , , | ?

,

,

|

13)

?

|

,

,

,

|

14)

?

,

,

,

,

|

