

ਮੁਲਾਂਕਣ ਸਤੰਬਰ, 2018

ਵਿਸ਼ਾ : ਵਾਤਾਵਰਨ ਸਿੱਖਿਆ

ਜਮਾਤ :: ਚੌਥੀ

ਸਕੂਲ ਦਾ ਨਾਂ
ਵਿਦਿਆਰਥੀ ਦਾ ਨਾਂ ਰੋਲ ਨੰਬਰ
ਜਮਾਤ ਮਿਤੀ

ਸਮਾਂ 2 : ਘੰਟੇ

80 : ਕੁੱਲ ਅੰਕ

1. ਖਾਲੀ ਥਾਂਵਾਂ ਭਰੋ :- (ਜੱਤ, ਚੰਗੇ, ਰਸ, ਗੁਲਾਬ, ਫੁੱਲ) ਅੰਕ = 10

(1) ਗੁਲਕੰਦ ਦੇ ਫੁੱਲਾਂ ਤੋਂ ਬਣਦੀ ਹੈ ।

(2) ਸ਼ਹਿਦ ਦੀਆਂ ਮੱਖੀਆਂ ਅਤੇ ਤਿਤਲੀਆਂ ਫੁੱਲਾਂ ਤੋਂ ਚੁਸਦੀਆਂ ਹਨ ।

(3) ਕੁੱਤੇ ਦੀ ਕਿੰਨੀ ਮੁਲਾਇਮ ਹੈ ।

(4) ਬਹਾਰ ਦੀ ਰੁੱਤ ਹੋਣ ਕਰਕੇ ਬਹੁਤ ਸਾਰੇ ਖਿੜੇ ਹੋਏ ਹਨ ।

(5) ਸਾਡੇ ਦੇਸ਼ਤ ਹੋਣੇ ਚਾਹੀਦੇ ਹਨ ।

2. ਹੇਠ ਲਿਖੇ ਕਿੱਤਾਕਾਰਾਂ ਵੱਲੋਂ ਵਰਤੇ ਜਾਂਦੇ ਕੋਈ ਦੋ-ਦੋ ਅੰਜਾਰ ਲਿਖੋ :- ਅੰਕ = 8


ਦਰਜੀ

ਮੋਚੀ


ਘੁਮਿਆਰ

ਡਾਕਟਰ

3. ਕੁਝ ਪੌਦਿਆਂ ਦੀਆਂ ਜੜ੍ਹਾਂ ਅਸੀਂ ਸਬਜ਼ੀਆਂ ਦੇ ਰੂਪ ਵਿੱਚ ਖਾਂਦੇ ਹਾਂ ਅਜਿਹੀਆਂ ਸਬਜ਼ੀਆਂ ਦੀਆਂ ਤਸਵੀਰਾਂ ਉੱਪਰ ਸਹੀ ਦਾ ਨਿਸ਼ਾਨ ਲਗਾਓ :- ਅੰਕ = 5



4. ਆਪਣੇ ਪਰਿਵਾਰ ਦੇ ਮੌਜੂਦਾ ਮੈਂਬਰਾਂ ਦਾ ਪਰਿਵਾਰਕ ਖਾਕਾ ਬਣਾਓ : ਅੰਕ=8



5. ਤੁਸੀਂ ਕਿਹੜੇ-ਕਿਹੜੇ ਮੇਲੇ ਵੇਖੇ ਹਨ ? ਕਿਸੇ ਇੱਕ ਮੇਲੇ ਬਾਰੇ ਪੰਜ ਵਾਕ ਲਿਖੋ ।

ਅੰਕ = 2+5=7

7. ਪ੍ਰਸ਼ਨਾਂ ਦੇ ਉੱਤਰ ਦਿਓ :-

ਅੰਕ =12

(1) ਜੀਵ ਝੁੰਡਾਂ ਵਿੱਚ ਕਿਉਂ ਰਹਿੰਦੇ ਹਨ ?

(2) ਘੋੜੇ ਦੇ ਕੋਈ ਦੋ ਗੁਣ ਦੱਸੋ ?

(3) ਜਦੋਂ ਕੋਈ ਤੁਹਾਡੀ ਪਿੱਠ ਥਾਪੜ ਕੇ ਸ਼ਾਬਾਸ਼ੀ ਦਿੰਦਾ ਹੈ ਤਾਂ ਤੁਹਾਨੂੰ ਕਿਸ ਤਰ੍ਹਾਂ ਲੱਗਦਾ ਹੈ ?

(4) ਰੁੱਖਾਂ ਨੂੰ ਕੱਟਣਾ ਕਿਉਂ ਨਹੀਂ ਚਾਹੀਦਾ ?

10. ਮਿਲਾਨ ਕਰੋ :-

ਅੰਕ = 4

| | |
|-------------------------|-------------|
| ਰਾਤ ਨੂੰ ਖਿੜਨ ਵਾਲਾ ਫੁੱਲ | ਗੁਲਮੋਹਰ |
| ਰੁੱਖ ਨੂੰ ਲੱਗਣ ਵਾਲੇ ਫੁੱਲ | ਲਿੱਲੀ |
| ਦਿਨ ਵੇਲੇ ਖਿੜਣ ਵਾਲਾ ਫੁੱਲ | ਝੁਮਕਾ |
| ਵੇਲ ਨੂੰ ਲੱਗਣ ਵਾਲੇ ਫੁੱਲ | ਰਾਤ ਦੀ ਰਾਣੀ |

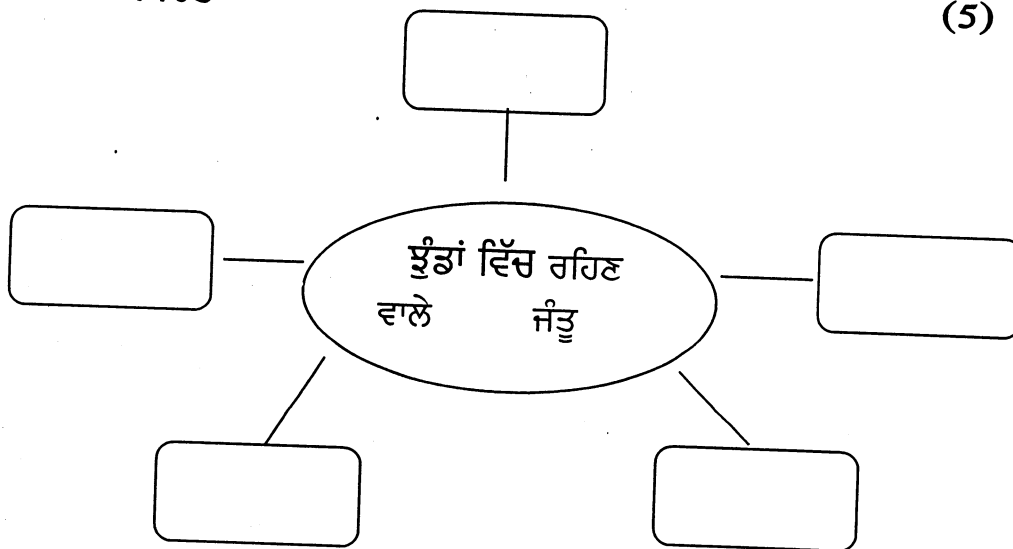
8. ਸੂਚੀ ਬਣਾਓ :-

ਅੰਕ = 10

| ਲੜੀ ਨੰਬਰ | ਰੁੱਖ ਦਾ ਨਾਂ | ਕੀ ਕੋਈ ਇਸ ਦੀ ਦੇਖਭਾਲ ਕਰਦਾ ਹੈ ? | ਇਸਦੇ ਫਲ ਕੌਣ ਖਾਂਦਾ ਹੈ ? |
|----------|-------------|-------------------------------|------------------------|
| | | | |

9. ਦਿਮਾਗੀ ਕਸਰਤ

(5)



9. ਬੁਝਾਰਤਾਂ ਬੁੱਝੋ :-

ਅੰਕ = 6

(1) ਕਟੋਰੇ 'ਚ ਕਟੋਰਾ, ਬੇਟਾ ਬਾਪ ਤੋਂ ਵੀ ਗੋਰਾ

(2) ਨਿੱਕਾ ਜਿਹਾ ਸਿਪਾਹੀ, ਉਹਦੀ ਖਿੱਚ ਕੇ ਵਰਦੀ ਲਾਹੀ

(3) ਹਰੀ ਹਰੀ ਲਾਲ ਲਾਲ, ਲੱਗਦੀ ਸੀ ਸੋਹਣੀ
ਮੂੰਹ ਵਿੱਚ ਪਾ ਲਈ, ਹੋਈ ਬੜੀ ਅਣਹੋਣੀ