

SA-1 ਮੁਲਾਂਕਣ ਸਤੰਬਰ-2014

ਜਮਾਤ ਚੌਥੀ ਵਿਸ਼ਾ: ਗਣਿਤ

ਨਾਂ.....

ਸਕੂਲ ਦਾ ਨਾਂ.....

ਮਿਤੀ.....ਰੋਲ ਨੰ.....

ਸਮਾਂ: 2 ਘੰਟੇ

ਕੁੱਲ ਅੰਕ: 90

ਪ੍ਰਾਪਤ ਅੰਕ:

1. ਸਹੀ ਉੱਤਰ 'ਤੇ (✓) ਨਿਸ਼ਾਨ ਲਗਾਓ :-


2 × 10 = 20

ੳ) ਇੱਕ ਇੱਟ ਦੀਆਂ ਕਿੰਨੀਆਂ ਸਤ੍ਹਾਵਾਂ ਹੁੰਦੀਆਂ ਹਨ ?

6

8

9



ਅ) 100 ਅਤੇ 200 ਦੇ ਬਿਲਕੁਲ ਵਿਚਕਾਰ ਆਉਣ ਵਾਲੀ ਸੰਖਿਆ

160

150

140

ੲ) ਇੱਕ ਡੱਬੀ ਵਿੱਚ 12 ਪੈਨਸਲਾਂ ਹਨ ਤਾਂ ਅਜਿਹੀਆਂ 6 ਡੱਬੀਆਂ ਵਿੱਚ ਕਿੰਨੀਆਂ ਪੈਨਸਲਾਂ ਆਉਣਗੀਆਂ ?

52

62

72

ਸ) ਹੇਠਾਂ ਦਿੱਤੀਆਂ ਸੰਖਿਆਵਾਂ ਵਿੱਚੋਂ ਕਿਹੜੀਆਂ ਸੰਖਿਆਵਾਂ ਦਾ ਅੰਤਰ 25 ਹੈ ?

1. 150-135

2. 145-120

ਹ) ਹੇਠਾਂ ਦਿੱਤੀਆਂ ਘੜੀਆਂ ਵਿੱਚੋਂ ਕਿਹੜੀ ਘੜੀ 'ਤੇ 6 ਵੱਜ ਕੇ 20 ਮਿੰਟ ਹਨ ?



ਕ) ਅੱਧਾ ਲੀਟਰ ਬਰਾਬਰ ਹੁੰਦਾ ਹੈ-

250 ਮਿ.ਲੀ.

700 ਮਿ.ਲੀ.

500 ਮਿ.ਲੀ.

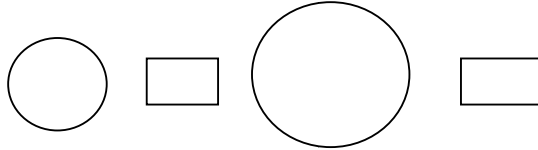
ਖ) 150 ਰੁਪਏ ਵਿੱਚ 10 ਰੁਪਏ ਦੇ ਕਿੰਨੇ ਨੋਟ ਹੋ ਸਕਦੇ ਹਨ ?

15

10

25

ਗ) ਅੰਦਾਜ਼ਾ ਲਗਾਉ ਕਿਸ ਚੱਕਰ ਦਾ ਅਰਧ ਵਿਆਸ ਵੱਡਾ ਹੈ ?



ਘ) ਸਤੰਬਰ ਮਹੀਨੇ ਵਿੱਚ ਕਿੰਨੇ ਦਿਨ ਹੁੰਦੇ ਹਨ ?

31

30

28

ਙ) ਹੇਠਾਂ ਲਿਖਿਆਂ ਵਿੱਚੋਂ ਕਿਸ ਨਾਲ AM ਆਵੇਗਾ ?

8:30 ਸਵੇਰ


8:30 ਰਾਤ

4 ਵਜੇ ਸ਼ਾਮ

ਹੱਲ ਕਰੋ:

10×5=50

2. ਹੇਠਾਂ ਦਿੱਤੇ ਡੱਬੇ ਦੀ ਉਚਾਈ, ਲੰਬਾਈ ਅਤੇ ਚੌੜਾਈ ਮਾਪ ਕੇ ਖਾਲੀ ਥਾਵਾਂ ਭਰੋ ?



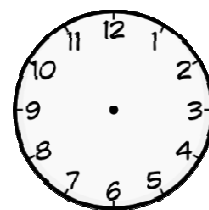
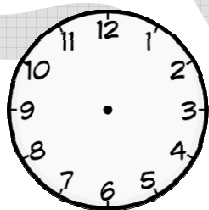
1. ਲੰਬਾਈ BC ਸੈ.ਮੀ.

2. ਚੌੜਾਈ AF ਸੈ.ਮੀ.

3. ਉਚਾਈ AB ਸੈ.ਮੀ.

3. ਇੱਕ ਛੋਟੇ ਕਮਰੇ ਦੀ ਇੱਕ ਦੀਵਾਰ ਬਣਾਉਣ 'ਤੇ 850 ਇੱਟਾਂ ਲਗਦੀਆਂ ਹਨ ਤਾਂ ਕਮਰੇ ਦੀਆਂ ਚਾਰ ਦੀਵਾਰਾਂ ਬਣਾਉਣ ਲਈ ਕੁੱਲ ਕਿੰਨੀਆਂ ਇੱਟਾਂ ਚਾਹੀਦੀਆਂ ਹਨ ?

4. ਹੇਠਾਂ ਦਿੱਤੀਆਂ ਘੜੀਆਂ ਵਿੱਚ ਸਵੇਰ ਦੀ ਸਭਾ ਸ਼ੁਰੂ ਹੋਣ ਅਤੇ ਅੱਧੀ ਛੁੱਟੀ ਬੰਦ ਹੋਣ ਦਾ ਸਮਾਂ ਦਰਸਾਓ



5. 450 ਮੀਟਰ + 450 ਮੀਟਰ + 250 ਮੀਟਰ + 200 ਮੀਟਰ = _____

6. ਹੇਠਾਂ ਦਿੱਤੀਆਂ ਤਾਰੀਖਾਂ ਨੂੰ ਸ਼ਬਦਾਂ ਵਿੱਚ ਲਿਖੋ -

ੳ) 5/9/2014

ਅ) 15/8/2012

ੲ) 27/4/2011

7. ਅੰਕਾਂ ਵਿੱਚ ਲਿਖੋ -

ੳ) ਛੇ ਨਵੰਬਰ ਉੱਨੀ ਸੌ ਚਹੱਤਰ

ਅ) ਉੱਨਤੀ ਅਗਸਤ ਉੱਨੀ ਸੌ ਛਿਹੱਤਰ

8. ਮਨਜੀਤ ਨੇ ਆਪਣੇ ਜਨਮ ਦਿਨ 'ਤੇ ਜਮਾਤ ਦੇ ਕੁੱਲ 35 ਬੱਚਿਆਂ ਨੂੰ 2 ਟਾਫੀਆਂ , 1 ਪੈਨਸਲ ਅਤੇ 4 ਬਿਸਕੁਟ ਦਿੱਤੇ। ਦੱਸੋ ਉਸਨੇ ਕੁੱਲ ਕਿੰਨੀਆਂ ਟਾਫੀਆਂ , ਪੈਨਸਲਾਂ ਅਤੇ ਬਿਸਕੁਟ ਵੰਡੇ ?

9. ੳ) ਗੁਣਨਫਲ ਪਤਾ ਕਰੋ-

$$567 \times 45 = \underline{\hspace{2cm}}$$

ਅ) ਭਾਗ ਕਰੋ -

$$8979 \text{ ਨੂੰ } 9 \text{ ਨਾਲ } \underline{\hspace{2cm}}$$

10. ਪ੍ਰਕਾਰ ਦੀ ਸਹਾਇਤਾ ਨਾਲ ਚੱਕਰ ਬਣਾਓ ਅਤੇ ਫੁੱਟੇ ਦੀ ਸਹਾਇਤਾ ਨਾਲ ਇਸਦਾ ਵਿਆਸ ਲਿਖੋ।

11. ੳ) $451 - 239 = \dots\dots\dots$

ਅ) $789 + 679 = \dots\dots\dots$

12 . ਪ੍ਰਯੋਗੀ ਕਿਰਿਆਵਾਂ :

2×5=10

ੳ) 2,3,4 ਅੰਕਾਂ ਦੇ ਫਲੈਸ਼ ਕਾਰਡ ਨਾਲ ਛੋਟੀ/ਵੱਡੀ ਸੰਖਿਆ ਬਣਾਉਣ ਨੂੰ ਕਰੋ।

ਅ) ਤਿੰਨ ਅੰਕਾਂ ਵਾਲਾ ਟਰੇਡਿੰਗ ਕਾਰਡ ਦਿਖਾ ਕੇ ਉਹਨੇ ਹੀ ਰੁਪਏ ਚੁੱਕਣ ਨੂੰ ਕਰੋ।

ੲ) ਜੀਓ ਬੋਰਡ 'ਤੇ ਆਇਤ ਬਣਾ ਕੇ ਦਿਖਾਓ।

ਸ) ਕੈਲੰਡਰ ਦਿਖਾ ਕੇ ਅਧਿਆਪਕ ਦਿਵਸ ਹਫ਼ਤੇ ਦੇ ਕਿਸ ਦਿਨ ਆ ਰਿਹਾ ਹੈ, ਬਾਰੇ ਪੁੱਛੋ।

ਹ) ਅਧਿਆਪਕ ਕਾਗਜ਼ ਦਾ ਚੱਕਰ ਕੱਟ ਕੇ ਵਿਆਸ ਜਾਂ ਅਰਧ ਵਿਆਸ ਬਾਰੇ ਪੁੱਛੋ।

13. 13 ਅਤੇ 17 ਦਾ ਪਹਾੜਾ ਬੱਚਿਆਂ ਤੋਂ ਸੁਣੋ ।

2×5=10