

ਵਿਦਿਆਰਥੀ ਦਾ ਨਾਂ :
 ਰੋਲ ਨੰਬਰ :
 ਜਮਾਤ :
 ਸਕੂਲ ਦਾ ਨਾਂ :
 ਜ਼ਿਲ੍ਹਾ :

ਪਹਾੜਿਆਂ ਦੇ ਲਿਖਤੀ ਪ੍ਰੀਲਿਮਨਰੀ ਮੁਲਾਂਕਣ ਦਾ ਨਮੂਨਾ
ਜਮਾਤ - ਅੱਠਵੀਂ

ਸਮਾਂ: 20 ਮਿੰਟ

ਕੁੱਲ ਅੰਕ: 20

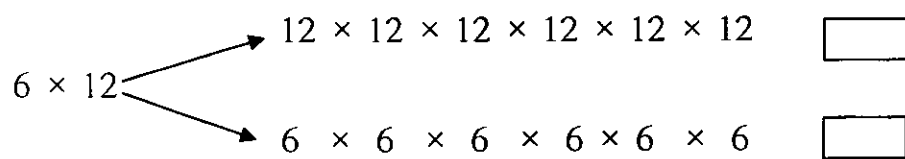
- 19 ਦਾ ਵਰਗ ਦੱਸੋ।
- 12 ਦਾ ਘਣ ਦੱਸੋ।
- ਮਿਲਾਣ ਕਰੋ:-

<u>ਵਰਗ</u>	<u>ਸੰਖਿਆ</u>
225	18
169	14
324	15
196	13

- 17 × = 238
- 361 ਕਿਸ ਸੰਖਿਆ ਦਾ ਵਰਗ ਹੈ।
- 9 ਦੇ ਦੋਹਰੇ ਪਹਾੜੇ ਦੇ ਆਖਰੀ ਤਿੰਨ ਗੁਣਜ ਲਿਖੋ। _____
- 13 ਦੇ ਪਹਿਲੇ ਪੰਜ ਗੁਣਜ ਲਿਖੋ। _____
- 238 ਕਿਹੜੇ ਪਹਾੜੇ ਵਿੱਚ ਆਉਂਦਾ ਹੈ ਜਿਸ ਦੇ ਅੰਕਾਂ ਦਾ ਜੋੜ 8 ਹੋਵੇ। _____
- ਮਿਲਾਣ ਕਰੋ:-

<u>ਸੰਖਿਆ</u>	<u>ਘਣ</u>
16	1331
14	2744
19	4096
11	6859

- 11 ਦਾ 16ਵਾਂ ਗੁਣਜ ਦੱਸੋ।
- ਸਹੀ ਉੱਤਰ ਲਈ ✓ ਦਾ ਨਿਸ਼ਾਨ ਲਗਾਉ।

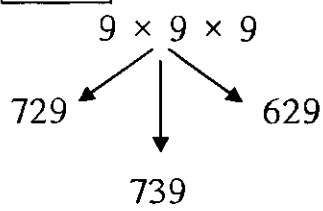


- 15 ਦੇ ਘਣ ਨਾਲ ਬਣੀ ਸੰਖਿਆ ਵਿੱਚ ਕਿੰਨੇ ਅੰਕ ਹੁੰਦੇ ਹਨ।
- 84 ਕਿਹੜੇ-ਕਿਹੜੇ ਪਹਾੜੇ ਵਿੱਚ ਆਉਂਦਾ ਹੈ। ਕੋਈ ਦੋ ਪਹਾੜੇ ਦੱਸੋ। _____

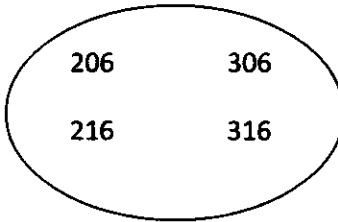
14. 2 ਅਤੇ 3 ਦੇ ਪਹਾੜੇ ਦੇ ਕਿਹੜੇ ਗੁਣਜ 6 ਦੇ ਪਹਾੜੇ ਦੇ ਗੁਣਜ ਹਨ। _____

15. $3 \times 12 \times 0 \times 4 =$

16. ਸਹੀ ਤੇ \bigcirc ਲਗਾਉ



17. 18 ਦੇ 17ਵੇਂ ਗੁਣਜ ਤੇ \triangle ਲਗਾਉ।



18. ਜੇਕਰ 8 ਪੈਂਨਸਲਾਂ ਦਾ ਮੁੱਲ 8 ਰੁਪਏ ਹੈ ਤਾਂ 16 ਪੈਂਨਸਲਾਂ ਦਾ ਮੁੱਲ ਦੱਸੋ।

19. 1728 ਕਿਸ ਸੰਖਿਆ ਦਾ ਘਣ ਹੈ।

20. ਜੇਕਰ ਇੱਕ ਕਮਰੇ ਦੀ ਲੰਬਾਈ 17 ਮੀਟਰ ਹੈ ਅਤੇ ਚੌੜਾਈ ਇਸਦੀ ਲੰਬਾਈ ਦੇ ਬਰਾਬਰ ਹੈ ਤਾਂ ਕਮਰੇ ਦਾ ਖੇਤਰਫਲ ਦੱਸੋ।