

ਵਿਦਿਆਰਥੀ ਦਾ ਨਾਂ :
 ਰੋਲ ਨੰਬਰ :
 ਜਮਾਤ :
 ਸਕੂਲ ਦਾ ਨਾਂ :
 ਜ਼ਿਲ੍ਹਾ :

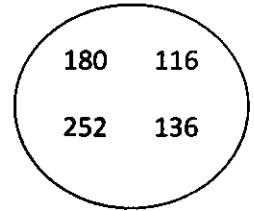
ਪਹਾੜਿਆਂ ਦੇ ਲਿਖਤੀ ਪ੍ਰੀਲਿਮਨਰੀ ਮੁਲਾਂਕਣ ਦਾ ਨਮੂਨਾ
ਜਮਾਤ - ਛੇਵੀਂ ਅਤੇ ਸੱਤਵੀਂ

ਸਮਾਂ: 20 ਮਿੰਟ

ਕੁੱਲ ਅੰਕ: 20

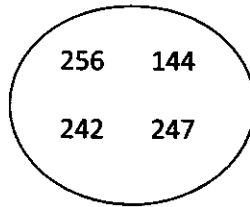
1. $17 \times 9 =$

2. ਦਿੱਤੇ ਚੱਕਰ ਵਿੱਚ 15 ਦੇ ਪਹਾੜੇ ਵਾਲੀ ਸੰਖਿਆਂ ਤੇ ਲਗਾਉ।



3. ਸੰਖਿਆ 39 ਕਿਹੜੇ ਪਹਾੜੇ ਵਿੱਚ ਆਉਂਦੀ ਹੈ? ਕੋਈ ਇੱਕ ਪਹਾੜਾ ਦੱਸੋ। _____

4. 12 ਦੇ ਗੁਣਜ ਤੇ Δ ਬਣਾਉ।



5. $17 \times$ $= 323$

6. 19 ਦੇ ਪਹਿਲੇ ਪੰਜ ਗੁਣਜ ਲਿਖੋ। _____

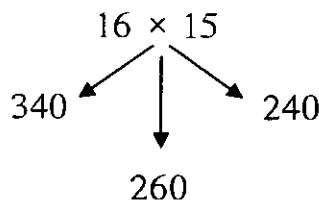
7. 108 ਕਿਸ ਪਹਾੜੇ ਵਿੱਚ ਆਉਂਦਾ ਹੈ ਜਿਸ ਦੇ ਅੰਕਾਂ ਦਾ ਜੋੜ 3 ਹੋਵੇ।

8. 90 ਕਿਹੜੇ ਪਹਾੜੇ ਵਿੱਚ ਆਉਂਦਾ ਹੈ? ਕੋਈ ਇੱਕ ਪਹਾੜਾ ਦੱਸੋ। _____

9. 5 ਦੇ ਪਹਾੜੇ ਦਾ ਉਹ ਗੁਣਜ ਦੱਸੋ ਜੋ 20 ਦੇ ਪਹਾੜੇ ਦਾ ਗੁਣਜ ਵੀ ਹੈ। _____

10. 18 ਦੇ ਦੋਹਰੇ ਪਹਾੜੇ ਦੇ ਆਖਰੀ 2 ਗੁਣਜ ਲਿਖੋ। _____

11. ਸਹੀ ਤੇ ਲਗਾਉ



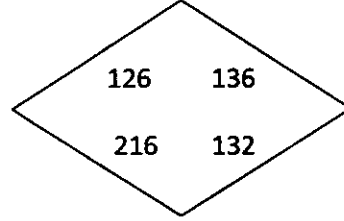
12. 13 ਦਾ 19ਵਾਂ ਗੁਣਜ ਦੱਸੋ।

13. ਇੱਕ ਕਾਪੀ ਦਾ ਮੁੱਲ 9 ਰੁਪਏ ਹੋਵੇ ਤਾਂ 16 ਕਾਪੀਆਂ ਦਾ ਮੁੱਲ ਦੱਸੋ।

14. $5 \times 7 \times 0 \times 8 =$

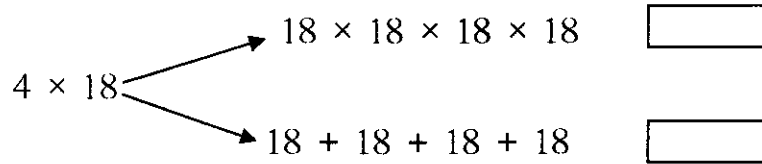
15. 8 ਕਿਤਾਬਾਂ ਦਾ ਮੁੱਲ 152 ਰੁਪਏ ਹੈ ਇੱਕ ਕਿਤਾਬ ਦਾ ਮੁੱਲ ਦੱਸੋ।

16. 7 ਦੇ 18ਵੇਂ ਗੁਣਜ ਤੇ \bigcirc ਲਗਾਉ।



17. 91 ਕਿਸ ਪਹਾੜੇ ਵਿੱਚ ਆਉਂਦਾ ਹੈ ਜਿਸ ਦੇ ਅੰਕਾਂ ਦਾ ਜੋੜ 4 ਹੋਵੇ। _____

18. ਸਹੀ ਉੱਤਰ ਲਈ v ਦਾ ਨਿਸ਼ਾਨ ਲਗਾਉ।



19. ਦੋ ਪੈਨਾਂ ਦਾ ਮੁੱਲ 20 ਰੁਪਏ ਹੈ, 16 ਪੈਨਾਂ ਦਾ ਮੁੱਲ ਦੱਸੋ।

20. 3 ਦੇ ਪਹਾੜੇ ਦੇ ਉਹ ਗੁਣਜ ਦੱਸੋ ਜੋ 6 ਦੇ ਪਹਾੜੇ ਦੇ ਗੁਣਜ ਹਨ। _____