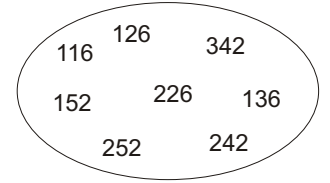


# ਪਹਾੜਿਆਂ ਦਾ ਲਿਖਤੀ ਟੈਸਟ

1  $19 \times 9 =$

2 ਦਿੱਤੇ ਚੱਕਰ ਵਿੱਚ 18 ਦੇ ਪਹਾੜੇ ਵਾਲੀ ਸੰਖਿਆਂ ਤੇ  $\triangle$  ਲਗਾਉ

3 ਦਿੱਤੇ ਚੱਕਰ ਵਿੱਚ 28 ਦੇ ਪਹਾੜੇ ਵਾਲੀ ਸੰਖਿਆਂ ਤੇ  $\circ$  ਲਗਾਉ



4 253 ਕਿਸ ਪਹਾੜੇ ਦੀ ਸੰਖਿਆ ਹੈ ?

5 89 ਕਿਸ ਪਹਾੜੇ ਵਿੱਚ ਆਉਂਦਾ ਹੈ ?

6 21 ਦਾ ਘਣ ਲਿਖੋ

7 29 ਦਾ ਵਰਗ ਲਿਖੋ

8 ਮਿਲਾਣ ਕਰੋ

ਵਰਗ	ਸੰਖਿਆ
169	18
225	14
196	13
324	15

9 27 ਦੇ ਘਣ ਨਾਲ ਬਣੀ ਸੰਖਿਆ ਵਿੱਚ ਕਿੰਨੇ ਅੰਕ ਹੁੰਦੇ ਹਨ

10 91 ਕਿਸ ਪਹਾੜੇ ਵਿੱਚ ਆਉਂਦਾ ਹੈ ਜਿਸਦੇ ਅੰਕਾਂ ਦਾ ਜੋੜ 4 ਹੋਵੇ

11  $13 \times$    $= 247$

12 ਦੋ ਸੰਖਿਆਵਾਂ ਦਾ ਜੋੜਫਲ 36 ਹੈ । ਇੱਕ ਸੰਖਿਆ ਦੂਸਰੀ ਨਾਲੋਂ ਦੁਗਣੀ ਹੈ  ਸੰਖਿਆਵਾਂ ਦਸੋ ।

13 9 ਨੂੰ ਕਿਹੜੀਆਂ ਕਿਹੜੀਆਂ ਸੰਖਿਆਵਾਂ ਨਾਲ ਗੁਣਾ ਕਰੀਏ ਕਿ ਉਹਨਾਂ ਦੇ ਗੁਣਨਫਲ ਦੇ ਅੰਕਾਂ ਦਾ ਜੋੜ ਵੀ 9 ਹੋਵੇ

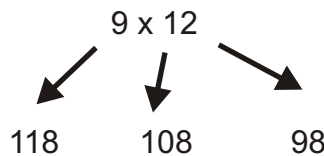
14 361 ਕਿਸ ਸੰਖਿਆ ਦਾ ਵਰਗ ਹੈ

15 2197 ਕਿਸ ਸੰਖਿਆ ਦਾ ਘਣ ਕੀ ਹੈ

16 16 ਦੇ ਪਹਿਲੇ 5 ਗੁਣਜ ਲਿਖੋ।

17 ਕਿਹੜੀ ਜਿਸਤ ਸੰਖਿਆ ਦਾ ਘਣ 216 ਹੈ

18 ਸਹੀ ਤੇ  $\circ$  ਲਗਾਉ

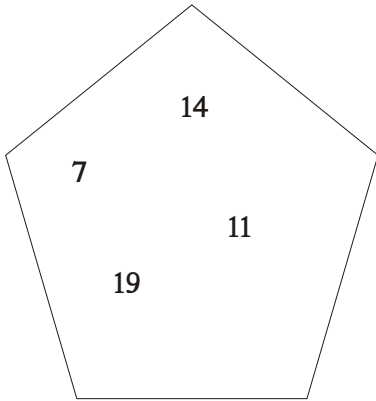


19 60 ਕਿਹੜੇ-ਕਿਹੜੇ ਪਹਾੜੇ ਵਿੱਚ ਆਉਂਦਾ ਹੈ । \_\_\_\_\_

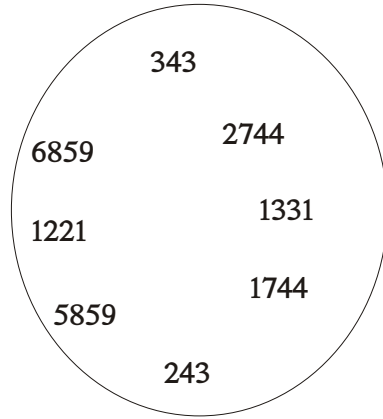
20 ਕਿ 2 ਅਤੇ 3 ਦੇ ਪਹਾੜੇ ਦੇ ਗੁਣਜ 6 ਦੇ ਪਹਾੜੇ ਦੇ ਗੁਣਜ ਹਨ ।

21 15 ਦੇ ਦੁਹਰੇ ਪਹਾੜੇ ਦੇ ਆਖਰੀ 5 ਗੁਣਜ ਲਿਖੋ ।

22 ਸੰਖਿਆ ਦਾ ਘਣ =



ਸੰਖਿਆ

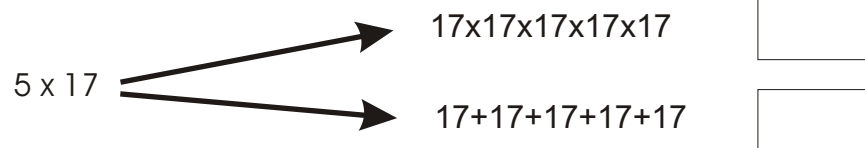


ਘਣ ਲਭੇ



ਉੱਤਰ ਲਿਖੋ

23 ਸਹੀ ਉੱਤਰ ਲਈ ਖਾਨੇ ਤੇ ਨਿਸ਼ਾਨ ਲਗਾਉ



24  $3 \times 4 \times 5 \times 6 \times 7 \times 0 =$

25 7 ਦਾ 14ਵਾਂ ਗੁਣਜ ਲਿਖੋ