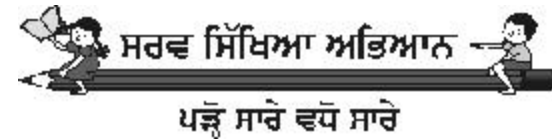


ਸਰਵ ਸਿੱਖਿਆ ਅਭਿਆਨ
ਪੰਜਵੀਂ ਸ਼੍ਰੇਣੀ
ਮਾਡਲ ਟੈਸਟ ਪੇਪਰ

2009-10



ਸਰਵ ਸਿੱਖਿਆ ਅਭਿਆਨ ਅਥਾਰਟੀ ਪੰਜਾਬ

ਐਸ. ਸੀ. ਓ. 104-106, ਦੂਜੀ ਅਤੇ ਤੀਜੀ ਮੰਜਿਲ

ਸੈਕਟਰ 34 ਏ ਚੰਡੀਗੜ੍ਹ 160034

ਫੋਨ : 0172-2624673, 2621106, ਫੈਕਸ : 0172-2624687, 2623206

ਹੈਲਪਲਾਈਨ: 0172-6541673

**ਸਰਵ ਸਿੱਖਿਆ ਅਭਿਆਨ, ਮਾਡਲ ਟੈਸਟ ਪੇਪਰ
ਜਮਾਤ ਪੰਜਵੀਂ, ਗਣਿਤ-A**

ਸਮਾਂ: 2 ਘੰਟੇ

ਕੁੱਲ ਅੰਕ: 100

ਪ੍ਰ.1 ਖਾਲੀ ਥਾਵਾਂ ਭਰੋ:- (10×2=20)

i) LXV ਦੀ ਹਿੰਦੂ ਅਰੇਬਿਕ ਸੰਖਿਆ ਹੈ।

ii) 62 ਦਾ ਰੋਮਨ ਅੰਕ ਹੈ।

iii) $15 \times 10 \times 10 =$

iv) 12 ਅਤੇ 18 ਦਾ ਮ.ਸ.ਵ. ਹੈ।

v) $2 \times 3 \times 0 =$

vi) $\frac{18}{20}$ ਦਾ ਨਿਊਨਤਮ ਰੂਪ ਹੈ।

vii) $\frac{3}{2} - \frac{1}{2} =$

viii) $2.74 \times 10 =$

ix) ਖਰੀਦ ਮੁੱਲ - ਵੇਚਮੁੱਲ =

x) ਘਣਾਵ ਦਾ ਆਇਤਨ =

ਪ੍ਰ.2 ਹੇਠਾਂ ਲਿਖੇ ਹਰ ਸਵਾਲ ਦੇ ਤਿੰਨ ਉੱਤਰ ਦਿੱਤੇ ਹਨ। ਸਹੀ ਉੱਤਰ ਉੱਤੇ (✓) ਦਾ ਨਿਸ਼ਾਨ ਲਗਾਓ? (10×2=20)

1) $\frac{3}{13} \div \frac{4}{39}$ ਦਾ ਨਿਊਨਤਮ ਰੂਪ ਕੀ ਹੈ?

i) $2\frac{1}{4}$ ii) $1\frac{1}{4}$ iii) $3\frac{1}{4}$

2) $\frac{2}{5}$ ਦਾ % ਰੂਪ ਕੀ ਹੈ?

i) 20% ii) 60% iii) 40%

- 3) $0.042+3.1+8=$?
 i) 13.242 ii) 11.142 iii) 8.321
- 4) 8 ਕਿ.ਮੀ. 875 ਮੀ. ਨੂੰ ਕਿ.ਮੀ. ਵਿੱਚ ਬਦਲੋ।
 i) 0.75 ii) 8.75 ਕਿ.ਮੀ. iii) 8.875 ਕਿ.ਮੀ.
- 5) ਤ੍ਰਿਭੁਜ ਦੇ ਦੋ ਕੋਣ 70° ਅਤੇ 30° ਹਨ ਤਾਂ ਤ੍ਰਿਭੁਜ ਦਾ ਤੀਸਰਾ ਕੋਣ ਕੀ ਹੋਵੇਗਾ?
 i) 90° ii) 45° iii) 80°
- 6) ਚੱਕਰ ਦਾ ਘੇਰਾ ਪਤਾ ਕਰੋ ਜਿਸ ਦਾ ਅਰਧ ਵਿਆਸ 3.5 ਸੈ.ਮੀ. ਹੋਵੇ?
 i) 8.2 ਸੈ.ਮੀ. ii) 22 ਸੈ.ਮੀ. iii) 350 ਸੈ.ਮੀ.
- 7) ਵੇਚ ਮੁੱਲ ਪਤਾ ਕਰੋ ਜੇਕਰ ਖਰੀਦ ਮੁੱਲ=1620 ਰੁਪਏ, ਹਾਨੀ=160 ਰੁਪਏ ਹੋਵੇ।
 i) 1600 ਰੁ. ii) 1460 ਰੁ. iii) 1780 ਰੁ.
- 8) $\frac{3}{2} \times \frac{4}{7} \times \frac{2}{9} =$
 i) $\frac{9}{18}$ ii) $\frac{12}{63}$ iii) $\frac{24}{14}$
- 9) ਆਇਤ ਦਾ ਪਰਿਮਾਪ ਪਤਾ ਕਰੋ ਜਿਸ ਦੀ ਲੰਬਾਈ 4.2 ਮੀਟਰ, ਚੌੜਾਈ 2.4 ਮੀ. ਹੈ।
 i) 13.8 ii) 13.2 ਮੀ. iii) 1.12 ਮੀ.
- 10) $2054 \times 72 =$
 i) 147081 ii) 119321 iii) 147888

ਪ੍ਰ.3 ਕੋਈ ਛੇ ਸਵਾਲ ਕਰੋ:- (6×3=18)

- i) ਇਕ ਬਕਸੇ ਵਿੱਚ 265 ਪੈਨ ਆਉਂਦੇ ਹਨ। 43725 ਪੈਨਾਂ ਵਾਸਤੇ ਕਿੰਨੇ ਬਕਸਿਆਂ ਦੀ ਲੋੜ ਹੈ?
- ii) 45 ਦੇ ਅਭਾਜ ਗੁਣਨਖੰਡ ਲਿਖੋ।
- iii) $\frac{3}{4}$ ਅਤੇ $\frac{9}{12}$ ਦਾ ਜੋੜ ਪਤਾ ਕਰੋ।

- iv) ਓ) ਸ਼ਬਦਾਂ ਵਿੱਚ ਲਿਖੋ:- 96096
 ਅ) ਅੰਕਾਂ ਵਿੱਚ ਲਿਖੋ:- ਅੱਸੀ ਹਜ਼ਾਰ ਇੱਕਤੀ
- v) ਚੱਕਰ ਦਾ ਘੇਰਾ ਪਤਾ ਕਰੋ ਜਿਸ ਦਾ ਵਿਆਸ 8.4 cm. ਹੋਵੇ?
- vi) ਕੋਣ ਮਾਪਕ ਦੀ ਸਹਾਇਤਾ ਨਾਲ 75° ਦਾ ਕੋਣ ਬਣਾਓ?
- vii) $3\frac{2}{5}$ ਨੂੰ 4 ਨਾਲ ਭਾਗ ਕਰੋ? ਉੱਤਰ ਨੂੰ ਨਿਉਨਤਮ ਰੂਪ ਵਿੱਚ ਲਿਖੋ?
- viii) ਜੋਹਨ ਨੇ ਹਿੰਦੀ ਵਿੱਚ 30, ਅੰਗ੍ਰੇਜ਼ੀ ਵਿੱਚ 50, ਗਣਿਤ ਵਿੱਚ 45, ਸਾਇੰਸ ਵਿੱਚ 72 ਅੰਕ ਪ੍ਰਾਪਤ ਕੀਤੇ ਇਹਨਾਂ ਅੰਕੜਿਆਂ ਨੂੰ ਸਾਰਣੀ ਦੇ ਰੂਪ ਵਿੱਚ ਦਰਸਾਓ

ਪ੍ਰ.4 ਕੋਈ ਸੱਤ ਸਵਾਲ ਕਰੋ:- (7×3=21)

- i) 3 ਕਿ.ਗ੍ਰਾ. 450 ਗ੍ਰਾ. ਨੂੰ 7 ਕਿ.ਲੋ.ਗ੍ਰਾ. ਵਿੱਚੋਂ ਘਟਾਓ?
- ii) 0.192 ਨੂੰ 12 ਨਾਲ ਭਾਗ ਕਰੋ?
- iii) $\frac{7}{2} + \frac{9}{4} + \frac{3}{16} =$
- iv) 60, 135, 175 ਦਾ ਭਾਗ ਵਿਧੀ ਨਾਲ ਮ.ਸ.ਵ. ਪਤਾ ਕਰੋ?
- v) ਇਕ ਵਰਦੀ ਦਾ ਮੁੱਲ 645 ਰੁਪਏ ਹੈ ਤਾਂ 56 ਵਰਦੀਆਂ ਦਾ ਮੁੱਲ ਪਤਾ ਕਰੋ?
- vi) $72681 \div 53$ ਭਾਗਫਲ ਅਤੇ ਬਾਕੀ ਪਤਾ ਕਰੋ ਉੱਤਰ ਦੀ ਪੜਤਾਲ ਵੀ ਕਰੋ?
- vii) ਇਕ ਆਇਤਾਕਾਰ ਖੇਤ ਦੀ ਲੰਬਾਈ ਅਤੇ ਚੌੜਾਈ ਕ੍ਰਮਵਾਰ 250 ਮੀ. ਅਤੇ 200 ਮੀ. ਹੈ। ਖੇਤ ਦੇ ਸਾਰੇ ਪਾਸੇ ਵਾੜ ਲਗਾਉਣ ਲਈ ਲੋੜੀਂਦੀ ਤਾਰ ਦੀ ਲੰਬਾਈ ਪਤਾ ਕਰੋ।
- viii) 5 ਲੀਟਰ ਰਿਫਾਇੰਡ ਤੇਲ ਦੀ ਕੀਮਤ 475 ਰੁਪਏ ਹੈ ਤਾਂ 3 ਲੀਟਰ ਤੇਲ ਦਾ ਮੁੱਲ ਪਤਾ ਕਰੋ?

ਪ੍ਰ.5 ਕੋਈ ਦੋ ਸਵਾਲ ਕਰੋ:- (2×5=10)

- i) ਇੱਕ ਪਰਿਵਾਰ ਇਕ ਮਹੀਨੇ ਵਿੱਚ 10 ਕਿਲੋਗ੍ਰਾਮ 750 ਗ੍ਰਾਮ ਕਣਕ, 4 ਕਿਲੋਗ੍ਰਾਮ 500 ਗ੍ਰਾਮ ਚਾਵਲਾਂ ਦੀ ਖਪਤ ਹੁੰਦੀ ਹੈ ਕਣਕ ਅਤੇ ਚਾਵਲ ਦੀ ਖਪਤ ਦਾ ਅੰਤਰ ਪਤਾ ਕਰੋ?

- ii) ਇਕ ਲੜਕਾ ਸਵੇਰੇ 7.30 ਵਜੇ ਸਕੂਲ ਜਾਂਦਾ ਹੈ ਅਤੇ ਵਾਪਸ ਘਰ ਦੁਪਹਿਰ 2.45 ਵਜੇ ਆਉਂਦਾ ਹੈ। ਲੜਕਾ ਕਿੰਨਾ ਸਮਾਂ ਘਰ ਤੋਂ ਬਾਹਰ ਰਹਿੰਦਾ ਹੈ?
- iii) ਇਕ ਕਮਰੇ ਦੇ ਫਰਸ਼ ਨੂੰ ਢਕਣ ਲਈ ਲੋੜੀਂਦੇ ਕਾਲੀਨ ਦਾ ਖੇਤਰਫਲ ਪਤਾ ਕਰੋ। ਜਿਸਦੀ ਲੰਬਾਈ 4.8 ਮੀ. ਚੌੜਾਈ 3.2 ਮੀ. ਹੈ?

ਪ੍ਰ.6 ਸਾਰੇ ਸਵਾਲ ਜ਼ਰੂਰੀ ਹਨ।

- 1) ਇਕ ਸਾਬਣ ਦੀ ਟਿੱਕੀ ਦੀ ਲੰਬਾਈ, ਚੌੜਾਈ ਅਤੇ ਉਚਾਈ ਕ੍ਰਮਵਾਰ 5 ਸੈ.ਮੀ., 3 ਸੈ.ਮੀ. ਅਤੇ 2 ਸੈ.ਮੀ. ਹੈ। ਗੱਤੇ ਦਾ ਇਕ ਘਣਾਵ ਆਕਾਰ ਦਾ ਡੱਬਾ ਜਿਸ ਦੀ ਲੰਬਾਈ ਚੌੜਾਈ ਅਤੇ ਉਚਾਈ 25 ਸੈ.ਮੀ., 9 ਸੈ.ਮੀ. ਅਤੇ 8 ਸੈ.ਮੀ. ਹੈ ਵਿੱਚ ਅਜਿਹੀਆਂ ਕਿੰਨੀਆਂ ਟਿੱਕੀਆਂ ਰੱਖੀਆਂ ਜਾ ਸਕਦੀਆਂ ਹਨ? (5)
- 2) ਚਿੱਤਰ ਚਿੰਨ੍ਹ ਦਾ ਅਧਿਅਨ ਕਰੋ ਅਤੇ ਹੇਠਾਂ ਲਿਖੇ ਪ੍ਰਸ਼ਨਾਂ ਦਾ ਉੱਤਰ ਦਿਉ।
- ਸਚਿਨ
- ਰਾਹੁਲ
- ਯੁਵਰਾਜ
- ਕੈਫ਼
- ਇੱਕ ਚਿੰਨ੍ਹ = 10 ਦੌੜਾਂ (Runs) ਨੂੰ ਦਰਸਾਉਂਦਾ ਹੈ
- i) ਕਿਸ ਨੇ ਸਭ ਤੋਂ ਅਧਿਕ ਦੌੜਾਂ ਬਣਾਈਆਂ ਅਤੇ ਕਿੰਨੀਆਂ? (2)
- ii) ਯੁਵਰਾਜ ਅਤੇ ਕੈਫ਼ ਦੁਆਰਾ ਬਣਾਈਆਂ ਗਈਆਂ ਦੌੜਾਂ ਦੀ ਕੁੱਲ ਗਿਣਤੀ ਕਿੰਨੀ ਹੈ? (2)
- iii) ਰਾਹੁਲ ਅਤੇ ਕੈਫ਼ ਦੁਆਰਾ ਬਣਾਈਆਂ ਗਈਆਂ ਦੌੜਾਂ ਦਾ ਅੰਤਰ ਕਿੰਨਾ ਹੈ? (2)

ਸਰਵ ਸਿੱਖਿਆ ਅਭਿਆਨ, ਮਾਡਲ ਟੈਸਟ ਪੇਪਰ ਜਮਾਤ ਪੰਜਵੀਂ, ਗਣਿਤ-B

ਸਮਾਂ: 2 ਘੰਟੇ

ਕੁੱਲ ਅੰਕ: 100

ਪ੍ਰ.1 ਖਾਲੀ ਥਾਵਾਂ ਭਰੋ:-

(10×1=10)

- i) 8043 ਨੂੰ ਸ਼ਬਦਾਂ ਵਿੱਚ ਲਿਖੋ =
- ii) ਰੋਮਨ ਅੰਕਾਂ ਵਿੱਚ 54 ਲਿਖਿਆ ਜਾਵੇਗਾ =
- iii) 842 ਨੂੰ ਨੇੜੇ ਦੀ ਦਹਾਈ ਵਾਲੀ ਸੰਖਿਆ ਵਿੱਚ ਲਿਖੋ =
- iv) $45 \times 1000 = \dots\dots\dots$
- v) 3.58 ਨੂੰ ਭਿੰਨ ਦੇ ਰੂਪ ਵਿੱਚ ਲਿਖੋ =
- vi) $\frac{4}{11} \div \frac{4}{11} = \dots\dots\dots$
- vii) 1 ਘੰਟਾ = ਮਿੰਟ।
- viii) ਤਿਕੋਣ ਦੀਆਂ ਭੁਜਾਵਾਂ ਹੁੰਦੀਆਂ ਹਨ।
- ix) ਵਰਗ ਦਾ ਖੇਤਰਫਲ = \times ਭੁਜਾ।
- x) ਲਾਭ = ਵੇਚਮੁੱਲ -

ਪ੍ਰ.2 ਸਹੀ ਉੱਤਰ ਤੇ (✓) ਦਾ ਚਿੰਨ੍ਹ ਲਗਾਓ?

(10×2=20)

- 1) 25626 ਵਿੱਚ 5 ਦਾ ਸਥਾਨਕ ਮੁੱਲ ਹੋਵੇਗਾ :
- i) 5 ii) 500 iii) 5000
- 2) 32 ਦਾ $\frac{3}{4}$ ਭਾਗ
- i) 8 ii) 24 iii) 96
- 3) $\frac{5}{6} = \frac{10}{\dots}$
- i) 12 ii) 50 iii) 6

4) $\frac{4}{5} \times \frac{5}{7} \times \frac{7}{8} =$

- i) $\frac{1}{2}$ ii) $\frac{3}{2}$ iii) $\frac{5}{2}$

5) ਲੰਬਾਈ ਦੀ ਮੂਲ ਇਕਾਈ ਕੀ ਹੈ?

- i) ਮੀਟਰ ii) ਸੈਂਟੀਮੀਟਰ iii) ਕਿਲੋ ਮੀਟਰ

6) 5 ਘੰਟਿਆਂ ਵਿੱਚ ਹੁੰਦੇ ਹਨ :-

- i) 60 ਮਿੰਟ ii) 300 ਮਿੰਟ iii) 3600 ਮਿੰਟ

7) 8 ਘੰਟੇ 30 ਮਿੰਟ ਅਤੇ 2 ਘੰਟੇ 30 ਮਿੰਟ ਵਿੱਚ ਅੰਤਰ ਹੈ।

- i) 6 ਘੰਟੇ ii) 6 ਘੰਟੇ 20 ਮਿੰਟ iii) 6 ਘੰਟੇ 30 ਮਿੰਟ

8) ਉਸ ਚੱਕਰ ਦਾ ਘੇਰਾ ਕਿੰਨਾ ਹੋਵੇਗਾ ਜਿਸਦਾ ਵਿਆਸ 5 ਸੈ.ਮੀ. ਹੈ।

- i) 14.70 ਸੈ.ਮੀ. ii) 15.70 ਸੈ.ਮੀ. iii) 20 ਸੈ.ਮੀ.

9) ਵੇਚਮੁੱਲ=750 ਰੁ., ਲਾਭ=200 ਰੁ. ਤਾਂ ਖਰੀਦ ਮੁੱਲ =

- i) 401 ਰੁ. ii) 550 ਰੁ. iii) 300 ਰੁ.

10) ਹਰੇਕ ਦੇ ਦੋ ਅੰਤਿਮ ਬਿੰਦੂ ਹੁੰਦੇ ਹਨ।

- i) ਰੇਖਾ ii) ਕਿਰਨ iii) ਰੇਖਾ ਖੰਡ

ਪ੍ਰ.3 ਸਾਰੇ ਪ੍ਰਸ਼ਨ ਜਰੂਰੀ ਹਨ।

(10×4=40)

i) ਓ) ਪੈਂਤੀ ਹਜ਼ਾਰ ਇੱਕ ਸੌ ਸੱਤ ਨੂੰ ਅੰਕਾਂ ਵਿੱਚ ਲਿਖੋ :

ਅ) ਰੋਮਨ ਅੰਕਾਂ ਵਿੱਚ ਲਿਖੋ :

62 =

ii) 6132, 15322, 14 ਨੂੰ ਜੋੜੋ।

iii) 4.9 ਨੂੰ 7 ਨਾਲ ਭਾਗ ਕਰੋ।

iv) $\frac{7}{8}$ ਨੂੰ $3\frac{1}{5}$ ਨਾਲ ਭਾਗ ਕਰੋ।

v) $\frac{5}{6}, \frac{7}{9}, \frac{8}{3}, \frac{7}{2}, \frac{11}{4}$ ਨੂੰ ਚੜ੍ਹਦੇ ਅਤੇ ਲਹਿੰਦੇ ਕ੍ਰਮ ਵਿੱਚ ਲਿਖੋ।

vi) 7.28 ਅਤੇ 8.3 ਵਿੱਚ ਅੰਤਰ ਪਤਾ ਕਰੋ।

vii) ਕੋਣ ਮਾਪਕ ਦੀ ਸਹਾਇਤਾ ਨਾਲ 130° ਦਾ ਕੋਣ ਬਣਾਉ।

viii) ਤਿਕੋਣ ਦਾ ਤੀਸਰਾ ਕੋਣ ਪਤਾ ਕਰੋ ਜਿਸ ਦੇ ਦੋ ਕੋਣ 45° ਤੇ 70° ਹਨ।

ix) ਇੱਕ ਚੱਕਰ ਖਿੱਚੋ ਜਿਸ ਦਾ ਅਰਧ ਵਿਆਸ 5.5 ਸੈ.ਮੀ. ਹੋਵੇ।

x) ਆਇਤ ਦਾ ਪਰਿਮਾਪ ਪਤਾ ਕਰੋ ਜਿਸ ਦੀ ਲੰਬਾਈ 10 ਸੈ.ਮੀ. ਅਤੇ ਚੌੜਾਈ 8 ਸੈ.ਮੀ. ਹੈ।

ਪ੍ਰ.4 ਸਾਰੇ ਪ੍ਰਸ਼ਨ ਜਰੂਰੀ ਹਨ।

i) ਓ) 54, 60 ਅਤੇ 90 ਦਾ ਮ.ਸ.ਵ. ਅਭਾਜ ਗੁਣਨਖੰਡ ਦੁਆਰਾ ਪਤਾ ਕਰੋ।

ਅ) 30, 45 ਅਤੇ 55 ਦਾ ਲ.ਸ.ਵ. ਪਤਾ ਕਰੋ।

ii) 5 ਲੀਟਰ ਰਿਫਾਇੰਡ ਤੇਲ ਦਾ ਮੁੱਲ 475 ਰੁ. ਹੈ। 3 ਲੀਟਰ ਤੇਲ ਦਾ ਮੁੱਲ ਕਿੰਨਾ ਹੋਵੇਗਾ?

iii) ਅਨਿਲ ਨੂੰ ਆਪਣੀ ਵਾਸ਼ਿੰਗ ਮਸ਼ੀਨ 3650 ਰੁ. ਵਿੱਚ ਵੇਚਣ ਨਾਲ 150 ਰੁ. ਦਾ ਲਾਭ ਹੋਇਆ। ਮਸ਼ੀਨ ਦਾ ਖਰੀਦ ਮੁੱਲ ਕੀ ਹੈ?

iv) ਸੰਤਰੰਜ ਦੇ ਬੋਰਡ ਦੀ ਭੁਜਾ 25 ਸੈ.ਮੀ. ਹੈ। ਬੋਰਡ ਦਾ ਖੇਤਰਫਲ ਪਤਾ ਕਰੋ।

v) ਚਿੱਤਰ ਚਿੰਨ ਦਾ ਅਧਿਅਨ ਕਰੋ:-

ਚਿੱਤਰ ਚਿੰਨ ਦਾ ਅਧਿਅਨ ਕਰੋ ਅਤੇ ਹੇਠਾਂ ਲਿਖੇ ਪ੍ਰਸ਼ਨਾਂ ਦਾ ਉੱਤਰ ਦਿਉ।

ਰਾਹੁਲ

ਮੋਹਨ

ਸਤੀਸ਼

ਰਾਜੂ

ਇੱਕ ਚਿੰਨ = 10 ਸਾਲ ਨੂੰ ਦਰਸਾਉਂਦਾ ਹੈ

ਓ) ਸਤੀਸ਼ ਅਤੇ ਮੋਹਨ ਦੀ ਉਮਰ ਵਿੱਚ ਕਿੰਨਾ ਅੰਤਰ ਹੈ?

ਅ) ਰਾਜੂ ਅਤੇ ਰਾਹੁਲ ਦੋਨਾਂ ਦੀ ਉਮਰ ਕਿੰਨੀ-ਕਿੰਨੀ ਹੈ?

ੲ) ਮੋਹਨ ਅਤੇ ਰਾਜੂ ਦੀ ਉਮਰ ਵਿੱਚ ਕਿੰਨਾ ਅੰਤਰ ਹੈ?

(5×6=30)

**ਸਰਵ ਸਿੱਖਿਆ ਅਭਿਆਨ, ਮਾਡਲ ਟੈਸਟ ਪੇਪਰ
ਜਮਾਤ ਪੰਜਵੀਂ, ਗਣਿਤ-C**

ਸਮਾਂ: 2 ਘੰਟੇ

ਕੁੱਲ ਅੰਕ: 100

ਪ੍ਰ.1 ਖਾਲੀ ਥਾਵਾਂ ਭਰੋ:

(10×2=20)

i) $6132+15322+14=$

ii) $65520-19999=$

iii) 63 ਰੁ: ਦਾ $\frac{5}{9}$ ਭਾਗ =

iv) $\frac{1}{8} = \frac{6}{\dots}$

v) $\frac{51}{18}$ ਦਾ ਨਿਉਨਤਮ ਰੂਪ =

vi) $\frac{1}{2} + \frac{1}{3} =$

vii) $\frac{8}{3} \times \frac{3}{4} \times \frac{2}{9} =$

viii) ਵੇਚਮੁੱਲ = ਖਰੀਦਮੁੱਲ +

ix) ਤਿਕੋਣ ਦੇ ਤਿੰਨਾਂ ਕੋਣਾਂ ਦਾ ਜੋੜ =

x) ਚੱਕਰ ਦਾ ਘੇਰਾ =× ਵਿਆਸ

ਪ੍ਰ.2 ਹਰ ਸਵਾਲ ਲਈ ਦਿੱਤੇ ਤਿੰਨ-ਤਿੰਨ ਉੱਤਰਾਂ ਵਿਚੋਂ ਠੀਕ ਉੱਤਰ ਤੇ (✓) ਦਾ ਨਿਸ਼ਾਨ ਲਗਾਉ।

(10×1=10)

1) $15 \times 10 \times 10 =$

i) 1500 ii) 150 iii) 15

2) 3, 4 ਅਤੇ 6 ਦਾ ਲ ਸ ਵ

i) 72 ii) 12 iii) 6

3) $\frac{6}{13} \div \frac{14}{39} =$

i) $\frac{234}{182}$ ii) $\frac{84}{507}$ iii) $\frac{9}{7}$

4) $1.76-0.87 =$

i) 0.89 ii) 1.89 iii) 0.79

5) 12 ਮੀ. ਭੁਜਾ ਵਾਲੇ ਵਰਗ ਦਾ ਖੇਤਰਫਲ

i) 48 ਮੀ² ii) 120 ਮੀ² iii) 144 ਮੀ²

6) 5 ਕਿ.ਗ੍ਰਾ =ਗ੍ਰਾ

i) 500 ii) 5000 iii) 50

7) 0.64 ਦਾ ਪ੍ਰਤੀਸ਼ਤ ਰੂਪ

i) 46% ii) 64% iii) 36%

8) 1200 ਸਕਿੰਟਾਂ ਦੇ ਮਿੰਟ

i) 120 ii) 20 iii) 12

9) 21 ਸੈ.ਮੀ. ਵਿਆਸ ਵਾਲੇ ਚੱਕਰ ਦਾ ਘੇਰਾ

i) 36 ਸੈ.ਮੀ ii) 66 ਸੈ.ਮੀ iii) 44 ਸੈ.ਮੀ

10) 1 ਸੈ.ਮੀ ਕਿਨਾਰੇ ਵਾਲੇ ਘਣ ਦਾ ਆਇਤਨ

i) 1 ਸੈ.ਮੀ³ ii) 3 ਸੈ.ਮੀ iii) 1 ਸੈ.ਮੀ²

ਪ੍ਰ.3 ਸਾਰੇ ਸਵਾਲ ਜ਼ਰੂਰੀ ਹਨ। ਹਰ ਸਵਾਲ ਦੇ 4 ਅੰਕ ਹਨ। (10×4=40)

1) i) ਅੰਕਾਂ ਵਿੱਚ ਲਿਖੋ: ਸੱਤ ਲੱਖ ਪੰਜ ਹਜ਼ਾਰ ਦੋ ਸੌ ਬਾਨਵੇ

ii) ਸ਼ਬਦਾਂ ਵਿੱਚ ਲਿਖੋ: 290063

2) 1,0,4,5,6 ਅੰਕਾਂ ਦੀ ਵਰਤੋਂ ਕਰਕੇ ਪੰਜ ਅੰਕਾਂ ਦੀ ਵੱਡੀ ਤੋਂ ਵੱਡੀ ਅਤੇ

ਛੋਟੀ ਤੋਂ ਛੋਟੀ ਸੰਖਿਆ ਲਿਖੋ ਤੇ ਇਹਨਾਂ ਦਾ ਜੋੜਫਲ ਪਤਾ ਕਰੋ।

- 3) 18 ਰੁ: ਪ੍ਰਤੀ ਮੀਟਰ ਦੀ ਦਰ ਨਾਲ $4\frac{1}{2}$ ਮੀਟਰ ਕੱਪੜੇ ਦਾ ਮੁੱਲ ਪਤਾ ਕਰੋ।
- 4) 30, 70 ਅਤੇ 100 ਦਾ ਮ.ਸ.ਵ ਗੁਣਨਖੰਡ ਵਿਧੀ ਨਾਲ ਪਤਾ ਕਰੋ।
- 5) ਪ੍ਰੋਟੈਕਟਰ ਦੀ ਸਹਾਇਤਾ ਨਾਲ 120° ਦਾ ਕੋਣ ਬਣਾਓ।
- 6) ਇੱਕ ਕੇਲੇ ਦਾ ਮੁੱਲ 1.50 ਰੁਪਏ ਹੈ। ਇਕ ਦਰਜਨ ਕੇਲਿਆਂ ਦਾ ਮੁੱਲ ਪਤਾ ਕਰੋ।
- 7) ਇੱਕ ਬੈਂਕ ਸਵੇਰੇ 9.30 ਵਜੇ ਖੁਲਿਆ ਅਤੇ ਸ਼ਾਮ 5.00 ਵਜੇ ਬੰਦ ਹੋਇਆ। ਦੱਸੋ ਬੈਂਕ ਕਿੰਨੇ ਸਮੇਂ ਲਈ ਖੁਲ੍ਹਾ ਰਿਹਾ।
- 8) ਇੱਕ ਸਾਇਕਲ ਸਵਾਰ 5 ਘੰਟੇ ਵਿੱਚ 30 ਕਿਲੋਮੀਟਰ ਦੂਰੀ ਤੈਅ ਕਰਦਾ ਹੈ। ਦੱਸੋ ਉਹ 7 ਘੰਟੇ ਵਿੱਚ ਕਿੰਨੀ ਦੂਰੀ ਤੈਅ ਕਰੇਗਾ?
- 9) ਤਿਕੋਣ ਦਾ ਤੀਸਰਾ ਕੋਣ ਪਤਾ ਕਰੋ ਜਿਸਦੇ ਦੋ ਕੋਣ 25° ਅਤੇ 65° ਹਨ।
- 10) 3.2 ਕਿ.ਮੀ ਨੂੰ ਕਿ.ਮੀ. ਅਤੇ ਮੀ. ਵਿੱਚੋਂ ਬਦਲੋ।

ਪ੍ਰ.4 ਸਾਰੇ ਸਵਾਲ ਜ਼ਰੂਰੀ ਹਨ। ਹਰ ਸਵਾਲ ਦੇ 6 ਅੰਕ ਹਨ। (5×6=30)

- 1) ਹੇਠ ਲਿਖੀਆਂ ਭਿੰਨਾਂ ਨੂੰ ਚੜਦੇ ਕ੍ਰਮ ਵਿੱਚੋਂ ਲਿਖੋ।
 $\frac{2}{3}, \frac{3}{4}, \frac{6}{2}, \frac{7}{4}, \frac{9}{4}$
- 2) ਕਿਸੇ ਸਮਾਰੋਹ ਲਈ 13 ਲੀਟਰ ਤੇਲ ਖਰੀਦਿਆ ਗਿਆ। ਸਮਾਰੋਹ ਤੋਂ ਬਾਅਦ 3 ਲੀਟਰ 300 ਮਿ.ਲੀ. ਤੇਲ ਬਚ ਗਿਆ। ਦੱਸੋ ਸਮਾਰੋਹ ਦੌਰਾਨ ਕਿੰਨਾ ਤੇਲ ਵਰਤਿਆ ਗਿਆ।
- 3) ਇੱਕ ਦੁਕਾਨਦਾਰ ਨੂੰ ਇੱਕ ਟੇਪ ਰਿਕਾਰਡਰ ਵੇਚਣ ਤੇ 75 ਰੁ: ਦਾ ਨੁਕਸਾਨ ਹੋਇਆ। ਜੇਕਰ ਟੇਪ ਰਿਕਾਰਡਰ ਦਾ ਖਰੀਦ ਮੁੱਲ 1235 ਰੁ: ਹੋਵੇ ਤਾਂ ਉਸ ਦਾ ਵੇਚ ਮੁੱਲ ਪਤਾ ਕਰੋ।
- 4) ਚਾਰ ਦੁਕਾਨਾਂ ਵਿੱਚੋਂ ਬਿਜਲੀ ਦੇ ਬਲਬਾਂ ਦੀ ਗਿਣਤੀ ਹੇਠਾਂ ਅਨੁਸਾਰ ਹੈ:- ਪਹਿਲੀ ਦੁਕਾਨ 80, ਦੂਜੀ ਦੁਕਾਨ 60, ਤੀਜੀ ਦੁਕਾਨ 20, ਚੌਥੀ ਦੁਕਾਨ 40 ਇੱਕ ਚਿੰਨ੍ਹ ⦿ ਨੂੰ 20 ਬਲਬ ਮੰਨਦੇ ਹੋਏ ਉਪਰੋਕਤ ਅੰਕੜਿਆਂ ਦਾ ਚਿੱਤਰ ਚਿੰਨ੍ਹ ਬਣਾਉ।
- 5) ਕੋਈ ਬਿੰਦੂ P ਮੰਨ ਕੇ 3 ਸੈ.ਮੀ., 4 ਸੈ.ਮੀ. ਅਤੇ 4.5 ਸੈ.ਮੀ. ਅਰਧ ਵਿਆਸ ਵਾਲੇ ਚੱਕਰ ਖਿੱਚੋ।

ਸਰਵ ਸਿੱਖਿਆ ਅਭਿਆਨ, ਮਾਡਲ ਟੈਸਟ ਪੇਪਰ ਜਮਾਤ ਪੰਜਵੀਂ, ਗਣਿਤ-D

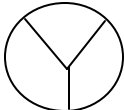
ਸਮਾਂ: 2 ਘੰਟੇ

ਕੁੱਲ ਅੰਕ: 100

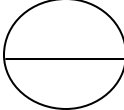
- ਪ੍ਰ.1 ਹੇਠ ਲਿਖੇ ਸਵਾਲਾਂ ਦੇ ਇੱਕ ਲਾਈਨ ਵਿੱਚ ਉੱਤਰ ਲਿਖੋ। (10×1=10)
- i) ਰੋਮਨ ਅੰਕਾਂ ਵਿੱਚ ਲਿਖੋ:- 69, 13
 - ii) 384612, 59714, 9897, 5683, 30001 ਸੰਖਿਆਵਾਂ ਨੂੰ ਘਟਦੇ ਕ੍ਰਮ ਵਿੱਚ ਲਿਖੋ।
 - iii) ਪੰਜ ਅੰਕਾਂ ਦੀ ਵੱਡੀ ਤੋਂ ਵੱਡੀ ਸੰਖਿਆ ਲਿਖੋ।
 - iv) $36.2 \div 100 =$
 - v) ਲੰਬਾਈ ਮਾਪਣ ਦੀ ਮੂਲ ਇਕਾਈ ਦਾ ਨਾਮ ਲਿਖੋ।
 - vi) ਇੱਕ ਕਿਤਾਬ ਦਾ ਮੁੱਲ ਜੇਕਰ 6 ਰੁਪਏ ਹੈ ਤਾਂ 3 ਕਿਤਾਬਾਂ ਦਾ ਮੁੱਲ ਕਿੰਨਾ ਹੋਵੇਗਾ।
 - vii) ਘੜੀ ਦੀਆਂ ਸੂਈਆਂ ਕਿੰਨੇ ਵਜੇ 180° ਦਾ ਕੋਣ ਬਣਾਉਂਦੀਆਂ ਹਨ।
 - viii) $546 \times 2 =$
 - ix) ਆਇਤ ਦਾ ਪਰਿਮਾਪ =
 - x) ਚੱਕਰ ਦੇ ਵਿਆਸ ਦੀ ਲੰਬਾਈ ਦਾ ਨਿਯਮ ਲਿਖੋ।

ਪ੍ਰ.2 ਹੇਠ ਲਿਖੇ ਪ੍ਰਸ਼ਨਾਂ ਦੇ ਤਿੰਨ ਉੱਤਰਾਂ ਵਿੱਚੋਂ ਸਹੀ ਉੱਤਰ ਤੇ ਸਹੀ (✓) ਦਾ ਨਿਸ਼ਾਨ ਲਗਾਉ। (5×1=5)

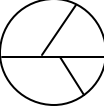
- i) ਚਿੱਤਰ ਰਾਹੀਂ $\frac{1}{2}$ ਦਾ ਭਿੰਨਾਤਮਕ ਰੂਪ ਪੇਸ਼ ਕਰੋ।
- (i)



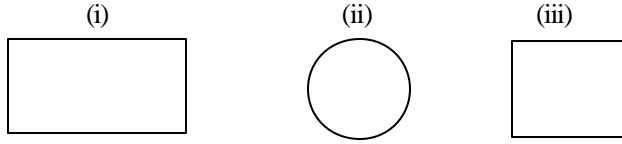
(ii)



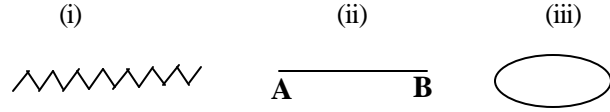
(iii)



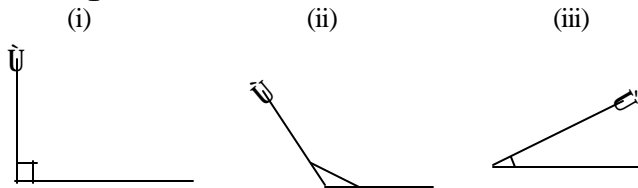
ii) ਇੱਕ ਵਰਗ :-



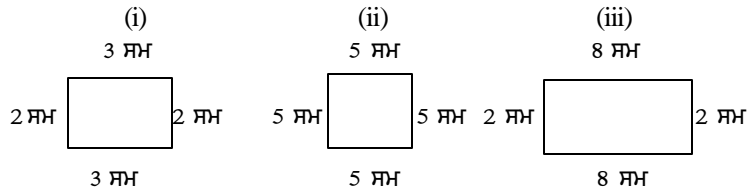
iii) ਇੱਕ ਰੇਖਾ ਖੰਡ :-



iv) ਨਿਊਨ ਕੋਣ



v) ਇੱਕ ਵਰਗ ਜਿਸਦਾ ਪਰਿਮਾਪ 20 ਸੈ.ਮੀ. ਹੈ:-



ਪ੍ਰ.3 1. ਹੇਠ ਲਿਖੇ ਅੰਕਾਂ ਨੂੰ ਸ਼ਬਦਾਂ ਵਿੱਚ ਲਿਖੋ। (8×3=24)

- i) 79
 ii) 639
 iii) 7569003
 iv) 862907

2. i) 438903 ਵਿੱਚ 9 ਦਾ ਸਥਾਨਕ ਮੁੱਲ ਪਤਾ ਕਰੋ।
 ii) 500609 ਵਿੱਚ 5 ਦਾ ਸਥਾਨਕ ਮੁੱਲ ਪਤਾ ਕਰੋ।
 iii) 8, 0, 9, 1 ਦਾ ਪ੍ਰਯੋਗ ਕਰਕੇ ਚਾਰ ਅੰਕਾਂ ਦੀ ਛੋਟੀ ਤੋਂ ਛੋਟੀ ਸੰਖਿਆ ਲਿਖੋ।
 iv) 3.28 ਨੂੰ 5.39 ਵਿੱਚੋਂ ਘਟਾਉ।

3. i) ਇੱਕ ਰੁਪਏ ਵਿੱਚ ਕਿੰਨੇ ਪੈਸੇ ਹੁੰਦੇ ਹਨ।
 ii) ਹਾਨੀ ਪਤਾ ਕਰਨ ਦਾ ਨਿਯਮ ਲਿਖੋ।
 iii) ਇੱਕ ਕਿਲੋਗ੍ਰਾਮ ਵਿੱਚ ਕਿੰਨੇ ਗ੍ਰਾਮ ਹੁੰਦੇ ਹਨ।
 iv) ਇੱਕ ਦਿਨ ਵਿੱਚ ਜੇਕਰ 24 ਘੰਟੇ ਹਨ ਤਾਂ 7 ਦਿਨਾਂ ਵਿੱਚ ਕਿੰਨੇ ਘੰਟੇ ਹੋਣਗੇ।

ਪ੍ਰ.4 ਉੱਤਰ ਹਾਂ ਜਾਂ ਨਾਂ ਵਿੱਚ ਲਿਖੋ। (1×4=4)

- i) ਕੀ ਇੱਕ ਰੇਖਾ ਦੀ ਚੌੜਾਈ/ਮੋਟਾਈ ਹੁੰਦੀ ਹੈ?
 ii) ਕੀ ਇੱਕ ਰੇਖਾ ਖੰਡ ਵਿੱਚ ਸਿਰਫ ਇੱਕ ਅਰਧ ਵਿਆਸ ਹੁੰਦਾ ਹੈ?
 iii) ਕੀ ਤਿਕੋਣ ਵਿੱਚ ਦੋ ਸਮਕੋਣ ਹੁੰਦੇ ਹਨ?
 iv) ਕੀ ਘਣਾਵ ਦਾ ਆਇਤਨ ਲੰਬਾਈ×ਚੌੜਾਈ×ਉਚਾਈ ਹੁੰਦਾ ਹੈ?

ਪ੍ਰ.5 i) ਇੱਕ ਦੁਕਾਨ ਤੇ 1208 ਕੁਲਰ ਹਨ, ਵਿੱਚੋਂ 860 ਕੁਲਰ ਵਿਕ ਗਏ।
 ਬਾਕੀ ਕਿੰਨੇ ਰਹਿ ਗਏ।

ii) ਇੱਕ ਜਮਾਤ ਵਿੱਚ 50 ਬੱਚੇ ਹਨ। ਉਹਨਾਂ ਵਿੱਚ 15 ਲੜਕੀਆਂ ਅਤੇ 35 ਲੜਕੇ ਹਨ। ਉਸ ਜਮਾਤ ਵਿੱਚ 20 ਕੁੜੀਆਂ ਅਤੇ 07 ਮੁੰਡੇ ਹੋਰ ਦਾਖਲ ਹੋ ਗਏ। ਹੁਣ ਕੁੱਲ ਕਿੰਨੇ ਬੱਚੇ ਜਮਾਤ ਵਿੱਚ ਹੋ ਗਏ?

iii) ਜੇਕਰ ਇੱਕ ਟੈਲੀਵਿਜ਼ਨ ਦਾ ਮੁੱਲ 13000 ਰੁਪਏ ਹੈ ਤਾਂ 5 ਟੈਲੀਵਿਜ਼ਨ ਦੀ ਕੀਮਤ ਕਿੰਨੀ ਹੋਵੇਗੀ?

iv) ਅਨੀਤਾ ਕੋਲ ਇੱਕ ਡੱਬੇ ਵਿੱਚ 14 ਪੈਨਸਿਲਾਂ ਹਨ। 126 ਪੈਨਸਿਲਾਂ ਕਿੰਨਿਆਂ ਡੱਬਿਆਂ ਵਿੱਚ ਆਉਣਗੀਆਂ?

(4×2=8)

ਪ੍ਰ.6 ਹੇਠ ਲਿਖੇ ਸਵਾਲ ਹਲ ਕਰੋ। ਸਾਰੇ ਸਵਾਲ ਜ਼ਰੂਰੀ ਹਨ। (6×4=24)

- i) ਇੱਕ ਚੱਕਰ ਖਿੱਚੋ ਜਿਸਦਾ ਅਰਧ ਵਿਆਸ 3 ਸੈ.ਮੀ. ਹੈ ਉਸਦਾ ਵਿਆਸ ਵੀ ਪਤਾ ਕਰੋ।

- ii) ਇੱਕ ਤਿਭੁਜ ਬਣਾਉ ਜਿਸਦਾ ਇੱਕ ਕੋਣ 90° ਦਾ ਹੋਵੇ। ਬਾਕੀ ਦੋ ਕੋਣ ਵੀ ਪਤਾ ਕਰੋ।
- iii) ਇੱਕ ਕੋਣ ਮਾਪਕ ਦੀ ਸਹਾਇਤਾ ਨਾਲ 45° ਅਤੇ 30° ਦੇ ਕੋਣ ਬਣਾਉ।
- iv) ਲਛਮਣ ਨੇ ਗਣਿਤ ਵਿੱਚ 30, ਪੰਜਾਬੀ ਵਿੱਚ 66, ਹਿੰਦੀ ਵਿੱਚ 30, ਅੰਗਰੇਜ਼ੀ ਵਿੱਚ 50, ਸਾਇੰਸ ਵਿੱਚ 90 ਅਤੇ ਸਮਾਜਿਕ ਸਿੱਖਿਆ ਵਿੱਚ 80 ਅੰਕ ਪ੍ਰਾਪਤ ਕੀਤੇ।
ਇਨ੍ਹਾਂ ਅੰਕੜਿਆਂ ਨੂੰ ਸਾਰਣੀ ਵਿੱਚੋਂ ਪੇਸ਼ ਕਰਕੇ ਕੁੱਲ ਜੋੜ ਪਤਾ ਕਰੋ।
ਹਰ ਵਿਸ਼ੇ ਦੇ 100 ਅੰਕ ਹਨ।
- v) 3 ਕਿਲੋਗ੍ਰਾਮ 450 ਗ੍ਰਾਮ ਨੂੰ 7 ਕਿਲੋਗ੍ਰਾਮ ਵਿੱਚੋਂ ਘਟਾਉ।
- vi) $0.888 \div 222$ ਉੱਤਰ ਪਤਾ ਕਰੋ।

- ਪ੍ਰ.7 ਹੇਠ ਲਿਖੇ ਸਵਾਲ ਹੱਲ ਕਰੋ। ਸਾਰੇ ਸਵਾਲ ਜ਼ਰੂਰੀ ਹਨ। ($5 \times 5 = 25$)
- i) ਸਾਬਣ ਦੀ ਟਿੱਕੀ ਦੀ ਲੰਬਾਈ, ਚੌੜਾਈ, ਉਚਾਈ ਕ੍ਰਮਵਾਰ 6 ਸੈ.ਮੀ., 4 ਸੈ.ਮੀ. ਅਤੇ 3 ਸੈ.ਮੀ. ਹੈ। ਗੱਤੇ ਦਾ ਘਣਾਵ ਅਕਾਰ, ਡੱਬਾ, ਜਿਸਦੀ ਲੰਬਾਈ 36 ਸੈ.ਮੀ. ਚੌੜਾਈ 16 ਸੈ.ਮੀ. ਤੇ ਉਚਾਈ 12 ਸੈ.ਮੀ. ਹੈ ਅਜਿਹੇ ਡੱਬੇ ਵਿੱਚ ਸਾਬਣ ਦੀਆਂ ਕਿੰਨੀਆਂ ਟਿੱਕੀਆਂ ਰੱਖੀਆਂ ਜਾ ਸਕਦੀਆਂ ਹਨ।
 - ii) $60-135-175$ ਦਾ ਮ.ਸ.ਵ. ਪਤਾ ਕਰੋ ਭਾਗ ਵਿਧੀ ਦੁਆਰਾ।
 - iii) ਇੱਕ ਆਦਮੀ ਨੇ 20 ਲੀਟਰ ਦੁੱਧ ਇੱਕ ਡੋਅਰੀ ਤੋਂ 14 ਰੁਪਏ ਪ੍ਰਤੀ ਲੀਟਰ ਦੇ ਹਿਸਾਬ ਨਾਲ ਖਰੀਦਿਆ। ਉਸਨੇ ਸਾਰਾ ਦੁੱਧ 320 ਰੁਪਏ ਦਾ ਵੇਚ ਦਿੱਤਾ। ਉਸ ਨੂੰ ਲਾਭ ਹੋਇਆ ਕਿ ਹਾਨੀ ਪਤਾ ਕਰੋ।
 - iv) ਇੱਕ ਆਇਤਾਕਰ, ਖੇਤ ਦੀ ਲੰਬਾਈ 125 ਮੀ. ਹੈ ਅਤੇ ਚੌੜਾਈ 150 ਮੀ. ਹੈ। ਖੇਤ ਦੇ ਚਾਰੇ ਪਾਸੇ ਵਾੜ ਲਗਾਉਣ ਲਈ ਲੋੜੀਂਦੀ ਤਾਰ ਦੀ ਲੰਬਾਈ ਪਤਾ ਕਰੋ।
 - v) ਆਪਣੀ ਕਾਪੀ ਦੇ ਪੰਨੇ ਉੱਤੇ ਕੋਈ ਬਿੰਦੂ 'ਅ' ਅੰਕਿਤ ਕਰੋ। ਹੁਣ 'ਅ' ਨੂੰ ਕੇਂਦਰ ਮੰਨਦੇ ਹੋਏ 5 ਸੈ.ਮੀ., 6 ਸੈ.ਮੀ., 3.5 ਅਰਧ ਵਿਆਸ ਵਾਲੇ ਚੱਕਰ ਖਿੱਚੋ।

ਸਰਵ ਸਿੱਖਿਆ ਅਭਿਆਨ, ਮਾਡਲ ਟੈਸਟ ਪੇਪਰ ਜਮਾਤ ਪੰਜਵੀਂ, ਗਣਿਤ-E

ਸਮਾਂ: 2 ਘੰਟੇ ਕੁੱਲ ਅੰਕ: 100

ਪ੍ਰ.1 ਖਾਲੀ ਥਾਵਾਂ ਭਰੋ:- ($1 \times 10 = 10$)

- i) XLIV ਦਾ ਹਿੰਦੂ ਅਰੇਬਿਕ ਸੰਖਿਆ ਹੈ।
- ii) 3,6,9 ,.....
- iii) $345 \times 1 =$
- iv) $8 \div 3$ ਨੂੰ ਭਿੰਨ ਰੂਪ ਵਿੱਚ ਲਿਖੋ।
- v) $\frac{5}{6} = \frac{10}{\dots} =$
- vi) $1.3 \times 100 =$
- vii) $2 \times 3 + 1 =$
- viii) ਵੇਚ ਮੁੱਲ = + ਲਾਭ
- ix) ਲੀਪ ਦੇ ਸਾਲ ਵਿੱਚ ਦਿਨ ਹੁੰਦੇ ਹਨ।
- x) ਸਾਧਾਰਨ ਮਨੁੱਖ ਦਾ ਤਾਪਮਾਨ ਹੁੰਦਾ ਹੈ।

ਪ੍ਰ.2 ਹੇਠ ਲਿਖੇ ਪ੍ਰਸ਼ਨਾਂ ਦੇ ਤਿੰਨ ਉੱਤਰਾਂ ਵਿੱਚੋਂ ਸਹੀ ਉੱਤਰ ਤੇ (✓) ਦਾ ਨਿਸ਼ਾਨ ਲਗਾਓ? ($10 \times 2 = 20$)

- 1) 54213 ਵਿੱਚ 2 ਦਾ ਸਥਾਨਕ ਮੁੱਲ ਹੈ :
- i) 20 ii) 200 iii) 2000
- 2) 27 ਦਾ $\frac{2}{3}$
i) 9 ii) 81 iii) 18
- 3) 79.....
i) LXIX ii) LXXIX iii) LXXXIX

4) 4,5,2,0,1 ਦੇ ਪ੍ਰਯੋਗ ਤੋਂ ਪੰਜ ਅੰਕਾਂ ਦੀ ਵੱਡੀ ਤੋਂ ਵੱਡੀ ਸੰਖਿਆ

- i) 45210 ii) 54201 iii) 54210

5) 3 ਤੋਂ 13 ਤੱਕ ਅਭਾਜ ਸੰਖਿਆਵਾਂ ਦੀ ਗਿਣਤੀ

- i) 11 ii) 5 iii) 7

6) 21.3 ਦਾ ਭਿੰਨ ਰੂਪ ਹੈ :

- i) $\frac{213}{10}$ ii) $\frac{213}{100}$ iii) $\frac{213}{1000}$

7) ਪੱਚੀ ਅਤੇ ਦੋ ਦਸਵੇਂ :

- i) 25.2 ii) 25.02 iii) 25.002

8) $4\frac{1}{3} = \dots\dots\dots$

- i) $\frac{12}{3}$ ii) $\frac{13}{3}$ iii) $\frac{14}{3}$

9) ਖਰੀਦ ਮੁੱਲ = 750, ਵੇਚ ਮੁੱਲ = 775, ਲਾਭ/ਹਾਨੀ

- i) 50 ਰੁ. ii) 25 ਰੁ. iii) 75 ਰੁ.

10) 100 ਰੁਪਏ ਵਿੱਚ 50 ਰੁ. ਦੇ ਨੋਟਾਂ ਦੀ ਸੰਖਿਆ

- i) 1 ii) 2 iii) 3

ਪ੍ਰ.3 ਸਾਰੇ ਪ੍ਰਸ਼ਨ ਜ਼ਰੂਰੀ ਹਨ। (10×4=40)

- i) ਸੰਖਿਆ 222202 ਨੂੰ ਸ਼ਬਦਾਂ ਵਿੱਚ ਲਿਖੋ।
.....
ਸੱਤ ਹਜ਼ਾਰ ਸੱਤ ਨੂੰ ਅੰਕਾਂ ਵਿੱਚ ਲਿਖੋ।
- ii) 20, 48 ਅਤੇ 66 ਦਾ ਮ.ਸ.ਵ. ਭਾਗ ਵਿਧੀ ਰਾਹੀਂ ਪਤਾ ਕਰੋ।
- iii) 82041, 84201, 81042, 14802 ਨੂੰ ਚੜ੍ਹਦੇ ਕ੍ਰਮ (ਵੱਧਦੇ ਕ੍ਰਮ) ਵਿੱਚ ਲਿਖੋ।
- iv) $\frac{84}{42}$ ਦਾ ਨਿਊਨਤਮ ਰੂਪ ਲਿਖੋ।

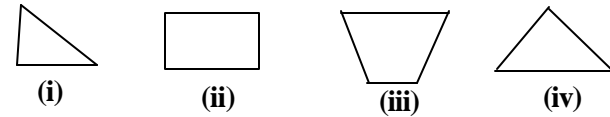
v) ਇੱਕ ਬੈਂਕ ਸਵੇਰੇ 9.30 ਖੁਲ੍ਹਿਆ ਅਤੇ ਸ਼ਾਮ ਨੂੰ 5.00 ਵਜੇ ਬੰਦ ਹੋਇਆ। ਦੱਸੋ ਬੈਂਕ ਕਿੰਨੇ ਸਮੇਂ ਲਈ ਖੁਲ੍ਹਿਆ।

vi) 1007×76 ਦਾ ਗੁਣਨਫਲ ਪਤਾ ਕਰੋ।

vii) 100 ਕਿ.ਗ੍ਰਾ. ਕਣਕ ਦਾ ਮੁੱਲ 1100 ਰੁ. ਹੈ। 20 ਕਿ.ਗ੍ਰਾ. ਕਣਕ ਦਾ ਮੁੱਲ ਕਿੰਨਾ ਹੋਵੇਗਾ?

viii) 5 ਕਿ.ਮੀ. 370 ਮੀ. ਨੂੰ 10 ਕਿ.ਮੀ. 360 ਮੀ. ਵਿੱਚੋਂ ਘਟਾਓ।

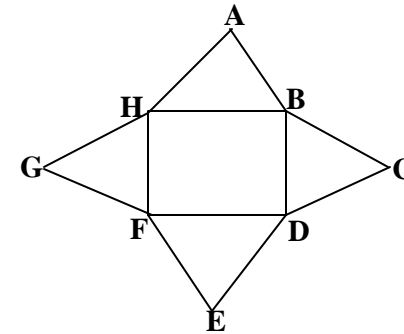
ix) 3 ਸੈ.ਮੀ. ਅਰਧ ਵਿਆਸ ਦਾ ਚੱਕਰ ਖਿੱਚੋ।



x) ਉੱਪਰ ਦਿੱਤੇ ਚਿੱਤਰਾਂ ਵਿੱਚੋਂ ਕਿਹੜੇ ਤਿਕੋਣ ਦੇ ਚਿੱਤਰ ਹਨ?

ਸਵਾਲ ਹੱਲ ਕਰੋ। (5×6=30)

- ਪ੍ਰ.4 i) ਕਿਸ ਦਾ ਖੇਤਰਫਲ ਵੱਧ ਹੈ? 10 ਮੀ. ਲੰਬੇ ਅਤੇ 8 ਮੀ. ਚੌੜੇ ਆਇਤਾਕਾਰ ਪਾਰਕ ਦਾ ਜਾਂ 10 ਮੀ. ਭੁਜਾ ਵਾਲੇ ਵਰਗਾਕਾਰ ਪਾਰਕ ਦਾ।
- ii) ਜੋੜ ਪਤਾ ਕਰੋ:- $35.75 + 30.50 + 25.50 =$
- iii) ਤਿਕੋਣ ਦਾ ਇੱਕ ਕੋਣ 45° ਹੈ, ਦੂਜਾ ਕੋਣ 30° ਹੈ, ਤੀਸਰਾ ਕੋਣ ਪਤਾ ਕਰੋ।
- iv) ਰੇਖਾ-ਖੰਡਾਂ ਦੀ ਗਿਣਤੀ ਅਤੇ ਉਨ੍ਹਾਂ ਦੇ ਨਾਮ ਲਿਖੋ:-



v) 4 ਸੈ.ਮੀ. ਰੇਖਾ ਖੰਡ ਲੈ ਕੇ 135° ਦਾ ਕੋਣ ਬਣਾਓ

**ਸਰਵ ਸਿੱਖਿਆ ਅਭਿਆਨ, ਮਾਡਲ ਟੈਸਟ ਪੇਪਰ
ਜਮਾਤ ਪੰਜਵੀਂ, ਵਾਤਾਵਰਣ ਸਿੱਖਿਆ-A**

ਸਮਾਂ: 2 ਘੰਟੇ

ਕੁੱਲ ਅੰਕ: 100

ਨੋਟ:- ਸਾਰੇ ਪ੍ਰਸ਼ਨ ਜ਼ਰੂਰੀ ਹਨ।

ਪ੍ਰ.1 ਖ਼ਾਲੀ ਥਾਂਵਾਂ ਭਰੋ —

(10×1=10)

- i) ਅਧਿਆਪਕ ਦਿਵਸ ਨੂੰ ਮਨਾਇਆ ਜਾਂਦਾ ਹੈ। ਇਸ ਦਿਨ ਡਾ: ਐਸ. ਰਾਧਾ ਕ੍ਰਿਸ਼ਨਨ ਦਾ ਜਨਮ ਦਿਨ ਹੁੰਦਾ ਹੈ।
- ii) ਸੰਗੀਤ ਸਾਡੀ ਦੀ ਖੁਰਾਕ ਹੈ।
- iii) ਸੰਤਰਾ, ਨਿੱਬੂ ਅਤੇ ਔਲੇ ਵਿੱਚ ਹੁੰਦਾ ਹੈ।
- iv) ਦੂਰ ਦੁਰੇਡੇ ਥਾਂਵਾਂ ਤੇ ਜ਼ਰੂਰੀ ਕਾਗਜ਼ ਪੱਤਰ ਮਸ਼ੀਨ ਰਾਹੀਂ ਭੇਜੇ ਜਾਂਦੇ ਹਨ।
- v) ਕਦੇ ਵੀ ਚਲਦੀ ਬੱਸ ਜਾਂ ਗੱਡੀ ਵਿੱਚ ਅਤੇ ਨਾ ਹੀ ਉੱਤਰੋ।
- vi) ਕੁਦਰਤੀ ਰੂਪ ਵਿੱਚ ਪਾਏ ਜਾਣ ਵਾਲੇ ਖਣਿਜ ਪਦਾਰਥਾਂ ਨੂੰ ਆਖਿਆ ਜਾਂਦਾ ਹੈ।
- vii) ਆਪਣੇ ਨੂੰ ਬਚਾਉਣ ਲਈ ਵੱਧ ਤੋਂ ਵੱਧ ਦਰਖਤ ਅਤੇ ਪੌਦੇ ਲਗਾਉਣ ਦੀ ਲੋੜ ਹੈ।
- viii) 26 ਜਨਵਰੀ 2001 ਨੂੰ ਵਿੱਚ ਭੂਚਾਲ ਆਇਆ।
- ix) ਪੌਦਿਆਂ ਦੇ ਪੱਤਿਆਂ ਵਿੱਚ ਮੌਜੂਦ ਛਿਦਰਾਂ ਨੂੰ ਕਹਿੰਦੇ ਹਨ।
- x) ਆਕਸੀਜਨ ਰਾਹੀਂ ਭੋਜਨ ਨੂੰ ਜਲਾ ਕੇ ਪੈਦਾ ਹੁੰਦੀ ਹੈ।

ਪ੍ਰ.2 ਹੇਠ ਦਿੱਤੇ ਪ੍ਰਸ਼ਨਾਂ ਦੇ ਠੀਕ ਉੱਤਰ ਤੇ ਸਹੀ (✓) ਦਾ ਨਿਸ਼ਾਨ ਲਗਾਓ:- (5×2=10)

1. ਕੀਟਨਾਸ਼ਕਾਂ ਅਤੇ ਰਸਾਇਣਿਕ ਖਾਦਾਂ ਦੀ ਲੋੜ ਤੋਂ ਵੱਧ ਵਰਤੋਂ ਨਾਲ ਪ੍ਰਭਾਵਿਤ ਹੁੰਦੇ ਹਨ-
 - i) ਸਜੀਵ ਵਸਤੂਆਂ
 - ii) ਮਿੱਟੀ
 - iii) ਪੌਦੇ
2. ਕੰਪਿਊਟਰ ਰਾਹੀਂ ਜਲਦੀ ਤੋਂ ਜਲਦੀ ਸੰਦੇਸ਼ ਭੇਜਣ ਦਾ ਢੰਗ ਹੈ-
 - i) ਈ-ਮੇਲ
 - ii) ਫੈਕਸ
 - iii) ਕੋਈ ਨਹੀਂ

3. ਜਿਨ੍ਹਾਂ ਥਾਂਵਾਂ ਤੇ ਸੰਘਣੇ ਜੰਗਲ ਹਨ-

- i) ਉਥੇ ਵਰਖਾ ਨਹੀਂ ਹੁੰਦੀ
- ii) ਬਹੁਤ ਅਧਿਕ ਵਰਖਾ ਹੁੰਦੀ ਹੈ
- iii) ਘੱਟ ਵਰਖਾ ਹੁੰਦੀ ਹੈ

4. ਤੇਜ਼ਾਬੀ ਵਰਖਾ ਇਮਾਰਤਾਂ ਨੂੰ ਨੁਕਸਾਨ ਪਹੁੰਚਾਉਂਦੀ ਹੈ

- i) ਲੱਕੜ ਦੀਆਂ
- ii) ਇੱਟਾਂ ਦੀਆਂ
- iii) ਸੰਗਮਰਮਰ ਦੀਆਂ

5. ਉੱਨ ਮਿਲਦੀ ਹੈ

- i) ਪੌਦਿਆਂ ਤੋਂ
- ii) ਮੱਝਾਂ ਤੋਂ
- iii) ਭੇਡਾਂ ਤੋਂ

ਪ੍ਰ.3 ਹੇਠ ਲਿਖੇ ਪ੍ਰਸ਼ਨਾਂ ਦੇ ਉੱਤਰ ਮਿਲਾਨ ਕਰੋ :- (5×2=10)

(ੳ)	(ਅ)
i) ਰੇਬੀਜ਼	ਮਾਰੂਥਲ ਦਾ ਜਹਾਜ਼
ii) ਪਲਾਸਟਿਕ	ਪਾਲਕ, ਸੇਬ, ਅਮਰੂਦ ਵਿੱਚ
iii) ਉੱਠ	ਪ੍ਰਕਾਸ਼ ਸੰਸਲੇਸ਼ਣ ਕਿਰਿਆ
iv) ਲੋਹਾ	ਬਾਂਦਰ ਦੇ ਵੱਢਣ ਨਾਲ
v) ਪੌਦੇ	ਨਾਗਲਣਸ਼ੀਲ ਪਦਾਰਥ

ਪ੍ਰ.4 ਹੇਠ ਲਿਖੇ ਪ੍ਰਸ਼ਨਾਂ ਦੇ ਸੰਖੇਪ ਉੱਤਰ ਦਿਓ :- (10×2=20)

- i) ਘਾਟੀ ਤੋਂ ਤੁਸੀਂ ਕੀ ਸਮਝਦੇ ਹੋ?
- ii) ਗਰਮੀ ਵਿੱਚ ਮੌਸਮ ਕਿਸ ਤਰ੍ਹਾਂ ਦਾ ਹੁੰਦਾ ਹੈ?
- iii) ਕੰਨ ਦੇ ਭਾਗਾਂ ਦੇ ਨਾਂ ਦੱਸੋ?
- iv) ਊਰਜਾ ਦੇਣ ਵਾਲੇ ਭੋਜਨ ਪਦਾਰਥਾਂ ਦੇ ਨਾਂ ਲਿਖੋ?
- v) ਭਾਈਚਾਰੇ ਤੋਂ ਤੁਹਾਡਾ ਕੀ ਭਾਵ ਹੈ?
- vi) ਰੇਸ਼ਮ ਦਾ ਕੀੜਾ ਕਿਸ ਦਰਖਤ ਦੇ ਪੱਤਿਆਂ ਉੱਤੇ ਪਾਲਿਆ ਜਾਂਦਾ ਹੈ?
- vii) ਬਾਲ ਦਿਵਸ ਵਾਲੇ ਦਿਨ ਕਿਸ ਦਾ ਜਨਮ ਦਿਨ ਹੁੰਦਾ ਹੈ?
- viii) ਪੰਜਾਬ ਵਿੱਚ ਵਿਸਾਖੀ ਕਿਸ ਫ਼ਸਲ ਦੀ ਕਟਾਈ ਦੇ ਮੌਕੇ ਤੇ ਮਨਾਈ ਜਾਂਦੀ ਹੈ?
- ix) ਆਇਊਡੀਨ ਦੀ ਘਾਟ ਕਾਰਨ ਕਿਹੜਾ ਰੋਗ ਹੋ ਜਾਂਦਾ ਹੈ?
- x) ਸ਼ੋਰ ਪ੍ਰਦੂਸ਼ਣ ਨਾਲ ਸਾਡਾ ਬੱਲਡ-ਪ੍ਰੈਸ਼ਰ ਤੇ ਕੀ ਅਸਰ ਹੁੰਦਾ ਹੈ?

- ਪ੍ਰ.5 ਹੇਠ ਲਿਖੇ ਪ੍ਰਸ਼ਨਾਂ ਦੇ ਉੱਤਰ 25-30 ਸ਼ਬਦਾਂ ਵਿੱਚ ਲਿਖੋ:- (5×4=20)
- ਜੇ ਕਿਸੇ ਵਿਅਕਤੀ ਨੇ ਗਲਤੀ ਨਾਲ ਕੋਈ ਜ਼ਹਿਰੀਲੀ ਚੀਜ਼ ਪੀ ਲਈ ਹੈ ਤਾਂ ਉਸ ਵਿਅਕਤੀ ਨੂੰ ਮੁੱਢਲੀ ਸਹਾਇਤਾ ਦੇਣ ਲਈ ਤੁਸੀਂ ਕੀ ਕੀ ਕਰੋਗੇ?
 - ਤੁਸੀਂ ਪੰਜਾਬ ਦੇ ਮੈਦਾਨਾਂ ਬਾਰੇ ਕੀ ਜਾਣਦੇ ਹੋ?
 - ਤੰਮਾਕੂ ਪੀਣ ਤੇ ਰੋਕ ਲਗਾ ਦਿੱਤੀ ਗਈ ਹੈ, ਕਿਉਂ?
 - ਸਾਡੀ ਰੋਜ਼ਾਨਾ ਜ਼ਿੰਦਗੀ ਵਿੱਚ ਡਾਕਖਾਨੇ ਦਾ ਕੀ ਮਹੱਤਵ ਹੈ?
 - ਸਾਨੂੰ ਪਾਰਕ ਜਾਂ ਬਾਗ ਦੀ ਸੰਭਾਲ ਲਈ ਕਿਹੜੇ ਕਦਮ ਚੁੱਕਣੇ ਚਾਹੀਦੇ ਹਨ?

- ਪ੍ਰ.6 ਹੇਠ ਲਿਖੇ ਪ੍ਰਸ਼ਨਾਂ ਵਿੱਚੋਂ ਕਿਸੇ ਦੋ ਦੇ ਉੱਤਰ 8-10 ਵਾਕਾਂ ਵਿੱਚ ਲਿਖੋ-
- ਪ੍ਰਾਚਨ-ਪ੍ਰਣਾਲੀ ਕੀ ਹੈ? ਪਾਚਨ ਪ੍ਰਣਾਲੀ ਦੇ ਕਾਰਜਾਂ ਬਾਰੇ ਸੰਖੇਪ ਵਿੱਚ ਲਿਖੋ। ਲੇਬਲ ਕੀਤਾ ਚਿੱਤਰ ਵੀ ਬਣਾਉ। (1+5+4=10)
 - ਸੰਚਾਰ ਤੋਂ ਕੀ ਭਾਵ ਹੈ? ਸੰਚਾਰ ਦੇ ਆਧੁਨਿਕ ਸਾਧਨ ਕਿਹੜੇ-ਕਿਹੜੇ ਹਨ? ਸੰਚਾਰ ਦੀ ਉੱਨਤੀ ਦੇ ਚੰਗੇ ਪ੍ਰਭਾਵ ਬਿਆਨ ਕਰੋ? (2+2+6=10)
 - ਕੁਦਰਤੀ ਆਫ਼ਤਾਂ ਕੀ ਹੁੰਦੀਆਂ ਹਨ? ਕੁਝ ਕੁਦਰਤੀ ਆਫ਼ਤਾਂ ਦੇ ਨਾਂ ਲਿਖੋ? ਕਿਸੇ ਇਕ ਕੁਦਰਤੀ ਆਫ਼ਤ ਬਾਰੇ ਵਿਸਤਾਰ ਵਿੱਚ ਲਿਖੋ। (2+2+6=10)

ਸਰਵ ਸਿੱਖਿਆ ਅਭਿਆਨ, ਮਾਡਲ ਟੈਸਟ ਪੇਪਰ ਜਮਾਤ ਪੰਜਵੀਂ, ਵਾਤਾਵਰਣ ਸਿੱਖਿਆ-B

ਸਮਾਂ: 2 ਘੰਟੇ

ਕੁੱਲ ਅੰਕ: 100

- ਪ੍ਰ.1 ਇਹਨਾਂ ਵਿੱਚੋਂ ਜੋ ਵੱਖਰਾ ਹੈ ਉਸਤੇ ਚੱਕਰ ਲਗਾਓ ਅਤੇ ਕਾਰਨ ਦੱਸੋ ਇਹ ਦੂਜਿਆਂ ਤੋਂ ਵੱਖਰਾ ਕਿਉਂ ਹੈ? (5×3=15)
- ਪੇਚਿਸ, ਹੈਜ਼ਾ, ਟੀ. ਬੀ. , ਅੰਧਰਾਤਾ
ਕਾਰਨ
 - ਸ਼ੇਰ, ਮੱਝ, ਚੀਤਾ, ਰਿੱਛ
ਕਾਰਨ
 - ਗਰਮ ਚਾਹ, ਠੰਡੇ ਜੂਸ, ਆਈਸ ਕਰੀਮ, ਕੁਲਫੀ
ਕਾਰਨ
 - ਦਿਲ, ਫੇਫੜੇ, ਗਿੱਟੇ, ਦਿਮਾਗ
ਕਾਰਨ
 - ਸਟੋਮੈਟਾ, ਟਹਿਣੀ, ਗਲਫੜੇ, ਫੁੱਲ
ਕਾਰਨ

ਪ੍ਰ.2 ਹੇਠ ਲਿਖਿਆਂ ਨੂੰ ਕ੍ਰਮਵਾਰ ਤਰਤੀਬ ਅਨੁਸਾਰ ਲਿਖੋ:- (5×2=10)

- ਬੁਣਨ ਤੋਂ ਬਾਅਦ ਰੰਗਕਾਟ ਨਾਲ ਕੱਪੜੇ ਦਾ ਪੀਲਾਪਣ ਖਤਮ ਕਰਨਾ।
- ਧਾਗੇ ਤੋਂ ਕੱਪੜਾ ਬੁਣਨਾ।
- ਸੂਤੀ, ਉਨੀ, ਰੇਸ਼ਮੀ, ਜਾਂ ਬਣਾਵਟੀ ਰੇਸ਼ਮੀਆਂ ਤੋਂ ਕੱਤਕੇ ਧਾਗਾ ਤਿਆਰ ਕਰਨਾ।
- ਪਿੰਟ ਕਰਨ ਤੋਂ ਬਾਅਦ ਦੋ ਭਾਰੀ ਰੋਲਰਾਂ ਵਿੱਚੋਂ ਦੀ ਲੰਘਾਕੇ ਕੱਪੜੇ ਨੂੰ ਸਹੀ ਆਕਾਰ ਦੇਣਾ।
- ਪੀਲਾਪਣ ਖਤਮ ਕਰਨ ਤੋਂ ਬਾਅਦ ਕੱਪੜੇ ਨੂੰ ਰੰਗਣਾ ਅਤੇ ਪਿੰਟ ਕਰਨਾ।

ਪ੍ਰ.3 ਕਾਲਮ 1 ਦੇ ਉੱਤਰ ਕਾਲਮ 2 ਵਿੱਚੋਂ ਚੁਣਕੇ ਸਹੀ ਉੱਤਰ ਕਾਲਮ ਨੰ:-1 ਦੇ ਸਾਹਮਣੇ ਲਿਖੋ:- (5×2=10)

ਕਾਲਮ ਨੰ:1	ਕਾਲਮ ਨੰ:2	ਉੱਤਰ
i) ਆਇਉਡੀਨ	ਛੂਤ ਦਾ ਰੋਗ
ii) ਡਾਕਖਾਨਾ	ਨਿਰਜੀਵ ਵਸਤੂ

- | | | |
|------------------|------------------|-------|
| iii) ਕੁਰਸੀ | ਸ਼ਹਿਜ਼ੂਤ ਦੇ ਪੱਤੇ | |
| iv) ਜ਼ੁਕਾਮ | ਸਮੁੰਦਰੀ ਭੋਜਨ | |
| v) ਰੇਸ਼ਮ ਦਾ ਕੀੜਾ | ਟੈਲੀਗ੍ਰਾਮ | |

ਪ੍ਰ.4 ਖਾਲੀ ਸਥਾਨ ਭਰੋ:- (10×1=10)

- ਸਾਨੂੰ ਧੁੱਪ ਵਿੱਚੋਂ ਕਾਫੀ ਮਾਤਰਾ ਵਿੱਚ ਮਿਲਦਾ ਹੈ।
- ਪੌਦੇ ਇੱਕ ਥਾਂ ਤੇ ਰਹਿੰਦੇ ਹਨ।
- ਸਾਹ ਪ੍ਰਣਾਲੀ ਨੱਕ, ਸਾਹ ਨਾਲੀ ਅਤੇ ਦੀ ਬਣੀ ਹੁੰਦੀ ਹੈ।
- ਆਮ ਪਾਇਆ ਜਾਣ ਵਾਲਾ ਸਮੁੰਦਰੀ ਪੌਦਾ ਹੈ।
- ਪਿੰਡ ਇੱਕ ਛੋਟੀ ਜਿਹੀ ਹੈ।
- ਵਾਹਨ, ਪ੍ਰੈਟਰੋਲ, ਬਿਜਲੀ ਅਤੇ ਨਾਲ ਚੱਲਦੇ ਹਨ।
- ਦਰੱਖਤ ਕੱਟਣ ਨਾਲ ਭੂਮੀ ਲੱਗ ਪਈ ਹੈ।
- ਕਦੀ ਵੀ ਚੱਲਦੀ ਬੱਸ ਜਾਂ ਗੱਡੀ ਵਿੱਚ ਨਾ ਚੜ੍ਹੇ ਅਤੇ ਨਾ ਹੀ
- ਦੌੜਨ ਅਤੇ ਟੱਪਣ ਨਾਲ ਸਰੀਰ ਦੇ ਮਜ਼ਬੂਤ ਹੁੰਦੇ ਹਨ।
- ਪਾਣੀ ਵਿੱਚ ਡੁੱਬਣ ਵਾਲੇ ਵਿਅਕਤੀ ਨੂੰ ਸਾਹ ਦਿਉ।

ਪ੍ਰ.5 ਹੇਠ ਲਿਖੇ ਕਥਨਾਂ ਅੱਗੇ ਸਹੀ (✓) ਜਾਂ ਗਲਤ (×) ਲਿਖੋ:- (10×1=10)

- ਸਾਨੂੰ ਦੌੜਕੇ ਪੌੜੀਆਂ ਚੜ੍ਹਨਾ ਅਤੇ ਉਤਰਨਾ ਚਾਹੀਦਾ ਹੈ।
- ਬਸੰਤ ਪੰਚਮੀ ਦੇ ਦਿਨ ਲੋਕ ਪੀਲੇ ਰੰਗ ਦੇ ਕੱਪੜੇ ਪਾਉਂਦੇ ਹਨ।
- ਮਦਰ ਟੈਰੇਸਾ ਨੇ ਸਾਰਾ ਜੀਵਨ ਗਰੀਬਾਂ ਅਤੇ ਜ਼ਰੂਰਤ ਮੰਦਾ ਦੀ ਸੇਵਾ ਕੀਤੀ
- ਕੱਪੜਾ ਬੁਣਨ ਵਾਲੇ ਨੂੰ ਦਰਜੀ ਕਹਿੰਦੇ ਹਨ।
- ਪੰਚਾਇਤ ਪਿੰਡ ਦੇ ਝਗੜਿਆਂ ਦਾ ਨਿਪਟਾਰਾ ਕਰਦੀ ਹੈ।
- ਇੱਛਾਵਾਂ ਸੀਮਿਤ ਹੁੰਦੀਆਂ ਹਨ।
- ਉੱਚੇ ਪਰਬਤਾਂ ਤੇ ਪਾਣੀ ਜੰਮ ਜਾਂਦਾ ਹੈ।
- ਲੋਕ ਬਾਰਸ਼ ਤੋਂ ਬਚਣ ਲਈ ਸਵੈਟਰ ਪਾਉਂਦੇ ਹਨ।
- ਖੋਪੜੀ ਸੁਖਮਨਾ ਨਾੜੀ ਦੀ ਰੱਖਿਆ ਕਰਦੀ ਹੈ।
- ਪੌਦੇ ਪ੍ਰਜਣਨ-ਕਿਰਿਆ ਨਹੀਂ ਕਰਦੇ।

ਪ੍ਰ.6 ਹੇਠ ਦਿੱਤੇ ਪ੍ਰਸ਼ਨਾਂ ਦੇ ਠੀਕ ਉੱਤਰ ਤੇ ਸਹੀ ਦਾ (✓) ਚਿੰਨ ਲਗਾਉ:- (5×2=10)

- (ੳ) ਸਾਨੂੰ ਟੈਲੀਵੀਜ਼ਨ ਦੇਖਦੇ ਸਮੇਂ ਘੱਟ ਤੋਂ ਘੱਟ ਦੂਰ ਬੈਠਣਾ ਚਾਹੀਦਾ ਹੈ:-
- 5 ਫੁੱਟ
 - 10 ਫੁੱਟ
 - 15 ਫੁੱਟ

(ਅ) ਪਹਾੜੀ ਖੇਤਰ ਦਾ ਜਾਨਵਰ ਹੈ:-

- ਯਾਕ
- ਊਠ
- ਵੇਲੂ

(ੲ) 5 ਸਤੰਬਰ ਨੂੰ ਮਨਾਇਆ ਜਾਂਦਾ ਹੈ:-

- ਬਾਲ ਦਿਵਸ
- ਮਹਿਲਾ ਦਿਵਸ
- ਅਧਿਆਪਕ ਦਿਵਸ

(ੳ) ਸਤੁੰਲਿਤ ਭੋਜਨ ਵਿੱਚ ਹੁੰਦੇ ਹਨ:-

- ਵਿਟਾਮਿਨ
- ਖਣਿਜ ਪਦਾਰਥ
- ਸਾਰੇ ਪੌਸ਼ਿਕ ਤੱਤ

(ੴ) ਪਤੰਗ ਉਡਾਉਣ ਲਈ ਕਿੱਥੇ ਜਾਣਾ ਚਾਹੀਦਾ ਹੈ?

- ਟੈਰੇਸ ਤੇ
- ਛੱਤ ਉੱਪਰ
- ਖੁਲ੍ਹੀ ਥਾਂ ਤੇ

ਪ੍ਰ.7 ਹੇਠ ਲਿਖੇ ਪ੍ਰਸ਼ਨਾਂ ਦੇ ਉੱਤਰ ਦਿਉ:- (5×3=15)

(ੳ) ਜੀਵਨ ਰੱਖਿਅਕ ਘੋਲ ਜਾ ਓ. ਆਰ. ਐੱਸ. ਤੋਂ ਕੀ ਭਾਵ ਹੈ?

(ਅ) ਛੂਤ ਦੇ ਰੋਗਾਂ ਨੂੰ ਫੈਲਣ ਤੋਂ ਰੋਕਣ ਲਈ ਸਾਨੂੰ ਕਿਹੜੀਆਂ-ਕਿਹੜੀਆਂ ਸਾਵਧਾਨੀਆਂ ਵਰਤਣੀਆਂ ਚਾਹੀਦੀਆਂ ਹਨ?

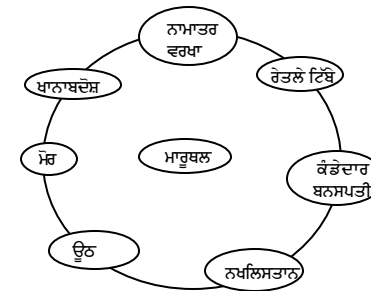
(ੲ) ਕੱਪੜੇ ਪੈਸ ਕਰਨੇ ਕਿਉਂ ਜ਼ਰੂਰੀ ਹਨ? ਇਸ ਨਾਲ ਕੱਪੜੇ ਉੱਤੇ ਕੀ ਅਸਰ ਪੈਂਦਾ ਹੈ?

(ੳ) ਅਸੀਂ ਆਪਣੀਆਂ ਅੱਖਾਂ ਦਾ ਧਿਆਨ ਕਿਵੇਂ ਰੱਖ ਸਕਦੇ ਹਾਂ?

(ੴ) ਖਾਨਾਬਦੋਸ਼ ਕੌਣ ਹਨ?

ਪ੍ਰ.8 ਮਾਇੰਡ ਮੈਪਿੰਗ ਵਿਧੀ ਰਾਹੀਂ ਇਸਦੀ ਵਿਆਖਿਆ ਕਰੋ:-

(10)



ਪ੍ਰ.9 ਟਰੈਫਿਕ ਲਾਈਟ ਦਾ ਚਿੱਤਰ ਬਣਾਓ ਅਤੇ ਵਿਆਖਿਆ ਕਰੋ।

(10)

**ਸਰਵ ਸਿੱਖਿਆ ਅਭਿਆਨ, ਮਾਡਲ ਟੈਸਟ ਪੇਪਰ
ਜਮਾਤ ਪੰਜਵੀਂ, ਵਾਤਾਵਰਣ ਸਿੱਖਿਆ-C**

ਸਮਾਂ: 2 ਘੰਟੇ

ਕੁੱਲ ਅੰਕ: 100

ਪ੍ਰ.1 ਇਹਨਾਂ ਵਿੱਚੋਂ ਜੋ ਵੱਖਰਾ ਹੈ ਉਸਤੇ ਚੱਕਰ ਲਗਾਓ ਅਤੇ ਕਾਰਨ ਦੱਸੋ ਇਹ ਦੂਜਿਆਂ ਤੋਂ ਵੱਖਰਾ ਕਿਉਂ ਹੈ? (5×3=15)

- (ੳ) ਦੰਦ, ਮਿਹਦਾ, ਨੱਕ, ਵੱਡੀ ਆਂਦਰ
ਕਾਰਨ
- (ਅ) ਬੱਸ, ਹਵਾਈ ਜਹਾਜ਼, ਸਮੁੰਦਰੀ ਜਹਾਜ਼, ਟੈਲੀਫੋਨ
ਕਾਰਨ
- (ੲ) ਚਟਾਨ, ਪੌਦੇ, ਜੀਵ ਜੰਤੂ, ਕੀੜੇ ਮਕੌੜੇ
ਕਾਰਨ
- (ਸ) ਦਵਾਈਆਂ, ਨਰਸ, ਪਾਰਸਲ, ਮਰੀਜ਼
ਕਾਰਨ
- (ਹ) ਗਣਤੰਤਰ ਦਿਵਸ, ਦੀਵਾਲੀ, ਸਵਤੰਤਰਤਾ ਦਿਵਸ, ਗਾਂਧੀ ਜੈਯੰਤੀ
ਕਾਰਨ

ਪ੍ਰ.2 ਹੇਠ ਲਿਖਿਆਂ ਨੂੰ ਕ੍ਰਮਵਾਰ ਤਰਤੀਬ ਅਨੁਸਾਰ ਲਿਖੋ:- (5×2=10)

- ੳ) ਕੱਪੜੇ ਧੋਣ ਤੋਂ ਬਾਅਦ ਸਿੱਧੀ ਧੁੱਪ ਵਿੱਚ ਨਾ ਸੁਕਾਉ
ਅ) ਹਰ ਰੋਜ਼ ਕੱਪੜੇ ਬਦਲਣੇ ਚਾਹੀਦੇ ਹਨ।
ੲ) ਕੱਪੜੇ ਪ੍ਰੈਸ ਕਰਨ ਦੇ ਬਾਅਦ ਅਲਮਾਰੀ ਜਾ ਟਰੰਕ ਵਿੱਚ ਰੱਖੋ
ਸ) ਮੈਲੇ ਕੱਪੜੇ, ਕੱਪੜੇ ਧੋਣ ਦੇ ਪਾਊਡਰ ਜਾਂ ਸਾਬਣ ਨਾਲ ਖੁੱਲ੍ਹੇ ਪਾਣੀ ਵਿੱਚ ਧੋਵੋ।
ਹ) ਸੁਕਾਉਣ ਤੋਂ ਬਾਅਦ ਕੱਪੜਿਆਂ ਨੂੰ ਪ੍ਰੈਸ ਕਰੋ।

ਪ੍ਰ.3 ਕਾਲਮ 1 ਦੇ ਉੱਤਰ ਕਾਲਮ 2 ਵਿੱਚੋਂ ਚੁਣਕੇ ਸਹੀ ਉੱਤਰ ਕਾਲਮ ਨੰ:-1 ਦੇ ਸਾਹਮਣੇ ਲਿਖੋ। (5×2=10)

ਕਾਲਮ ਨੰ:1	ਕਾਲਮ ਨੰ:2	ਉੱਤਰ
(ੳ) ਮੈਦਾਨ	ਮਿਹਦਾ
(ਅ) ਬਾਰਸ਼	8 ਮਾਰਚ
(ੲ) ਪਾਚਨ ਪ੍ਰਣਾਲੀ ਦਾ ਅੰਗ	ਰੇਨਕੋਟ
(ਸ) ਮਹਿਲਾ ਦਿਵਸ	ਕੋਲਾ
(ਹ) ਨਾ ਨਵਿਆਉਣਯੋਗ ਸਾਧਨ	ਅਨਾਜ ਭੰਡਾਰ

ਪ੍ਰ.4 ਖਾਲੀ ਸਥਾਨ ਭਰੋ:-

(10×1=10)

- i) ਖਾਨਾਬਦੋਸ਼ ਦੀ ਤਲਾਸ਼ ਵਿੱਚ ਪਸ਼ੂਆਂ ਨੂੰ ਲੈ ਕੇ ਘੁੰਮਦੇ ਰਹਿੰਦੇ ਹਨ।
ii) ਸੰਗੀਤ ਸਾਡੀ ਦੀ ਖੁਰਾਕ ਹੈ।
iii) ਕਸਰਤ ਕਰਨ ਨਾਲ ਸਾਡੇ ਮਜ਼ਬੂਤ ਹੋ ਜਾਂਦੇ ਹਨ।
iv) ਜੇ ਅਸੀਂ ਬੇਹਾ ਜਾਂ ਨੰਗਾ ਪਿਆ ਭੋਜਨ ਖਾ ਲਈਏ ਤਾਂ ਅਸੀਂ ਪੈ ਸਕਦੇ ਹਾਂ।
v) ਮੱਛੀਆਂ ਨਾਲ ਸਾਹ ਲੈਂਦੀਆਂ ਹਨ।
vi) ਦਿਲ ਸਾਡੀ ਛਾਤੀ ਦੇ ਪਾਸੇ ਸਥਿਤ ਹੁੰਦਾ ਹੈ।
vii) ਸਰਦੀਆਂ ਵਿੱਚ ਪਹਾੜਾਂ ਉੱਤੇ ਹੁੰਦੀ ਹੈ।
viii) 'ਮਾਰੂਥਲ ਦਾ ਜਹਾਜ਼' ਨੂੰ ਕਹਿੰਦੇ ਹਨ।
ix) ਰਾਜਸਥਾਨ ਦਾ ਲੋਕ ਨਾਚ ਹੈ।
x) ਹੱਥਾਂ ਨਾਲ ਕਦੀ ਵੀ ਬਿਜਲੀ ਦੇ ਸਵਿੱਚ ਨੂੰ ਨਾ ਛੂਹੋ।

ਪ੍ਰ.5 ਹੇਠ ਲਿਖੇ ਕਥਨਾਂ ਅੱਗੇ ਸਹੀ (✓) ਜਾਂ ਗਲਤ (×) ਲਿਖੋ:-

(10×1=10)

- i) ਅੰਧਰਾਤਾ ਵਿਟਾਮਿਨ C ਦੀ ਘਾਟ ਕਾਰਨ ਹੁੰਦਾ ਹੈ।
- ii) ਟੈਲੀਵਿਜ਼ਨ ਅਤੇ ਟੈਲੀਫੋਨ ਸੰਚਾਰ ਦੇ ਸਾਧਨ ਹਨ।
- iii) ਕਣਕ ਕੀ ਕਟਾਈ ਦੇ ਮੌਕੇ ਵਿਸਾਖੀ ਮਨਾਈ ਜਾਂਦੀ ਹੈ।
- iv) ਮਾਰੂਥਲੀ ਖੇਤਰਾਂ ਵਿੱਚ ਰੇਤਲੇ ਟਿੱਬੇ ਅਤੇ ਪਾਣੀ ਦੀ ਕਮੀ ਹੁੰਦੀ ਹੈ।
- v) ਛਿਪਕਲੀ ਦੀ ਪੂਛ ਕੱਟ ਜਾਣ ਤੇ ਨਵੀਂ ਪੂਛ ਨਹੀਂ ਆਉਂਦੀ।
- vi) ਫੇਫੜੇ ਸਾਹ ਪ੍ਰਣਾਲੀ ਦਾ ਅੰਗ ਹਨ।
- vii) ਮੌਸਮ ਸਾਰਾ ਸਾਲ ਇੱਕ ਸਮਾਨ ਰਹਿੰਦਾ ਹੈ।
- viii) ਗਰੀਬਾਂ ਅਤੇ ਅਮੀਰਾਂ ਦੀਆਂ ਜ਼ਰੂਰਤਾਂ ਇੱਕ ਸਮਾਨ ਹੁੰਦੀਆਂ ਹਨ।
- ix) ਪੁਲਿਸ ਸਾਡੀ ਅਤੇ ਸਾਡੀ ਸੰਪਤੀ ਦੀ ਰੱਖਿਆ ਕਰਦੀ ਹੈ।
- x) ਗਰਮ ਕੱਪੜਿਆਂ ਨੂੰ ਫਿਨਾਇਲ ਦੀਆਂ ਗੋਲੀਆਂ ਜਾਂ ਨਿੰਮ ਦੇ ਸੁੱਕੇ ਹੋਏ ਪੱਤੇ ਪਾ ਕੇ ਰੱਖਣਾ ਚਾਹੀਦਾ ਹੈ।

ਪ੍ਰ.6 ਹੇਠ ਦਿੱਤੇ ਪ੍ਰਸ਼ਨਾਂ ਦੇ ਠੀਕ ਉੱਤਰ ਤੇ ਸਹੀ ਦਾ (✓) ਚਿੰਨ ਲਗਾਉ:- (5×2=10)

- (ੳ) ਹਵਾ, ਪਾਣੀ, ਅਤੇ ਭੂਮੀ ਹਨ:-
- i) ਸਜੀਵ ਵਸਤਾਂ
- ii) ਨਿਰਜੀਵ ਵਸਤਾਂ
- iii) ਇਹਨਾਂ ਵਿੱਚੋਂ ਕੁਝ ਵੀ ਨਹੀਂ

(ਅ) ਚਿੱਠੀਆਂ, ਪਾਰਸਲ ਅਤੇ ਮਨੀਆਰਡਰ ਵੰਡਦਾ ਹੈ।

- i) ਡਾਕੀਆ ii) ਸਰਪੰਚ iii) ਕਾਂਸਟੇਬਲ

(ੲ) ਬੇਰੀ-ਬੇਰੀ ਕਿਸ ਘਾਟ ਕਾਰਨ ਹੁੰਦਾ ਹੈ।

- i) ਵਿਟਾਮਿਨ A ii) ਵਿਟਾਮਿਨ C iii) ਵਿਟਾਮਿਨ B

(ਸ) ਮੱਛਰਾਂ ਰਾਹੀਂ ਰੋਗ ਫੈਲਦਾ ਹੈ।

- i) ਹੈਜ਼ਾ ii) ਮਲੇਰੀਆ iii) ਕੋਈ ਨਹੀਂ

(ਹ) ਵੱਧ ਤੋਂ ਵੱਧ ਦਰਖਤ ਲਗਾਉਣੇ ਚਾਹੀਦੇ ਹਨ

- i) ਛਾਂ ਲਈ ii) ਸੜਕਾਂ ਦੀ ਸੁੰਦਰਤਾ ਲਈ

- iii) ਭੂਮੀ ਨੂੰ ਖੁਰਨ ਤੋਂ ਬਚਾਉਣ ਲਈ

ਪ੍ਰ.7 ਹੇਠ ਲਿਖੇ ਪ੍ਰਸ਼ਨਾਂ ਦੇ ਉੱਤਰ ਦਿਉ:- (5×3=15)

ੳ) ਤੁਸੀਂ ਸ਼ੋਰ ਪ੍ਰਦੂਸ਼ਣ ਨੂੰ ਕਿਵੇਂ ਕੰਟਰੋਲ ਕਰ ਸਕਦੇ ਹੋ?

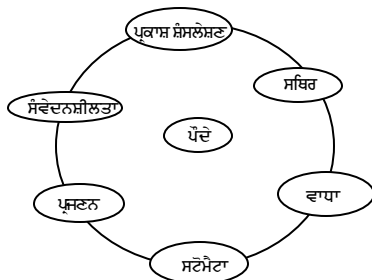
ਅ) ਕੱਪੜਿਆਂ ਨੂੰ ਸਿੱਧੀ ਧੁੱਪ ਵਿੱਚ ਨਹੀਂ ਸੁਕਾਉਣਾ ਚਾਹੀਦਾ ਹੈ। ਕਿਉਂ?

ੲ) ਤੁਸੀਂ ਪੰਜਾਬ ਦੇ ਮੈਦਾਨਾਂ ਬਾਰੇ ਕੀ ਜਾਣਦੇ ਹੋ?

ਸ) ਸਜੀਵ ਕੀ ਹੁੰਦੇ ਹਨ? ਉਹਨਾਂ ਦੀਆਂ ਕੁੱਝ ਵਿਸ਼ੇਸ਼ਤਾਵਾਂ ਲਿਖੋ।

ਹ) ਸਾਨੂੰ ਪਾਣੀ ਵੱਧ ਮਾਤਰਾ ਵਿੱਚ ਕਿਉਂ ਪੀਣਾ ਚਾਹੀਦਾ ਹੈ?

ਪ੍ਰ.8 ਮਨੁੱਖੀ ਸ਼ਾਹ ਪ੍ਰਣਾਲੀ ਦਾ ਚਿੱਤਰ ਬਣਾਓ ਅਤੇ ਲੇਬਲ ਕਰੋ। (5)



ਪ੍ਰ.9 ਮਾਇੰਡ ਮੈਪਿੰਗ ਵਿਧੀ ਰਾਹੀਂ ਉਪਰੋਕਤ ਵਿਆਖਿਆ ਕਰੋ। (10)

ਪ੍ਰ.10 ਗਿਆਨ ਇੰਦਰੀਆਂ ਵਿੱਚੋਂ ਕਿਸੇ ਇੱਕ ਦਾ ਚਿੱਤਰ ਬਣਾਓ। (5)

ਉਦਾਹਰਨ ਵਜੋਂ:- ਅੱਖ, ਨੱਕ, ਕੰਨ

ਸਰਵ ਸਿੱਖਿਆ ਅਭਿਆਨ, ਮਾਡਲ ਟੈਸਟ ਪੇਪਰ ਜਮਾਤ ਪੰਜਵੀਂ, ਵਾਤਾਵਰਣ ਸਿੱਖਿਆ-D

ਸਮਾਂ: 2 ਘੰਟੇ

ਕੁੱਲ ਅੰਕ: 100

ਪ੍ਰ.1 ਇਹਨਾਂ ਵਿੱਚੋਂ ਜੋ ਵੱਖਰਾ ਹੈ ਉਸਤੇ ਚੱਕਰ ਲਗਾਓ ਅਤੇ ਕਾਰਨ ਦੱਸੋ ਇਹ ਦੂਜਿਆਂ ਤੋਂ ਵੱਖਰਾ ਕਿਉਂ ਹੈ? (5×3=15)

1. ਬੱਸ, ਕਾਰ, ਸਮੁੰਦਰੀ ਜਹਾਜ਼, ਟਰੱਕ

ਕਾਰਨ:

2. ਸੇਬ, ਖਜੂਰ, ਖੁਰਮਾਨੀ, ਆਲੂਬੁਖਾਰੇ

ਕਾਰਨ:

3. ਭੰਗੜਾ, ਝੂਮਰ, ਗਰਭਾ, ਵਿਸਾਖੀ

ਕਾਰਨ:

4. ਸਕਰਵੀ, ਰਿਕੋਟਸ, ਮਲੇਰੀਆ, ਅੰਧਰਾਤਾ

ਕਾਰਨ:

5. ਹਵਾ, ਕੋਲਾ, ਪਾਣੀ, ਭੂਮੀ

ਕਾਰਨ:

ਪ੍ਰ.2 ਹੇਠ ਲਿਖਿਆਂ ਨੂੰ ਕ੍ਰਮਵਾਰ ਤਰਤੀਬ ਅਨੁਸਾਰ ਲਿਖੋ:- (5×2=10)

1. ਮੂੰਹ ਦੇ ਰਸਤੇ ਤੋਂ ਫਾਲਤੂ ਪਾਣੀ ਬਾਹਰ ਕੱਢਣ ਦੀ ਕੋਸ਼ਿਸ਼ ਕਰੋ।

2. ਉਸਨੂੰ ਜਲਦੀ ਹੀ ਡਾਕਟਰ ਕੋਲ ਲੈ ਜਾਵੋ।

3. ਪਾਣੀ ਵਿਚ ਡੁੱਬੇ ਨੂੰ ਪੇਟਭਾਰ ਉਲਟਾ ਜਮੀਨ ਤੇ ਲਿਟਾਓ।

4. ਉਸਨੂੰ ਬਣਾਵਟੀ ਸਾਹ ਦਿਉ।

5. ਉਸਦੀ ਪਿੱਠ ਨੂੰ ਹੱਥਾਂ ਨਾਲ ਦਬਾਓ।

ਪ੍ਰ.3 ਕਾਲਮ 1 ਦੇ ਉੱਤਰ ਕਾਲਮ 2 ਵਿੱਚੋਂ ਚੁਣਕੇ ਸਹੀ ਉੱਤਰ ਕਾਲਮ ਨੰ:1 ਦੇ ਸਾਹਮਣੇ ਲਿਖੋ:- (5×1=5)

ਕਾਲਮ ਨੰ:1	ਕਾਲਮ ਨੰ:2	ਉੱਤਰ
1. ਹਲਕਾਅ	ਵਿਸ਼ਵ ਵਾਤਾਵਰਨ
2. 5 ਜੂਨ	ਸਕਰਵੀ
3. ਸਿਹਤ ਕੇਂਦਰ	ਗਲਫੜੇ
4. ਮੱਛੀ	ਰੋਬੀਜ਼
5. ਵਿਟਾਮਿਨ C ਦੀ ਕਮੀ	ਪੋਲੀਓ ਡਰਾਪ

ਪ੍ਰ.4 ਖਾਲੀ ਸਥਾਨ ਭਰੋ:- (10×1=10)

1. ਕੱਪੜਾ ਬੁਣਨ ਵਾਲੇ ਨੂੰ ਕਿਹਾ ਜਾਂਦਾ ਹੈ।
2. ਪਹਾੜਾਂ ਵਿੱਚ ਫਲ ਜਿਵੇਂ ਕਿ ਸੇਬ ਅਤੇ ਉਗਾਏ ਜਾਂਦੇ ਹਨ।
3. ਵਾਹਨ ਗੈਸਾਂ ਛੱਡਦੇ ਹਨ।
4. ਪੰਚਾਇਤ ਦੇ ਕੁੱਝ ਮੈਂਬਰ ਅਤੇ ਇੱਕ ਹੁੰਦਾ ਹੈ।
5. ਹੁੱਪ ਵਿੱਚ ਬੈਠਣ ਨਾਲ ਮਿਲਦਾ ਹੈ।
6. ਸਾਡਾ ਰਾਸ਼ਟਰੀ ਪੰਛੀ ਹੈ।
7. ਜੰਗਲਾਂ ਕਾਰਨ ਬਹੁਤ ਅਧਿਕ ਵਰਖਾ ਹੁੰਦੀ ਹੈ।
8. ਫੇਫੜਿਆਂ ਅਤੇ ਦਿਲ ਦੀ ਰੱਖਿਆ ਕਰਦੀਆਂ ਹਨ।
9. ਪੌਦਿਆਂ ਦੇ ਪੱਤਿਆਂ ਵਿੱਚ ਮੌਜੂਦ ਛਿਦਰਾਂ ਨੂੰ ਕਹਿੰਦੇ ਹਨ।
10. ਸੜਕ ਹਮੇਸ਼ਾ ਕਰਾਸਿੰਗ ਤੇ ਪਾਰ ਕਰੋ।

ਪ੍ਰ.5 ਹੇਠ ਲਿਖੇ ਕਥਨਾਂ ਅੱਗੇ ਸਹੀ (✓) ਜਾਂ ਗਲਤ (×) ਲਿਖੋ:- (10×1=10)

1. ਅਣਪਚਿਆ ਭੋਜਨ ਛੋਟੀ ਅੰਦਰ ਵਿੱਚ ਚਲਾ ਜਾਂਦਾ ਹੈ।
2. ਜੰਗਲ ਕੱਟਣ ਕਾਰਨ ਹੜ੍ਹ ਆਉਂਦੇ ਹਨ।
3. ਪਾਣੀ ਦਾ ਮੁੱਖ ਸ੍ਰੋਤ ਵਰਖਾ ਹੈ।
4. ਮਿਹਦੇ ਵਿਚਲੇ ਪਾਚਕ ਰਸ ਭੋਜਨ ਨੂੰ ਮਿੱਠਾ ਬਣਾ ਦਿੰਦੇ ਹਨ।
5. ਸਮੁੰਦਰੀ ਤੱਟ ਦੇ ਨੇੜੇ ਸਥਿਤ ਸਥਾਨਾਂ ਤੇ ਮੌਸਮ ਸੁਹਾਵਣਾ ਪਰ ਪਹਾੜਾਂ ਤੇ ਬਹੁਤ ਠੰਡਾ ਹੁੰਦਾ ਹੈ।
6. ਸਭ ਤੋਂ ਵੱਡਾ ਸਮੁੰਦਰੀ ਜੀਵ ਵੇਲੂ ਹੈ।
7. ਕਲਪਨਾ ਚਾਵਲਾ ਇੱਕ ਮਸ਼ਹੂਰ ਭਾਰਤੀ ਪੁਲਾੜ ਯਾਤਰੀ ਸੀ।
8. ਸੰਗੀਤ ਸਾਡੀਆਂ ਨਸਾਂ ਨੂੰ ਤਣਾਉ ਮੁਕਤ ਨਹੀਂ ਕਰਦਾ।
9. ਅੰਧਰਾਤਾ ਵਿਟਾਮਿਨ A ਦੀ ਕਮੀ ਕਾਰਨ ਹੁੰਦਾ ਹੈ।
10. ਸਿਹਤ ਕਰਮਚਾਰੀ ਲੋਕਾਂ ਨੂੰ ਸਫਾਈ ਰੱਖਣ ਬਾਰੇ ਜ਼ੋਰ ਦਿੰਦੇ ਹਨ।

ਪ੍ਰ.6 ਹੇਠ ਦਿੱਤੇ ਪ੍ਰਸ਼ਨਾਂ ਦੇ ਠੀਕ ਉੱਤਰ ਤੇ ਸਹੀ (✓) ਦਾ ਚਿੰਨ ਲਗਾਉ:- (5×2=10)

1. ਖੂਹ ਦੇ ਪਾਣੀ ਵਿੱਚ ਪਾਏ ਜਾਣ ਵਾਲੇ ਕੀਟਾਣੂਨਾਸ਼ਕ ਦਾ ਨਾਂ ਹੈ:
 - i) ਸੋਡੀਅਮ ਕਲੋਰਾਈਡ
 - ii) ਪੋਟਾਸ਼ੀਅਮ ਪਰਮੈਗਨੇਟ
 - iii) ਕੋਈ ਨਹੀਂ
2. ਦੂਸ਼ਿਤ ਹਵਾ ਵਿੱਚ ਸਾਹ ਲੈਣ ਨਾਲ ਹੁੰਦਾ ਹੈ:-
 - i) ਗੁਰਦੇ ਫੇਲ
 - ii) ਸਿਰ ਦਰਦ
 - iii) ਫੇਫੜਿਆਂ ਦਾ ਕੈਂਸਰ
3. ਮੱਛੀਆਂ ਸਾਹ ਲੈਂਦੀਆਂ ਹਨ:-
 - i) ਫੇਫੜਿਆਂ ਰਾਹੀਂ
 - ii) ਗਲਫੜਿਆਂ ਰਾਹੀਂ
 - iii) ਚਮੜੀ ਰਾਹੀਂ

4. ਲੋਕ ਬਾਰਿਸ਼ ਤੋਂ ਬਚਣ ਲਈ ਪਾਉਂਦੇ ਹਨ:-

- i) ਰੇਨਕੋਟ
- ii) ਸਵੈਟਰ
- iii) ਸੂਤੀ ਕੱਪੜੇ

5. ਦਿਲ ਖਾਨਿਆਂ ਵਿੱਚ ਵੰਡਿਆ ਹੋਇਆ ਹੈ:-

- i) ਦੋ
- ii) ਚਾਰ
- iii) ਤਿੰਨ

ਪ੍ਰ.7 ਹੇਠ ਲਿਖੇ ਪ੍ਰਸ਼ਨਾਂ ਦੇ ਉੱਤਰ ਦਿਉ:- (5×3=15)

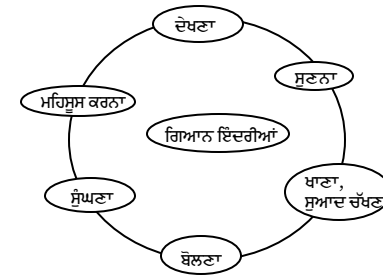
1. ਪਾਣੀ ਦੇ ਪ੍ਰਦੂਸ਼ਣ ਨੂੰ ਕੰਟਰੋਲ ਕਰਨ ਲਈ ਕਿਹੜੇ ਕਿਹੜੇ ਉਪਾਅ ਕਰਨੇ ਚਾਹੀਦੇ ਹਨ?
2. ਸੰਚਾਰੀ ਰੋਗ ਕਿਵੇਂ ਫੈਲਦੇ ਹਨ?
3. ਪੰਚਾਇਤ ਘਰ ਤੋਂ ਕੀ ਭਾਵ ਹੈ?
4. ਅਸੀਂ ਭੋਜਨ ਕਿਉਂ ਖਾਂਦੇ ਹਾਂ?
5. ਪੌਦੇ ਵਾਤਾਵਰਨ ਪ੍ਰਤੀ ਸੰਵੇਦਨਸ਼ੀਲ ਹੁੰਦੇ ਹਨ। ਕਿਵੇਂ?

ਪ੍ਰ.8 ਤਰੁੱਟੀ ਰੋਗ ਕੀ ਹਨ? ਵਿਟਾਮਿਨ 'ਬੀ' ਕਾਰਣ ਹੋਣ ਵਾਲੇ ਤਰੁੱਟੀ ਰੋਗ ਬਾਰੇ ਦੱਸੋ।

(10)

ਪ੍ਰ.9 ਮਾਇੰਡ ਮੈਪਿੰਗ ਵਿਧੀ ਰਾਹੀਂ ਇਸਦੀ ਵਿਆਖਿਆ ਕਰੋ:-

(10)



ਪ੍ਰ.10 ਟਰੈਫਿਕ ਚਿੰਨ੍ਹਾਂ ਅਧੀਨ ਕੋਈ ਦੋ ਸੂਚਨਾਤਮਕ ਟਰੈਫਿਕ ਚਿੰਨ੍ਹਾਂ ਦਾ ਚਿੱਤਰ ਬਣਾਓ।

(5)

ਸਰਵ ਸਿੱਖਿਆ ਅਭਿਆਨ, ਮਾਡਲ ਟੈਸਟ ਪੇਪਰ ਜਮਾਤ ਪੰਜਵੀਂ, ਵਾਤਾਵਰਣ ਸਿੱਖਿਆ-E

ਸਮਾਂ: 2 ਘੰਟੇ

ਕੁੱਲ ਅੰਕ: 100

ਪ੍ਰ. 1 ਹੇਠ ਲਿਖੇ ਕਥਨਾਂ ਅੱਗੇ (ਸਹੀ ✓) ਜਾਂ ਗਲਤ (×) ਲਿਖੋ :- (10×2=20)

- i) ਟਾਈਫਾਈਡ ਅਤੇ ਹੈਜਾ ਸੰਚਾਰੀ ਰੋਗ ਹਨ।
- ii) ਸਾਨੂੰ ਨੰਗੀ ਤਾਰ ਨੂੰ ਕਦੀ ਵੀ ਨਹੀਂ ਛੂਹਣਾ ਚਾਹੀਦਾ।
- iii) ਟੀਕੇ ਬੱਚਿਆਂ ਨੂੰ ਡਰਾਉਣ ਲਈ ਲਗਾਏ ਜਾਂਦੇ ਹਨ।
- iv) ਹਵਾ ਦੇ ਪ੍ਰਦੂਸ਼ਣ ਕਾਰਨ ਸਿਹਤ ਖਰਾਬ ਹੋ ਜਾਂਦੀ ਹੈ।
- v) ਰੇਡਿਓ ਅਤੇ ਟੈਲੀਵਿਜ਼ਨ ਦੀ ਹਮੇਸ਼ਾ ਉੱਚੀ ਅਵਾਜ਼ ਰੱਖਣੀ ਚਾਹੀਦੀ ਹੈ।
- vi) ਜੰਗਲ ਭੂਮੀ ਨੂੰ ਖਰਨ ਤੋਂ ਰੋਕਦੇ ਹਨ ਅਤੇ ਹੜ੍ਹ ਨੂੰ ਕੰਟਰੋਲ ਕਰਦੇ ਹਨ।
- vii) ਕੁੱਤਿਆਂ ਨੂੰ ਬਾਗ ਵਿੱਚ ਲੈ ਜਾਣ ਦੀ ਆਗਿਆ ਹੁੰਦੀ ਹੈ।
- viii) ਭੂਚਾਲ ਅਚਨਚੇਤੀ ਆਉਂਦੇ ਹਨ।
- ix) ਪੌਦੇ ਪ੍ਰਜਣਨ-ਕਿਰਿਆ ਨਹੀਂ ਕਰਦੇ।
- x) ਸਰੀਰ ਦੀਆਂ ਪੇਸ਼ੀਆਂ ਰਬੜ ਬੈਂਡ ਦੀ ਤਰ੍ਹਾਂ ਕੰਮ ਕਰਦੀਆਂ ਹਨ।

ਪ੍ਰ. 2 ਖਾਲੀ ਥਾਂਵਾਂ ਭਰੋ :- (5×2=10)

- i) ਰੋਜ਼ਾਨਾ..... ਨਾਲ ਅਸੀਂ ਤੰਦਰੁਸਤ ਅਤੇ ਚੁਸਤ ਰਹਿੰਦੇ ਹਾਂ।
- ii) ਦੀ ਵਰਤੋਂ ਮੌਸਮ ਦੇ ਪੂਰਵ ਅਨੁਮਾਨ ਲਾਉਣ ਲਈ ਕੀਤੀ ਜਾਂਦੀ ਹੈ।
- iii) ਸੜਕ ਦੇ ਕਦੇ ਵੀ ਨਾ ਚੱਲੇ।
- iv) ਕੁਦਰਤੀ ਸਾਧਨਾਂ ਦੀ ਉੱਚਿਤ ਵਰਤੋਂ ਨੂੰ ਉਹਨਾਂ ਦੀ..... ਆਖਿਆ ਜਾਂਦਾ ਹੈ।
- v) ਤੱਟੀ ਖੇਤਰਾਂ ਵਿੱਚ..... ਆਉਂਦੇ ਹਨ।

ਪ੍ਰ. 3 ਹੇਠ ਦਿੱਤੇ ਪ੍ਰਸ਼ਨਾਂ ਦੇ ਠੀਕ ਉੱਤਰ ਤੇ ਸਹੀ (✓) ਦਾ ਨਿਸ਼ਾਨ ਲਗਾਓ : (5×2=10)

- 1) ਚੰਗੀ ਸਿਹਤ ਲਈ ਸਾਨੂੰ ਲੈਣਾ ਚਾਹੀਦਾ ਹੈ।
 - i) ਫਾਸਟ ਫੂਡ
 - ii) ਸੰਤੁਲਿਤ ਆਹਾਰ
 - iii) ਢੇਰ ਸਾਰਾ ਭੋਜਨ

2) ਜਿਹਨਾਂ ਥਾਂਵਾਂ ਤੇ ਸੰਘਣੇ ਜੰਗਲ ਹਨ :

- i) ਉੱਥੇ ਵਰਖਾ ਨਹੀਂ ਹੁੰਦੀ
- ii) ਬਹੁਤ ਅਧਿਕ ਵਰਖਾ ਹੁੰਦੀ ਹੈ
- iii) ਇਹਨਾਂ ਵਿੱਚੋਂ ਕੋਈ ਨਹੀਂ

3) ਪਹਾੜੀ ਖੇਤਰਾਂ ਵਿੱਚ ਲੋਕ ਫਸਲਾਂ ਬੀਜਦੇ ਹਨ :

- i) ਪੱਧਰੀ ਜ਼ਮੀਨ ਉੱਪਰ
- ii) ਤਿੱਖੀਆਂ ਢਲਾਣਾਂ ਉੱਤੇ
- iii) ਪੌੜੀਆਂ ਵਰਗੇ ਖੇਤ ਬਣਾ ਕੇ

4) ਪਾਣੀ ਦਾ ਸਭ ਤੋਂ ਸ਼ੁੱਧ ਰੂਪ ਹੈ :

- i) ਵਰਖਾ ਦਾ ਪਾਣੀ
- ii) ਸਮੁੰਦਰ ਦਾ ਪਾਣੀ
- iii) ਦਰਿਆ ਦਾ ਪਾਣੀ

5) ਗੁਜਰਾਤ ਵਿੱਚ ਇੱਕ ਭੂਚਾਲ ਆਇਆ :

- i) ਸੁਤੰਤਰਤਾ ਦਿਵਸ ਵਾਲੇ ਦਿਨ
- ii) ਗਣਤੰਤਰ ਦਿਵਸ ਵਾਲੇ ਦਿਨ
- iii) ਬਾਲ ਦਿਵਸ ਵਾਲੇ ਦਿਨ

ਪ੍ਰ. 4 ਹੇਠਾਂ ਦਿੱਤੇ ਪ੍ਰਸ਼ਨਾਂ ਦੇ ਉੱਤਰ ਲਿਖੋ : (5×2=10)

- i) ਭਾਵ ਦੇ ਇੰਜਣ ਦੀ ਕਾਢ ਕਿਸ ਨੇ ਕੀਤੀ ?
- ii) ਸੜਕ ਚਿੰਨ੍ਹਾਂ ਦੀਆਂ ਵੱਖ-ਵੱਖ ਕਿਸਮਾਂ ਦੇ ਨਾਂ ਲਿਖੋ।
- iii) ਪਾਣੀ ਦਾ ਪ੍ਰਦੂਸ਼ਣ ਕੀ ਹੈ?
- iv) ਜਲ-ਚੱਕਰ ਤੋਂ ਕੀ ਭਾਵ ਹੈ?
- v) ਕੁਝ ਕੁਦਰਤੀ ਆਫ਼ਤਾਂ ਦੇ ਨਾਂ ਲਿਖੋ।

ਪ੍ਰ. 5 ਹੇਠਾਂ ਦਿੱਤੇ ਪ੍ਰਸ਼ਨਾਂ ਦੇ ਉੱਤਰ ਲਿਖੋ। (5×4=20)

- i) ਕੰਨ ਕਿਵੇਂ ਕੰਮ ਕਰਦੇ ਹਨ?
- ii) ਵਿਟਾਮਿਨ ਅਤੇ ਖਣਿਜ ਪਦਾਰਥਾਂ ਦੀ ਕੀ ਮਹੱਤਤਾ ਹੈ?
- iii) ਪੰਚਾਇਤ ਘਰ ਤੋਂ ਕੀ ਭਾਵ ਹੈ?
- iv) ਵਾਹਨ ਚਲਾਉਣ ਸਮੇਂ ਕਿਹੜੇ-ਕਿਹੜੇ ਸੁਰੱਖਿਆ ਨਿਯਮਾਂ ਦੀ ਪਾਲਣਾ ਕਰਨੀ ਚਾਹੀਦੀ ਹੈ?
- v) ਭੂਮੀ ਪ੍ਰਦੂਸ਼ਣ ਨੂੰ ਕੰਟਰੋਲ ਕਰਨ ਲਈ ਕੋਈ ਤਿੰਨ ਉਪਾਅ ਲਿਖੋ।

ਪ੍ਰ.6 ਸਹੀ ਮਿਲਾਣ ਕਰੋ:- (5×2=10)

- | | | |
|------------------|---|-----------|
| i) ਬੇਰੀ ਬੇਰੀ | - | ਰਬੜ |
| ii) ਧਰਾਤਲ | - | ਵਿਟਾਮਿਨ B |
| iii) ਅਧਿਆਪਕ ਦਿਵਸ | - | ਮੋਰ |
| iv) ਰਾਸ਼ਟਰੀ ਪੰਛੀ | - | ਅਣ ਪੱਧਰਾ |
| v) ਲੈਟੈੱਕਸ | - | 5 ਸਤੰਬਰ |

ਪ੍ਰ. 7 ਹੇਠ ਲਿਖੇ ਪ੍ਰਸ਼ਨਾਂ ਵਿੱਚੋਂ ਕਿਸੇ ਦੋ ਦੇ ਉੱਤਰ ਲਿਖੋ। (10×2=20)

- ਹਵਾ ਦਾ ਪ੍ਰਦੂਸ਼ਣ ਰੋਕਣ ਲਈ ਕਿਹੜੇ-ਕਿਹੜੇ ਉਪਾਅ ਕਰਨੇ ਚਾਹੀਦੇ ਹਨ?
- ਨਾ-ਨਵਿਆਉਣਯੋਗ ਸਾਧਨਾਂ ਦੀ ਸੰਭਾਲ ਲਈ ਸਾਨੂੰ ਕੀ ਕਰਨਾ ਚਾਹੀਦਾ ਹੈ?
- ਕਿਸੇ ਬੱਚੇ ਦੇ ਜੀਵਨ ਵਿੱਚ ਸਕੂਲ ਦਾ ਕੀ ਰੋਲ ਹੈ ?

ਸਰਕਾਰੀ ਸਿੱਖਿਆ ਅਭਿਆਨ, ਮਾਡਲ ਟੈਸਟ ਪੇਪਰ ਕक्षा: पाँचवीं, हिन्दी दूसरी भाषा-A

कुल अंक : 5

समय: 2 घंटे

- प्र.1 निम्नलिखित पंक्तियाँ पढ़िए और साथ दिए गए प्रश्नों के उत्तर लिखिए:-
एक दिन सुबह के समय सिद्धार्थ अपने बगीचे में घूम रहा था। टंडी-टंडी हवा चल रही थी। बगीचे में रंग-बिरंगे फूल खिले हुए थे। पक्षी चहचहा रहे थे।
क) सिद्धार्थ बगीचे में क्या कर रहा था?
ख) टंडी-टंडी क्या चल रही थी?
ग) पक्षी बगीचे में क्या कर रहे थे? (6)

- प्र.2 'जब बोलो' अथवा 'तितली रानी' कविता में से किसी एक कविता की चार पंक्तियाँ लिखिए:- (8)

- प्र.3 निम्नलिखित में से पाँच शब्दों के अर्थ लिखकर वाक्य बनाए:- (10)

- 1) ईमानदार - _____
- 2) पाठशाला - _____
- 3) मेहनत - _____
- 4) कहानी - _____
- 5) साहसी - _____
- 6) रंग-बिरंगे - _____
- 7) पक्षी - _____

- प्र.4 निम्नलिखित प्रश्नों के सही उत्तर चुन कर उन पर सही (✓) का निशान लगाएं:- (5)

क) बंदर और बंदरिया का जोड़ा _____ रहता है।

- 1) पेड़ पर 2) घर पर 3) छत पर

ख) _____ सिक्ख धर्म के पहले गुरु थे।

- 1) कबीर साहिब 2) गुरु नानक देव 3) गुरु गोबिन्द सिंह

- ग) _____ बत्ती से हमें चलना चाहिए।
 1) लाल 2) हरी 3) पीली
- घ) गोपाल के सारे _____ ठीक थे।
 1) कपड़े 2) कागज 3) सवाल
- ङ) श्रवन एक _____ बालक था?
 1) शरारती 2) नटखट 3) आज्ञाकारी

प्र.5 खाली स्थान भरो:- (5)

- क) ठीक समय पर _____ जाओ।
 ख) हमें बड़ों का _____ करना चाहिए।
 ग) भोलू बड़ा _____ था।
 घ) नदियाँ हमें _____ देती हैं।
 ङ) आज मेरा _____ है।

प्र.6 किन्हीं तीन शब्दों को हिन्दी में लिखिए:- (6)

- 1) मख़ल - 2) मभं -
 3) भिँउर - 4) वुँउ -
 5) मरिण्पाठी - 6) छिन्म -

प्र.7 क) बहुवचन बनाओ:- (पाँच शब्दों के) (5)

- 1) बगीचा - 2) लड़की -
 3) सहेली - 4) मोटा -
 5) हाथ - 6) रानी -

(ख) किन्हीं पाँच के विपरीत शब्द बनाओ:- (5)

- 1) दिन - 2) आगे -
 3) अन्दर - 4) धरती -
 5) एक - 6) सत्य -

सर्व शिक्षा अभियान, मॉडल टैस्ट पेपर कक्षा: पाँचवीं, हिन्दी दूसरी भाषा-B

कुल अंक : 5

समय: 2 घंटे

प्र.1 निम्नलिखित पंक्तियाँ पढ़िए और साथ दिए गए प्रश्नों के उत्तर लिखिए:-
 किसी पेड़ पर बंदर और बंदरिया का एक जोड़ा रहता था। उनका एक बच्चा था-
 भोलू। भोलू बड़ा नटखट था। वह हमेशा ऐसी शरारतें करता था जिनसे दूसरों को
 परेशानी होती। उसकी इस आदत से सभी दुःखी थे।

क) पेड़ पर किस का जोड़ा रहता था?

ख) उनके बच्चे का क्या नाम था?

ग) भोलू कैसी शरारतें करता था? (6)

**प्र.2 'ठीक समय' अथवा 'प्यारा पंजाब' कविता में से किसी एक कविता की
 चार पंक्तियाँ लिखिए:- (8)**

प्र.3 निम्नलिखित में से पाँच शब्दों के अर्थ लिखकर वाक्य बनाए:- (1)

- 1) क्रोध - _____
 2) आज्ञाकारी - _____
 3) आदत - _____
 4) मेहनत - _____
 5) पाठशाला - _____
 6) पक्षी - _____
 7) प्यारा - _____

**प्र.4 निम्नलिखित प्रश्नों के सही उत्तर चुन कर उन पर सही (✓) का निशान
 लगाएं:- (5)**

क) पेड़ पर _____ का जोड़ा रहता था।

1) बिल्ली और कबूतर 2) बंदर और बिल्ली 3) बंदर और बंदरिया

ख) श्रवन एक आज्ञाकारी _____ था।

1) शरारती 2) नटखट 3) बालक

ग) बालक ने विद्यासागर से _____ रूपए मांगे।

1) 1 रूपया 2) 2 रूपए 3) 5 रूपए

घ) बच्चे पत्थर मार कर _____ तोड़ रहे थे।

1) सेब 2) बेर 3) शीशा

ङ) गोपाल के सारे _____ ठीक थे?

1) कपड़े 2) कागज 3) सवाल

प्र.5 खाली स्थान भरो:-

(5)

क) लुहार _____ का काम करता है।

ख) बादल हमें _____ देते हैं।

ग) हमें अपनी बात _____ करनी चाहिए।

घ) ठीक समय पर _____ उठ जाओ।

ङ) दीपा बड़ी _____ और _____ लड़की थी।

प्र.6 किन्हीं तीन शब्दों को हिन्दी में लिखिए:-

(6)

1) घातं - 2) नौकरी -

3) कुत्ती - 4) चंगा -

5) कंभ - 6) मठिआष्टी -

प्र.7 क) बहुवचन बनाओ:- (पाँच शब्दों के)

(5)

1) माता - 2) कपड़ा -

3) लड़का - 4) कान -

5) कहानी - 6) बच्चा -

ख) किन्हीं पाँच के विपरीत शब्द बनाओ:-

(5)

1) चलना - 2) ऊपर -

3) आज - 4) आकाश -

5) अच्छा - 6) पतला -

सर्व शिक्षा अभियान, मॉडल टैस्ट पेपर

कक्षा: पाँचवीं, हिन्दी दूसरी भाषा-C

कुल अंक : 5

समय: 2 घंटे

प्र.1 निम्नलिखित पंक्तियाँ पढ़िए और साथ दिए गए प्रश्नों के उत्तर लिखिए:-

एक राजकुमार था। उसका नाम सिद्धार्थ था। वह बहुत दयालु था उसे पशु पक्षियों से बहुत प्यार था। एक दिन सुबह के समय सिद्धार्थ अपने बगीचे में घूम रहा था। ठंडी-ठंडी हवा चल रही थी। बगीचे में रंग-बिरंगे फूल खिले हुए थे। पक्षी चहचहा रहे थे। अचानक पक्षियों का चहचहाना बंद हो गया। उसने ऊपर देखा। तभी एक हंस उसके पैरों के पास आकर गिरा। हंस के शरीर में तीर लगा हुआ था। वह छटपटा रहा था।

क) राजकुमार का क्या नाम था?

ख) सिद्धार्थ कैसा लड़का था?

ग) वह कहाँ घूम रहा था?

(6)

प्र.2 निम्नलिखित कविताओं में से किसी एक कविता की चार पंक्तियाँ लिखे:-

‘काम ही पूजा है’ अथवा ‘कौन’

(8)

प्र.3 निम्नलिखित किसी पाँच शब्दों के अर्थ लिखकर वाक्य बनाये:- (1)

1) चरण - _____

2) क्षमा - _____

3) दण्ड - _____

4) दलदल - _____

5) उपहार - _____

6) पुरस्कार - _____

7) प्रतीक्षा - _____

प्र.4 निम्नलिखित प्रश्नों के सही उत्तर चुन कर उन पर सही (✓) का निशान लगाएं:-

(5)

क) ऊँची आवाज में चीखकर बोलना _____ आदत है।

i) अच्छी ii) बुरी iii) मीठी

ख) पेड़ के आस-पास _____ के कुछ पौधे लगे हुए हैं।

i) फूलों ii) फलों iii) काटों

- ग) नदी में _____ था।
 i) बंदर ii) मगरमच्छ iii) सांप
- घ) लुहार _____ का काम करता है।
 i) लोहे ii) लकड़ी iii) बरतन
- ङ) सभी ने मिलकर _____ गाया।
 i) गीत ii) शब्द iii) कविता

प्र.5 खाली स्थान भरो:- (5)

- क) पौधों की देखभाल करने वाला _____।
 ख) ठीक _____ पर खाना खाओ।
 ग) रानी _____ हो गई।
 घ) चार्वी ने नयी _____ पहनी।
 ङ) आज मेरा _____ है।

प्र.6 पंजाबी भाषा के (तीन) शब्दों को हिन्दी भाषा के शब्दों में लिखें। (6)

- 1) ਪ੍ਰੀਖਿਆ - 2) ਸੱਚਾ -
 3) ਬਸੰਤ - 4) ਗੁਬਾਰੇ -
 5) ਟਿਠਾਮ - 6) ਕੰਮ -
 7) ਜ਼ਖਮੀ - 8) ਪੰਛੀ -

प्र.7 क) निम्नलिखित के बहुवचन बनाओ:- (5)

- 1) मोमबती - 2) बेटा -
 3) कलम - 4) चाची -
 5) जुलाहा - 6) बगीचा -

ख) किन्ही पाँच के विपरीत शब्द बनाओ:- (5)

- 1) ठीक - 2) एक -
 3) मोटा - 4) मोटी -
 5) आसमान - 6) नीचे -

सर्व शिक्षा अभियान, मॉडल टैस्ट पेपर कक्षा: पाँचवीं, हिन्दी दूसरी भाषा-D

कुल अंक : 5

समय: 2 घंटे

प्र.1 निम्नलिखित पंक्तियाँ पढ़िए और साथ दिए गए प्रश्नों के उत्तर लिखिए:

माधोपुर गाँव में एक लड़की रहती थी। उसका नाम दीपा था। वह बारह साल की थी। उसके पिता जी शहर में नौकरी करते थे। माँ घर में बीमार रहती थी। इसलिए दीपा को पढ़ाई के साथ-साथ घर का काम काज भी करना पड़ता था। वह बहुत बहादुर व होशियार लड़की थी। उसके घर के पास एक नदी बहती थी। वह नदी के किनारे कपड़े धोने जाती थी। उसे नदी में नहाना व तैरना बहुत अच्छा लगता था।

क) दीपा किस गाँव में रहती थी?

ख) नदी कहाँ बहती थी?

ग) दीपा की उम्र कितनी थी?

(6)

प्र.2 'काम ही पूजा' अथवा 'ठीक समय' कविता में से किसी एक कविता की चार पंक्तियाँ लिखिए:- (8)

प्र.3 निम्नलिखित में से पाँच शब्दों के अर्थ लिखकर वाक्य बनाए:- (10)

- 1) पर्वत - _____
 2) आदत - _____
 3) निर्मल - _____
 4) अहिंसा - _____
 5) प्रतीक्षा - _____
 6) स्थल - _____
 7) रक्षक - _____

प्र.4 निम्नलिखित प्रश्नों के सही उत्तर चुन कर उन पर सही (✓) का निशान लगाएं:- (5×1=5)

क) सिद्धार्थ एक _____ बालक था।

- 1) दयालु 2) बुद्धिमान 3) मूर्ख

ख) उजड़ जाओ और _____ ।

- 1) बुराई फैलाओ 2) अच्छाई फैलाओ 3) नष्ट हो जाओ

ग) बगीचे में _____ फूल खिले थे।

- 1) रंग बिरंगे 2) सफेद 3) पीले

घ) नदी में _____ था।

- 1) पानी 2) मगरमच्छ 3) कीचड़

ङ) लौहार _____ का काम करता है?

- 1) कपड़े 2) जूते 3) लोहे

प्र.5 खाली स्थान भरो:-

क) हंस के शरीर में _____ लगा हुआ था।

ख) दीपा _____ और _____ लड़की थी।

ग) माँ घर में _____ रहती है।

घ) सभी ने मिलकर _____ गाया।

ङ) _____ सिक्ख धर्म के प्रथम गुरू थे। (5)

प्र.6 किन्हीं तीन शब्दों को हिन्दी में लिखिए:- (6)

- 1) डीर - _____
2) विमान- _____
3) भाली - _____
4) घँडी - _____
5) मझव - _____
6) महेली - _____

प्र.7 क) निम्नलिखित (पाँच) के बहुवचन बनाओ:- (5)

- 1) चींटी - 2) टॉफी -
3) ताली - 4) घड़ा -
5) जूता - 6) माली -

ख) किन्हीं पाँच के विपरीत शब्द बनाओ:- (5)

- 1) अच्छा - 2) गलत -
3) हिंसा - 4) शिक्षा -
5) फूल - 6) सुख -

Sarav Shiksha Abhiyan, Model Test Paper Class V, English-A

Time: 2 hours

Total Marks:100

Note:- All the questions are compulsory.

Q.1 Answer the questions. (Any five) (5×3=15)

- a) Who sells the balloons?
b) Which animal is called the 'King of the Jungle'?
c) What is the meal we have in the morning called?
d) What is the other name for Darbar Sahib?
e) In which season is Lohri Celebrated?
f) Name three animals that are kept as pets?
g) Who was Chimpu's friend?
h) Was Surjit's friend honest?

Q.2 Fill in the blanks by choosing the right words:- (5×2=10)

- a) Ali wants a balloon. (round/ long)
b) Raj the football. (kicks/ drives)
c) A ran over the lion's body. (mouse/mice)
d) I went to a at Amritsar. (fair/fare)
e) Raju has a shirt. (new/ knew)

Q.3 Write the meanings of the following words in Hindi/Punjabi.

(Any five)

(5×1=5)

- a) Lunch
- b) Village
- c) Thankful
- d) Believe
- e) Tomorrow
- f) Hunter
- g) Cry
- h) Playground

Q.4 Write five lines of self introduction.

(5×2=10)

- i)
- ii)
- iii)
- iv)
- v)

Q.5 Write 'T' for true and 'F' for false:

(5×2=10)

- a) There are many dogs in the house.
- b) Chimpu always did what his mother told him.
- c) The lion was caught by some children.
- d) The Children run to the playground with their balloons.

e) The TajMahal is in Agra.

Q.6 Make sentences with the following words: (Do any five)

(5×2=10)

- a) School
- b) Mango
- c) Dinner
- d) Birthday
- e) Friend
- f) Strong
- g) Beautiful
- h) Market

Q.7 Fill in the blanks with a pronoun.

(5×2=10)

- i)has two pencils.
- ii)has a big house.
- iii)am playing with my balloon.
- iv)is Rita's sister.
- v) are friends.

Q.8 Fill in the blanks by choosing words from the box below.

(flowers, help, stick, good, wrote)

(5×2=10)

- a) The balloonseller has balloons on a long
- b) He gave me a news.
- c) The boy shouted for
- d) The garden was full of

e) I a letter to my friend.

Q.9 Write the opposites of the following words: (5×1=5)

a) Finish

b) Big

c) Up

d) Fat

e) Near

f) Old

Q.10 Write name of 12 months. (6)

Q.11 Write plural:- (5×1=5)

a) Animal

b) Table

c) Baby

d) Book

e) Mango

Q12 Write any eight parts of your body. (4)

Sarav Shiksha Abhiyan, Model Test Paper Class V, English-B

Time: 2 hours

Total Marks:100

Q.1 Fill in the blanks by choosing suitable words:(Any Five)

a) The boy lived in (village/hills)

b) The Sarpanch took Navjot to the

(backyard/house)

c) Simran was agirl. (young/old)

d) The lion was in a net. (tied up/tried)

e) comes after March. (may/april)

f) Chimpu lived with his (mother/friend)

g) A has four wheels. (car/cycle)

h) The balloon seller has balloons on a long (stick/car)

g) is good boy. (he/she) (5×2=10)

Q.2 Answer the following questions: (Any five) (5×3=15)

a) What did Manpreet call her monkey?

b) What did a wolf do one day?

c) Name one important festival of Punjab?

d) Which places did Amar visit in Amritsar?

e) Who was Chimpu's friend?

f) Who cheated Surjit?

g) Why did Simran's mother go to work?

h) What is your father?

Q.3 Write the meanings of the following words in Hindi/ Punjabi.

(Any five) (5×1=5)

- a) Butterfly
- b) Monkey
- c) Dream
- d) Parents
- e) Autumn
- f) Corner
- g) Festival
- h) Hunter

Q.4 Fill in the blanks by choosing words from the box below:-

(sapling, teached, plant trees, plants, every day, watered, trees)

- a) Mr. Singh in Government Primary School.
- b) He took the children to the school ground
- c) They planned to
- d) They planted and the
- e) Mr. Singh gave each student a **(5×2=10)**

Q. 5 Write 'T' for true and 'F' for false:- (5×2=10)

- a) August is seventh month of the year.
- b) Cabbage is a tasty fruit.
- c) Small hand of a clock is for seconds.
- d) Manpreet had a pet dog.
- e) The balloon seller had only white balloons.
- f) Chimpu was a playful baby elephant.
- g) Plants need water and sun shine to grow.
- h) Doctor is a person who makes our clothes.

Q.6 Make sentences with the following words: (Do any five)

- a) Breakfast
- b) Punish
- c) Ugly
- d) Late
- e) Road
- f) Start
- g) Hunter
- h) Brush **(5×3=15)**

Q.7 Write the opposites of the Following words:(Any Five)

- a) Dirty
- b) Day
- c) Short
- d) Good
- e) Village
- f) Enemy
- g) Inside **(5×1=5)**

Q.8 Write five lines about your school? (5×2=10)

Q.9 Write the names of five colours and five things in the kitchen or classroom? (1×10=10)

Q.10 Read the passage carefully and answer the questions given below.

Passage:- Once there was a merchant who had a son, named Surjit. One day two had to go on journey to sell their goods. ‘With

whom shall we trust our money while we are away?" asked the merchant. "My friend is the most honest man in the town," replied Surjit.

Q.1 Who had a son?

Q.2 What was son's name?

Q.3 Where did the two go?

Q.4 Who was an honest man in the town?

(3×2=6)

Q.11 Complete the following

a) Early bed.

b) to rise.

c) Makes a man.

d) , and wise.

(1/2×4=2)

Q.12 Write plural of the following:-

a) bag

b) fan

c) boy

d) donkey

e) pet

f) pin

(1/2×4=2)

**Sarav Shiksha Abhiyan, Model Test Paper
Class V, English-C**

Time: 2 hours

Total Marks:100

All questions are Compulsory.

(5×2=10)

Q1. Read the following passage and answer the questions given below.

Guru Nanak's birthday is celebrated on the full moon night in the month of Kartik. This festival, falls in autumn. This Guru Purab marks the birth of Guru Nanak, who founded the sikh religion. He believed that all people are equal and that we must always help and serve other human beings. Two days before his birthday, the holy book of the sikhs, Sri Guru Granth Sahib is taken up for reading.

a) When is Guru Nanak's birthday Celebrated?

b) Who founded the Sikh religion?

c) In which season this festival falls?

d) Name the holy book of sikhs?

e) What did Guru Nanak Ji believe?

Q.2 Write the meanings of the following words and also make the sentences. (Any five) (5×3=15)

a) Garden

b) Parents

c) Temple

d) Bag

e) Bus

- f) Children
- g) Butterfly
- h) Village

Q.3 Answer the following questions (Any five) (5×2=10)

- a) Who planted the trees?
- b) Which places did Amar visit in Amritsar?
- c) Name one festival of Punjab?
- d) Do you think Simran was a brave girl? why.
- e) Who cheated Surjit?
- f) Why did villagers not believe Ramu?
- g) Why did the mouse run to help the lion?
- h) What can you do with a balloon?

Q.4 Fill in the blanks choosing the right words given in the brackets. (Any five) (5×2=10)

- a) Simran was a girl. (old/young)
- b) Raj has a shirt. (new/knew)
- c) Mr. Singh is a (teacher/ student)
- d) Navjot named the pup..... (tommy/monty)
- e)comes before March. (april/ february)
- f) Ali wants a balloon. (long/round)
- g) Thewas sleeping under a tree. (lion/ line)
- h) Ravi the football. (kicks/licks)

Q.5 Write plural of the following. (5×1=5)

- a) Box
- b) Zoo
- c) Pen
- d) Key
- f) Glass

Q.6 Fill 'has' or 'have' in the blanks (Any five) (5×2=10)

- a) Treesmany leaves.
- b) The girl no friends.
- c) My mothera red coat.
- d) Jasjit a black coat.
- e) Dogs short tails.
- f) Rita a box.

Q.7 Underline the nouns and encircle the verbs in the following sentences. (5×2=10)

- a) Mohan copied the answer.
- b) Harjit sang sweet song.
- c) They went to the new house.
- d) I wrote a letter.
- e) Ram and Sham are good in English.

Q.8 Put a tick mark (✓) against the correct and cross (x) against the wrong statements (Any five) (5×2=10)

- a) The lion was freed by the mouse.
- b) Copy cat turned the key and started the car.
- c) Amrit was not late for school.
- d) Lohri is a festival of new born babies.
- e) August is the eighth month of the year.
- f) Ramu started singing, "Wolf! Wolf!"
- g) The pupils took proper care of the plants.
- h) Chimpu was a playful baby monkey.

Q.9 Choose suitable prepositions from the box to fill in the blanks for picture statements. (5×2=10)

behind, on, inside, under, in front of

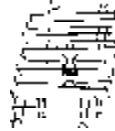
a) The ball is the table.



b) The water is the glass.



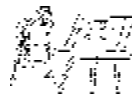
c) The bottle is on the bench.



d) The tree is the house.



e) The girl is of the blackboard.



Q.10 Name the fruits/Vegetables given below.(Any five)

(5×2=10)



Sarav Shiksha Abhiyan, Model Test Paper Class V, English-D

Time: 2 hours

Total Marks:100

Candidates are to attempt all the 10 questions.

Q.1 Fill in the blanks by choosing the right words given in the brackets:(Any Five) (5×2=10)

- a) The boy shouted for (help/water)
- b) She a book from the shop. (bought/sold)
- c) Monday comes before (sunday/tuesday)
- d) Jasjit a black coat. (has/have)
- e) My friend has a balloon with many..... (colours/collars)
- f) The of the merchant's son was Surjit. (place/ name)
- g) The has a long trunk. (crow/elephant)
- h) Raj has a new (shirt/have)

Q.2 Put(✓) against correct and cross (×) against wrong statement: (Any five) (5×2=10)

- a) Navjot was not loved by the Sarpanch.
- b) Chimpu wanted to play with the sparrow.
- c) The sun shines in the morning.
- d) Copycat turned the key and started the car.
- e) Simran lived in a village called Sohana.
- f) Sri Darbar Sahib is also called Sri Harmandar Sahib.
- g) The pup was very healthy and happy.
- h) Lohri is held in summer.

Q.3 Write the meaning of the following words in Punjabi/Hindi and make sentences also. (any five) (5×3=15)


Jump, Plants, Festival, Stick, Field, Sky, Sunday, Dog.

Q.4 Answer the following questions:- (any five) (5×2=10)

- a) When did Harpreet get up?
- b) Why did the mouse run to help the lion?
- c) Who wants a round balloon?
- d) What do you learn from the story wolf ! wolf !?
- e) With whom did Amar go to Amritsar?
- f) What is the other name of Sri Darbar Sahib?
- g) Was Surjit’s friend honest?
- h) What did the car hit?

Q.5 Re-arrange the letters to make meaningful words for these pictures. (5×2=10)

- a) snoalobl
- b) lkoc
- c) agnom
- d) rokcf
- e) eiplnc



Q.6 (a) Write five sentences about yourself. (5×1=5)
(Name, Age, Class, School, Like)

(b) Fill in the blanks with ‘a’ ‘an’ or the. (5×1=5)

- a) Shatabdi Express leaves in morning.
- b) I ate apple,..... orange and banana.
- c) Children went in car.
- d) tree fell on house.
- e) He lives in village.

Q.7 Read the following passage carefully and find. (5×2=10)

Raj went for a long walk. He took his best friend along. On the way they saw a beautiful garden. It has big trees and pretty flowers. It made them happy.They returned quite late.

- a) Pick out 5 Pronouns.
- b) Pick out 5 adjectives.

Q.8 Match the opposites in Column A and B (5×1=5)

Column A	Column B
Going	Clean
Dirty	Finish
Old	Small
Big	Coming
Start	New

Q.9 (a) Match the animals to their babies. (5×1=5)

Dog	Chick
Cat	Duckling
Hen	Piglet
Duck	Puppy
Pig	Kitten

(b) Write five names of the colours. (5×1=5)

Q.10 Read the following passage and answer the question given below. (5×2=10)

Chimpu was a playful baby elephant. He did what his mother tell him not to do. One day, mother elephant returned home from the market. Guests were coming for dinner. So, mother wanted to take rest. Chimpu wanted to go out to play with his friend parrot. He promised his mother to become good and went out.

- a) Who was Chimpu?
- b) Why were the guests coming for?
- c) Who was chimpu's friend?
- d) Did Chimpu's mother return home tired?
- e) What was Chimpu's promise?

Sarav Shiksha Abhiyan, Model Test Paper Class V, English-E

Time: 2 hours

Total Marks:100

Note:- All questions are compulsory. (5×2=10)

Q.1 Read the following passage and answer the questions given below.

In a small village of punjab, there lived a boy called Navjot. He was liked by all the villagers. The Sarpanch had promised to give Navjot, a pup as a birthday present. On his birthday Navjot along with his parents went to the Sarpanch's house. The Sarpanch took them around his big house with a garden full of flowers and vegetables.

- i) Who lived in the small village?
- ii) Was Navjot liked by all the villagers?
- iii) Who had promised to give Navjot a pup as a birthday gift?
- iv) When did Navjot go to the Sarpanch's house?
- v) What was there in the garden?

Q.2 Answer the following questions (Any five) (5×2=10)

- i) Why did the mouse run to help the lion?
- ii) What is the meal we have in the morning called?
- iii) Who planted the trees?
- iv) Who had promised a gift and to whom?
- v) Do you think Simran was a brave girl?
- vi) Who was Chimpu's friend?
- vii) What can you do with a balloon?
- viii) What did the monkey always do?

Q.3 Write the meaning of the following words in Punjabi/ Hindi/ urdu. (Any five) (5×1=5)

- i) Old _____
- ii) Outside _____
- iii) Autumn _____
- iv) Field _____
- v) Butterfly _____
- vi) Stick _____
- vii) Tank _____
- viii) Village _____

Q.4 Fill in the blanks choosing the right words given in the brackets. (Any Five) (5×2=10)

- i) Rita a box. (have/ has)
- ii) The lion was sleeping under a(tree/ free)
- iii) We red cars. (have/ has)
- iv) Ranito her school. (walks/ wolks)
- v) My lives in Amritsar. (ankle/ uncle)
- vi) Simran was agirl. (old/ young)
- vii) The monkey has a long (tale/ tail)
- viii) Raj has a shirt. (new/ knew)

Q.5 Tick (✓) against correct and cross (x) against wrong statement. (Any five) (5×2=10)

- i) Lohri is held in winter.
- ii) Guests were coming for dinner.
- iii) August is the eighth month of the year.
- iv) The pupils took proper care of the plants.
- v) There were many dogs in the house.
- vi) Surjit's friend was very honest.
- vii) Ramu played a joke two or three times.
- viii) The balloon seller had balloons on a long stick.

Q.6 Use the given words in sentences of your own. (Any five)

- i) Old _____
- ii) Butterfly _____
- iii) Beautiful _____
- iv) Festival _____
- v) Net _____
- vi) Market _____
- vii) Dinner _____
- viii) Dance _____ (5×3=15)

Q.7 a) Write parts of the body? (Any five) (10 Marks) (2 $\frac{1}{2}$)

- i) _____
- ii) _____
- iii) _____
- iv) _____
- v) _____

b) Write any five fruits ? (2 $\frac{1}{2}$)

- i) _____
- ii) _____
- iii) _____
- iv) _____
- v) _____

c) Write any five vegetables ? (2 $\frac{1}{2}$)

- i) _____
- ii) _____
- iii) _____
- iv) _____
- v) _____

d) Arrange these words in the ABC order and write them.

mother, place, visited, temple, shop, gold, holy, weekend.

(2 $\frac{1}{2}$)

Q.8 Choose suitable prepositions from the box to fill in the blanks. (5×2=10)

under, inside, on, in front of, behind

i) The cat is the chair.

ii) The book is the table.

iii) The boy is the tree.

iv) The girl is the house.

v) The ball is the table.

Q.9 Fill in the blanks Choose words from the box given below.

red, giddha, kicks, have, playground.

i) Ravi the football.

ii) The women in Punjab perform dance.

iii) The children run to the with their balloons.

iv) Karan and Simi a house in Ropar.

v) I have a shirt. (5×2=10)

Q.10 a) Write the days of the week? (7×1=7)

i) ii) iii)

iv) v) vi)

vii)

b) Encircle the odd word out in each row. One has been done for you. (3×1=3)

red	yellow	blue	round
cat	car	monkey	dog
balloon	truck	bus	van
one	three	four	tree

ਸਰਵ ਸਿੱਖਿਆ ਅਭਿਆਨ, ਮਾਡਲ ਟੈਸਟ ਪੇਪਰ ਜਮਾਤ ਪੰਜਵੀਂ, ਪੰਜਾਬੀ-A

ਸਮਾਂ: 2 ਘੰਟੇ

ਕੁੱਲ ਅੰਕ: 100

ਪ੍ਰ.1 ਹੇਠ ਲਿਖੀਆਂ ਸਤਰਾਂ ਪੂਰੀਆਂ ਕਰੋ:- (6)

1. ਏਹੋ ਜਿੰਦ ਜਾਨ ਸਾਡੀ,

2. ਫੁੱਲਾਂ ਦੀ ਕਿਆਰੀ ਸਾਡੀ,

3. ਕੱਢ ਦਿਲ ਵਿੱਚੋਂ ਸਾੜਾ,

ਪ੍ਰ.2 ਹੇਠ ਲਿਖੇ ਸ਼ਬਦਾਂ ਨੂੰ ਉਹਨਾਂ ਦੇ ਸਮਾਨ ਅਰਥਾਂ ਅਨੁਸਾਰ ਮਿਲਾਓ: (10)

1. ਭਰੋਸਾ	1. ਮਜਾਕ
2. ਪਾਲ	2. ਅਕਾਸ਼
3. ਮਖੌਲ	3. ਕਤਾਰ
4. ਅੰਬਰ	4. ਦੁਨੀਆਂ
5. ਸੰਸਾਰ	5. ਵਿਸ਼ਵਾਸ

ਪ੍ਰ.3 ਸਮਝੋ ਤੇ ਲਿਖੋ:- (4)

1. ਰੋਟੀ	1. ਰੋਟੀਆਂ
2. ਟੋਕਰੀ	2. _____
3. ਮੁੰਡਾ	3. _____
4. ਚਿੜੀ	4. _____
5. ਇਸਤਰੀ	5. _____

ਪ੍ਰ.4 ਲਿੰਗ ਬਦਲੋ:- (5)

1. ਧੀ	1. ਪੁੱਤਰ
2. ਭਰਾ	2. _____
3. ਰਾਜਾ	3. _____
4. ਮਿੱਤਰ	4. _____
5. ਕਬੂਤਰ	5. _____
6. ਪਿਤਾ	6. _____

ਪ੍ਰ.5 ਆਪਣੀ ਮਨ ਪਸੰਦ ਕਵਿਤਾ ਦੀਆਂ 5 ਸਤਰਾਂ ਲਿਖੋ। (10)

ਪ੍ਰ.6 ਵਾਕਾਂ ਵਿੱਚ ਵਰਤੋ:- (10)

1. ਕਿਆਰੀ

2. ਕੀਮਤੀ

3. ਸਵੇਰ
4. ਖਬਰਦਾਰ
5. ਗਤਕਾ

ਪ੍ਰ. 7 ਸਹੀ ਸ਼ਬਦ ਚੁਣ ਕੇ ਖਾਲੀ ਥਾਵਾਂ ਭਰੋ:- (10)

- ਝਿੜੀ, ਭਗਤ ਸਿੰਘ, ਹਰਿਆਵਲ, ਨੌਂ, ਤੇਜੀ
1. ਮੁੱਕਦੀ ਜਾ ਰਹੀ ਹੈ।
 2. ਨਰਾਤੇ ਹੁੰਦੇ ਹਨ।
 3. ਉਧਮ ਸਿੰਘ ਸ਼ਹੀਦ ਨੂੰ ਆਪਣਾ ਗੁਰੂ ਮੰਨਦਾ ਸੀ।
 4. ਜਗਰਾਵਾਂ ਦੇ ਪੱਛਮ ਵੱਲ ਇੱਕ ਸੀ।
 5. ਖੁਸ਼ੀ ਦਾ ਸਮਾਂ ਨਾਲ ਲੰਘਦਾ ਪ੍ਰਤੀਤ ਹੁੰਦਾ ਹੈ।

ਪ੍ਰ. 8 ਹੇਠ ਲਿਖੇ ਪ੍ਰਸ਼ਨਾਂ ਵਿੱਚੋਂ ਕਿਸੇ ਚਾਰ ਪ੍ਰਸ਼ਨਾਂ ਦੇ ਉੱਤਰ ਲਿਖੋ:- (4×5=20)

1. ਸੱਪ ਨੂੰ ਵੇਖ ਕੇ ਚਿੜੀ ਨੇ ਕੀ ਕੀਤਾ?
2. ਕਲਪਨਾ ਚਾਵਲਾ ਕੌਣ ਸੀ?
3. ਬਾਗ ਕਿਸਨੂੰ ਕਹਿੰਦੇ ਹਨ?
4. ਬੱਚੇ ਬੇਗੀ ਨੂੰ ਢੀਮਾਂ ਕਿਉਂ ਮਾਰ ਰਹੇ ਸਨ?
5. ਆਨੰਦਰਪੁਰ ਸਾਹਿਬ ਨਗਰ ਨੂੰ ਕਿਸਨੇ ਵਸਾਇਆ ਤੇ ਇਸਦਾ ਪਹਿਲਾ ਨਾਂ ਕੀ ਸੀ?
6. ਸਾਂਝੀ ਮਾਈ ਦਾ ਨਾਂ ਸਾਂਝੀ ਕਿਉਂ ਪਿਆ?

ਪ੍ਰ. 9 ਕਿਸੇ ਇਕ ਵਿਸ਼ੇ ਤੇ 10 ਵਾਕਾਂ ਦਾ ਲੇਖ ਲਿਖੋ:- (10)

ਮੇਰਾ ਸਕੂਲ, ਮੇਰਾ ਮਿੱਤਰ, ਦੁਸਹਿਰਾ, ਗੁਰੂ ਗੋਬਿੰਦ ਸਿੰਘ ਜੀ

ਪ੍ਰ. 10 ਆਪਣੇ ਮਿੱਤਰ ਨੂੰ ਪੰਜਵੀਂ ਵਿੱਚੋਂ ਪਾਸ ਹੋਣ ਤੇ ਵਧਾਈ ਪੱਤਰ ਲਿਖੋ।

ਜਾਂ

ਤੁਸੀਂ ਬਿਮਾਰ ਹੋ ਇਸ ਲਈ ਆਪਣੇ ਸਕੂਲ ਦੇ ਮੁੱਖ ਅਧਿਆਪਕ ਜੀ ਤੋਂ ਤਿੰਨ ਦਿਨ ਦੀ ਛੁੱਟੀ ਲਈ ਬਿਨੈ ਪੱਤਰ ਲਿਖੋ। (10)

ਪ੍ਰ. 11 ਸੋਹਣਾ ਕਰਕੇ ਲਿਖੋ:- (5)

ਵਿਦਿਆਰਥੀ ਜੀਵਨ ਵਿੱਚ ਅਨੁਸ਼ਾਸਨ ਦਾ ਵਿਸ਼ੇਸ਼ ਮਹੱਤਵ ਹੈ। ਵਿਦਿਆਰਥੀ ਜੀਵਨ ਵਿੱਚ ਹੀ ਵਿਅਕਤੀ ਆਪਣੇ ਚਰਿੱਤਰ ਉਸਾਰੀ ਦੀ ਨੀਂਹ ਰੱਖਦਾ ਹੈ। ਜੇਕਰ ਇਸ ਅਵਸਥਾ ਵਿੱਚ ਬਾਲਕ ਨਿਯਮ ਅਤੇ ਸੰਜਮ ਨੂੰ ਆਪਣੇ ਜੀਵਨ ਵਿੱਚ ਨਾ ਢਾਲ ਸਕਿਆ ਤਾਂ ਉਸਦੀ ਸਿੱਖਿਆ ਹਾਸਲ ਕਰਨ ਦੀ ਕੋਈ ਉਪਯੋਗਤਾ ਨਹੀਂ।

ਸਰਵ ਸਿੱਖਿਆ ਅਭਿਆਨ, ਮਾਡਲ ਟੈਸਟ ਪੇਪਰ

ਪੰਜਾਬ ਦੇ ਚੌਠੇ ਸ਼੍ਰੇਣੀ ਦੇ ਬੱਚਿਆਂ ਲਈ

ਸਮਾਂ: 2 ਘੰਟੇ

ਕੁੱਲ ਅੰਕ: 100

ਨੋਟ:- ਸਾਰੇ ਪ੍ਰਸ਼ਨ ਜ਼ਰੂਰੀ ਹਨ।

ਪ੍ਰ. 1 ਹੇਠ ਲਿਖੀਆਂ ਕਵਿਤਾਵਾਂ ਵਿੱਚੋਂ ਕਿਸੇ ਇੱਕ ਕਵਿਤਾ ਦੀਆਂ ਚਾਰ-ਪੰਜ ਸਤਰਾਂ ਲਿਖੋ :-

ਗੀਤ ਉਹ ਦੱਸੋ ਕਿਹੜਾ?, ਏਕਤਾ ਦਾ ਗੀਤ, ਪ੍ਰਭਾਤ ਹਾਂ ਮੈਂ। (5)

ਪ੍ਰ. 2 ਠੀਕ ਸ਼ਬਦ ਚੁਣ ਕੇ ਖਾਲੀ ਥਾਵਾਂ ਭਰੋ : (10)

(ਹੰਸੂ-ਹੰਸੂ, ਪਾਣੀ, ਹੋਲਾ-ਮਹੱਲਾ, ਨਰਾਤੇ, ਪੁੱਠੇ)

1. ਨੌਂ ਹੁੰਦੇ ਹਨ।
2. ਮਹਿਕ ਹਰ ਵੇਲੇ ਕਰਦੀ ਰਹਿੰਦੀ ਹੈ।
3. ਸਾਨੂੰ ਜਿਆਦਾ ਪੀਣਾ ਚਾਹੀਦਾ ਹੈ।
4. ਫੁਲਕਾਰੀ ਦੀ ਕਢਾਈ ਪਾਸੇ ਤੋਂ ਕੀਤੀ ਜਾਂਦੀ ਹੈ।
5. ਗੁਰੂ ਗੋਬਿੰਦ ਸਿੰਘ ਜੀ ਨੇ ਹੋਲੀ ਦਾ ਬਦਲਵਾਂ ਰੂਪ ਸ਼ੁਰੂ ਕੀਤਾ।

ਪ੍ਰ. 3 ਹੇਠ ਲਿਖੇ ਪ੍ਰਸ਼ਨਾਂ ਵਿੱਚੋਂ ਕਿਸੇ ਪੰਜ ਪ੍ਰਸ਼ਨਾਂ ਦੇ ਉੱਤਰ ਲਿਖੋ :- (4×5=20)

1. ਘੁੱਗੀ ਨੂੰ ਕਿਸ ਕਾਰਨ ਆਪਣਾ ਗੀਤ ਵਿਸਰ ਗਿਆ ?
2. ਜਗਰਾਵਾਂ ਦੀ ਰੋਸ਼ਨੀ ਕਿੱਥੋਂ ਦਾ ਮੇਲਾ ਹੈ ਅਤੇ ਇਹ ਕਦੋਂ ਲੱਗਦਾ ਹੈ?
3. ਕਿਹਰ ਸਿੰਘ ਦਾ ਰਹਿਣ-ਸਹਿਣ ਕਿਹੋ ਜਿਹਾ ਸੀ?
4. ਰਾਤ ਨੂੰ ਰੋਟੀ ਦੇਰ ਨਾਲ ਕਿਉਂ ਨਹੀਂ ਖਾਣੀ ਚਾਹੀਦੀ?
5. ਬਾਗ ਕਿਸਨੂੰ ਕਹਿੰਦੇ ਹਨ?
6. ਸੱਪ ਨੂੰ ਦੇਖ ਕੇ ਚਿੜੀ ਨੇ ਕੀ ਕੀਤਾ ?

ਪ੍ਰ. 4 ਹੇਠ ਲਿਖੇ ਸ਼ਬਦਾਂ/ਮੁਹਾਵਰਿਆਂ ਨੂੰ ਵਾਕਾਂ ਵਿੱਚ ਵਰਤੋਂ (ਕੋਈ ਪੰਜ) (10)

- | | |
|----------------|------------------------|
| 1. ਖਬਰਦਾਰ | 2. ਖੁਸ਼ਹਾਲ |
| 3. ਕਿਰਤ ਕਰਨੀ | 4. ਵਾਲ-ਵਾਲ ਵਿੰਨਿਆ ਹੋਣਾ |
| 5. ਕੀਮਤ | 6. ਚਿੰਤਾ |
| 7. ਭੱਜ-ਦੌੜ ਕਰਨ | |

ਪ੍ਰ. 5 ਬਹੁਤੇ ਸ਼ਬਦਾਂ ਦੀ ਥਾਂ ਇੱਕ ਸ਼ਬਦ ਲਿਖੋ :- (5)

1. ਜੋ ਸਲਾਹ ਦਿੰਦਾ ਹੈ
2. ਜੋ ਲੱਕੜ ਦਾ ਕੰਮ ਕਰਦਾ ਹੈ
3. ਜੋ ਸਕੂਲ ਵਿੱਚ ਪੜ੍ਹਦਾ ਹੈ
4. ਜੋ ਖੇਤੀਬਾੜੀ ਦਾ ਕਿੱਤਾ ਕਰਦਾ ਹੈ
5. ਜੋ ਪਰਵਾਹ ਨਹੀਂ ਕਰਦਾ

ਪ੍ਰ.6 ਹੇਠ ਲਿਖੀਆਂ ਕਾਵਿ-ਸਤਰਾਂ ਪੂਰੀਆਂ ਕਰੋ :- (5)

(ੳ) ਫਿਰ ਵੰਡ ਕੇ ਲੁਕਾਈ

(ਅ) ਹਿੰਦ ਵਾਸੀਓ ਰੱਖਣਾ ਯਾਦ ਸਾਨੂੰ,

ਪ੍ਰ.7 (ੳ) ਲਿੰਗ ਬਦਲੋ (ਕੋਈ ਪੰਜ) (5)

- | | |
|---------|-------------|
| 1. ਰਾਜਾ | 2. ਸ਼ੇਰ |
| 3. ਪਿਤਾ | 4. ਭਰਾ |
| 5. ਕੁੜੀ | 6. ਵਿਦਿਆਰਥੀ |

(ਅ) ਵਚਨ ਬਦਲੋ (ਕੋਈ ਪੰਜ) (5)

- | | |
|----------|----------|
| 1. ਕਹੀ | 2. ਬਿੱਲੀ |
| 3. ਟਾਹਣੀ | 4. ਲੱਕੜੀ |
| 5. ਮਾਂ | 6. ਪੰਛੀ |

ਪ੍ਰ.8 (ੳ) ਸ਼ੁੱਧ ਕਰਕੇ ਲਿਖੋ (ਕੋਈ ਪੰਜ) (5)

- | | |
|----------|----------|
| 1. ਵੈਹਮ | 2. ਠਗ |
| 3. ਖੁੱਲਾ | 4. ਲੁਬੜੀ |
| 5. ਰਖ | 6. ਖੁਸ |

(ਅ) ਵਿਰੋਧੀ ਸ਼ਬਦ ਲਿਖੋ (ਕੋਈ ਪੰਜ) (5)

- | | |
|---------|---------|
| 1. ਬੰਦ | 2. ਚੰਗਾ |
| 3. ਗਰਮ | 4. ਦਿਨ |
| 5. ਸੁੱਖ | 6. ਸੱਚ |

(ੲ) ਸੁੰਦਰ ਕਰਕੇ ਲਿਖੋ :- (5)

ਚਿੜੀਆ-ਘਰ ਵਿੱਚ ਜੰਗਲੀ ਜਾਨਵਰ ਅਤੇ ਪੰਛੀ ਰੱਖੇ ਜਾਂਦੇ ਹਨ। ਇੱਥੇ ਦੁਰਲਭ ਜਾਨਵਰ ਵੀ ਹੁੰਦੇ ਹਨ। ਚੰਡੀਗੜ੍ਹ ਦੇ ਨੇੜੇ 'ਛੱਤਬੀੜ' ਵਿਖੇ ਇੱਕ ਵੱਡਾ ਚਿੜੀਆ-ਘਰ ਹੈ।

ਪ੍ਰ.9 ਹੇਠ ਲਿਖੇ ਵਿਸ਼ਿਆਂ ਵਿੱਚੋਂ ਕਿਸੇ ਇੱਕ ਵਿਸ਼ੇ 'ਤੇ ਲੇਖ ਲਿਖੋ : (10)

ਮੇਰੇ ਮਾਤਾ ਜੀ, ਮੇਰਾ ਬਸਤਾ, ਗਾਂ, ਮੇਰਾ ਘਰ

ਪ੍ਰ.10 ਤੁਹਾਨੂੰ ਘਰ ਜਰੂਰੀ ਕੰਮ ਹੈ। ਆਪਣੇ ਸਕੂਲ ਦੇ ਮੁੱਖ ਅਧਿਆਪਕ ਜੀ ਨੂੰ ਦੋ ਦਿਨ ਦੀ ਛੁੱਟੀ ਲਈ ਬਿਨੈ-ਪੱਤਰ ਲਿਖੋ। (10)

ਜਾਂ

ਤੁਹਾਡੀ ਵੱਡੀ ਭੈਣ ਦਾ ਵਿਆਹ ਹੈ। ਆਪਣੇ ਸਕੂਲ ਦੇ ਮੁੱਖ-ਅਧਿਆਪਕ ਜੀ ਤੋਂ ਚਾਰ ਦਿਨ ਦੀ ਛੁੱਟੀ ਲਈ ਬਿਨੈ-ਪੱਤਰ ਲਿਖੋ।

ਸਰਵ ਸਿੱਖਿਆ ਅਭਿਆਨ, ਮਾਡਲ ਟੈਸਟ ਪੇਪਰ ਜਮਾਤ ਪੰਜਵੀਂ, ਪੰਜਾਬੀ-C

ਸਮਾਂ: 2 ਘੰਟੇ

ਕੁੱਲ ਅੰਕ: 100

ਨੋਟ:- ਸਾਰੇ ਪ੍ਰਸ਼ਨ ਜਰੂਰੀ ਹਨ।

ਪ੍ਰ.1 ਠੀਕ ਸ਼ਬਦ ਚੁਣ ਕੇ ਖਾਲੀ ਥਾਵਾਂ ਭਰੋ:- (5×2=10)

ਜੰਕ-ਫੂਡ, ਗਦਾ ਯੁੱਧ, ਆਲੂਣੇ, ਗਣਿਤ, ਊਧਮ ਸਿੰਘ

1. ਭਾਸ਼ਾ ਦਾ..... ਬੜਾ ਦਿਲਚਸਪ ਹੈ।
2. ਗਤਕਾ..... ਦੀ ਸਿੱਖਿਆ ਦਾ ਪਹਿਲਾ ਪੜਾਅ ਹੈ।
3. ਸ਼ਹੀਦ ਭਗਤ ਸਿੰਘ ਨੂੰ ਆਪਣਾ ਗੁਰੂ ਮੰਨਦਾ ਸੀ।
4. ਖਾਣ ਨਾਲ, ਸਿਹਤ ਖਰਾਬ ਹੁੰਦੀ ਹੈ।
5. ਪੰਛੀ..... ਕਿੱਥੇ ਪਾਉਣਗੇ?

ਪ੍ਰ.2 ਹੇਠ ਲਿਖਿਆਂ ਕਵਿਤਾਵਾਂ ਵਿੱਚੋਂ ਕਿਸੇ ਇੱਕ ਕਵਿਤਾ ਦੀਆਂ ਚਾਰ-ਪੰਜ ਸਤਰਾਂ ਲਿਖੋ:- (10)

ਬਾਰਾਂਮਾਹਾ, ਮੇਰਾ ਹਿੰਦੁਸਤਾਨ, ਬੋਲੀ ਹੈ ਪੰਜਾਬੀ ਸਾਡੀ।

ਪ੍ਰ.3. ਹੇਠ ਲਿਖੇ ਕਿਸੇ ਪੰਜ ਸ਼ਬਦਾਂ/ਮੁਹਾਵਰਿਆਂ ਨੂੰ ਵਾਕਾਂ ਵਿੱਚ ਵਰਤੋ:- (10)

- | | |
|-------------------------|-----------------------|
| 1. ਵਾਤਾਵਰਨ | 2. ਤ੍ਰਿਵੇਣ |
| 3. ਮਿੱਟੀ ਨਾਲ ਮਿੱਟੀ ਹੋਣਾ | 4. ਗੱਲ ਮੁਕਾਉਣਾ |
| 5. ਖਬਰਦਾਰ | 6. ਮਿਹਨਤ |
| 7. ਇਨਾਮ | 8. ਨੌਂ ਦੋ ਗਿਆਰਾਂ ਹੋਣਾ |

ਪ੍ਰ.4 ਬਹੁਤੇ ਸ਼ਬਦਾਂ ਦੀ ਥਾਂ ਇੱਕ ਸ਼ਬਦ ਲਿਖੋ:- (5)

1. ਖੇਤੀਬਾੜੀ ਦਾ ਕਿੱਤਾ ਕਰਨ ਵਾਲਾ _____.
2. ਜੋ ਚੁਗਲੀ ਕਰਦਾ ਹੈ _____.
3. ਜੋ ਸਕੂਲ ਵਿੱਚ ਪੜ੍ਹਾਉਂਦਾ ਹੈ _____.
4. ਜੋ ਸੋਨੇ ਦਾ ਕਿੱਤਾ ਕਰਦਾ ਹੈ _____.
5. ਜੋ ਵਪਾਰ ਕਰਦਾ ਹੈ _____.

ਪ੍ਰ.5 ਹੇਠ ਲਿਖੇ ਪ੍ਰਸ਼ਨਾਂ ਵਿੱਚੋਂ ਕਿਸੇ ਪੰਜ ਪ੍ਰਸ਼ਨਾਂ ਦੇ ਉੱਤਰ ਲਿਖੋ:- (15)

1. ਪਾਣੀ ਦਾ ਪੱਧਰ ਨੀਵਾਂ ਕਿਉਂ ਹੁੰਦਾ ਜਾ ਰਿਹਾ ਹੈ?
2. ਸਾਂਝੀ ਮਾਈ ਦਾ ਨਾਂ ਸਾਂਝੀ ਕਿਉਂ ਪਿਆ?
3. ਬੀਰਬਲ ਕੌਣ ਸੀ?
4. ਬੱਚੇ ਬੇਰੀ ਨੂੰ ਢੀਮਾਂ ਕਿਉਂ ਮਾਰ ਰਹੇ ਸਨ?
5. ਕਲਪਨਾ ਚਾਵਲਾ ਕੌਣ ਸੀ? ਉਸਦੀ ਪ੍ਰਸਿੱਧੀ ਕਿਹੜੀ ਗੱਲੋਂ ਹੋਈ?

6. ਲੇਖਕ ਨੂੰ ਬਚਪਨ ਵਿੱਚ ਖਾਧੀ ਛੱਲੀ ਕਿਉਂ ਯਾਦ ਆਉਂਦੀ ਹੈ?
7. ਉਧਮ ਸਿੰਘ ਇੰਗਲੈਂਡ ਕਿਉਂ ਗਿਆ?

ਪ੍ਰ.6 ਹੇਠ ਲਿਖਿਆਂ ਕਾਵਿ-ਸਤਰਾਂ ਪੂਰੀਆਂ ਕਰੋ:- (5)

1. ਹਿੰਦੂ ਸਿੱਖ ਤੇ ਈਸਾਈ
2. ਫੁੱਲਾਂ ਦੀ ਕਿਆਰੀ ਸਾਡੀ

ਪ੍ਰ.7 ਲਿੰਗ ਬਦਲੋ (ਕੋਈ ਪੰਜ) (5)

- | | |
|-----------|---------|
| 1. ਅਧਿਆਪਕ | 2. ਰਾਜਾ |
| 3. ਮੁੰਡਾ | 4. ਨੌਕਰ |
| 5. ਪਤਨੀ | 6. ਸ਼ੇਰ |

(ਅ) ਵਚਨ ਬਦਲੋ (ਕੋਈ ਪੰਜ) (5)

- | | |
|---------|----------|
| 1. ਰੋਟੀ | 2. ਟਹਿਣੀ |
| 3. ਬੱਚਾ | 4. ਭੈਣ |
| 5. ਖੇਡ | 6. ਬਿੱਲੀ |

(ੲ) ਵਿਰੋਧੀ ਸ਼ਬਦ ਲਿਖੋ (ਕੋਈ ਪੰਜ) (5)

- | | |
|---------|---------|
| 1. ਖੁਸ਼ | 2. ਨਰਮ |
| 3. ਵੱਡਾ | 4. ਉੱਚਾ |
| 5. ਦਿਨ | 6. ਮੋਟਾ |

ਪ੍ਰ.8 ਸ਼ੁੱਧ ਕਰਕੇ ਲਿਖੋ (ਕੋਈ ਪੰਜ) (5)

- | | |
|----------|------------|
| 1. ਸੇਰ | 2. ਮੀਂਹ |
| 3. ਰੁੱਖ | 4. ਆਲੁਣਾ |
| 5. ਛਤਬੀੜ | 6. ਚੱਟਪੱਟੀ |

(ਅ) ਸੋਹਣਾ ਕਰਕੇ ਲਿਖੋ:- (5)

ਪਾਣੀ ਨੂੰ ਮਨੁੱਖ ਲਾਪਰਵਾਹੀ ਨਾਲ ਵਰਤ ਰਿਹਾ ਹੈ। ਇਸ ਕਾਰਨ ਧਰਤੀ ਹੇਠਲਾ ਪਾਣੀ ਘਟਦਾ ਜਾ ਰਿਹਾ ਹੈ। ਸਾਨੂੰ ਸਾਰਿਆਂ ਨੂੰ ਪਾਣੀ ਦੀ ਦੁਰਵਰਤੋਂ ਰੋਕਣੀ ਚਾਹੀਦੀ ਹੈ।

ਪ੍ਰ.9 ਹੇਠ ਲਿਖਿਆਂ ਵਿਚੋਂ ਕਿਸੇ ਇੱਕ ਵਿਸ਼ੇ ਤੇ ਲੇਖ ਲਿਖੋ:- (10)

ਗੁਰੂ ਨਾਨਕ ਦੇਵ ਜੀ, ਲੋਹੜੀ, ਮੇਰੇ ਪਿਤਾ ਜੀ

ਪ੍ਰ.10 ਤੁਹਾਡੀ ਸਿਹਤ ਠੀਕ ਨਹੀਂ ਹੈ, ਆਪਣੇ ਸਕੂਲ ਦੇ ਮੁੱਖ ਅਧਿਆਪਕ ਜੀ ਤੋਂ ਦੋ ਦਿਨ ਦੀ ਛੁੱਟੀ ਲੈਣ ਲਈ ਬੇਨਤੀ ਪੱਤਰ ਲਿਖੋ। (10)

ਜਾਂ

ਆਪਣੇ ਮੁੱਖ ਅਧਿਆਪਕ ਜੀ ਨੂੰ ਫੀਸ ਮੁਆਫ਼ੀ ਲਈ ਬਿਨੈ-ਪੱਤਰ ਲਿਖੋ।

ਸਰਵ ਸਿੱਖਿਆ ਅਭਿਆਨ, ਮਾਡਲ ਟੈਸਟ ਪੇਪਰ ਜਮਾਤ ਪੰਜਵੀਂ, ਪੰਜਾਬੀ-D

ਸਮਾਂ: 2 ਘੰਟੇ

ਕੁੱਲ ਅੰਕ: 100

ਪ੍ਰ.1 ਕਿਸੇ ਇਕ ਕਵਿਤਾ ਦੀਆਂ ਚਾਰ ਸਤਰਾਂ ਲਿਖੋ:- (10)

ਮੇਰਾ ਹਿੰਦੁਸਤਾਨ, ਏਕਤਾ ਦਾ ਗੀਤ, ਬਾਰਾਂਮਾਹ

ਪ੍ਰ.2 ਹੇਠ ਲਿਖਿਆਂ ਕਾਵਿ-ਸਤਰਾਂ ਪੂਰੀਆਂ ਕਰੋ:- (5)

- i) ਅਸੀਂ ਨਹੀਂ ਭੁਲਾਉਣੀ,
- ii) ਆਓ ਸਾਰੇ ਬਾਲ,

ਪ੍ਰ.3 ਕਿਸੇ ਪੰਜ ਪ੍ਰਸ਼ਨਾਂ ਦੇ ਉੱਤਰ ਤਿੰਨ ਚਾਰ ਵਾਕਾਂ ਵਿੱਚ ਲਿਖੋ। (5×4=20)

- i) ਸਿਪਾਹੀ ਨੇ ਬੱਚੇ ਨੂੰ ਮਹਾਰਾਜ ਅੱਗੇ ਕਿਉਂ ਪੇਸ਼ ਕੀਤਾ?
- ii) ਘੁੱਗੀ ਆਪਣੇ ਬੋਟਾਂ ਨੂੰ ਲਾਡ-ਲਡਾਉਂਦੀ ਹੋਈ ਕੀ ਗਾਉਂਦੀ ਸੀ?
- iii) ਗਤਕਾ ਖੇਡਣ ਸਮੇਂ ਕਿਹੜੇ-ਕਿਹੜੇ ਹਥਿਆਰ ਵਰਤੋਂ ਵਿਚ ਲਿਆਏ ਜਾਂਦੇ ਹਨ?
- iv) ਕਿਹਰ ਸਿੰਘ ਨੇ ਆਪਣੇ ਪੁੱਤਰਾਂ ਨੂੰ ਕੀ ਸਮਝਾਇਆ?
- v) ਉਧਮ ਸਿੰਘ ਨੂੰ 'ਸ਼ਹੀਦ' ਕਿਉਂ ਕਿਹਾ ਜਾਂਦਾ ਹੈ?
- vi) ਬੁੱਢੇ ਦੀ ਕਣਕ ਦੀ ਭਾਰੀ ਪੰਡ ਕੌਣ ਚੁੱਕਦਾ ਹੈ?
- vii) ਬੀਰਬਲ ਚਿੰਤਾ ਕਿਉਂ ਕਰ ਰਿਹਾ ਸੀ?

ਪ੍ਰ.4 ਹੇਠ ਲਿਖੇ ਸ਼ਬਦਾਂ ਅਤੇ ਮੁਹਾਵਰਿਆਂ ਵਿੱਚੋਂ ਕਿਸੇ ਪੰਜ ਦੀ ਵਾਕਾਂ ਵਿਚ ਵਰਤੋਂ ਕਰੋ ਕਿ ਉਨ੍ਹਾਂ ਦੇ ਅਰਥ ਸਪਸ਼ਟ ਹੋ ਜਾਣ:- (10)

- | | |
|---------------------------|------------------------|
| i) ਖੁਸ਼ਕਿਸਮਤ | ii) ਅਸ਼ ਅਸ਼ ਕਰਨਾ |
| iii) ਮਿੱਟੀ ਨਾਲ ਮਿੱਟੀ ਹੋਣਾ | iv) ਨੌਂ ਦੋ ਗਿਆਰਾਂ ਹੋਣਾ |
| v) ਖਸਤਾ | vi) ਇੱਕ ਅੱਖ ਨਾਲ ਵੇਖਣਾ |
| vii) ਜੁਰਮ | |

ਪ੍ਰ.5 ਖਾਲੀ ਸਥਾਨ ਭਰੋ:- (10)

- i) ਗਤਕਾ ਦਾ ਇੱਕ ਜੰਗੀ ਹੁਨਾਰ ਹੈ।
- ii) ਇਕ ਪੈਸੇ ਵਿੱਚ ਦੋ ਹੁੰਦੇ ਹਨ।
- iii) ਦੋਵੇਂ ਭਰਾਵਾਂ ਨੇ ਵਰਾਂਡੇ ਵਿੱਚ ਢੇਰੀ ਕਰ ਲਿਆ।
- iv) ਯਾਦ ਰੱਖੋ ਸਾਰੇ ਸੱਪ ਨਹੀਂ ਹੁੰਦੇ।
- v) ਏਸ ਬੱਚੇ ਨੂੰ ਪੰਜ ਦੀਆਂ ਮੋਹਰਾਂ ਦਿੱਤੀਆਂ ਜਾਣ।

ਪ੍ਰ.6 ਹੇਠ ਲਿਖੇ ਸ਼ਬਦਾਂ ਦੇ ਵਚਨ ਬਦਲੋ:- (5)

- | | |
|-------------|---------|
| i) ਮਾਤਾ | ii) ਭੈਣ |
| iii) ਚਿੜੀਆਂ | iv) ਮੱਝ |
| v) ਅੱਖ | |

ਪ੍ਰ.7 ਹੇਠ ਲਿਖੇ ਸ਼ਬਦਾਂ ਦੇ ਵਿਰੋਧੀ ਸ਼ਬਦ ਲਿਖੋ:- (5)

- | | |
|------------|----------|
| i) ਲੰਮਾ | ii) ਸ਼ਾਮ |
| iii) ਪੱਤਲੀ | iv) ਅੰਬਰ |
| v) ਹਸਮੁੱਖ | |

ਪ੍ਰ.8 ਹੇਠ ਲਿਖੇ ਸ਼ਬਦਾਂ ਦੇ ਲਿੰਗ ਬਦਲੋ:- (5)

- | | |
|------------|-----------|
| i) ਰਾਜਾ | ii) ਲਲਾਰੀ |
| iii) ਤੀਵੀਂ | iv) ਸਹੁਰਾ |
| v) ਖਿਡਾਰੀ | |

ਪ੍ਰ.9 ਸਮਾਨ ਆਰਥਕ ਸ਼ਬਦ ਲਿਖੋ:- (5)

- | | |
|------------|-----------|
| i) ਅਣਪਛਾਤਾ | ii) ਮਾਹਿਰ |
| iii) ਨੇਕ | iv) ਨਵਾਂ |
| v) ਪਿਆਰ | |

ਪ੍ਰ.10 ਹੇਠ ਲਿਖੀਆਂ ਨੂੰ ਸ਼ੁੱਧ ਰੂਪ ਵਿੱਚ ਲਿਖੋ। (5)

- | | |
|------------|----------|
| i) ਭੜਾਈ | ii) ਸੇਹਤ |
| iii) ਬਮਾਰੀ | iv) ਜੰਜ |
| v) ਰੋਨਾ | |

ਪ੍ਰ.11 ਹੇਠ ਲਿਖੀਆਂ ਵਿੱਚੋਂ ਕਿਸੇ ਇਕ ਉੱਤੇ ਲਗਪਗ 15 ਵਾਕਾਂ ਦਾ ਲੇਖ ਲਿਖੋ। (10)
ਸ੍ਰੀ ਗੁਰੂ ਨਾਨਕ ਦੇਵ ਜੀ, ਵਿਸਾਖੀ, ਪੰਜਾਬ

ਪ੍ਰ.12 ਆਪਣੇ ਮਿੱਤਰ ਨੂੰ ਪੱਤਰ ਲਿਖੋ ਜਿਸ ਵਿੱਚ ਤੁਸੀਂ ਆਪਣੇ ਸਕੂਲ ਦਾ ਵਰਨਣ ਕੀਤਾ ਹੋਵੇ ਕਿ ਤੁਹਾਨੂੰ ਆਪਣੇ ਸਕੂਲ ਨਾਲ ਇਨ੍ਹਾਂ ਪਿਆਰ ਕਿਉਂ ਹੈ।

ਜਾਂ

ਪੰਜਵੀਂ ਪਾਸ ਕਰਨ ਉਪਰੰਤ ਸਕੂਲ ਛੱਡਣ ਦਾ ਸਰਟੀਫਿਕੇਟ ਲੈਣ ਲਈ ਮੁੱਖ ਅਧਿਆਪਕ ਨੂੰ ਅਰਜ਼ੀ ਲਿਖੋ।

ਸਰਵ ਸਿੱਖਿਆ ਅਭਿਆਨ, ਮਾਡਲ ਟੈਸਟ ਪੇਪਰ ਜਮਾਤ ਪੰਜਵੀਂ, ਪੰਜਾਬੀ-E

ਸਮਾਂ: 2 ਘੰਟੇ

ਕੁੱਲ ਅੰਕ: 100

ਨੋਟ:- ਸਾਰੇ ਪ੍ਰਸ਼ਨ ਜ਼ਰੂਰੀ ਹਨ।

ਪ੍ਰ.1 ਹੇਠ ਦਿੱਤੀਆਂ ਕਵਿਤਾਵਾਂ ਵਿੱਚੋਂ ਕਿਸੇ ਇੱਕ ਕਵਿਤਾ ਦੀਆਂ ਚਾਰ-ਪੰਜ ਸਤਰਾਂ ਲਿਖੋ:- ਚਿੜੀਆ ਘਰ, ਪ੍ਰਭਾਤ ਹਾਂ ਮੈਂ। (10×1=10)

ਪ੍ਰ.2 ਹੇਠ ਦਿੱਤੀਆਂ ਕਾਵਿ ਸਤਰਾਂ ਪੂਰੀਆਂ ਕਰੋ:- (5)
(ੳ) ਬਾਰਾਸਿੰਗੇ ਵੇਖ,।
(ਅ) ਸੋਹਣੀ ਉਹੋ ਚੀਜ,।

ਪ੍ਰ.3 ਹੇਠ ਲਿਖੇ ਪ੍ਰਸ਼ਨਾਂ ਵਿੱਚੋਂ ਕਿਸੇ ਪੰਜ ਦੇ ਉੱਤਰ ਲਿਖੋ: (5×2=10)
(ੳ) ਵਪਾਰੀ ਨੇ ਅਕਬਰ ਬਾਦਸ਼ਾਹ ਨੂੰ ਕੀ ਭੇਟ ਕੀਤਾ?
(ਅ) ਭਗਵਾਨ ਕੌਰ ਨੇ ਨਿੰਮ ਨੂੰ ਕੀ ਦੱਸਿਆ?
(ੲ) ਪਿੰਡਾਂ ਦੀਆਂ ਔਰਤਾਂ ਫੁਲਕਾਰੀ ਨੂੰ ਕਿਉਂ ਨਹੀਂ ਵੇਚਦੀਆਂ?
(ਸ) ਸਮੇਂ ਦੇ ਨਾਲ-2 ਮੇਲੇ ਦਾ ਰੂਪ ਕਿਵੇਂ ਬਦਲ ਰਿਹਾ ਹੈ?
(ਹ) ਮਹਿਕ ਕਿਉਂ ਖੁਸ਼ ਰਹਿੰਦੀ ਸੀ?
(ਕ) ਬੁੱਢੀ ਮਾਈ ਮਹਾਰਾਜ ਨਾਲ ਪਤੀਲਾ ਕਿਉਂ ਛੁਹਾਉਣਾ ਚਾਹੁੰਦੀ ਸੀ?

ਪ੍ਰ.4 (ੳ) ਹੇਠ ਲਿਖੇ ਸ਼ਬਦਾਂ ਵਿੱਚੋਂ ਕਿਸੇ ਪੰਜ ਦੇ ਵਚਨ ਬਦਲੋ:- (5×1=5)
i) ਮੇਜ਼ _____ ii) ਤਸਵੀਰ _____
iii) ਸੰਦੂਕ _____ iv) ਕਮੀਜ਼ _____
v) ਛੱਲੀ _____ vi) ਉੱਚਾ _____

(ਅ) ਹੇਠ ਲਿਖੇ ਸ਼ਬਦਾਂ ਕਿਸੇ ਪੰਜ ਦੇ ਲਿੰਗ ਬਦਲੋ:- (5×1=5)
i) ਘੋੜਾ _____ ii) ਦਾਦੀ _____
iii) ਪਤਨੀ _____ iv) ਨੌਕਰ _____
v) ਭੈਣ _____ vi) ਸੁਨਿਆਰ _____

(ੲ) ਹੇਠ ਲਿਖੇ ਸ਼ਬਦਾਂ ਵਿੱਚੋਂ ਕਿਸੇ ਪੰਜ ਸ਼ਬਦਾਂ ਦੇ ਵਿਰੋਧੀ ਸ਼ਬਦ ਲਿਖੋ:- (5×1=5)
i) ਨਿੱਕਾ _____ ii) ਦੂਰ _____
iii) ਖੁੱਲ੍ਹਾ _____ iv) ਦਿਨ _____
v) ਮੋਟਾ _____ vi) ਉੱਚਾ _____

(ਸ) ਹੇਠ ਦਿੱਤੇ ਸ਼ਬਦ ਜੋੜਾਂ ਵਿੱਚੋਂ ਕਿਸੇ ਪੰਜ ਨੂੰ ਸ਼ੁੱਧ ਕਰਕੇ ਲਿਖੋ:- (5×1=5)

- i) ਮੇਹਨਤ _____ ii) ਫਲਕਾਰੀ _____
iii) ਜਿਲਾ _____ iv) ਸ਼ੋਹਿਰ _____
v) ਪਰਸੰਨ _____ vi) ਬਤੀ _____

ਪ੍ਰ.5 ਹੇਠ ਲਿਖੇ ਵਿਸ਼ਿਆਂ ਉੱਤੇ ਕਿਸੇ ਇੱਕ ਵਿਸ਼ੇ ਉੱਤੇ 15 ਵਾਕਾਂ ਵਿੱਚ ਲੇਖ ਲਿਖੋ।
ਦੀਵਾਲੀ, ਡਾਕੀਆ, ਸਾਡਾ ਪਿੰਡ (15)

ਪ੍ਰ.6 ਲੇਖਕ ਨੂੰ ਬਚਪਨ ਵਿੱਚ ਖਾਧੀ ਛੱਲੀ ਕਿਉਂ ਯਾਦ ਆਉਂਦੀ ਹੈ? (5)

ਪ੍ਰ.7 ਹੇਠ ਲਿਖੇ ਕਿਸੇ ਪੰਜ ਸ਼ਬਦਾਂ ਨੂੰ ਵਾਕਾਂ ਵਿੱਚ ਵਰਤੋ:- (5×2=10)

- i) ਪ੍ਰਯੋਗ _____
ii) ਪ੍ਰਸਿੱਧ _____
iii) ਮਖੌਲ _____
iv) ਦਰਬਾਰੀ _____
v) ਸਿਆਣਪ _____
vi) ਚਟਪਟੀ _____
vii) ਸਫ਼ਾਈ _____

ਪ੍ਰ.8 ਠੀਕ ਸ਼ਬਦ ਚੁਣਕੇ ਖਾਲੀ ਥਾਵਾਂ ਭਰੋ:- (5×2=10)

(ਦਿਲਚਸਪ, ਸ਼ਗਨ, ਆਲ੍ਹਣਾ, ਪੈਸਾ, ਕਸਬਾ)

- i) ਪੰਛੀ ਕਿੱਥੋਂ ਪਾਉਣਗੇ।
ii) ਫੁਲਕਾਰੀ ਤਾਂ ਦੀ ਚੀਜ਼ ਸਮਝੀ ਜਾਂਦੀ ਹੈ।
iii) ਭਾਸ਼ਾ ਦਾ ਗਣਿਤ ਬੜਾ ਹੈ।
iv) ਜਗਰਾਵਾਂ ਜਿਲ੍ਹਾ ਲੁਧਿਆਣੇ ਦਾ ਕਾਫ਼ੀ ਵੱਡਾ ਹੈ।
v) ਗਣਪਤਰਾਏ ਨੇ ਪੂਰਾ ਹੀ ਵਾਪਸ ਕਰ ਦਿੱਤਾ।

ਪ੍ਰ.9 ਕੋਈ ਇੱਕ ਬਿਨੈ ਪੱਤਰ ਲਿਖੋ:- (10)

ਮੁੱਖ ਅਧਿਆਪਕ ਜੀ ਤੋਂ ਸਕੂਲ ਛੱਡਣ ਦਾ ਸਰਟੀਫਿਕੇਟ ਲੈਣ ਲਈ ਬਿਨੈ ਪੱਤਰ ਲਿਖੋ?

ਜਾਂ

ਆਪਣੇ ਚਾਚਾ ਜੀ ਵੱਲੋਂ ਜਨਮ ਦਿਨ ਤੇ ਭੇਜੇ ਤੋਹਫ਼ੇ ਲਈ ਧੰਨਵਾਦ ਪੱਤਰ ਲਿਖੋ।

ਪ੍ਰ.10 ਸਮਾਨ ਆਰਥਕ ਸ਼ਬਦ ਲਿਖੋ:- (5)

- 1) ਭਰੋਸਾ 2) ਤਸੱਲੀ
3) ਹਥਿਆਰ 4) ਚਾਲ-ਚਲਣ
5) ਜਲ